

2017학년도 대학수학능력시험 9월 모의평가 문제 및 정답

- 매교시 종료 후 탑재됩니다. (맹인 수험생 시험시간 기준)
- 모든 문제 및 정답은 PDF파일로 되어 있습니다. (단, 듣기 파일은 MP3파일)
- 탑재된 파일은 수험생에게 제공된 문제지와 다르게 보일 수도 있습니다.

저작권 안내

이 문제지에 관한 저작권은 한국교육과정평가원에 있습니다.

한국교육과정평가원의 허락없이 문제의 일부 또는 전부를 무단 복제, 배포, 출판, 전자출판 하는 등 저작권을 침해하는 일체의 행위를 금합니다.



제 4 교시

사회탐구 영역(생활과 윤리)

성명 수험 번호

1. 그림의 토론 주제에 대한 갑, 을의 입장으로 가장 적절한 것은?

• 토론 주제: 윤리학, 그 주요 탐구 과제는 무엇인가?

저는 "이론 없는 실천은 맹목적이다."라고 생각합니다. 윤리학의 본질은 어떤 원리가 도덕적 실천을 위한 근본 원리로 성립할 수 있는지를 연구하는 데 있습니다.



저는 "실천 없는 이론은 공허하다."라고 생각합니다. 윤리학은 도덕 원리를 실천적 문제에 적용하여 현대 사회의 다양한 도덕 문제를 해결하는 데 주력해야 합니다.



- ① 갑: 다양한 문화권을 탐방하여 각국의 실천적 관습을 조사해야 한다.
- ② 갑: '옳다', '유덕하다' 같은 도덕적 술어의 의미를 검증해야 한다.
- ③ 을: 사실 명제로부터 당위 명제가 연역 가능한지 탐구해야 한다.
- ④ 을: 기후 변화 등 새로운 쟁점에 대한 윤리적 해법을 모색해야 한다.
- ⑤ 갑, 을: 의무, 공리, 덕성 등의 이론적 근거를 통해 도덕성의 기초를 정립해야 한다.

2. (가), (나)가 공통으로 강조하는 덕목에 대한 설명으로 가장 적절한 것은? [3점]

(가) 나이 칠십에 아이처럼 장난하며 색동옷을 입고, 물을 떠 당(堂)에 오르다가 일부러 넘어져 아이 울음소리를 내었으며, 부모 곁에서 새끼 새랑 놀며 기쁘게 해 드리고자 하였다.
 (나) 과실(過失)이 있으시면 기(氣)를 내리고 낮빛을 온화하게 하고 음성을 가다듬어 간(諫)한다. 그래도 들어주지 않으면 공경심을 일으키고, 기뻐하시면 다시 간한다.

- ① 동기간(同氣間)에 서로 이롭게 하며 허물을 바로잡는 것이다.
- ② 양지(養志)의 마음으로 상황에 따라 적절히 실천하는 것이다.
- ③ 친애와 경쟁을 바탕으로 권면하여 믿음[信]을 실천하는 것이다.
- ④ 수평적 관계에서 구휼(救恤)의 의무를 부과하고 실천하는 것이다.
- ⑤ 음양(陰陽)의 이치에 따라 동등한 관계에서 서로 존중하는 것이다.

3. 다음 고대 서양 사상가의 입장으로 가장 적절한 것은?

우정에는 각기 대응하는 사랑이 존재한다. 이로움 때문에 사랑하는 사람들은 서로를 그 자체로 사랑하는 것이 아니라 상대로부터 어떤 좋음[善]이 생기는 한 사랑하는 것이다. 즐거움 때문에 사랑하는 사람들은 상대방이 어떤 사람이어서가 아니라 즐거움을 주기 때문에 사랑한다. 완전한 우정은 덕에 있어 닮은 선한 사람들의 우정으로 이 경우에만 서로 잘 되기를 바란다. 그들은 그 자체로서 좋은 사람들이기 때문이다.

- ① 유덕한 성품을 갖춘 사람들만이 완전한 우정을 맺을 수 있다.
- ② 이익과 쾌락에 기초한 우정은 호혜적 관계를 형성할 수 없다.
- ③ 이익과 쾌락만 추구하는 이들은 어떠한 우정도 맺을 수 없다.
- ④ 유덕하지 못한 이들의 우정에서는 어떠한 선도 생겨나지 않는다.
- ⑤ 모든 우정은 행위의 좋음보다 행위자의 성품을 사랑하는 것이다.

4. 갑, 을의 입장에 대한 옳은 설명만을 <보기>에서 있는 대로 고른 것은?

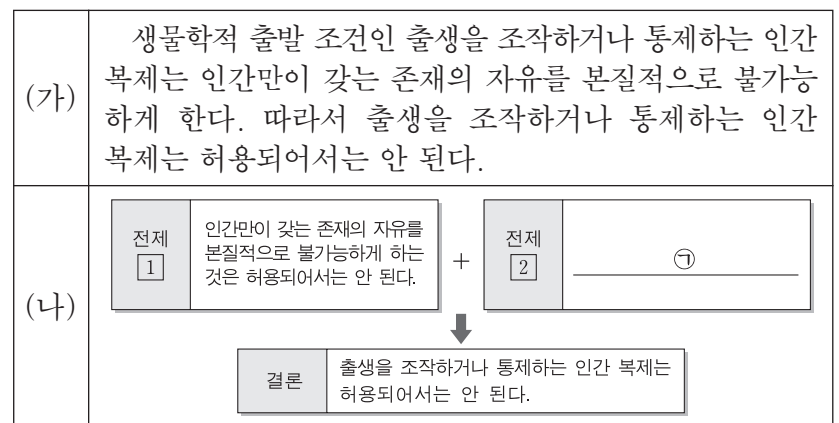
갑: 몇 해 전 우리나라 법원은 환자가 원한다면 자기 생명을 종식시킬 수 있다는 걸 최초로 인정한 판결을 내렸어. 이것은 환자와 가족의 고통을 덜어 주고, 생명에 대한 자기 결정권을 공식적으로 허용한 올바른 판결로 봐야 해.
 을: 인간의 생명을 인간 스스로 결정할 수 있다는 판결은 잘못된 결정이야. 아무리 환자 본인의 요청이 있었다고 해도, 생명은 하늘이 부여한 것이므로 자기 생명은 자신도 함부로 할 수 없는 존엄한 것이야.

<보기>

- ㄱ. 갑: 개인은 자기 생명에 대해 배타적 권리가 있음을 주장한다.
- ㄴ. 갑: 안락사 허용은 결과적 이익을 고려한 결정임을 주장한다.
- ㄷ. 을: 생명의 종식 여부는 자율적 선택의 문제가 아님을 주장한다.
- ㄹ. 을: 안락사는 인간의 존엄성을 보호하는 도덕적 행위임을 주장한다.

- ① ㄱ, ㄷ ② ㄱ, ㄹ ③ ㄴ, ㄹ
- ④ ㄱ, ㄴ, ㄷ ⑤ ㄴ, ㄷ, ㄹ

5. (가)의 주장을 (나) 그림으로 나타낼 때, ㉠에 대한 반론의 근거로 가장 적절한 것은? [3점]



- ① 복제 인간은 자신의 자유의사와 무관하게 기획된 삶을 살게 될 것이다.
- ② 자연 발생적 출생만이 인간 존재의 자유를 본질적으로 가능하게 한다.
- ③ 복제 인간은 자연 발생적 인간과 동등한 존재의 자유를 갖는다.
- ④ 개인의 자유보다 복제 인간을 포함한 인류 전체의 행복이 중요하다.
- ⑤ 인간 복제로 인해 인간 상호 관계는 지배 종속 관계로 전락할 것이다.

6. 동양 사상 (가), (나)의 입장으로 적절하지 않은 것은? [3점]

(가) 중생들의 무리로부터 떨어짐, 오온(五蘊)의 부서짐, 생명의 끊어짐을 죽음이라 한다. 태어남이 있을 때에만 죽음이 있다. 삶의 모든 현상은 꿈과 같고 이슬 같고 그림자 같고 번개와 같으니 그대, 마땅히 그렇게 바라보아야[觀] 한다.
 (나) 삶을 죽이고 초월하려는 자에게 죽음은 없고, 삶을 살려고 탐하는 자에게 삶은 없다. 태어나기 전의 근원을 보면 원래 삶도 형태도 기(氣)도 없었다. 아무것도 없는 데서 기가 생겨서 변해 형체가 되고 삶이 되었다가 변하여 죽어 가는 것이다.

- ① (가): 내생의 더 나은 삶을 위해 현생에서 도덕적 수행이 필요하다.
- ② (가): 삶과 죽음의 고통에서 벗어나기 위해서는 깨달음을 얻어야 한다.
- ③ (나): 기가 모여서 삶이 되고 기가 흩어져서 죽음이 되는 것이다.
- ④ (나): 삶과 죽음은 차별이 없으므로 초연하게 죽음을 받아들여야 한다.
- ⑤ (가), (나): 죽음은 그 근원을 성찰하고 지극히 애도해야 할 고통이다.

7. 다음 현대 사상가가 부정의 대답을 할 질문으로 옳은 것은?

A국에 대한 무장 해제는 도덕적, 정치적으로 정당한 목표이지만, A국의 대외적 위협은 전쟁보다 낮은 수준의 조치로 제어될 수 있었다. 그러나 개전한 이상, A국과의 전쟁은 다음 조건을 충족해야 정당하다. 첫째, 민간인 사상자가 발생하지 않도록, 혹은 민간인 사상자의 발생을 최소화하도록 최선을 다해야 한다. 둘째, A국에 '국민의, 국민에 의한, 국민을 위한 정부' 수립을 보장할 수 있어야 한다.

- ① 전쟁의 정당성 논의는 국제 평화를 위해서 필요한가?
- ② 무조건적, 무제한적 전쟁은 도덕적 정당화가 불가능한가?
- ③ 전쟁의 정당성 논의는 전쟁이 끝남으로써 종식되어야 하는가?
- ④ 자결주의에 입각한 내정 불간섭 원칙에 예외가 있을 수 있는가?
- ⑤ 개전 명분과 상관없이 전쟁 중의 정당성 요건을 충족해야 하는가?

8. 갑, 을, 병 사상가들의 입장으로 가장 적절한 것은? [3점]

갑: 개인의 타고난 자산이 도덕적 관점에서 볼 때 임의적이건 아니건 간에, 개인은 그 자산에 대한 소유 권리를 지닌다. 또한 이로부터 나오는 것에 대해서도 그러하다.
 을: 개인의 타고난 능력이 불평등하다는 점, 따라서 생산 능력도 타고난 특권임을 승인하는 것은 부당하다. 생산은 각자의 능력에 따라, 분배는 각자의 필요에 따라 이루어져야 한다.
 병: 개인의 타고난 재능은 응분의 것이 아닌 사회 공동의 자산으로 간주해야 한다. 더 불운한 자들의 선에 도움이 되는 한에서만 그 행운으로부터 이익을 취할 수 있다.

- ① 갑: 부의 소유와 거래 및 교정에 대한 국가의 개입은 배제된다.
- ② 을: 노동분업은 소외된 노동을 해방시켜 필요에 따른 분배를 실현한다.
- ③ 병: 공정으로서의 정의관에서 사회는 상호 이익을 위한 협동 체제이다.
- ④ 갑, 병: 선천적 유불리의 영향을 줄여야 정의로운 분배가 가능하다.
- ⑤ 을, 병: 사적 소유권은 인간의 기본적인 권리로 승인될 수 없다.

9. (가)의 입장에서 (나)의 입장에 대해 제기할 적절한 반론을 <보기>에서 고른 것은? [3점]

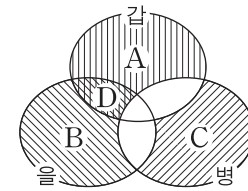
(가)	내부 고발은 조직의 도덕적 혹은 법률적 과오를 막으려는 구성원의 행동으로, 과오에 대한 조직의 자체적 개선이 좌절될 경우 발생한다. 이 경우 내부 고발은 조직에 끼치는 당장의 피해를 감수하더라도 장기적으로 조직의 이익을 위해 불가피하게 선택해야 하는 것이다.
(나)	내부 고발은 조직에 대한 의무 위반으로, 조직의 운영과 결속에 악영향을 미친다. 내부 고발자는 내부 고발로 인해 발생하는 해악을 깨닫지 못하고 있다. 조직의 이익을 위한다면 조직의 문제는 반드시 내부에서 자체적으로 해결해야 한다.

— < 보 기 > —

ㄱ. 구성원은 조직의 이익을 보호할 책무가 있음을 간과하고 있다.
 ㄴ. 내부 고발은 궁극적으로 조직의 이익에 부합함을 간과하고 있다.
 ㄷ. 내부 고발만이 조직의 비리를 해결하는 수단임을 간과하고 있다.
 ㄹ. 고발자가 내부 고발의 단기적 피해를 감안하고 있음을 간과하고 있다.

- ① ㄱ, ㄴ ② ㄱ, ㄷ ③ ㄴ, ㄷ ④ ㄴ, ㄹ ⑤ ㄷ, ㄹ

10. (가)의 갑, 을, 병의 입장을 (나) 그림으로 표현할 때, A~D에 해당하는 적절한 진술만을 <보기>에서 있는 대로 고른 것은?

(가)	<p>갑: 인간은 말과 기호를 사용할 줄 알고 모든 상황에 적절히 대처할 수 있는 데 반해, 동물은 움직이는 자동 기계에 불과하다.</p> <p>을: 욕구, 지각, 기억, 감정 등 일련의 특징을 지니고 자신의 고유한 삶을 살아가는 삶의 주체만이 도덕적 권리를 지닌다.</p> <p>병: 살아 있는 모든 존재는 자신의 고유한 선을 자신의 방식대로 추구하는 목적론적 삶의 중심으로서 도덕적 고려의 대상이다.</p>
(나)	 <p style="text-align: right;"><범례> A: 갑만의 입장 B: 을만의 입장 C: 병만의 입장 D: 갑과 을만의 공통 입장</p>

— < 보 기 > —

ㄱ. A: 인간과 달리 동물은 영혼과 육체의 단순한 결합체일 뿐이다.
 ㄴ. B: 동물을 인간을 위한 수단으로만 취급하지 않도록 해야 한다.
 ㄷ. C: 인간이 어떠한 생명체보다도 본래적으로 우월한 존재는 아니다.
 ㄹ. D: 자연 안의 모든 생명체가 도덕적 지위를 갖는 것은 아니다.

- ① ㄱ, ㄴ ② ㄱ, ㄹ ③ ㄷ, ㄹ
- ④ ㄱ, ㄴ, ㄷ ⑤ ㄴ, ㄷ, ㄹ

11. 그림의 강연자가 부정의 대답을 할 질문으로 가장 적절한 것은?

“기업은 자유 시장에서 이윤 극대화 이외의 사회적 책임을 지지 않아도 된다.”라는 주장은 시장 실패를 통해 그 부당성이 입증될 수 있습니다. 시장 실패의 대표적 사례는 기업 활동으로 인한 환경오염과 같은 부정적 외부효과입니다. 이에 따른 문제의 핵심은 환경오염의 처리 비용을 당사자인 기업이 아니라 일반 시민이나 미래 세대 같은 제삼자가 부담해야 한다는 사실입니다. 그러나 이는 분명 잘못입니다. 윤리적 관점에서 볼 때, 부정적 외부효과 발생의 책임은 해당 기업이 져야 합니다. 실령 이윤이 감소하더라도 기업은 사회적 문제에 대한 적극적 책임을 지는 것이 마땅합니다.



- ① 기업은 외부효과 방지를 위해 이윤 극대화 활동에 전념해야 하는가?
- ② 기업은 깨끗한 공기와 같은 공공재에 대한 책무를 인정해야 하는가?
- ③ 기업은 미래 세대의 생존과 삶의 질 문제에 관심을 기울여야 하는가?
- ④ 기업은 공공선을 위해 이윤 추구에 대한 제약을 승인해야 하는가?
- ⑤ 기업은 시장 실패가 지역 사회에 불이익을 초래한다고 보아야 하는가?

12. ㉠에 들어갈 내용으로 가장 적절한 것은? [3점]

기본적 권리는 문화라는 특정한 맥락 안에서 실질적으로 행사될 수 있다. 따라서 집단 간 문화적 차이는 인정되어야 한다. 집단별로 차별화된 권리를 인정하는 다문화주의는 집단 간 관계의 형평성을 제고시킬 뿐 아니라, 소수집단의 성원으로 하여금 국가에 대한 충성심을 갖게 한다. 그런데 어떤 학자는 “다문화주의는 문화 간 경계가 실제로 존재한다는 잘못된 전제에 근거하여 집단 간 문화의 장벽을 영속화시킬 뿐 아니라, 소수집단에 별도의 권리를 부여하여 개인의 법 앞의 평등이라는 기본 원칙을 심각하게 손상시킨다.”라고 주장한다. 나는 이 학자의 주장이 ㉠고 생각한다.

- ① 집단 간 문화의 경계가 명확히 구분됨을 강조하고 있다
- ② 문화보다 권리가 우선시되어야 함을 간과하고 있다
- ③ 다문화주의가 법 적용의 일반성을 따르고 있음을 강조하고 있다
- ④ 차별화된 권리의 인정이 보편적 인권과 어긋남을 간과하고 있다
- ⑤ 다문화주의가 사회적 통합을 촉진시키고 있음을 간과하고 있다

13. 갑, 을 사상가들의 입장으로 옳지 않은 것은? [3점]

갑: 만민들의 사회의 기본 구조에서 일단 원조의 의무가 충족되고 모든 만민이 자유주의적 정부나 적정 수준의 정부가 작동하는 상황에 이르게 되면, 상이한 만민 간의 평균적 부의 차이를 다시 좁혀야 할 이유는 없다.
 을: 기아의 원인은 인구 과잉이 아니라 가난한 나라 사람들에 대한 무관심이다. 선진국 사람들은 기아로 고통받는 사람들과 자신들의 이익관심을 동등하게 고려하여 넘쳐 나는 식량을 원조함으로써 인류 전체의 행복을 증진시켜야 한다.

- ① 갑: 모든 국가의 복지 및 부의 수준을 일치시킬 필요는 없다.
- ② 갑: 인권을 강조하는 것은 빈곤과 기아 문제 해결에 도움이 된다.
- ③ 을: 사회 내 부자와 해외 원조 사이에 본질적인 차이는 없다.
- ④ 을: 원조는 그 결과와 무관하게 빈곤자들에 대한 관심의 실천이다.
- ⑤ 갑, 을: 절대 빈곤 해결을 위한 원조는 보편적 의무로 간주해야 한다.

14. (가)의 사상가 갑, 을의 입장을 (나) 그림으로 탐구하고자 할 때, A~C에 들어갈 옳은 질문만을 <보기>에서 있는 대로 고른 것은? [3점]

(가)	<p>갑: 형벌의 주목적은 범죄자와 그 밖의 사람들의 행위를 통제하는 것이다. 공리의 원리에 따라 범죄자에 대한 형벌은 목적 달성에 필요한 정도 이상으로 가해져서는 안 된다.</p> <p>을: 형벌은 단지 범죄자가 범죄를 저질렀기 때문에 부과되어야 한다. 인간의 생득적 인격성은 그가 시민적 인격성을 상실할 선고를 받아도 물건으로 취급되지 않도록 보호한다.</p>
(나)	<p style="text-align: right;"><법 레></p> <p>□ : 출발 조건 ◇ : 판단 내용 - - - : 판단 방향 ◡ : 사상가의 입장</p>

<보기>

ㄱ. A: 형벌로 인한 범죄자의 고통이 위법 행위의 이득보다 커야 하는가?
 ㄴ. B: 형벌은 일반인에게 본보기로, 범죄자에게 교화로 작용하는가?
 ㄷ. C: 형벌의 유용성이 전혀 없는 경우 형벌을 부과하지 말아야 하는가?
 ㄹ. C: 형벌이 부과하는 고통은 범죄자의 존엄성 보장에 부합해야 하는가?

- ① ㄱ, ㄴ ② ㄱ, ㄷ ③ ㄷ, ㄹ
- ④ ㄱ, ㄴ, ㄹ ⑤ ㄴ, ㄷ, ㄹ

15. 다음 서양 사상가의 입장을 <보기>에서 고른 것은?

현대 자본주의 사회는 과거보다 교묘하고 효과적인 방식으로 대중을 다룰 수 있게 되었다. 대중 예술에 투사된 세계는 갈등이 조화롭게 해결되는 듯한 느낌을 주지만 이는 기만적 대리 만족이다. 문화 산업은 대중을 통제함으로써 지배계급의 이념을 재생산한다. 개인은 자유가 있는 것 같지만 실은 경제적·사회적 장치의 산물이다. 문화 산업이 독점한 대중 예술은 개인의 특성을 획일화하여 자신의 논리를 관철한다.

<보기>

ㄱ. 대중 예술품의 주된 가치는 교환 가치에 의해서 결정된다.
 ㄴ. 대중 예술의 영역과 권력의 영역은 상호 무관하게 작동한다.
 ㄷ. 대중 예술은 현실적 모순을 은폐하고 대중 의식을 조작한다.
 ㄹ. 대중 예술의 감상은 획일화되지 않은 개인의 고유한 체험이다.

- ① ㄱ, ㄴ ② ㄱ, ㄷ ③ ㄴ, ㄷ ④ ㄴ, ㄹ ⑤ ㄷ, ㄹ

16. (가) 사상의 입장에서 상황 (나)의 갑에게 제시할 조언으로 가장 적절한 것은? [3점]

(가)	어떤 행위가 가능한 다른 대안들보다 사회에 더 큰 선을 산출하는 규칙들의 집합에 속하는 규칙에 의해 요구되는 행위일 때, 그리고 오직 그때에만 그 행위는 옳다.
(나)	갑은 귀금속 상인이고 을은 반지를 구입하고자 온 손님이다. 갑에게 선택 가능한 행위는 진실을 말하는 것과 거짓말을 하는 것밖에 없다고 하자. 을에게 거짓말을 하면 더 비싸게 팔 수 있음을 알기에 갑은 고민 중이다.

- ① 자신의 선을 극대화하기 위해 거짓말을 하세요.
- ② 보편적 입법의 원리에 따라 항상 진실만을 말하세요.
- ③ 가능한 다른 행위만큼의 선을 산출하도록 말하세요.
- ④ 선을 추구하고 악을 피하라는 자연법에 따라 말하세요.
- ⑤ 공리를 극대화할 가능성이 가장 큰 규칙에 따라 말하세요.

17. 갑, 을의 입장에 대한 설명으로 옳은 것은? [3점]

갑: 비종교적 인간은 성현(聖顯)의 시대에서 세속의 시대로 전환되는 과정의 결과물이다. 종교적 인간에게 자연은 성스러움으로 상징화된 초월적 존재의 창조물이다. 성화(聖化)된 자연 안에서 인간은 도덕적 위기를 극복할 수 있다.
 을: 자연적이고 물리적인 세계 너머에는 아무것도 없고 관찰 가능한 자연의 배후에 숨어 있는 초자연적인 창조적 지성은 없다. 자연은 물리학으로 설명이 가능하며 인간의 윤리적 행위 역시 자연 선택의 결과로 설명할 수 있다.

- ① 갑은 종교가 인간의 심리적인 필요에 의해 만들어졌다고 본다.
- ② 갑은 비종교적 인간이 자연을 성스러운 것으로 간주한다고 본다.
- ③ 을은 초월적 존재를 전제하지 않아도 자연을 설명할 수 있다고 본다.
- ④ 을은 과학이 인간의 윤리적 행위의 원인을 설명할 수 없다고 본다.
- ⑤ 갑, 을은 초월적 신이 자연을 통해 자신의 존재를 드러낸다고 본다.

18. (가), (나)에 나타난 삶의 태도로 적절하지 않은 것은?

(가) 자른 것이 바르지 않으면 드시지 않았고 간장이 없으면 드시지 않았다. 고기가 많아도 곡기(穀氣)를 이기지는 않았으며 주량이 대단했으나 어지러운 정도로 마시지는 않았다.
 (나) 술과 고기를 먹지 마라. 마늘, 부추, 파, 달래, 흥거의 오신채(五辛菜)를 먹지 마라. 식사는 오전 중 한 번으로 끝내라. 발우의 음식은 수많은 연기(緣起)의 과정을 거친 것이다.

- ① (가): 음식을 먹는 행위에서 인간다운 품위를 추구하여야 한다.
- ② (가): 음식을 섭취하는 목적은 생존 유지에만 국한되어야 한다.
- ③ (나): 음식을 통해 세상 모든 존재의 상호 의존성을 파악해야 한다.
- ④ (나): '어떻게', '무엇을' 먹느냐의 문제를 수행과 연계시켜야 한다.
- ⑤ (가), (나): 음식을 섭취할 때는 적절히 조절하고 절제해야 한다.

19. 다음 글의 갑~정 중 적어도 세 명이 부정의 대답을 할 질문만을 <보기>에서 있는 대로 고른 것은?

과학자의 윤리적 책임은 내적 책임과 외적 책임으로 구분할 수 있다. 내적 책임은 연구 과정 자체에만 한정된 책임이며, 외적 책임은 연구 결과의 사회적 활용에 대한 책임이다. 따라서 논리적으로 다음과 같은 네 명의 입장이 가능하다.

	내적 책임	외적 책임
갑	있음	있음
을	있음	없음
병	없음	있음
정	없음	없음

<보기>

- ㄱ. 과학자는 자료를 위조해서라도 사회적 책임을 다해야 하는가?
- ㄴ. 과학자는 모든 책임에서 면제되어 자유롭게 연구해야 하는가?
- ㄷ. 과학자는 연구 자체만이 아니라 사회적 부작용도 책임져야 하는가?
- ㄹ. 과학자는 어떠한 경우에도 연구 과정에서 표절을 해서는 안 되는가?

- ① ㄱ, ㄴ ② ㄱ, ㄹ ③ ㄷ, ㄹ
- ④ ㄱ, ㄴ, ㄷ ⑤ ㄴ, ㄷ, ㄹ

20. 다음 토론의 핵심 쟁점으로 가장 적절한 것은?

갑: 사이버 공간에서는 서로를 식별하기 어렵기 때문에 현실에서 표현하지 못하는 솔직한 감정을 드러내거나 다양한 의견을 자유롭게 교환할 수 있습니다.
 을: 그렇습니다. 하지만 사이버 공간의 익명성을 악용한 악성 댓글의 피해가 심각합니다. 악성 댓글을 제재할 수 있는 법과 제도가 필요합니다.
 갑: 아닙니다. 악성 댓글 문제는 도덕규범의 자율적 내면화와 실천을 통해 해결해야 합니다. 제도적 규제는 표현의 자유를 위축시킬 수 있습니다.
 을: 제도적 조치를 반드시 병행해야 합니다. 감정이나 의견을 전달하는 데 어느 정도 제약과 불편을 감수하더라도 악성 댓글로부터 개인의 명예를 보호해야 합니다.

- ① 사이버 공간의 악성 댓글 문제 해결을 위해 제도적 규제가 필요한가?
- ② 사이버 공간에서 탈억제 효과는 악성 댓글의 원인으로 작용하는가?
- ③ 악성 댓글 문제를 해결하기 위해 자율적 책임감과 실천이 필요한가?
- ④ 사이버 공간에서는 서로 신분을 알 수 있는 정보가 제한적인가?
- ⑤ 사이버 공간에서도 현실의 도덕규범이 동일하게 적용되는가?

* 확인 사항
 ○ 답안지의 해당란에 필요한 내용을 정확히 기입(표기)했는지 확인하십시오.

제 4 교시

사회탐구 영역(윤리와 사상)

성명 수험 번호

1. 다음 대화에서 스승이 강조하는 삶의 태도로 가장 적절한 것은?



- ① 쾌락을 추구하고 고통을 피하기 위해 은둔 생활을 해야 한다.
- ② 외부적 상황의 변화에도 동요하지 않는 의연함을 지녀야 한다.
- ③ 초자연적인 인격신의 계시에 따라 자신의 의무를 다해야 한다.
- ④ 개인의 진정한 행복을 위해 자연을 정복하고자 노력해야 한다.
- ⑤ 타고난 정념을 적절히 발휘하여 운명을 개척하고 변화시켜야 한다.

2. 고대 동양 사상이자 갑, 을의 입장에 대한 옳은 설명을 <보기>에서 고른 것은? [3점]

갑: 예의를 비난하는 사람은 스스로를 해치는[자포(自暴)] 자이고, 자신이 어질고 의로울 수 없다고 하는 사람은 스스로를 버리는[자기(自棄)] 자이다. 인(仁)은 사람의 마음이고, 의(義)는 사람의 길이다. 학문에는 다른 길이 없다. 그 방치된 마음을 구하는 것뿐이다.
 을: 사람은 이익을 바라는 욕망을 성품[性]으로 타고난다. 하지만 이익이 의로움을 이기면 난세가 되므로, 성인이 예의를 제정해서 직분을 나누었다. 사(士) 이상의 계층이 이익만 구하는 것을 수치로 여겨 백성과 생업을 경쟁하지 않으니, 백성이 재물에 궁핍하지 않게 되었다.

—<보기>—
 ㄱ. 갑은 사람들이 도덕적 본성을 저버리므로 자포자기한다고 본다.
 ㄴ. 갑은 인의가 외적 환경과 인위적 노력에 의해 형성된다고 본다.
 ㄷ. 을은 군주가 예로다스려야 사람들의 욕망을 조절할 수 있다고 본다.
 ㄹ. 을은 인간의 본성 안에 예가 선천적으로 내재되어 있다고 본다.

- ① ㄱ, ㄴ ② ㄱ, ㄷ ③ ㄴ, ㄷ ④ ㄴ, ㄹ ⑤ ㄷ, ㄹ

3. 갑은 고대 서양 사상가, 을은 현대 서양 사상가이다. 갑, 을의 입장으로 옳지 않은 것은?

갑: 인간은 말이나 소와 다르게 정신 안에 이성의 기능을 포함한다는 점에서 고유한 존재이다. 이성적 동물인 인간이 추구하는 궁극적 목적은 행복이다. 행복의 본질은덕과 일치하는 정신의 활동에 있다. 인간이 행복하기 위해서는 지적 덕과 품성적 덕을 갖추어야 한다.
 을: 인간은 이기나 꽃양배추와 다르게 주체적으로 삶을 살아가는 지향적 존재이다. 이 지향 이전에는 아무 것도 있을 수 없다. 인간은 이 세상에 내던져진 존재로 나중어야 비로소 그 무엇이 될 수 있다. 인간은 먼저 세상에 존재하고 그 다음에 정의된다.

- ① 갑: 인간은 목적 지향적 활동을 통해 최고선의 실현을 추구한다.
- ② 갑: 지나침과 모자람 때문이 아니라 그 자체로 나쁜 것들이 있다.
- ③ 을: 인간은 실존적 위기를 극복하기 위해 절대자를 지향해야 한다.
- ④ 을: 인간은 자기 존재의 주인이 되어 스스로 본질을 만들어 가야 한다.
- ⑤ 갑, 을: 자신의 자발적 선택에 대해 책임짐으로써 인간다움이 실현된다.

4. 다음 동양 사상의 입장만을 <보기>에서 있는 대로 고른 것은? [3점]

꽃의 뿌리·줄기·잎·꽃술·향기가 꽃은 아니지만 꽃은 이것들을 떠날 수 없다. 나도 이와 같다. 육체[色]가 나는 아니지만 나는 육체를 떠날 수 없다. 감수[受]·표상[想]·의지[行]·인식[識]이 나는 아니지만 나는 이것들을 떠날 수 없다. 이 다섯 가지[五蘊]를 바르게 통찰해야 나에 대한 모든 번뇌가 사라진다.

—<보기>—
 ㄱ. 인연생기[緣起]에 의한 모든 것은 일시적인 현상일 뿐이다.
 ㄴ. 현생의 업(業)이 원인이 되어 그 결과로 다음 생이 이어진다.
 ㄷ. 바른 수행으로 무명(無明)을 실천해야 해탈에 이르게 된다.
 ㄹ. 다섯 가지 요소로 구성된 인간의 자아는 무상(無常)하지 않다.

- ① ㄱ, ㄴ ② ㄴ, ㄷ ③ ㄷ, ㄹ
- ④ ㄱ, ㄴ, ㄹ ⑤ ㄱ, ㄷ, ㄹ

5. 다음 현대 서양 사상가의 입장에 대한 설명으로 옳지 않은 것은?

나와 주변 사람들은 약속한 자와 약속받은 자, 채권자와 채무자, 아내와 남편, 자식과 부모, 친구와 친구, 동료 시민과 동료 시민의 관계에 있다. 이러한 관계는 나에게 조건부 의무를 부여하는 근거가 된다. 주변 사람들에게 내가 지켜야 할 조건부 의무에는 약속에 대한 성실, 잘못에 대한 보상, 호의에 대한 감사, 재화를 공정하게 분배하는 정의, 다른 존재들에 대한 선행, 자기 계발, 타인에 대한 해악 금지 등이 있다.

- ① 어떤 조건부 의무도 다른 조건부 의무에 의해 유보될 수 없다고 본다.
- ② 상황에 적합한 조건부 의무를 도덕적 직관으로 결정할 수 있다고 본다.
- ③ 특정 상황에서 의무로 채택된 조건부 의무를 실제적 의무라고 본다.
- ④ 모든 도덕 문제를 해결할 수 있는 일원론적 도덕 원리는 없다고 본다.
- ⑤ 조건부 의무들 간에도 상황에 따라서 갈등이 발생할 수 있다고 본다.

6. 그림은 중세 서양 사상가 갑, 근대 서양 사상가 을의 가상 대화이다. 갑, 을의 입장에 대한 설명으로 가장 적절한 것은? [3점]

신은 이성적 인식의 대상을 넘어 실존적으로 만나야 할 인격적 존재입니다. 현세에서 우리는 모두 죄인 이므로 어느 누구도 온전히 신국의 구성원일 수만은 없습니다.

신, 즉 자연은 무한하고 완전하며 유일한 실체입니다. 오직 신만이 모든 것의 내재적 원인입니다. 모든 것은 신 안에 있으며, 오직 신의 무한한 본성의 법칙에서 생깁니다.



- ① 갑은 인간이 죄를 짓는 존재이기 때문에 자유의지가 없다고 본다.
- ② 갑은 인간의 참된 행복이 이성을 통해 현세에서 실현된다고 본다.
- ③ 을은 지적인 관조를 통해 자연의 필연성을 초월할 수 있다고 본다.
- ④ 을은 신의 본성을 인식함으로써 완전한 행복을 얻을 수 있다고 본다.
- ⑤ 갑, 을은 신의 은총에 의해 정념의 방해에서 벗어날 수 있다고 본다.

7. 사회사상 (가), (나)의 입장에서 모두 부정의 대답을 할 질문으로 가장 적절한 것은?

(가) 국가가 경제 계획을 통해 시장을 통제할 수 있다는 생각은 잘못이다. 국가는 시장에서의 자유 경쟁이 최대한 효율적으로 작동할 수 있도록 해야 한다. 시장의 자율성을 훼손하는 국가의 개입은 전체주의로 향하는 길이 될 뿐이다.
 (나) 국가는 사회주의적 계획에 따라 시장을 통제해야 한다. 국가는 근로 대중의 이익을 위해 소수에 의한 경제 권력의 집중을 방지하고, 경제를 민주적으로 관리해야 한다. 사회주의는 민주주의를 기반으로 해야 한다.

- ① 기회의 평등을 통해 재화의 균등한 몫을 분배해야 하는가?
- ② 의회 또는 정당 활동을 통해 사회주의를 실현해야 하는가?
- ③ 개인은 재산 소유의 권리와 양도의 자유를 가져야 하는가?
- ④ 공공의 이익 추구보다 사적인 이익 추구를 우선해야 하는가?
- ⑤ 시장의 자율성을 확대하기 위해 국가의 역할을 축소해야 하는가?

8. 중국 사상가 갑, 을의 입장에 대한 설명으로 옳은 것은? [3점]

갑: 위로는 무극과 태극에서, 아래로는 하나하나의 초목과 곤충에 이르기까지 각각의 이(理)가 있다. 사물 하나를 궁리(窮理)하지 않으면, 사물의 도리 한 가지를 빠뜨린다. 모름지기 한 가지를 따라가서 다른 이(理)와 만나야 한다.
 을: 몸을 주재하는 것이 마음[心]이고, 마음이 드러난 것이 뜻[意]이다. 뜻의 본체가 곧 앎[知]이며, 뜻이 머무는 것이 곧 사물[物]이다. 만약 뜻이 부모를 섬기는 데 있다면 부모를 섬기는 것이 하나의 사물이니, 그것은 마음에 있다.

- ① 갑은 사물에 내재한 이치를 궁구해야 천리(天理)에 도달한다고 본다.
- ② 갑은 기(氣)로 이루어진 본연지성을 이(理)가 다스려야 한다고 본다.
- ③ 을은 마음 밖에 사물이 있으므로 이(理)도 마음 밖에 있다고 본다.
- ④ 을은 선지후행(先知後行)을 통해 도덕성을 실현해야 한다고 본다.
- ⑤ 갑, 을은 도덕과 예의로 양지(良知)를 후천적으로 형성해야 한다고 본다.

9. 근대 서양 사상가 갑, 을의 입장에 대한 옳은 설명을 <보기>에서 고른 것은?

갑: 국가에 대한 복종의 의무는 우리가 오직 국가로부터 얻는 이득에서 유래한다. 이 이득 때문에 우리는 자신이 국가에 저항하는 경우에도 반감을 느끼며 다른 사람이 국가에 대해 저항하는 경우에도 불쾌감을 느낀다.
 을: 국가는 자유롭고 평등한 개인들 간의 계약에 의해 성립된다. 개인들은 자연권을 확실히 보장받기 위해 자연권의 일부를 국가에 양도하는 계약에 동의한다. 이 자발적 동의에 의한 계약이 국가에 복종할 의무와 저항할 권리의 근거가 된다.

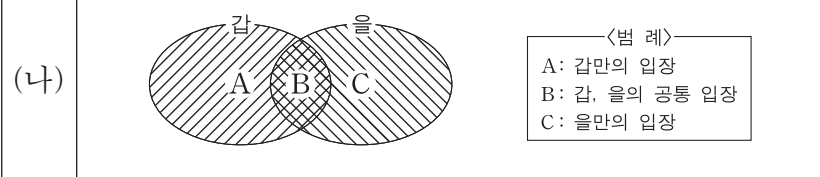
<보기>

- ㄱ. 갑은 국가에 대한 복종을 결과와 무관하게 지켜야 할 의무로 본다.
- ㄴ. 을은 국가에 의한 기본권 침해에 저항권의 근거로 본다.
- ㄷ. 을은 명시적 동의에 의한 계약만을 정치적 의무의 근거로 본다.
- ㄹ. 갑, 을은 국가가 국민의 평화와 안전을 보장해야 한다고 본다.

- ① ㄱ, ㄴ ② ㄱ, ㄷ ③ ㄴ, ㄷ ④ ㄴ, ㄹ ⑤ ㄷ, ㄹ

10. (가)의 근대 서양 사상가 갑, 을의 입장을 (나) 그림으로 표현할 때, A~C에 들어갈 적절한 내용만을 <보기>에서 있는 대로 고른 것은?

(가) 갑: 행복은 이성의 이상(理想)이 아니라 경험에 근거한 상상력의 이상이다. 이성의 사명은 선의지를 낳는 것이며, 선의지는 행복을 누리기 위한 자격 조건이어야 한다.
 을: 행복은 양과 질 모두의 관점에서 가능한 한 고통을 피하고 쾌락을 향유하는 것이다. 행복 증진에 기여하는 정도에 비례하여 옳고 그름이 결정된다.



<보기>

- ㄱ. A: 준칙에 따르는 모든 명령은 무조건적 의무의 요구이다.
- ㄴ. B: 타인을 배제한 개인적 행복을 도덕원리로 삼을 수 없다.
- ㄷ. B: 보편적 도덕원리를 통해 행위의 도덕성 여부를 판단해야 한다.
- ㄹ. C: 도덕원리가 개인의 행복과 항상 일치하는 것은 아니다.

- ① ㄱ, ㄴ ② ㄱ, ㄹ ③ ㄴ, ㄷ
- ④ ㄱ, ㄷ, ㄹ ⑤ ㄴ, ㄷ, ㄹ

[11~12] 갑, 을은 한국 사상가들이다. 물음에 답하시오.

갑: 맹자는 성선(性善)의 이치를 드러내어 밝히면서 사단(四端)을 가지고 말하였으니, 사단은 이(理)가 발(發)한 것이라 선하다는 것을 알 수 있다. 또한 주자는 “사단은 이의 발이고, 칠정(七情)은 기(氣)의 발이다.”라고 말했다. 대개 사단은 이가 발하여 선한 것이므로 이의 발이라 한 것이다.

을: 성인(聖人)은 사단을 인의예지의 근본으로 보고 여기서부터 공부를 일으키고 기초를 닦아 확충하게 하였다. 만약 사단의 이면(裏面)에 인의예지가 잠복해서 주인이 된다면, 이것은 맹자의 확충 공부가 그 근본을 버리고 그 끝을 잡는 격이 될 것이다.

11. 갑, 을의 입장에 대한 설명으로 옳은 것은?

- ① 갑은 마음 밖의 사덕(四德)을 통해 사단이 발휘된다고 본다.
- ② 갑은 사단이 인간의 본성으로 칠정의 선한 측면일 뿐이라고 본다.
- ③ 을은 선을 좋아하는 마음의 기호(嗜好)가 사덕이라고 본다.
- ④ 을은 일상에서 사단을 부단히 실천함으로써 사덕이 형성된다고 본다.
- ⑤ 갑, 을은 사단의 형성을 위하여 본성을 변화시켜야 한다고 본다.

12. 다음을 주장한 한국 사상가가 갑에게 제기할 수 있는 적절한 반론만을 <보기>에서 있는 대로 고른 것은? [3점]

사단과 칠정은 두 변(邊)으로 나눌 수 없다. 만일 나누게 된다면 인성(人性)의 본연과 기질도 나누어 두 성이 될 것이기 때문이다. 천리(天理)는 무위(無爲)이므로 반드시 기(氣)의 기를 타야 동(動)하는 것이니, 기가 동하지 않고서 이(理)가 동한다는 것은 있을 수 없다.

— <보기> —

ㄱ. 스스로 작용하여 만물을 낳는 것이 이(理)임을 간과한다.
 ㄴ. 인간의 감정인 칠정은 사단을 겸(兼)할 수 있음을 간과한다.
 ㄷ. 이가 발하고 기가 그것을 따르는 것이 사단임을 간과한다.
 ㄹ. 이는 발하는 까닭[所以]일 뿐 발하는 것이 아님을 간과한다.

- ① ㄱ, ㄷ ② ㄱ, ㄹ ③ ㄴ, ㄹ
- ④ ㄱ, ㄴ, ㄷ ⑤ ㄴ, ㄷ, ㄹ

13. 다음 중세 서양 사상가의 입장에 대한 설명으로 옳지 않은 것은? [3점]

영원법은 모든 운동과 행위를 지배하는 신의 지혜이다. 만물은 신으로부터 영원법을 통해 각자의 특정한 본성을 부여받았다. 인간은 특별한 방식으로 이러한 영원법을 따르는데, 여기서 이성적 존재인 인간이 영원법에 참여하는 것을 자연법이라고 부른다. 현실에서 실정법은 이성이 따르라고 명령한 자연법에 근거를 두어야 한다.

- ① 인간이 제정된 자연법은 이성으로 파악 가능한 것이라고 본다.
- ② 영원법이 실정법의 궁극적인 목적이자 작용의 근거라고 본다.
- ③ 자연법의 제1원리는 선을 행하고 악을 피하는 것이라고 본다.
- ④ 실정법의 정당성 여부는 자연법에 의해 판단되어야 한다고 본다.
- ⑤ 불변하는 영원법과 가변적인 실정법을 자연법이 매개한다고 본다.

14. 갑은 중국 불교 사상가, 을은 한국 불교 사상가이다. 갑, 을의 입장에 대한 옳은 설명만을 <보기>에서 있는 대로 고른 것은?

갑: 자성(自性)의 마음자리를 지혜로써 관조하여 안팎이 밝으면 자기의 본래 마음을 알게 된다. 본래 마음을 알면 곧 해탈이며, 해탈을 얻으면 곧 반야 삼매이며, 반야 삼매를 깨달으면 곧 무념이다. 자성을 일거에 깨쳐야 한다.

을: 마음은 물과 같아서 물결이 흔들리면 그림자가 부서지고, 물이 맑고 고요하면 그 작용이 완전해진다. 정(定)이 없으면 미치광이요, 혜(慧)가 없으면 어리석은 자이다. 이 두 가지를 함께 닦아야 부처가 될 것이다.

— <보기> —

ㄱ. 갑은 경전 연구에 몰입해야 반야 삼매에 도달할 수 있다고 본다.
 ㄴ. 을은 참선 수행을 위주로 하여 교학(敎學)에도 힘써야 한다고 본다.
 ㄷ. 을은 깨달은 후에도 나쁜 습관을 점차 제거해야 한다고 본다.
 ㄹ. 갑, 을은 참된 나를 단박에 깨닫는 것이 중요하다고 본다.

- ① ㄱ, ㄴ ② ㄱ, ㄹ ③ ㄴ, ㄷ
- ④ ㄱ, ㄷ, ㄹ ⑤ ㄴ, ㄷ, ㄹ

15. (가)를 주장한 현대 서양 사상가의 입장에서 볼 때, 퍼즐 (나)의 세로 낱말 (A)에 대한 설명으로 옳은 것은? [3점]

(가) 목적은 도달해야 할 종착점이 아니라 현재 상황을 변화시키는 능동적인 과정이다. 정직, 근면, 절제, 정의도 고정된 목적으로 삼아야 할 선(善)들은 아니다. 그것들은 경험의 질적인 변화의 방향이다. 여기서 중요한 것은 성장과 진보의 과정이다.

(나)

		(A)			
	(B)				

[가로 열쇠]
 (A): '참됨·착함·아름다움'을 아울러 이르는 한자어
 (B): 인간이 마땅히 지키고 따라야 할 도리를 일컫는 것으로 도덕과 유사한 말. 예) 동양 ○○, 서양 ○○

[세로 열쇠]
 (A): …… 개념

- ① 경험과 관찰보다 직관적 판단에 의해서 획득되는 것이다.
- ② 시공을 초월한 고정된 표준으로서의 타당성을 지니는 것이다.
- ③ 개선을 위한 도구가 아니라 본래적 선으로 추구되는 것이다.
- ④ 오류 가능성이 완전히 제거되어 절대적 확실성을 갖는 것이다.
- ⑤ 과학적 탐구를 통해 삶의 문제 해결에 유용한 것으로 확인된 것이다.

16. 고대 서양 사상가 갑, 을의 입장에 대한 설명으로 가장 적절한 것은? [3점]

갑: 참되게 살려는 자는 욕구를 억제해서는 안 된다. 용기와 지혜로써 이를 최대한 충족시켜야 한다. 사람들은 그럴 능력이 없기 때문에 무절제를 부끄러운 것이라고 주장하며 절제와 정의를 칭송한다. 사치, 무절제, 자유가 덕이자 행복이다.
 을: 참되게 살려는 자는 덕이 참된 지혜에서 나온다는 것을 알아야 한다. 영혼의 모든 성질들은 지혜를 동반하느냐 무지를 동반하느냐에 따라 유익하게도 해롭게도 되기 때문이다. 덕은 유익한 것이기 때문에 지혜의 일종이어야만 한다.

- ① 갑은 덕이 욕구 충족과 무관하게 그 자체로 가치 있다고 본다.
- ② 갑은 이성적 사유를 통해 보편적 진리를 추구해야 한다고 본다.
- ③ 을은 정신의 탁월성이 지혜만으로도 실현 가능하다고 본다.
- ④ 을은 나쁜 행동이 무지와 의지의 나약함에서 비롯된다고 본다.
- ⑤ 갑, 을은 선이 주관적인 것이므로 공통된 정의를 내릴 수 없다고 본다.

17. 사회사상 (가), (나)의 입장에 대한 설명으로 적절하지 않은 것은?

(가) 국가는 개인의 삶을 국가가 의도하는 방향으로 인도하기 위해 특정한 가치관이나 입장을 지지해서는 안 된다. 국가는 개인의 자율적인 삶을 보장하고 그것을 실현 가능하게 해주는 수단이다.
 (나) 공동의 목표를 배제한 정치 제도는 정당화될 수 없으며, 공동의 삶을 살아가는 시민으로서의 역할이 배제된 우리 자신도 생각할 수 없다. 우리는 그 공동체의 목표에 밀접하게 결합되어 있다.

- ① (가)는 국가가 가치의 통일성보다 다양성을 보장해야 함을 강조한다.
- ② (가)는 개인의 삶의 방식에 대한 결정권이 공동체에 있음을 강조한다.
- ③ (나)는 공유된 가치를 바탕으로 한 사회 연대 의식을 강조한다.
- ④ (나)는 좋은 삶의 조건으로 공동체가 부여한 역할 수행을 중시한다.
- ⑤ (가)는 개인의 권리 보호를, (나)는 공동선의 실현을 중시한다.

18. 현대 서양 사상가 갑, 을의 입장에 대한 옳은 설명만을 <보기>에서 있는 대로 고른 것은? [3점]

갑: 우리가 누구와 어울리고, 어떤 상황에 있는지는 도덕적 결정의 중요한 요소이다. 따라서 우리는 도덕적 결정을 내릴 때 여성에게서 잘 발휘되는 배려의 도덕을 수용할 필요가 있다.
 을: 우리는 누구나 특정한 사회적 정체성을 지닌 사람들로서 우리들 자신과 우리를 둘러싼 환경을 이해한다. 따라서 우리는 전통의 관행에 내재되어 있는 선을 실천할 필요가 있다.

— <보기> —

ㄱ. 갑은 정의 중심의 윤리가 유일한 도덕규범은 아니라고 본다.
 ㄴ. 을은 개인의 삶과 공동체의 삶은 분리될 수 없다고 본다.
 ㄷ. 갑은 을과 달리 여성만이 배려를 실천할 수 있다고 본다.
 ㄹ. 갑, 을은 도덕적인 상황의 맥락을 고려해야 한다고 본다.

- ① ㄱ, ㄴ ② ㄱ, ㄷ ③ ㄷ, ㄹ
- ④ ㄱ, ㄴ, ㄹ ⑤ ㄴ, ㄷ, ㄹ

19. (가)의 갑, 을 사상가들의 입장을 (나) 그림으로 탐구하고자 할 때, A~C에 들어갈 질문으로 옳은 것은? [3점]

(가) 갑: 공통의 정의관을 구축하기 위해서는 절차의 공정함을 보장할 수 있는 원칙들을 우선적으로 고려해야 한다. 이를 바탕으로 원초적 입장에서 당사자들은 자신들의 숙고된 판단과 일치하는 합당한 정의관을 도출할 수 있다.
 을: 어느 한 시민이 다른 시민보다 우선적으로 공직에 선출될 경우 정치 영역에서 두 사람은 불평등할 수 있다. 그러나 정치 영역에서 공직에 선출된 시민의 직위가 그 밖의 영역에서 다른 시민보다 유리하게 작용하지 않는다면, 그들은 전반적으로 불평등하지 않다.

(나) 갑, 을 사상가들의 입장을 탐구한다.

<범례>
 □ : 출발 조건
 ◇ : 판단 내용
 → : 판단 방향
 ~ : 사상가의 입장

- ① A: 재화의 차등 분배를 위해 기본적 자유를 제한해야 하는가?
- ② B: 모든 사람의 이익 증진이 사회적·경제적 불평등의 허용 조건인가?
- ③ B: 효용의 극대화가 다수가 합의해야 하는 정의관 결정의 원칙인가?
- ④ C: 사회의 한 영역의 가치가 다른 영역의 가치를 지배해도 되는가?
- ⑤ C: 모든 사회적 가치는 자유 교환의 원칙에 의해 분배되어야 하는가?

20. 다음 동양 사상의 입장만을 <보기>에서 있는 대로 고른 것은?

몸을 혹사하면 기(氣)가 흐트러지고, 기가 고갈되면 목숨이 다한다. 그러므로 선인(仙人)은 약물과 수련법으로 생명을 기르고 정신을 단련하여, 몸에 병이 생기지 않고 근심거리가 침범치 못하게 한다. 신선(神仙)의 도는 지극히 높고 오묘하지만, 진실로 그 도리를 알면 불로장생도 어려운 일이 아니다. 그런데 사람들이 자연을 거슬러 세속의 생활 습관을 고수하면서, 그 미묘한 이치를 짧은 안목으로 단정하니 안타깝다.

— <보기> —

ㄱ. 육체와 관계없이 정신을 독립적으로 수양해야 한다.
 ㄴ. 양생(養生)을 위해 정신 수련과 의약 연구가 필요하다.
 ㄷ. 몸 안의 기를 단련하면 건강과 수명 연장을 도모할 수 있다.
 ㄹ. 도에 이르려면 자연의 이치에 따라 삶의 방식을 바꿔야 한다.

- ① ㄱ, ㄴ ② ㄱ, ㄷ ③ ㄷ, ㄹ
- ④ ㄱ, ㄴ, ㄹ ⑤ ㄴ, ㄷ, ㄹ

* 확인 사항

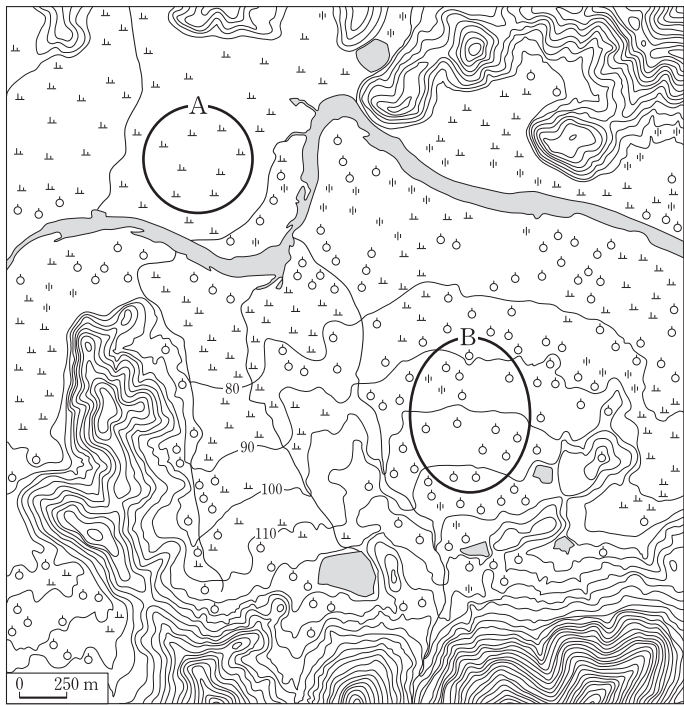
○ 답안지의 해당란에 필요한 내용을 정확히 기입(표기)했는지 확인 하시오.

제 4 교시

사회탐구 영역(한국 지리)

성명 수험 번호

1. 지도의 A, B 지형에 대한 옳은 설명을 <보기>에서 고른 것은?



<보기>
 가. A는 B에 비해 경사가 급하다.
 나. A는 B에 비해 배수가 양호하다.
 다. A는 B에 비해 침수 가능성이 높다.
 르. A, B는 하천의 퇴적 작용으로 형성된다.

- ① 가, 나 ② 가, 다 ③ 나, 다 ④ 나, 르 ⑤ 다, 르

2. 다음 글의 밑줄 친 ㉠~㉣에 대한 설명으로 옳지 않은 것은?

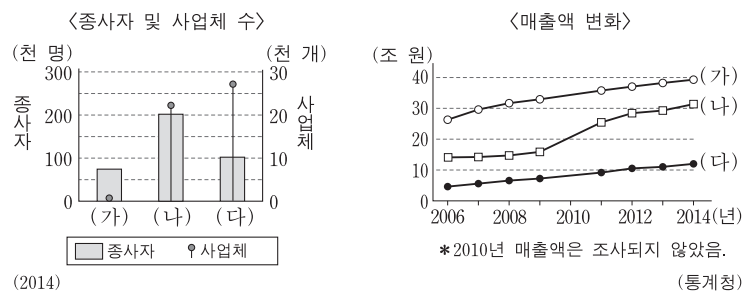
도시는 사람, 자본, 물자의 흐름을 통해 ㉠ 상호 작용하여 ㉡ 계층화된 도시 체계를 형성한다. 우리나라는 수도인 서울과 전통 도시들이 각 지방의 중심을 이루고 있었다. 그러나 1970년대 이후 급속한 산업화, 국토 계획 등의 영향으로 도시 수와 규모가 변화하였는데, 특히 수도권과 남동 임해 지역의 도시 성장이 두드러졌다.
 1990년대 이후에는 서울의 과밀화로 인해 ㉢ 위성 도시들이 급속히 성장하였다. 그럼에도 불구하고 서울은 여전히 ㉣ 중주 도시로서의 지위를 유지하고 있다. 최근에는 광역 교통의 발달로 교외화가 더욱 활발해지고 있고, 이와 더불어 쾌적한 환경에 대한 수요 증가 등으로 ㉤ 대도시권이 확대되고 있다.

- ① ㉠ - 도시의 인구 규모가 클수록 도시 간 상호 작용이 활발하다.
 ② ㉡ - 상위 계층의 도시는 하위 계층의 도시보다 도시의 기능은 다양하고 도시의 수는 적다.
 ③ ㉢ - 도시 내부의 주요 교통 결절점에서 도심의 상업 및 업무 기능을 분담·수용하여 형성된다.
 ④ ㉣ - 인구 규모가 2위인 도시의 인구 규모보다 두 배 이상 큰 수위 도시이다.
 ⑤ ㉤ - 공간적 범위는 중심 도시로의 통근이 가능한 배후 농촌 지역을 포함한다.

3. (가)에 대한 (나) 시기 자연 환경의 상대적 특성으로 옳은 것은? [3점]

(가) 약 1만 8천 년 전, 바다가 물러나면서 황해는 육지가 되어 완전히 사라졌으며, 한반도와 제주도는 육지로 연결되었다.
 (나) 약 6천 년 전, 해수면이 현재와 유사한 높이까지 상승하여 하천 하류부의 골짜기가 바닷물에 침수되면서 리아스 해안이 형성되었다.

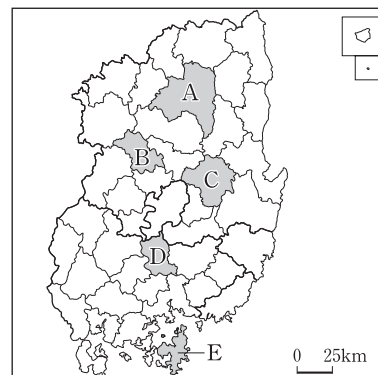
- ① 연평균 기온이 낮다.
 ② 설악산의 해발 고도가 높다.
 ③ 냉대림의 분포 면적이 넓다.
 ④ 남해로 유입되는 하천의 길이가 짧다.
 ⑤ 화학적 풍화보다 물리적 풍화가 활발하다.
4. 그래프의 (가)~(다) 소매 업체에 대한 옳은 설명을 <보기>에서 고른 것은? (단, (가)~(다)는 대형 마트, 무점포 소매업체, 편의점 중 하나임.)



<보기>
 가. 소비자와 판매자 간 대면 접촉 빈도는 (다)가 가장 낮다.
 나. (가)는 (다)보다 판매 제품의 종류가 다양하다.
 다. (나)는 (가)보다 입지의 공간적 제약이 크다.
 르. 2014년에 편의점은 무점포 소매업체보다 종사자당 매출액이 적다.

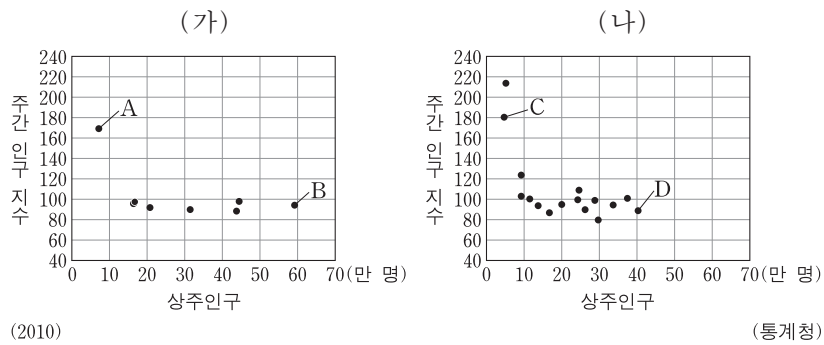
- ① 가, 나 ② 가, 다 ③ 나, 다 ④ 나, 르 ⑤ 다, 르

5. A~E의 지역 특성을 고려한 탐구 학습 주제로 적절하지 않은 것은? [3점]



- ① A - 국제 탈춤 페스티벌 개최와 지역 경제 활성화
 ② B - 정보 통신 산업 중심으로의 산업 구조 고도화
 ③ C - 유네스코 세계 문화 유산으로 지정된 마을의 취락 특성
 ④ D - 국제 협약에 의해 보존 중인 내륙 습지의 생태계 다양성
 ⑤ E - 광역시와의 연육교 건설에 따른 지역 변화

6. 그래프는 (가), (나) 광역시의 구(군)별 주간 인구 지수 및 상주인구를 나타낸 것이다. 이에 대한 설명으로 옳지 않은 것은? [3점]



- ① (가)는 (나)보다 평균 구(군) 인구가 많다.
- ② A에서는 통근·통학 유입 인구가 통근·통학 유출 인구보다 많다.
- ③ C의 주간 인구는 상주인구보다 2만 명 이상 많다.
- ④ B는 A보다 주거 기능이 우세하다.
- ⑤ D는 B보다 주간 인구가 많다.

7. (가), (나) 현상에 대한 설명으로 옳지 않은 것은?

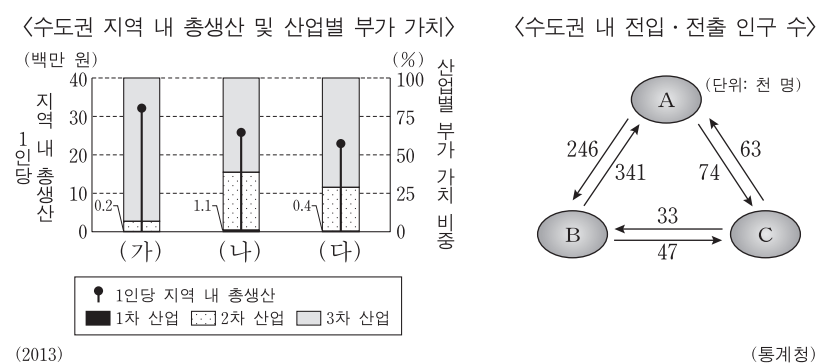
세계의 연평균 기온은 (가) 현상으로 지난 100여 년간 약 0.7°C 상승하였으며, 우리나라는 그보다 두 배 이상인 1.7°C 가량 상승하였다. 특히 서울, 부산 등과 같은 대도시의 도심에서는 (나) 현상까지 더해져 연평균 기온이 약 3°C 상승하였다.

<우리나라의 기온 변화>

<도시의 기온 분포 모식도>

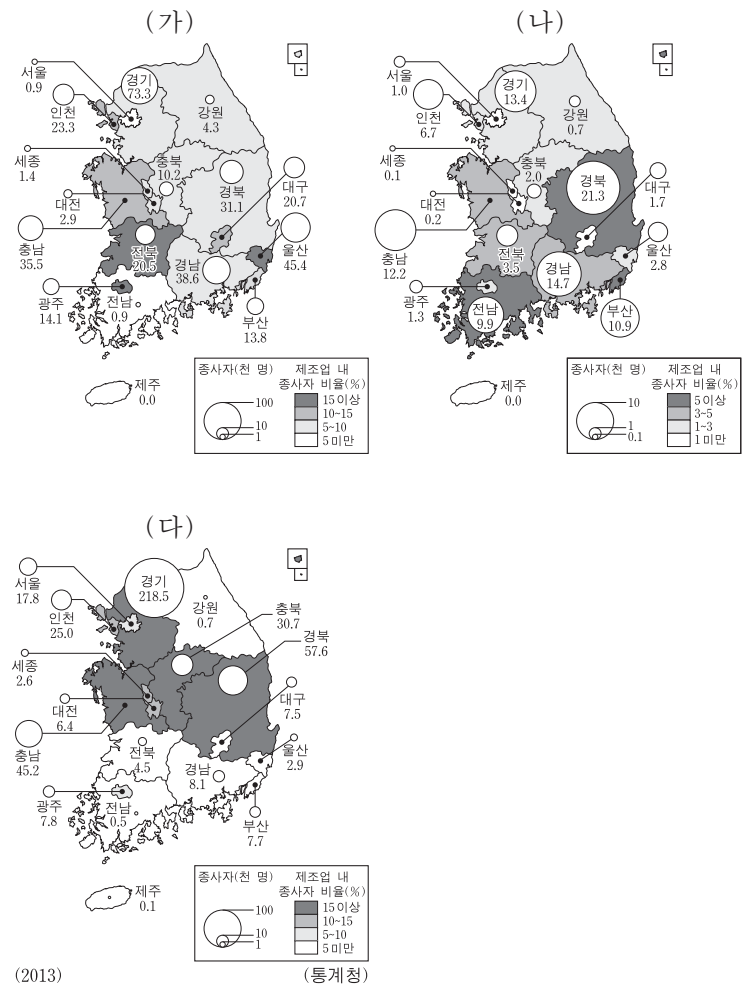
- ① (가)의 주요 원인은 대기 중 이산화탄소의 농도 증가이다.
- ② (가)가 심화되면 고산 식물 분포의 고도 하한선이 높아진다.
- ③ (나)는 대도시의 열대야 발생 빈도를 높인다.
- ④ (나)가 발생하면 대기가 안정되어 강수량이 감소한다.
- ⑤ (나)의 주요 원인은 인공열의 방출 및 포장 면적 증가이다.

8. 그래프의 (가)~(다)에 해당하는 지역을 그림의 A~C에서 고른 것은? (단, (가)~(다)는 경기, 서울, 인천 중 하나임.) [3점]



- | | | | | | | | |
|---|-----|-----|-----|---|-----|-----|-----|
| | (가) | (나) | (다) | | (가) | (나) | (다) |
| ① | A | B | C | ② | A | C | B |
| ③ | B | A | C | ④ | B | C | A |
| ⑤ | C | A | B | | | | |

9. (가)~(다) 제조업에 대한 옳은 설명만을 <보기>에서 있는 대로 고른 것은? (단, (가)~(다)는 자동차 및 트레일러, 전자, 철강 중 하나임.) [3점]

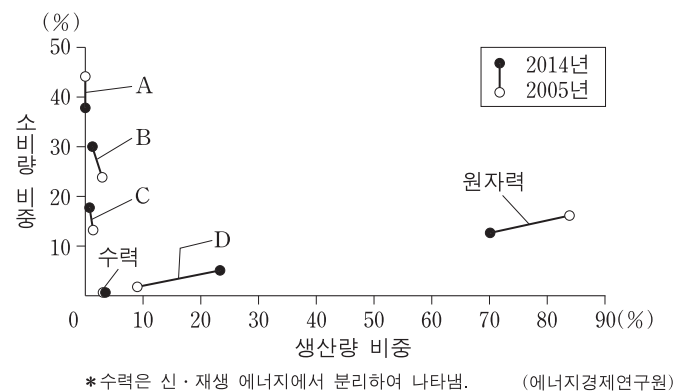


<보기>

ㄱ. (가)는 관련 업체들이 밀집하는 집적 지향형 공업이다.
 ㄴ. (나)는 대량의 원료를 수입하는 적환지 지향형 공업이다.
 ㄷ. (가)는 (나)에서 생산된 제품을 주요 재료로 이용한다.
 ㄹ. (다)는 (나)보다 최종 제품의 무게가 무겁고 부피가 크다.

- ① ㄱ, ㄴ
- ② ㄱ, ㄹ
- ③ ㄷ, ㄹ
- ④ ㄱ, ㄴ, ㄷ
- ⑤ ㄴ, ㄷ, ㄹ

10. 그래프는 에너지원별 소비량과 생산량의 비중 변화를 나타낸 것이다. A~D에 대한 설명으로 옳은 것은?



- ① 국내에서 생산되는 B는 주로 산업용으로 이용된다.
- ② A는 B보다 전력 생산으로 이용되는 비중이 높다.
- ③ B는 C보다 연소 시 배출되는 이산화탄소의 양이 적다.
- ④ C는 D보다 수입 의존도가 높다.
- ⑤ 2005년에 비해 2014년에 신·재생 에너지의 소비량은 석탄의 소비량보다 많이 늘었다.

11. 다음 글은 조선 시대에 제작된 지도에 대한 것이다. (가), (나) 지도에 대한 옳은 설명을 <보기>에서 고른 것은? [3점]

(가) 정상기가 제작하였고, 8장의 지도를 합치면 전국 지도가 되는 분첩 지도로 전체 크기가 약 1.4m×2.7m이다. 100리를 1척으로 하는 백리척(百里尺)을 사용하였다.
 (나) 남북 22단, 동서 19면으로 구성된 분첩 절첩식 지도로 전체 크기가 약 3.8m×6.6m이다. 10리마다 방점을 찍어 거리를 표현하였으며, 필요한 부분만 찍어 낼 수 있는 방식으로 제작되었다.

<보기>

ㄱ. (가)는 목판으로 제작되었다.
 ㄴ. (나)는 지도표를 사용하였다.
 ㄷ. (가)는 (나)보다 제작 시기가 이른다.
 ㄹ. (나)는 (가)보다 실제 거리를 더 축소해서 표현하였다.

- ① ㄱ, ㄴ ② ㄱ, ㄷ ③ ㄴ, ㄷ ④ ㄴ, ㄹ ⑤ ㄷ, ㄹ

12. 다음은 기후 단원에 대한 수업 장면이다. 교사의 질문에 대한 학생의 대답으로 가장 적절한 것은? [3점]

지역	도시	최고 기온(°C)	최저 기온(°C)	강수량 (mm)	풍향
A	속초	20.1	17.8	1	북
	강릉	20.9	18.4	4	동북동
B	춘천	30.0	20.0	0	동북동
	원주	30.2	19.6	0	북북동

A, B 지역 간 일 최고 기온의 차이가 나타나는 이유는 무엇 일까요?

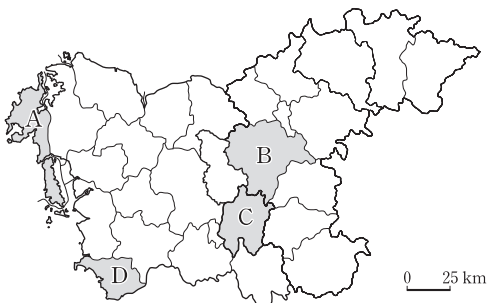
갑 을 병 정 무

지역 간 해발 고도가 차이 나기 때문입니다.
 한반도 주변에 남고북저의 기압 배치가 발달했기 때문입니다.
 건조한 대륙성 기단의 세력이 강화되었기 때문입니다.
 남쪽에서 발달한 열대성 저기압이 한반도에 유입 되었기 때문입니다.
 바람이 산맥을 넘으면서 고온 건조한 성질로 변화했기 때문입니다.

- ① 갑 ② 을 ③ 병 ④ 정 ⑤ 무

13. 다음 글의 (가), (나) 지역을 지도의 A~D에서 고른 것은?

(가) 도청 소재지로서 국제공항이 위치하고 고속 철도 노선의 분기점으로 교통 기능이 강화되고 있다. 생명 과학 단지가 입지하여 산업체, 연구소 및 국책 기관이 집적하고 있다.
 (나) 천연기념물로 지정된 해안 사구가 위치한 지역이며, 해안 지형과 생태계 보호를 위해 해안 국립공원으로 지정되었다. 해수욕장, 소나무 숲 등을 활용한 여가 공간이 조성되어 관광객이 늘고 있다.

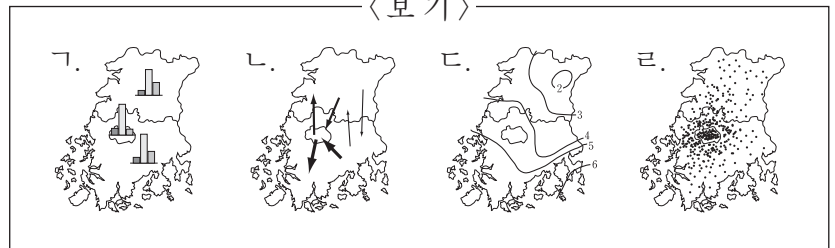


- | | | |
|---|-----|-----|
| | (가) | (나) |
| ① | B | A |
| ② | B | D |
| ③ | C | A |
| ④ | C | D |
| ⑤ | D | A |

14. (가), (나) 자료를 표현하기에 가장 적절한 통계 지도의 유형을 <보기>에서 고른 것은?

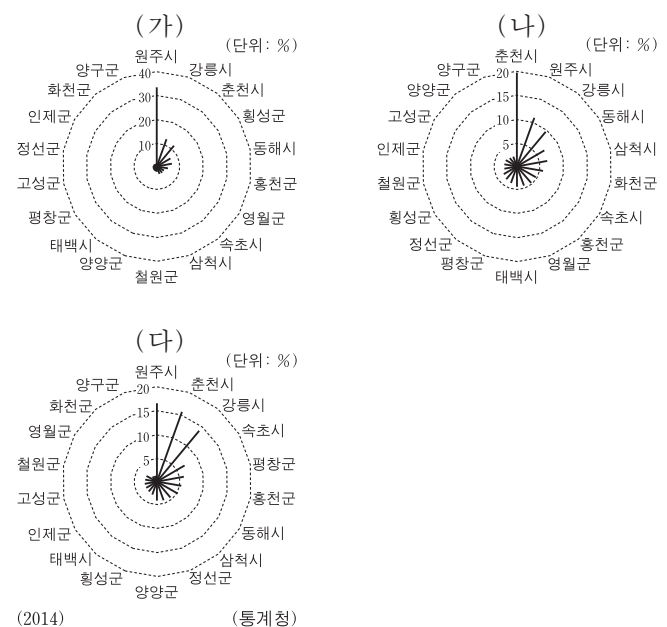
호남 지방의 인구 특성을 파악하기 위한 기초 조사로 두 가지 통계 자료를 수집하였다. 먼저 (가) 광주광역시, 전라남도, 전라북도의 연령층별 인구 비율을 파악하기 위해 유소년층, 청장년층, 노년층 인구 수를 조사하였다. 다음으로 (나) 광주광역시, 전라남도, 전라북도 간 인구 이동 규모를 파악하기 위해 세 지역 간 전입 인구와 전출 인구 수를 조사하였다.

<보기>



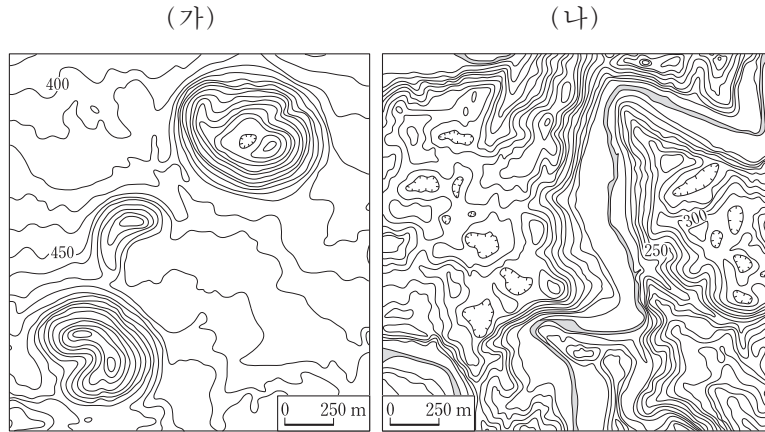
- | | | | | | |
|---|-----|-----|---|-----|-----|
| | (가) | (나) | | (가) | (나) |
| ① | ㄱ | ㄴ | ② | ㄱ | ㄷ |
| ③ | ㄴ | ㄷ | ④ | ㄴ | ㄹ |
| ⑤ | ㄷ | ㄹ | | | |

15. 그래프는 강원도 (가)~(다) 산업 종사자 수의 시·군별 비중을 순위별로 나타낸 것이다. 이에 해당하는 산업으로 옳은 것은? [3점]



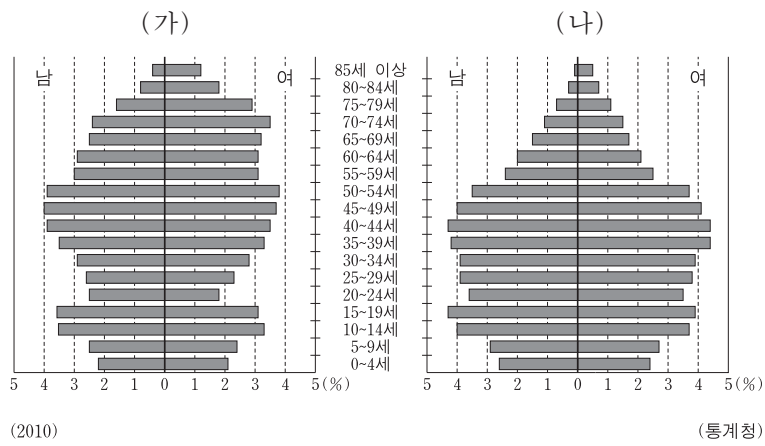
- | | | | |
|---|------------|------------|------------|
| | (가) | (나) | (다) |
| ① | 제조업 | 숙박 및 음식점업 | 공공 및 기타 행정 |
| ② | 제조업 | 공공 및 기타 행정 | 숙박 및 음식점업 |
| ③ | 숙박 및 음식점업 | 공공 및 기타 행정 | 제조업 |
| ④ | 공공 및 기타 행정 | 제조업 | 숙박 및 음식점업 |
| ⑤ | 공공 및 기타 행정 | 숙박 및 음식점업 | 제조업 |

16. (가), (나) 지역에 대한 설명으로 옳은 것은?



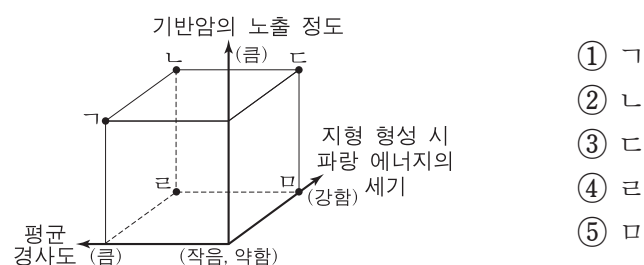
- ① (가)에는 칼데라호, (나)에는 우각호가 나타난다.
- ② (가)에는 돌산, (나)에는 주상절리가 잘 나타난다.
- ③ (가)는 신생대, (나)는 고생대에 형성된 암석이 기반암을 이룬다.
- ④ (가), (나)에서는 밭농사보다 논농사가 주로 이루어진다.
- ⑤ (가), (나)에서는 기후의 영향을 받은 적색 토양이 발달한다.

17. 그래프는 (가), (나) 지역의 인구 피라미드를 나타낸 것이다. 이에 대한 설명으로 옳지 않은 것은? (단, (가), (나)는 광주광역시, 전라남도 중 하나임.) [3점]



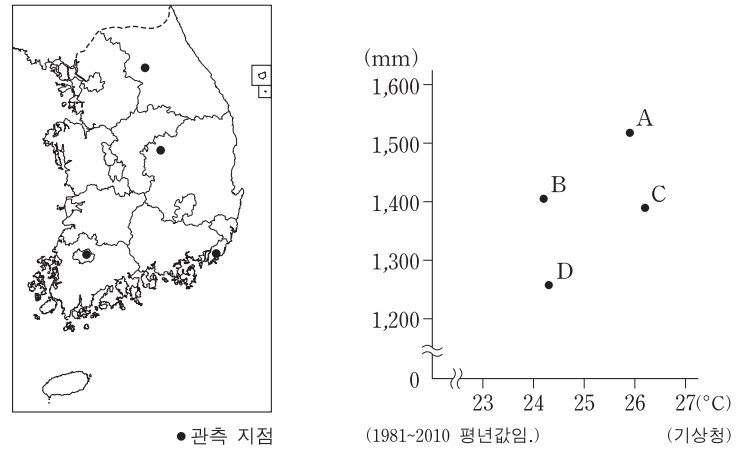
- ① (가)의 노년 인구 부양비는 유소년 인구 부양비보다 높다.
- ② (나)는 노년층 성비가 유소년층 성비보다 낮다.
- ③ (가)는 (나)에 비해 중위 연령이 높다.
- ④ (가)는 (나)에 비해 총 인구 부양비가 낮다.
- ⑤ (가)는 (나)에 비해 농업 인구의 비율이 높다.

18. 사진의 B에 대한 A의 상대적 특성을 그림의 ㄱ~ㄴ에서 고른 것은?



- ① ㄱ
- ② ㄴ
- ③ ㄷ
- ④ ㄹ
- ⑤ ㅁ

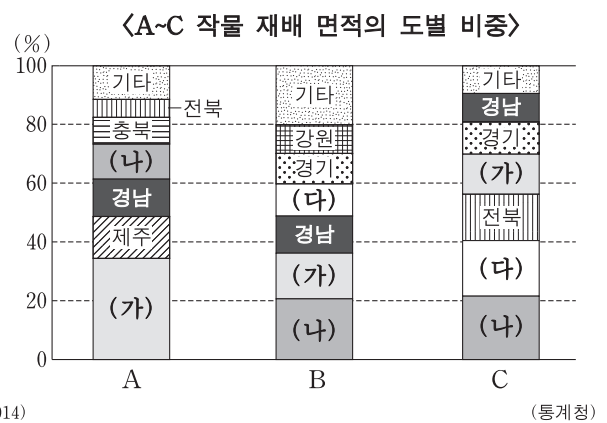
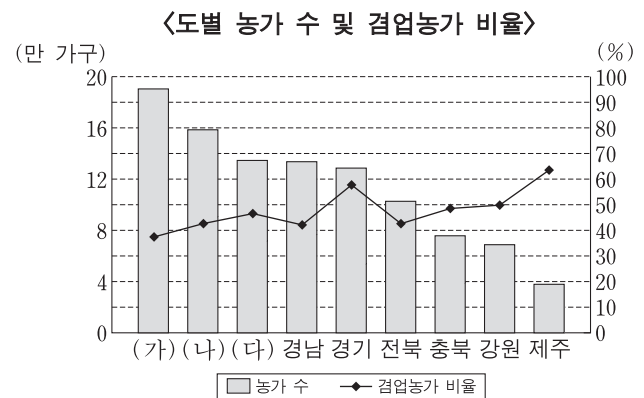
19. 그래프는 지도에 표시된 관측 지점의 연 강수량과 8월 평균 기온을 나타낸 것이다. A~D 지점에 대한 옳은 설명만을 <보기>에서 있는 대로 고른 것은? [3점]



<보기>
 ㄱ. A는 B보다 하계 강수 집중률이 높다.
 ㄴ. A는 C보다 연평균 기온이 높다.
 ㄷ. B는 D보다 기온의 연교차가 크다.
 ㄹ. C는 D보다 무상 기간이 길다.

- ① ㄱ, ㄴ
- ② ㄱ, ㄹ
- ③ ㄷ, ㄹ
- ④ ㄱ, ㄴ, ㄷ
- ⑤ ㄴ, ㄷ, ㄹ

20. 자료에 대한 설명으로 옳은 것은? (단, A~C는 벼, 과수, 채소 중 하나임.)



- ① 전체 겸업농가는 전업농가보다 많다.
- ② 농가가 가장 많은 도는 벼 재배 면적이 가장 넓다.
- ③ 전업농가가 가장 많은 도는 채소 재배 면적이 가장 넓다.
- ④ 경북의 벼 재배 면적은 충남보다 넓다.
- ⑤ 전남의 채소 재배 면적은 경남보다 넓다.

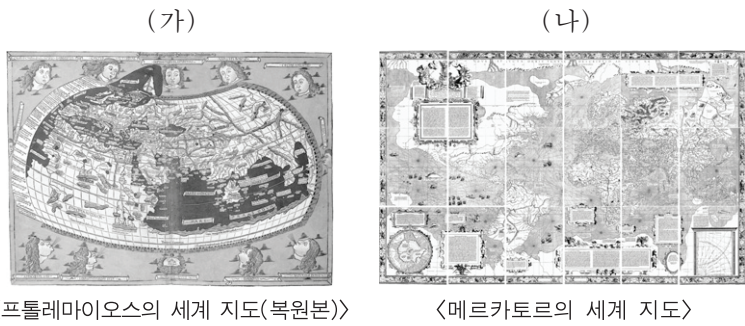
* 확인 사항
 ○ 답안지의 해당란에 필요한 내용을 정확히 기입(표기)했는지 확인 하시오.

제 4 교시

사회탐구 영역(세계 지리)

성명 수험 번호

1. (가), (나) 지도의 공통점으로 옳은 것은?



- ① 항해를 목적으로 제작되었다.
- ② 아메리카 대륙이 표현되어 있다.
- ③ 종교적 세계관이 반영되어 있다.
- ④ 대륙의 면적이 정확하게 표현되어 있다.
- ⑤ 지구를 구체(球體)로 인식하여 제작되었다.

2. 다음 조건을 고려하여 여성 교육을 위한 국제 기금을 한 국가에 지원하고자 한다. 조건에 부합하는 국가를 지도의 A~E에서 고른 것은? [3점]

<조건> 평가 항목별 배점 기준은 다음과 같으며, 점수의 합이 가장 큰 국가를 지원함.

영아 사망률(%)	점수	1인당 국내 총생산(달러)	점수	여성 문자 해독률(%)	점수
60 이상	3	10,000 이상	1	80 이상	1
30 ~ 60	2	5,000 ~ 10,000	2	60 ~ 80	2
30 미만	1	5,000 미만	3	60 미만	3

<국가별 평가 자료>

구분	영아 사망률(%)	1인당 국내 총생산(달러)	여성 문자 해독률(%)
알제리	21.7	7,500	63.9
이집트	22.4	6,600	65.8
리비아	11.8	11,300	83.3
나이지리아	74.0	2,800	50.4
탄자니아	43.7	1,700	60.8



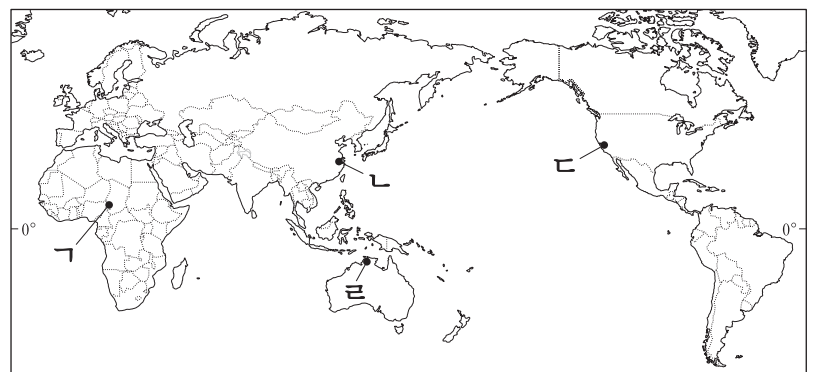
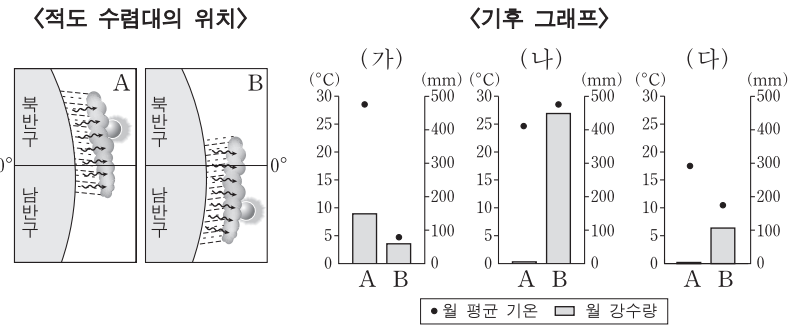
- ① A ② B ③ C ④ D ⑤ E

3. 다음 자료는 네 국가의 종교별 신자 수 비중을 나타낸 것이다. A~D 종교에 대한 설명으로 옳지 않은 것은?



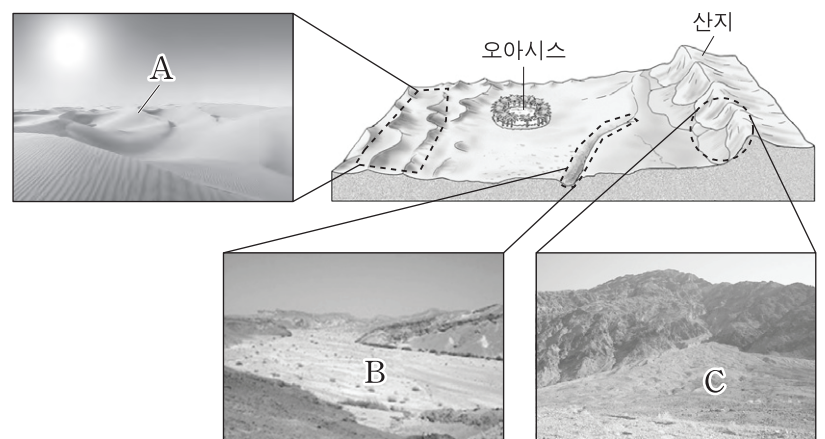
- ① A는 메카로의 성지 순례를 종교적 의무로 한다.
- ② B는 세계적으로 신자 수가 가장 많은 종교이다.
- ③ C는 장례 방식으로 화장보다 매장을 선호한다.
- ④ D는 아시아 각지로 전파되었으나 기원지에서는 쇠퇴하였다.
- ⑤ A와 B는 모두 유일신 신앙을 가지고 있다.

4. 다음 자료를 바탕으로 (가)~(다) 도시의 위치를 지도의 ㄱ~ㄴ에서 고른 것은? (단, A, B는 1월과 7월 중 하나임.)



- | | | | | | |
|-----|-----|-----|-----|-----|-----|
| (가) | (나) | (다) | (가) | (나) | (다) |
| ① ㄱ | ㄴ | ㄷ | ② ㄴ | ㄱ | ㄷ |
| ③ ㄴ | ㄴ | ㄷ | ④ ㄷ | ㄱ | ㄴ |
| ⑤ ㄷ | ㄴ | ㄴ | | | |

5. 그림은 건조 기후에서 발달하는 지형을 나타낸 것이다. A~C에 대한 옳은 설명만을 <보기>에서 있는 대로 고른 것은? [3점]




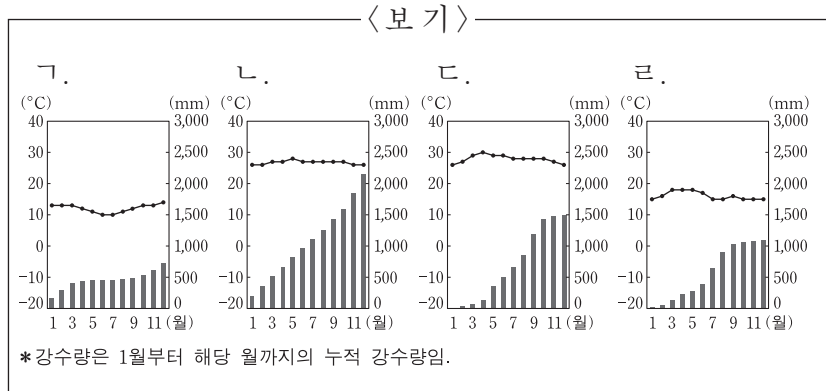
- <보기>
- ㄱ. A가 연속적으로 발달하면 바다다라고 부른다.
 - ㄴ. B는 비가 올 때만 일시적으로 흐르는 하천으로 교통로로 이용되기도 한다.
 - ㄷ. C는 산지에서 평지로 흘러나온 하천이 골짜기 입구에 형성한 지형이다.
 - ㄹ. A는 C보다 구성 물질의 평균 입자 크기가 크다.

- ① ㄱ, ㄴ ② ㄱ, ㄹ ③ ㄴ, ㄷ
- ④ ㄱ, ㄴ, ㄷ ⑤ ㄴ, ㄷ, ㄹ

6. 다음 자료의 (가), (나) 도시의 기후 그래프를 <보기>에서 고른 것은? [3점]

○ 잉카 문명의 중심 도시였던 (가)에서는 매년 6월 원주민들이 모여 태양신을 향해 감사를 올리고 한 해 농사의 풍작을 기원하는 행사인 태양제를 지낸다.

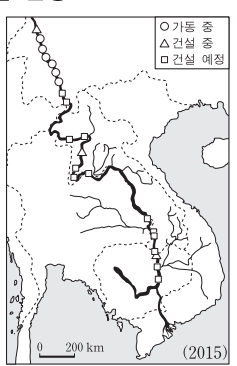
○ 타이의 수도 (나)에서는 매년 4월 사람들이 거리로 쏟아져 나와 사방으로 물을 뿌리면서 영혼을 씻어 내고 풍작을 기원하는 축제를 연다.

- | | | | | | | | | |
|---|-----|-----|---|-----|-----|---|-----|-----|
| | (가) | (나) | | (가) | (나) | | (가) | (나) |
| ① | 가 | 나 | ② | 가 | 다 | ③ | 나 | 가 |
| ④ | 라 | 나 | ⑤ | 라 | 다 | | | |

7. 다음은 학생이 수업 후 정리한 노트의 일부이다. (가)에 들어갈 옳은 내용을 <보기>에서 고른 것은?

[학습 주제 : 물 자원을 둘러싼 갈등]

- 국제 하천으로서의 메콩 강
 - 중국과 동남아시아 5개국을 흐르는 국제 하천
- 주요 댐 건설 현황
 
- 댐 건설로 인해 하구 지역에서 예상되는 변화
(가) _____
- 상·하류 국가 간 물 자원을 둘러싼 갈등 심화
:

- < 보기 —
- 가. 민물 어족 자원의 감소
 나. 하천의 평균 수위 상승
 다. 하구 주변의 해수 염도 상승
 라. 하구로의 퇴적물 공급량 증가
- | | | | | | | | | | |
|---|------|---|------|---|------|---|------|---|------|
| ① | 가, 나 | ② | 가, 다 | ③ | 나, 다 | ④ | 나, 라 | ⑤ | 다, 라 |
|---|------|---|------|---|------|---|------|---|------|

8. 다음 글은 라틴 아메리카 여행기의 일부이다. (가), (나) 지역에 대한 옳은 설명을 <보기>에서 고른 것은?

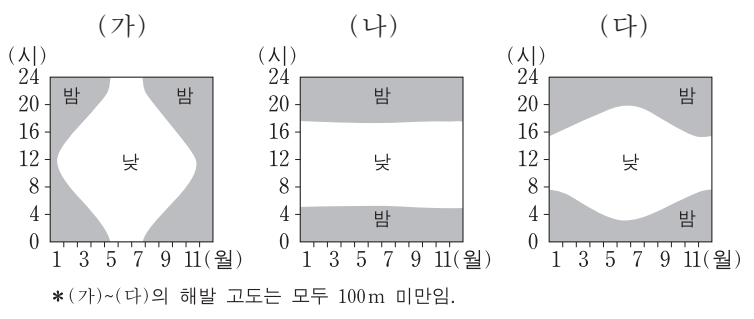
○ 드디어 브라질의 마나우스에 도착했다. 세계 최대의 정글인 (가)은/는 어린 시절부터 동경의 대상이었다. …(중략)… 여행 첫날에 나무를 베어내고 만든 정글 안의 캠핑장에 자리를 잡았다. 날씨는 끈적끈적, 땀은 비 오듯 쏟아지고……. 비로소 정글에 들어왔다는 느낌이 들었다.

○ 칠레의 산티아고에서 버스를 타고 24시간을 달려 세계에서 제일 건조하다는 (나) 초입의 칼라마 마을에 내리니 밤 9시. …(중략)… 다음날 칼라마에서 산페드로 마을까지 가는 1시간 30분 내내 입을 다물 수 없는 경관이 펼쳐졌다. 풀 한 포기 없는 사막에 모래 산이 달 표면처럼 울퉁불퉁하여 마치 외계에 온 것 같았다.

- < 보기 —
- 가. (가)의 토양은 염기가 용탈되어 척박하다.
 나. (나)는 벵겔라 해류에 의해 발달한 사막과 형성 과정이 유사하다.
 다. (가)는 (나)보다 적도에서 더 멀리 위치해 있다.
 라. (나)는 (가)보다 일 최고 기온과 일 최저 기온의 차이가 작다.

- ① 가, 나 ② 가, 다 ③ 나, 다 ④ 나, 라 ⑤ 다, 라

9. 그래프는 (가)~(다) 지역의 낮과 밤의 길이 변화를 나타낸 것이다. 이에 대한 설명으로 옳은 것은? [3점]



- ① (가)는 연중 아열대 고압대의 영향을 강하게 받는다.
 ② (나)는 얼었던 토양이 녹으면서 솔리플렉션 현상이 나타난다.
 ③ (다)는 남동 무역풍이 탁월하게 부는 지역이다.
 ④ (가)는 (다)에 비해 북회귀선에서 더 멀다.
 ⑤ (나)는 (다)에 비해 기온의 연교차가 크다.

10. 다음 글의 (가)~(다)에 대한 옳은 설명만을 <보기>에서 있는 대로 고른 것은? [3점]

○ 세계은행 보고서는 화석 연료의 사용량 급증으로 인한 (가)이/가 농작물 수확량 감소와 식량 가격 상승 등 농업에 큰 영향을 끼치고 있다고 밝혔다. 또한 (가)에 의해 세계 평균 기온이 2~3°C 상승하면 말라리아 감염 위험에 노출되는 사람이 크게 늘어날 우려가 있다고 했다.

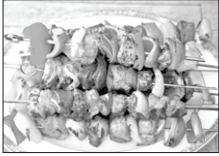
○ 1994년 유엔 총회에서 몬트리올 의정서 채택일을 기념하여 9월 16일을 '세계 (나) 보호의 날'로 지정했다. (나)이/가 파괴되면 지표면에 도달하는 (다)의 양이 증가해 식물 성장 저해, 농작물 수확량 감소 등의 문제가 발생한다.

- < 보기 —
- 가. (가)로 인해 툰드라의 영구 동토층 분포 범위가 축소되고 있다.
 나. (가)를 완화하기 위해 온실 가스 배출권 거래제가 도입되었다.
 다. (나)가 파괴되는 주요 원인은 대기 중으로 배출되는 메탄가스의 증가이다.
 라. (다)의 증가는 피부암 발생률 상승과 밀접한 관련이 있다.


- ① 가, 나 ② 가, 다 ③ 나, 라
 ④ 가, 나, 라 ⑤ 나, 다, 라

11. 다음 자료는 세계 음식 문화 체험에 대한 대화이다. (가)~(다)에 대한 옳은 설명을 <보기>에서 고른 것은? [3점]


부모님과 터키 식당에 가서 (가) 양고기 케밥을 시켰는데, 숯불에 구운 고기와 야채 꼬치였어. 고기를 기동처럼 쌓아 올려 구운 케밥도 먹어 보고 싶어.



부모님과 함께 이탈리아에서 먹었던 (나) 피자는 밀가루로 반죽한 얇은 도우에 모차렐라 치즈와 토마토를 얹은 거였어. 맛이 아주 담백했어.



가족들과 타이 식당에 가서 시큼하고 매운 국물에 새우가 들어간 (다) 퓌양꿍이라는 음식을 먹었는데, 맛이 특이해서 입맛이 확 살아났어.

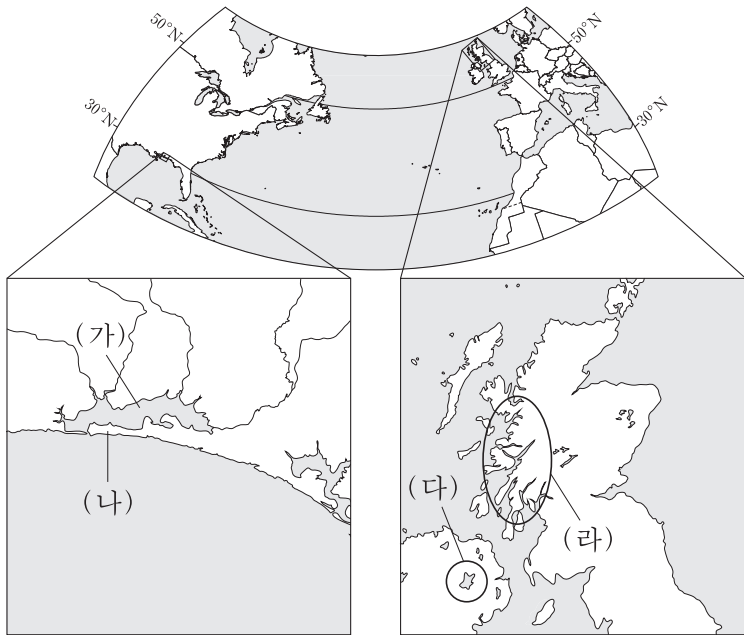


<보기>

ㄱ. (가)는 이동식 화전 농업을 하는 지역에서 유래되었다.
 ㄴ. (나)가 유래한 지역에서는 경엽수의 열매를 음식 재료로 많이 사용한다.
 ㄷ. (다)는 덥고 습한 기후 지역에서 사용되는 향신료가 많이 들어간다.
 ㄹ. (가)와 (다)는 돼지고기가 금기시되는 지역에서 발달해 주변 지역으로 전파되었다.

- ① ㄱ, ㄴ ② ㄱ, ㄷ ③ ㄴ, ㄷ ④ ㄴ, ㄹ ⑤ ㄷ, ㄹ

12. 지도의 (가)~(라) 지형에 대한 옳은 설명만을 <보기>에서 있는 대로 고른 것은? [3점]

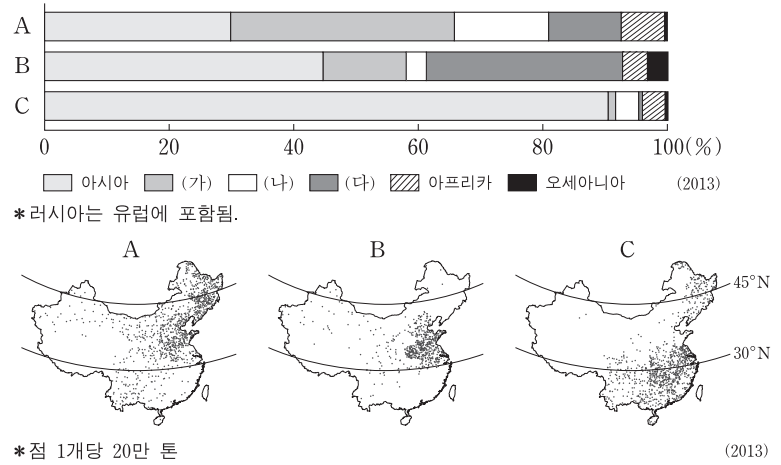


<보기>

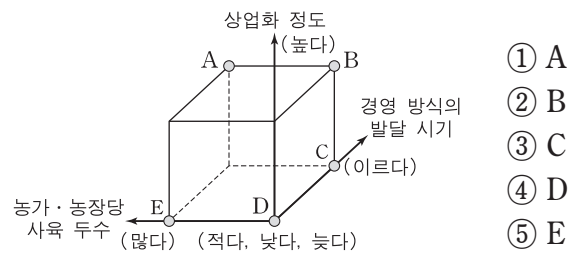
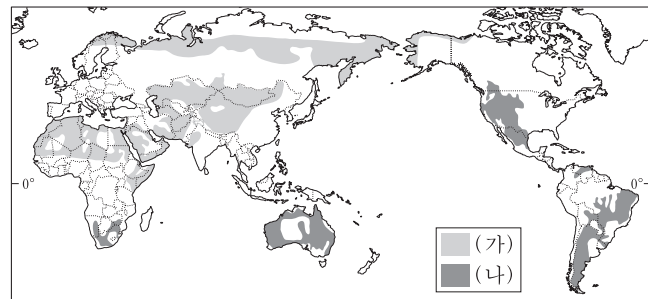
ㄱ. (가)는 해수면 상승과 사주의 발달로 형성된 호수이다.
 ㄴ. (나)는 주로 조류에 의한 운반·퇴적 작용으로 형성되었다.
 ㄷ. (다)의 호수는 화산 폭발로 형성된 분화구에 물이 고여 형성되었다.
 ㄹ. (라)의 협만과 형성 과정이 유사한 지형은 칠레 남부에 서도 볼 수 있다.

- ① ㄱ, ㄴ ② ㄱ, ㄹ ③ ㄴ, ㄷ
 ④ ㄱ, ㄷ, ㄹ ⑤ ㄴ, ㄷ, ㄹ

13. 다음 자료는 세계 3대 식량 작물 A~C의 대륙별 생산량 비중과 중국 내 생산지 분포를 나타낸 것이다. 이에 대한 설명으로 옳지 않은 것은? (단, (가)~(다)는 앵글로아메리카, 라틴 아메리카, 유럽 중 하나임.) [3점]

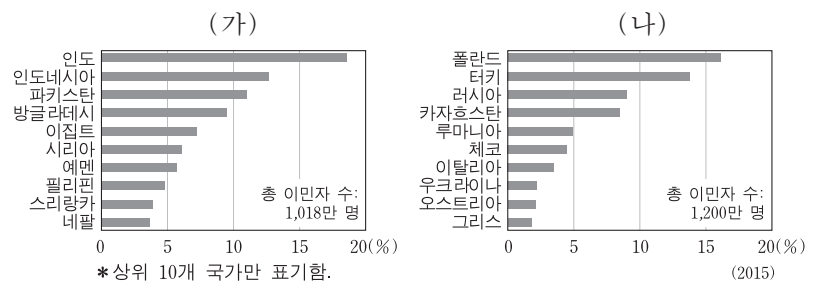


14. 지도는 경영 방식에 따른 목축업의 분포를 나타낸 것이다. (나)에 대한 (가)의 상대적 특징을 그림의 A~E에서 고른 것은? (단, (가), (나)는 기업적 목축과 유목 중 하나임.)



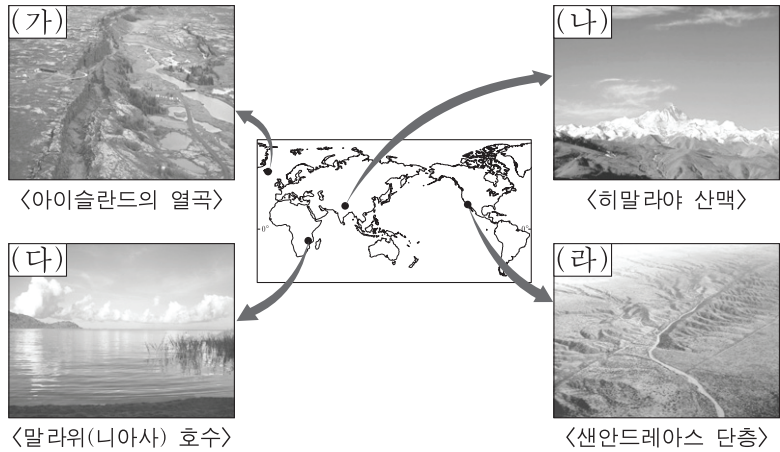
- ① A
 ② B
 ③ C
 ④ D
 ⑤ E

15. 그래프는 (가), (나) 국가에 각각 거주하는 이민자의 출신 국가별 비율을 나타낸 것이다. (가), (나)에 해당하는 국가를 지도의 A~D에서 고른 것은?



- (가) (나)
 ① A B
 ② A C
 ③ B C
 ④ D B
 ⑤ D C

16. 그림은 세계 대지형과 관련된 경관이다. (가)~(라)에 대한 설명으로 옳은 것은? [3점]



- ① (가)는 해령에서 분출한 용암이 굳어서 형성되었다.
- ② (나)는 두 개의 판이 어긋나 미끄러지는 경계에 발달했다.
- ③ (다)는 과거에 대륙 빙하가 후퇴하면서 형성된 호수이다.
- ④ (라)는 대륙판과 대륙판이 충돌하는 곳에서 발달했다.
- ⑤ (가)~(라)의 주변 지역에서는 화산 활동이 활발하다.

17. 다음 글의 (가) 도시에 대한 (나) 도시의 상대적 특징을 <보기>에서 고른 것은?

○ 2016년 하계 올림픽 개최 도시인 (가)은/는 일찍이 조성된 동남쪽 해안 지구에 부와 물자가 집중된 반면, 북부 내륙 지구에는 빈곤이 만연해 있다. 해변에서도 보이는 산비탈의 파벨라는 라틴 아메리카의 대표적 빈민촌 중 하나이다.


○ 미국 5대호 연안의 최대 도시인 (나)에 형성된 불량 주택 지구는 최근 들어 중심 업무 지구(CBD)에서 일하는 중산층에게 매력적인 주거지로 바뀌고 있다. 그 이유 중 하나는 통근할 때 혼잡한 고속도로를 이용하지 않아도 되고 대중교통 이용 시 환승하는 부담이 줄어들기 때문이다.

— <보기> —

ㄱ. 세계 도시 체계에서 계층이 높다.
 ㄴ. 비공식 부문의 종사자 비율이 낮다.
 ㄷ. 과도城市化 경향이 뚜렷하게 나타난다.
 ㄹ. 도시 경관에 식민 지배의 영향이 많이 남아 있다.

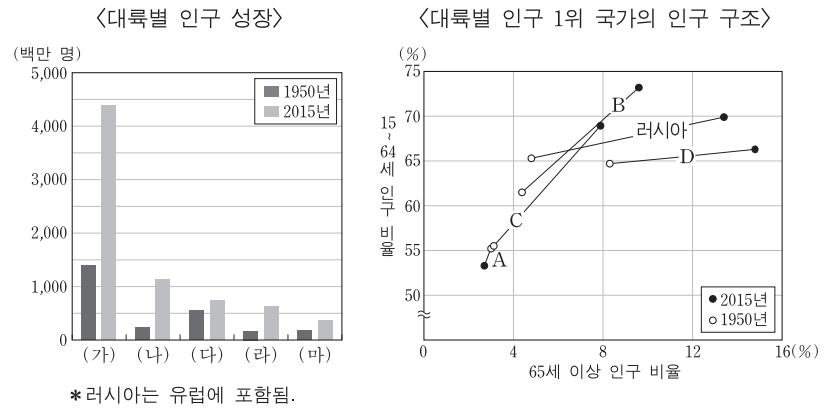
- ① ㄱ, ㄴ ② ㄱ, ㄷ ③ ㄴ, ㄷ ④ ㄴ, ㄹ ⑤ ㄷ, ㄹ

18. 다음은 세계 지리 수업 장면이다. 수업 주제로 가장 적절한 것은? [3점]



- ① 탈공업화와 첨단 산업 단지 조성
- ② 경제 블록 형성을 통한 경쟁력 강화
- ③ 제품 기술 발달에 따른 산업 혁신 클러스터의 형성
- ④ 정보 통신 기술의 발전에 따른 서비스 산업의 세계화
- ⑤ 주요 생산 요소와 시장에 대한 접근성에 따른 제조업 입지

19. 다음 자료에 대한 옳은 설명을 <보기>에서 고른 것은? (단, (가)~(마)는 아시아, 아프리카, 유럽, 앵글로아메리카, 라틴 아메리카 중 하나임.)

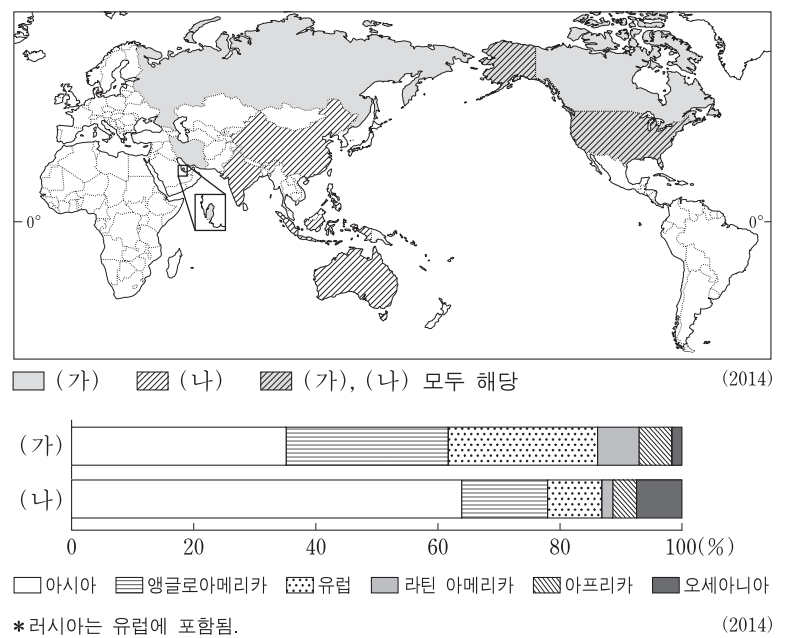


— <보기> —

ㄱ. 2015년 인구 부양비(총부양비)가 가장 낮은 국가는 A, 가장 높은 국가는 B이다.
 ㄴ. 1950년 대비 2015년 유소년 인구 부양비 감소 폭은 C가 러시아보다 크다.
 ㄷ. 2015년 중위 연령은 (다) 대륙이 (라) 대륙보다 낮다.
 ㄹ. A 국가는 (나) 대륙에, D 국가는 (마) 대륙에 속한다.

- ① ㄱ, ㄴ ② ㄱ, ㄷ ③ ㄴ, ㄷ ④ ㄴ, ㄹ ⑤ ㄷ, ㄹ

20. 자료는 화석 에너지 자원 (가), (나)의 상위 5개 생산국과 대륙별 생산 비중을 나타낸 것이다. 이에 대한 설명으로 옳은 것은?



- ① (가)는 산업 혁명 초기의 주요 에너지 자원이었다.
- ② (나)는 냉동 액화 기술이 개발되면서 소비량이 급증하였다.
- ③ (가)는 (나)보다 상용화된 시기가 늦다.
- ④ (가)는 (나)보다 연소 시 대기 오염 물질의 배출량이 많다.
- ⑤ (나)는 (가)보다 세계 에너지 소비량에서 차지하는 비중이 낮다.

* 확인 사항
 ○ 답안지의 해당란에 필요한 내용을 정확히 기입(표기)했는지 확인 하시오.

제 4 교시

사회탐구 영역(동아시아사)

성명 수험 번호

1. (가)에 들어갈 유물로 적절한 것은?


베트남 선사 유물전

- 풍응우옌 문화의 흔적을 찾아서 -

(가)

회전판(돌림판)을 이용하여 제작된
수준 높은 선사 유물!

- 장소: ○○ 박물관
- 일시: 2016년 ○월 ○일 ~ ○월 ○일



2. (가)에 들어갈 대담으로 적절한 것을 <보기>에서 고른 것은? [3점]

○○○의 대외 정책

이 황제는 고조선을 멸망시키고
4군을 설치했습니다. 다른 대외
활동의 예를 들어 볼까요?

(가)

- <보기>
- ㄱ. 남비엣(남월)을 정복했어요.
 - ㄴ. 호라즘 왕국을 무너뜨렸어요.
 - ㄷ. 흉노 견제를 위해 장건을 파견했어요.
 - ㄹ. 월지를 중앙아시아 방면으로 몰아냈어요.

① ㄱ, ㄴ ② ㄱ, ㄷ ③ ㄴ, ㄷ ④ ㄴ, ㄹ ⑤ ㄷ, ㄹ

3. 다음 가상 엽서의 (가) 왕조 시기에 동아시아에서 볼 수 있는 모습으로 적절한 것은? [3점]

post card

아내에게

170여 척이나 되는 우리
(가) 군대는 백강 하구에
진을 치고 있소. 이제 조금
있으면 신라군과 연합하여
왜의 수군과 싸우게 될 것
이요.

왜의 군세가 대단하다고는
하지만 우리가 반드시 이길
것이요. 다시 바다를 건너
돌아갈 때까지 건강하게
잘 지내길 바라오.

남편으로부터

- ① 한국 - 서원에서 공부하는 양반
- ② 중국 - 고구마를 먹고 있는 아이
- ③ 중국 - 조·용·조를 납부하는 농민
- ④ 일본 - 통신사 행렬을 구경하는 상인
- ⑤ 베트남 - 문묘에 참배하는 유학자

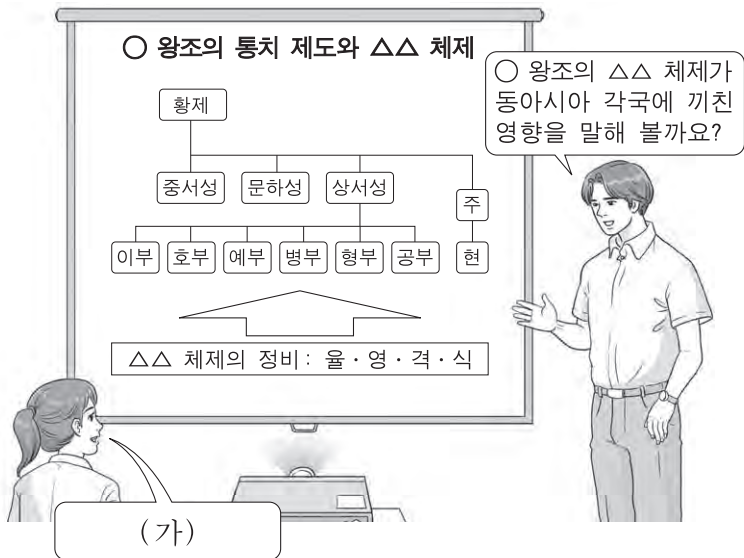
4. 지도에 나타난 시기의 (가), (나) 국가에 대한 설명으로 옳은 것을 <보기>에서 고른 것은?



- <보기>
- ㄱ. (가) - 고구려와 책봉·조공 관계를 맺었다.
 - ㄴ. (가) - 황제가 포로로 잡힌 토목(보)의 변이 일어났다.
 - ㄷ. (나) - 남조의 하나인 송과 교류하였다.
 - ㄹ. (나) - 부산포의 왜관을 통해 한반도와 교역하였다.

① ㄱ, ㄴ ② ㄱ, ㄷ ③ ㄴ, ㄷ ④ ㄴ, ㄹ ⑤ ㄷ, ㄹ

5. (가)에 들어갈 대담으로 적절한 것을 <보기>에서 고른 것은?



<보기>
 가. 왜에서는 야마토 정권이 성립되었어요.
 나. 발해는 3성 6부의 중앙 관제를 도입하였어요.
 다. 주는 혈연관계를 바탕으로 봉건제를 시행하였어요.
 르. 신라는 국학을 설립하여 유학 교육을 실시하였어요.

- ① 가, 나 ② 가, 다 ③ 나, 다 ④ 나, 르 ⑤ 다, 르

6. 밑줄 친 '막부' 시기의 동아시아 문화에 대한 설명으로 옳지 않은 것은? [3점]

그들이 우리 나라에 와서 물건을 사고파니 막부는 나가사키의 데지마로 이주할 것을 지시하고 통역을 담당하는 통사(通詞)를 배치하였다. 이로써 말과 함께 뜻이 통하게 되었다. 나는 통사로부터 그들의 천문과 의술을 전달받아 배운 것이 적지 않았는데, 이 중에서 인체 해부에 관한 책을 골라 읽고 번역하였다.

- ① 한국 - 춘향가 등의 판소리가 유행하였다.
 ② 중국 - 주희가 사서집주를 저술하였다.
 ③ 중국 - 경극과 같은 공연 활동이 인기를 얻었다.
 ④ 일본 - 화려한 채색 목판화인 우키요에가 제작되었다.
 ⑤ 일본 - 노래와 춤, 연기로 구성된 가부키가 성행하였다.

7. 다음 가상 기행문의 밑줄 친 '나'에 대한 설명으로 옳은 것은?

나는 고국 신라를 떠나 당에서 계율을 받고 수행하였다. 불법을 구하기 위해 천축국으로 순례를 떠나 현장 스님이 오래전에 다녀가셨던 바라나시에 이르렀다. 이후 여러 불교 유적을 답사하고 북쪽으로 이동해 투카라에서 한동안 머물다가 파미르 고원을 넘어 당의 안서도호부가 있는 쿠차에 도달하였다.

- ① 대당서역기를 남겼다.
 ② 일본에 계율을 전해 주었다.
 ③ 왕오천축국전을 저술하였다.
 ④ 고구려에 불교를 전파하였다.
 ⑤ 입당구법순례행기를 저술하였다.

8. (가)에 대한 설명으로 가장 적절한 것은? [3점]

유학의 한 갈래인 (가)은/는 일본에 전해져 도쿠가와 이에야스 이래 역대 쇼군의 신뢰를 받았고, 라산(羅山) 때부터 하야시(林) 가문에서 학풍 유지 임무를 맡아 왔다. 그런데 최근에 이학(異學)이 유행하여 풍속을 해치고 있다. 이번에 유시마 성당에서 공부하고 있는 제자들을 엄중히 단속하라는 명령이 하달되었다. 그 취지에 따라 이학 공부를 금지하고 정학(正學) 연구에 힘쓰도록 하라.

- ① 심즉리와 치양지, 지행합일을 주장하였다.
 ② 자비와 인과응보, 윤회 사상을 강조하였다.
 ③ 고대로의 회귀를 강조하고 천황을 신성시하였다.
 ④ 형이상학적 학문 경향을 비판하고 고증을 중시하였다.
 ⑤ 이기론과 명분론을 바탕으로 사회 질서를 확립하고자 하였다.

9. 밑줄 친 '첫 번째 전쟁' 이후 동아시아에서 있었던 사실로 옳은 것은?



- ① 한국 - 무신 정권이 붕괴되었다.
 ② 중국 - 남송이 멸망하였다.
 ③ 일본 - 가마쿠라 막부가 수립되었다.
 ④ 베트남 - 대월사기가 편찬되었다.
 ⑤ 몽골 - 쿠빌라이가 국호를 원으로 바꾸었다.

10. (가)에 들어갈 내용으로 적절하지 않은 것은? [3점]

탐구 활동 계획서

1. 탐구 과제: 18세기 동아시아 각국의 도시와 상업

2. 탐구 목표: 동아시아 각국의 도시와 상업이 발달하는 과정을 이해할 수 있다.


3. 모듈별 탐구 활동

제1모듈: 양쯔 강 하류 일대에서 시진이라 불리는 상공업 도시가 번성한 모습을 조사한다.

제2모듈: (가)

- ① 광저우에서 공행이 활동하게 된 배경을 고찰한다.
 ② 오사카를 통해 전국으로 유통된 상품을 찾아본다.
 ③ 산킨코타이로 에도 주변의 도시가 번성한 모습을 살펴본다.
 ④ 송상, 만상, 내상이 상업 활동을 주도하게 된 과정을 알아본다.
 ⑤ 수도 카라코룸에서 재정 업무를 담당할 색목인을 조사한다.

11. 지도의 형세가 이루어진 시기의 (가) 지역에서 볼 수 있는 모습으로 적절한 것은?




- ① 교초를 사용하는 상인
- ② 한쪽을 다스리는 남면관
- ③ 동의보감을 공부하는 의사
- ④ 팔기병을 훈련시키는 장수
- ⑤ 행정과 감찰을 행하는 다루가치

12. (가) 왕조 시기의 동아시아 경제 상황으로 옳은 것은?

(가) 왕조의 수도 변경(카이펑)은 태평성대가 오래도록 지속되어, 땀기 머리를 한 어린 소년들은 한가로이 춤과 악기를 배웠고 반백이 다 된 어른들조차 전쟁을 알지 못했습니다. 그런데 하루아침에 금나라 오랑캐가 쳐들어와서 변경을 떠나 양쯔 강 남쪽에서 피란 생활을 하게 되었습니다.

- ① 한국 - 장시가 전국적으로 확산되었다.
- ② 중국 - 감합 무역을 통해 일본과 교류하였다.
- ③ 중국 - 은으로 납세하는 일조편법이 시행되었다.
- ④ 일본 - 신패를 발급해 해외 무역을 제한하였다.
- ⑤ 일본 - 귀족과 사원이 소유한 장원이 확대되었다.

13. (가) 무역이 전개된 시기의 동아시아 정세로 옳은 것을 <보기>에서 고른 것은? [3점]



(가) 무역은 유력 상인들이 일본 최고 권력자로부터 붉은 도장이 찍힌 도항 허가서를 발급받아 외국과 전개한 교역을 가리킨다. 유력 상인들은 그림과 같은 배를 타고 동남아시아 각지에 건너가 일본산 은을 중국산 생사, 약재, 비단 등과 거래하였다. (가) 무역은 막부가 일본인의 해외 도항을 금지하는 해금 조치를 강화하면서 중단되었다.

<보기>

- ㄱ. 조선 - 일본 상인들이 삼포의 난을 일으켰다.
- ㄴ. 명 - 류큐(유구)와의 책봉·조공 관계를 지속하였다.
- ㄷ. 일본 - 유럽과의 무역을 네덜란드로 제한하였다.
- ㄹ. 류큐(유구) - 사쓰마 번의 침공을 받았다.

- ① ㄱ, ㄴ ② ㄱ, ㄷ ③ ㄴ, ㄷ ④ ㄴ, ㄹ ⑤ ㄷ, ㄹ

14. 밑줄 친 '전쟁'에 대한 설명으로 옳은 것은? [3점]

오랑캐가 조선의 북쪽 변방을 침략하여 전쟁이 일어났다고 한다. 대마도주는 빨리 사신을 보내, 우리가 군대를 파견하여 구원하겠다는 뜻을 전하고 조선의 상황을 살펴보라.

- 『통감일람』 -

오랑캐가 형제의 맹약을 맺고 물러나 이미 전쟁이 끝났으니, 그대 나라는 번거롭게 군대를 보내지 말라. 그러나 대마도주가 무기를 보내 준 성의는 가상하니, 약간의 토산물을 주어 그 충성심에 답한다.

- 『조선왕조실록』 -

- ① 전연의 맹약으로 강화가 성립되었다.
- ② 북로남왜가 창궐하는 배경이 되었다.
- ③ 명이 참전하면서 국제전으로 확대되었다.
- ④ 청의 청제건원에 대한 반발이 원인이 되었다.
- ⑤ 가도에 주둔한 모문룡에 대한 지원이 벌미가 되었다.

15. (가)~(라) 도시에 대한 설명으로 옳은 것을 <보기>에서 고른 것은? [3점]

지도는 동아시아의 주요 개항장을 표시한 것입니다. (가)~(라)는 모두 불평등 조약으로 개항되었어요.



<보기>

- ㄱ. (가) - 조선의 조사 시찰단이 방문하였다.
- ㄴ. (나) - 영국인이 창간한 신보(申報)가 발행되었다.
- ㄷ. (다) - 한반도 최초의 철도가 부설되었다.
- ㄹ. (라) - 도쿄 대학이 설립되었다.

- ① ㄱ, ㄴ ② ㄱ, ㄷ ③ ㄴ, ㄷ ④ ㄴ, ㄹ ⑤ ㄷ, ㄹ

16. (가), (나) 조약이 체결된 시기 사이에 있었던 사실로 옳지 않은 것은?

- (가) 제1조 대일본국과 대청국은 더욱 화의를 돈독히 한다.
제8조 양국은 모두 영사관을 두고, 서로 영사 재판권을 승인한다.
- (나) 제1조 청국은 조선국이 완전무결한 자주독립국임을 확인한다.
제2조 청국은 랴오둥 반도 등을 일본에 할양한다.

- ① 갑신정변이 일어났다.
- ② 청·프 전쟁이 발발하였다.
- ③ 강화도 조약이 체결되었다.
- ④ 일본이 류큐(유구)를 병합하였다.
- ⑤ 러시아가 삼국 간섭을 주도하였다.

17. (가)에 들어갈 내용으로 가장 적절한 것은? [3점]

═══════ ═══════
 <동아시아사 소논문 구성 안>

1. 주제 :

2. 주요 활동 사례
 1) 조선 혁명군과 중국 의용군의 연합 작전 전개
 2) 한·중 민족 항일 대동맹의 결성

3. 관련 사료
 1) 조선 혁명군이 압록강을 건너 한국 본토 작전을 전개할 때 중국군은 온 힘을 기울여 한국 독립 전쟁을 원조해야 한다. (「조선 혁명군과 라오닝 민족 자위군 사이의 합작에 관한 협정」 제5항)

- ① 무정부주의자들의 반전 평화 운동
- ② 일제의 침략에 맞선 항일 국제 연대
- ③ 국·공 합작을 통한 항일 연대의 결성
- ④ 반군벌·반제국주의를 위한 연대 투쟁
- ⑤ 일본의 동남아시아 침략과 대동아 공영권

18. 밑줄 친 '회의'에 대한 설명으로 옳은 것은?

제○○○○호 ○○○ 신문 1921년 ○○월 ○○일

**일본의 정예 부대도 '고요한 아침의 나라'에서
 자유를 향한 꿈을 꺾지 못하다**

제1차 세계 대전 이후 동아시아와 태평양에서 열강의 세력 관계를 규정하게 될 중요한 회의가 미국의 수도 워싱턴에서 열린다. 일본의 통치자들은 '대한민국 임시 정부'를 조롱하고 있지만, 한국인들은 임시 정부가 미래에 건설될 공화국의 중요한 토대가 될 것이라고 기대한다. 한국의 독립운동 지도자들은 각국 대표자들에게 한국이 일본의 지배로부터 벗어날 수 있도록 윌슨의 민족 자결주의 원칙을 적용시켜 줄 것을 촉구할 예정이다.

루이스 시볼트 특파원

- ① 국민 혁명군의 복별 단행을 결정하였다.
- ② 일본의 국제 연맹 탈퇴 문제를 논의하였다.
- ③ 중국에서 5·4 운동이 일어나는 원인이 되었다.
- ④ 일본의 산둥 반도 권익 반환과 군비 축소를 결정하였다.
- ⑤ 조선 총독부의 지배 방식이 '문화 통치'로 바뀌는 배경이 되었다.

19. 다음 의견서가 제출되었을 당시의 동아시아 상황에 대한 설명으로 옳은 것은?

루산 회의에 제출된 의견서

미국 생산량에 관한 통계 수치가 과대하게 보고되자, 이제 공업 발전에만 전력을 기울이면 된다는 기본에 사로잡혀 있다. 철강업을 발전시킨다는 사고방식에도 중대한 오류가 발견된다. 농업집단화의 급진적 추진도 민중의 저항에 직면했다. 정책의 목표는 자꾸 올라가 수십 년이 걸리는 일들이 1년 만에 달성해야 하는 목표치가 되고 말았다. 요컨대 우리가 작년부터 추진해 온 운동이 균형을 잃어가고 있다.

- 평터화이 -

- ① 한국 - 미국의 경제 원조가 시작되었다.
- ② 북한 - 외국 자본을 유치하기 위한 합영법이 실시되었다.
- ③ 중국 - 인민공사가 해체되고 가족농업으로 전환되었다.
- ④ 일본 - 정부 주도의 경제 정책 하에 고도성장이 이루어졌다.
- ⑤ 베트남 - 남부에서 농업의 집단 농장화가 단행되었다.

20. (가) 조약에 대한 설명으로 옳은 것은? [3점]

Q A 동아시아사 질의 토론폰방

Q 조약에 대해 알려주세요.

↳ A 제2차 세계 대전의 전후 처리를 위한 회의의 결과로 체결되었어요. 이 조약으로 패전국이었던 일본은 주권을 회복하고 국제 사회에 복귀할 수 있었어요.

↳ A 하지만 일본의 침략으로 큰 피해를 입은 중국과 한국 등은 회의에 참여하지 못했고, 소련은 서명을 거부했죠.

↳ A 일본의 전쟁 책임과 식민 지배에 대한 사죄나 배상 문제도 제대로 처리되지 않았어요.

- ① 6·25 전쟁 기간 중에 체결되었다.
- ② 베트남에서 미군이 철수하는 계기가 되었다.
- ③ 미국과 일본의 군사 동맹 관계를 규정하였다.
- ④ 일본이 한국을 한반도의 유일한 합법 정부로 확인하였다.
- ⑤ 극동 국제 군사 재판(도쿄 재판)이 열리는 근거가 되었다.

* 확인 사항
 ○ 답안지의 해당란에 필요한 내용을 정확히 기입(표기)했는지 확인하십시오.


제 4 교시

사회탐구 영역(세계사)

성명 수험 번호

1. 다음 유물을 남긴 문명에 대한 설명으로 옳은 것은?

최고 심판관 역할을 하는 오시리스가 죽은 사람의 운명을 결정하고 있다.




<사자의 서>

- ① 피라미드를 축조하였다.
- ② 지구라트라는 신전을 세웠다.
- ③ 황허 강 유역에서 발달하였다.
- ④ 모헨조다로와 하라파를 건설하였다.
- ⑤ 철기를 사용한 도리스 인의 남하로 파괴되었다.

2. 밑줄 친 '나라' 에서 볼 수 있었던 모습으로 적절한 것은? [3점]

나라는 파괴되었어도 산하는 그대로요
장안성에 봄이 오니 초목이 무성하네
시대를 슬퍼하여 꽃도 눈물 흘리고
한 맺힌 이별에 나는 새도 놀라는구나
봉황불은 석 달이나 계속 오르고
집에서 온 편지 너무나 소중하여랏
흰머리 굵으니 자꾸 짧아져
이제는 비너도 꽃지 못하겠네

- 두보, 「춘망」 -



- ① 옥수수를 먹는 행인
- ② 홍루몽을 읽고 있는 관리
- ③ 조로아스터교 사원에 가는 신도
- ④ 선교 활동을 펼치는 예수회 신부
- ⑤ 회관에서 물품을 정리하는 산시 상인

3. (가) 왕조에 대한 설명으로 옳은 것은?

제 환공은 (가)의 왕을 섬기고 오랑캐를 물리친다는 명분을 내세우면서 융적을 격파하였고, 초의 복진을 저지하면서 패자로서의 지위를 굳혔다. 이후 제후들이 규구(葵丘) 지역에 모여 맹약을 맺고 이를 확인하였다.

- ① 돌궐을 복속시켰다.
- ② 금의 침입을 받아 멸망하였다.
- ③ 베트남 북부까지 영토를 확장하였다.
- ④ 호경에서 낙읍(뤄양)으로 천도하였다.
- ⑤ 화북과 강남을 잇는 대운하를 건설하였다.

4. (가) 인물에 대한 설명으로 옳은 것은? [3점]

그림은 (가)이가 밀비우스 다리에서 막센티우스와 싸우는 장면입니다. 십자가가 보이고 하늘에서 천사들이 그를 돕고 있습니다. 전투에서 승리한 다음 해에 (가)은/는 크리스티교를 공인하였습니다.



- ① 카르타고를 제압하였다.
- ② 호민관 제도를 도입하였다.
- ③ 악티움 해전에서 승리하였다.
- ④ 크리스티교를 국교로 삼았다.
- ⑤ 콘스탄티노폴리스를 건설하였다.

5. (가)에 대한 설명으로 옳은 것은?

게르만족의 분파인 (가)은/는 '북부 사람'이라는 뜻을 지니고 있으며 바이킹이라 불리기도 하였다. 원래 스칸디나비아 지방에 거주하고 있었는데, 일찍부터 조선술 및 항해술을 발전시켜 바다를 거침없이 누볐다. 9세기에는 남쪽으로 내려오면서 유럽을 혼란에 빠뜨렸다.

- ① 키예프 공국을 멸망시켰다.
- ② 잉글랜드에 왕조를 개창하였다.
- ③ 정복지에 알렉산드리아를 건설하였다.
- ④ 델로스 동맹을 통해 해상 제국으로 발전하였다.
- ⑤ 둔전병제와 군관구제를 통해 군사력을 강화하였다.

6. (가), (나) 왕조에 대한 설명으로 옳은 것은?

(가)의 서북쪽에 있던 탕구트족이 (나)을/를 세우고 황제라 칭하였다. 이 문제로 양국이 대립하면서 삼천구 전투, 호수천 전투 등을 벌인 끝에 화의를 맺었다. 주요 내용은 (나)이/가 신하의 예를 취하는 대신 (가)은/는 매년 은, 비단, 차를 주고 국경에서 교역을 허용한다는 것이었다.

- ① (가) - 난징에서 베이징으로 천도하였다.
- ② (가) - 부국강병을 위해 신법을 실시하였다.
- ③ (나) - 군기처를 설치하여 황제권을 강화하였다.
- ④ (나) - 인재 선발을 위해 9품중정제를 실시하였다.
- ⑤ (나) - (가)의 수도를 함락하고 화북 지역을 차지하였다.

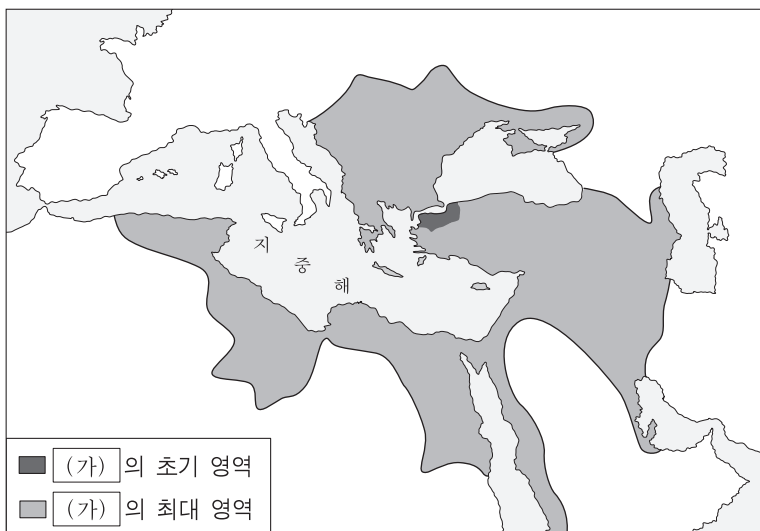
7. (가) 왕조에서 있었던 사실로 옳은 것은? [3점]

(가)에 선정이 없었던 것은 태조가 재상(승상)을 폐지한 데에서 비롯되었다. ...**(중략)**... 어떤 사람이 말하길, 후대에 내각에 들어가 일을 맡는 사람은 재상이라 불리지 않았지만 재상과 같은 실권을 가지고 있었다고 한다. 그러나 그렇지 않다. 내각에 들어가 일을 맡는 자는 그 직무가 천자의 답변을 작성하는 데 있었으니, 일개 서기와도 같은 것이다.

- 황중희 -

- ① 본초강목이 간행되었다.
- ② 사고전서가 편찬되었다.
- ③ 잡극 서상기가 출현하였다.
- ④ 장택단이 청명상하도를 그렸다.
- ⑤ 카스티리오네가 서양식 화법을 소개하였다.

8. (가) 왕조에 대한 설명으로 옳은 것은? [3점]



- ① 우마이야 왕조를 무너뜨렸다.
- ② 제4차 십자군의 공격을 받았다.
- ③ 사산 왕조 페르시아를 멸망시켰다.
- ④ 이집트의 맘루크 왕조를 정복하였다.
- ⑤ 북아프리카의 반달 왕국을 점령하였다.

9. (가) 국가에 대한 설명으로 옳은 것은?

베네치아 신문 제○○호 ○○○○년 ○월 ○○일

향신료 무역에 먹구름

(가)의 마누엘 국왕으로부터 지원을 받은 바스쿠 다 가마는 아프리카 희망봉을 돌아 인도의 캘리컷까지 도착하였다. 이는 새로운 인도 항로를 개척한 것으로 우리와 이슬람 상인이 장악하고 있던 향신료 무역에 타격을 줄 것으로 예상된다.

바스쿠 다 가마

- ① 고아와 플라카에 무역 거점을 마련하였다.
- ② 콜베르를 등용하여 해외 시장을 개척하였다.
- ③ 유럽 국가 중 서인도 제도를 최초로 발견하였다.
- ④ 무적함대를 격파하고 대서양 무역을 주도하였다.
- ⑤ 스웨덴과 북방 전쟁을 통해 발트해로 진출하였다.

10. 밑줄 친 ㉠에서 볼 수 있는 인물로 가장 적절한 것은? [3점]

○○○에게

지금 파리는 이성과 진보, 관용의 가치를 논하는 수많은 모임들로 넘친다네. 이러한 모임을 운영하는 사람들은 지적이고 재능있는 학자, 예술가, 문인들을 초대한다네. 자네도 “백과전서” 만드는 디드로를 알지 않나? 나는 요즘 그 친구와 함께 ㉠조프랭 부인이 개최하는 모임에 자주 간다네. 그곳에서

새롭고 유익한 지식을 많이 얻고 있다네. 기회가 되면 함께 가 보세.

△△△가

- ① 합리론을 펼친 데카르트
- ② 사회 계약설을 제시한 홉스
- ③ 지동설을 수정·보완한 케플러
- ④ 교회의 부패를 풍자한 에라스무스
- ⑤ 삼권 분립의 원칙을 주장한 몽테스키외

11. 밑줄 친 '당시 정부'에 대한 설명으로 옳은 것은?

선거권 제한 정책으로 대표되는 기조(F. Guizot)의 보수적 정책은 중간 계급의 불만을 샀다. 그리고 산업화의 여파로 숫자가 늘고 있던 노동자들은 경제 위기 탓에 생활이 더욱 곤궁해졌다. 이런 상황에서 평화적 시위로 계획된 집회가 금지되자, 노동자를 비롯한 파리의 중하층 시민들은 거리로 나왔다. 당시 정부는 시위대에 발포하였고, 그들은 바리케이드를 치며 이에 맞섰다.

- ① 대륙 봉쇄령을 내렸다.
- ② 7월 혁명을 통해 수립되었다.
- ③ 대통령 중심의 공화정이었다.
- ④ 데카브리스트의 봉기를 진압하였다.
- ⑤ 프로이센 군대의 개입으로 붕괴되었다.

12. 다음 헌법이 반포될 당시 목격할 수 있었던 광경으로 적절한 것은?

북독일 연방을 대표한 프로이센 왕, 그리고 바이에른 왕, 뷔르템베르크 왕, 바덴 대공, 헤센 및 라인 대공은 영토 수호와 독일 민족의 권리 보호 및 복지 증진을 위해 앞으로 영구히 이어질 연방을 결성한다. 이 연방은 '독일 제국'이라는 이름으로, 다음의 헌법을 가진다.
 …(중략)…
 제11조 연방 정부는 프로이센 왕에 속하고 그는 연방 정부를 독일 황제의 이름으로 통솔한다. 황제는 독일 제국을 대외적으로 대표한다.

- ① 프랑스 삼부회에 출석하는 파리 시민
- ② 미국 남북 전쟁에 참전하는 흑인 노예
- ③ 영국 총선 투표를 하는 맨체스터 여성 노동자
- ④ 이탈리아 왕국 군대에 입대하는 사르데냐 농민
- ⑤ 알렉산드르 2세에게 농노 해방을 요구하는 러시아 지식인

13. (가), (나) 조약 사이 시기에 있었던 사실로 옳은 것은? [3점]

발표 주제: 청의 개혁과 조약 체제

청이 체결한 불평등 조약에 대해 발표해 보세요.

청은 (가) 조약을 체결하여 외국의 공사가 베이징에 주재하는 것을 허용했어요.

(나) 조약에서는 심지어 외국의 군대가 베이징에 주둔하는 것까지 허용하게 됐어요.

- ① 애로호 사건이 발생하였다.
- ② 포츠머스 조약이 체결되었다.
- ③ 타이완이 일본에 할양되었다.
- ④ 상하이 등 5개 항구를 개항하였다.
- ⑤ 일본이 중국에 '21개조 요구'를 강요하였다.

14. 밑줄 친 '여러 정책'에 해당하는 내용으로 옳지 않은 것은?

[3점]

<수행 평가 보고서>

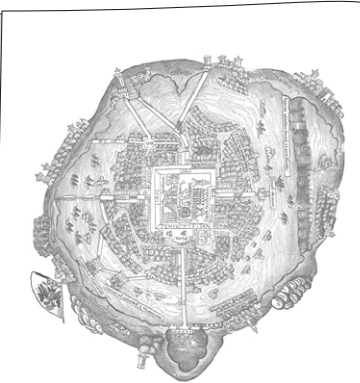
제목: 일본의 근대화 와 ○○○ ○○

3학년 1반 △△△

개항 이후에 일본은 국내외적으로 혼란한 상황에 처해 있었다. 이때 사쓰마 번과 조슈 번 등의 하급 무사들이 중심이 되어 존왕양이 운동을 전개해 나갔는데, 급기야 막부를 무너뜨리고 천황을 중심으로 하는 정부를 수립하였다. 이 신생 정부는 서구의 근대 국가를 본보기로 설정하고 여러 정책을 추진하였다.

- ① 징병제를 도입하였다.
- ② 이와쿠라 사절단을 파견하였다.
- ③ 번을 폐지하고 현을 설치하였다.
- ④ 미·일 수호 통상 조약을 체결하였다.
- ⑤ 에도의 이름을 도쿄로 고쳐 수도로 삼았다.

15. 밑줄 친 '이 나라'에 대한 설명으로 옳은 것은?



▲ 테노치티틀란의 모습

아스테카 문명의 수도 테노치티틀란의 중심부에는 신관이 의식을 치르는 특별 구역이 있고 도시를 가로지르는 수로와 운하도 있었다. 16세기에 이곳으로 진출한 에스파냐 인들은 이 도시가 콘스탄티노폴리스보다 화려하고 장대하다고 생각하였다. 에스파냐 인들에 의해 파괴된 이 도시 위에 오늘날 이 나라의 수도가 세워졌다.

- ① 소련의 미사일 기지가 설치되었다.
- ② 산마르틴이 독립 운동을 주도하였다.
- ③ 북미 자유 무역 협정(NAFTA)에 참여하였다.
- ④ 미국·에스파냐 전쟁의 결과 미국의 식민지가 되었다.
- ⑤ 프랑스 혁명에 자극을 받은 노예들이 공화국을 수립하였다.

16. (가)에 대한 설명으로 옳은 것은?

무굴 제국은 지방 세력들의 저항과 이탈이 겹치면서 쇠퇴하기 시작하였다. 이런 가운데 (가)은/는 영국 여왕으로부터 동인도 무역을 독점하는 특허장을 부여받고 인도로 진출하였다. (가)은/는 인도인 용병을 고용하였고, 힌두교도와 이슬람교도의 반목을 이용하여 이권을 늘려 나갔다.

- ① 롤릿법의 시행에 앞장섰다.
- ② 스와데시 운동을 탄압하였다.
- ③ 인도 국민 회의 결성을 지원하였다.
- ④ 벵골 지방에 대한 징세권을 확보하였다.
- ⑤ 인도 통치 개선법으로 기능이 확대되었다.

17. (가)에 들어갈 내용으로 적절한 것은? [3점]

탐구 활동 계획서

- 탐구 주제
 - 제2차 세계 대전의 기원을 1930년대 국제 정세를 통해 찾아보기
- 탐구 활동
 1. 독일의 국제 연맹 탈퇴 과정을 조사한다.
 2. 에스파냐 내전의 영향을 알아본다.
 3. (가)
 4. 독·소 불가침 조약 체결 배경을 파악한다.

- ① 알타 회담의 목적을 조사한다.
- ② 방공 협정의 내용을 정리한다.
- ③ 러시아 내전의 경과를 알아본다.
- ④ 벨푸어 선언의 배경을 분석한다.
- ⑤ 로카르노 조약의 체결 과정을 파악한다.

18. 교사의 질문에 대한 학생의 답변으로 적절한 것은?


<OOO 운하 건설과 항로 단축>

(단위: 해리)

런던	10,667	→	몰바이 (몰베이)
런던	6,274	→	몰바이 (몰베이)
런던	11,900	→	콜카타 (캘커타)
런던	8,083	→	콜카타 (캘커타)

□ 희망봉 경유 ■ 운하 경유

자료의 운하 건설은 재정 확보를 위해 이 나라가 프랑스의 도움을 받아 실시한 사업입니다. 이 나라에서 추진된 근대적 개혁에 대해 말해 볼까요?



- ① 탄지마트가 실시되었습니다.
- ② 메넬리크 2세가 철도를 건설하였습니다.
- ③ 라마 5세가 행정 제도를 개혁하였습니다.
- ④ 판보이찌우가 동유 운동을 전개하였습니다.
- ⑤ 무함마드 알리가 산업 진흥 정책을 시행하였습니다.

19. 밑줄 친 ㉠이 시행된 시기에 있었던 사실로 옳은 것은? [3점]

마오쩌둥이 사망한 뒤 정권을 잡은 그는 '흑묘백묘론'을 내세우면서 다음과 같이 말하였다. "시장을 말하면 자본주의고, 계획을 말하면 사회주의가 되는가? 계획과 시장은 모두 하나의 방법에 불과한 것이다. 단지 경제 발전에 유익하다면, 어느 것이든 이용할 수 있는 것이다." 이러한 논리에 근거하여 그는 ㉠개혁 개방 정책을 추진하였다.

- ① 만주 사변이 발발하였다.
- ② 중국 동맹회가 결성되었다.
- ③ 중화 인민 공화국이 수립되었다.
- ④ 중국 공산당이 대장정을 단행하였다.
- ⑤ 정치 민주화를 요구하는 톈안먼 사건이 일어났다.

20. (가) 국가의 대외 정책으로 옳은 것은? [3점]

헝가리 사람들은 이 날을 잊지 못할 것이다. 추위와 안개에도 불구하고 학생들은 이른 아침부터 거리로 나와 행진하며 노래를 불렀다. ... (중략) ... 공산주의자들이 정권을 장악한 지 10년이 지났다. 그 치하에서는 허용되지 않았던 감정을 자유롭게 표출하고자 하였다. 학생들은 "바르샤바 조약 기구에 우리를 묶어 두려는 (가)은/는 물러가라! 헝가리를 독립적으로 놔둬라! 스탈린 추종자 라코시를 법정에 세워라! 우리는 새로운 지도부를 원한다!" 라고 외쳤다.

- ① 코민포름을 조직하였다.
- ② 반동 회의에 참여하였다.
- ③ 마셜 계획을 추진하였다.
- ④ 닉슨 독트린을 발표하였다.
- ⑤ 유럽 연합(EU) 결성을 주도하였다.

* 확인 사항
○ 답안지의 해당란에 필요한 내용을 정확히 기입(표기)했는지 확인하십시오.

제 4 교시

사회탐구 영역(법과 정치)

성명		수험 번호							
----	--	-------	--	--	--	--	--	--	--

1. (가), (나)는 정치를 보는 관점이다. 이에 대한 옳은 설명을 <보기>에서 고른 것은?

(가) 정치권력을 획득하고 유지하며 행사하는 것은 국가의 고유한 기능이다. 정치는 물리적 강제력을 독점한 국가가 사회적 갈등을 해결하고 질서를 유지하는 과정에서 나타나는 현상이다.
 (나) 다양한 집단에서 나타나는 이해관계의 대립과 갈등을 조정하고 해결해 가는 과정이 정치이다. 정치는 국가를 포함한 모든 사회 집단에서 권력을 형성하고 배분하며 행사하는 것과 관련된 현상이다.

— <보기> —
 가. (가)는 (나)보다 정치를 넓은 의미로 이해한다.
 나. (가)는 (나)보다 공동의 문제를 해결하는 과정에 참여하는 주체가 다양하다고 본다.
 다. (나)는 (가)와 달리 아파트 쓰레기 처리 문제를 해결하기 위해 주민 회의를 하는 것을 정치라고 본다.
 르. (가), (나) 모두 국무 회의에서 주요 정책을 심의하는 것을 정치라고 본다.

- ① 가, 나 ② 가, 다 ③ 나, 다 ④ 나, 르 ⑤ 다, 르

2. (가), (나)는 근대 시민 혁명과 관련된 주요 문서의 일부이다. 이에 대한 옳은 설명만을 <보기>에서 있는 대로 고른 것은? [3점]

(가)	(나)
제1조 국왕이 의회의 동의 없이 왕권으로 법의 효력을 정지하거나 법의 집행을 정지할 수 있다는 주장은 위법이다. …(중략)… 제5조 국왕에게 청원하는 것은 국민의 권리이므로 그러한 청원을 했다는 이유로 구금하거나 박해하는 것은 위법이다.	제2조 모든 정치적 결사의 목적은 자유, 재산, 안전, 압제에 대한 저항 등 인간의 천부적이며 양도할 수 없는 권리를 보존하는 데 있다. 제3조 모든 주권의 근원은 국민에게 있다. 어떤 단체나 개인도 국민으로부터 유래하지 않은 권한을 행사할 수 없다.

— <보기> —
 가. (가)는 입헌 정치의 기틀이 마련되는 데 기여하였다.
 나. (나)는 국민 주권의 원리를 강조하고 있다.
 다. (가), (나) 모두 계몽사상의 영향을 받았다.
 르. (가), (나)에 의해 보통 선거, 평등 선거 원칙이 확립되었다.

- ① 가, 나 ② 가, 르 ③ 다, 르
 ④ 가, 나, 다 ⑤ 나, 다, 르

3. 법치주의를 바라보는 갑, 을의 관점에 대한 설명으로 옳은 것은?

의회가 적법한 절차를 거쳐 제정한 법에 의해 행정과 재판이 이루어진다면 법의 목적이나 내용과 관계없이 행정과 재판의 효력이 인정됩니다.

공권력의 행사는 법에 근거해야 하고, 그 법의 내용은 인간의 존엄성과 정의에 부합되어야 합니다.

- ① 갑의 관점은 통치의 형식적 합법성보다 실질적 정당성을 중시한다.
 ② 을의 관점은 기본권 제한의 법적 근거가 있더라도 국민의 자유와 권리의 본질적 내용을 침해할 수 없다고 본다.
 ③ 현대 사회로 오면서 을보다 갑의 관점이 강조되고 있다.
 ④ 갑의 관점은 을의 관점과 달리 통치 권력의 자의적 행사 방식을 중시한다.
 ⑤ 을의 관점은 갑의 관점과 달리 독재를 정당화하는 근거로 악용되기도 한다.

4. A, B는 공정한 선거를 위한 제도이다. 이에 대한 옳은 설명을 <보기>에서 고른 것은? [3점]

○ A는 선거구를 법률로 확정함으로써 선거구가 특정 정당이나 인물에 유리하도록 정해지는 것을 방지하기 위한 제도이다.
 ○ B는 국가가 선거 과정을 관리하고 선거 비용의 일부를 중앙 정부 또는 지방 자치 단체에서 부담하게 하는 제도이다.

— <보기> —
 가. A는 선거 비용의 집행·결산을 공적으로 관리하기 위한 제도이다.
 나. A는 선거구별 선거인 수의 차이를 일정 비율 이내로 조정하여 선거구를 확정하는 것을 필요로 한다.
 다. B는 직접 선거, 비밀 선거 원칙을 실현하기 위한 제도이다.
 르. B는 입후보의 기회 보장 및 후보자 간 선거 운동의 기회 균등을 주된 목표로 삼고 있다.

- ① 가, 나 ② 가, 다 ③ 나, 다 ④ 나, 르 ⑤ 다, 르

5. 다음 자료에 대한 설명으로 옳지 않은 것은?

정당은 정치적 견해를 같이하는 사람들이 (가)을/를 주된 목적으로 조직한 단체이다. 정당은 대중 집회, 공청회 등을 통해 공동체 문제에 대한 ㉠국민의 관심을 환기하고, 유권자의 ㉡다양한 이해관계를 집약·표출한다. 또한 정당은 선거에서 ㉢정치적 충원을 통해 지지를 획득함으로써 국민의 대표자를 배출한다. 정당은 ㉣정부와 의회 사이를 매개하는 기능을 하거나 ㉤정부에 대한 비판 및 견제 기능을 수행한다.

- ① (가)는 이익 집단과 구별되는 정당의 특징이다.
 ② 정당은 ㉠과 같은 활동을 통해 정치 사회화 기능을 수행한다.
 ③ ㉡은 정당의 여론 형성과 조직화 기능에 해당한다.
 ④ 정당은 후보자 공천을 통해 ㉢의 기능을 수행한다.
 ⑤ 국정 조사 요구는 ㉤보다 ㉣의 성격이 강하다.

6. 다음 자료에 대한 분석 및 추론으로 가장 적절한 것은? [3점]

갑국은 전형적인 정부 형태를 취하고 있으며, 의회 총 의석수는 200석이다. (가)~(나) 시기 동안 정부 형태와 총 의석수의 변화는 없다. 선거 결과는 아래 표와 같다.

구분	(가) 시기	(나) 시기
행정부 수반의 소속 정당	A당	B당
A당 의석수(석)	115	⑦
B당 의석수(석)	80	90

- ① ⑦이 110이면 갑국의 정부 형태는 의원 내각제이다.
- ② 갑국의 정부 형태가 의원 내각제이고 ⑦이 90이면, 연립 내각 구성 가능성은 (가) 시기보다 (나) 시기에 높을 것이다.
- ③ 갑국의 정부 형태가 대통령제이고 ⑦이 95이면, 의회와 행정부의 대립 가능성은 (가) 시기보다 (나) 시기에 낮을 것이다.
- ④ 갑국의 정부 형태가 의원 내각제이고 ⑦이 90이면, 내각 불신임, 의회 해산의 가능성은 (나) 시기보다 (가) 시기에 높을 것이다.
- ⑤ 갑국의 정부 형태가 대통령제이고 ⑦이 110이면, 행정부 정책 추진을 위한 법률 제·개정은 (가) 시기보다 (나) 시기에 용이할 것이다.

7. 기본권 A, B에 대한 설명으로 옳은 것은? [3점]

법률 상담 게시판

갑 2016년 00월 00일

저는 방학 중에 ◇◇ 회사에서 아르바이트를 했지만 최저 임금에 못 미치는 급여를 받았습니다. ... (후략)...

↳ 변호사 기본권 A를 보장하기 위한 최저 임금법에 따라 구제 받을 수 있습니다.

을 2016년 00월 00일

집에 가던 중 뺑소니 차량으로부터 큰 상해를 입었지만 범인을 알 수 없어 피해를 배상받지 못하고 있습니다. ... (후략)...

↳ 변호사 국가에 대해 구조를 요청하는 기본권 B를 행사할 수 있습니다.

- ① A는 국가 권력의 간섭이나 침해받지 않을 '국가로부터의 자유'에 해당한다.
- ② A와 같은 기본권의 유형에는 국가 및 공공 단체의 구성원으로 직무를 담당할 수 있는 권리가 포함된다.
- ③ B는 다른 기본권 보장의 전제 조건으로 포괄적 성격을 가진다.
- ④ B와 같은 기본권의 유형에는 국가 기관에 문서로 자신의 요구와 의견을 진술할 수 있는 권리가 포함된다.
- ⑤ A와 B는 모두 권리이자 의무의 성격을 동시에 가진다.

8. 다음 대화에서 갑, 을의 의견에 대한 추론으로 가장 적절한 것은?

이번 선거에서 투표율이 이전 선거보다 크게 높아졌는데, 그 원인이 어디에 있다고 보십니까?

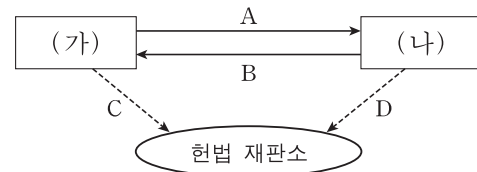
저는 집권당이 시행한 정책에 대한 유권자의 부정적 인식이 높은 투표 참여로 나타났기 때문이라고 생각합니다.

저는 그렇게 생각하지 않습니다. 정당들의 공약이 매우 차별적으로 제시되어 유권자들이 자신이 지지하는 정책을 제시한 정당에 투표할 이유가 분명해졌기 때문입니다.

사회자 갑 을

- ① 갑은 선거가 기존 정책에 대한 평가의 성격을 가진다고 본다.
- ② 을은 투표율과 정당 간 정책 차별성 사이의 상관성이 낮다고 본다.
- ③ 갑은 을과 달리 선거가 국민 의사를 집약하는 기능을 한다고 본다.
- ④ 을은 갑과 달리 선거가 정당에 대한 통제적 성격을 가진다고 본다.
- ⑤ 갑, 을 모두 정당 간 경쟁이 국민의 주권 의식을 높이는 데 부정적 영향을 미친다고 본다.

9. 그림은 우리나라 국가 기관 간의 관계를 나타낸 것이다. 이에 대한 설명으로 옳은 것은? (단, (가), (나)는 각각 국회, 정부 중 하나이다.) [3점]



* A와 B는 국가 기관 간의 견제 방향, C와 D는 헌법 재판의 청구 방향을 나타냄.

- ① A가 '국정 감사·조사권'이면, B는 '예산안 심의·확정권'이 될 수 있다.
- ② B가 '국무총리 해임 건의권'이면, A는 '국무위원 임명 제청권'이 될 수 있다.
- ③ B가 '법률안 거부권'이면, C는 '탄핵 소추권'이 될 수 있다.
- ④ D가 '정당 해산 심판 제소권'이면, (가)는 '선전 포고·강화권'을 가진다.
- ⑤ B가 '대법원장 임명 동의권'이면, (나)는 '국가 중요 정책에 대한 국민 투표 부의권'을 가진다.

10. 다음 대화에 나타난 우리 헌법의 기본 원리 (가)에 대한 설명으로 옳은 것은?

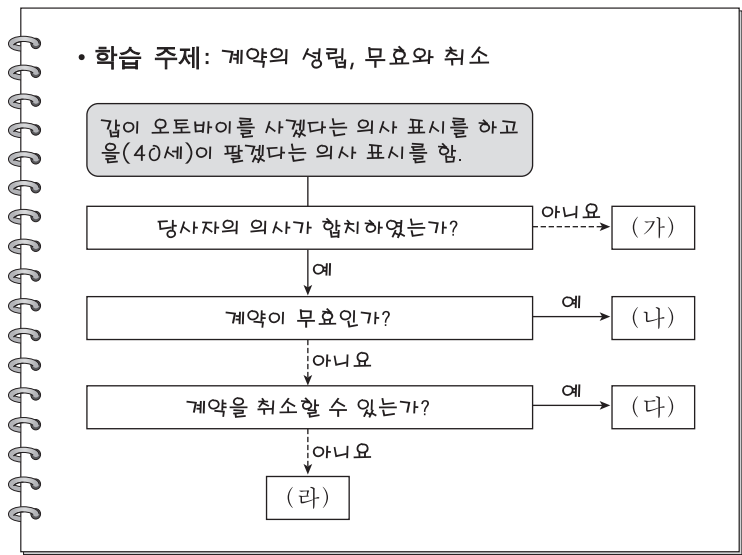
00부에서는 (가)의 실현을 위해 어떤 정책을 추진하고 있습니까?

우리 부에서는 (가)을/를 실현하기 위해 고령화 사회의 대책으로 기초 연금, 노인 돌봄 종합 서비스, 공공 보건 시설 확충 등의 정책을 추진하고 있습니다.

00부장관 00부장관

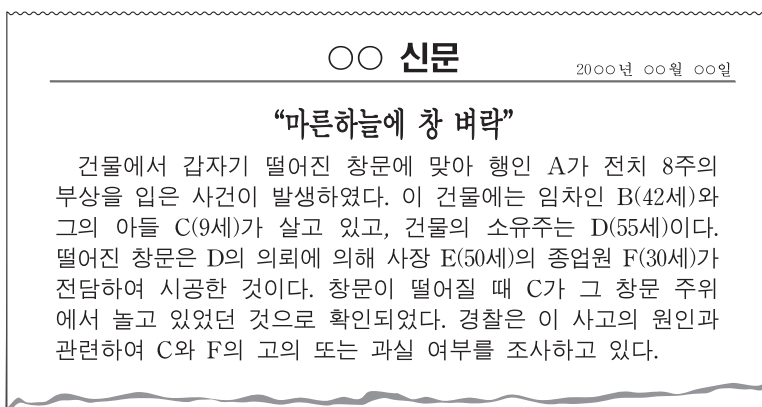
- ① (가)는 사유 재산권의 절대성을 강조한다.
- ② (가)는 근대 입헌주의의 국가에서부터 강조되었다.
- ③ 국제 평화 유지군 활동에 대한 지원은 (가)를 실현하기 위한 것이다.
- ④ (가)는 국가가 시민의 자율적인 문화생활을 진흥하되 지나치게 간섭할 수 없다는 원리이다.
- ⑤ (가)에 따라 국가는 적정한 소득의 분배를 유지하기 위하여 경제에 관한 규제와 조정을 할 수 있다.

11. 다음 자료에 대한 법적 판단으로 옳은 것은? [3점]



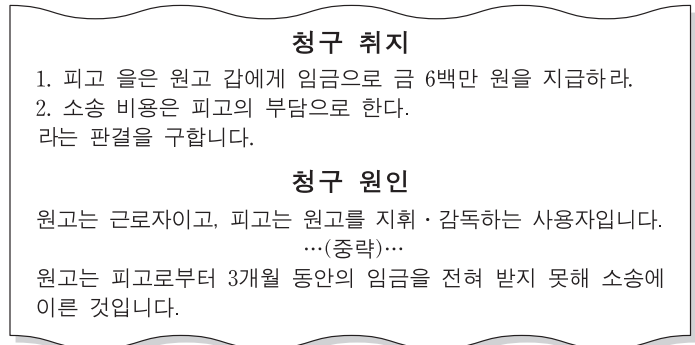
- ① 20세의 갑이 매매 계약서를 작성하지 않고 오토바이를 할부로 구입한 경우는 (가)에 해당한다.
- ② 25세의 갑이 오토바이를 100만 원에 산다고 통지하였는데 을이 150만 원에 판다고 통지한 경우는 (나)에 해당한다.
- ③ 17세의 갑이 법정 대리인의 동의를 받아 매장에서 오토바이를 정가에 구입한 경우는 (다)에 해당한다.
- ④ 40세의 갑이 만취하여 의식 불명 상태에서 을이 제시한 오토바이 매매 계약서에 서명한 경우는 (라)에 해당한다.
- ⑤ (나)의 경우와 (다)에서 취소된 경우 모두, 갑은 오토바이 매매 대금을 지급하지 않은 것에 대한 채무 불이행 책임을 지지 않는다.

12. 다음 자료에 대한 법적 판단으로 옳은 것은?



- ① C의 불법 행위 책임이 성립하지 않아도 B는 A에게 불법 행위 책임을 지는 경우가 있다.
- ② D는 A에게 불법 행위에 의한 손해 배상 책임을 지는 경우가 없다.
- ③ F에게 고의 또는 과실이 없어도 E는 A에게 불법 행위에 의한 손해 배상 책임을 진다.
- ④ F의 과실로 창문이 떨어진 경우 E는 B에게 채무 불이행에 의한 손해 배상 책임을 진다.
- ⑤ F의 과실로 창문이 떨어진 경우 E는 A 및 D에게 원상을 회복할 책임이 있다.

13. 다음은 갑이 법원에 제출한 소장 일부이다. 이에 대한 법적 판단으로 옳은 것은?



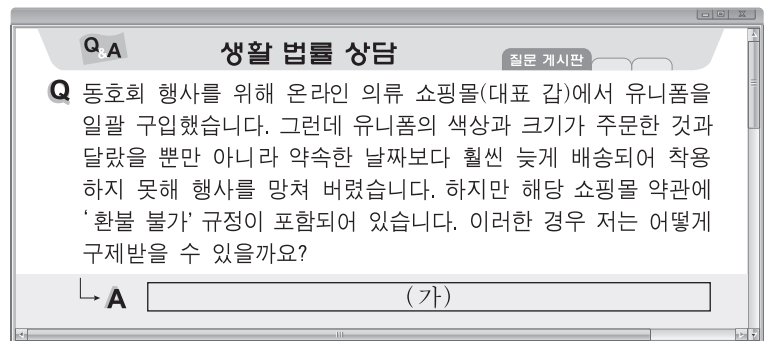
- ① 갑은 을에게 채무 불이행 책임을 묻고 있다.
- ② 갑은 을의 재산에 대하여 가압류 신청을 할 수 없다.
- ③ 갑은 내용 증명 우편을 보내야 소송을 제기할 수 있다.
- ④ 갑은 을의 부당 노동 행위에 대하여 소송을 제기하고 있다.
- ⑤ 갑은 근로 계약서에 공증을 받지 않았다면 소송을 제기할 수 없다.

14. 다음 사례에 대한 법적 판단으로 옳은 것은?

밤늦게 귀가하던 갑은 A(13세), B(14세), C(18세)로부터 무차별 폭행을 당했다. 경찰 조사 결과 A와 B는 갑을 폭행하는 데 깊이 가담하였지만, C는 한 차례 폭행 후 옆에서 망을 본 것에 불과하였다. 담당 검사는 A~C에 대한 불구속 수사 후 사건 처리를 고민하고 있다.

- ① 검사가 C를 기소할 경우, 갑과 C는 형사 재판의 당사자가 된다.
- ② 검사가 C를 기소할 경우, C는 형벌과 소년법상 보호 처분을 동시에 받을 수 있다.
- ③ 검사가 C에 대해 불기소 처분을 할 경우, C는 형사 보상을 청구할 수 있다.
- ④ A와 B의 행위는 구성 요건에 해당하는 위법한 행위이지만 책임이 조각되어 범죄가 성립하지 않는다.
- ⑤ A, C는 소년법상 보호 처분을, B는 형벌을 받을 수 있다.

15. 그림의 (가)에 들어갈 법적 조언으로 옳은 것은? [3점]



- ① 약관에 따라 환불을 요청할 수 없고 갑에게 손해 배상만 청구할 수 있습니다.
- ② 갑이 환불을 거절하더라도 소비자 분쟁 조정 신청을 통해 환불 받을 수 있습니다.
- ③ 유니폼을 착용하지 않았기 때문에 기간에 상관없이 계약을 철회할 수 있습니다.
- ④ 유니폼에 결함이 있었기 때문에 유니폼을 생산한 사람에게 제조물 책임을 물을 수 있습니다.
- ⑤ 소비자의 8대 권리를 명시한 '독점 규제 및 공정 거래에 관한 법률'에 의해 구제받을 수 있습니다.

16. 밑줄 친 ㉠에 해당하는 사례로 옳은 것은?

어떠한 행위가 범죄로 성립하려면 일단 구성 요건에 해당하여야 한다. 구성 요건은 위법한 행위의 일정한 유형을 규정해 놓은 것이다. 그러나 구성 요건 해당성이 인정되는 행위라도 전체 법질서로 보아 부정적인 가치 판단이 불가능하기 때문에 위법하다고 말할 수 없어 범죄가 성립하지 않는 ㉠ 경우가 존재한다.

- ① 아들의 수술비를 마련하기 위해 은행에서 현금을 탈취한 행위
- ② 친구의 초대를 받아 그 집에 놀러 가서 친구 아버지의 지갑을 훔친 행위
- ③ 퇴근길에 절도범이 물건을 훔쳐 도망가는 것을 발견하고 현장에서 절도범을 체포한 행위
- ④ 임대차 기간이 만료되었음에도 불구하고 집을 비워 주지 않은 임차인을 폭행하고 내쫓은 행위
- ⑤ 가족의 생명을 위협하는 협박범의 지시에 못 이겨 자신이 근무하는 회사의 생산 설비를 파손한 행위

17. 갑~병의 사례에 대한 법적 판단으로 옳은 것은? [3점]

- 갑이 사기 혐의로 불구속 상태에서 수사를 받고 있던 중, 검사가 구속 영장을 청구하였다.
- 을이 상해 혐의로 구속 상태에서 항소심 재판을 받고 있다.
- 병이 절도 혐의로 구속·기소되어 징역 1년에 집행 유예 2년의 확정 판결을 받았고, 그 후 1년이 경과되었다.

- ① 갑은 검사의 구속 영장 청구에 따라 구속 적부 심사를 받게 된다.
- ② 을은 항소심 재판 중 일정한 조건을 갖추면 가석방될 수 있다.
- ③ 을과 달리 갑은 형사 피의자이므로 변호인의 조력을 받을 권리를 갖지 않는다.
- ④ 병은 갑, 을과 달리 무죄 추정의 원칙이 적용되지 않는다.
- ⑤ 병은 앞으로 2년 동안 죄를 짓지 않아야 형 선고의 효력이 상실된다.

18. 다음 자료에 대한 옳은 설명을 <보기>에서 고른 것은?

일반적으로 두 나라 간 [가] 을/를 체결할 때는 먼저 헌법상의 체결권자로부터 위임받은 자가 내용에 관해 교섭하고 서명한다. 보통은 서명만으로 성립되지 않고 비준 절차를 거쳐야 국제법의 법원(法源)인 [가] 이/가 성립된다. 또한 국제 사회의 반복적 관행이 국제 사회의 법 규범으로 승인되어 효력을 가지게 되는 국제법의 법원인 [나] 도 존재한다.

—<보기>—

- ㄱ. 우리나라에서 (가)의 체결·비준권은 국회가 가진다.
- ㄴ. 국내 문제 불간섭은 (나)에 해당한다.
- ㄷ. (가), (나) 모두 국제 사법 재판소의 재판 준거가 된다.
- ㄹ. (가), (나) 모두 원칙적으로 문서 형식의 명시적 합의에 의해 성립된다.

- ① ㄱ, ㄴ ② ㄱ, ㄷ ③ ㄴ, ㄷ ④ ㄴ, ㄹ ⑤ ㄷ, ㄹ

19. 다음 자료에 대한 법적 판단으로 옳은 것은? [3점]

A는 B와 보증금 1억 3천만 원에 주택 임대차 계약을 체결하였다. B가 주택을 인도받아 전입신고를 할 때 이 주택의 등기 사항 전부 증명서(등기부 등본)는 다음과 같았다.

【갑 구】				
순위 번호	등기 목적	접 수	등기 원인	권리자 및 기타 사항
1	소유권 보존	2015년 4월 2일 제○○호		소유자 A (이하 생략)

【을 구】				
순위 번호	등기 목적	접 수	등기 원인	권리자 및 기타 사항
1	저당권 설정	2015년 6월 17일 제○○호	2015년 6월 16일 설정 계약	채권액 금 230,000,000원 채무자 A (이하 생략) 저당권자 C (이하 생략)

*B는 소액 임차인에 해당하지 않음.

- ① B가 확정 일자를 받으면 을구의 내용이 변경된다.
- ② 임대차 계약을 통해 B는 A뿐만 아니라 C와도 채권·채무 관계가 발생한다.
- ③ A가 C에게 채무를 이행하지 않을 경우 C가 주택의 소유권을 취득하게 된다.
- ④ B가 확정 일자를 받지 않을 경우 A가 임대차 계약 후 주택을 1년 만에 팔더라도 새로운 소유자에게 대항할 수 없다.
- ⑤ A가 C에게 빚을 전혀 갚지 않아 경매에서 주택이 2억 원에 매각되면 B는 확정 일자를 받았어도 매각 대금에서 보증금을 받지 못한다.

20. (가), (나)는 국제 사회를 바라보는 관점이다. 이에 대한 옳은 설명을 <보기>에서 고른 것은? [3점]

(가) 국제 사회는 군사력과 같은 힘에 의해 주도되며, 각국은 자국의 이익만을 추구하여 계산적으로 움직이므로 양보를 기대하는 것은 불가능하다.
(나) 국제 사회는 보편적인 가치나 질서에 의해 유지되며, 각 국가들은 국가 간 합의를 통해 평화적이고 협력적인 국제 사회를 건설할 수 있다.

—<보기>—

- ㄱ. (가)는 자국의 안보를 스스로 책임져야 한다고 강조한다.
- ㄴ. (나)는 국제 사회에서 국가 간의 상호 의존 관계를 중요하게 여긴다.
- ㄷ. (가)는 (나)와 달리 모든 국가가 국제 규범에 따라 행동하고 국제기구를 통해 협력하면 침략 전쟁을 방지할 수 있다고 본다.
- ㄹ. (나)는 (가)와 달리 국제 사회를 무정부 상태로 간주하여 국가 간 갈등에 대한 권위적 해결이 어렵다고 본다.

- ① ㄱ, ㄴ ② ㄱ, ㄷ ③ ㄴ, ㄷ ④ ㄴ, ㄹ ⑤ ㄷ, ㄹ

* 확인 사항

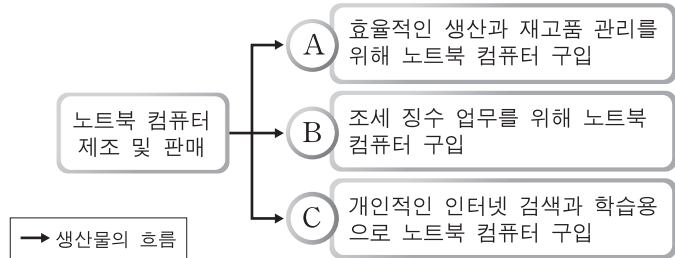
○ 답안지의 해당란에 필요한 내용을 정확히 기입(표기)했는지 확인 하시오.

제 4 교시

사회탐구 영역(경제)

성명 수험 번호

1. 그림은 갑국 국내 경제 주체 A~C의 경제 활동 중 일부를 나타낸 것이다. 이에 대한 설명으로 옳은 것은? [3점]



- ① A는 생산물 시장의 공급자이다.
- ② A는 효용의 극대화를 추구한다.
- ③ B는 민간 경제 주체이다.
- ④ C는 재정 정책의 주체이다.
- ⑤ C는 생산 요소 시장의 수요자이다.

2. 다음 주장에 부합하는 진술로 가장 적절한 것은?

특허권은 다른 사람이 신기술을 일정 기간 함부로 사용할 수 없도록 보장하는 권리이다. 만약 특허권을 보장해주지 않는다면 신기술 개발에 대한 투자가 줄어들 것이다. 하지만 특허권을 강화하여 너무 오래, 엄격히 적용하면 이 기술을 이용·발전시켜 얻을 수 있는 사회적 이득이 줄어들 수도 있다. 이러한 관점에서 특허권을 강화하는 대신 포상 제도를 고려할 필요가 있다.

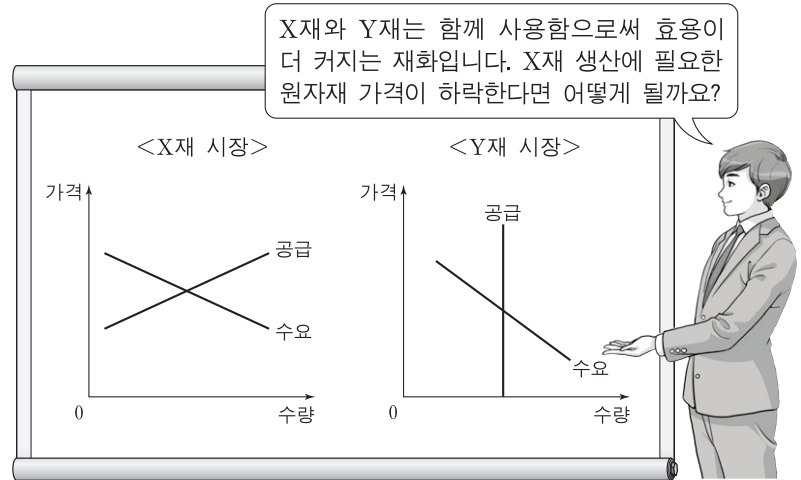
- ① 특허권 약화는 기업의 독점력을 강화시킨다.
- ② 특허권은 가능한 한 장기간 보장되어야 한다.
- ③ 특허권이 보장된 기술에서는 규모의 경제가 나타난다.
- ④ 사회적 이득을 극대화하려면 특허권을 강화해야 한다.
- ⑤ 신기술 개발을 장려하는 포상 제도가 특허권의 강화보다 사회적 이득을 늘려줄 수 있다.

3. 다음 대화에 대한 설명으로 옳은 것은? [3점]

갑: 어떻게 지냈어? 난 이전 직장의 급여와 복지 수준이 마음에 들지 않아 그만두고 새 직장을 구하고 있어.
을: 나도 그동안 해 왔던 사진사 일자리를 잃었어. 최근 디지털 카메라와 스마트폰 사용이 늘면서 사진사에 대한 수요가 줄었기 때문이지.

- ① 갑과 같은 유형의 실업은 계절 변화에 따라 일시적으로 발생한다.
- ② 직업 관련 정보의 제공은 갑과 같은 유형의 실업을 증가시킨다.
- ③ 을과 같은 유형의 실업은 마찰적 실업에 해당한다.
- ④ 을과 같은 유형의 실업은 시간이 흐르면 자연스럽게 해소된다.
- ⑤ 을과 같은 유형의 실업은 갑과 달리 비자발적 실업에 해당한다.

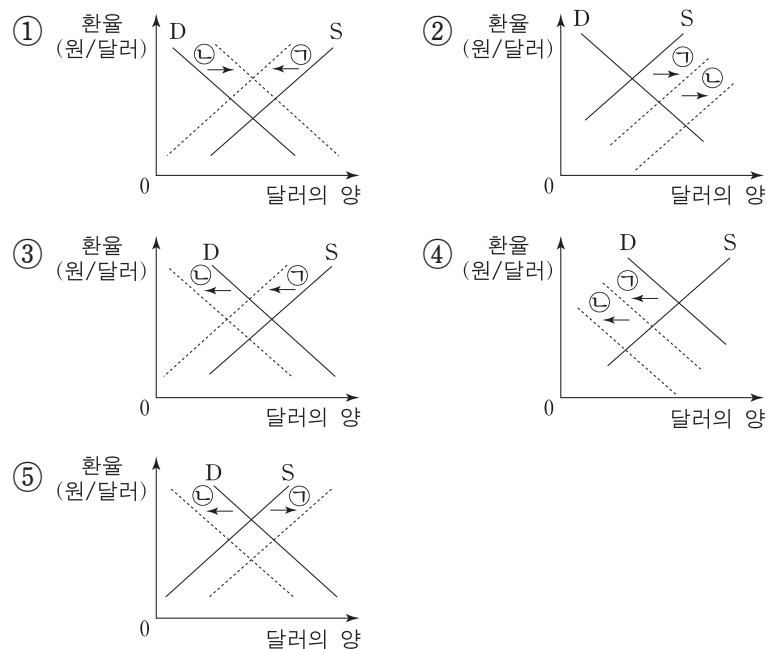
4. 교사의 질문에 대한 답변으로 옳은 것은?



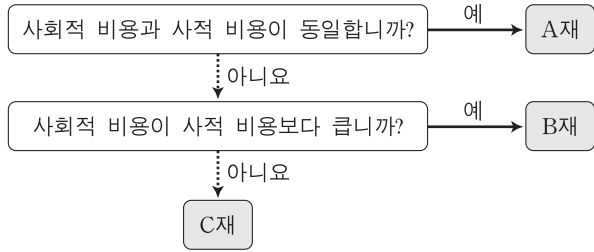
- ① X재의 거래량은 감소합니다.
- ② Y재의 거래량은 증가합니다.
- ③ X재의 판매 수입은 감소합니다.
- ④ Y재의 판매 수입은 증가합니다.
- ⑤ X재의 가격은 상승하고, Y재의 가격은 하락합니다.

5. 다음은 국내 물가 변동이 환율에 미치는 영향을 설명한 것이다. 이와 관련된 외환 시장의 변화 ㉠과 ㉡을 나타낸 그림으로 옳은 것은?

국내 물가가 상승하면 생산비 증가로 수출품의 가격이 상승하게 된다. 이로 인해 수출이 감소하게 되어 외환 시장에서 외화의 ㉠을/를 가져온다. 반면 국내 물가가 상승하면 수입품의 가격이 상대적으로 하락하게 된다. 이로 인해 수입이 증가하게 되어 외환 시장에서 외화의 ㉡을/를 가져온다.

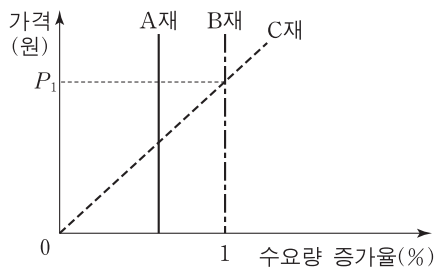


6. 그림은 현재 시장 상황에서 A~C재를 사회적 비용과 사적 비용의 크기에 따라 구분한 것이다. 이에 대한 설명으로 옳은 것은? (단, A~C재는 각 재화별로 사회적 편익과 사적 편익이 동일하다.)



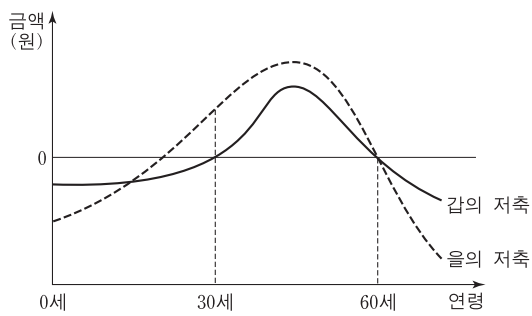
- ① A재의 사적 생산량은 사회적 최적 생산량보다 많다.
- ② B재의 사적 생산량은 사회적 최적 생산량보다 적다.
- ③ 생산자에 대한 보조금 지급은 C재 시장에서 나타나는 문제점의 해결 방안 가운데 하나이다.
- ④ B재는 외부 경제의 사례, C재는 공공재의 사례에 해당한다.
- ⑤ C재는 A재와 달리 시장에 맡겨 두면 자원이 효율적으로 배분된다.

7. 그림은 각 가격 수준에서 재화의 가격이 1% 하락할 때의 수요량 증가율을 나타낸 것이다. 이에 대한 분석으로 옳은 것은? [3점]



- ① A재의 수요 곡선은 수직선의 형태이다.
- ② B재는 수요 법칙이 적용되지 않는다.
- ③ C재의 판매 수입은 P_1 일 때 가장 크다.
- ④ A재와 B재의 수요의 가격 탄력성은 모든 가격에서 완전 비탄력적이다.
- ⑤ 가격이 P_1 일 때 수요의 가격 탄력성은 B재보다 C재가 크다.

8. 그림은 갑과 을의 생애 주기에 따른 저축을 나타낸 것이다. 이에 대한 옳은 분석을 <보기>에서 고른 것은?



* 저축 = 소득 - 소비

- <보기> —
- ㄱ. 30세일 때의 소득은 갑이 을보다 많다.
 - ㄴ. 소득이 소비보다 많았던 기간은 을이 갑보다 길다.
 - ㄷ. 누적 저축액이 최대가 되는 연령은 갑과 을이 같다.
 - ㄹ. 갑의 경우, 30세부터 60세까지 매년 소득의 증가 폭이 소비의 증가 폭보다 크다.

- ① ㄱ, ㄴ ② ㄱ, ㄷ ③ ㄴ, ㄷ ④ ㄴ, ㄹ ⑤ ㄷ, ㄹ

9. 그림의 ㉠~㉢에 대한 옳은 설명을 <보기>에서 고른 것은? [3점]

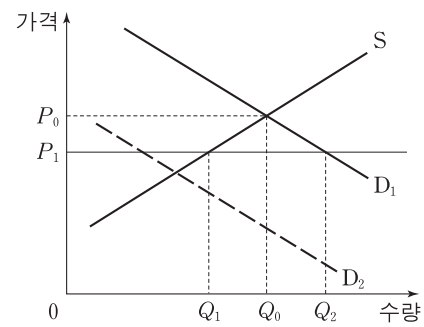


- <보기> —
- ㄱ. ㉠은 재화와 서비스 중 재화를 소비하는 활동이다.
 - ㄴ. ㉡은 을의 공연 관람을 위한 기회비용 중 명시적 비용에 해당된다.
 - ㄷ. 을이 인터넷 예매를 한다면 ㉢은 을의 순편익을 증가시킬 것이다.
 - ㄹ. ㉢은 을의 매물 비용이므로 합리적 선택을 위해 고려해서는 안된다.

- ① ㄱ, ㄴ ② ㄱ, ㄷ ③ ㄴ, ㄷ ④ ㄴ, ㄹ ⑤ ㄷ, ㄹ

10. 다음 자료에 나타난 시장 상황에 대한 설명으로 옳은 것은? [3점]

X재의 수요 곡선은 D_1 , 공급 곡선은 S 이다. 정부는 X재의 가격이 P_1 보다 높은 수준에서 거래될 수 없도록 규제하는 정책을 시행하였다.



- ① Q_0Q_2 만큼의 초과 수요가 발생한다.
- ② 이 정책은 소비자 보호를 위한 것으로 사회적 잉여를 증가시킨다.
- ③ 이 시장이 노동 시장이라면 이러한 정책의 사례로 최저 임금제를 들 수 있다.
- ④ X재를 구입하지 못한 사람 가운데 P_0 이상을 지불할 용의가 있는 사람은 없다.
- ⑤ 수요 곡선이 D_2 였다면 이 규제 정책은 시장 가격에 아무런 영향을 미치지 못한다.

11. 다음 대화에서 ㉠~㉢의 GDP 포함 여부에 대한 판단으로 옳은 것은?



- ㉠ ㉡ ㉢ ㉣ ㉤ ㉥
- ① 포함 포함 포함 ② 포함 미포함 포함
 ③ 포함 미포함 미포함 ④ 미포함 포함 미포함
 ⑤ 미포함 미포함 포함

12. 다음 자료에 나타난 갑 기업에 대한 설명으로 옳은 것은?

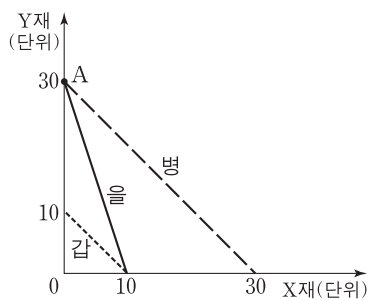
갑 기업은 두 개의 공장 A, B에서 각각 동일한 X재를 생산하고 있으며, 각 공장의 생산량에 따른 총비용은 아래와 같다. 예를 들어 공장 A에서 1개, 공장 B에서 2개를 생산한다면 갑 기업의 총비용은 6만 원이 된다. (단, 생산된 X재는 모두 판매된다.)

(단위: 만 원)

생산량	1개	2개	3개	4개	5개	6개
공장 A	2	8	18	32	50	72
공장 B	1	4	9	16	25	36

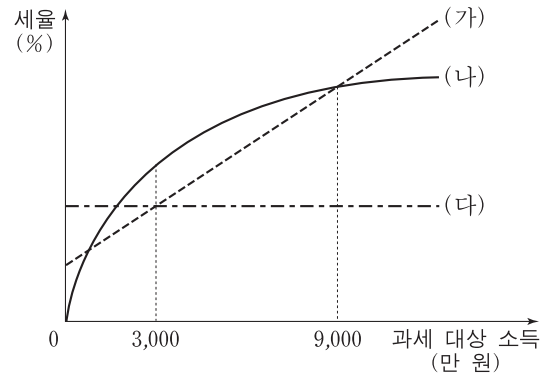
- ① 7개를 생산한다면 공장 A에서 3개, 공장 B에서 4개를 생산해야 한다.
 ② 생산량을 6개에서 7개로 늘리는 데 드는 추가적인 비용은 10만 원이다.
 ③ X재 한 개를 추가로 생산하는 데 드는 비용은 증가하다가 감소한다.
 ④ X재의 시장 가격이 8만 원이라면 최대 이윤은 24만 원이다.
 ⑤ 하나의 공장을 폐쇄해야 한다면 공장 B를 폐쇄해야 한다.

13. 그림은 갑~병국의 생산 가능 곡선이다. 이에 대한 설명으로 옳은 것은? (단, 갑~병국의 생산 요소의 양은 동일하다.) [3점]



- ① 갑국은 X재와 Y재 생산 모두에 을국보다 절대 우위를 가진다.
 ② 을국과 병국만 교역할 경우 을국은 Y재 생산에 비교 우위를 가진다.
 ③ 갑국과 병국만 교역할 경우 갑국은 X재에, 병국은 Y재에 특화할 것이다.
 ④ X재 한 단위 추가 생산에 따른 기회비용은 을국이 가장 작다.
 ⑤ A는 세 국가 모두에게 효율적인 생산점이다.

14. 그림의 (가)~(다)는 갑국에서 계획하고 있는 소득세제안을 나타낸 것이다. 이에 대한 설명으로 옳은 것은? [3점]



* %p는 %의 차를 측정하는 단위이다. 예를 들어, 세율이 4%에서 3%로 바뀌면 세율이 1%p 낮아진 것이다.

- ① (가)는 소득의 재분배 효과가 가장 작다.
 ② (가)에서 모든 과세 대상 소득에 대해 세율을 1%p 낮추면 소득세 수입도 1% 감소한다.
 ③ 과세 대상 소득의 평균이 6천만 원이라면 (나)를 선택할 때 소득세 수입이 최대가 된다.
 ④ (다)에서 과세 대상 소득이 일정 비율 증가하면 같은 비율만큼 소득세 수입도 증가한다.
 ⑤ 과세 대상 소득이 3천만 원 미만인 사람은 (나)를, 9천만 원 이상인 사람은 (다)를 선호할 것이다.

15. 다음 자료에 대한 옳은 설명을 <보기>에서 고른 것은?

표는 갑국과 을국의 2013~2015년의 경제 활동 상황을 나타낸 것이다. 갑국은 X재만을, 을국은 Y재만을 생산한다. 양국은 동일한 화폐를 사용하며, 물가 지수 측정의 기준 연도는 2013년이다. (단, 교역은 거래 비용 없이 양국 간에만 이루어진다.)

(단위: 달러, 개)

구분		2013년	2014년	2015년
갑국	명목 GDP	12,000	12,000	15,000
	생산량	120	150	150
	수출량	20	50	30
을국	명목 GDP	10,000	12,000	12,000
	생산량	1,000	1,500	1,000
	수출량	200	500	300

<보기>

- ㉠. 2013년에 갑국과 을국의 순수출액은 같다.
 ㉡. 2014년 실질 GDP는 갑국보다 을국이 크다.
 ㉢. 2014년 양국의 소비자 물가 지수는 전년보다 모두 하락하였다.
 ㉣. 2015년 GDP 디플레이터는 갑국보다 을국이 작다.

- ① ㉠, ㉡ ② ㉠, ㉢ ③ ㉡, ㉣ ④ ㉡, ㉣ ⑤ ㉢, ㉣

16. 표는 갑국의 15세 이상 인구 구성의 변화를 나타낸 것이다. 2010년 실업률이 40%일 때, 이에 대한 옳은 분석을 <보기>에서 고른 것은? (단, (가)~(다)는 각각 취업자 수, 실업자 수, 비경제 활동 인구 중 하나이다.) [3점]

구분	(가)	(나)	(다)
2010년	20	60	40
2015년	30	90	30

* 고용률(%) = $\frac{\text{취업자 수}}{\text{15세 이상 인구}} \times 100$

<보기>

ㄱ. 2010년 대비 2015년의 고용률은 상승하였다.
 ㄴ. 2010년과 2015년의 경제 활동 참가율에는 변화가 없다.
 ㄷ. 2010년 대비 2015년 취업자 수의 변화율이 같은 기간 15세 이상 인구의 변화율보다 크다.
 ㄹ. 2010년 경제 활동 인구 전체가 2015년에도 경제 활동 인구라면 이 기간 중 취업자에서 실업자가 된 사람은 없다.

- ① ㄱ, ㄴ ② ㄱ, ㄷ ③ ㄴ, ㄷ ④ ㄴ, ㄹ ⑤ ㄷ, ㄹ

17. 교사의 질문에 대한 옳은 답변을 <보기>에서 고른 것은?

그림은 생산 지수, 수출액, 취업자 수 등 경기를 나타내는 주요 경제 지표들이 경기 순환의 네 국면 중 어느 위치에 와 있는지를 좌표 평면 상에 나타낸 것입니다. 현재 경제 상황이 C에 해당한다면 D로 이동시키기 위한 정부 또는 중앙은행의 정책에 대해 발표해 볼까요?



<보기>

ㄱ. 정부는 재정 지출을 늘려야 합니다.
 ㄴ. 정부는 법인세율을 인상해야 합니다.
 ㄷ. 중앙은행은 국공채를 매입해야 합니다.
 ㄹ. 중앙은행은 기준 금리를 인상해야 합니다.

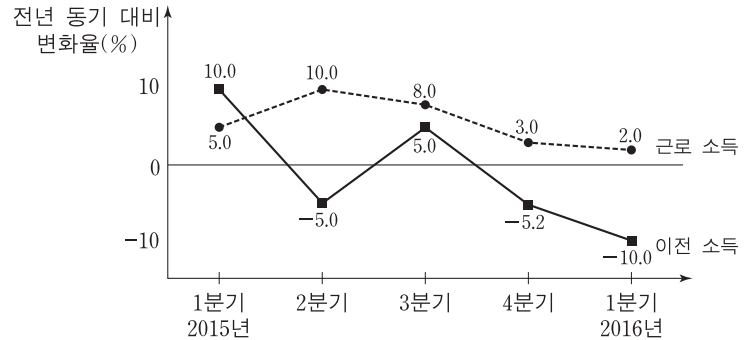
- ① ㄱ, ㄴ ② ㄱ, ㄷ ③ ㄴ, ㄷ ④ ㄴ, ㄹ ⑤ ㄷ, ㄹ

18. 표는 갑국의 경제 지표 변화를 나타낸 것이다. 이에 대한 설명으로 옳은 것은?

구분	2013년	2014년	2015년
명목 이자율(%)	4	2	1
물가 상승률(%)	1	2	2

- ① 명목 이자율과 실질 이자율이 매년 하락하였다.
 ② 명목 이자율과 실질 이자율의 차이는 2013년에 가장 크다.
 ③ 2014년의 경우 전년에 비해 예금의 실질 구매력이 증가하였다.
 ④ 2015년의 물가 수준은 전년과 같다.
 ⑤ 2013년의 실질 이자율은 2014년의 실질 이자율보다 낮다.

19. 그림은 갑국 전체 가구의 근로 소득과 이전 소득의 전년 동기 대비 변화율의 추이를 나타낸 것이다. 이에 대한 옳은 분석을 <보기>에서 고른 것은? [3점]



* 2015년 1분기 근로 소득의 전년 동기 대비 변화율(%)

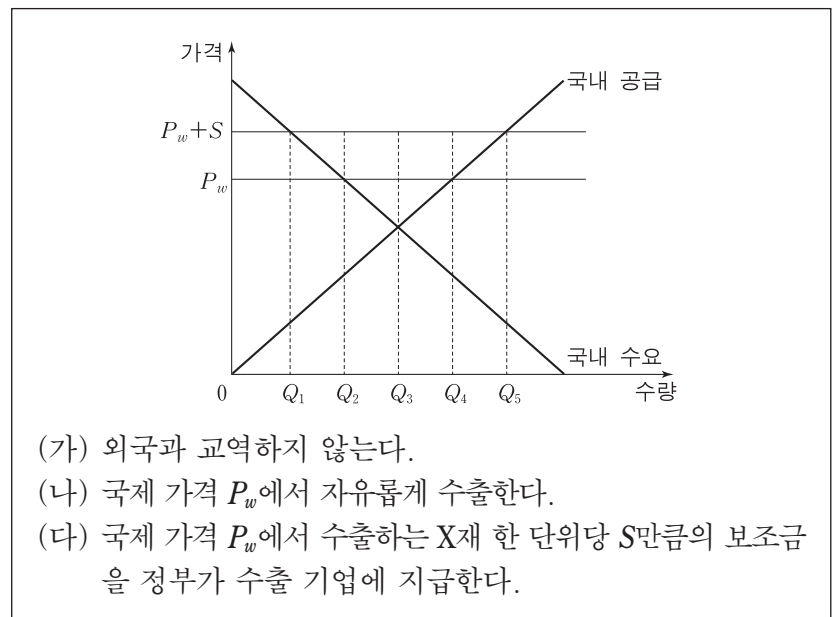
$$= \frac{\text{2015년 1분기 근로 소득} - \text{2014년 1분기 근로 소득}}{\text{2014년 1분기 근로 소득}} \times 100$$

<보기>

ㄱ. 2015년 3분기의 근로 소득은 2015년 2분기의 근로 소득보다 많다.
 ㄴ. 2014년 1분기 대비 2016년 1분기의 근로 소득 증가율은 5%보다 크다.
 ㄷ. 2015년 매 분기의 이전 소득이 동일하다면 2014년에 이전 소득이 가장 많았던 분기는 1분기이다.
 ㄹ. 2016년 1분기의 이전 소득은 2014년 1분기의 이전 소득보다 적다.

- ① ㄱ, ㄴ ② ㄱ, ㄷ ③ ㄴ, ㄷ ④ ㄴ, ㄹ ⑤ ㄷ, ㄹ

20. 다음 자료는 갑국의 X재 시장을 나타낸 것이다. (가)~(다) 상황에 대한 설명으로 옳은 것은? (단, 갑국의 수출은 국제 가격에 영향을 미치지 않는다.) [3점]



- (가) 외국과 교역하지 않는다.
 (나) 국제 가격 P_w 에서 자유롭게 수출한다.
 (다) 국제 가격 P_w 에서 수출하는 X재 한 단위당 S만큼의 보조금을 정부가 수출 기업에 지급한다.

- ① (나)에서 수출량은 Q_3Q_4 이다.
 ② (다)에서 보조금의 크기는 $Q_2Q_4 \times S$ 이다.
 ③ (가)보다 (나)에서 사회적 잉여가 더 작다.
 ④ (나)와 (다)의 소비자 잉여는 동일하다.
 ⑤ 소비자 잉여와 생산자 잉여의 합은 (다)가 (나)보다 크다.

* 확인 사항
 ○ 답안지의 해당란에 필요한 내용을 정확히 기입(표기)했는지 확인하십시오.

제 4 교시

사회탐구 영역(사회·문화)

성명 수험 번호

1. 밑줄 친 ㉠~㉣과 같은 현상의 일반적인 특징에 대한 설명으로 옳은 것은?

엘니뇨 현상이 계속되면서 지구 온도와 ㉠농작물 생산에 영향을 미치고 있다. ㉡이상 기후 현상으로 동남아 지역은 예년에 비해 더위가 심했고, 남미에는 폭우가 내려 세계 식량 가격이 올랐다. 아프리카의 한 지역에서는 ㉢홍수로 인한 급격한 수위 상승으로 수천 채의 가옥이 파손된 반면, 또 다른 지역에서는 혹독한 가뭄으로 인해 수백만 명이 ㉣식량 원조를 애타게 기다리는 상황이다.

- ① ㉠과 같은 현상은 ㉡과 같은 현상과 달리 가치 함축적이다.
- ② ㉢과 같은 현상은 ㉣과 같은 현상과 달리 확률성의 원리가 적용된다.
- ③ ㉢과 같은 현상은 ㉣과 같은 현상과 달리 개연성의 원리가 적용된다.
- ④ ㉣과 같은 현상은 ㉠과 같은 현상과 달리 당위 법칙을 따른다.
- ⑤ ㉠, ㉢과 같은 현상은 ㉡과 같은 현상에 비해 보편성이 강하다.

2. 밑줄 친 ㉠~㉣에 대한 설명으로 옳은 것은? [3점]

최근 아나운서 출신 갑이 언론의 주목을 받고 있다. 갑은 어린 시절부터 꿈꾸어 왔던 아나운서가 되기 위해 ㉠○○방송사에 입사한 후 다양한 프로그램에서 중형무진으로 활동하였다. 이후 갑은 ㉡더 큰 무대로 진출할 것인지, 안정된 직장을 선택할 것인지 고민하다가 ○○방송사를 그만두며 프리랜서를 선언하고 ㉢연기자가 되었다. 이후 비교적 짧은 기간에 여러 편의 드라마에 출연하는 등 ㉣대중의 인기를 얻었으나, 해외에서 어려운 아이들을 돕는 프로그램에 참여한 것을 계기로 △△국의 빈민 지역으로 이주하여 현재 ㉤자원봉사자로 활동하고 있다.

- ① ㉠은 갑의 내집단지자 준거집단이다.
- ② ㉡은 갑이 겪었던 역할 갈등이다.
- ③ ㉢이 되기 위해 갑은 ㉠에서 재사회화를 경험하였다.
- ④ ㉣은 ㉢으로서의 갑의 역할에 대한 보상이다.
- ⑤ ㉤은 갑의 성취 지위이다.

3. 사회 조직의 유형 A~C에 대한 설명으로 옳은 것은?

○ A, B는 각각 과업 달성을 위한 조직이며, 조직의 효율성을 제고하기 위한 운영 원리가 적용된다.
 ○ A에서는 의사 결정의 권한이 분산되어 있으며, 외부 환경 변화에 대한 유연한 대처와 신속한 의사 결정이 가능하다. B에서는 조직 내 지위가 경력에 따라 서열화되어 있으며, 규약과 절차에 따른 구성원들의 업무 수행을 강조한다.
 ○ A 또는 B의 구성원들이 조직 내에서 친밀한 인간관계에 바탕을 두고 자발적으로 결성한 것이 C이다.

- ① 기업의 노동조합은 C에 해당한다.
- ② A, B는 공식적 제재를 통해 구성원을 통제한다.
- ③ B는 A에 비해 상향식 의사 결정 방식을 강조한다.
- ④ A, C는 B와 달리 구성원들의 가입과 탈퇴가 자유롭다.
- ⑤ C에서는 A, B와 달리 구성원 간 수단적 만남과 간접적 접촉이 이루어진다.

4. (가)~(다)의 일반적인 특징에 대한 설명으로 옳은 것은? (단, (가)~(다)는 각각 면접법, 질문지법, 참여 관찰법 중 하나이다.)

자료 수집 방법	사례
(가)	청소년 일탈을 연구하기 위해 가족 간 대화 빈도와 일탈 행동을 측정할 수 있는 설문 문항을 개발하여 전국의 중·고등학생 2,000명을 대상으로 조사를 실시하였다.
(나)	초등학생의 음악 활동과 사회성 간의 관계를 연구하기 위해 초등학생 20명과 심층 인터뷰를 하여 오케스트라 활동이 친구 관계에 미치는 영향을 탐구하였다.
(다)	실외 놀이를 통해 나타나는 유아들의 특징을 살펴보고자 4개월간 ○○어린이집에 머물며 유아들의 행동과 대화 내용, 놀이 상황 등 전반적인 상황을 모두 기록하였다.

- ① (가)는 (나)보다 질적 자료 수집에 용이하다.
- ② (나)와 달리 (다)는 연구자의 주관적 가치가 개입될 우려가 있다.
- ③ (다)와 달리(가)는 인위적으로 통제된 상황에서 변수의 효과를 관찰한다.
- ④ (가)에 비해 (나), (다)는 연구 대상에 대해 심층적으로 파악하기 용이하다.
- ⑤ (나)와 달리 (가), (다)는 자료 수집 과정에서 언어를 매개로 한 상호 작용이 필수적이다.

5. (가), (나)에 나타난 사회·문화 현상을 바라보는 관점에 대한 설명으로 옳지 않은 것은? [3점]

(가) 교칙은 학생들에게 지위에 맞는 역할이 무엇인지 강조하고, 보상이나 제재를 가하는 기준으로서의 기능을 수행한다. 교칙은 학교 구성원들이 지켜야 하는 규범으로, 구성원들에게 공통의 정체성을 갖도록 하여 학교라는 작은 사회의 통합을 증진하는 역할을 한다.
 (나) 교사는 생활 지도 과정에서 나타나는 학생의 반응을 통해 자신의 지도 방식에 대해 평가하고 교사로서 자기 정체성과 행동을 재구성한다. 따라서 생활 지도는 교사와 학생 간의 상호 작용과 그 상황에 대한 의미 부여를 통해 구성되는 개별적 경험으로 이해되어야 한다.

- ① (가)의 관점은 사회가 스스로 균형을 유지하려는 속성을 지닌다고 본다.
- ② (나)의 관점은 개인이 상황에 부여한 의미에 기초하여 사회적 상황에 반응한다고 본다.
- ③ (가)의 관점은 사회가 유기체와 유사한 특성을 지니고 있음을, (나)의 관점은 인간이 의미를 추구하는 존재임을 가정한다.
- ④ (가)의 관점과 달리 (나)의 관점은 사회가 구성 요소 간의 상호 의존적 관계 형성을 통해 질서와 안정을 이룬다고 본다.
- ⑤ (나)의 관점과 달리 (가)의 관점은 사회 구조에 대한 분석을 통해 사회 현상을 이해하고자 한다.

6. A, B 사회의 일반적인 특징에 대한 설명으로 옳은 것은? (단, A, B 사회는 각각 산업 사회와 정보 사회 중 하나이다.) [3점]

A 사회	B 사회
직장인 갑은 출근하지 않고 집에서 컴퓨터로 회사의 업무를 본다. 인터넷을 통해 직장 동료 및 협력 업체와 협의하며, 팀장 또는 CEO에게 직접 보고를 하는 등 다양한 업무를 처리한다.	직장인 을은 매일 아침 9시부터 오후 6시까지 자동차 제조 공장에서 일을 한다. 출근 후 업무 지시를 받아 하루 종일 컨베이어 벨트에 실려 오는 자동차에 타이어를 장착하는 일을 수행한다.

- ① A 사회는 B 사회에 비해 먼대면 접촉의 비중이 더 높다.
- ② A 사회는 B 사회에 비해 부가 가치의 원천으로 자본과 노동을 지식보다 중시한다.
- ③ B 사회는 A 사회에 비해 관료제 조직의 비중이 더 높다.
- ④ B 사회는 A 사회에 비해 다품종 소량 생산 방식이 확대된다.
- ⑤ A, B 사회 모두에서는 가상공간의 등장으로 인해 소비자과 생산자 간의 공간적 제약이 극복된다.

7. (가), (나)에 나타난 개인과 사회의 관계를 바라보는 관점에 대한 설명으로 옳은 것은?

(가) 대학의 강의는 참여하는 구성원 개인의 특성에 따라 결정된다. 강의의 질은 교수의 능력에 따라 결정되며, 강의에 대한 평가도 학생들의 개인적 반응에 근거하여 이루어진다.

(나) 대학의 강의에는 교수와 학생 간에 권력 구조가 존재하며, 교수가 학생들의 학업 정도에 따라 성적을 부여하는 평가 시스템이 존재한다. 또한 강의실에는 수업 시간 준수와 같이 교수와 학생이 따라야 하는 행동 규칙이 작용한다.

- ① (가)는 사회가 개인으로 환원하여 설명할 수 없는 고유한 성격을 지닌다고 본다.
- ② (나)는 개인의 이익이 곧 사회 전체의 이익이라고 본다.
- ③ (가)는 (나)와 달리 개인에 대한 사회 구조의 영향력을 중시한다.
- ④ (가)는 (나)와 달리 개인은 집단 전체와의 관련 속에서만 존재 의미를 지닌다고 본다.
- ⑤ (나)는 (가)와 달리 개인의 자율성보다 사회 규범의 구속성을 중시한다.

8. 다음 두 사례에서 공통적으로 부각되는 문화의 속성에 대한 옳은 설명을 <보기>에서 고른 것은? [3점]

- ○○지역에서는 추운 기후로 인해 집안에 머무르는 시간이 길며, 목재가 풍부하여 연료 공급이 용이하다. 이로 인하여 이 지역 사람들은 오랫동안 천천히 약한 불로 끓이는 스투와 같은 음식을 즐겨 먹는다.
- 내륙의 분지 지형에 위치한 △△지방에서는 여름에 기온이 매우 높아 음식 부패 방지를 위해 향신료가 많이 들어간 조리법이 사용되고 있으며, 향신료의 원료가 되는 작물의 재배 및 유통이 활성화되어 있다.

—<보기>—

- ㄱ. 문화는 상징을 통해 다음 세대로 전달·계승된다.
- ㄴ. 문화는 고정된 것이 아니라 지속적으로 변화한다.
- ㄷ. 문화는 부분들이 모여 전체로서 하나의 체계를 이룬다.
- ㄹ. 문화는 특정 상황에서 상대방의 행동 방식을 예측하게 한다.

- ① ㄱ, ㄴ ② ㄱ, ㄷ ③ ㄴ, ㄷ ④ ㄴ, ㄹ ⑤ ㄷ, ㄹ

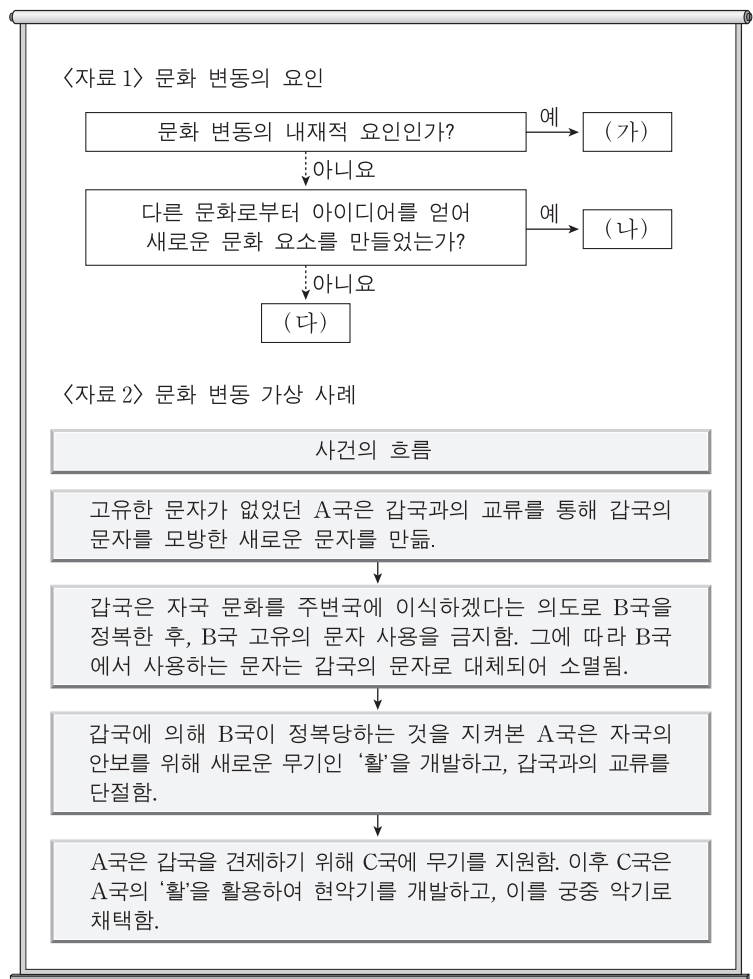
9. 밑줄 친 ㉠~㉤에 대한 설명으로 옳은 것은?

갑은 자동차가 스스로 운전하는 자율 주행차의 설계와 관련된 두 가지 주제를 연구하기 위해, 자발적으로 참여한 1,000명을 500명씩 ㉠A, B 두 집단으로 나누어 ㉡온라인 설문 조사를 실시하였다. 먼저 자율 주행차의 설계 기준에 대한 ㉢사람들의 인식이 상황에 따라서 어떻게 달라지는지 알아보고자 하였다. 이를 위해 A 집단을 대상으로 차량과 보행자의 충돌 상황에서 탑승자와 보행자가 1:1인 경우와 1:100인 경우로 나누어 ㉣1차 조사를 하였다. ㉤보행자보다 탑승자가 보호되어야 한다고 생각하는가에 대해, 전자의 경우 '예'라는 응답이 75%였지만, 후자의 경우에는 20%로 낮아졌다. 다음으로 그러한 설계에 대한 인식이 구매로 연결될지를 알아보기 위해 B 집단을 대상으로 ㉡2차 조사를 실시하였다. 피해를 입는 보행자의 수를 최소화하도록 설계해야 한다는 데에는 70%가 동의했지만, 이런 차를 구매하겠다는 응답은 30%에 불과했다. 이를 통해 갑은 ㉢사람들의 인식과 선택 간의 불일치가 있다는 것을 발견하였고, 이 결과가 ㉤자율 주행차의 보급 시기를 늦추는 데 영향을 미칠 수 있을 것이라고 해석하였다.

- ① ㉠에서 A 집단은 실험 집단, B 집단은 통제 집단이다.
- ② ㉡은 사전 조사, ㉢은 사후 조사이다.
- ③ ㉣은 ㉤을 조작적으로 정의한 것이다.
- ④ ㉤은 모집단에 대해 일반화할 수 있다.
- ⑤ ㉤은 ㉠에서 연역적으로 도출되었다.

10. 다음 자료에 대한 분석으로 옳은 것은? (단, <자료 1>의 (가)~(다)는 각각 발명, 직접 전파, 자극 전파 중 하나이다.)

[3점]



- ① A국에서는 (다)에 의한 문화 융합이 나타났다.
- ② B국에서는 (다)에 의한 문화 동화가 나타났다.
- ③ C국에서는 강제적 문화 접변의 결과로 (나)에 의한 문화 변동이 나타났다.
- ④ C국에서는 A국과 달리 (가)에 의한 문화 변동이 나타났다.
- ⑤ A, C국에서는 (나)로 인한 문화 공존이 나타났다.

11. 표는 일탈 이론 A~C를 질문에 따라 구분한 것이다. 이에 대한 옳은 설명만을 <보기>에서 있는 대로 고른 것은? (단, A~C는 각각 낙인 이론, 아노미 이론, 차별 교제 이론 중 하나이다.) [3점]

이론 \ 질문	(가)	(나)	(다)
A	예	아니오	아니오
B	아니오	아니오	예
C	아니오	예	아니오

<보기>

- ㄱ. A가 아노미 이론, B가 차별 교제 이론이라면, “타인들과의 상호 작용이 일탈 발생 과정에 미치는 영향을 중시하는가?”는 (다)에 적절하다.
- ㄴ. B가 낙인 이론, C가 아노미 이론이라면, “일탈자와의 접촉 차단을 일탈에 대한 대책으로 보는가?”는 (가)에 적절하다.
- ㄷ. (가)가 “사회 규범의 통제력 회복을 일탈에 대한 대책으로 보는가?”라면, “일탈의 원인으로 구조적인 요인을 강조하는가?”는 (나)에 적절하다.
- ㄹ. (가)가 “일탈 행동에 대한 부정적 반응을 일탈의 원인으로 보는가?”이고, (다)가 “문화적 목표에 도달할 기회 제공을 일탈에 대한 대책으로 보는가?”라면, C는 차별 교제 이론이다.

- ① ㄱ, ㄷ ② ㄴ, ㄷ ③ ㄴ, ㄹ
- ④ ㄱ, ㄴ, ㄹ ⑤ ㄱ, ㄷ, ㄹ

12. A~C 문화의 일반적인 특징에 대한 설명으로 옳은 것은?

한 사회 구성원들이 전반적으로 공유하는 문화를 A 문화라 한다. 반면 사회의 일부 구성원들만 공유하여 다른 구성원들과 구분되는 생활양식을 B 문화라고 한다. B 문화는 이를 공유하는 구성원들의 정체성을 알려 주는 문화로서 그들에게 중요한 삶의 양식이 된다. B 문화 중에는 그 사회의 지배 문화에 저항하거나 대립하는 문화가 있는데, 이를 C 문화라 한다.

- ① A 문화는 B 문화의 총합으로 설명할 수 없다.
- ② B 문화에는 A 문화의 문화 요소가 존재하지 않는다.
- ③ B 문화와 달리 C 문화는 집단 간 갈등을 초래하여 사회 통합을 저해할 수 있다.
- ④ 사회가 다원화될수록 C 문화는 A 문화로 수렴되는 경향을 보인다.
- ⑤ C 문화와 달리 B 문화는 사회 변화에 따라 A 문화가 되기도 한다.

13. 다음은 사회 제도에 관한 글이다. (가)에 들어갈 내용으로 가장 적절한 것은? [3점]

수렵 사회와 농경 사회의 다양한 문화 연구들을 보면 수렵 사회에서는 핵가족이 보편적이지만, 농경 사회에서는 핵가족보다 확대 가족이 많다는 점을 알 수 있다. 따라서 식량 공급 방식과 같은 경제 제도가 가족의 형태를 결정하며, 사회 조직의 분화 정도가 클수록 확대 가족이 보편화된다고 볼 수 있다. 그런데 산업 사회에서는 다시 핵가족이 늘어나고 있다. 이는 가족 단위 노동력의 수요가 점점 줄어들고 개인의 능력이 중요시되며, 사회 이동과 인구 이동률이 높아진 결과에서 기인한다. 그리고 가족은 개인이 노동 시장에 참여할 수 있도록 노동에 대한 가치와 태도에 대해 교육함으로써 산업화에 이바지한다. 따라서 사회 제도는 (가)

- ① 사회 구성원의 사고와 행동을 통제한다.
- ② 사회 구성원의 욕구 충족을 위한 수단으로 형성된다.
- ③ 사회 구성원 간의 행동에 대한 예측 가능성을 높인다.
- ④ 한 번 형성되면 쉽게 바뀌지 않고 안정적으로 유지된다.
- ⑤ 유기적으로 관련을 맺으면서 상호 의존적으로 기능을 수행한다.

14. 갑과 을이 가진 문화 이해의 관점에 대한 옳은 설명을 <보기>에서 고른 것은?

- 갑은 경제적 측면에 치우친 주택에 대한 연구 경향을 비판하며, 주택의 문화적 의미에 대해 연구하였다. 그 결과 갑은 주택이 경제적 의미뿐만 아니라 사회적 성향, 자연 조건, 자원의 영향과 밀접하게 관련되어 있다는 사실을 규명하였다.
- 을은 남태평양의 여러 섬에서 나타나는 선물 문화를 연구한 결과, 선물의 형태가 각 지역의 특성에 따라 다양하지만 선물을 주고받는 것은 어느 사회에서나 사회를 유지하는데 중요한 기능을 한다는 결론을 내렸다.

<보기>

- ㄱ. 갑의 관점은 문화가 부분이 아닌 전체로서의 의미를 갖는다고 본다.
- ㄴ. 을의 관점은 여러 문화를 비교하면서 공유되는 보편성을 파악한다.
- ㄷ. 갑의 관점은 을의 관점과 달리 자문화를 객관적으로 파악해야 한다고 본다.
- ㄹ. 을의 관점은 갑의 관점과 달리 모든 문화는 고유한 가치를 지닌다고 본다.

- ① ㄱ, ㄴ ② ㄱ, ㄷ ③ ㄴ, ㄷ ④ ㄴ, ㄹ ⑤ ㄷ, ㄹ

15. 근대화를 바라보는 갑, 을의 관점에 대한 설명으로 옳은 것은? [3점]

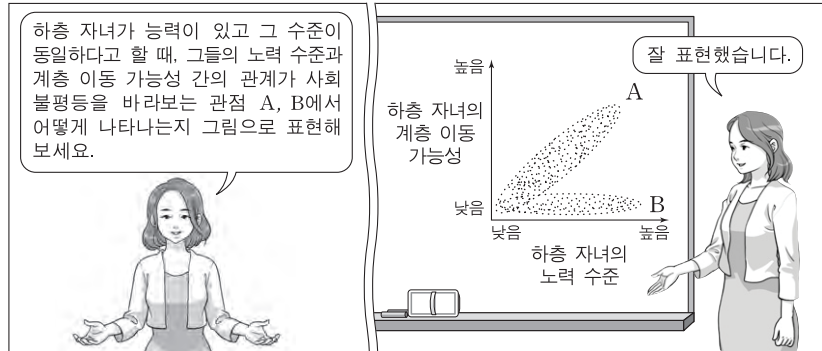
제3세계의 근대화는 선진화된 사회로부터 발전된 기술과 제도, 가치 등을 받아들여 그들과 같은 방식으로 변화하고자 노력해야 가능한 거야.

제3세계가 근대화되지 못하는 이유는 자신이 생산한 경제적 잉여를 서구 선진국에 착취당했기 때문이야. 이를 근본적으로 개선하지 않으면 저개발국의 발전은 쉽지 않아.



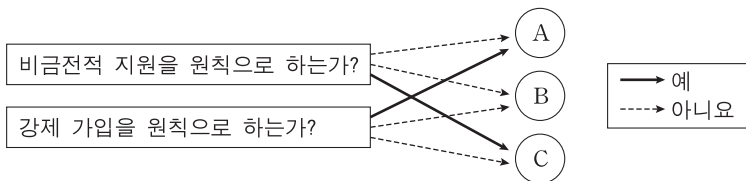
- ① 갑의 관점은 을의 관점과 달리 특정 국가의 지속적인 저발전 상태를 설명하기에 적합하다.
- ② 갑의 관점은 을의 관점과 달리 제3세계가 선진국에 경제적으로 종속될 때 경제 발전 정도가 낮다고 본다.
- ③ 을의 관점은 갑의 관점과 달리 사회 발전을宿命론적인 시각으로 바라본다.
- ④ 을의 관점은 갑의 관점과 달리 제3세계 발전의 원동력으로 국가 내부의 자생력을 중시한다.
- ⑤ 갑, 을의 관점은 모두 국제 사회를 국가 간 협업의 관계로 설명한다.

16. 사회 불평등을 바라보는 관점 A, B에 대한 설명으로 옳은 것은? [3점]



- ① A는 희소가치가 개인의 사회적 기여도와 무관하게 분배된다고 본다.
- ② A는 희소가치의 분배 수준이 균등해질수록 사회적 효율성이 낮아진다고 본다.
- ③ B는 개인의 성취동기와 희소가치의 차등 분배 수준 사이에 정(+)의 관계가 있다고 본다.
- ④ B는 희소가치의 차등 분배 수준과 사회 갈등 정도 사이에 부(-)의 관계가 있다고 본다.
- ⑤ A는 부모의 계층과 자녀의 사회적 성공 가능성 사이에 정(+)의 관계가 있다고 보고, B는 무관하다고 본다.

17. 그림의 A~C는 우리나라 사회 보장 제도이다. 이에 대한 분석으로 옳은 것은? (단, A~C는 각각 공공 부조, 사회 보험, 사회 서비스 중 하나이다.) [3점]



- ① '수혜 대상자에 대한 자립과 자활 보장을 목적으로 한다.'는 특징은 A에는 나타나고, B에는 나타나지 않는다.
- ② '수혜 정도와 상관없이 능력에 따라 비용을 부담한다.'는 특징은 A와 B에 공통으로 나타난다.
- ③ '국가와 지방 자치 단체가 비용을 전액 부담하는 것을 원칙으로 한다.'는 특징은 B에는 나타나고, A에는 나타나지 않는다.
- ④ '사전 예방적 성격이 강하다.'는 특징은 B와 C에 공통으로 나타난다.
- ⑤ '상호 부조의 성격이 강하다.'는 특징은 C에는 나타나고, A와 B에는 나타나지 않는다.

18. 대중 매체 A~C에 대한 옳은 설명만을 <보기>에서 있는 대로 고른 것은?

- ☐ A~C는 각각 누리 소통망(SNS), 서적, TV 중 하나이다.
- ☐ 정보 전달의 양방향성 측면에서 보면 C가 A, B보다 높은 편이다.
- ☐ 문명자의 정보 접근성 측면에서 보면 B가 A보다 높은 편이다.

☐ <보기>
 ㄱ. A는 B보다 생동감 있는 정보 전달이 용이하다.
 ㄴ. B는 C보다 정보의 복제와 재가공의 용이성이 낮다.
 ㄷ. C는 B보다 정보의 생산자와 소비자 간의 경계가 모호하다.
 ㄹ. A, B와 달리 C는 수용자별 정보 획득의 동시성이 나타난다.

- ① ㄱ, ㄴ ② ㄱ, ㄹ ③ ㄴ, ㄷ
- ④ ㄱ, ㄷ, ㄹ ⑤ ㄴ, ㄷ, ㄹ

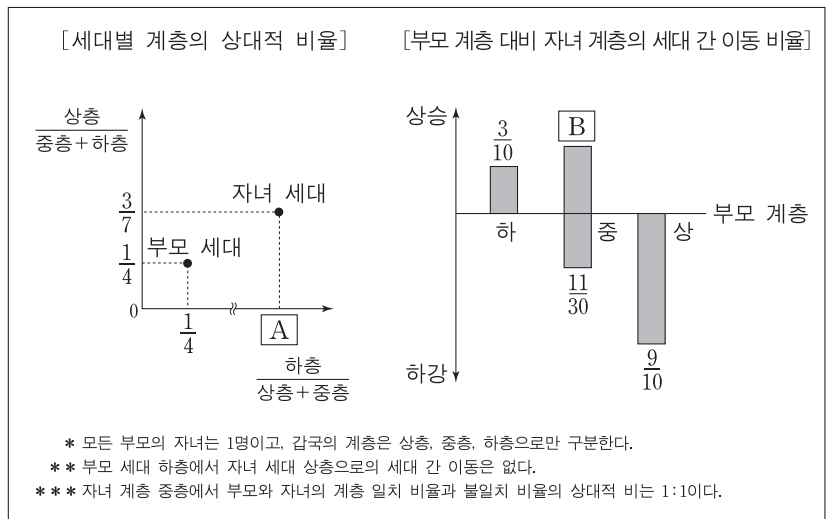
19. 다음 글을 통해 도출할 수 있는 옳은 내용만을 <보기>에서 있는 대로 고른 것은?

'유리 천장'은 여성이 조직에서 상위 직급으로 승진할 때 겪는 '눈에 보이지 않는 장벽'을 의미한다. 유리 천장의 유형으로 여성의 업무 능력에 대한 근거 없는 의심, 비공식 자리에서의 의도적 배제 등을 들 수 있다. 한편 같은 직급이더라도 승진에 유리한 핵심 업무가 있을 수 있는데, 여성이 핵심 업무로부터 수평적으로 분리되는 현상을 '유리벽'으로 표현한다.

☐ <보기>
 ㄱ. 직장 내 양성 평등 문화의 확산은 유리 천장 현상을 완화하는 데 기여한다.
 ㄴ. 여성에 대한 사회적 차별은 남성과 여성의 개인적 능력 차이에서 기인한다.
 ㄷ. 유리벽 현상은 조직 내에서 특정 성에 대한 차별이 구조적으로 나타나는 현상이다.
 ㄹ. 유리 천장과 유리벽 현상이 제거되면 사회적 자원의 배분 과정에서 기회의 공정성이 제고될 것이다.

- ① ㄱ, ㄷ ② ㄴ, ㄷ ③ ㄴ, ㄹ
- ④ ㄱ, ㄴ, ㄹ ⑤ ㄱ, ㄷ, ㄹ

20. 다음 자료는 갑국의 세대 간 계층 이동 현황을 나타낸 것이다. 이에 대한 분석으로 옳은 것은?



- ① 부모 세대보다 자녀 세대에서 사회 통합의 필요성이 낮아졌다.
- ② 자녀 세대 계층 대비 부모와 자녀의 계층 일치 비율은 하층이 가장 높다.
- ③ 부모 세대 계층 대비 자녀와 부모의 계층 불일치 비율은 상층보다 하층이 높다.
- ④ 부모 세대 상층과 하층의 합 대비 부모 세대 중층의 상대적 비율은 A보다 크다.
- ⑤ 부모 세대 상층 대비 부모 상층에서 자녀 하층으로의 세대 간 이동 비율은 B보다 작다.

* 확인 사항
 ○ 답안지의 해당란에 필요한 내용을 정확히 기입(표기)했는지 확인하십시오.

2017학년도 대학수학능력시험 9월 모의평가

사회탐구 영역 정답표
(생활과 윤리) 과목

문항 번호	정 답	배 점	문항 번호	정 답	배 점	문항 번호	정 답	배 점	문항 번호	정 답	배 점
1	④	2	6	⑤	3	11	①	2	16	⑤	3
2	②	3	7	③	2	12	⑤	3	17	③	3
3	①	2	8	③	3	13	④	3	18	②	2
4	④	2	9	④	3	14	④	3	19	④	2
5	③	3	10	③	2	15	②	2	20	①	2

2017학년도 대학수학능력시험 9월 모의평가

사회탐구 영역 정답표
(윤리와 사상) 과목

문항 번호	정 답	배 점	문항 번호	정 답	배 점	문항 번호	정 답	배 점	문항 번호	정 답	배 점
1	②	2	6	④	3	11	④	2	16	③	3
2	②	3	7	①	2	12	③	3	17	②	2
3	③	2	8	①	3	13	①	3	18	④	3
4	①	3	9	④	2	14	⑤	2	19	②	3
5	①	2	10	③	2	15	⑤	3	20	⑤	2

2017학년도 대학수학능력시험 9월 모의평가

사회탐구 영역 정답표
(한국 지리) 과목

문항 번호	정 답	배 점	문항 번호	정 답	배 점	문항 번호	정 답	배 점	문항 번호	정 답	배 점
1	⑤	2	6	⑤	3	11	③	3	16	③	2
2	③	2	7	④	2	12	⑤	3	17	④	3
3	④	3	8	③	3	13	①	2	18	②	2
4	④	2	9	④	3	14	①	2	19	⑤	3
5	③	3	10	④	2	15	②	3	20	⑤	2

2017학년도 대학수학능력시험 9월 모의평가

사회탐구 영역 정답표
(세계 지리) 과목

문항 번호	정 답	배 점	문항 번호	정 답	배 점	문항 번호	정 답	배 점	문항 번호	정 답	배 점
1	⑤	2	6	②	3	11	③	3	16	①	3
2	④	3	7	②	2	12	②	3	17	①	2
3	③	2	8	①	2	13	④	3	18	⑤	3
4	③	2	9	④	3	14	③	2	19	④	2
5	③	3	10	④	3	15	⑤	2	20	③	2

2017학년도 대학수학능력시험 9월 모의평가

사회탐구 영역 정답표
(동아시아사) 과목

문항 번호	정 답	배 점	문항 번호	정 답	배 점	문항 번호	정 답	배 점	문항 번호	정 답	배 점
1	①	2	6	②	3	11	②	2	16	⑤	2
2	②	3	7	③	2	12	⑤	2	17	②	3
3	③	3	8	⑤	3	13	④	3	18	④	2
4	②	2	9	②	2	14	⑤	3	19	④	2
5	④	2	10	⑤	3	15	③	3	20	①	3

2017학년도 대학수학능력시험 9월 모의평가

사회탐구 영역 정답표
(세계사) 과목

문항 번호	정 답	배 점	문항 번호	정 답	배 점	문항 번호	정 답	배 점	문항 번호	정 답	배 점
1	①	2	6	②	2	11	②	2	16	④	2
2	③	3	7	①	3	12	④	2	17	②	3
3	④	2	8	④	3	13	③	3	18	⑤	2
4	⑤	3	9	①	2	14	④	3	19	⑤	3
5	②	2	10	⑤	3	15	③	2	20	①	3

2017학년도 대학수학능력시험 9월 모의평가

사회탐구 영역 정답표
(법과 정치) 과목

문항 번호	정 답	배 점	문항 번호	정 답	배 점	문항 번호	정 답	배 점	문항 번호	정 답	배 점
1	⑤	2	6	②	3	11	⑤	3	16	③	2
2	④	3	7	④	3	12	①	2	17	④	3
3	②	2	8	①	2	13	①	2	18	③	2
4	④	3	9	③	3	14	⑤	2	19	⑤	3
5	⑤	2	10	⑤	2	15	②	3	20	①	3

2017학년도 대학수학능력시험 9월 모의평가

사회탐구 영역 정답표

(경제) 과목

문항 번호	정 답	배 점	문항 번호	정 답	배 점	문항 번호	정 답	배 점	문항 번호	정 답	배 점
1	①	3	6	③	2	11	②	2	16	②	3
2	⑤	2	7	③	3	12	④	2	17	②	2
3	⑤	3	8	③	2	13	②	3	18	①	2
4	④	2	9	⑤	3	14	④	3	19	④	3
5	①	2	10	⑤	3	15	②	2	20	⑤	3

2017학년도 대학수학능력시험 9월 모의평가

사회탐구 영역 정답표
(사회 · 문화) 과목

문항 번호	정 답	배 점	문항 번호	정 답	배 점	문항 번호	정 답	배 점	문항 번호	정 답	배 점
1	①	2	6	③	3	11	③	3	16	②	3
2	⑤	3	7	⑤	2	12	①	2	17	③	3
3	②	2	8	⑤	3	13	⑤	3	18	③	2
4	④	2	9	③	2	14	①	2	19	⑤	2
5	④	3	10	②	3	15	④	3	20	④	2