

**2025**

# MASTER 기출 분석

사회  
문화

CHJ

## PREFACE

반갑습니다. 조현재입니다.

두 번의 수험 생활을 갖 마치고 처음으로 후배 사회·문화 수험생들의 자료를 제작하게 되었습니다.

첫 수능을 앞둔 고3 시절의 가을에 수능 완성의 문제들을 여러 친구들에게 해설하는 것이 즐거웠던 저는 '수능이 끝나면 내가 평가원 사회·문화 문제들을 직접 해설해서 자료를 만들어보고 싶다.'라는 생각이 들었습니다. 비록 첫 수능이 끝난 후에는 반수를 준비하면서 만들다가 무산되었지만, 2024학년도 수능이 끝나고서는 그간 미뤘었던 일들을 하며 틈틈이 이 자료를 만들었습니다.

2022학년도부터 사회·문화는 매년 문제들의 난이도가 높아지는 동시에 일정하게 유지되던 포맷이 조금씩 변화되고 있습니다. 더군다나 2024학년도 9월부터는 자료 분석 문제가 한 문제 줄었고, 개념 문제가 자료 분석 문제를 제치고 연이어 오답률 1위를 기록하면서 더 이상 개념 문제들도 만만하게 볼 수는 없게 되었습니다.

본 자료는 2024학년도 6·9·수능의 사회·문화 기출 60문제를 20개의 SECTION으로 분류하여 모아둔 것으로, 제가 직접 시험지를 풀면서 생각했던 것들을 글과 표로 정리하여 해설하였습니다.

개념 문제들 중 유형이 어려워서 오답률이 높은 문항들은 [Analysis]에서 이런 유형은 어떻게 풀어야 하는지 차근차근 접근 방법을 제시하고, 오개념이나 헷갈리는 개념들을 정리할 수 있도록 [Explanation]에서 선지를 풀어가며 이 선지는 어떤 내용이 잘못되어서 틀렸는지, 그 선지를 옳은 설명으로 바꾸면 무엇인지 설명하였습니다. 특히, SECTION 20의 자료 분석 문제들은 제가 풀었던 순서에 맞춰서 그 과정을 모두 담았습니다.

모쪼록, 저의 첫 자료를 이용하는 모든 수험생들에게 감사 인사를 전하며, 좋은 결과가 있기를 기원합니다. 작년에 만들다가 그만둔 2021~2023학년도 기출 해설도 제작 중입니다. 조만간 그 자료로 수험생 여러분들을 만날 수 있도록 하겠습니다. 감사합니다.

2023.12.24. 조현재.

## CONTENTS

### PART I : 개념 유형 ----- 3

- SECTION 01. 자연 현상 vs 사회·문화 현상
- SECTION 02. 사회·문화 현상을 바라보는 관점
- SECTION 03. 사회 과학 연구 방법
- SECTION 04. 자료 수집 방법
- SECTION 05. 연구 윤리
- SECTION 06. 사회 실재론 vs 사회 명목론
- SECTION 07. 지위·역할·사회화
- SECTION 08. 사회 집단과 사회 조직
- SECTION 09. 관료제 vs 탈관료제
- SECTION 10. 일탈 이론
- SECTION 11. 문화의 의미와 속성
- SECTION 12. 문화 이해 태도
- SECTION 13. 주류문화·하위문화·반(反)문화
- SECTION 14. 문화 변동
- SECTION 15. 사회적 소수자
- SECTION 16. 빈곤
- SECTION 17. 사회 변동
- SECTION 18. 사회 운동
- SECTION 19. 산업 사회 vs 정보 사회

### PART II : 자료 분석 ----- 21

- SECTION 20. 자료 분석
  - A. 계층 이동
  - B. 성 불평등
  - C. 사회 보장 제도
  - D. 인구 자료 분석

### ANSWER ----- 27

PART I  
[SECTION 01~19]  
개념 유형

SECTION 01

자연현상 vs 사회·문화 현상

001	240601	81%
-----	--------	-----

밑줄 친 ㉠~㉣과 같은 현상의 일반적인 특징에 대한 설명으로 옳은 것은?



NEWS

한국산 '핵융합' 인공 태양, 실험 성공

기체가 초고온의 에너지를 받으면 기체와는 전혀 다른 성질을 띠는 상태가 되는데, 이를 플라즈마라고 합니다. 태양에서는 ㉠ 플라즈마 상태에서 핵융합 반응이 일어나고 막대한 양의 에너지가 방출됩니다. 핵융합 발전은 여기서 아이디어를 얻어 고효율의 에너지를 얻으려는 것입니다. 우리 과학자들이 인공 태양을 구현하려고 노력한 결과, 지난 ㉡월 ㉢일 ㉣ 초고온의 플라즈마 상태를 최장 시간 유지시키는 데 성공하였습니다. ㉤ 기체가 일정한 조건에 이르면 플라즈마로 변화하는데, 플라즈마가 실험로 진공 용기에 닿는 순간 핵융합 반응이 끝납니다. 핵융합 기술의 상용화를 위해서는 플라즈마를 실험로에 닿지 않도록 하는 것이 관건입니다. 연구자들은 ㉥ 플라즈마를 안정적으로 제어할 수 있도록 실험을 계속할 예정이라고 합니다.

- ① ㉠과 같은 현상은 ㉣과 같은 현상과 달리 가치 함축적이다.
- ② ㉡과 같은 현상은 ㉢과 같은 현상에 비해 인과관계가 명확하다.
- ③ ㉣과 같은 현상은 ㉥과 같은 현상과 달리 보편성이 나타난다.
- ④ ㉥과 같은 현상은 ㉠과 같은 현상과 달리 개연성의 원리가 적용된다.
- ⑤ ㉠, ㉣과 같은 현상은 ㉡, ㉥과 같은 현상과 달리 경험적 자료로 연구할 수 있다.

002	240901	94%
-----	--------	-----

밑줄 친 ㉠~㉣과 같은 현상의 일반적인 특징에 대한 설명으로 옳은 것은?

‘람사르 데이’는 ㉠습지의 중요성을 널리 홍보하기 위해 마련한 행사이다. 참가자들은 ㉡습지에 버려진 비닐과 플라스틱을 재활용해 만든 옷을 입고 행사에 참여한다. 습지 보존이 중요한 이유는 ㉢습지가 생태계를 보호하는 역할을 하기 때문이다. 플랑크톤과 유기 물질이 풍부한 ㉣습지는 각종 오염 물질을 정화한다. 그뿐만 아니라 ㉤습지는 기후 위기의 요인 중 하나인 탄소 증가를 억제하는 역할도 한다.

- ① ㉠과 같은 현상은 불가치적이다.
- ② ㉡과 같은 현상은 존재 법칙이 적용된다.
- ③ ㉢과 같은 현상은 확실성의 원리가 적용된다.
- ④ ㉣과 같은 현상은 인과관계가 불분명하다.
- ⑤ ㉤과 같은 현상은 보편성과 특수성이 공존한다.

003	241101	87%
-----	--------	-----

밑줄 친 ㉠~㉣과 같은 현상의 일반적인 특징에 대한 설명으로 옳은 것은?

지구 온난화로 인한 ㉠강물 속 용존 산소 감소가 수생 생물의 다양성을 위협한다는 보고서가 발표됐다. 물속 용존 산소는 물속 생물의 호흡 과정에서 소비된다. 그런데 ㉡지구 온난화에 의해 수온이 상승하면 물속 생물의 호흡량이 증가하여 ㉢용존 산소가 더 빠르게 고갈된다. 보고서에서는 ㉣탄소 배출량 감축 정책이 실패할 경우 얕은 강에서 특정 어종이 사라질 정도로 수(水) 생태계의 ㉤생물 다양성이 훼손될 것으로 예측했다.

- ① ㉠과 같은 현상은 가치 함축적이다.
- ② ㉡과 같은 현상은 당위 법칙을 따른다.
- ③ ㉢과 같은 현상은 보편성보다 특수성이 강하게 나타난다.
- ④ ㉣과 같은 현상은 개연성의 원리가 적용된다.
- ⑤ ㉤과 같은 현상은 확실성의 원리가 적용된다.

| SECTION 02 |  
**사회·문화 현상을 바라보는 관점**

**004                      240603                      80%**

사회·문화 현상을 바라보는 관점 A, B에 대한 설명으로 옳은 것은?

A : 지배 집단과 피지배 집단은 재화나 권위 또는 권력과 같은 희소 자원을 차지하기 위해 서로 끊임없이 투쟁한다. 두 집단의 이익은 양립할 수 없으므로 갈등은 필연적이고 자연스러운 현상이다.  
 B : 사회 체계는 기본적으로 균형 상태를 유지하기 때문에 적대, 긴장, 모순, 투쟁과 같은 갈등은 일시적인 현상이다. 따라서 갈등은 균형을 유지하려는 사회 체계의 속성으로 인하여 머지않아 조화롭게 조정된다.

- ① A는 상황 정의에 기초한 개인 간 상호 작용을 중시한다.
- ② B는 사회적 희소가치의 불균등한 분배가 불가피하다고 본다.
- ③ A는 B와 달리 기득권층의 이익을 대변하는 논리로 사용된다는 비판을 받는다.
- ④ B는 A와 달리 질서와 안정성을 바탕으로 한 점진적인 사회 변동을 설명하기 어렵다.
- ⑤ A와 B는 모두 개인에 대한 사회 구조의 영향력을 간과한다는 비판을 받는다.

**005                      240919                      65%**

다음은 사회·문화 현상을 바라보는 관점 A~C를 구분하는 질문에 대한 학생의 답변과 교사의 채점 결과이다. 이에 대한 설명으로 옳은 것은? (단, A~C는 각각 기능론, 갈등론, 상징적 상호 작용론 중 하나임.) [3점]

질문	답변		
	갑	을	병
A는 B와 달리 지배 집단과 피지배 집단 간 갈등이 사회 발전의 원동력이라고 보는가?	아니오	아니오	예
A, C는 B와 달리 개인의 행위를 강제하는 사회 구조를 중시하는가?	예	아니오	예
(가)	예	아니오	아니오
(나)	예	아니오	예
채점 결과	3점	2점	3점

\* 교사는 질문별로 채점하고, 질문당 옳은 답변을 쓴 경우는 1점, 틀린 답변을 쓴 경우는 0점을 부여함.

- ① A는 C와 달리 사회가 본질적으로 변동을 지향한다고 본다.
- ② B는 A와 달리 다양한 사회 제도의 상호 의존 관계에 주목한다.
- ③ C는 B와 달리 인간이 상황 정의에 기초하여 행동한다고 본다.
- ④ (가)에는 'B는 A와 달리 행위자의 능동성을 중시하는가?'가 들어갈 수 있다.
- ⑤ (나)에는 'A는 C와 달리 기득권층의 이익을 대변한다는 비판을 받는가?'가 들어갈 수 있다.

**006                      241104                      76%**

사회·문화 현상을 바라보는 관점 A~C에 대한 설명으로 옳은 것은? (단, A~C는 각각 기능론, 갈등론, 상징적 상호 작용론 중 하나임.) [3점]

교사 : A, B, C 중 하나를 선택한 후 해당 관점에 대해 설명해 보세요.  
 갑 : A는 사회가 생물 유기체처럼 균형을 유지한다고 전제합니다. 조화와 균형은 정상적 상태로, 무조화와 불균형은 병리적 상태로 봅니다.  
 을 : B는 사회를 구성하는 하위 요소가 사회 전체의 존속과 통합을 위한 역할을 수행한다고 봅니다. 또한 B는 사회 각 부분에 존재하는 복잡한 관계를 지배와 피지배의 관계로 단순화합니다.  
 교사 : 갑은 옳게, 을은 틀리게 설명했습니다. 을의 설명에는 정작 B의 내용은 없고, A와 C의 내용만 있네요.

- ① A는 B와 달리 개인의 상황 정의와 의미 해석을 강조한다.
- ② B는 C와 달리 사회에 내재한 구조적 모순을 중심으로 사회 현상을 설명한다.
- ③ C는 A와 달리 기득권층의 이익을 옹호한다는 비판을 받는다.
- ④ '대립과 갈등을 사회의 본질적 속성으로 보는가?'라는 질문으로 A와 B를 구분할 수 없다.
- ⑤ '사회 각 제도의 상호 의존적 관계에 주목하는가?'라는 질문으로 B와 C를 구분할 수 있다.

| SECTION 03 |  
**사회 과학 연구 방법**

007	240602	88%
-----	--------	-----

다음 자료에 대한 옳은 설명만을 <보기>에서 고른 것은? [3점]

갑은 '소비 활동으로 느끼는 행복'이라는 ㉠연구 주제를 설정하였다. ㉡관련 연구를 검토한 뒤, 소득 수준에 따라 소비 활동으로 느끼는 행복감이 소비 활동 유형별로 어떻게 다르지 파악하기 위해 가설을 설정하였다. 아래는 가설 중 하나이다.

<가설>  
 소득 수준이 높은 집단이 소득 수준이 낮은 집단보다  A  활동으로 느끼는 행복감이 높을 것이다.

갑은 ㉢가설 검증을 위해 성인 2,000명을 대상으로 ㉣설문 조사를 실시하였다. 소득 수준은 응답자의 월평균 소득을 기준으로 상위 50%를 ㉤소득 수준이 높은 집단, 나머지를 ㉥소득 수준이 낮은 집단으로 구분하였다. 소비 활동의 유형은 일상적 소비(생활용품 구입 등)와 문화적 소비(여가 활동비 지출 등)로 구분하였고, 각 유형별 소비 활동으로 느끼는 행복감은 5점 척도(점수가 클수록 행복감이 높음)로 측정하였다.

자료 분석 결과, 일상적 소비 활동으로 느끼는 행복감은 소득 수준이 높은 집단에서 2.6점, 소득 수준이 낮은 집단에서 3.6점으로 나타났다. 문화적 소비 활동으로 느끼는 행복감은 소득 수준이 높은 집단에서 3.6점, 소득 수준이 낮은 집단에서 2.0점으로 나타났다. 분석 결과는 통계적으로 유의미하였다.

ㄱ. ㉠ 단계는 ㉡ 단계와 달리 연구자의 가치 중립이 요구된다.  
 ㄴ. ㉢은 2차 자료를, ㉣은 1차 자료를 수집하기 위한 것이다.  
 ㄷ. ㉤은 실험 집단, ㉥은 통제 집단이다.  
 ㄹ. <가설>은 A가 '일상적 소비'이면 기각되고, '문화적 소비'이면 수용된다.

- ① ㄱ, ㄴ    ② ㄱ, ㄷ    ③ ㄴ, ㄷ    ④ ㄴ, ㄹ    ⑤ ㄷ, ㄹ

008	240903	75%
-----	--------	-----

다음 연구에 대한 설명으로 옳은 것은? [3점]

연구자 갑은 집단 간 경쟁이 자신이 속한 집단 구성원에 대한 긍정적 평가를 증가시킬 것이라고 예상하며 연구를 진행하였다. 갑은 서로 모르는 사이의 청소년을 연구 참여자로 모집한 후 무작위로 네 모둠으로 구분 하였다. 모둠 A와 모둠 B는 숲 체험 활동을 하였고, 모둠 C는 모둠 A의, 모둠 D는 모둠 B의 활동을 관리하였다. 1일 차에 모둠 A와 모둠 B는 서로의 존재를 알지 못하는 상태에서 주어진 과업을 독립적으로 수행하였다. 갑은 2일 차에 모둠 A와 모둠 B에게 경쟁 모둠의 존재를 알리고, 과업을 먼저 해결하는 모둠에게만 별도의 상품을 제공한다고 공지하였다. 한편 모둠 C와 모둠 D는 자신이 관리하는 모둠 A와 모둠 B가 과업 수행 중 나눈 대화에 나타난 칭찬과 비난의 횟수를 관찰하여 일자별로 기록하였다. 갑이 ㉠모둠 C와 모둠 D가 관찰하며 기록한 자료를 분석한 결과, 모둠 A와 모둠 B 모두에서 1일 차 대비 2일 차에 소속 모둠원에 대한 ㉡칭찬 횟수는 증가하였고, ㉢비난 횟수는 감소하였다.

- ① 갑은 양적 연구 방법과 질적 연구 방법을 모두 활용하였다.  
 ② 모둠 A와 B는 실험 집단이고, 모둠 C와 D는 통제 집단이다.  
 ③ 1일 차와 2일 차 모두 독립 변수에 대한 처치가 이루어졌다.  
 ④ ㉠은 갑의 연구에서 1차 자료에 해당한다.  
 ⑤ ㉢은 ㉠과 달리 종속 변수에 대한 조작적 정의이다.

009	241105	60%
-----	--------	-----

다음 자료에 대한 설명으로 옳은 것은?

연구자 갑은 정부 정책 도입에 대한 여론 조사 연구에서 '정보 제공이 응답자의 ㉠응답 반응에 영향을 미칠 것이다.'라는 가설을 설정하였다. 이를 검증하기 위해 질문 방식을 정부 정책에 대한 정보 제시 없이 정부 정책 도입에 대한 동의 여부를 묻는 것(유형A), 정부 정책에 대한 중립적인 정보를 제시한 후 정부 정책 도입에 대한 동의 여부를 묻는 것(유형B), ㉡정부 정책에 대한 긍정적인 정보를 제시한 후 정부 정책 도입에 대한 동의 여부를 묻는 것(유형C)으로 구분한 후, 다음과 같이 두 단계에 걸쳐 연구를 진행하였다.

- 1단계 : 동일한 정부 정책 도입에 대해 비슷한 시기에 수행된 여론 조사 결과를 수집하였다. 자료 분석을 통해 여론 조사에서 ㉢정보 제공 여부가 응답자의 의사 결정에 영향을 미칠 수 있음을 확인하였다.
- 2단계 : 1단계에서 확인한 결과를 경험적으로 검증하기 위해 성인 200명을 무작위로 선정한 후 실험을 실시하였다. 유형A를 배부하여 ㉣정부 정책 도입에 대한 찬반 여부를 측정한 결과 응답자의 60%가 제안된 정책에 반대하였다. 반대한 사람을 40명씩 무작위로 세 집단으로 나눈 뒤, 첫째 집단에는 유형A에, 둘째 집단에는 유형B에, 셋째 집단에는 유형C에 각각 응답하도록 하였다. 세 집단의 응답을 분석한 결과, 첫째 집단과 둘째 집단 간, 첫째 집단과 셋째 집단 간에는 제안된 정책에 반대하는 비율이 유의미하게 차이가 났지만, 둘째 집단과 셋째 집단 간에는 유의미한 차이가 없었다.

- ① 2단계에서 갑은 사전 검사를 실시하지 않았다.  
 ② 유형B에 응답한 사람들은 통제 집단, 유형C에 응답한 사람들은 실험 집단이다.  
 ③ ㉠은 ㉡에 대한 조작적 정의이다.  
 ④ ㉢은 질문지 작성 시 특정 응답을 유도한 것이므로 갑의 연구 결과를 일반화할 수 없다.  
 ⑤ 2단계에서 도출한 분석 결과는 ㉣을 지지한다.

SECTION 04

자료 수집 방법

010

240606

82%

자료 수집 방법 A, B의 일반적인 특징에 대한 설명으로 옳은 것은?

빈민 지역인 □□마을에서 '가난의 문화'가 만들어지는 과정을 고찰하기 위해 갑은 자료 수집 방법 A를, 을은 자료 수집 방법 B를 사용하여 공동 연구를 수행하였다.

갑은 전체 주민을 대상으로 계량화된 자료 수집을 위한 설문 조사를 실시하여 주민들의 생활과 삶에 대한 만족도 등을 파악하였다. 고령자가 많아 주민을 직접 만나는 방식으로 설문 조사를 진행하였다.

을은 □□마을 복지관을 4주 동안 매주 2회씩 방문하여 주민들과 신뢰 관계를 형성한 후, 마을에 오래 거주한 주민 10명을 복지관에서 따로 만나 그들의 삶을 듣고 기록하는 조사를 진행하였다.

- ① A는 B에 비해 자료 수집 과정에서 조사자가 융통성을 발휘하기 용이하다.
- ② A는 B와 달리 조사 대상자와의 언어적 상호 작용이 필수적이다.
- ③ B는 A에 비해 구조화된 자료를 수집하기 용이하다.
- ④ B는 A에 비해 수집된 자료의 통계 처리가 용이하다.
- ⑤ A와 B는 모두 조사 대상자의 주관적 인식을 파악할 수 있다

012

241103

49%

자료 수집 방법 A~C의 일반적인 특징에 대한 설명으로 옳은 것은? (3점)

○ 갑은 진로 집중 학기제의 효과를 연구하기 위해 ○○고등학교 1학년 학생들의 학습 활동을 한 학기 동안 참관하며 관찰 일지를 작성하였다. 이후 해당 학교 학생과 교사를 대상으로 진로 집중 학기제의 효과에 대해 어떻게 인식하고 있는지 알아보기 위한 설문 조사를 진행하였다.

○ 을은 학생들의 교우 관계와 학교생활 만족도 간의 관계를 파악하기 위해 청소년 관련 연구기관이 발행한 심층 면접 조사 결과를 분석하였다. 이후 □□지역 고등학생들을 대상으로 구조화된 문항에 응답하도록 하였다.

갑은 A와 B를, 을은 B와 C를 사용하였습니다.



- ① A는 B와 달리 변인 간의 관계를 파악하는 연구에 주로 사용된다.
- ② B는 C와 달리 연구 대상자와의 언어적 상호 작용이 필수적이다.
- ③ C는 A에 비해 연구 대상자와의 정서적 교감 형성을 중시한다.
- ④ A는 B, C에 비해 다수를 대상으로 한 자료 수집에 유리하다.
- ⑤ C는 A, B와 달리 질적 자료의 수집에 주로 활용된다.

SECTION 05

연구 윤리

011

240910

66%

다음 자료에 대한 설명으로 옳은 것은? (3점)

□(가)는 자료 수집 방법 A, B, C의 공통점과 차이점을 알아보기 위한 질문이다. □(가)에 대한 '예', '아니요'의 응답을 통해 A와 B를 구분할 수 있지만, B와 C를 구분할 수 없다. 단, A~C는 각각 질문지법, 면접법, 참여 관찰법 중 하나이다.

- ① A가 질문지법이라면, (가)에는 '주로 질적 자료를 수집할 때 활용합니까?'가 들어갈 수 없다.
- ② A가 면접법이라면, (가)에는 '언어나 문자로 의사소통할 수 없는 대상으로부터 자료 수집이 가능합니까?'가 들어갈 수 있다.
- ③ C가 참여 관찰법이라면, (가)에는 '자료 수집 과정에서 연구 대상자의 응답이 필수적입니까?'가 들어갈 수 없다.
- ④ C가 질문지법이라면, (가)에는 '자료 수집 과정에서 표준화·구조화된 도구의 사용이 필수적입니까?'가 들어갈 수 있다.
- ⑤ (가)에 '문맹자에게 사용하기 어렵습니까?'가 들어간다면, B는 주로 방법론적 일원론을 전제로 한 연구에 활용된다.

013

240904

74%

밑줄 친 ㉠~㉢을 연구 윤리 측면에서 적절하게 평가한 것만을 (보기)에서 고른 것은?

연구자 갑은 설문 조사 참여에 동의한 노인들을 대상으로 노인 문제에 관한 연구를 진행하였다. 갑은 조사에 앞서 ㉠연구 대상자가 응답 중단을 요청할 경우 즉각 조사가 중단된다고 설명하였다. 갑은 실제로 조사 진행 중 응답 중단을 요청하는 노인들에 대해 조사를 중단하고 ㉡해당 답변 자료를 폐기하였다. 노인들이 연구 목적을 알게 되면 연구에 영향을 미친다고 판단한 갑은 ㉢연구 결과를 발표한 후에도 연구 대상자에게 연구 목적을 알리지 않았다. 갑은 자신이 발표한 연구 논문에 관심을 가진 □□기업이 연구 자료를 요청하자, 연구비 지원을 받는 대가로 ㉣연구 대상자의 개인 정보를 삭제하고 나머지 모든 연구 자료를 제공하였다.

- ㉠. ㉠은 연구 대상자의 자발적 참여를 보장한 것이므로 연구 윤리에 위배되지 않는다.
- ㉡. ㉡은 연구 자료 조작이라고 볼 수 없으므로 연구 윤리에 위배되지 않는다.
- ㉢. ㉢은 연구 자료의 객관성을 보장하기 위한 것이므로 연구 윤리에 위배되지 않는다.
- ㉣. ㉣은 연구 대상자의 익명성을 보장한 것이므로 연구 윤리에 위배되지 않는다.

- ① ㉠, ㉡    ② ㉠, ㉢    ③ ㉡, ㉢    ④ ㉡, ㉣    ⑤ ㉢, ㉣

## SECTION 06

### 사회 실재론 vs 사회 명목론

014      240607      93%

다음 글에 나타난 개인과 사회의 관계를 바라보는 관점에 대한 옳은 설명만을 <보기>에서 고른 것은? [3점]

사회는 개인의 주관적인 의식 세계를 초월하여 개인의 외부에 객관적으로 존재한다. 또한 사회는 그 자체 논리에 따른 질서와 구조를 가지며 이를 통하여 개인의 행동에 영향을 미친다.

ㄱ. 개인이 주체적이고 능동적인 존재임을 강조한다.  
 ㄴ. 사회 구조에 대한 개인의 불가항력성을 강조한다.  
 ㄷ. 사회의 속성은 개인의 속성에 의해 결정된다고 본다.  
 ㄹ. 사회 문제의 발생 원인을 개인의 의식보다 사회 제도와 구조에서 찾는다.

① ㄱ, ㄴ    ② ㄱ, ㄷ    ③ ㄴ, ㄷ    ④ ㄴ, ㄹ    ⑤ ㄷ, ㄹ

015      240918      93%

다음 글에 나타난 개인과 사회의 관계를 바라보는 관점에 대한 옳은 설명만을 <보기>에서 고른 것은?

사회학의 지적 관심은 사회적 사실에 있다. 사회적 사실은 단순히 개인적 사실을 모아 놓은 것과는 근본적으로 다른 성격을 지닌 고유한 대상이다. 법, 관습, 종교 생활, 화폐 체계와 같은 사회적 사실은 개인적 사실만을 통해서서는 발견될 수 없다.

ㄱ. 사회를 개인의 외부에 존재하는 독자적인 실체로 본다.  
 ㄴ. 사회는 개인의 이익을 실현하기 위한 수단이라고 본다.  
 ㄷ. 사회의 특성이 개인의 특성으로 환원될 수 없다고 본다.  
 ㄹ. 사회는 개인의 자율적인 의지에 의해 만들어진다고 본다.

① ㄱ, ㄴ    ② ㄱ, ㄷ    ③ ㄴ, ㄷ    ④ ㄴ, ㄹ    ⑤ ㄷ, ㄹ

016      241102      86%

다음 글에 나타난 개인과 사회의 관계를 바라보는 관점에 대한 옳은 설명만을 <보기>에서 고른 것은?

돈 자체가 가치를 지닌다는 믿음과 돈이 삶의 궁극적 목표라는 인식이 있다. 하지만 돈의 가치는 인간의 욕구에서 기인하는 심리적 사실에 불과하다. 돈은 인간이 그것을 갈망할 때 비로소 가치를 부여받는다. 또한 돈은 사회적 결사의 매개체일 뿐이다. 사람은 돈을 매개로 아름다운 사회를 만들 수도, 차별과 위선이 만연한 사회를 만들 수도 있다. 결국 돈의 가치는 상대적, 수단적인 것이다. 돈은 '더 나은 삶'에 도달하기 위한 다리에 불과하며, 인간은 다리에서 살아갈 수 없다.

ㄱ. 사회의 속성을 개인의 속성으로 환원할 수 있다고 본다.  
 ㄴ. 사회는 개인의 이익을 실현해 주는 도구에 불과하다고 본다.  
 ㄷ. 사회는 개인의 외부에 존재하는 독자적인 실체라고 본다.  
 ㄹ. 사회의 구속력이 개인의 자유 의지보다 우위에 있다고 본다.

① ㄱ, ㄴ    ② ㄱ, ㄷ    ③ ㄴ, ㄷ    ④ ㄴ, ㄹ    ⑤ ㄷ, ㄹ

## SECTION 07

### 지위·역할·사회화

017      240612      86%

밑줄 친 ㉠~㉣에 대한 설명으로 옳은 것은? [3점]

㉠청소년 시절, K-pop에 매료되었던 외국인 갑은 한국으로 유학을 결심하고 ㉡○○대학교 ㉢조선공학과에 입학하였다. 졸업 후 대기업인 ㉣△△조선에 취직했지만, 어릴 적부터 동경하던 ㉠항공기 정비사가 되기 위해 ㉡2년 만에 자진 퇴사를 하였다. 이후 항공사에 입사한 갑은 ㉣항공기 정비 업무에 필요한 사내 교육 과정을 수료하고 항공기 정비 업무와 기술 교육을 맡고 있다.

① ㉠은 2차 집단이자 비공식 조직이다.  
 ② ㉡은 갑의 역할 행동에 대한 제재이다.  
 ③ ㉣은 1차적 사회화 기관을 통해 이루어진 사회화이다.  
 ④ ㉠과 ㉡은 모두 성취 지위이다.  
 ⑤ ㉢은 ㉣과 달리 공식적 사회화 기관이다.



| SECTION 08 |  
**사회 집단과 사회 조직**

**018      240907      38%**

다음 자료에 대한 설명으로 옳은 것은? [3점]

**취업 특강 개설을 위한 재학생 대상 사전 조사**  
 (A 대학교 취업 상담 센터)

↳ **갑**: 취업 상담 센터가 주관하는 취업 특강을 교내 독서 모임에서 함께 활동하고 있는 을과 들었음. 이번에는 총동창회의 주최로 ○○기업에서 진행되는 취업 특강에 참여할 예정임. □□시민 단체에서 활동하고 있는 병이 추천해 준 자격증 취득을 위한 특강 개설 여부가 궁금함.

↳ **을**: □□시민 단체에서 함께 활동하고 있는 후배와 여름 방학에 △△방송사가 주관하는 직업 체험 활동에 참가할 예정이라 취업 특강 참석이 어려움. 언론인이 되고 싶어 하는 학생들을 위해 방송인 협회의 특강 개최를 취업 상담 센터에 건의하고 싶음.

↳ **병**: 고등학교 선배가 운영하는 대안 학교에서 수업 보조 강사로 함께 활동하고 있는 갑이 ○○기업에서 진행되는 취업 특강에 같이 가자고 함. 졸업 후 대학원 진학도 고민 중이라 참석 여부를 고심하고 있음.

- ① 갑이 작성한 내용에 나타난 공식 조직의 개수는 을이 작성한 내용에 나타난 2차적 사회화 기관의 개수보다 많다.
- ② 을이 작성한 내용에 나타난 자발적 결사체의 개수는 을이 속해 있는 자발적 결사체의 개수와 같다.
- ③ 병이 속해 있는 공식적 사회화 기관의 개수는 갑이 속해 있는 공식적 사회화 기관의 개수보다 많다.
- ④ 갑과 병이 함께 속해 있는 2차 집단의 개수는 병이 속해 있는 비공식적 사회화 기관의 개수보다 적다.
- ⑤ 갑과 을이 함께 속해 있는 비공식 조직은 없지만 을과 병이 함께 속해 있는 이익 사회는 있다.

**019      241107      63%**

다음 자료에 대한 설명으로 옳은 것은?

**예능 프로그램 <인연 만들기> 대본**

[장면 1] (내레이션): 이번회는 연하남, 연상녀와 결혼하고 싶은 사람들의 특집입니다. 먼저 자기소개를 들어볼까요?

[장면 2] **갑**: □□기업에서 프로그래머로 근무 중입니다. 대학교 때는 경영학을 공부했으나, 진로에 대한 고민 끝에 선택한 현재 직업에 매우 만족하고 있습니다. 바다낚시 동호회에서 함께 활동하고 있는 을과 낚시를 자주 다닙니다.

[장면 3] **을**: 여행을 좋아하여 △△은행 사내 여행 동아리에서 활동한 적이 있습니다. 해외 여행 관련 회사 창업을 고민하던 중에 고등학교 총동창회에서 함께 활동하고 있는 병의 조언에 따라 은행을 그만두고, 대학원에 진학하여 관광 경영에 관한 공부를 다시 하고 있습니다.

[장면 4] **병**: ○○방송국의 프로듀서로 일하면서 영화감독이 되기 위해 시나리오를 구상 중입니다. 대학교를 졸업한 후 을과 함께 △△은행에서 주최한 모의 주식 투자 대회에서 입상한 적이 있습니다. 주말에는 동물 보호 단체 회원으로 봉사 활동을 합니다.

- ① [장면 1]에 적혀 있는 내용에는 성취 지위가, [장면 3]에 적혀 있는 내용에는 비공식 조직이 있다.
- ② [장면 2]에 적혀 있는 이익 사회의 개수는 [장면 4]에 적혀 있는 비공식적 사회화 기관의 개수보다 적다.
- ③ 갑은 을과 달리 역할 갈등이 해소되어 준거 집단과 소속 집단이 일치한다.
- ④ 을이 속해 있는 자발적 결사체의 개수는 병이 속해 있는 2차 집단의 개수보다 적다.
- ⑤ 대본에는 갑의 재사회화와 을, 병의 예기 사회화 내용이 적혀 있다.

SECTION 09  
관료제 vs 탈관료제

020      240604      91%

A, B의 일반적인 특징에 대한 설명으로 옳은 것은? (단, A, B는 각각 관료제, 탈관료제 중 하나임.)

□□기업은 의사 결정 권한이 분산되어 있고 업무의 범위와 분담 체계를 개별 담당 부서에서 자율적으로 결정한다. □□기업의 조직 운영 방식은 A의 사례이다. ○○기업의 의사 결정은 관리자 중심으로 이루어지며 모든 부서는 표준화된 규약과 절차에 따라 업무를 수행한다. ○○기업의 조직 운영 방식은 B의 사례이다.

- ① A는 B에 비해 외부 환경 변화에 유연하게 대처하기 용이하다.
- ② A는 B와 달리 공식적 규범에 의한 통제가 이루어진다.
- ③ B는 A에 비해 구성원이 창의성을 발휘하기 용이하다.
- ④ B는 A와 달리 업무 수행의 효율성을 추구한다.
- ⑤ A는 연공서열에 따른 보상을, B는 성과에 따른 보상을 중시한다.

021      240917      62%

A, B의 일반적인 특징에 대한 옳은 설명만을 <보기>에서 고른 것은? (단, A, B는 각각 관료제, 탈관료제 중 하나임.)

- ㄱ. A는 B에 비해 업무 수행의 안정성을 확보하기가 용이하다.
- ㄴ. A는 B에 비해 외부 환경 변화에 대한 유연한 대처가 용이하다.
- ㄷ. B는 A에 비해 목적 진치 현상이 나타날 가능성이 낮다.
- ㄹ. A는 의사 결정의 분권화, B는 업무 수행의 분업화가 강조된다.

- ① ㄱ, ㄴ    ② ㄱ, ㄷ    ③ ㄴ, ㄷ    ④ ㄴ, ㄹ    ⑤ ㄷ, ㄹ

022      241112      93%

A, B의 일반적인 특징에 대한 설명으로 옳은 것은? (단, A, B는 각각 관료제, 탈관료제 중 하나임.) [3점]

○○버거 회사는 명확한 위계 구조 속에서 직급별 권한과 책임을 세분화하고 메뉴, 조리법 등을 표준화하여 관리하는 A로 운영하였다. 최근 이윤이 급감하자 ○○버거 회사는 어떤 직원의 제안이든 창의적인 메뉴라면 수용하고 수평적인 의사 결정 구조를 채택하는 등 B를 도입하여 회사의 이윤 증대를 꾀하고 있다.

- ① A는 B에 비해 업무 수행 과정의 예측 가능성이 높다.
- ② A는 B와 달리 외부 환경 변화에 대한 유연한 대처가 용이하다.
- ③ B는 A에 비해 목적 진치 현상이 나타날 가능성이 높다.
- ④ B는 A와 달리 효율적인 목표 달성이 조직 운영의 핵심이다.
- ⑤ A는 능력에 따른 보상을, B는 경력에 따른 보상을 중시한다.

**SECTION 10**  
**일탈 이론**

**023**                      **240614**                      **86%**

일탈 이론 A~C에 대한 설명으로 옳은 것은? (단, A~C는 각각 머튼의 아노미 이론, 차별 교제 이론, 낙인 이론 중 하나임.)

A : 폐가의 유리창을 깨고 지붕을 오르는 행위는 아이들에게 일종의 놀이에 불과하나, 지역 주민들은 그런 행위를 하는 아이들을 점차 구제 불능이라고 규정하게 된다. 이런 사회적 평가를 내면화하여 아이들은 점점 더 심각한 비행으로 나아가게 된다.

B : 법을 어기는 사람과 지키는 사람의 차이는 타고난 소질보다는 그들이 배워 온 내용에 있다. 범죄가 적은 지역에서 성장하는 사람은 법 위반에 대한 비우호적 태도를, 범죄가 많은 슬럼 지역에서 성장하는 사람은 법 위반에 대한 우호적 태도를 더 많이 배울 것이다.

C : 물질적 성공에 대한 문화적 강조는 '가능하다면 정당한 방법으로, 필요하다면 잘못된 방법으로도' 그 목표를 추구하라는 압력으로 작용한다. 따라서 성공 목표에 대한 지나친 강조는 규칙에 대한 감정적 지지를 훼손하고 제도적 규제의 효과적인 작용을 방해한다.

- ① A는 일탈에 대한 대책으로 낙인의 신중한 적용을 강조한다.
- ② B는 차별적인 사회적 제재를 일탈 행동의 원인으로 본다.
- ③ C는 일탈 행동을 규정하는 객관적 기준이 존재하지 않는다고 본다.
- ④ A는 B와 달리 개인이 타인과의 상호 작용을 통해 일탈자가 되어 가는 과정에 주목한다.
- ⑤ B는 C와 달리 범죄 예방을 위해 소외 계층에게 더 나은 취업 기회를 제공하는 정책을 뒷받침한다.

**024**                      **240909**                      **77%**

일탈 이론 A~C에 대한 설명으로 옳은 것은? (단, A~C는 각각 머튼의 아노미 이론, 차별 교제 이론, 낙인 이론 중 하나임.)

일탈 이론 A, B, C의 사례로 일탈을 저지른 갑, 을, 병의 진술을 살펴 보았다. 각각의 진술에 나타난 가장 두드러진 특징은 다음과 같다. 갑은 문화적 목표를 이루기 위한 합법적 수단이 부족했던 적이 한 번도 없었다. 을은 일탈자들과 어울리거나 그들의 행동을 따라 하려고 했던 적이 한 번도 없었다. 병은 여러 사회 규범을 위반했음에도 비난이나 제재를 받았던 적이 한 번도 없었다. 이러한 특징을 바탕으로 갑, 을, 병에게 서로 다른 일탈 이론을 적용해 보면 갑의 일탈은 A나 B, 을의 일탈은 B나 C, 병의 일탈은 A나 C로 설명하는 것이 타당하다.

- ① A는 일탈에 대한 대책으로 제도화된 기회의 확대를 중시한다.
- ② B는 타인과의 상호 작용을 통한 일탈의 학습 과정에 주목한다.
- ③ C는 정상 집단과의 교류를 일탈의 해결 방안으로 제시한다.
- ④ B는 A, C와 달리 일탈을 규정하는 객관적 기준이 없다고 본다.
- ⑤ C는 A, B와 달리 일탈에 대한 대책으로 사회 규범의 통제력 강화를 강조한다.

**025**                      **241111**                      **72%**

다음 자료에 대한 설명으로 옳은 것은?

사회자 : 뒤크렘의 아노미 이론, 머튼의 아노미 이론, 차별 교제 이론, 낙인 이론 중 하나를 선택하여 최근 우리 사회에서 나타나는 범죄 현상을 설명해 주십시오.

갑 : 급속한 사회 변동으로 경제적 성취와 개인주의라는 새로운 가치가 나타나고 있습니다. 이로 인해 과거에 작동했던 전통적 규범과 새롭게 등장한 가치가 혼재되면서 삶의 기준을 상실한 사람들의 범죄가 늘어나고 있습니다.

을 : 성공에 필요한 합법적 기회가 있는 사람들마저도 범죄를 저지릅니다. 이들은 비합법적 수단으로 큰돈을 번 사람들과 빈번하게 교류하며 그들의 방식과 태도를 습득함으로써 범죄를 저지르고 있습니다.

병 : 청소년 시기에 전과자가 된 사람들은 충분한 교육을 받지 못합니다. 이로 인해 경제적 성공을 위한 경쟁이 치열한 사회에서 물질적 성공에 필요한 기회가 제한되어 범죄를 저지르고 있습니다.

- ① 갑의 관점은 을의 관점과 달리 정상 집단과의 교류를 일탈 행동의 해결 방안으로 제시한다.
- ② 을의 관점은 병의 관점과 달리 차별적인 사회적 제재를 일탈 행동의 원인으로 본다.
- ③ 병의 관점은 갑의 관점과 달리 문화적 목표와 제도화된 수단의 괴리를 일탈 행동의 원인으로 본다.
- ④ 갑, 을의 관점은 병의 관점과 달리 사회 구조적 관점에서 일탈 행동을 설명한다.
- ⑤ 을, 병의 관점은 갑의 관점과 달리 개인이 타인과의 상호 작용을 통해 일탈자가 되어 가는 과정에 주목한다.

| SECTION 11 |  
문화의 의미와 속성

026      240605      86%

밑줄 친 ㉠~㉣에 대한 설명으로 옳은 것은? [3점]

갑국에서는 ㉠종교가 계층별 생활 양식을 비롯한 사회생활 전반에 영향을 크게 미친다. 예컨대 사회적으로 높은 위치에 있는 사람들은 종교 교리의 영향을 받아 육식을 멀리한다. 그래서 갑국 사람들은 이들과 고상하게 보이려고 ㉡직장 등에서 여러 사람과 함께 식사할 때는 채식을 단연시한다. 그런데 최근 갑국에서 ㉢스마트폰과 배달 애플리케이션 사용이 일상화되면서, 고기가 들어간 도시락 판매가 크게 증가하였다. 이는 ㉣육식 문화에 대한 부정적인 시각이 여전한 상황에서 ㉠타인의 눈치를 보지 않고 육류를 먹으려고 도시락을 주문하는 사람들이 증가하여 나타난 현상이다.

- ① ㉠에는 문화의 변동성이 부각되어 있다.
- ② ㉡에는 문화의 공유성이 부각되어 있다.
- ③ ㉢은 비물질문화에 해당한다.
- ④ ㉣에서 '문화'는 좁은 의미의 문화이다.
- ⑤ ㉣은 문화 지체의 사례로 볼 수 있다.

027      240906      55%

다음 자료에 대한 설명으로 옳은 것은?

○학생별로 서로 다르게 한 가지씩 배정받은 각 문화의 속성이 부각되는 사례를 작성하세요.

학생	문화의 속성	해당 속성이 부각된 사례
갑	㉠	외국인 유학생이 한국의 젓가락 사용법을 익혀 일상생활에서 사용하고 있다.
을	㉡	A 지역의 모든 사람들은 특정 기간에 신들이 임무를 교대한다고 믿기 때문에 그 기간을 신성하게 여기는 마음을 가지고 있다.
병	변동성	(가)
정	축적성	(나)
무	전체성	(다)

갑, 을, 정만 옳은 사례를 제시했고, 병은 ㉠, 무는 ㉡에 해당하는 사례를 제시했어요.

- ① ㉠은 문화가 세대 간 전승을 통해 더욱 복잡하고 풍부해지는 것임을 의미한다.
- ② ㉡은 문화가 여러 요소들이 상호 유기적으로 연관되어 나타나는 것임을 의미한다.
- ③ (가)에는 '내비게이션 등장 이후 운전할 때 종이 지도로 길을 찾는 사람들은 거의 사라졌다.'가 들어갈 수 있다.
- ④ (나)에는 '예전에는 혈액형으로 성향을 파악했지만, 요즘은 성격 검사 결과를 통해 성향을 파악하는 것을 즐긴다.'가 들어갈 수 있다.
- ⑤ (다)에는 '팬클럽마다 좋아하는 연예인을 상징하는 색깔을 정하고 그 색깔을 응원에 활용한다.'가 들어갈 수 있다.

028      241106      36%

다음 자료에 대한 설명으로 옳은 것은? [3점]

문화의 속성 5가지(가)를 서로 다르게 1가지씩 배정했습니다. '자전거'를 소재로 각자 배정받은 속성이 부각된 사례를 말해 볼까요?

교사

갑: 출퇴근 수단으로 ○○국 사람들이 자전거를 떠올리는 것은 A가 부각된 사례입니다.

을: 예전과 다르게 짧은 거리를 이동할 때 택시를 이용하는 대신 자전거를 이용하는 사람이 늘어난 것은 B가 부각된 사례입니다.

병: (가)은 축적성이 부각된 사례입니다.

정: (나)은 전체성이 부각된 사례입니다.

무: (다)은 변동성이 부각된 사례입니다.

갑과 정은 각각 배정받은 속성이 부각된 사례를 제시하였습니다. 하지만 을은 무가 배정받은 속성, 병은 학습성, 무는 병이 배정받은 속성이 부각된 사례를 제시하였습니다.

교사

- ① A는 문화가 시간이 지남에 따라 변화하는 것을 의미한다.
- ② B는 사회 구성원이 문화를 후천적으로 습득하는 것을 의미한다.
- ③ (가)에는 '어릴 적 자전거 타는 방법을 부모에게 배워 능숙하게 자전거를 탈 수 있게 된 것'이 들어갈 수 없다.
- ④ (나)에는 '기존의 자전거에 변속기가 추가되고 충격 흡수 장치가 더해지는 것'이 들어갈 수 있다.
- ⑤ (다)에는 '자전거 이용자가 늘어나자 기업이 자전거를 이용하는 공유 경제 상품을 개발하고, 정부가 전용 도로를 건설하는 것'이 들어갈 수 있다.

**SECTION 12**  
**문화 이해 태도**

**029**                      **240609**                      **97%**

밑줄 친 ㉠과 같은 문화 이해 태도에 부합하는 진술만을 <보기>에서 있는 대로 고른 것은? [3점]

○○족 문화를 연구하러 현지 조사를 떠난 A는 우연히 마을 장로들과 세익스피어의 ‘햄릿’에 대하여 대화를 나누게 된다. ‘햄릿’은 아버지의 갑작스러운 죽음 이후, 아버지 대신 왕이 된 삼촌과 어머니의 결혼에 괴로워하던 햄릿이 아버지를 죽인 삼촌에게 복수하는 이야기이다. 그런데 형이 죽으면 동생이 형수와 결혼하는 것을 당연시하고, 아버지의 복수를 아들이 직접 하는 것도 금지하는 ○○족 사회에서 햄릿의 행동은 전혀 다르게 해석되었다. 그들과의 대화를 통해 A는 보편적으로 통용될 것이라 믿었던 ‘햄릿’에 대한 해석도 특정 문화의 관점에서 만들어진 것에 불과하다는 것을 알게 되었다. 이를 통해 타 문화를 이해하기 위해서는 그 사회의 문화가 형성되는 상황이나 맥락을 고려하는 ㉠문화 이해 태도가 중요하다는 사실을 깨닫게 되었다.

- ㄱ. 이웃 나라에서 체면을 중시하는 문화가 왜 지배적인지 그 사회 내부의 논리와 체계 속에서 이해할 필요가 있어.
- ㄴ. 음식을 손으로 집어 먹는 우리 문화는 열등해. 서구 사회처럼 포크와 나이프를 사용하는 세련된 문화를 받아들여야 해.
- ㄷ. 시신을 화장하는 우리의 장례 문화와 비교할 때, 시신을 새나 다른 동물의 먹이로 들판에 방치하는 △△부족의 관습은 너무 야만적이야.

- ① ㄱ                      ② ㄴ                      ③ ㄱ, ㄷ                      ④ ㄴ, ㄷ                      ⑤ ㄱ, ㄴ, ㄷ

**030**                      **240912**                      **94%**


갑~병의 문화 이해 태도에 대한 설명으로 옳은 것은?

여행 가서 B국 피자를 먹어 본 이후로 □□ 피자는 쳐다보지도 않아요. 우리나라에서 피자를 만드는 사람들은 B국의 정통 피자 조리법을 그대로 따라야 합니다.

□□ 피자는 피자의 본고장인 우리나라 피자과 비교하면 식재료와 맛이 너무 달라 피자라고 볼 수 없습니다. 저는 이 음식에 피자라는 이름을 붙이는 것조차 불쾌합니다.

□□ 피자는 A국 고유의 식재료로 국민들의 입맛에 맞춰 만든 피자입니다. 그 나라의 상황에 맞게 만들어진 음식이므로 그 자체로 존중받아야 합니다.

A국의 □□ 피자에 대해 어떻게 생각하십니까?



진행자

A국 국민 갑



A국 국민 갑

B국 국민 을



B국 국민 을

C국 국민 병



C국 국민 병

- ① 갑의 태도는 선진 문물 수용에 소극적이라는 비판을 받는다.
- ② 을의 태도는 문화 제국주의로 변질될 수 있다는 비판을 받는다.
- ③ 병의 태도는 특정 문화를 기준으로 타 문화를 평가한다는 비판을 받는다.
- ④ 갑의 태도는 을의 태도와 달리 타 문화와의 마찰을 일으킬 수 있다는 비판을 받는다.
- ⑤ 을의 태도는 병의 태도와 달리 자기 문화의 정체성을 상실할 수 있다는 비판을 받는다.


**031**                      **241116**                      **95%**

갑~병의 문화 이해 태도에 대한 설명으로 옳은 것은?

A국 사람들은 동료들과 함께 식사해도 자신이 먹은 음식 값은 각자 지불해. A국 사람들의 세련되고 진보한 문화를 우리 사회가 본받았으면 좋겠어.

나는 연장자나 모임을 주최한 사람이 기분 좋게 음식 값을 모두 지불하는 우리의 문화가 훌륭하다고 생각해. 오히려 A국 사람들이 우리 문화를 본받아야 해.


A국의 문화도, 우리의 문화도 모두 의미가 있지. 무엇이 더 훌륭한지를 판단할 게 아니라 왜 그런 문화가 생겼는지 그 사회의 맥락을 살펴보는 것이 필요해.



갑



을



병

- ① 갑의 태도는 선진 문물 수용에 적극적이지 않다는 비판을 받는다.
- ② 을의 태도는 자국의 문화 정체성을 약화한다는 비판을 받는다.
- ③ 병의 태도는 문화 제국주의로 나아갈 수 있다는 비판을 받는다.
- ④ 갑, 을의 태도는 모두 문화의 다양성을 저해할 수 있다는 비판을 받는다.
- ⑤ 을, 병의 태도는 모두 특정 문화를 기준으로 문화 간 우열을 가린다는 비판을 받는다.

SECTION 13

주류문화 · 하위문화 · 반(反)문화

032

240613

89%

다음 자료에 대한 옳은 설명만을 <보기>에서 고른 것은?

1945년 이후 침략국이자 패전국인 독일이 취한 태도는 망각이었다. 독일 사회는 전쟁 희생자를 애도하기 위한 공적 의례를 하지 않았다. 전쟁의 상처가 생생하게 남아있는 사회에서 사람들은 과거에 대해 침묵으로 일관했다. 1950년대에도 지속된 ㉠'침묵의 연합'이라는 사회 전반적인 풍토에 균열이 생긴 결정적 계기는 전후 세대의 등장이었다. 특히 1960년대 후반부터 일어난 학생 봉기는 전쟁 희생자로 자신들을 포장해 온 부모 세대를 맹렬히 비난하면서 전쟁에 대한 죄의식의 부재를 공적 논쟁의 장으로 끌어냈다. 전쟁의 기억과 책임 문제를 둘러싼 세대 간 갈등은 투쟁의 양상을 띠며 심화되었다. 당시 젊은 세대가 공유했던 ㉡'집합적 죄의식'은 1970년대에 접어들면서 공적 의례의 중심 서사가 되고 대중문화의 소재로 빈번히 사용되는 등 독일 사회의 지배적인 기억 문화가 되어갔다.

- ㄱ. 1950년대 독일 사회에서 ㉠은 하위문화이다.
- ㄴ. 1960년대 후반 독일 사회에서 ㉡은 반문화의 성격을 띤다.
- ㄷ. ㉠은 ㉡과 달리 독일 사회의 지역문화이다.
- ㄹ. 지배적인 가치에 도전하는 문화가 주류문화로 변화한 사례가 나타난다.

- ① ㄱ, ㄴ    ② ㄱ, ㄷ    ③ ㄴ, ㄷ    ④ ㄴ, ㄹ    ⑤ ㄷ, ㄹ

033

240902

88%

A~C에 대한 설명으로 옳은 것은? (단, A~C는 각각 주류 문화, 하위문화, 반문화 중 하나임.)

유일신을 숭배하는 □□교를 오랜 기간 국교(國敎)로 유지하고 있는 갑국에 조상신을 숭배하는 ○○교가 유입되었다. 갑국에서 ○○교는 처음에는 일부 집단만이 공유한 A였다. 그런데 ○○교 신자들이 갑국의 B인 □□교가 숭배하는 유일신을 부정하면서 ○○교는 C의 성격을 가지게 되었다.

- ① A는 B와 달리 시대에 따라 상대적으로 규정된다.
- ② B는 C와 달리 문화 다양성 증가에 기여한다.
- ③ C는 A, B와 한 사회에서 공존할 수 없다.
- ④ A, B는 C와 달리 해당 문화를 향유하는 구성원의 정체성 강화에 기여한다.
- ⑤ C는 A에 해당하지만, A가 B에 해당하는 것은 아니다.

034

241109

87%

다음 두 사례에서 공통적으로 도출할 수 있는 내용으로 가장 적절한 것은?

- 갑국의 빈민가 출신 젊은이들은 주류 사회의 가치관에 상충하는 요소들을 의식적으로 드러내는 새로운 장르의 음악을 만들어 냈다. 그런데 해당 장르가 음악 산업의 주류로 자리 잡으면서 본연의 색채를 잃었다는 평가를 받고 있다.
- 을국의 일부 젊은이들은 사회 전반에 퍼진 삶의 방식이 지나치게 경쟁적이고, 이기적이며, 물질 중심적이라고 비판하며 그들만의 새로운 삶의 양식을 만들어 나갔다. 이들은 물질 소유를 최소화하고 인간으로서 정신적 성장을 중시하는 삶의 양식을 추구하였다.

- ① 반문화는 전체 사회에서 주류 문화가 된다.
- ② 하위문화와 반문화는 모두 세대 간 갈등의 원인이 된다.
- ③ 주류 문화에 대항하는 구성원에 의해 반문화가 형성된다.
- ④ 주류 문화와 하위문화는 모두 사회의 안정과 통합에 기여한다.
- ⑤ 반문화는 주류 문화로 변화하는 과정에서 정체성이 상실된다.

**SECTION 14**  
**문화 변동**

**035                      240619                      94%**

다음 자료에 대한 설명으로 옳은 것은? [3점]

<문화 변동 사례>

(가) A국을 대표하는 ○○음악은 전통적으로 내려오던 멜로디와 악기에서 출발하였다. 이후 이민자에 의해 들어 온 다양한 음악과 악기를 받아들여 고유한 요소와 외래적 요소가 함께 어우러진 독특한 음악으로 재탄생한 것이 오늘날의 ○○음악이다.

(나) □□족은 B국의 지배를 받게 되면서 거주지가 재배치되었고, 심지어 아이들은 B국 사람들의 가정에 입양되어 B국의 언어와 복식을 따라야만 했다. 이로 인해 □□족의 고유한 문화는 소멸되었다.

교사 : 문화 변동 사례를 읽고 탐구한 내용을 발표해 보세요.  
 갑 : (가)와 (나)는 모두 외재적 요인에 의한 문화 변동의 사례로 볼 수 있습니다.  
 을 : (나)에서는 (가)와 달리 기존의 문화와 외래문화가 결합하여 새로운 문화가 나타났습니다.  
 병 : .  
 교사 : 세 사람 중 두 사람만 옳게 발표했네요.

- ① (가)의 문화 변동 요인은 자극 전파이다.
- ② (가)에서는 (나)와 달리 자문화의 정체성이 상실되었다.
- ③ (나)에서는 (가)와 달리 문화 다양성이 증대되었다.
- ④ (나)에서는 (가)와 달리 강제적 문화 접변이 나타났다.
- ⑤ ㉠에는 '(나)의 문화 변동 요인은 간접 전파입니다.'가 들어갈 수 있다.

**036                      240913                      70%**

다음 사례에 나타난 문화 변동에 대한 설명으로 옳은 것은? [3점]

A국 영화인들은 영화 산업이 발달한 B국 영화인에게 영화 제작 기법 및 특수 효과 기술을 배워 왔다. 그 후 A국에서 자국의 전통적 정서와 B국의 특수 효과 기술이 섞인 새로운 영화 장르가 탄생했다. 한편, B국 어업인들이 조업 활동 중 C국 어업인이 끓여 준 라면을 먹게 되면서 B국에 C국 라면이 처음 전해졌다. 이후 B국 요리사가 C국 라면에 자국의 전통 소스를 가미해 국물이 없는 비빔 라면을 개발하였다. B국의 비빔 라면 조리 방식은 인터넷을 통해 C국 젊은이들에게까지 확산되었다.

- ① A국에서는 B국과 달리 문화 융합이 나타났다.
- ② B국에서는 A국과 달리 문화 접변이 나타났다.
- ③ B국에서는 C국과 달리 문화 공존이 나타났다.
- ④ A국에서는 직접 전파, B국에서는 간접 전파가 나타났다.
- ⑤ A국~C국에서는 모두 물질 문화의 전파가 나타났다.

**037                      241114                      63%**

다음 자료에 대한 설명으로 옳은 것은? [3점]

○○국의 음식 문화 변동 양상에 대한 모둠 과제 우수 사례

<p style="text-align: center;">&lt;1모둠&gt;</p> <p>○○국 내에 갑국 이주민 거주 지역에서나 볼 수 있던 갑국의 전통 음식 A가 전국적으로 유행함. 특히 ○○국 젊은 세대 사이에서 자국적인 맛으로 A가 인기임.</p>	<p style="text-align: center;">&lt;2모둠&gt;</p> <p>○○국 음료 회사는 다이어트 열풍으로 을국의 무설탕 음료 B의 제조법에 자극 받아 새로운 무열량 음료를 개발함. 젊은 층의 선호로 ○○국에서 전통 음료와 B의 판매량을 추월함.</p>
<p style="text-align: center;">&lt;3모둠&gt;</p> <p>○○국 제과 회사가 만든 과자 C는 병국의 과자에 ○○국의 식재료인 황태 가루를 넣은 새로운 과자임. 병국의 유명 연예인이 C가 병국 과자를 대체할 수 있을 만큼 맛있다고 하자 ○○국보다 병국에서 많이 판매됨.</p>	<p style="text-align: center;">&lt;4모둠&gt;</p> <p>떡대기에 과일 사탕을 꽂은 정국의 디저트 D가 SNS를 통해 ○○국에 알려짐. 이후 ○○국 젊은이들이 인터넷에서 배운 조리법 대로 D를 만들어 먹기 시작하며 D가 젊은 세대 문화로 스며들.</p>

- ① 1모둠과 2모둠이 작성한 내용에 모두 문화 공존이 나타난다.
- ② 3모둠과 4모둠이 작성한 내용에 모두 문화 융합이 나타난다.
- ③ 1모둠이 작성한 내용에 발명이, 2모둠이 작성한 내용에 직접 전파가 나타난다.
- ④ 3모둠이 작성한 내용에 문화 동화가, 4모둠이 작성한 내용에 간접 전파가 나타난다.
- ⑤ 1모둠과 2모둠이 작성한 내용에 모두 자극 전파가, 3모둠과 4모둠이 작성한 내용에 모두 자발적 문화 접변이 나타난다.

SECTION 15

사회적 소수자

038

240608

89%

다음 두 사례에서 공통적으로 도출할 수 있는 결론으로 가장 적절한 것은?

- 갑국에서 외국인 근로자는 전체 인구의 약 10%에 해당한다. 이들을 대상으로 일상생활에서 차별받은 경험 여부를 조사했더니 대다수가 갑국 사회에서 차별받은 경험이 있다고 응답했다. 또한 내국인의 경우처럼 남성보다 여성이 더 심한 차별을 받는 것으로 나타났다.
- 을국은 A 민족과 B 민족으로 구성되어 있는데, B 민족이 전체 인구의 70% 정도임에도 정치경제의 대부분을 장악한 A민족으로부터 차별을 받는다. 한편, 을국에서는 종교에 따른 차별도 존재하는데, B 민족의 경우 국교가 아닌 타 종교를 믿는 사람들은 더 심한 차별을 받고 있다.

- ① 수적으로 열세이기 때문에 사회적 소수자가 된다.
- ② 사회적 소수자에 대한 우대 정책이 역차별을 낳을 수 있다.
- ③ 한 개인이 여러 사회적 소수자 집단에 중첩되어 속할 수 있다.
- ④ 사회적 소수자를 규정하는 기준은 가변적이지 않고 고정적이다.
- ⑤ 사회적 소수자는 선천적 요인이 아닌 후천적 요인에 의해 결정된다.

039

241108

75%

사회적 소수자 A, B에 대한 설명으로 옳은 것은? [3점]

- 갑국에 사는 노인 A는 취업 시장에서 불이익을 받거나 카페 등 특정한 장소에서 입장에 제한을 받는 등 나이가 많다는 이유로 차별받았다.
- 강제 이주로 3대째 을국에서 살고 있는 이주민의 3세 B는 을국 사람들과 구분되는 민족적, 인종적 특성으로 인해 을국에서 차별받았다.

- ① A는 B와 달리 권력의 열세로 인해 차별받았다.
- ② A는 B와 달리 여러 사회적 소수자 집단에 중첩되어 속해 있다.
- ③ B는 A와 달리 고정 관념으로 인해 차별의 대상이 되었다.
- ④ B는 A와 달리 식별 가능성으로 인해 차별의 대상이 되었다.
- ⑤ A와 B는 모두 귀속적 특성으로 인해 차별받았다.

SECTION 16

빈곤

040

240905

74%

다음 자료에 대한 옳은 설명만을 <보기>에서 있는 대로 고른 것은? [3점]

[서술형 평가] 다음 글에 제시된 빈곤의 유형 A에 대한 옳은 설명을 4가지 쓰시오.

일반적으로 빈곤은 인간의 기본적 욕구와 관련된 물질적 결핍이 만성적으로 지속되는 경제적 상태를 의미한다. 설령 인간으로서 최소 생활 유지에 필요한 자원이나 소득이 확보된 상태라 해도 사회의 전반적 소득 수준과 비교하여 소득 수준이 낮은 상태 역시 빈곤으로 분류된다. 이런 유형의 빈곤을 A라 한다.

[학생의 답안과 교사의 채점 결과]

답안	채점 결과
우리나라에서는 객관화된 기준을 적용하여 파악한다.	㉠
(가)	○
(나)	×
소득 수준이 높은 국가에서는 나타나지 않는다.	㉡

(○: 맞음, ×: 틀림)

- 가. ㉠과 ㉡에 해당하는 채점 결과는 동일하다.
- 나. (가)에는 '우리나라에서는 최저 생계비를 기준으로 빈곤선이 결정된다.'가 들어갈 수 있다.
- 다. (나)에는 '개인이 주관적으로 빈곤하다고 인식하는 상태를 의미한다.'가 들어갈 수 있다.

- ① 가
- ② 다
- ③ 가, 다
- ④ 나, 다
- ⑤ 가, 나, 다

041

241117

84%

빈곤의 유형 A, B에 대한 설명으로 옳은 것은? (단, A, B는 각각 절대적 빈곤, 상대적 빈곤 중 하나임.)

소설 ○○○는 1970년대를 배경으로 하여 최소한의 생계 유지를 하지 못하는 A 가구의 삶을 그리고 있다. 소설의 주인공은 생필품조차 구매할 수 없는 저임금을 받고 고된 노동을 한다. 2020년대를 배경으로 한 드라마 □□□는 A에서는 벗어났지만 사회 구성원 다수가 누리는 생활 수준을 충족하지 못하는 B 가구의 삶을 그리고 있다. 드라마 속 주인공은 부자들의 모습에 상대적 박탈감을 느낀다.

- ① A는 상대적 박탈감이라는 사회 문제를 유발하지 않는다.
- ② 우리나라에서 가구 소득이 중위 소득에 미치지 못하는 가구는 모두 B 가구이다.
- ③ A는 B와 달리 사회 구성원의 소득 분포에 따라 상대적으로 규정된다.
- ④ B는 A와 달리 경제 성장을 통해 해결할 수 있다.
- ⑤ 상대적 빈곤선이 절대적 빈곤선보다 높으면 A에 해당하는 모든 가구는 B에 해당한다.



**SECTION 17**  
**사회 변동**

**042                      240616                      77%**

다음 글에 나타난 사회 변동의 방향을 보는 필자의 관점에 대한 옳은 설명만을 <보기>에서 고른 것은? [3점]

야만 시대에서 문명 시대로의 전개 과정은 다음과 같다. 초기 야만 시대에는 별다른 지식이나 기술이 없었다. 중기 야만 시대는 불의 발견, 후기 야만 시대는 활과 창 의 발명 및 수렵 경제를 특징으로 한다. 야만과 미개 시대의 경계선은 토기의 발명이다. 초기 미개 시대에는 토기 사용으로 식량 저장과 재산 축적이 이루어졌다. 중기 미개 시대에는 가축 사육 및 관개 농업이 나타났다. 후기 미개 시대는 철광석의 제련을 특징으로 하며, 문자의 발명과 더불어 마침내 문명 시대로 나아갔다.

- ㄱ. 운명론적 시각에서 사회 변동을 설명한다.
- ㄴ. 사회 변동을 동일한 과정의 주기적 반복으로 설명한다.
- ㄷ. 사회는 미분화된 상태에서 분화된 상태로 변동한다고 본다.
- ㄹ. 사회의 변동이 항상 진보와 발전을 의미하는 것은 아니라는 비판을 받는다.

- ① ㄱ, ㄴ    ② ㄱ, ㄷ    ③ ㄴ, ㄷ    ④ ㄴ, ㄹ    ⑤ ㄷ, ㄹ

**043                      240908                      81%**

사회 변동 이론 (가), (나)에 대한 설명으로 옳은 것은? (단, (가), (나)는 각각 순환론, 진화론 중 하나임.) [3점]

(가) 인간의 성장처럼 사회도 성장해 나간다. 하지만 인간이 성장을 멈추고 노화가 진행되듯, 사회도 일정한 한계점을 지나면 성장의 그래프는 꺾이기 마련이다. 다만 이미 사라져 버린 사회들의 경험을 참고하여 해체에 이르기까지의 생존 기간을 늘릴 수 있을 뿐이다.  
(나) 사회는 본질적으로 과거의 유산을 토대로 하여 더 나은 상태로 나아간다. 인간은 기존의 지식을 바탕으로 새로운 아이디어와 기술을 창출해 혁신을 이어 가고 있기 때문이다. 이러한 과정에서 사회는 항상 성장의 발걸음을 이어 왔으며 앞으로도 그럴 것이다.

- ① (가)는 미래의 사회 변동에 대한 역동적 대응이 곤란하다는 비판을 받는다.
- ② (나)는 사회 변동이 항상 발전을 의미하는 것은 아니라고 본다.
- ③ (가)는 (나)와 달리 서구 사회가 가장 진보한 사회임을 전제한다.
- ④ (나)는 (가)와 달리 사회가 주기적으로 동일한 과정을 반복하며 변동한다고 본다.
- ⑤ (가)는 단기적 사회 변동을, (나)는 장기적 사회 변동을 설명하기에 적합하다.

**044                      241113                      79%**

사회 변동 이론 (가), (나)에 대한 설명으로 옳은 것은? (단, (가), (나)는 각각 진화론, 순환론 중 하나임.)

(가) 자연 현상에 빗대어 사회 변동을 설명하면 그 방향을 쉽게 이해할 수 있다. 태양 주위로 지구와 달이 돌면서 낮과 밤, 밀물과 썰물, 계절이 번갈아 가며 나타나듯 사회는 변동한다.  
(나) 자연 현상에 빗대어 사회 변동을 설명하면 그 방향을 쉽게 이해할 수 있다. 모든 생명체가 적자생존의 상황에서 살아남기 위한 경쟁을 통해 더 나은 방향으로 변화하듯 사회는 변동한다.

- ① (가)는 장기적인 사회 변동의 과정을 설명하기 어렵다.
- ② (나)는 단선적인 사회 변동의 과정을 설명하기 어렵다.
- ③ (가)는 (나)에 비해 사회 변동 방향을 예측하여 대응하기 어렵다.
- ④ (나)는 (가)와 달리 과거에 비해 진보한 사회를 설명하기 어렵다.
- ⑤ (가)는 서구 중심적 사고라는, (나)는宿命론적 사고라는 비판을 피하기 어렵다.

SECTION 18

사회 운동

045

240617

82%

밑줄 친 ㉠, ㉡에 대한 설명으로 가장 적절한 것은? [3점]

- 1920년대의 ㉠계몽 운동은 서울의 학생과 청년 지식인, 문화 단체 및 동경 유학생들에 의해서 시작되었다. 학생들은 야학을 개설하여 문맹 퇴치 운동을 벌였고, 농촌 발전을 위한 여러 활동을 전개하였다. 이러한 민중 계몽 운동은 이후 민족 독립운동에 기여하였다.
- 1960년대 후반 생태 보호 운동에서 출발한 미국의 '환경 수호단'은 환경 보호법 제정 및 친환경 정책 촉구 등 일련의 ㉡환경 운동을 추진해왔다. 2000년대 초에 정부가 이산화탄소 배출 및 디젤에 대한 규제를 완화하려 하자 환경 수호단의 수많은 회원은 엄청난 양의 항의 이메일과 팩스를 백악관과 환경청에 보내 정부 정책을 강하게 비판하였다.

- ① ㉠은 일반 시민이 아닌 국가가 주도한 사회 운동이다.
- ② ㉡은 산업화 과정에서 나타난 문제를 개선하기 위한 사회 운동이다.
- ③ ㉠은 ㉡과 달리 사회 변화에 저항하고 과거 질서로 회귀하려는 사회 운동이다.
- ④ ㉡은 ㉠과 달리 특정 집단 구성원의 삶의 질 향상을 목표로 하는 사회 운동이다.
- ⑤ ㉠과 ㉡은 모두 사회 체제의 전면적인 변혁을 추구하는 사회 운동이다.

046

240914

81%

(가)~(라)에 대한 옳은 설명만을 <보기>에서 고른 것은?

- (가) □□ 환경 단체는 탄소 중립 실현을 위해 대중교통 이용하기, 플라스틱 사용 줄이기, 불필요한 이메일 삭제하기 등 다양한 캠페인 활동을 꾸준히 하고 있다.
- (나) 국민 가수로 칭송받던 인기 연예인이 음주 운전 차량에 치여 사망하자, 추모를 위해 사고 현장에 모인 사람들이 헌화와 함께 음주 운전 처벌 강화를 요구하는 메모를 남겼다.
- (다) 오랜 전통에 따라 여성 운전 금지법이 시행되고 있던 △△국에서 시민 운동가 출신의 대통령 후보가 여성 권리 신장을 위해 이 법을 폐지하겠다는 선거 공약을 내세웠다.
- (라) ○○ 노동조합은 정부의 연금 개시 연령 상향 정책에 대해 퇴직 후 연금 수령 시작 시기가 늦어져 경제적 어려움을 겪을 수 있다며 반대하는 서명을 받고 있다.

- ㄱ. (가)는 뚜렷한 목표와 방법을 제시하고 지속적으로 활동을 수행하였다는 점에서 사회 운동이라 볼 수 있다.
- ㄴ. (나)는 조직적이지 않은 군중이 일시적으로 모인 것이라는 점에서 사회 운동이라 볼 수 없다.
- ㄷ. (다)는 기존 사회의 부조리를 해소하고 개혁을 추구하였다는 점에서 사회 운동이라 볼 수 있다.
- ㄹ. (라)는 특정 집단의 이익만을 추구한다는 점에서 사회 운동이라 볼 수 없다.

- ① ㄱ, ㄴ
- ② ㄱ, ㄷ
- ③ ㄴ, ㄷ
- ④ ㄴ, ㄹ
- ⑤ ㄷ, ㄹ

047

241118


94%

밑줄 친 ㉠, ㉡에 대한 설명으로 가장 적절한 것은? [3점]

- A국에서는 이전 세대의 경제 성장 과정에서 배출된 온실 가스로 인해 기후 위기의 피해가 심각하다. 이에 기후 위기 해결을 위해 청년 중심의 시민 단체가 환경 정책 마련을 요구하고 온라인 캠페인 활동을 하는 등 ㉠사회 운동을 전개하고 있다.
- B국의 한 노숙인은 행색이 초라하다는 이유로 건강권 관련 정책 토론회 출입을 금지당했다. 이 사건으로 노숙인 인권 보장을 요구하는 인권 단체의 시위가 벌어졌다. 이후 노숙인의 생계 지원법 마련을 요구하는 ㉡사회 운동이 지속적으로 확산되었다.

- ① ㉠은 세대 간 통합을 추구하는 체계적인 사회 운동이다.
- ② ㉡은 사회 체제 내에서 특정 사회 문제의 개선을 요구하는 사회 운동이다.
- ③ ㉠은 ㉡과 달리 사회적 약자의 권리 보장을 목적으로 하는 사회 운동이다.
- ④ ㉡은 ㉠과 달리 비대면 방식을 활용하는 사회 운동이다.
- ⑤ ㉠과 ㉡은 모두 변화를 거부하고 과거 질서로 되돌아가려는 사회 운동이다.





# PART II

[SECTION 20]

자료 분석

SECTION 20

자료 분석

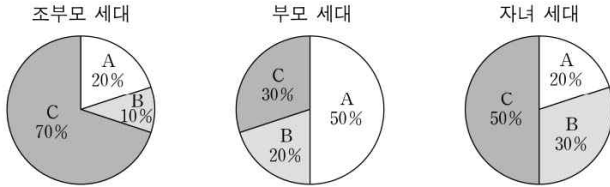
계층 이동

051

240611

87%

그림은 갑국의 세대별 계층 구성 비율을 나타낸 것이다. 이에 대한 옳은 분석만을 <보기>에서 고른 것은?



\* 계층은 A, B, C로 구분되며, A~C는 각각 상층, 중층, 하층 중 하나임.  
 \*\* 조부모 세대의 계층 구조는 피라미드형이고, 각 세대의 인구는 동일함.

- ㄱ. 조부모 세대에서 하층 인구는 상층 인구의 2배이다.
- ㄴ. 상층 인구는 조부모, 부모, 자녀 세대로 갈수록 증가한다.
- ㄷ. 부모 세대의 계층 구조는 조부모 세대의 계층 구조에 비해 사회 통합에 불리하다.
- ㄹ. 부모 세대의 계층 구조는 다이아몬드형, 자녀 세대의 계층 구조는 모래시계형이다.

- ① ㄱ, ㄴ    ② ㄱ, ㄷ    ③ ㄴ, ㄷ    ④ ㄴ, ㄹ    ⑤ ㄷ, ㄹ

052

240911

73%

다음 자료에 대한 옳은 분석만을 <보기>에서 고른 것은? [3점]

표는 갑국~병국의 계층 구성 비율을 나타낸 것이다. 모래시계형 계층 구조에서는 A의 비율이 가장 낮다. 단, 갑국~병국의 계층 구조는 각각 피라미드형, 다이아몬드형, 모래시계형 중 하나이다.

(단위: %)

구분	갑국	을국	병국
A	30	20	50
B	20	30	20
C	50	50	30

\* 계층은 A, B, C로만 구분되며, A~C는 각각 상층, 중층, 하층 중 하나임.

- ㄱ. 갑국은 병국과 달리 폐쇄적 계층 구조가 나타난다.
- ㄴ. 병국의 계층 구조는 을국의 계층 구조에 비해 사회 안정성이 높다.
- ㄷ. 갑국과 병국은 모두 해당 국가에서 상층 인구가 가장 적다.
- ㄹ. 을국의 계층 구조는 갑국, 병국의 계층 구조와 달리 주로 근대 이후의 산업 사회에서 나타난다.

- ① ㄱ, ㄴ    ② ㄱ, ㄷ    ③ ㄴ, ㄷ    ④ ㄴ, ㄹ    ⑤ ㄷ, ㄹ

053

241110

61%

다음 자료에 대한 분석으로 옳은 것은? [3점]

표는 갑국과 을국의 세대 간 계층 이동 현황을 나타낸 것이다. C에서 A로의 이동은 하강 이동이고, C에서 B로의 이동은 상승 이동이다. 단, 계층은 A, B, C로만 구분되고, A~C는 각각 상층, 중층, 하층 중 하나이다.

〈갑국〉				〈을국〉					
구분		부모 세대			구분		부모 세대		
		A	B	C			A	B	C
자녀 세대	A	●●	●	●●●	자녀 세대	A	●●●	●	●●●
	B	●●●	●●			B	●	●●	●●●
	C	●●●	●	●●		C	●●	●	●

\* ●는 해당 계층 사람의 수를 나타낸 것이며, 각 ●가 나타내는 사람의 수는 동일함.

- ① 갑국은 자녀 세대에서 완전 평등한 계층 구조를 이루었다.
- ② 을국의 자녀 세대에서 중층인 사람의 수는 갑국의 부모 세대에서 상층인 사람의 수보다 많다.
- ③ 갑국은 을국과 달리 부모 세대 중층에서 세대 간 하강 이동이 발생하지 않았다.
- ④ 갑국은 개방적 계층 구조, 을국은 폐쇄적 계층 구조이다.
- ⑤ 갑국의 부모 세대 계층 구조는 피라미드형, 을국의 자녀 세대 계층 구조는 모래시계형이다.

성 불평등

054	240610	49%
-----	--------	-----

다음 자료에 대한 분석으로 옳은 것은? [3점]

표는 갑국의 t년 연령대별 '상대적 평균 임금'을 혼인 상태별·성별로 구분하여 제시한 것이다. 연령대별 상대적 평균 임금은 20대 기혼(미혼) 남성(여성) 평균 임금을 100이라고 할 때 다른 연령대의 기혼(미혼) 남성(여성) 평균 임금의 크기를 나타낸다.

갑국에서 t년에 기혼 20대의 성별 임금 격차 지수는 20이고, 미혼 20대의 성별 임금 격차 지수는 10이다. 20대 기혼 여성의 평균 임금과 20대 미혼 남성의 평균 임금은 같다. 따라서 20대 기혼 남성의 평균 임금이 100달러라면 20대 미혼 여성의 평균 임금은  달러이다.

<연령대별 상대적 평균 임금>

구분	기혼		미혼	
	남성	여성	남성	여성
20대	100	100	100	100
30대	142	130	140	140
40대	165	120	145	155
50대	170	90	130	150
60대 이상	110	70	90	60

\* 성별 임금 격차 지수 =  $\frac{(\text{남성 평균 임금} - \text{여성 평균 임금})}{\text{남성 평균 임금}} \times 100$

- ① ㉠은 '100'이다.
- ② 40대에서 성별 임금 격차 지수는 기혼이 미혼보다 작다.
- ③ 50대 기혼 여성과 20대 미혼 여성의 평균 임금은 같다.
- ④ 기혼 남성 40대와 50대의 평균 임금 차이와 미혼 남성 30대와 40대의 평균 임금 차이는 같다.
- ⑤ 미혼의 경우, 모든 연령대에서 남성 평균 임금이 여성 평균 임금보다 높다.

사회 보장 제도

055	240615	51%
-----	--------	-----

다음 자료에 대한 옳은 설명만을 <보기>에서 고른 것은? [3점]

갑국은 정부 예산만을 재원으로 경제적 형편이 어려운 노인에게 급여를 지급하는 우리나라의 연금 제도와 같은 ㉠○○연금 제도를 도입하고자 한다. 연금 지급액을 놓고 A안과 B안을 검토 중인데, 다음은 ○○연금 제도 시행 전의 상대적 빈곤율과 A안 또는 B안을 시행할 경우 예상되는 상대적 빈곤율을 제시한 표의 일부이다. 제도 시행 전후의 상대적 빈곤율은 현재 시점의 노인 가구를 기준으로 계산한 것이다.

가구 형태	가구 수 (만 가구)	상대적 빈곤율(%)		
		제도 시행 전	제도 시행 후	
			A안	B안
1인 가구	100	50	25	20
부부 가구	200	40	20	15
기타 가구				

\* 갑국의 노인 가구는 1인 가구(65세 이상 노인 1명), 부부 가구(65세 이상 노인 2명) 및 기타 가구로 구분됨.  
\*\* 상대적 빈곤율은 가구 소득이 정부가 가구 형태별로 결정한 일정 금액 미만인 가구의 비율임.

- ㉠. ㉠은 상호 부조의 원리를 바탕으로 한다.
- ㉡. ㉠은 사전 예방적 성격보다 사후 처방적 성격이 강하다.
- ㉢. A안 시행 전후의 상대적 빈곤 가구 수 차이는 1인 가구가 부부 가구보다 작다.
- ㉣. 상대적 빈곤에 해당하는 부부 가구 인구는 A안을 시행할 경우가 B안을 시행할 경우보다 10만 명 많다.

- ① ㉠, ㉡    ② ㉠, ㉢    ③ ㉡, ㉣    ④ ㉡, ㉣    ⑤ ㉢, ㉣

056	240915	44%
-----	--------	-----

다음 자료에 대한 옳은 분석만을 <보기>에서 고른 것은?

<자료 1> 갑국의 사회 보장 제도

(가) 65세 이상 노인 중 소득 인정액이 일정 수준 이하인 사람에게 생활 안정에 필요한 연금을 지급하는 제도

(나) 노령, 사망, 장애 등으로 인한 소득 상실을 보전하고 기본적인 생활을 지원하기 위해 가입자와 고용주 등이 분담해서 마련한 기금을 통해 연금 급여를 지급하는 제도

<자료 2> 갑국의 성별·시기별 (가), (나) 제도의 수급자 수 (단위: 만 명)

성별	제도	t년	t+30년
남성	(가)	15	30
	(나)	60	80
여성	(가)	45	60
	(나)	40	80

\* 갑국의 사회 보장 제도는 우리나라의 사회 보장 제도와 동일함.  
\*\* t년과 t+30년 모두 갑국의 남녀 인구는 각각 1,000만 명임.

- ㄱ. t년에 수급자에 대한 부정적 낙인이 발생할 수 있는 제도의 남성 수급자 수는 여성 수급자 수의 3배이다.
- ㄴ. t년에 비해 t+30년에 수혜자 비용 부담 원칙이 적용되는 제도의 수급자 수는 60만 명 증가하였다.
- ㄷ. t년에 상호 부조의 원리가 적용되는 제도의 수급자 중 남성 수급자 비율은 t+30년에 강제 가입의 원칙이 적용되는 제도의 수급자 중 여성 수급자 비율보다 높다.
- ㄹ. t년에 갑국 인구 중 사전 예방적 성격이 강한 제도의 수급자 비율은 t+30년에 갑국 인구 중 사후 처방적 성격이 강한 제도의 수급자 비율보다 낮다.

- ① ㄱ, ㄴ    ② ㄱ, ㄷ    ③ ㄴ, ㄷ    ④ ㄴ, ㄹ    ⑤ ㄷ, ㄹ

057	241115	42%
-----	--------	-----

다음 자료에 대한 분석으로 옳은 것은? [3점]

갑국의 사회 보장 제도는 우리나라의 사회 보장 제도와 동일하다. A는 상호 부조의 원리가 적용되는 제도이고, B는 정부 재정으로 비용을 전액 총당하는 것을 원칙으로 하는 제도이다. 표는 갑국의 전체 인구 중 A, B 수급자 비율과 시기에 따른 비율 차이를 나타낸 것이다. t년 대비 t+30년에 갑국의 전체 인구는 50% 증가하였다.

<표 1> t년의 수급자 비율 (단위: %)

A 수급자	B 수급자	A와 B의 중복 수급자
40	15	8

<표 2> t년 대비 t+30년의 수급자 비율 차이\*

A에만 해당하는 수급자	B에만 해당하는 수급자	A와 B의 중복 수급자
2	-3	8

\* 수급자 비율 차이 = t+30년의 수급자 비율 - t년의 수급자 비율

- t년에 전체 인구 중 부정적 낙인이 발생할 수 있는 제도에만 해당하는 수급자 비율은 A와 B의 중복 수급자 비율보다 크다.
- t+30년에 수혜자 비용 부담 원칙이 적용되는 제도의 수급자 수는 t년에 A나 B 어느 것도 받지 않는 비(非)수급자 수보다 많다.
- t+30년에 강제 가입의 원칙이 적용되는 제도에만 해당하는 수급자 수는 A와 B의 중복 수급자 수보다 적다.
- t년에 사전 예방적 성격이 강한 제도의 수급자 수는 t+30년에 사후 처방적 성격이 강한 제도의 수급자 수의 2배이다.
- t년 대비 t+30년에 A 수급자 수의 증가율은 B 수급자 수의 증가율보다 크다.



인구 자료 분석

058      240620      43%

다음 자료에 대한 분석으로 옳은 것은?

갑국의 t+50년의 총인구는 t년의 2배이고, t+100년의 총인구는 t년의 1.5배이다. 갑국 총인구 중 부양 인구 비율은 t년과 t+50년이 각각 40%, t+100년이 30%이다. t+50년의 노년 부양비는 75로 t년의 3배이고, t+100년의 노령화 지수는 250이다.

\* 노령화 지수 =  $\frac{\text{노년 인구(65세 이상 인구)}}{\text{유소년 인구(0~14세 인구)}} \times 100$

\*\* 유소년 부양비 =  $\frac{\text{유소년 인구(0~14세 인구)}}{\text{부양 인구(15~64세 인구)}} \times 100$

\*\*\* 노년 부양비 =  $\frac{\text{노년 인구(65세 이상 인구)}}{\text{부양 인구(15~64세 인구)}} \times 100$

\*\*\*\* 총부양비 = 유소년 부양비 + 노년 부양비

- ① t+50년의 총부양비는 t년보다 크다.
- ② t+50년의 노령화 지수는 t년의 5배이다.
- ③ t+50년의 부양 인구는 t년에 비해 200% 증가하였다.
- ④ t+100년의 유소년 인구는 t년보다 많고 t+50년보다 적다.
- ⑤ t년, t+50년, t+100년 중 유소년 부양비는 t+50년이 가장 크고, t+100년이 가장 작다.

059      240920      43%

다음 자료에 대한 분석으로 옳은 것은? [3점]

표는 갑국과 을국의 인구 구성 변화를 나타낸 것이다. A~C는 각각 전체 인구에서 유소년 인구, 부양 인구, 노년 인구가 차지하는 비율 중 하나이다. 갑국에서 t년의 유소년 부양비는 50이다. t년 대비 t+50년에 갑국의 유소년 인구는 10% 감소하였고, 을국의 유소년 인구는 20% 감소하였다. 단, t년에 갑국과 을국의 전체 인구는 동일하다.

구분	갑국		을국	
	t년	t+50년	t년	t+50년
$\frac{B+C}{A}$	$\frac{2}{3}$	1	$\frac{7}{13}$	1
$\frac{B}{C}$	$\frac{1}{3}$	$\frac{2}{3}$	$\frac{1}{6}$	$\frac{2}{3}$

\* 유소년 부양비 =  $\frac{\text{유소년 인구(0~14세 인구)}}{\text{부양 인구(15~64세 인구)}} \times 100$

\*\* 노년 부양비 =  $\frac{\text{노년 인구(65세 이상 인구)}}{\text{부양 인구(15~64세 인구)}} \times 100$

\*\*\* 전체 인구 중 65세 이상 인구가 차지하는 비율이 20% 이상인 사회를 초고령 사회라고 함.

- ① t년에 노년 부양비는 갑국이 을국의 2배이다.
- ② t+50년에 유소년 인구는 갑국과 을국이 동일하다.
- ③ t+50년에 을국은 갑국과 달리 초고령 사회이다.
- ④ t년에서 t+50년 사이에 을국에서는 갑국과 달리 저출산·고령화 현상이 나타났다.
- ⑤ t년에 부양 인구는 을국이 갑국보다 많고, t+50년에 부양 인구는 갑국이 을국보다 많다.

060      241120      49%

다음 자료에 대한 분석으로 옳은 것은? [3점]

표는 갑국과 을국의 인구 구조 변화를 비교한 것이다. t년 대비 t+50년에 갑국의 전체 인구는 10% 감소하였고, 을국의 전체 인구는 20% 감소하였다. 단, t년에 갑국과 을국의 전체 인구는 동일하다.


구분	갑국		을국	
	t년	t+50년	t년	t+50년
합계 출산율(명)	4.2	1.8	1.5	0.9
전체 인구 대비 15~64세 인구 비율(%)	50	60	50	55
노령화 지수	25	100	150	200

\* 합계 출산율: 여성 1명이 가임 기간(15~49세) 동안 낳을 것으로 예상되는 평균 출생아 수

\*\* 노령화 지수 =  $\frac{\text{노년 인구(65세 이상 인구)}}{\text{유소년 인구(0~14세 인구)}} \times 100$

\*\*\* 전체 인구 중 65세 이상 인구가 차지하는 비율이 20% 이상인 사회를 초고령 사회라고 함.

- ① t년과 t+50년 모두 갑국은 을국에 비해 저출산 현상이 강하게 나타난다.
- ② t년과 t+50년에 갑국과 을국은 모두 초고령 사회이다.
- ③ t년 대비 t+50년의 노령화 지수 증가율은 을국이 갑국보다 크다.
- ④ t년에 을국의 유소년 인구는 t+50년에 갑국의 유소년 인구보다 많다.
- ⑤ t년에 노년 인구는 을국이 갑국의 3배이고, t+50년에 노년 인구는 을국이 갑국의 1.5배이다.



# ANSWER

정답 및 해설

001 ~ 030									
4	3	4	2	5	4	4	5	5	
3	2	1	4	2	1	5	2	4	1
4	1	1	4	3	2	5	2	1	2
031 ~ 060									
4	4	5	3	4	5	1	3	5	2
5	5	1	3	2	1	2	1	4	1
4	3	5	3	3	3	2	2	5	4

**PART I**

001	4
-----	---

자연현상 = ㉠, ㉡

사회·문화 현상 = ㉢, ㉣

- ㉠과 같은 현상은 ㉢과 같은 현상과 달리 몰가치적이다.
- ㉡과 같은 현상은 ㉣과 같은 현상에 비해 인과관계가 불명확하다.
- ㉢과 같은 현상과 ㉣과 같은 현상 모두 보편성이 나타난다.
- ㉠, ㉡과 같은 현상과 ㉢, ㉣과 같은 현상 모두 경험적 자료로 연구할 수 있다.

002	3
-----	---

자연현상 = ㉤, ㉥, ㉦

사회·문화 현상 = ㉧, ㉨

- ㉠과 같은 현상은 가치 함축적이다.
- ㉡과 같은 현상은 당위 법칙이 적용된다.
- ㉢과 같은 현상은 인과관계가 분명하다.
- ㉣과 같은 현상은 보편성만 존재한다.

003	4
-----	---

자연현상 = ㉠, ㉢, ㉤

사회·문화 현상 = ㉥, ㉦

- ㉠과 같은 현상은 몰가치적이다.
- ㉡과 같은 현상은 존재 법칙을 따른다.
- ㉢과 같은 현상은 보편성만 존재한다.
- ㉣과 같은 현상은 확률성의 원리가 적용된다.

004	2
-----	---

A는 갈등론, B는 기능론이다.

- 상황 정의에 기초한 개인 간 상호 작용을 중시하는 관점은 상징적 상호 작용론이다.
- B는 A와 달리 기득권층의 이익을 대변하는 논리로 사용된다는 비판을 받는다.
- A는 B와 달리 질서와 안정성을 바탕으로 한 점진적인 사회 변동을 설명하기 어렵다.
- 개인에 대한 사회 구조의 영향력을 간과한다는 비판을 받는 관점은 상징적 상호 작용론이다.

005	5
-----	---

**[Analysis]**

- 첫 번째 질문 'A는 B와 달리 지배 집단과 피지배 집단 간 갈등이 사회 발전의 원동력이라고 보는가?'는 **A가 갈등론인지 묻는 질문**이다.
- 두 번째 질문 'A, C는 B와 달리 개인의 행위를 강제하는 사회 구조를 중시하는가?'는 **B가 상징적 상호 작용론인지 묻는 질문**이다.

는 질문이다.

- 두 번째 질문에 대한 갑과 병의 대답과 마지막 질문에 대한 갑과 병의 대답이 서로 일치하는데 **두 대답 모두 옳은 대답**이다. 두 대답 중 하나라도 오답이라면 갑과 병이 모두 3점을 얻는 것이 불가능하기 때문이다.
- 두 번째 질문에 대한 갑과 병의 대답이 오답이라고 가정해보자. 갑과 병 모두 첫 번째, 세 번째, 마지막 질문에 대한 답이 정답이어야 한다. 하지만 첫 번째와 세 번째 질문에 대한 갑과 병의 대답은 서로 다른데 이것은 모순이 된다. 그러므로 갑과 병의 대답이 일치하는 두 번째와 마지막 질문에 대한 갑과 병의 대답은 옳은 대답이다.
- 두 번째 질문에 대한 정답은 '예'이므로 **B는 상징적 상호작용론**이다.
- 3~5번을 토대로 질문에 대한 답변과 정답 여부를 정리하면 다음과 같다.

질문	갑	을	병
첫 번째	아니요	아니요	예
두 번째	예	아니요	예
세 번째	예	아니요	아니요
마지막	예	아니요	예
점수	3점	2점	3점

(오답에는 취소선 처리)

- 6번의 표로 얻을 수 있는 결론은 다음과 같다. **첫 번째 질문과 세 번째 질문에 대한 대답은 '아니요'가 정답**이다. 둘째, **두 번째 질문과 마지막 질문에 대한 대답은 '예'가 정답**이다. 셋째, 'A가 갈등론인가?'라는 첫 번째 질문의 정답은 '아니요'이므로 **A는 갈등론이 아니고 기능론**이다. 넷째, **B는 상징적 상호 작용론**이므로 자연스럽게 **C는 갈등론**이 된다.

**[Explanation]**

- 달리 사회가 본질적으로 변동을 지향한다고 보는 관점은 C(갈등론)이다.
- 다양한 사회 제도의 상호 의존 관계에 주목하는 관점은 A(기능론)이다.
- 인간이 상황 정의에 기초하여 행동한다고 보는 관점은 B(상징적 상호 작용론)이다.
- 'B는 A와 달리 행위자의 능동성을 중시하는가?'라는 질문은 참이다. 따라서 (가)에 들어갈 수 없다.
- 'A는 C와 달리 기득권층의 이익을 대변한다는 비판을 받는가?'라는 질문은 참이다. 따라서 (나)에 들어갈 수 있다.

006	4
-----	---

A는 기능론, B는 상징적 상호작용론, C는 갈등론이다.

- B는 A와 달리 개인의 상황 정의의 의미 해석을 강조한다.
- C는 B와 달리 사회에 내재한 구조적 모순을 중심으로 사회 현상을 설명한다.
- A는 C와 달리 기득권층의 이익을 옹호한다는 비판을 받는다.
- '대립과 갈등을 사회의 본질적 속성으로 보는가?'라는 질문은 갈등론에 해당하므로 A와 B를 구분할 수 없다.
- '사회 각 제도의 상호 의존적 관계에 주목하는가?'라는 질문은 기능론에 해당하므로 B와 C를 구분할 수 없다.

007	4
-----	---

- ㉠ 단계는 주제 설정 단계로 연구자의 가치 중립이 요구되지 않으며, ㉡ 단계는 가설 검증 단계로 연구자의 가치 중립이 요구된다.
- ㉢은 갑이 연구 주제를 설정한 후 관련 연구를 검토하는 문헌 연구법을 사용하는 부분이다. 반면, ㉣은 갑이 직접 질문지법으로 설문조사를 함으로써 자료를 수집하는 부분이다. 따라서 ㉢은 2차 자료를, ㉣은 1차 자료를 수집하기 위한 것이다.
- 질문지법에는 실험 집단과 통제 집단 구분이 없다.
- 자료 분석에서 일상적 소비 활동으로 느끼는 행복감은 소득 수준이 높은 집단과 낮은 집단이 각각 2.6/3.6점으로 소득 수준이 낮은 집단에서 행복감이 더 높은 것으로 나타났다. 반면, 문화적 소비 활동에서는 소득 수준이 높은 집단과 낮은 집단이 각각 3.6/2.0점으로 나타났다. 따라서 A가 '일상적 소비'이면 기각되고, '문화적 소비'이면 수용된다.

008	4
-----	---

- 갑은 실험법만을 사용하였으므로 질적 연구 방법은 활용하지 않았다.
- A, B, C, D 집단 모두 실험 집단과 통제 집단 어디에도 속하지 않는다.
- 1일 차에는 독립 변수에 대한 처치가 이루어지지 않았다.
- ㉠은 갑의 연구 진행 과정에서 C, D 집단이 수집한 자료이므로 1차 자료에 해당한다.
- ㉡과 ㉢ 모두 종속 변수에 대한 조작적 정의이다.

009	5
-----	---

**[Analysis]**

- 갑은 '정보 제공이 응답자의 응답 반응에 영향을 미칠 것이다.'라는 가설을 설정하고 연구를 진행하였다.
- 유형 A~C를 정리해보자. 유형 A~C 모두 정부 정책 도입에 대한 동의 여부를 묻지만, **유형 A는 정부 정책에 대한 정보 제시 없이, 유형 B는 정부 정책에 대한 중립적인 정보를 제시한 후, 유형 C는 정부 정책에 대한 긍정적인 정보를 제시한 후 정부 정책 도입에 대한 동의 여부를 묻는다.**
- 1단계에서는 문헌 연구를 통해 갑의 가설과 맥락을 같이 하는 ㉡과 같은 결과를 확인하였다.
- 2단계에서 갑은 실험법을 사용하여 연구를 진행하였다. 먼저, 무작위로 선정된 성인 200명에게 유형 A를 배부하여 사전 검사를 실시하였다. 이 과정을 사전 검사라고 볼 수 있는 이유는 **정보 제공 여부에 따른 응답자의 반응 차이를 확인하기 위해 변인 처리 전 정보를 제공하지 않고 응답자의 반응을 확인한 것이기 때문**이다.
- 그 후, 반대편 60%를 20%씩 세 집단으로 나누고 각각 유형 A, B, C에 응답하도록 하였다(변인 처리). 이때, 유형 A에 응답하는 첫째 집단은 통제 집단, 유형 B에 응답하는 둘째 집단과 유형 C에 응답하는 셋째 집단은 실험 집단이다.
- B 또는 C에 응답한 집단 중 B와 C에 상관없이 응답한 집단의 동의 여부가**

유의미하게 달라진다면 이는 갑의 가설을 지지하는데, 갑은 정보 제공 여부가 응답 반응에 영향을 미칠 것이라는 가설을 세웠기 때문이다. 즉, B와 C는 제공한 정보가 중립적이거나, 긍정적이거나의 차이일 뿐 정보가 제공된 것이기에 B와 C 집단에서의 유의미한 응답 변화는 갑의 가설을 지지한다.

7. 첫째 집단(유형 A)과 둘째 집단(유형 B) 간의 차이와 첫째 집단(유형 A)과 셋째 집단(유형 C) 간의 응답 차이는 갑의 가설을 지지하고, 둘째 집단(유형 B)과 셋째 집단(유형 C)의 차이는 갑의 가설 지지 여부를 알 수 없다.

**[Explanation]**

- ① 2단계에서 갑은 무작위로 선정한 성인 200명에게 유형 A를 배부하여 ㉔을 측정함으로써 사전 검사를 실시하였다.
- ② 유형 B에 응답한 사람들과 유형 C에 응답한 사람들 모두 실험 집단이다.
- ③ ㉔은 ㉔에 대한 조작적 정의이다.
- ④ ㉔은 질문지 작성 시 특정 응답을 유도한 것이지만 연구를 진행하기 위한 조치에 해당한다.
- ⑤ 2단계에서 도출한 분석 결과는 첫째 집단과 둘째 집단, 첫째 집단과 셋째 집단 간의 유의미한 차이를 보이기 때문에 ㉔을 지지한다.

010	5
-----	---

A는 질문지법, B는 면접법이다.

- ① B는 A에 비해 자료 수집 과정에서 조사자가 융통성을 발휘하기 용이하다.
- ② A와 B 모두 조사 대상자와의 언어적 상호 작용이 필수적이다.
- ③ A는 B에 비해 구조화된 자료를 수집하기 용이하다.
- ④ A는 B에 비해 수집된 자료의 통계 처리가 용이하다.

011	3
-----	---

(가)에 대한 질문의 답변은 A와 B가 다르고 B와 C가 같다. >> A / B, C

- ① '주로 질적 자료를 수집할 때 활용합니까?'  
예 : 면접법, 참여 관찰법  
아니요 : 질문지법(A)  
>> A / B, C  
이 질문은 (가)에 들어갈 수 있다.
- ② '언어나 문자로 의사소통할 수 없는 대상으로부터 자료 수집이 가능합니까?'  
예 : 참여 관찰법  
아니요 : 질문지법, 면접법(A)  
>> A, ? / ?  
이 질문은 (가)에 들어갈 수 없다.
- ③ '자료 수집 과정에서 연구 대상자의 응답이 필수적입니까?'  
예 : 질문지법, 면접법  
아니요 : 참여 관찰법(C)  
>> A, B / C  
이 질문은 (가)에 들어갈 수 없다.
- ④ '자료 수집 과정에서 표준화·구조화된 도구의 사용이 필수적입니까?'  
예 : 질문지법(C)  
아니요 : 면접법, 참여 관찰법

>> A, B / C  
이 질문은 (가)에 들어갈 수 없다.

⑤ '문맹자에게 사용하기 어렵습니까?'  
예 : 질문지법  
아니요 : 면접법, 참여 관찰법

>> A=질문지법  
제시된 연구 방법 중 방법론적 일원론을 전제로 하는 연구는 질문지법뿐이다. 그러나 질문지법은 B가 아닌 A이다.

012	2
-----	---

A는 갑의 연구에서만 사용되었고, B는 갑과 을의 연구에서 모두 사용되었으며, C는 을의 연구에서만 사용되었고, 갑은 질문지법과 참여 관찰법을, 을은 질문지법과 문헌 연구법을 사용하였다. 따라서 A는 참여 관찰법, B는 질문지법, C는 문헌 연구법이다.

- ① 변인 간의 관계를 파악하는 연구에 주로 사용되는 자료 수집 방법은 질문지법과 실험법이다. 따라서 B는 A와 달리 변인 간의 관계를 파악하는 연구에 주로 사용된다.
- ② 질문지법과 면접법은 다른 자료 수집 방법과 달리 연구 대상자와의 언어적 상호 작용이 필수적이다. 따라서 B는 C와 달리 연구 대상자와의 상호 작용이 필수적이라는 내용은 옳은 내용이다.
- ③ 연구 대상자와의 정서적 교감 형성을 중시하는 자료 수집 방법은 질적 연구 방법인 면접법과 참여 관찰법이다. 따라서 A는 C에 비해 연구 대상자와의 정서적 교감 형성을 중시한다.
- ④ 다수를 대상으로 한 자료 수집에 유리한 자료 수집 방법은 질문지법이다. 따라서 B는 A, C에 비해 다수를 대상으로 한 자료 수집에 유리하다.
- ⑤ 질적 자료의 수집에 주로 활용되는 방법은 면접법과 참여 관찰법이다. 따라서 A는 B, C와 달리 질적 자료의 수집에 주로 활용된다. C인 문헌 연구법은 양적 자료와 질적 자료 수집에 모두 활용될 수 있다.

013	1
-----	---

㉔, ㉔은 연구 대상자에게 연구의 정보를 알리지 않았으므로 연구 윤리에 위배된다.  
㉔, ㉔은 연구 대상자의 개인 정보를 삭제했음지라도 자료를 연구 이외의 목적으로 사용했으므로 연구 윤리에 위배된다.

014	4
-----	---

㉔에는 사회 실재론이 부각되어있다.  
㉔, ㉔은 사회 명목론에 대한 설명이다.

015	2
-----	---

㉔에는 사회 실재론이 부각되어있다.  
㉔, ㉔은 사회 명목론에 대한 설명이다.

016	1
-----	---

㉔에는 사회 명목론이 부각되어있다.  
㉔, ㉔은 사회 실재론에 대한 설명이다.

017	5
-----	---

- ① ㉔은 2차 집단이자 공식 조직이다.
- ② ㉔을 갑의 역할 행동에 대한 제재라고 볼 수 없다.

- ③ ㉔은 전문적인 수준의 사회화를 담당한다. 따라서 2차적 사회화 기관이다.
- ④ ㉔은 성취지위가 아니다.
- ⑤ ㉔은 사회화를 목적으로 만들어졌으므로 공식적 사회화 기관이지만, ㉔은 그렇지 않으므로 공식적 사회화 기관이 아니다.

018	2
-----	---

**[Analysis]**

1. 갑이 작성한 내용에 나타난 사회 집단은 다음과 같다.

취업 상담 센터, 교내 독서 모임, 총동창회, ○○기업, □□ 시민 단체
--

2. 을이 작성한 내용에 나타난 사회 집단은 다음과 같다.

□□ 시민 단체, △△방송사, 방송인 협회, 취업 상담 센터
-----------------------------------

3. 병이 작성한 내용에 나타난 사회 집단은 다음과 같다.

고등학교, 대안 학교, ○○기업, 대학원
------------------------

4. 갑이 속해 있는 집단은 다음과 같다.

A 대학교, 교내 독서 모임, 대안 학교
------------------------

5. 을이 속해 있는 집단은 다음과 같다.

A 대학교, □□ 시민 단체, 교내 독서 모임
---------------------------

6. 병이 속해 있는 집단은 다음과 같다.

A 대학교, 대안 학교, □□ 시민 단체
------------------------

7. 나타난 집단을 정리하면 다음과 같다.

공식 조직	A 대학교, 취업 상담 센터, 총동창회, ○○기업, □□ 시민 단체, △△방송사, 방송인 협회, 고등학교, 대안 학교
비공식 조직	교내 독서 모임
이익 사회	A 대학교, 취업 상담 센터, 총동창회, ○○기업, □□ 시민 단체, △△방송사, 방송인 협회, 고등학교, 대안 학교, 교내 독서 모임
자발적 결사체	□□ 시민 단체, 방송인 협회, 교내 독서 모임
공식적 사회화	A 대학교, 고등학교, 대안 학교
비공식 사회화	취업 상담 센터, 총동창회, ○○기업, □□ 시민 단체, △△방송사, 방송인 협회
2차적 사회화	A 대학교, 고등학교, 대안 학교

**[Explanation]**

- ① 갑이 작성한 내용에 나타난 공식 조직의 개수(4)는 을이 작성한 내용에 나타난 2차적 사회화 기관의 개수(4)와 같다.
- ② 을이 작성한 내용에 나타난 자발적 결사체의 개수(2)는 을이 속해 있는 자발적 결사체의 개수(2)와 같다.
- ③ 병이 속해 있는 공식적 사회화 기관의 개수(2)는 갑이 속해 있는 공식적 사회화 기관의 개수(2)와 같다.
- ④ 갑과 병이 함께 속해 있는 2차 집단의 개수(2)는 병이 속해 있는 비공식적 사회화 기관의 개수(1)보다 많다.
- ⑤ 갑과 을이 함께 속해 있는 비공식 조직은 교내 독서 모임이다.

019 4

[Analysis]

1. 감이 작성한 내용에 나타난 사회 집단은 다음과 같다.

□□기업, 대학교, 바다낚시 동호회

2. 을이 작성한 내용에 나타난 사회 집단은 다음과 같다.

△△은행 사내 여행 동아리, 총동창회, 대학원

3. 병이 작성한 내용에 나타난 사회 집단은 다음과 같다.

○○방송국, 대학교, △△은행, 동물 보호 단체

4. 감이 속해 있는 집단은 다음과 같다.

□□기업, 바다낚시 동호회

5. 을이 속해 있는 집단은 다음과 같다.

총동창회, 대학원, 바다낚시 동호회

6. 병이 속해 있는 집단은 다음과 같다.

○○방송국, 동물 보호 단체, 총동창회

7. 나타난 집단을 정리하면 다음과 같다.

비공식 조직	△△은행 사내 여행 동아리
이익 사회	□□기업, 대학교, 바다낚시 동호회, △△은행 사내 여행 동아리, 총동창회, 대학원, 동물 보호 단체
자발적 결사체	바다낚시 동호회, △△은행 사내 여행 동아리, 동물 보호 단체
비공식 사회화	□□기업, 바다낚시 동호회, △△은행 사내 여행 동아리, 총동창회, 동물 보호 단체

[Explanation]

- [장면 1]에 적혀 있는 내용에는 성취 지위가 나타나지 않는다. [장면 3]에 적혀 있는 내용에는 비공식 조직이 있다(△△은행 사내 여행 동아리).
- [장면 2]에 적혀 있는 이익 사회의 개수(3)는 [장면 4]에 적혀 있는 비공식적 사회화 기관의 개수(3)와 같다.
- 감과 을 모두 역할 갈등이 해소되어 준거 집단과 소속 집단이 일치하게 되었다는 내용은 드러나지 않는다.
- 을이 속해 있는 자발적 결사체의 개수(2)는 병이 속해 있는 2차 집단의 개수(3)보다 적다.
- 대본에는 감의 재사회화와 병의 예기 사회화 내용이 적혀 있지 않다.

020 1

A는 탈관료제, B는 관료제이다.

- A와 B 모두 공식적 규범에 의한 통제가 이루어진다.
- A는 B에 비해 구성원이 창의성을 발휘하기 용이하다.
- A와 B 모두 업무 수행의 효율성을 추구한다.
- B는 연공서열에 따른 보상을, A는 성과에 따른 보상을 중시한다.

021 4

을이 설명한 병의 회사는 B의 특성이, 병이 설명한 을의 회사는 A의 특성이 나타난다. 따라서 A는 탈관료제, B는 관료제이다.

ㄱ. B는 A에 비해 업무 수행의 안정성을 확

보하기가 용이하다.  
ㄷ. A는 B에 비해 목적 전치 현상이 나타날 가능성이 낮다.

022 1

A는 관료제, B는 탈관료제이다.

- B는 A와 달리 외부 환경 변화에 대한 유연한 대처가 용이하다.
- A는 B에 비해 목적 전치 현상이 나타날 가능성이 높다.
- A와 B 모두 효율적인 목표 달성이 조직 운영의 핵심이다.
- A는 경력에 따른 보상을, B는 능력에 따른 보상을 중시한다.

023 1

A는 낙인 이론, B는 차별 교제 이론, C는 머튼의 아노미 이론이다.

- A는 차별적인 사회적 제재를 일탈 행동의 원인으로 본다.
- A는 일탈 행동을 규정하는 객관적 기준이 존재하지 않는다고 본다.
- A와 B 모두 개인이 타인과의 상호 작용을 통해 일탈자가 되어 가는 과정에 주목한다.
- C는 B와 달리 범죄 예방을 위해 소외 계층에게 더 나은 취업 기회를 제공하는 정책을 뒷받침한다.

024 4

[Analysis]

- 감은 문화적 목표를 이루기 위한 합법적 수단이 부족했던 적이 없었으므로 머튼의 아노미 이론으로 설명할 수 없다. 즉, C는 머튼의 아노미 이론이다.
- 을은 일탈자들과 어울리거나 그들의 행동을 따라 하려고 했던 적이 없었으므로 차별 교제 이론으로 설명할 수 없다. 즉, A는 차별 교제 이론이다.
- 따라서 B는 낙인 이론이다.

[Explanation]

- C는 일탈에 대한 대책으로 제도화된 기회의 확대를 중시한다.
- A는 타인과의 상호 작용을 통한 일탈의 학습 과정에 주목한다.
- B는 정상 집단과의 교류를 일탈의 해결 방안으로 제시한다.
- 일탈에 대한 대책으로 사회 규범의 통제력 강화를 강조하는 이론은 뒤르켐의 아노미 이론이다.

025 3

감은 뒤르켐의 아노미 이론, 을은 차별 교제 이론, 병은 머튼의 아노미 이론의 관점에서 설명한다.

- 일탈에 대한 대책으로 제도화된 기회의 확대를 중시하는 이론은 C(머튼의 아노미 이론)이다.
- 타인과의 상호 작용을 통한 일탈의 학습 과정에 주목하는 이론은 A(차별 교제 이론)이다.
- 정상 집단과의 교류를 일탈의 해결 방안으로 제시하는 이론은 B(낙인 이론)이다.
- 일탈을 규정하는 객관적 기준이 없다고 보는 이론은 B(낙인 이론)이다. A(차별

교제 이론), C(머튼의 아노미 이론), 그리고 뒤르켐의 아노미 이론은 일탈을 규정하는 객관적 기준이 있다고 본다.

⑤ 일탈에 대한 대책으로 사회 규범의 통제력 강화를 강조하는 이론은 뒤르켐의 아노미 이론이다.

026 2

- ㉠에는 문화의 총체성이 부각되어 있다.
- ㉡은 물질문화에 해당한다.
- ㉢에서 '문화'는 넓은 의미의 문화이다.
- ㉣은 문화 지체의 사례로 볼 수 없다.

027 5

[Analysis]

- ㉠과 ㉡은 각각 학습성과 공유성 중 하나이다.
- 감과 을은 옳은 사례를 제시하였으므로 ㉠은 학습성, ㉡은 공유성이다.
- 정 또한 옳은 사례를 제시하였으므로 (나)에는 축적성이 부각된 사례가 들어 가야 한다.
- 병은 ㉠에 대한 사례를 제시하였으므로 (가)에는 학습성이 부각된 사례가 들어 가야 한다.
- 무는 ㉡에 대한 사례를 제시하였으므로 (다)에는 공유성이 부각된 사례가 들어 가야 한다.

[Explanation]

- 문화가 세대 간 전승을 통해 더욱 복잡하고 풍부해지는 것은 축적성에 대한 설명이다.
- 문화가 여러 요소들이 상호 유기적으로 연관되어 나타나는 것은 총체성에 대한 설명이다.
- '내비게이션 등장 이후 운전할 때 종이 지도로 길을 찾는 사람들은 거의 사라졌다.'라는 사례는 변동성에 대한 사례이다. (가)에는 학습성이 부각된 사례가 제시되어야 하므로 들어갈 수 없다.
- '예전에는 혈액형으로 성향을 파악했지만, 요즘은 성격검사 결과를 통해 성향을 파악하는 것을 즐긴다.'라는 사례는 변동성에 대한 사례이다. (나)에는 축적성이 부각된 사례가 제시되어야 하므로 들어갈 수 없다.
- '팬클럽마다 좋아하는 연예인을 상징하는 색깔을 정하고 그 색깔을 응원에 활용한 다.'라는 사례는 공유성에 대한 사례이다. (다)에는 공유성이 부각되니 사례가 제시되어야 하므로 들어갈 수 있다.

028 2

[Analysis]

- 우선 기억해야 할 점 두 가지는 다음과 같다. 첫째, 감~무가 각자 배정받은 속성은 모두 다르다. 둘째, 감~무의 발문 끝에 각각 나타난 '~은 A/B/축적/전체/변동성이 부각된 사례입니다.'라는 말은 틀리지 않았다. 따라서 병은 축적성을, 정은 전체성을, 무는 변동성을 배정 받았음을 알 수 있다.
- 먼저, 제시한 사례에 부각된 속성과 배정 받은 속성을 정리해보자.

	제시한 사례	배정받은 속성
감	?	A
을	?	B
병	(가)	축적성
정	(나)	전체성
무	(다)	변동성

3. 갑과 정은 각각 배정받은 속성이 부각된 사례를 옳게 제시하였으므로 **(나)는 전체성이 부각된 사례임을 알 수 있으며, 갑은 공유성이 부각된 사례를 제시하였으므로 A는 공유성임을 알 수 있다. 따라서 B는 학습성이다.**
4. **을은** 무가 배정받은 속성, 즉, **변동성이 부각된 사례를 제시하였고, 병은 학습성이 부각된 사례를 제시하였다. 따라서 (가)는 학습성이 부각된 사례이다.**
5. 또한, **무는** 병이 배정받은 속성인 **축적성이 부각된 사례를 제시하였다. 따라서 (다)는 축적성이 부각된 사례이다.**
6. 3~5번을 정리하면 다음과 같다.

	제시한 사례	배정받은 속성
갑	공유성	공유성
을	변동성	학습성
병	학습성	축적성
정	전체성	전체성
무	축적성	변동성

**[Explanation]**

- ① A는 공유성이다. 문화가 시간이 지남에 따라 변화하는 것은 학습성(=B)에 대한 설명이다.
- ② B는 학습성이다. 사회 구성원이 문화를 후천적으로 습득하는 것은 학습성에 대한 설명이다.
- ③ (가)에는 학습성이 부각된 사례가 들어가야 한다. '어릴 적 자전거 타는 방법을 부모에게 배워 능숙하게 자전거를 탈 수 있게 된 것'은 학습성이 부각된 사례이므로 (가)에 들어갈 수 있다.
- ④ (나)에는 전체성이 부각된 사례가 들어가야 한다. '기존의 자전거에 변속기가 추가되고 충격 흡수 장치가 더해지는 것'은 축적성이 부각된 사례이므로 (나)에 들어갈 수 없다.
- ⑤ (다)에는 축적성이 부각된 사례가 들어가야 한다. '자전거 이용자가 늘어나자 기업이 자전거를 이용하는 공유 경제 상품을 개발하고, 정부가 전용 도로를 건설하는 것'은 전체성이 부각된 사례이므로 (다)에 들어갈 수 없다.

029	1
-----	---

㉠은 문화 상대주의이다.

- ㄱ. 문화 상대주의에 대한 설명이다.
- ㄴ. 문화 시대주의에 대한 설명이다.
- ㄷ. 자문화 중심주의에 대한 설명이다.

030	2
-----	---

갑은 문화 시대주의, 을은 자문화 중심주의, 병은 문화 상대주의적 태도를 가지고 있다.

- ① 을의 태도는 선진 문물 수용에 소극적이라는 비판을 받는다.
- ③ 갑, 을의 태도는 특정 문화를 기준으로 타 문화를 평가한다는 비판을 받는다.
- ④ 을의 태도는 타 문화와의 마찰을 일으킬 수 있다는 비판을 받는다.
- ⑤ 갑의 태도는 자기 문화의 정체성을 상실할 수 있다는 비판을 받는다.

031	4
-----	---

갑은 문화 시대주의, 을은 자문화 중심주의, 병은 문화 상대주의적 태도를 가지고 있다.

- ① 을의 태도는 선진 문물 수용에 적극적이지

- 않다는 비판을 받는다.
- ② 갑의 태도는 자국의 문화 정체성을 약화한다는 비판을 받는다.
  - ③ 갑의 태도는 문화 제국주의로 나아갈 수 있다는 비판을 받는다.
  - ⑤ 갑, 을의 태도는 모두 특정 문화를 기준으로 문화 간 우열을 가린다는 비판을 받는다.

032	4
-----	---

- ㉠은 1950년대에 사회 전반적인 풍토, 즉, 주류문화였으나 1960년대 후반에 들어 하위 문화로 바뀌었다.
- ㉡은 1960년대 후반에는 주류문화(㉠)에 저항하는 반문화적 성격을 띠었으나 1970년대에 접어들며 주류문화로 바뀌었다.

- ㄱ. 1950년대 독일 사회에서 ㉠은 주류문화이다.
- ㄷ. 젊은 세대가 공유했다가 독일 사회의 지배적인 기억 문화가 되었다는 문장을 통해 ㉡은 독일 사회의 세대문화이었다가 주류문화가 되었음을 알 수 있다.

033	5
-----	---

A는 하위문화, B는 주류문화, C는 반문화이다.

- ① A와 B 모두 시대에 따라 상대적으로 규정된다.
- ② C는 B와 달리 문화 다양성 증가에 기여한다.
- ③ A, B, C 모두 한 사회에서 공존할 수 있다.
- ④ A, B, C 모두 해당 문화를 향유하는 구성원의 정체성 강화에 기여한다.

034	3
-----	---

①, ②, ④, ⑤에 해당하는 내용 모두 제시된 글에서 찾을 수 없다.

035	4
-----	---

**[Analysis]**

1. (가)에는 직접 전파와 문화 융합이 드러나 있고, (나)에는 직접 전파와 문화 동화가 드러나 있다.
2. (가)와 (나) 모두 직접 전파로 인한 외재적 변동이 드러나 있으므로 **갑은 옳은 설명**을 하고 있다.
3. 기존의 문화가 외래문화와 결합하여 새로운 문화가 나타나는 것은 문화 융합이다. 문화 융합은 (나)와 달리 (가)에 나타나 있다. 따라서 **을은 틀린 설명**을 하고 있다.
4. 교사가 두 사람만 옳게 발표했다고 했으므로 **병은 옳은 설명을 해야 한다.**

**[Explanation]**

- ① (가)의 문화 변동 요인은 직접 전파이다.
- ② (나)에서는 (가)와 달리 자문화의 정체성이 상실되었다.
- ③ (가)에서는 (나)와 달리 문화 다양성이 증대되었다.
- ⑤ ㉠에는 '(나)의 문화 변동 요인은 간접 전파입니다.'가 들어갈 수 없다.

036	5
-----	---

**[Analysis]**

1. A국 영화인들은 영화 산어병 발달한 B국

- 영화인에게 영화 제작 기법 및 특수 효과 기술을 배워 왔다.' > **B국의 물질 문화(기술)가 B국에서 A국으로의 직접 전파**되었다.
2. '그 후 A국에서 자국의 전통적 정서와 B국의 특수 효과 기술이 섞인 새로운 영화 장르가 탄생했다.' > **A국에서 자국의 문화와 B국의 문화가 합쳐져 문화 융합**이 일어났다.
  3. '한편, B국 어업인들이 조업 활동 중 ~ B국에 C국 라면이 처음 전해졌다.' > **C국의 물질 문화(음식)가 C국에서 B국으로의 직접 전파**되었다.
  4. '이후 B국 요리사가 C국 라면에 자국의 전통 소스를 가미해 국물이 없는 비빔 라면을 개발하였다.' > **B국에서 자국의 문화와 C국의 문화가 합쳐져 문화 융합**이 일어났다.
  5. 'B국의 비빔 라면 조리 방식은 인터넷을 통해 C국 젊은이들에게까지 확산되었다.' > **B국의 물질 문화(음식 조리법)가 B국에서 C국으로의 간접 전파**되었다.
  6. 결론적으로, **A국은 물질 문화의 직접 전파로 인한 문화 융합이 일어났고, B국 역시 물질 문화의 직접 전파로 인한 문화 융합이 일어났으며 C국은 물질 문화의 간접 전파가 일어났고, 문화 변동으로 인한 결과는 알 수 없다.**

**[Explanation]**

- ① A국과 B국 모두 문화 융합이 나타났다.
- ② 문화 접변은 외부 요인에 의한 문화 변동, 즉, 직접 전파와 간접 전파, 자극 전파를 일컫는 용어이다. 따라서 A국과 B국 모두 문화 접변(직접 전파)이 나타났다.
- ③ 제시된 글에서 문화 공존이 나타난 것이 드러난 국가는 없다.
- ④ A국과 B국 모두 직접 전파가 나타났다. 간접 전파는 C국에서 나타났다.
- ⑤ A국으로 들어온 특수 효과 기술, B국으로 들어온 C국의 라면, C국으로 들어온 B국의 비빔 라면 조리 방식 모두 물질 문화이다.

037	1
-----	---

**[Analysis]**

1. 1모듬은 문화 공존이 나타난다.
2. 2모듬은 자극 전파로 인한 문화 공존이 나타난다.
3. 3모듬은 문화 융합이 나타난다.
4. 4모듬은 간접 전파가 나타난다.

**[Explanation]**

- ② 4모듬이 작성한 내용에는 문화 융합이 나타나지 않는다.
- ③ 1모듬이 작성한 내용에는 발명이 나타나지 않으며, 2모듬이 작성한 내용에도 직접 전파가 나타나지 않는다.
- ④ 3모듬이 작성한 내용에는 문화 동화가 나타나지 않는다.
- ⑤ 1모듬과 작성한 내용에는 자극 전파가 나타나지 않는다.

038	3
-----	---

- ①, ④, ⑤ 사회적 소수자에 대한 설명이 아니다.
- ② 사회적 소수자에 대한 우대 정책에 대한 설명은 두 사례 모두 드러나지 않는다.

039	5
-----	---

- ① A는 B 모두 권력의 열세로 인해 차별받지 않았다.
- ② B는 A와 달리 여러 사회적 소수자 집단에 중첩되어 속해 있다.
- ③ A와 B 모두 고정 관념으로 인해 차별의 대상이 되었다고 볼 수 있다.
- ④ A와 B 모두 식별 가능성으로 인해 차별의 대상이 되었다고 볼 수 있다.
- ⑤ A는 노인이라는 귀속적 특성으로, B는 주류 집단과는 다른 민족·인종·국적이라는 귀속적 특성으로 인해 차별받았다.

040	2
-----	---

글에 제시된 빈곤은 상대적 빈곤이다. 따라서 ㉠은 O, ㉡은 X이다.

- ㄱ. ㉠과 ㉡에 해당하는 채점 결과는 다르다.
- ㄴ. (가)에는 상대적 빈곤에 대한 옳은 설명이 들어가야 한다. '우리나라에서는 최저생계비를 기준으로 빈곤선이 결정된다.'는 절대적 빈곤에 대한 설명이므로 (가)에 들어갈 수 없다.
- ㄷ. (나)에는 상대적 빈곤에 대한 틀린 설명이 들어가야 한다. '개인이 주관적으로 빈곤하다고 인식하는 상태를 의미한다.'는 주관적 빈곤에 대한 설명이므로 (나)에 들어갈 수 없다.

041	5
-----	---

- A는 절대적 빈곤, B는 상대적 빈곤이다.
- ① A는 상대적 박탈감이라는 사회 문제를 유발할 수 있다.
  - ② 우리나라에서 가구 소득이 중위 소득에 미치지 못하는 가구는 모두 A 가구이다.
  - ③ B는 A와 달리 사회 구성원의 소득 분포에 따라 상대적으로 규정된다.
  - ④ A와 B 모두 경제 성장을 통해 해결할 수 있다.
  - ⑤ 상대적 빈곤선이 절대적 빈곤선보다 높으면 상대적 빈곤에 해당하는 사람이 더 많다는 의미이므로 A에 해당하는 모든 가구는 B에 해당한다.

042	5
-----	---

제시된 글은 진화론에 대한 설명이다. ㄱ, ㄴ은 순환론에 대한 설명이다.

043	1
-----	---

- (가)는 순환론, (나)는 진화론이다.
- ② (가)는 사회 변동이 항상 발전을 의미하는 것은 아니라고 본다.
  - ③ (나)는 (가)와 달리 서구 사회가 가장 진보한 사회임을 전제한다.
  - ④ (가)는 (나)와 달리 사회가 주기적으로 동일한 과정을 반복하며 변동한다고 본다.
  - ⑤ (가)는 단계적 사회 변동을 설명하기에 적합하다고 할 수 없다. (나)는 장기적 사회 변동을 설명하기에 적합하다.

044	3
-----	---

- (가)는 순환론, (나)는 진화론이다.
- ① (가)는 장기적인 사회 변동의 과정을 설명할 수 있다.

- ② (나)는 단선적인 사회 변동의 과정을 설명할 수 있다.
- ④ (가)는 (나)와 달리 과거에 비해 진보한 사회를 설명하기 어렵다.
- ⑤ (가)는 숙명론적 사고라는, (나)는 서구 중심적 사고라는 비판을 피하기 어렵다.

045	2
-----	---

- ① ㉠은 일반 시민이 주도한 사회 운동이다.
- ③ ㉠과 ㉡ 모두 사회 변화에 저항하고 과거 질서로 회귀하려는 사회 운동이 아니다.
- ④ ㉠과 ㉡ 모두 특정 집단 구성원의 삶의 질 향상을 목표로 하는 사회 운동이 아니다.
- ⑤ ㉡은 모두 사회 체제의 전면적인 변혁을 추구하는 사회 운동이 아니다.

046	1
-----	---

[Analysis]

1. 교과서에서 정의하는 사회 운동의 특징은 세 가지가 있다. 첫째, **체계적인 조직을 갖추고 있고**, 둘째, **뚜렷한 목표와 이념, 구체적인 활동 계획**을 가지고 있으며, 셋째, **지속적이고 조직적으로 활동**을 한다. 이 세가지 특징이 모두 드러나야 사회 운동이라고 할 수 있다.
2. (가)에는 환경 단체의 다양한 캠페인 활동이 드러나 있다. 이는 **조직을 갖추고 있으며 뚜렷한 목표와 이념을 가지고 조직적인 활동을 하고 있으므로** 사회 운동이라고 볼 수 있다.
3. (나)에는 음주 운전 사고로 사망한 연예인을 추모하면서 음주 운전 처벌을 강화를 요구하는 활동이 드러나 있다. 그러나 이는 **뚜렷한 목표가 있다고 볼 수는 있지만 조직을 갖추고 있지 않고, 활동을 한 건 맞으나 이것이 조직적인 활동이라고 보기도 어렵다.** 따라서 사회 운동이라고 볼 수 없다.
4. (다)에는 대통령 후보가 선거 공약을 내세우는 행동이 드러나 있다. 그러나 이는 **뚜렷한 목표가 있지만 조직을 갖추고 있지 않고, 선거 공약을 내세우기만 했을 뿐 행동을 했다고 보기 어렵다.** 따라서 사회 운동이라고 볼 수 없다.
5. (라)에는 노동조합이 반대 서명을 받고 있는 모습이 드러나 있다. 이는 **조직을 갖추고 있으며 뚜렷한 목표와 이념을 가지고 조직적인 활동을 하고 있으므로** 사회 운동이라고 볼 수 있다.
6. 1에 따라 2~5를 정리하면 다음과 같다.

	(가)	(나)	(다)	(라)
체계적 조직	O	X	X	O
뚜렷한 목표	O	O	O	O
지속적이고 조직적 활동	O	X	X	O
사회 운동	O	X	X	O

[Explanation]

- ㄱ. 탄소 중립을 실현 시키기 위함이라는 뚜렷한 목표와 다양한 캠페인을 통해 활동한다는 실행 방법이 제시되어 있으며, 꾸준히 하고 있다는 점에서 지속적으로 활동을 수행하였다. 따라서 사회 운동이라고 볼 수 있다.
- ㄴ. 목표는 있으나 추모를 위해 일시적으로 모인 사람들의 행동이라는 점에서 조직을 갖추고 있지 않기에 사회 운동이라 볼 수 없다.
- ㄷ. 기존 사회의 부조리를 해소하고 개혁을 추구하였다는 공약을 내세웠을 뿐 실행하

지 않았기 때문에 사회 운동이라고 볼 수 없다.  
ㄷ. 특정 집단의 이익만을 추구하는 것도 사회 운동이라고 볼 수 없다.

047	2
-----	---

- ① ㉠은 세대 간 통합을 추구하는 체계적인 사회 운동이 아니다.
- ③ ㉡은 ㉠과 달리 사회적 약자의 권리 보장을 목적으로 하는 사회 운동이다.
- ④ ㉡은 비대면 방식을 활용하는 사회 운동이 아니다.
- ⑤ ㉠과 ㉡은 모두 변화를 거부하고 과거 질서로 되돌아가려는 사회 운동이 아니다.

048	1
-----	---

A는 산업 사회, B는 정보 사회이다. (가)에는 정보 사회보다 산업 사회에서 더 높게 나타나는 특징이 들어가야 한다.

- ② B는 A에 비해 의사 결정의 분권화 정도가 높다.
- ③ B는 다품종 소량 생산, A는 소품종 대량 생산이 지배적이다.
- ④ B는 지식과 정보, A는 자본과 노동이 부가가치의 주요 원천이다.
- ⑤ '정보의 생산자와 소비자 간 구분의 명확성 정도'는 산업 사회에서 더 두드러진다. 따라서 (가)에 들어갈 수 있다.

049	4
-----	---

①, ②, ③, ⑤에 해당하는 내용 모두 제시된 글에서 찾을 수 없다.

050	1
-----	---

A는 산업 사회, B는 정보 사회이다. ㉠이 '0점'일 경우, (가)에는 정보 사회에서 더 높게 나타나는 특성을, '1점'일 경우, (가)에는 산업 사회에서 더 높게 나타나는 특성이 들어가야 한다.

- ㄴ. '사회의 다원화 정도'는 정보 사회에서 더 높게 나타나는 특성이므로 (가)에 '사회의 다원화 정도'가 들어간다면, ㉠은 '0점'이다.
- ㄷ. '가정과 일터의 결합 정도'는 정보 사회에서 더 높게 나타나는 특성이므로 ㉠이 '0점'이라면, (가)에는 '가정과 일터의 결합 정도'가 들어갈 수 있다.

— | PART II | —

051	4
-----	---

[Analysis]

1. 조부모 세대의 계층 구조가 피라미드 형이므로 가장 많은 비중을 차지하는 C가 하층, A는 중층, B는 상층이다.
2. 이를 토대로 각 세대의 계층 비율을 정리하면 다음과 같다.

	조부모	부모	자녀
B 상층	10	20	30
A 중층	20	50	20
C 하층	70	30	50

3. 따라서 부모 세대는 다이아몬드형, 자녀 세대는 모래시계형이다.
4. 각 세대의 인구는 동일하다.



[Explanation]

- ㄱ. 조부모 세대에서 하층 인구(70)는 상층 인구(10)의 7배이다.
- ㄴ. 상층 인구는 조부모(10), 부모(20), 자녀(30) 세대로 갈수록 증가한다.
- ㄷ. 부모 세대의 계층 구조는 조부모 세대의 계층 구조에 비해 사회 통합에 유리하다.

052	3
-----	---

[Analysis]

- 1. 모래시계형 계층 구조에서는 A의 비율이 가장 낮으므로 **A는 중층**이다.
- 2. 을국은 A인 중층의 비율이 가장 낮고, 병국은 가장 높다. 따라서 **을국은 모래시계형 계층 구조를, 병국은 다이아몬드형 계층 구조를 가진다.**
- 3. 그러므로 **갑국은 피라미드형 계층 구조**를 가지게 되며, **B는 상층, C는 하층**이 된다.
- 4. 이를 토대로 국가별 계층 비율을 정리하면 다음과 같다.

	갑국	을국	병국
B 상층	20	30	20
A 중층	30	20	50
C 하층	50	50	30

- 5. 각 국가별 인구수가 같다고 볼 수 없다.

[Explanation]

- ㄱ. 폐쇄적 계층 구조 여부를 판단할 수 없다.
- ㄴ. 병국의 계층 구조는 다이아몬드형, 을국의 계층 구조는 모래시계형이다. 따라서 병국의 계층 구조는 을국의 계층 구조에 비해 사회 안정성이 높다.
- ㄷ. 근대 이후의 산업 사회에서 주로 나타나는 계층 구조는 다이아몬드형 계층 구조이다.

053	5
-----	---

[Analysis]

- 1. C에서 A로의 이동은 하강 이동, C에서 B로의 이동은 상승 이동이므로, **C는 중층**이 되고, **A는 하층, B는 상층**이 된다.
- 2. 제시된 자료의 집 한 개당 1명이라고 할 때, 자료를 재구성하면 다음과 같다.

〈갑국〉	부모 세대				
	상층	중층	하층	합계	
자녀 세대	상층	2	0	4	6
	중층	1	2	3	6
	하층	1	3	2	6
	합계	4	5	9	18

〈을국〉	부모 세대				
	상층	중층	하층	합계	
자녀 세대	상층	2	3	1	6
	중층	1	1	2	4
	하층	1	6	3	10
	합계	4	10	6	20

- 3. 이때, **갑국의 부모 세대는 피라미드형, 을국의 부모 세대는 다이아몬드형, 을국의 자녀 세대는 모래시계형 계층 구조를 가진다.**

[Explanation]

- ① 완전 평등 계층 구조란, 모든 인구가 상층 또는 중층 또는 하층인, 즉, 모두 같은 계층인 구조를 의미한다. 갑국의 자녀 세대는 각 계층별 인구수만 동일 할 뿐 모든 인구가 같은 계층에 속하지 않는다.
- ② 을국의 자녀 세대에서 중층인 사람의 수

(4)는 갑국의 부모 세대에서 상층인 사람의 수(4)와 같다.

- ③ 갑국은 을국과 달리 부모 세대 중층에서 세대 간 상승 이동이 발생하지 않았다.
- ④ 갑국은 계층 이동이 발생하였으므로 개방적 계층 구조라고 볼 수 있으나, 을국 역시 계층 이동이 발생하였으므로 을국은 폐쇄적 계층 구조라고 볼 수 없다.

054	3
-----	---

[Analysis]

- 1. **20대 기혼 여성의 평균 임금과 20대 미혼 남성이 평균 임금은 같고**, 이를 100달러라고 기준을 잡는다.
- 2. 기혼 20대의 성별 격차 지수가 20이다. 기혼 남성을  $x$ 달러, 기혼 여성을 100달러라고 했을 때,  $\frac{x-100}{x} \times 100 = 20$ 이라는 식이 도출된다. 하지만, **문제를 풀이하는 데에 있어  $x$ 의 값을 구할 필요는 없다.**
- 3. 미혼 20대의 성별 격차 지수는 10이다. 미혼 남성을 100달러, 미혼 여성을  $y$ 달러라고 했을 때,  $\frac{100-y}{100} \times 100 = 10$ 이라는 식이 도출된다. 따라서  **$y$ 의 값은 90임을 알 수 있다.**
- 4. 2번과 3번을 토대로 연령대별 평균 임금을 정리하면 다음과 같다.

	기혼		미혼	
	남성	여성	남성	여성
20대	120a	100	100	90
30대	142a	130	140	126
40대	165a	120	145	139.5
50대	170a	90	130	135
60대	110a	70	90	54

(단, a는 1보다 크다.)

[Explanation]

- ① ㉠은 '90'이다.
- ② 40대에서 기혼 남성과 기혼 여성 간의 성별 임금 격차 지수는 아무리 낮아도 27.3이 넘어간다. 반면, 미혼 남성과 미혼 여성 간의 성별 임금 격차 지수는 약 3.7이다. 따라서 40대에서 성별 임금 격차 지수는 기혼이 미혼보다 크다.
- ③ 50대 기혼 여성과 20대 미혼 여성의 평균 임금은 모두 90달러로 서로 같다.
- ④ 기혼 남성 40대와 50대의 평균 임금 차이는  $5a$ 달러, 미혼 남성 30대와 40대의 평균 임금 차이는 5달러이다. 이때, a는 1보다 큰 값을 가지므로 두 평균 임금의 차이는 다르다.
- ⑤ 미혼의 경우, 50대에서는 남성보다 여성의 평균 임금이 더 높다.

[Extra]

기혼 남성 평균 임금의 근사치를 구하면 다음과 같다.

	기혼		미혼	
	남성	여성	남성	여성
20대	125	100	100	90
30대	147.9	130	140	126
40대	171.8	120	145	139.5
50대	177.1	90	130	135
60대	114.6	70	90	54

055	3
-----	---

[Analysis]

- 1. ㉠은 **공공 부조**의 성격을 띤다.
- 2. **부부가구는 2인이라는 점을 잊지 말자.** 르 선지를 풀 때 자칫 함정에 빠져 틀릴 수 있다.
- 3. 부부 가구의 수가 1인 가구의 수의 2배이다.
- 4. 부부 가구 인구가 1인 가구 인구의 4배이다. (2번 참고)
- 5. 2~4번을 통해 상대적 빈곤 가구 수와 상대적 빈곤 인구를 구하면 다음과 같다.

형태	가구 수 (만 가구)	상대적 빈곤 가구 (만 가구)		
		시행 전	시행 후	
1인	100	50	25	20
	부부	200	80	40

형태	인구 수 (만 명)	상대적 빈곤 인구 (만 명)		
		시행 전	시행 후	
1인	100	50	25	20
	부부	400	160	80

[Explanation]

- ㄱ. 상호 부조의 원리를 바탕으로 하는 것은 사회 보험이다.
- ㄴ. 공공 부조는 은 사전 예방적 성격보다 사후 처방적 성격이 강하다.
- ㄷ. A안 시행 전후의 상대적 빈곤 가구 수 차이는 1인 가구(25만)가 부부 가구(40만)보다 작다.
- ㄹ. 상대적 빈곤에 해당하는 부부 가구 인구는 A안을 시행할 경우(80만)가 B안을 시행할 경우(60만)보다 20만 명 많다.

056	3
-----	---

[Analysis]

- 1. (가)는 **공공 부조**, (나)는 **사회 보험**이다.
- 2. 제시된 연도의 남녀 인구는 1,000만명으로 모두 같다. 즉, **비율의 대소관계가 인구수와 일치한다.**
- 3. 제시된 그래프를 (가), (나)로 나누어 표로 재구성하면 다음과 같다.

(가) 공공 부조의 수급자 수 (단위 : 만 명)		
	t	t+30
남성	15	30
여성	45	60
총 수급자 수	60	90

(나) 사회 보험의 수급자 수 (단위 : 만 명)		
	t	t+30
남성	60	80
여성	40	80
총 수급자 수	100	160

[Explanation]

- ㄱ. 수급자에 대한 부정적 낙인이 발생할 수 있는 제도는 (가) 공공 부조이다. t년에 공공 부조의 남성 수급자 수(15)는 여성 수급자 수(45)의 1/3배이다.
- ㄴ. 수혜자 비용 부담 원칙이 적용되는 제도는 (나) 사회 보험이다. t년(100)에 비해 t+30년(160)에 사회 보험의 수급자 수는 60만 명 증가하였다.
- ㄷ. 상호 부조의 원리가 적용되는 제도는 (나) 사회 보험이고 강제 가입의 원칙이 적용되는 제도 역시 (나) 사회 보험이다. t년에 사회 보험의 수급자 중 남성 수급자 비율(100만 명 중 60만 명

=60%)은 t+30년에 사회 보험의 수급자 중 여성 수급자 비율(160만 명 중 80만 명=50%)보다 높다.

- ㄹ. 사전 예방적 성격이 강한 제도는 (나) 사회 보험이고 사후 처방적 성격이 강한 제도는 (가) 공공 부조이다. t년에 갑국 인구 중 사회 보험의 수급자 비율(1,000만 명 중 100만 명=10%)은 t+30년에 갑국 인구 중 공공 부조의 수급자 비율(1,000만 명 중 90만 명=9%)보다 낮다.

057	2
-----	---

[Analysis]

- A는 사회 보험, B는 공공 부조이다.
- <표 1>에서 A의 수급자는 40%이고, A와 B를 동시에 수급하는 사람은 8%이므로 A만 수급하는 사람은 40%에서 8%p를 뺀 32%이다. B 역시 수급자는 15%이므로 B만 수급하는 사람은 15%에서 8%p를 뺀 7%이다. 이를 토대로 t년의 수급자 비율을 정리해보면 다음과 같다.

A	A∩B	B
32%	8%	7%

- <표 2>는 t+30년의 t년 대비 증감률을 나타낸다. A에만 해당하는 수급자는 2%p 증가했고, B에만 해당하는 수급자는 3%p 감소했고, A와 B의 중복 수급자는 8%p 증가했다. 이를 토대로 t+30년의 수급자 비율을 정리해보면 다음과 같다.

A	A∩B	B
34%	16%	4%

- 이때, t+30년의 A 제도 수급자는 50%(34+16), B 제도 수급자는 20%(16+4)인 것을 기억하자.
- t년의 총인구를 100명이라 할 때, t+30년의 총인구는 50% 증가하였으므로 150명이다. 이를 정리하면 다음과 같다.

t년 (총인구 : 100명)		
A	A∩B	B
32%	8%	7%
32명	8명	7명

t+30년 (총인구 : 150명)		
A	A∩B	B
34%	16%	4%
51명	24명	6명

[Explanation]

- 부정적 낙인이 발생할 수 있는 제도는 B 공공 부조이다. t년에 전체 인구 중 공공 부조에만 해당하는 수급자 비율(7%)은 A와 B의 중복 수급자 비율(8%)보다 작다.
- 수혜자 비용 부담 원칙이 적용되는 제도는 A 사회 보험이다. t+30년에 사회 보험의 수급자 수(75)는 t년에 A나 B 어느 것도 받지 않는 비(非)수급자 수(53)보다 많다.
- 강제 가입의 원칙이 적용되는 제도는 A 사회 보험이다. t+30년에 사회 보험에만 해당하는 수급자 수(51)는 A와 B의 중복 수급자 수(24)보다 많다.
- t년에 사전 예방적 성격이 강한 제도(A)의 수급자 수(40)는 t+30년에 사후 처방적 성격이 강한 제도(B)의 수급자 수(30)의 4/3배이다.
- t년 대비 t+30년에 A 수급자 수의 증가율(87.5%)은 B 수급자 수의 증가율(100%)보다 작다.

058	2
-----	---

[Analysis]

- 갑국 총인구 중 부양 인구 비율은 t년과 t+50년이 각각 40%, t+100년이 30%이다.

	t	t+50	t+100
유소년			
부양	40	40	30
노인			

(단위 : %)

- t+50년의 노년 부양비는 75로 t년의 3배이다. 따라서 t년의 노년 부양비는 25이다.

	t	t+50	t+100
유소년			
부양	40	40	30
노인	10	30	

(단위 : %)

- 또한, 비율의 합은 100이므로 t년과 t+50년의 유소년 인구 비율도 구할 수 있다.

	t	t+50	t+100
유소년	50	30	
부양	40	40	30
노인	10	30	

(단위 : %)

- t+100년의 노령화 지수는 250이다. 따라서 t+100년의 유소년 인구를 a라 할 때, 노인 인구는 2.5a이다.

	t	t+50	t+100
유소년	50	30	a
부양	40	40	30
노인	10	30	2.5a

(단위 : %)

- 이때, t+100년에서 a+30+2.5a=100이므로 a=20이다.

	t	t+50	t+100
유소년	50	30	20
부양	40	40	30
노인	10	30	50

(단위 : %)

- t+50년의 총인구는 t년의 2배이고, t+100년의 총인구는 t년의 1.5배이므로 t년의 총인구를 100명이라 할 때, t+50년은 200명, t+100년은 150명이다. 이를 이용하여 각 연도별 인구수를 구하면 다음과 같다.

	t	t+50	t+100
유소년	50	60	30
부양	40	80	45
노인	10	60	75
총인구	100	200	150

(단위 : 명)

[Explanation]

- t년의 총 부양비는 150이고 t+50년의 총부양비도 150이다. 따라서 t+50년의 총부양비는 t년과 같다.
- t년의 노령화 지수는 20이고 t+50년의 노령화 지수는 100이다. 따라서 t+50년의 노령화 지수는 t년의 5배이다.
- t+50년의 부양 인구는 t년에 비해 100% 증가하였다.
- 제시된 연도 중 유소년 인구는 t+100년이 가장 적다.
- t년, t+50년, t+100년의 유소년 부양비는 각각 125, 75, 66.7이다. 따라서 t년이 가장 크고, t+100년이 가장 작다.

059	5
-----	---

[Analysis]

- 아래쪽의 B/C에 대한 표부터 확인해보자. 갑국 t년에서 B/C=1/3이므로 B:C=1:3이다. 나머지를 모두 정리해보면 다음과 같다.

B : C	
갑국 t년	1:3
갑국 t+50년	2:3
을국 t년	1:6
을국 t+50년	2:3

- 다음으로, 위쪽의 B+C/A에 대한 표를 확인해보자. 갑국 t년에서 B+C/A=2/3이므로 B+C:A=2:3이다. 나머지를 모두 정리해보면 다음과 같다.

B+C : A	
갑국 t년	2:3
갑국 t+50년	1:1
을국 t년	7:13
을국 t+50년	1:1

- 1과 2를 이용하여 A:B:C의 비율 관계를 구해보자. B:C=1:3에서 B+C=4라고 가정하면, B+C:A=2:3=4:6이므로 A는 6이 된다. 나머지도 이를 적용하면 다음과 같이 A:B:C의 비율 관계를 구할 수 있다.

A : B : C	
갑국 t년	6:1:3
갑국 t+50년	5:2:3
을국 t년	13:1:6
을국 t+50년	5:2:3

- 3의 비율 관계를 정리하면 다음과 같다.

	갑국		을국	
	t	t+50	t	t+50
A	6	5	13	5
B	1	2	1	2
C	3	3	6	3

- 갑국 t년의 유소년 부양비는 50이다. 즉, 유소년:부양=1:2라는 의미인데, 이를 만족하는 것은 C=유소년, A=부양 밖에 없다. 따라서 A=부양, B=노인, C=유소년이다. 표를 다시 정리해보자.

	갑국		을국	
	t	t+50	t	t+50
유소년	3	3	6	3
부양	6	5	13	5
노인	1	2	1	2

- 갑국 t년의 전체 인구수를 100명이라 가정하고 표를 재구성하면 다음과 같다. 이때, t년의 갑국과 을국의 인구수가 같다는 것을 잊지 말자.

	갑국		을국	
	t	t+50	t	t+50
유소년	30	3a	30	3b
부양	60	5a	65	5b
노인	10	2a	5	2b
총인구	100	10a	100	10b

(단위 : 명)

- t년 대비 t+50년의 갑국의 유소년 인구는 10% 감소하였고, 을국의 유소년 인구는 20% 감소하였다. 이를 이용하여 표를 완성해보면 다음과 같다.

	갑국		을국	
	t	t+50	t	t+50
유소년	30	27	30	24
부양	60	45	65	40
노인	10	18	5	16
총인구	100	90	100	80

(단위 : 명)

[Explanation]

- ① t년의 노년 부양비는 갑국이 1/6, 을국이 1/13이다. 따라서 갑국이 을국의 2배보다 많다.
- ② t+50년에 유소년 인구는 갑국(27)과 을국(24)이 다르다.
- ③ t+50년에 갑국과 을국 모두 노인 인구가 차지하는 비율이 20%이므로 초고령 사회이다.
- ④ t년에서 t+50년 사이에 갑국과 을국 모두 달리 저출산·고령화 현상이 나타났다.
- ⑤ t년에 부양 인구는 을국(65)이 갑국(60)보다 많고, t+50년에 부양 인구는 갑국(45)이 을국(40)보다 많다.

060	4
-----	---

[Analysis]

1. 갑국과 을국의 각 연도별 15~64세 비율, 즉, 부양 인구의 비율을 기준으로 시작하자.

	갑국		을국	
	t	t+50	t	t+50
유소년				
부양	50	60	50	55
노인				

(단위 : %)

2. 갑국 t년의 노령화 지수는 25이다. 이 말은 **갑국 t년의 유소년 인구 비율과 노인 인구 비율이 4:1**임을 의미한다. **갑국 t년의 유소년 인구와 노인 인구 비율의 합은 50%**이므로 이를 4:1로 나누면 **유소년 인구는 40%, 노인 인구는 10%**임을 알 수 있다.

	갑국		을국	
	t	t+50	t	t+50
유소년	40			
부양	50	60	50	55
노인	10			

(단위 : %)

3. 갑국 t+50년의 노령화 지수는 100이다. 이 말은 **갑국 t+50년의 유소년 인구 비율과 노인 인구 비율이 1:1**임을 의미한다. **갑국 t+50년의 유소년 인구와 노인 인구 비율의 합은 40%**이므로 이를 1:1로 나누면 **유소년 인구나 노인 인구 모두 각각 20%**임을 알 수 있다.

	갑국		을국	
	t	t+50	t	t+50
유소년	40	20		
부양	50	60	50	55
노인	10	20		

(단위 : %)

4. 을국 t년의 노령화 지수는 150이다. 이 말은 **을국 t년의 유소년 인구 비율과 노인 인구 비율이 2:3**임을 의미한다. **을국 t년의 유소년 인구와 노인 인구 비율의 합은 50%**이므로 이를 2:3로 나누면 **유소년 인구는 20%, 노인 인구는 30%**임을 알 수 있다.

	갑국		을국	
	t	t+50	t	t+50
유소년	40	20	20	
부양	50	60	50	55
노인	10	20	30	

(단위 : %)

5. 을국 t+50년의 노령화 지수는 200이다. 이 말은 **을국 t+50년의 유소년 인구 비율과 노인 인구 비율이 1:2**임을 의미한다. **을국 t+50년의 유소년 인구와**

**노인 인구 비율의 합은 45%**이므로 이를 1:2로 나누면 **유소년 인구는 15%, 노인 인구는 30%**임을 알 수 있다.

	갑국		을국	
	t	t+50	t	t+50
유소년	40	20	20	15
부양	50	60	50	55
노인	10	20	30	30

(단위 : %)

6. 갑국의 전체 인구는 t년 대비 t+50년에 **10% 감소**하였고, 을국의 전체 인구는 t년 대비 t+50년에 **20% 감소**하였다. 이때, 갑국과 을국의 t년 전체 인구는 **동일**하므로 갑국과 을국의 t년 전체 인구를 각각 100명이라 가정하면 **t+50년 갑국의 전체 인구는 90명, 을국의 전체 인구는 80명**이 된다. 이를 토대로 1~5에서 완성한 표를 인구수로 바꾸면 다음과 같다.

	갑국		을국	
	t	t+50	t	t+50
유소년	40	18	20	12
부양	50	54	50	44
노인	10	18	30	24
총인구	100	90	100	80

(단위 : 명)

[Explanation]

- ① t년과 t+50년 모두 갑국은 을국에 비해 저출산 현상이 약하게 나타난다.
- ② 갑국의 t년 노인 인구 비율은 10%이므로 초고령 사회가 아니다. 갑국 t년은 고령화 사회이고, 나머지는 모두 초고령 사회이다.
- ③ t년 대비 t+50년의 노령화 지수 증가율은 갑국이 500%, 을국이 100%이므로 을국이 갑국보다 작다.
- ④ t년에 을국의 유소년 인구(20)는 t+50년에 갑국의 유소년 인구(18)보다 많다.
- ⑤ t년에 노년 인구는 갑국이 10명, 을국이 30명이므로 을국이 갑국의 3배이지만, t+50년에 노년 인구는 갑국이 18명, 을국이 24명이므로 을국이 갑국의 4/3배(약 1.33배)이다.

25'

## MASTER 기출 분석

사회  
문화