

제 2 교시

수학 영역 KSM

출수형

5지선다형

1. $\sqrt[3]{24} \times 3^{\frac{2}{3}}$ 의 값은? [2점]

- ① 6
- ② 7
- ③ 8
- ④ 9
- ⑤ 10

2. 함수 $f(x) = 2x^3 - 5x^2 + 3$ 에 대하여 $\lim_{h \rightarrow 0} \frac{f(2+h) - f(2)}{h}$ 의
값은? [2점]

- ① 1
- ② 2
- ③ 3
- ④ 4
- ⑤ 5

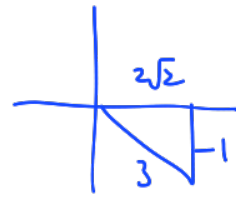
$$f'(x) = 6x^2 - 10x$$

$$f'(2) = 24 - 20 = 4$$

3. $\frac{3}{2}\pi < \theta < 2\pi$ 인 θ 에 대하여 $\sin(-\theta) = \frac{1}{3}$ 일 때,
 $\tan\theta$ 의 값은? [3점]

- ① $-\frac{\sqrt{2}}{2}$
- ② $-\frac{\sqrt{2}}{4}$
- ③ $-\frac{1}{4}$
- ④ $\frac{1}{4}$
- ⑤ $\frac{\sqrt{2}}{4}$

$$\sin\theta = -\frac{1}{3}$$



$$\tan\theta = \frac{-1}{2\sqrt{2}} = \frac{-\sqrt{2}}{4}$$

4. 함수

$$f(x) = \begin{cases} 3x - a & (x < 2) \\ x^2 + a & (x \geq 2) \end{cases}$$

가 실수 전체의 집합에서 연속일 때, 상수 a 의 값은? [3점]

- ① 1
- ② 2
- ③ 3
- ④ 4
- ⑤ 5

$$6 - a = 4 + a$$

$$a = 1$$

5. 다항함수 $f(x)$ 가

$$f'(x) = 3x(x-2), \quad f(1) = 6$$

을 만족시킬 때, $f(2)$ 의 값은? [3점]

- ① 1 ② 2 ③ 3 ④ 4 ⑤ 5

$$f'(x) = 3x^2 - 6x$$

$$f(x) = x^3 - 3x^2 + C$$

$$f(1) = 1 - 3 + C = 6, \quad C = 8$$

$$f(2) = 8 - 12 + 8 = 4$$

6. 등비수열 $\{a_n\}$ 의 첫째항부터 제 n 항까지의 합을 S_n 이라 하자.

$$S_4 - S_2 = 3a_4, \quad a_5 = \frac{3}{4}$$

일 때, $a_1 + a_2$ 의 값은? [3점]

- ① 27 ② 24 ③ 21 ④ 18 ⑤ 15

$$a_3 + a_4 = 3a_4$$

$$a_3 = 2a_4$$

$$1 = 2r, \quad r = \frac{1}{2}$$

$$a_5 = ar^4 = \frac{3}{4}$$

$$\frac{1}{16}a = \frac{3}{4}$$

$$a = 12$$

$$a_1 + a_2 = 12 + 6 = 18$$

7. 함수 $f(x) = \frac{1}{3}x^3 - 2x^2 - 12x + 4$ 가 $x = \alpha$ 에서 극대이고

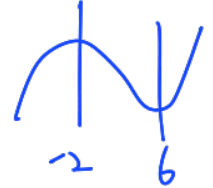
$x = \beta$ 에서 극소일 때, $\beta - \alpha$ 의 값은? (단, α 와 β 는 상수이다.)

[3점]

- ① -4 ② -1 ③ 2 ④ 5 ⑤ 8

$$f'(x) = x^2 - 4x - 12$$

$$= (x-6)(x+2)$$



$$\alpha = -2$$

$$\beta = 6 \quad \beta - \alpha = 8$$

8. 삼차함수 $f(x)$ 가 모든 실수 x 에 대하여

$$xf(x) - f(x) = 3x^4 - 3x \quad 3x(x^3 - 1)$$

를 만족시킬 때, $\int_{-2}^2 f(x)dx$ 의 값은? [3점]

- ① 12 ② 16 ③ 20 ④ 24 ⑤ 28

$$(x-1)f(x) = 3x(x-1)(x^2+x+1)$$

$$f(x) = 3x(x^2+x+1)$$

$$= 3x^3 + 3x^2 + 3x$$

$$\int_{-2}^2 (3x^3 + 3x^2 + 3x) dx = 2 \int_0^2 3x^2 dx$$

$$= 2 [x^3]_0^2 = 16$$

9. 수직선 위의 두 점 $P(\log_5 3)$, $Q(\log_5 12)$ 에 대하여 선분 PQ 를 $m:(1-m)$ 으로 내분하는 점의 좌표가 1일 때, 4^m 의 값은? (단, m 은 $0 < m < 1$ 인 상수이다.) [4점]

- ① $\frac{7}{6}$ ② $\frac{4}{3}$ ③ $\frac{3}{2}$ ④ $\frac{5}{3}$ ⑤ $\frac{11}{6}$

$$\frac{m \log_5 12 + (1-m) \log_5 3}{m + (1-m)} = 1$$

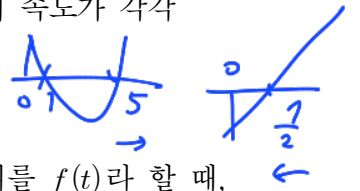
$$\log_5 (2^m \cdot 3^{1-m}) = 1$$

$$2^m \cdot 3^m \cdot 3^{1-m} = 5$$

$$4^m \cdot 3 = 5, \therefore 4^m = \frac{5}{3}$$

10. 시각 $t=0$ 일 때 동시에 원점을 출발하여 수직선 위를 움직이는 두 점 P, Q 의 시각 $t(t \geq 0)$ 에서의 속도가 각각

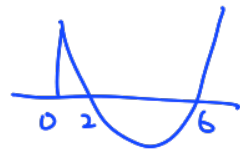
$$v_1(t) = t^2 - 6t + 5, \quad v_2(t) = 2t - 7$$



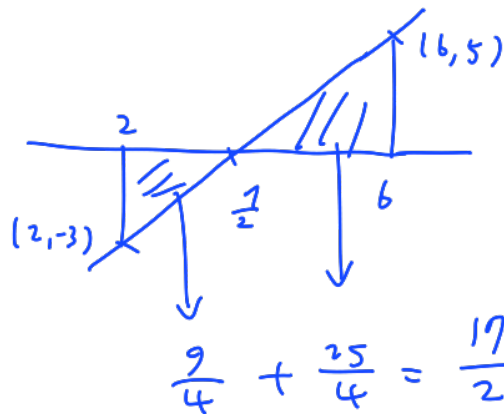
이다. 시각 t 에서의 두 점 P, Q 사이의 거리를 $f(t)$ 라 할 때, 함수 $f(t)$ 는 구간 $[0, a]$ 에서 증가하고, 구간 $[a, b]$ 에서 감소하고, 구간 $[b, \infty)$ 에서 증가한다. 시각 $t=a$ 에서 $t=b$ 까지 점 Q 가 움직인 거리는? (단, $0 < a < b$) [4점]

- ① $\frac{15}{2}$ ② $\frac{17}{2}$ ③ $\frac{19}{2}$ ④ $\frac{21}{2}$ ⑤ $\frac{23}{2}$

$$v_1(t) - v_2(t) = t^2 - 8t + 12 = (t-2)(t-6)$$



$$a=2, \quad b=6$$



$$\frac{9}{4} + \frac{25}{4} = \frac{17}{2}$$

11. 공차가 0이 아닌 등차수열 $\{a_n\}$ 에 대하여

$$|a_6| = a_8, \quad \sum_{k=1}^5 \frac{1}{a_k a_{k+1}} = \frac{5}{96}$$

일 때, $\sum_{k=1}^{15} a_k$ 의 값은? [4점]

- ① 60 ② 65 ③ 70 ④ 75 ⑤ 80

$$\begin{aligned} |a_6| &= |a_8| \rightarrow d > 0 \\ |a+5d| &= |a+7d| \\ -a-5d &= a+7d, \quad a = -6d \end{aligned}$$

$$\begin{aligned} \frac{1}{d} \left(\frac{1}{a_1} - \frac{1}{a_6} \right) &= \frac{5}{96} \\ \frac{1}{d} \left(\frac{1}{-6d} - \frac{1}{-d} \right) &= \frac{5}{96} \\ \frac{1}{d} \left(\frac{-5}{-6d} \right) &= \frac{5}{96} \\ d^2 &= 16, \quad d = 4, \quad a = -24 \\ \frac{15}{1} a_k &= \frac{15(2a+14d)}{2} = 15(a+7d) \\ &= 60 \end{aligned}$$

12. 함수 $f(x) = \frac{1}{9}x(x-6)(x-9)$ 와 실수 $t(0 < t < 6)$ 에 대하여

함수 $g(x)$ 는

$$g(x) = \begin{cases} f(x) & (x < t) \\ -(x-t) + f(t) & (x \geq t) \end{cases}$$

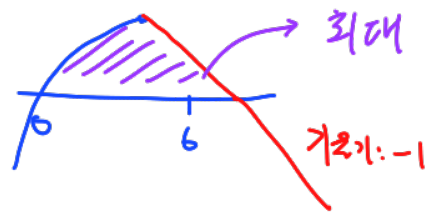
) f 와 t 의 연속



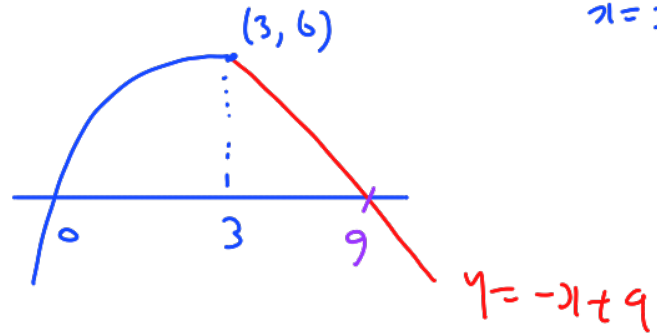
$-x+t+f(t)$: 기울기 -1인 직선

이다. 함수 $y=g(x)$ 의 그래프와 x 축으로 둘러싸인 영역의 넓이의 최댓값은? [4점]

- ① $\frac{125}{4}$ ② $\frac{127}{4}$ ③ $\frac{129}{4}$ ④ $\frac{131}{4}$ ⑤ $\frac{133}{4}$



$$\begin{aligned} f &= \frac{1}{9}(x^3 - 15x^2 + 54x) \\ f' &= \frac{1}{9}(3x^2 - 30x + 54) = -1 \\ x^2 - 10x + 21 &= 0 \\ x &= 3, 7 \end{aligned}$$



$$\begin{aligned} \int_0^3 f(x) dx + \frac{1}{2} \cdot 6 \cdot 6 \\ &= \frac{1}{9} \left[\frac{1}{4}x^4 - 5x^3 + 27x^2 \right]_0^3 + 18 \\ &= \left(\frac{9}{4} - 15 + 27 \right) + 18 = \frac{129}{4} \end{aligned}$$

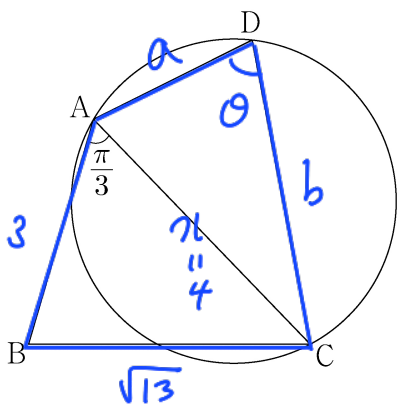
13. 그림과 같이

$$\overline{AB} = 3, \overline{BC} = \sqrt{13}, \overline{AD} \times \overline{CD} = 9, \angle BAC = \frac{\pi}{3}$$

$$ab = 9$$

인 사각형 ABCD가 있다. 삼각형 ABC의 넓이를 S_1 , 삼각형 ACD의 넓이를 S_2 라 하고, 삼각형 ACD의 외접원의 반지름의 길이를 R 이라 하자.

$S_2 = \frac{5}{6}S_1$ 일 때, $\frac{R}{\sin(\angle ADC)}$ 의 값은? [4점]



- ① $\frac{54}{25}$ ② $\frac{117}{50}$ ③ $\frac{63}{25}$ ④ $\frac{27}{10}$ ⑤ $\frac{72}{25}$

$$\Delta ABC \Rightarrow 13 = a^2 + 9 - 2 \cdot 3 \cdot a \cdot \frac{1}{2}$$

$$a^2 - 3a - 4 = 0, a = 4$$

$$\Delta ABC = \frac{1}{2} \cdot 3 \cdot 4 \cdot \frac{\sqrt{3}}{2} = 3\sqrt{3} = S_1 \quad \therefore S_2 = \frac{5}{2}\sqrt{3}$$

$$S_2 = \frac{1}{2}ab \sin \theta = \frac{5}{2}\sqrt{3}$$

$$ab = 9 \Rightarrow \frac{9}{2} \sin \theta = \frac{5}{2}\sqrt{3} \quad \therefore \sin \theta = \frac{5}{9}\sqrt{3}$$

$$\cos \theta = \frac{\sqrt{6}}{9}$$

$$\frac{4}{\sin \theta} = 2R, \therefore R = \frac{2}{\sin \theta}$$

$$\therefore \frac{R}{\sin \theta} = \frac{2}{\sin^2 \theta} = 2 \times \frac{81}{95} = \frac{54}{25}$$

14. 두 자연수 a, b 에 대하여 함수 $f(x)$ 는

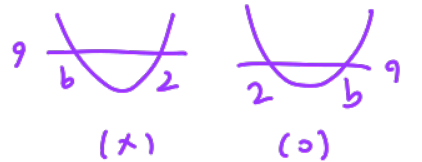
$$6x^2 - 6 = 6(x+1)(x-1)$$

$$f(x) = \begin{cases} 2x^3 - 6x + 1 & (x \leq 2) \\ a(x-2)(x-b) + 9 & (x > 2) \end{cases}$$



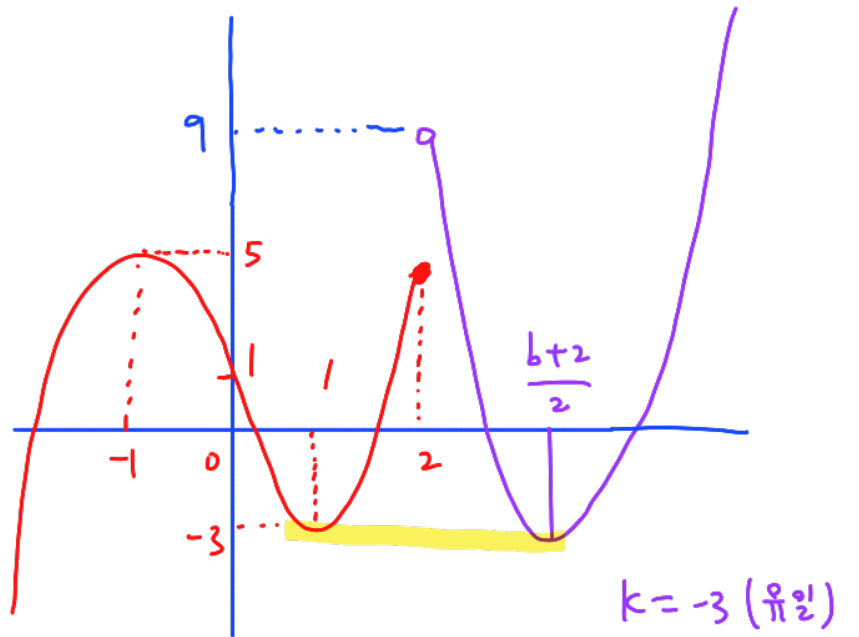
이다. 실수 t 에 대하여 함수 $y=f(x)$ 의 그래프와 직선 $y=t$ 가 만나는 점의 개수를 $g(t)$ 라 하자.

$$g(k) + \lim_{t \rightarrow k^-} g(t) + \lim_{t \rightarrow k^+} g(t) = 9$$



를 만족시키는 실수 k 의 개수가 1이 되도록 하는 두 자연수 a, b 의 순서쌍 (a, b) 에 대하여 $a+b$ 의 최댓값은? [4점]

- ① 51 ② 52 ③ 53 ④ 54 ⑤ 55



$$a(x-2)(x-b) + 9 \quad \left(\frac{b+2}{2}, -3\right)$$

$$a\left(\frac{b-2}{2}\right)\left(\frac{-b+2}{2}\right) + 9 = -3$$

$$-\frac{a}{4}|b-2|^2 = -12 \quad a|b-2|^2 = 48$$

a	b	$a+b$
3	16	19
12	4	16
48	1	49

15. 첫째항이 자연수인 수열 $\{a_n\}$ 이 모든 자연수 n 에 대하여

$$a_{n+1} = \begin{cases} 2^{a_n} & (a_n \text{이 홀수인 경우}) \\ \frac{1}{2}a_n & (a_n \text{이 짝수인 경우}) \end{cases}$$

를 만족시킬 때, $a_6 + a_7 = 3$ 이 되도록 하는 모든 a_1 의 값의 합은? [4점]

- ① 139 ② 146 ③ 153 ④ 160 ⑤ 167

a_6 홀 $\Rightarrow a_7 = 2^{a_6}$, $a_6 + a_7 = 3$ $\begin{pmatrix} a_6 = 1 \\ a_7 = 2 \end{pmatrix}$

a_6 짝 $\Rightarrow a_7 = \frac{1}{2}a_6$, $a_6 + a_7 = 3$ $\begin{pmatrix} a_6 = 2 \\ a_7 = 1 \end{pmatrix}$

i) $a_6 = 1, a_7 = 2$

a_1	a_2	a_3	a_4	a_5	a_6	a_7
1						
4	>	1	>	2-1	}	2-1-2
8	-	4				
6	-	3	>	8-4		
32	-	16				

(i) $a_6 = 2, a_7 = 1$

a_1	a_2	a_3	a_4	a_5	a_6	a_7
2	-	1	>	1		
8	-	4	>	2-1	}	2-1
3	>	8-4				
16	>	8-4				
12	-	6-3	>	8-4		
5	>	32-16				
64						

$$1+2+3+4+5+6+8+12+16+32+64 = 153$$

단답형

16. 방정식 $3^{x-8} = \left(\frac{1}{27}\right)^x$ 을 만족시키는 실수 x 의 값을 구하시오.

2 [3점]

$$3^{x-8} = 3^{-3x}, \quad x=2$$

17. 함수 $f(x) = (x+1)(x^2+3)$ 에 대하여 $f'(1)$ 의 값을 구하시오.

[3점]

$$f'(x) = (2x+3) + (x+1) \cdot 2x$$

$$f'(1) = 4 + 4 = 8$$

18. 두 수열 $\{a_n\}, \{b_n\}$ 에 대하여

$$\sum_{k=1}^{10} a_k = \sum_{k=1}^{10} (2b_k - 1), \quad \sum_{k=1}^{10} (3a_k + b_k) = 33$$

일 때, $\sum_{k=1}^{10} b_k$ 의 값을 구하시오. [3점]

9

$$\sum_{k=1}^{10} a_k = \alpha$$

$$\sum_{k=1}^{10} b_k = \beta$$

$$\alpha = 2\beta - 10$$

$$3\alpha + \beta = 33$$

$$3(2\beta - 10) + \beta = 33$$

$$7\beta = 63, \quad \beta = 9$$

19. 함수 $f(x) = \sin \frac{\pi}{4}x$ 라 할 때, $0 < x < 16$ 에서 부등식

$$f(2+x)f(2-x) < \frac{1}{4}$$

을 만족시키는 모든 자연수 x 의 값의 합을 구하시오. [3점]

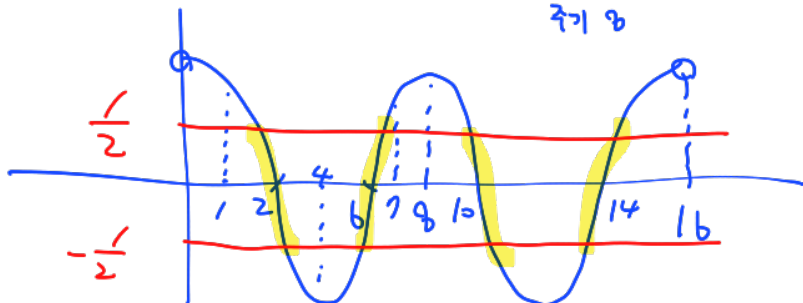
$$f(2+x)f(2-x)$$

32

$$= \sin\left(\frac{\pi}{4} + \frac{\pi}{4}x\right) \sin\left(\frac{\pi}{4} - \frac{\pi}{4}x\right)$$

$$= \left(\cos \frac{\pi}{4}x\right)^2 < \frac{1}{4}, \quad -\frac{1}{2} < \cos \frac{\pi}{4}x < \frac{1}{2}$$

주기 8



$$x = 2, 6, 10, 14 \quad 2+6+10+14 = 32$$

20. $a > \sqrt{2}$ 인 실수 a 에 대하여 함수 $f(x)$ 를

$$f(x) = -x^3 + ax^2 + 2x$$

라 하자. 곡선 $y=f(x)$ 위의 점 $O(0,0)$ 에서의 접선이 곡선 $y=f(x)$ 와 만나는 점 중 O 가 아닌 점을 A 라 하고, 곡선 $y=f(x)$ 위의 점 A 에서의 접선이 x 축과 만나는 점을 B 라 하자. 점 A 가 선분 OB 를 지름으로 하는 원 위의 점일 때, $\overline{OA} \times \overline{AB}$ 의 값을 구하시오. [4점]

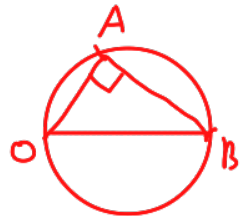
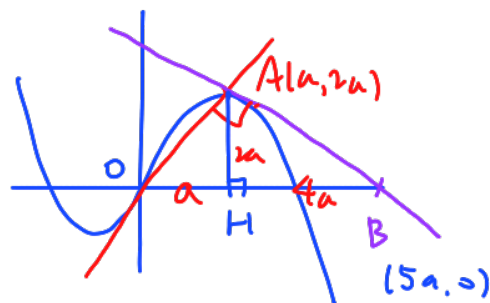
25

$$f = -x(x-a)(x-2)$$

$$D = a^2 + 8 > 0$$

$$a + 2 = a > \sqrt{2}$$

$$a\beta = -2 < 0$$



$$f' = -3x^2 + 2ax + 2$$

$$f'(a) = 2, \quad y = 2a$$

$$-x^3 + ax^2 + 2x = 2x$$

$$-x^2(x-a) = 0, \quad x = 0, a \quad A(a, 2a)$$

$$AH^2 = OH \times BH \quad \therefore BH = 4a \quad B(5a, 0)$$

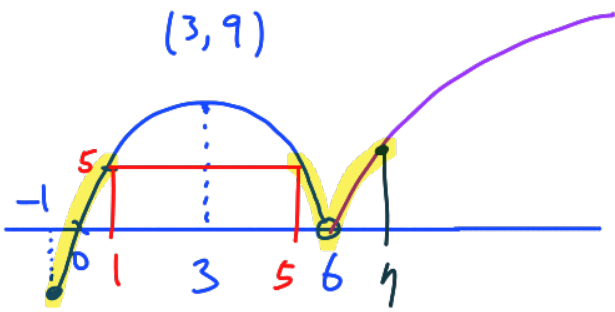
$$f'(a) = -a^2 + 2 = \frac{0-2a}{5a-a} = -\frac{1}{2}, \quad a^2 = \frac{5}{2}$$

$$\therefore \overline{OA} \times \overline{AB} = \overline{AH} \times \overline{OB} = 10a^2 = 25$$

21. 양수 a 에 대하여 $x \geq -1$ 에서 정의된 함수 $f(x)$ 는

$$f(x) = \begin{cases} -x^2 + 6x & (-1 \leq x < 6) \\ a \log_4(x-5) & (x \geq 6) \end{cases}$$

이다. $t \geq 0$ 인 실수 t 에 대하여 닫힌구간 $[t-1, t+1]$ 에서의 $f(x)$ 의 최댓값을 $g(t)$ 라 하자. 구간 $[0, \infty)$ 에서 함수 $g(t)$ 의 최솟값이 5가 되도록 하는 양수 a 의 최솟값을 구하시오. [4점]



10

$$f(7) = a \log_4 2 \geq 5, \quad a \geq 10$$

22. 최고차항의 계수가 1인 삼차함수 $f(x)$ 가 다음 조건을 만족시킨다.

함수 $f(x)$ 에 대하여

$$f(k-1)f(k+1) < 0$$

을 만족시키는 정수 k 는 존재하지 않는다.

$f'(-\frac{1}{4}) = -\frac{1}{4}$, $f'(\frac{1}{4}) < 0$ 일 때, $f(8)$ 의 값을 구하시오. [4점]

483

$f' = 3x^2 \sim$

i) $f(0) > 0$

ii) $f(0) < 0$

$\Rightarrow \therefore f(0) = 0$

정수근 3개	정수근 1개	정수근 2개	정수근 2개
$f(x) = x^3 - 3x^2$	$f(x) = x(x-1)$	$f(x) = x(x-1)(x-d)$	$f(x) = x(x+1)(x-\alpha)$
$f'(x) = 3x^2 - 6x$	$f'(x) = x-1$	$f'(x) = 3x^2 - 2(d+1)x + d$	$f'(x) = 3x^2 + 2(1+\alpha)x - \alpha$
$f'(-\frac{1}{4}) = -\frac{1}{4}$		$f'(-\frac{1}{4}) = \frac{3}{16} + \frac{d}{2} + \frac{1}{2} + d$	$f'(-\frac{1}{4}) = \frac{3}{16} - \frac{1}{2} + \frac{\alpha}{2} - \alpha$
(+)	(+)	$= \frac{3}{2}d + \frac{11}{16} = -\frac{1}{4}$	$= -\frac{\alpha}{2} - \frac{5}{16} = -\frac{1}{4}$
		$\frac{3}{2}d = -\frac{15}{16}, d = -\frac{5}{8}$	$\frac{\alpha}{2} = -\frac{5}{16}, \alpha = -\frac{5}{8}$
		$f(x) = x(x-1)(x+\frac{5}{8})$	
		$f(8) = 56(8+\frac{5}{8})$	
		$= 448 + 35 = 483$	

- * 확인 사항
- 답안지의 해당란에 필요한 내용을 정확히 기입(표기)했는지 확인하시오.
- 이어서, 「선택과목(확률과 통계)」 문제가 제시되오니, 자신이 선택한 과목인지 확인하시오.

제 2 교시

수학 영역(확률과 통계)

홀수형

5지선다형

23. 5개의 문자 x, x, y, y, z 를 모두 일렬로 나열하는 경우의 수는? [2점]

- ① 10
- ② 20
- ③ 30
- ④ 40
- ⑤ 50

$$\frac{5!}{2!2!} = 30$$

24. 두 사건 A, B 는 서로 독립이고

$$P(A \cap B) = \frac{1}{4}, \quad P(A^c) = 2P(A)$$

일 때, $P(B)$ 의 값은? (단, A^c 은 A 의 여사건이다.) [3점]

- ① $\frac{3}{8}$
- ② $\frac{1}{2}$
- ③ $\frac{5}{8}$
- ④ $\frac{3}{4}$
- ⑤ $\frac{7}{8}$

$$1 - P(A) = 2P(A), \quad P(A) = \frac{1}{3}$$

$$P(A \cap B) = P(A)P(B) = \frac{1}{4} \quad \therefore P(B) = \frac{3}{4}$$

25. 숫자 1, 2, 3, 4, 5, 6이 하나씩 적혀 있는 6장의 카드가 있다. 이 6장의 카드를 모두 한 번씩 사용하여 일렬로 임의로 나열할 때, 양 끝에 놓인 카드에 적힌 두 수의 합이 10 이하가 되도록 카드가 놓일 확률은? [3점]

- ① $\frac{8}{15}$ ② $\frac{19}{30}$ ③ $\frac{11}{15}$ ④ $\frac{5}{6}$ ⑤ $\frac{14}{15}$



10 초과 \Rightarrow $\begin{matrix} 6 & \text{---} & 5 \\ 5 & \text{---} & 6 \end{matrix} \Big) 2 \times 4!$

$$\therefore 1 - \frac{2 \times 4!}{6!} = 1 - \frac{1}{15} = \frac{14}{15}$$

26. 4개의 동전을 동시에 던져서 앞면이 나오는 동전의 개수를 확률변수 X 라 하고, 이산확률변수 Y 를

$$Y = \begin{cases} X & (X \text{가 } 0 \text{ 또는 } 1 \text{의 값을 가지는 경우}) \\ 2 & (X \text{가 } 2 \text{ 이상의 값을 가지는 경우}) \end{cases}$$

라 하자. $E(Y)$ 의 값은? [3점]

- ① $\frac{25}{16}$ ② $\frac{13}{8}$ ③ $\frac{27}{16}$ ④ $\frac{7}{4}$ ⑤ $\frac{29}{16}$

X	0	1	2 이상
	$\frac{1}{16}$	$\frac{4}{16}$	$\frac{11}{16}$

Y	0	1	2
	$\frac{1}{16}$	$\frac{4}{16}$	$\frac{11}{16}$

$$E(Y) = \frac{4}{16} + \frac{22}{16} = \frac{26}{16} = \frac{13}{8}$$

단답형

29. 다음 조건을 만족시키는 6 이하의 자연수 a, b, c, d 의 모든 순서쌍 (a, b, c, d) 의 개수를 구하시오. [4점] 196

$a \leq c \leq d$ 이고 $b \leq c \leq d$ 이다.

$$\begin{aligned}
 & \begin{matrix} C \\ 1 & 1^2 \times 6 \\ 2 & 2^2 \times 5 \\ 3 & 3^2 \times 4 \\ 4 & 4^2 \times 3 \\ 5 & 5^2 \times 2 \\ 6 & 6^2 \times 1 \end{matrix} \\
 & \sum_{k=1}^6 k^2(7-k) \\
 & = \sum_{k=1}^6 (7k^2 - k^3) \\
 & = 7 \cdot \frac{6 \cdot 7 \cdot 13}{6} - \left(\frac{6 \cdot 7}{2}\right)^2 \\
 & = 637 - 441 = 196
 \end{aligned}$$

30. 양수 t 에 대하여 확률변수 X 가 정규분포 $N(1, t^2)$ 을 따른다.

$$P(X \leq 5t) \geq \frac{1}{2}$$

z	$P(0 \leq Z \leq z)$
0.6	0.226
0.8	0.288
1.0	0.341
1.2	0.385
1.4	0.419

이 되도록 하는 모든 양수 t 에 대하여 $P(t^2 - t + 1 \leq X \leq t^2 + t + 1)$ 의 최댓값을 오른쪽 표준정규분포표를 이용하여 구한 값을 k 라 하자.

$1000 \times k$ 의 값을 구하시오. [4점] 673

$$\begin{aligned}
 & P\left(Z \leq \frac{5t-1}{t}\right) \geq \frac{1}{2} \quad \therefore \frac{5t-1}{t} \geq 0, t \geq \frac{1}{5} \\
 & P(t^2 - t + 1 \leq X \leq t^2 + t + 1) \\
 & = P\left(\frac{t-1}{t} \leq Z \leq \frac{t+1}{t}\right) \text{ 최댓값} \Rightarrow \left|\frac{(t-1)+(t+1)}{2}\right| = |t| \text{ 최솟값} \therefore t = \frac{1}{5} \\
 & P\left(-\frac{4}{5} \leq Z \leq \frac{6}{5}\right) = 0.288 + 0.385 = 0.673 = k \\
 & \therefore 1000k = 673
 \end{aligned}$$

* 확인 사항

- 답안지의 해당란에 필요한 내용을 정확히 기입(표기)했는지 확인하시오.
- 이어서, 「선택과목(미적분)」 문제가 제시되오니, 자신이 선택한 과목인지 확인하시오.

제 2 교시

수학 영역(미적분)

출수형

5지선다형

23. $\lim_{x \rightarrow 0} \frac{\ln(1+3x)}{\ln(1+5x)}$ 의 값은? [2점]

- ① $\frac{1}{5}$
- ② $\frac{2}{5}$
- ③ $\frac{3}{5}$
- ④ $\frac{4}{5}$
- ⑤ 1

24. 매개변수 $t(t > 0)$ 으로 나타내어진 곡선

$$x = \ln(t^3 + 1), \quad y = \sin \pi t$$

에서 $t = 1$ 일 때, $\frac{dy}{dx}$ 의 값은? [3점]

- ① $-\frac{1}{3}\pi$
- ② $-\frac{2}{3}\pi$
- ③ $-\pi$
- ④ $-\frac{4}{3}\pi$
- ⑤ $-\frac{5}{3}\pi$

$$\frac{dy}{dx} = \frac{\pi \cos \pi t}{\frac{3t^2}{t^3+1}}$$

$$t=1 \rightarrow \frac{-\pi}{\frac{3}{2}} = -\frac{2}{3}\pi$$

25. 양의 실수 전체의 집합에서 정의되고 미분가능한
두 함수 $f(x), g(x)$ 가 있다. $g(x)$ 는 $f(x)$ 의 역함수이고,
 $g'(x)$ 는 양의 실수 전체의 집합에서 연속이다.
모든 양수 a 에 대하여

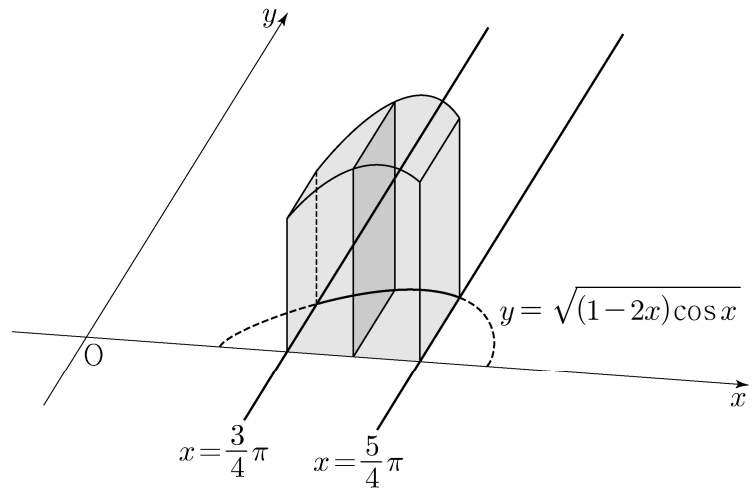
$$\int_1^a \frac{1}{g'(f(x))f(x)} dx = \frac{2\ln a + \ln(a+1) - \ln 2}{2} = \ln \left| \frac{a^2(a+1)}{2} \right|$$

이코 $f(1)=8$ 일 때, $f(2)$ 의 값은? [3점]

- ① 36 ② 40 ③ 44 ④ 48 ⑤ 52

$f'(x) = \frac{1}{g'(f(x))}$
 $\int_1^a \frac{f'(x)}{f(x)} dx = \left[\ln |f(x)| \right]_1^a$
 $= \ln \left| \frac{f(a)}{f(1)} \right| = \ln \left| \frac{f(a)}{8} \right| = \ln \left| \frac{a^2(a+1)}{2} \right|$
 $\therefore f(a) = 4a^2(a+1)$
 $f(2) = 16 \times 3 = 48$

26. 그림과 같이 곡선 $y = \sqrt{(1-2x)\cos x}$ ($\frac{3}{4}\pi \leq x \leq \frac{5}{4}\pi$)와
 x 축 및 두 직선 $x = \frac{3}{4}\pi, x = \frac{5}{4}\pi$ 로 둘러싸인 부분을 밑면으로
하는 입체도형이 있다. 이 입체도형을 x 축에 수직인 평면으로
자른 단면이 모두 정사각형일 때, 이 입체도형의 부피는? [3점]



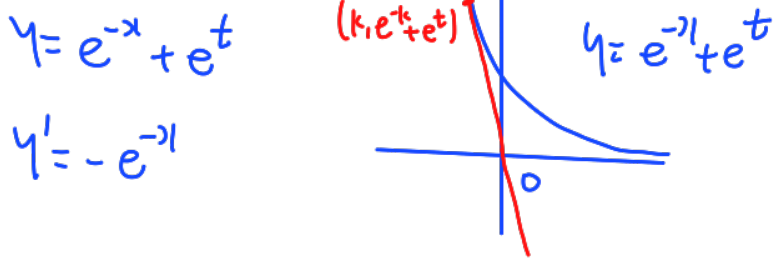
- ① $\sqrt{2}\pi - \sqrt{2}$ ② $\sqrt{2}\pi - 1$ ③ $2\sqrt{2}\pi - \sqrt{2}$
 ④ $2\sqrt{2}\pi - 1$ ⑤ $2\sqrt{2}\pi$

$\int_{\frac{3}{4}\pi}^{\frac{5}{4}\pi} (1-2x)\cos x dx$
 $= (1-2x)\sin x \Big|_{\frac{3}{4}\pi}^{\frac{5}{4}\pi} + \int_{\frac{3}{4}\pi}^{\frac{5}{4}\pi} 2\sin x dx$
 $= (1-\frac{5}{2}\pi)(-\frac{\sqrt{2}}{2}) - (1-\frac{3}{2}\pi)(\frac{\sqrt{2}}{2})$
 $= -\sqrt{2} + 2\sqrt{2}\pi$

27. 실수 t 에 대하여 원점을 지나고 곡선 $y = \frac{1}{e^x} + e^t$ 에 접하는

직선의 기울기를 $f(t)$ 라 하자. $f(a) = -e\sqrt{e}$ 를 만족시키는 상수 a 에 대하여 $f'(a)$ 의 값은? [3점]

- ① $-\frac{1}{3}e\sqrt{e}$ ② $-\frac{1}{2}e\sqrt{e}$ ③ $-\frac{2}{3}e\sqrt{e}$
- ④ $-\frac{5}{6}e\sqrt{e}$ ⑤ $-e\sqrt{e}$



$$y = -e^{-k}(1-k) + e^{-k} + e^t$$

$$(0,0) \Rightarrow 0 = (k+1)e^{-k} + e^t$$

$$e^t = -(k+1)e^{-k}$$

$$t=a \rightarrow -e^{-k} = -e\sqrt{e}, k = -\frac{3}{2}, e^a = \frac{1}{2}e^{\frac{3}{2}}$$

$$e^t = (-e^{-k} + (k+1)e^{-k}) \frac{dk}{dt}$$

$$e^t = k e^{-k} \frac{dk}{dt}$$

$$f(t) = -e^{-k}$$

$$f'(t) = e^{-k} \frac{dk}{dt} = \frac{e^t}{k}$$

$$\left[\begin{matrix} t=a \\ k=-\frac{3}{2} \end{matrix} \right] \Rightarrow f'(a) = \frac{e^a}{k} = \frac{\frac{1}{2}e^{\frac{3}{2}}}{-\frac{3}{2}} = -\frac{1}{3}e\sqrt{e}$$

28. 실수 전체의 집합에서 연속인 함수 $f(x)$ 가 모든 실수 x 에 대하여 $f(x) \geq 0$ 이고, $x < 0$ 일 때 $f(x) = -4xe^{4x^2}$ 이다.

모든 양수 t 에 대하여 x 에 대한 방정식 $f(x) = t$ 의 서로 다른 실근의 개수는 2이고, 이 방정식의 두 실근 중 작은 값을 $g(t)$, 큰 값을 $h(t)$ 라 하자.

두 함수 $g(t), h(t)$ 는 모든 양수 t 에 대하여

$$2g(t) + h(t) = k \quad (k \text{는 상수}) \quad h(t) = k - 2g(t)$$

를 만족시킨다. $\int_0^7 f(x) dx = e^4 - 1$ 일 때, $\frac{f(9)}{f(8)}$ 의 값은? [4점]

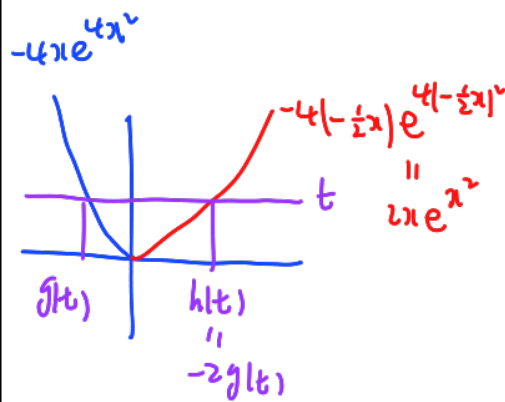
- ① $\frac{3}{2}e^5$ ② $\frac{4}{3}e^7$ ③ $\frac{5}{4}e^9$ ④ $\frac{6}{5}e^{11}$ ⑤ $\frac{7}{6}e^{13}$

$$f' = -4(e^{4x^2} + 8x^2e^{4x^2}) < 0 \quad \text{감소}$$

$$\lim_{t \rightarrow 0^+} \frac{2g(t) + h(t)}{t} = \lim_{t \rightarrow 0^+} \frac{2g(t) + h(t)}{t} = k$$

$$\therefore \lim_{t \rightarrow 0^+} h(t) = k$$

$$k = 0$$

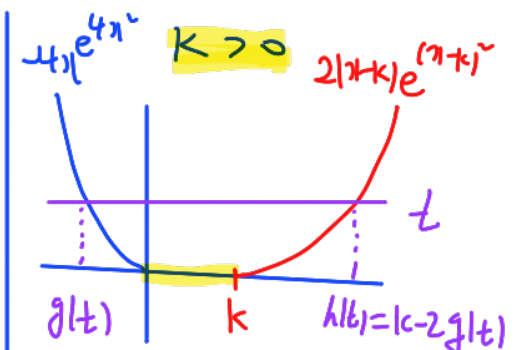


$$\int_0^7 f(x) dx = \int_0^7 2xe^{x^2} dx$$

$$x^2 = t, 2x dx = dt$$

$$\int_0^{\sqrt{7}} e^t dt = e^{\sqrt{7}} - 1$$

(*)



$$\int_0^7 f(x) dx = \int_k^7 2(x-k)e^{(x-k)^2} dx$$

$$(x-k)^2 = t, 2(x-k) dx = dt$$

$$\int_0^{(7-k)^2} e^t dt = e^{(7-k)^2} - 1 = e^4 - 1$$

$$7-k = 2, -2, k < 7$$

$$\therefore k = 5$$

$$2(x-5)e^{(x-5)^2}$$

$$\frac{f(9)}{f(8)} = \frac{2 \cdot 4 \cdot e^{16}}{2 \cdot 3 \cdot e^9} = \frac{4}{3}e^7$$

단답형

29. 첫째항과 공비가 각각 0이 아닌 두 등비수열

$\{a_n\}, \{b_n\}$ 에 대하여 두 급수 $\sum_{n=1}^{\infty} a_n, \sum_{n=1}^{\infty} b_n$ 이 각각 수렴하고

$$\sum_{n=1}^{\infty} a_n b_n = \left(\sum_{n=1}^{\infty} a_n \right) \times \left(\sum_{n=1}^{\infty} b_n \right),$$

$$3 \times \sum_{n=1}^{\infty} |a_{2n}| = 7 \times \sum_{n=1}^{\infty} |a_{3n}|$$

이 성립한다. $\sum_{n=1}^{\infty} \frac{b_{2n-1} + b_{3n+1}}{b_n} = S$ 일 때, $120S$ 의 값을 구하시오. [4점]

162

$$a_n = ar^{n-1}$$

$$b_n = bR^{n-1}$$

$$\frac{ab}{1-rR} = \left(\frac{a}{1-r} \right) \left(\frac{b}{1-R} \right)$$

$$-1 < r < 1$$

$$-1 < R < 1$$

$$1-rR = 1-r-R+rR, \quad 2rR = r+rR$$

$$\frac{1}{r} + \frac{1}{R} = 2$$

$$3 \times \sum_{n=1}^{\infty} |ar^{2n-1}| = 7 \times \sum_{n=1}^{\infty} |ar^{3n-1}|$$

$$\frac{3|ar|}{1-r^2} = \frac{7|ar^2|}{1-r^3} \Rightarrow \frac{3}{1-r^2} = \frac{7|r|}{1-r^3}$$

i) $r > 0$ $\frac{3}{1-r^2} = \frac{7r}{1-r^3}, \quad 7r(1+r) = 3(1+r+r^2)$

$$7r + 7r^2 = 3r^2 + 3r + 3$$

$$4r^2 + 4r - 3 = 0$$

$$\begin{matrix} 2r & -1 & & \\ \vee r & +3 & r = \frac{1}{2} & \rightarrow \frac{1}{R} = 0 \end{matrix}$$

(X)

ii) $r < 0$ $\frac{3}{1-r^2} = \frac{-7r}{1+r^3}, \quad -7r(1-r) = 3(1-r+r^2)$

$$-7r + 7r^2 = 3 - 3r + 3r^2$$

$$4r^2 - 4r - 3 = 0$$

$$\begin{matrix} 2r & & & \\ \vee r & -3 & r = -\frac{1}{2} & \\ & & R = \frac{1}{4} & \end{matrix}$$

$$\sum_{n=1}^{\infty} \frac{b_{2n-1} + b_{3n+1}}{b_n} = \sum_{n=1}^{\infty} (R^{n-1} + R^{2n+1})$$

$$= \frac{1}{1-R} + \frac{R^3}{1-R^2} = \frac{4}{3} + \frac{1}{60} = \frac{81}{60} = \frac{27}{20} \Rightarrow \therefore 120S = 162$$

30. 실수 전체의 집합에서 미분가능한 함수 $f(x)$ 의 도함수 $f'(x)$ 가

$$f'(x) = |\sin x| \cos x$$

이다. 양수 a 에 대하여 곡선 $y=f(x)$ 위의 점 $(a, f(a))$ 에서의 접선의 방정식을 $y=g(x)$ 라 하자. 함수

$$h(x) = \int_0^x \{f(t) - g(t)\} dt$$

가 $x=a$ 에서 극대 또는 극소가 되도록 하는 모든 양수 a 를 작은 수부터 크기순으로 나열할 때, n 번째 수를 a_n 이라 하자.

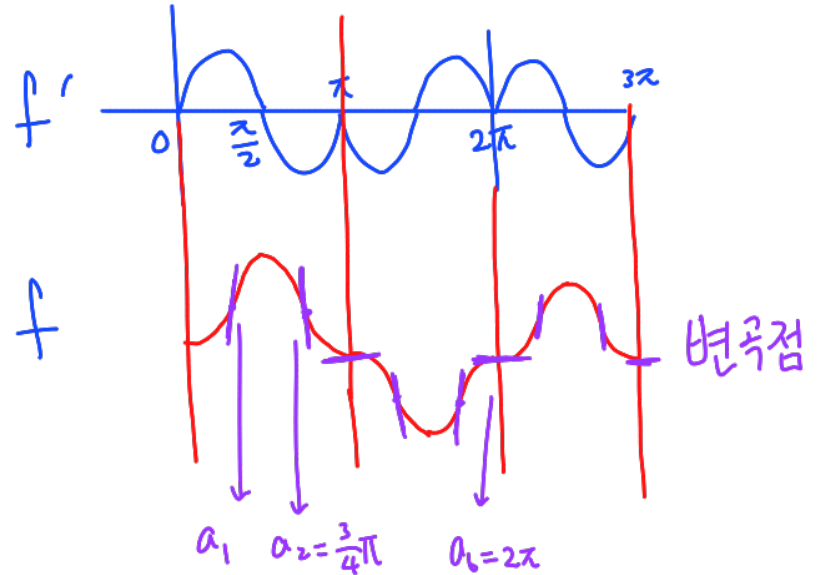
$\frac{100}{\pi} \times (a_6 - a_2)$ 의 값을 구하시오. [4점]

125

$$\sin x > 0 \rightarrow f' = \sin x \cos x = \frac{1}{2} \sin 2x$$

$$\sin x < 0 \rightarrow f' = -\sin x \cos x = -\frac{1}{2} \sin 2x$$

h' 의 기 = $f(x) - g(x)$, $h' = 0$ & 부호변화



$$\frac{100}{\pi} \times \left(2\pi - \frac{3}{4}\pi \right) = 200 - 75 = 125$$

- * 확인 사항
- 답안지의 해당란에 필요한 내용을 정확히 기입(표기)했는지 확인하시오.
- 이어서, 「선택과목(기하)」 문제가 제시되오니, 자신이 선택한 과목인지 확인하시오.

제 2 교시

수학 영역(기하)

출수형

5지선다형

23. 좌표공간의 두 점 $A(a, -2, 6)$, $B(9, 2, b)$ 에 대하여 선분 AB의 중점의 좌표가 $(4, 0, 7)$ 일 때, $a+b$ 의 값은? [2점]

- ① 1
- ② 3
- ③ 5
- ④ 7
- ⑤ 9

$$a+9=8, a=-1$$

$$6+b=14, b=8$$

24. 타원 $\frac{x^2}{a^2} + \frac{y^2}{6} = 1$ 위의 점 $(\sqrt{3}, -2)$ 에서의 접선의 기울기는? (단, a 는 양수이다.) [3점]

- ① $\sqrt{3}$
- ② $\frac{\sqrt{3}}{2}$
- ③ $\frac{\sqrt{3}}{3}$
- ④ $\frac{\sqrt{3}}{4}$
- ⑤ $\frac{\sqrt{3}}{5}$

$$\frac{3}{a^2} + \frac{4}{6} = 1, a^2 = 9, a = 3$$

$$\frac{\sqrt{3}x}{9} + \frac{-2y}{6} = 1, y = \frac{\sqrt{3}}{3}x \sim$$

25. 두 벡터 \vec{a}, \vec{b} 에 대하여

$$|\vec{a}| = \sqrt{11}, |\vec{b}| = 3, |2\vec{a} - \vec{b}| = \sqrt{17}$$

일 때, $|\vec{a} - \vec{b}|$ 의 값은? [3점]

- ① $\frac{\sqrt{2}}{2}$ ② $\sqrt{2}$ ③ $\frac{3\sqrt{2}}{2}$ ④ $2\sqrt{2}$ ⑤ $\frac{5\sqrt{2}}{2}$

$$\begin{aligned} |2\vec{a} - \vec{b}|^2 &= 4|\vec{a}|^2 + |\vec{b}|^2 - 4\vec{a} \cdot \vec{b} = 17 \\ &= 44 + 9 - 4\vec{a} \cdot \vec{b} = 17, \vec{a} \cdot \vec{b} = 9 \end{aligned}$$

$$\begin{aligned} |\vec{a} - \vec{b}|^2 &= |\vec{a}|^2 + |\vec{b}|^2 - 2\vec{a} \cdot \vec{b} \\ &= 11 + 9 - 18 = 2 \\ \therefore |\vec{a} - \vec{b}| &= \sqrt{2} \end{aligned}$$

26. 좌표공간에 평면 α 가 있다. 평면 α 위에 있지 않은 서로 다른 두 점 A, B의 평면 α 위로의 정사영을 각각 A', B'이라 할 때,

$$\overline{AB} = \overline{A'B'} = 6$$

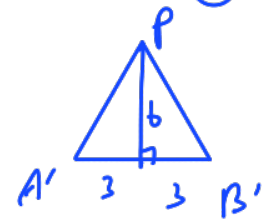
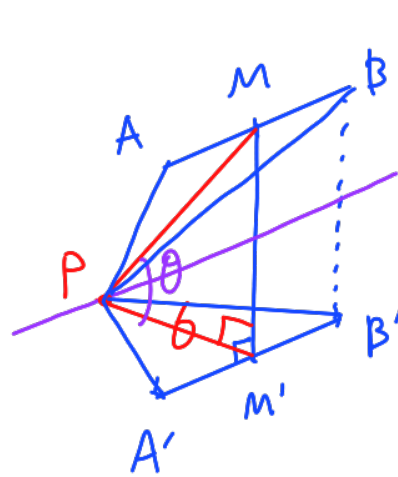
이다. 선분 AB의 중점 M의 평면 α 위로의 정사영을 M'이라 할 때,

$$\overline{PM'} \perp \overline{A'B'}, \overline{PM'} = 6$$

이 되도록 평면 α 위에 점 P를 잡는다.

삼각형 A'B'P의 평면 ABP 위로의 정사영의 넓이가 $\frac{9}{2}$ 일 때, 선분 PM의 길이는? [3점]

- ① 12 ② 15 ③ 18 ④ 21 ⑤ 24

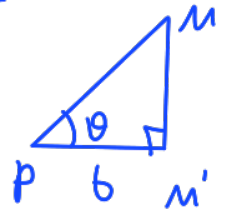


$$\Delta PA'B' = \frac{1}{2} \times 6 \times 6 = 18$$

$$\angle MPM' = \theta$$

$$18 \cos \theta = \frac{9}{2}$$

$$\cos \theta = \frac{1}{4}$$



$$\frac{6}{PM} = \frac{1}{4} \therefore PM = 24$$

27. 초점이 F인 포물선 $y^2=8x$ 위의 한 점 A에서 포물선의 준선에 내린 수선의 발을 B라 하고, 직선 BF와 포물선이 만나는 두 점을 각각 C, D라 하자. $\overline{BC}=\overline{CD}$ 일 때, 삼각형 ABD의 넓이는? (단, $\overline{CF}<\overline{DF}$ 이고, 점 A는 원점이 아니다.) [3점]

- ① $100\sqrt{2}$ ② $104\sqrt{2}$ ③ $108\sqrt{2}$
- ④ $112\sqrt{2}$ ⑤ $116\sqrt{2}$

$y^2=8x$

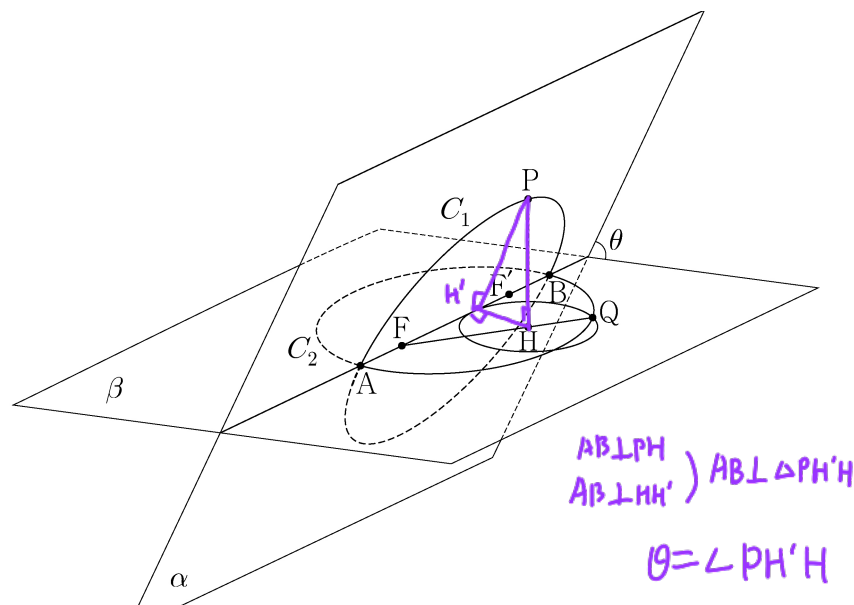
$CF=CH_1=a$
 $DF=DH_2=b$
 $CD=BC=a+b$
 $DH_2=2CH_1 \therefore b=2a$

$a:b=3a:4a$
 $\therefore a=3, b=6$

$B(-2, 6\sqrt{2})$ $12b=6a, a=1b$
 $A(16, 8\sqrt{2})$
 $D(4, -4\sqrt{2})$

$\Delta ABD = \frac{1}{2} \times 16 \times 12\sqrt{2} = 108\sqrt{2}$

28. 그림과 같이 서로 다른 두 평면 α, β 의 교선 위에 $\overline{AB}=18$ 인 두 점 A, B가 있다. 선분 AB를 지름으로 하는 원 C_1 이 평면 α 위에 있고, 선분 AB를 장축으로 하고 두 점 F, F'을 초점으로 하는 타원 C_2 가 평면 β 위에 있다. 원 C_1 위의 한 점 P에서 평면 β 에 내린 수선의 발을 H라 할 때, $\overline{HF'}<\overline{HF}$ 이고 $\angle HFF'=\frac{\pi}{6}$ 이다. 직선 HF와 타원 C_2 가 만나는 점 중 점 H와 가까운 점을 Q라 하면, $\overline{FH}<\overline{FQ}$ 이다. 점 H를 중심으로 하고 점 Q를 지나는 평면 β 위의 원은 반지름의 길이가 4이고 직선 AB에 접한다. 두 평면 α, β 가 이루는 각의 크기를 θ 라 할 때, $\cos\theta$ 의 값은? (단, 점 P는 평면 β 위에 있지 않다.) [4점]



- ① $\frac{2\sqrt{66}}{33}$ ② $\frac{4\sqrt{69}}{69}$ ③ $\frac{\sqrt{2}}{3}$
- ④ $\frac{4\sqrt{3}}{15}$ ⑤ $\frac{2\sqrt{78}}{39}$

$FQ + QF' = 18$
 $FH' = 4\sqrt{3}$
 $F'Q : FQ = H'H : FH$
 $\therefore \Delta FHH' \sim \Delta FQF'$
 $\frac{F'Q}{FQ} = \frac{1}{2} = \sin \frac{\pi}{6} \therefore \angle FF'Q = 90^\circ$
 $\overline{FF'} = 6\sqrt{3}, \overline{FH'} = 4\sqrt{3}, \overline{OF} = 3\sqrt{3}$
 $\therefore \overline{OH'} = \sqrt{3}$
 $\Delta OH'P$ 에서 $\overline{PH'} = \sqrt{78}$

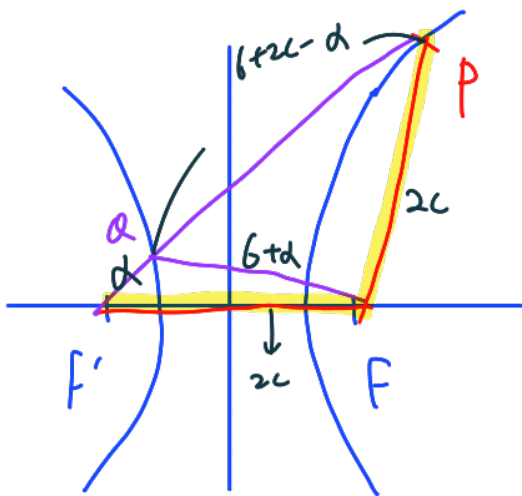
$\cos \theta = \frac{4}{\sqrt{78}} = \frac{2}{39}\sqrt{78}$

단답형

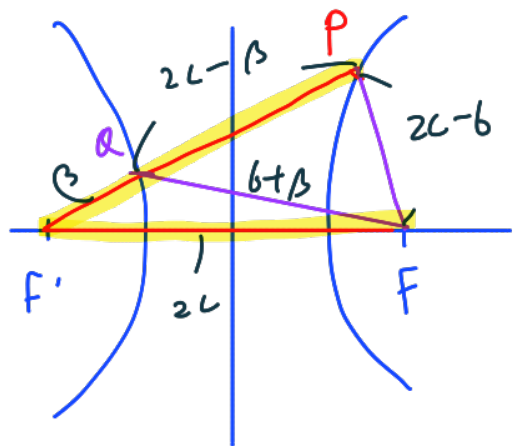
29. 양수 c 에 대하여 두 점 $F(c, 0), F'(-c, 0)$ 을 초점으로 하고, 주축의 길이가 6인 쌍곡선이 있다. 이 쌍곡선 위에 다음 조건을 만족시키는 서로 다른 두 점 P, Q 가 존재하도록 하는 모든 c 의 값의 합을 구하시오. [4점]

11

- (가) 점 P 는 제1사분면 위에 있고, 점 Q 는 직선 PF' 위에 있다.
- (나) 삼각형 $PF'F$ 는 이등변삼각형이다.
- (다) 삼각형 PQF 의 둘레의 길이는 28이다.



i) $PF = FF'$
 $PA + QF + FP$
 $= 12 + 4c = 28, c = 4$



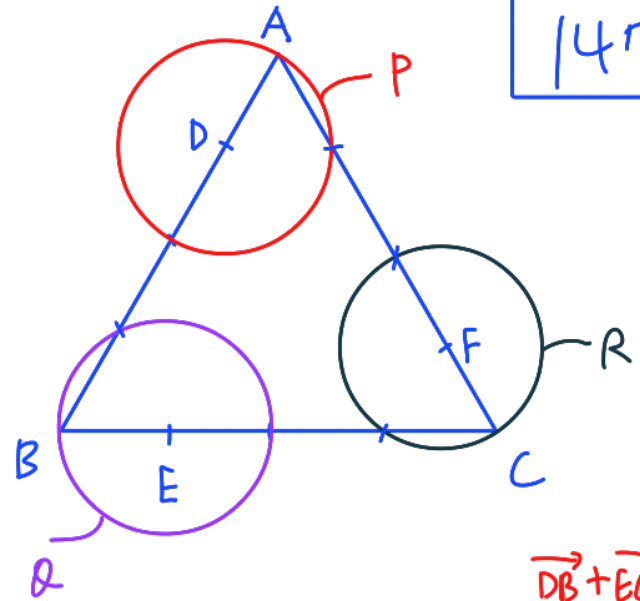
ii) $PF' = FF'$
 $PA + QF + FP$
 $= 4c = 28, c = 7$
 $\therefore 4 + 7 = 11$

30. 좌표평면에 한 변의 길이가 4인 정삼각형 ABC 가 있다. 선분 AB 를 1:3으로 내분하는 점을 D , 선분 BC 를 1:3으로 내분하는 점을 E , 선분 CA 를 1:3으로 내분하는 점을 F 라 하자. 네 점 P, Q, R, X 가 다음 조건을 만족시킨다.

- (가) $|\vec{DP}| = |\vec{EQ}| = |\vec{FR}| = 1$
- (나) $\vec{AX} = \vec{PB} + \vec{QC} + \vec{RA}$

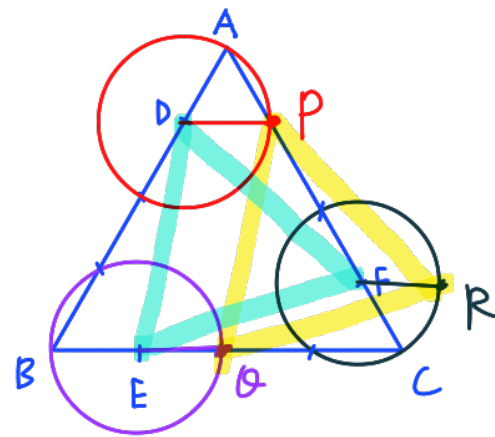
$|\vec{AX}|$ 의 값이 최대일 때, 삼각형 PQR 의 넓이를 S 라 하자. $16S^2$ 의 값을 구하시오. [4점]

147



~~$\vec{AX} = \vec{PD} + \vec{DB} + \vec{QE} + \vec{EC} + \vec{RF} + \vec{FA}$~~

$\vec{AX} = -(\vec{DP} + \vec{EQ} + \vec{FR}), (|\vec{AX}| \text{ 최대}) \Rightarrow \vec{DP} = \vec{EQ} = \vec{FR}$



$\Delta PQR = \Delta DEF$
 $= \Delta ABC - 3 \times \Delta DBE$
 $= \frac{\sqrt{3}}{4} \times 16 - 3 \times \frac{1}{2} \times 3 \times 1 \times \frac{\sqrt{3}}{2}$
 $= 4\sqrt{3} - \frac{9}{4}\sqrt{3} = \frac{7}{4}\sqrt{3} = S$
 $\therefore 16S^2 = 147$

* 확인 사항
 ○ 답안지의 해당란에 필요한 내용을 정확히 기입(표기)했는지 확인하시오.