

2024학년도 모비우스 모의고사

4점 해설 영상



수 I



9번 해설

<09번 해설>



12번 해설

<12번 해설>



14번 해설

<14번 해설>



20번 해설

<20번 해설>



21번 해설

<21번 해설>

수 II



10번 해설

<10번 해설>



11번 해설

<11번 해설>



13번 해설

<13번 해설>



15번 해설

<15번 해설>



22번 해설

<22번 해설>

미적분



28번 해설

<28번 해설>



29번 해설

<29번 해설>



30번 해설

<30번 해설>

- 해설 영상에 대한 저작권은 한국교원대 수학교육과 '팀 피비우스'에 있습니다.
- 저작권자의 허락 없이 일부 또는 전부를 무단, 복제, 배포하는 등 저작권을 침해하는 일체의 행위를 금합니다.
- 여타 저작권을 침해하는 일체의 행위를 금합니다.

2024학년도 모비우스 모의고사

정답 및 해설



1	2	3	4	5	6	7	8
④	②	①	③	②	⑤	②	③
9	10	11	12	13	14	15	16
①	①	③	②	④	⑤	③	10
17	18	19	20	21	22		
18	30	63	2	10	108		
23	24	25	26	27	28	29	30
②	③	④	⑤	⑤	③	45	38

공통(수 I + 수 II)

1. 출제 의도 : 지수법칙을 이용하여 값을 계산할 수 있는가?

정답풀이:

$$\begin{aligned} & \left(\frac{27}{3^{2\sqrt{2}}}\right)^{2\sqrt{2}+3} \\ &= (3^{3-2\sqrt{2}})^{3+2\sqrt{2}} \\ &= 3^{(3-2\sqrt{2})(3+2\sqrt{2})} \\ &= 3^{9-8} = 3 \end{aligned}$$

정답 ④

2. 출제 의도 : 주어진 조건을 이용하여 함수값을 구할 수 있는가?

정답풀이:

$$\begin{aligned} & \text{최고차항의 계수가 2이고 } f(1)=1 \text{이므로} \\ & f(x)=2(x-1)(x-a)+1 \\ & f'(x)=2(2x-1-a) \\ & f'(1)=2(1-a)=1 \\ & \therefore a=\frac{1}{2} \end{aligned}$$

$$\begin{aligned} & \therefore f(x)=2(x-1)\left(x-\frac{1}{2}\right)+1 \\ & f(2)=3+1=4 \end{aligned}$$

정답 ②

3. 출제 의도 : 삼각함수 사이의 관계를 이용하여 삼각함수의 값을 구할 수 있는가?

정답풀이:

$$\begin{aligned} & \sin\left(\frac{\pi}{2}-\theta\right)=\cos\theta \text{이고, } \tan(\pi+\theta)=\tan\theta \text{이므로} \\ & \sin\left(\frac{\pi}{2}-\theta\right)\tan(\pi+\theta)=\cos\theta \tan\theta \end{aligned}$$

$$= \cos\theta \frac{\sin\theta}{\cos\theta} = \sin\theta = \frac{1}{5}$$

$\cos\theta < 0$ 이므로 $\cos\theta = -\sqrt{1-\sin^2\theta}$ 가 된다.

$$\therefore \cos\theta = -\sqrt{1-\frac{1}{25}} = -\sqrt{\frac{24}{25}} = -\frac{2\sqrt{6}}{5}$$

정답 ①

4. 출제 의도 : 함수의 극한값을 구할 수 있는가?

정답풀이:

$$\lim_{x \rightarrow 1^-} f(x) = 0, \lim_{x \rightarrow 2} f(x) = 3 \text{이므로}$$

$$\lim_{x \rightarrow 1^-} f(x) + \lim_{x \rightarrow 2} f(x) = 0 + 3 = 3$$

정답 ③

5. 출제 의도 : 합의 기호 Σ 의 성질과 등차증항을 이해하여 주어진 수열의 합을 구할 수 있는가?

정답풀이:

$$\begin{aligned} & (a_3 + a_5) + \sum_{k=1}^3 (2a_k + 1) \\ &= 2a_4 + 2 \sum_{k=1}^3 a_k + 3 \\ &= 2 \sum_{k=1}^4 a_k + 3 = 39 \\ & \therefore \sum_{k=1}^4 a_k = 18 \end{aligned}$$

정답 ②

6. 출제 의도 : 주어진 함수를 미분하여 극값을 구할 수 있는가?

정답풀이:

$$\begin{aligned} & f(x) = x^3 - 3x^2 - 9x + k \text{에서} \\ & f'(x) = 3x^2 - 6x - 9 \\ & \quad = 3(x+1)(x-3) \end{aligned}$$

$$\begin{aligned} & f'(x) = 0 \text{에서} \\ & x = -1 \text{ 또는 } x = 3 \text{이고} \end{aligned}$$

함수 $f(x)$ 의 증가와 감소를 표로 나타내면 다음과 같다.

x	...	-1	...	3	...
$f'(x)$	+	0	-	0	+
$f(x)$	\nearrow	극대	\searrow	극소	\nearrow

함수 $f(x)$ 는 $x = -1$ 에서 극대이므로 $a = -1$ 이고
극댓값 $b = f(-1)$

$$= -1 - 3 + 9 + k$$

$$= 5 + k \text{이다.}$$

비슷하게 함수 $f(x)$ 는 $x = 3$ 에서 극소이므로 $c = 3$ 이고
극솟값 $d = f(3)$

$$= 27 - 27 - 27 + k$$

$$= -27 + k \text{이다.}$$

따라서

$$a + b + c - d$$

$$= -1 + (5 + k) + 3 - (-27 + k)$$

$$= 34$$

정답 ⑤

7. 출제 의도 : 지수와 로그의 성질을 이용하여 주어진 조건을 만족하는 식의 값을 구할 수 있는가?

정답풀이 :

$$5^b = 10^c = k \text{에서 } 5 = k^{\frac{1}{b}}, 10 = k^{\frac{1}{c}}$$

$$k^{\frac{1}{c}} \div k^{\frac{1}{b}} = k^{\frac{1}{c} - \frac{1}{b}} = k^{\frac{b-c}{bc}} = 10 \div 5 = 2$$

$$\text{즉, } \log_k 2 = \frac{b-c}{bc}$$

$$\therefore \frac{k}{bc}(b-c) = k \log_k 2$$

$$\log_2 a = k \text{에서 } a = 2^k, \log_k a = 8 \text{이므로}$$

$$\therefore k \log_k 2 = \frac{k}{bc}(b-c) = 8$$

정답 ②

8. 출제 의도 : 정적분을 이해하고 이를 이용하여 주어진 함수값을 구할 수 있는가?

정답풀이 :

$$\int_0^2 f(t) dt = k \quad (k \text{는 상수}) \quad \dots \textcircled{1}$$

라 하면 $f(x) = 9x^2 + 2kx$ 이다.

이것을 ①에 대입하면

$$\int_0^2 (9x^2 + 2kx) dx$$

$$= [3x^3 + kx^2]_0^2 = 24 + 4k = k$$

$$\therefore k = -8$$

따라서

$$f(x) = 9x^2 - 16x \text{ 이므로}$$

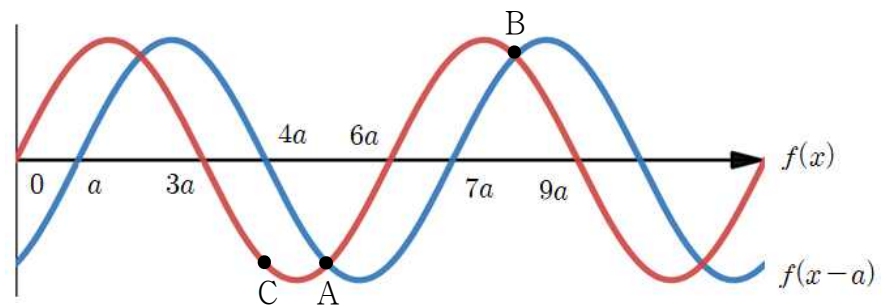
$$f(-1) = 9 + 16 = 25$$

정답 ③

9. 출제 의도 : 사인 함수 그래프의 특징을 이용하여 $\triangle ABC$ 의 넓이를 구할 수 있는가?

정답풀이 :

단원구간 $[a, b]$ 에서 양수 a 에 대하여 $f(x)$ 와 $f(x-a)$ 의 그래프를 그리고, 조건에 맞게 점 A, B, C를 표시하면 다음과 같다.



점 A를 지나고 x 축과 평행한 직선과 점 B를 지나고 y 축에 평행한 직선이 만나는 점을 H라고 하자.

$$\angle CAB = \frac{3}{4}\pi \text{이므로 } \angle BAH = \frac{\pi}{4} \text{이다.}$$

따라서 $\triangle BAH$ 는 직각이등변삼각형이고, $\overline{AH} = \overline{BH}$ 이다.

사인 함수 그래프의 특징에 의해 $f(4a) = f(5a)$ 이므로

점 A의 x 좌표는 $5a$ 이다.

비슷한 방법으로 점 B의 x 좌표는 $8a$ 이다.

따라서 $A(5a, -k)$, $B(8a, k)$, $H(8a, -k)$ 로 나타낼 수 있다.

(k 는 유리수)

$$\overline{AH} = \overline{BH} \text{ 이므로 } 3a = 2k$$

$$f(x-a) = g(x) \text{이면, } g(8a) = k \text{이다.}$$

$$g(8a) = f(7a)$$

$$= \sin\left(\frac{\pi}{3a} \times 7a\right)$$

$$= \sin \frac{7\pi}{3}$$

$$= \sin \frac{\pi}{3}$$

$$= \frac{\sqrt{3}}{2}$$

$$k = \frac{\sqrt{3}}{2} \text{이므로 } a = \frac{\sqrt{3}}{3}$$

따라서 $\triangle ABC$ 의 넓이는

$$\frac{1}{2} \times a \times 3a$$

$$= \frac{1}{2} \times 3a^2$$

$$= \frac{1}{2} \times 3 \times \left(\frac{\sqrt{3}}{3}\right)^2$$

$$= \frac{1}{2}$$

정답 ①

10. 출제 의도 : 주어진 함수 위 한 점에서 그은 접선의 방정식을 구할 수 있는가?

정답풀이:

주어진 함수를 x 에 대해 미분하면

$$f'(x) = 3x^2 + 2ax + b \text{ 이므로}$$

$$x=t \text{에서 접선의 기울기는 } 3t^2 + 2at + b$$

$$x=t \text{에서 } y \text{좌표는 } f(t) = t^3 + at^2 + (b+1)t$$

따라서 $x=t$ 에서의 접선의 방정식은

$$y = (3t^2 + 2at + b)(x-t) + t^3 + at^2 + (b+1)t \\ = (3t^2 + 2at + b)x - 2t^3 - at^2 + t$$

이므로

$$g(t) = -2t^3 - at^2 + t$$

함수 $g(t)$ 가 $t=1$ 에서 극댓값을 가지므로 $g'(1)=0$

$$g'(t) = -6t^2 - 2at + 1, \quad g'(1) = -2a - 5 = 0$$

$$\therefore a = -\frac{5}{2}$$

$$\text{따라서 } g(t) = -2t^3 + \frac{5}{2}t^2 + t$$

$$g(1) = -2 + \frac{5}{2} + 1 = \frac{3}{2}$$

정답 ①

11. 출제 의도 : 주어진 조건을 만족시키는 함수 $f(x)$ 를 구할 수 있는가?

정답풀이:

주어진 식을 인수분해하면

$$\{f(x)\}^2 - (x-1)(x-2)|f(x)| + (x-1)^2(x-3) \\ = \{|f(x)| - (x-1)(x-3)\} \{|f(x)| - (x-1)\} = 0$$

이므로

$$\therefore |f(x)| = (x-1)(x-3) \text{ 또는 } |f(x)| = x-1$$

함수 $f(x)$ 의 절댓값 $|f(x)|$ 에 대하여

$$|f(x)| \geq 0 \text{ 이고}$$

$f(x)$ 가 연속이므로 $|f(x)|$ 또한 연속이다.

이때, $|f(x)|$ 의 그래프는

특정 구간에서마다

$$y = (x-1)(x-3) \text{ 또는 } y = x-1$$

두 개의 식 중,

위의 조건을 만족시키는 것을 선택해서 그려야 한다.

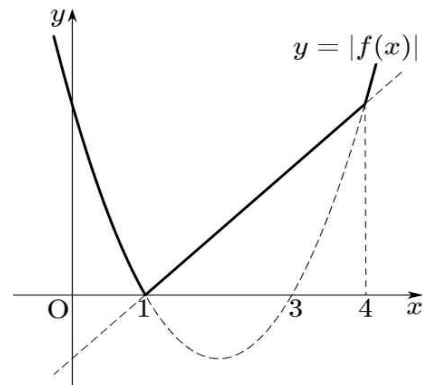
또한, $f(x)$ 의 극댓값이 존재하므로

$|f(x)|$ 는 극대 또는 극소를 갖는다.

위의 모든 조건을 만족시키고

$f(x)$ 가 두 점에서 미분가능하지 않도록 하는 $|f(x)|$ 는 다음과 같다.

$$|f(x)| = \begin{cases} (x-1)(x-3) & (x < 1 \text{ or } 4 < x) \\ x-1 & (1 \leq x \leq 4) \end{cases}$$

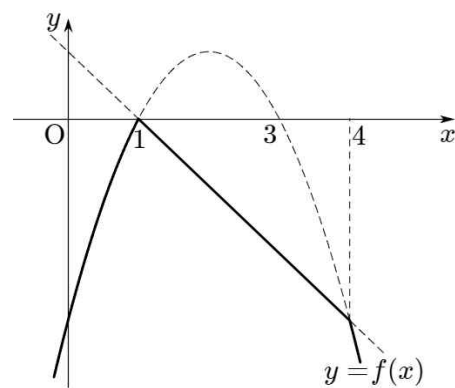


이때, $f(x)$ 는 극대를 가져야 하므로

$$\therefore f(x) = -|f(x)|$$

따라서 함수 $f(x)$ 는 다음과 같다.

$$f(x) = \begin{cases} -(x-1)(x-3) & (x < 1 \text{ or } 4 < x) \\ -x+1 & (1 \leq x \leq 4) \end{cases}$$



따라서

$f(x)$ 에 $x=0, x=2, x=5$ 를 각각 대입하면

$$f(0) + f(2) + f(5) \\ = -3 + (-1) + (-8) \\ = -12$$

정답 ③

12. 출제 의도 : 귀납적으로 정의된 수열의 합의 주어진 항을 구할 수 있는가?

정답풀이:

(다)에서 $a_n = S_n - S_{n-1}$ 형태로 바꾸면

$$a_2 = -2(a_1 + a_3)$$

$S_2 - S_1 = -2(S_1 + S_3 - S_2)$ 이고 전개 후 정리하면

$$S_3 = \frac{S_2 - S_1}{2}$$

(나)에서 $S_2 = 7$ 이고,

(i) $S_4 = 7$ 일 때

$$S_3 + S_2 = 2k \text{ 일 경우, } S_3 = 21, S_1 = -35$$

S_1	S_2	S_3	S_4	S_5
-35	7	21	7	-7
a_1	a_2	a_3	a_4	a_5
-35	-28	49	-42	-14

$$\text{이때 } |a_5 - a_1| = 21$$

$S_3 + S_2 = 2k + 1$ 일 경우, $S_3 = 0, S_1 = 7$

S_1	S_2	S_3	S_4	S_5
7	7	0	7	0
a_1	a_2	a_3	a_4	a_5
7	0	-7	14	-7

이때 $|a_5 - a_1| = 14$

(ii) $S_4 = -9$ 일 때

$S_3 + S_2 = 2k$ 일 경우, $S_3 = -11, S_1 = 29$

S_1	S_2	S_3	S_4	S_5
29	7	-11	-9	1
a_1	a_2	a_3	a_4	a_5
29	-22	-18	2	10

이때 $|a_5 - a_1| = 19$

$S_3 + S_2 = 2k + 1$ 일 경우, $S_3 = 16, S_1 = -25$

S_1	S_2	S_3	S_4	S_5
-25	7	16	-9	16
a_1	a_2	a_3	a_4	a_5
-25	32	9	-25	25

이때 $|a_5 - a_1| = 50$

따라서 모든 경우에서

$|a_5 - a_1|$ 의 최댓값 M 은 50, 최솟값 m 은 14

$\therefore M + m = 50 + 14 = 64$

정답 ②

13. 출제 의도 : 속도를 이용하여 점의 위치를 구할 수 있는가?

정답풀이:

조건 (가)에서 $v(3) = 0$ 이고

$v(t)$ 는 점 $(3, 0)$ 에 대해 점대칭인 것을 알 수 있다.

이때, $v(t) = at^3 + bt^2 + ct$

$v(0) = 0$ 이므로

점대칭에 의해 $v(6) = 0$

$\therefore v(t) = at(t-3)(t-6)$ (a 는 상수)

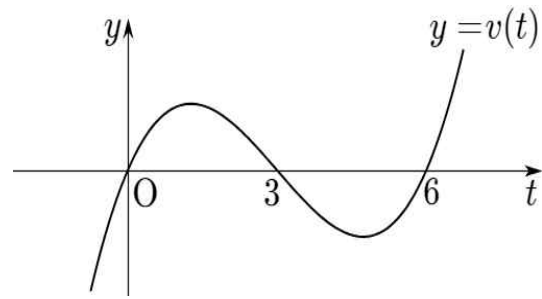
조건 (나)에 $t = 1$ 을 대입하면 $v(1) = 10$ 이고

$v(t)$ 에 대하여 $v(1) = 10a$ 이므로 $a = 1$ 이다.

따라서 $v(t) = t(t-3)(t-6)$

$$= t^3 - 9t^2 + 18t$$

이고 $y = v(t)$ 의 그래프는 다음과 같다.



시각 $t = 0$ 일 때 점 P가 원점에서 출발했으므로

시각 $t = 7$ 일 때의 점 P의 위치는

$$\begin{aligned} & 0 + \int_0^7 v(t) dt \\ &= \int_0^7 (t^3 - 9t^2 + 18t) dt \\ &= \left[\frac{1}{4}t^4 - 3t^3 + 9t^2 \right]_0^7 \\ &= \left[\frac{1}{4}t^4 - 3t^3 + 9t^2 \right]_6^7 \\ &= - \left[\frac{1}{4}t^4 - 3t^3 + 9t^2 \right]_{-1}^0 \\ &= - \left\{ - \left(\frac{1}{4} + 3 + 9 \right) \right\} \\ &= \frac{49}{4} \end{aligned}$$

이다.

$\therefore p = 4, q = 49$ 이므로

$p + q = 53$

(※ 이때, 문제에 제시된 대로 원칙상 $t \geq 0$ 이어야 하지만 식과 그래프의 관점에서 다음과 같이 계산해도 정답을 구하는 데 문제가 없고, 계산상의 편의를 고려했을 때 시간 관리가 요구되는 실제 시험에서는 이러한 풀이가 유리하다)

정답 ④

14. 출제 의도 : 지수함수 점근선의 성질을 알고 있는가? 구간별로 정의된 삼각, 지수함수의 그래프를 이해하고 주어진 구간 내에서 지수함수의 평행이동을 통한 함숫값의 변화를 관찰할 수 있는가?

정답풀이:

a_n, b_n 의 의미를 파악하자.

먼저 $a_n := \{n(a) | f(a) \in \{1, 3, 5\}, a \text{는 실수}\}$

즉, $y = f(x)$ 와 $y = 1, y = 3, y = 5$ 가 만나는 교점의 개수를 의미한다.

마찬가지로 b_n 은 $y = f(x)$ 와 $y = 2, y = 4$ 가 만나는 교점의 개수이다.

이제 함수 $f(x)$ 의 정의역에 주의하면서 n 의 값의 변화에 따른 교점 개수를 파악하자. 사실 n 의 영향을 받지 않는 그래프 모양의 교점을 먼저 세는 것이 합리적인데 이는

만나는 점의 고정된 개수를 알 수 있기 때문이다.
그 후에는 고정된 점의 개수에 지수함수의 평행이동에 따른 교점의 개수만 더해주면 된다.

n 의 값에 관계없이 $y=f(x)$ 와 $y=1, y=3, y=5$ 가
만나는 교점의 개수는 $y=3|\sin(2\pi x)|-2\sin(2\pi x)$ 의
제한된 정의역에서의 그래프와 $y=1, y=3, y=5$ 가
만나는 교점의 개수와 같다.(24개)

n 의 값에 관계없이 $y=f(x)$ 와 $y=2, y=4$ 가
만나는 교점의 개수는 $y=3|\sin(2\pi x)|-2\sin(2\pi x)$ 의 제한된
정의역에서의 그래프와 $y=2, y=4$ 가
만나는 교점의 개수와 같다.(16개)

다음으로 n 의 값에 관계되는 그래프인 $y=-2^{x-\frac{n}{2}}+n$
의 특징을 파악해야 한다.

이 함수의 특징은 먼저 점근선이 존재하고 정의역 전구간에
서 감소함수라는 것이다. 관찰할 것은 5 이하의 자연수와
만나는 그래프 교점이기 때문에 이는 매우 중요한 사실이다.

두 번째, n 이 1씩 커질 때 그래프는 x 축으로 $+\frac{1}{2}$ 만큼,

y 축으로 $+1$ 만큼 평행이동을 한다. 이 두 사실을 종합할 때
 $n=5$ 일 때부터 구하는 것이 합리적이다. (많은 경우의 수에
서 적은 경우의 수로 나아갈 수 있는 방법이다.)

$n=5$ 일 때, $y=-2^{x-\frac{5}{2}}+5$ 의 값이 5 이하의 자연수가
되는 순서쌍 집합

$(x, y) := \{(2.5, 4), (3.5, 3), (2.5+\log_2 3, 2), (4.5, 1)\}$ 에서
 $2k \leq x \leq 2k+1$ (k 는 정수)를 만족하는 순서쌍은 $(2.5, 4),$
 $(2.5+\log_2 3, 2), (4.5, 1)$ 이다.

즉, $a_5 = 24+1 = 25, b_5 = 16+2 = 18$

$n=4$ 일 때, 이제 순서쌍을 평행이동하기만 하면 된다.
심지어 경우의 수는 점근선과 y 값의 자연수 조건에 의해
더 빠르게 줄어든다. y 가 자연수가 되는 순서쌍 집합
 $(x, y) := \{(2, 3), (3, 2), (2+\log_2 3, 1)\}$ 에서 x 의 범위를
만족하는 순서쌍은 $(2, 3), (3, 2)$ 이다.

$a_4 = 24+1 = 25, b_4 = 16+1 = 17$

똑같은 방법으로 5 이하의 자연수 n 에 대하여 a_n, b_n 의
값을 구하면 아래의 표와 같다.

n	1	2	3	4	5
a_n	24	25	25	25	25
b_n	16	16	16	17	18
$2b_n - a_n$	8	7	7	9	11

$$\therefore \sum_{n=1}^5 (2b_n - a_n) = 42$$

정답 ⑤

15. 출제 의도 : 이차함수의 대칭성을 고려하여 그래프의 개형을
찾고 극한값을 구할 수 있는가?

정답풀이:

$g(x) = |f(x) + 4x - 4|$ 라 하면

$f(x)$ 가 연속함수이므로 $g(x)$ 도 연속함수이다.

또한 $f(x)$ 는 구간에 따라 다르게 정의되었지만,
최고차항 계수의 절댓값이 $|a|$ 로 동일하다.

따라서 $f(x)$ 는 같은 폭을 가진 두 이차함수 그래프를
평행이동과 대칭이동을 이용하여 적절히 변형한 후
 $x=1$ 을 기점으로 연결한 그래프로 이해할 수 있다.

이제 $g(x)=k$ 를 만족하는 서로 다른 실근의 합이 6이 되도록 하는
구간이 존재함에 집중하자.

조건을 만족하는 구간이 $0 < k < 2$ 한 개로 제한되어 있으므로

$g(x)$ 는 반드시 절댓값 조건에 의해

x 축 위로 꺾여 올라가는 부분이 대칭적으로 존재하며,

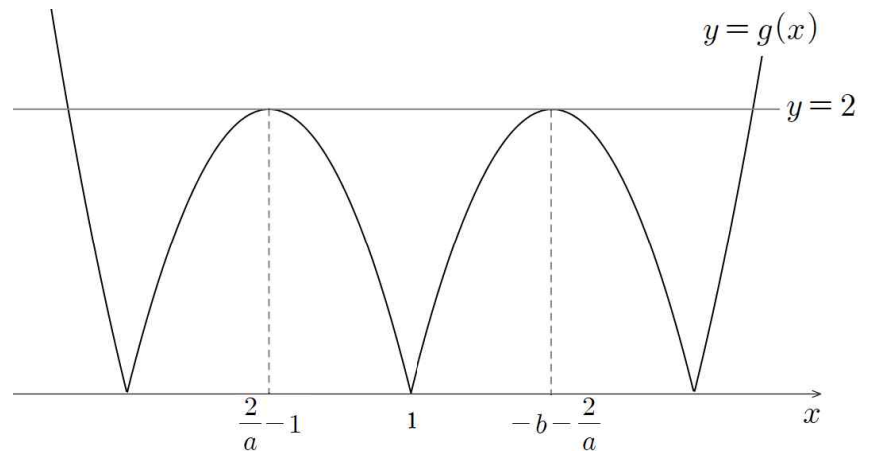
정확히 $x=1$ 대칭일 때 해당 조건을 만족할 수 있다.

덧붙여 $g(x)$ 를 구간에 따라 표준형으로 변환하면

다음과 같은 결과를 얻을 수 있다.

$$g(x) = \begin{cases} \left| a\left(x + \frac{2}{a} + b\right)^2 - \frac{4}{a} - 4b + c - 4 \right| & (x \geq 1) \\ \left| -a\left(x + 1 - \frac{2}{a}\right)^2 + \frac{4}{a} + d - 8 \right| & (x < 1) \end{cases}$$

이때, $g(x)$ 의 개형은 다음과 같다.



이제 구체적인 a, b, c, d 의 값을 구해보자.

$g(x)$ 가 $x=1$ 대칭이므로

구간에 따른 두 이차함수의 축 또한 $x=1$ 대칭이다.

$$\text{즉, } \frac{2}{a} - 1 - b - \frac{2}{a} = 2, b = -3$$

다음으로 $g(1)=0$ 이므로

$x=1$ 에서의 우극한과 좌극한을 순서대로 계산하면

다음과 같은 결과를 얻는다.

$$\lim_{x \rightarrow 1^+} g(x) = 4a + c = 0, c = -4a$$

$$\lim_{x \rightarrow 1^-} g(x) = -4a + d = 0, d = 4a$$

마지막으로 $g\left(\frac{2}{a}-1\right)=2$ 이므로

$$\left|\frac{4}{a}+4a-8\right|=2$$

$$\frac{4}{a}+4a-8=-2 \quad \left(\because \frac{2}{a}-1 < 1 \text{에서 } a > 1\right)$$

$$\begin{aligned} &2a^2-5a+2 \\ &=(2a-1)(a-2) \\ &=0 \end{aligned}$$

$$\therefore a=2$$

따라서 $f(4) \times f(-1)$

$$\begin{aligned} &=(a+c) \times d \\ &=-3a \times 4a \\ &=-48 \end{aligned}$$

정답 ③

16. 출제 의도 : 지수의 성질을 이용하여 부등식의 모든 자연수 해의 합을 구할 수 있는가?

정답풀이 :

$$(\sqrt{2})^x \leq \left(\frac{1}{2}\right)^{x-6}$$

$$(\sqrt{2})^x = 2^{\frac{x}{2}}, \left(\frac{1}{2}\right)^{x-6} = 2^{-x+6}$$

$$\frac{x}{2} \leq -x+6$$

$$\frac{3}{2}x \leq 6$$

$$\therefore x \leq 4$$

자연수 x 의 값은 1, 2, 3, 4이다.

$$1+2+3+4=10$$

정답 10

17. 출제 의도 : 수열의 합의 기호의 성질을 이용하여 수열의 합을 구할 수 있는가?

정답풀이 :

$$\sum_{k=1}^{10}(k-c)=25 \text{에서}$$

$$\frac{10 \times 11}{2} - 10c = 25$$

$$55 - 10c = 25$$

$$c = 3$$

$$\sum_{k=1}^5(a_k + 3c) = 60 \text{에서}$$

$$\sum_{k=1}^5 a_k + 15c = 60$$

$$\sum_{k=1}^5 a_k + 45 = 60$$

$$\sum_{k=1}^5 a_k = 15$$

$$\begin{aligned} \text{따라서 } \sum_{k=1}^5 a_k + c \\ &= 15 + 3 \\ &= 18 \end{aligned}$$

정답 18

18. 출제 의도 : 곱의 미분법을 이용하여 미분계수를 구할 수 있는가?

정답풀이 :

$$\begin{aligned} f(x) &= (x^2 + 3x - 1)(x^2 + 2)x \\ &= (x^2 + 3x - 1)(x^3 + 2x) \end{aligned}$$

이때, $f(x)$ 를 x 에 대해 미분하면

$$f'(x) = (2x+3)(x^3+2x) + (x^2+3x-1)(3x^2+2)$$

이므로

$$f'(1) = 5 \times 3 + 3 \times 5 = 30$$

정답 30

19. 출제 의도 : 정적분의 값을 구할 수 있는가?

정답풀이 :

$$\int_1^5 x^2 dx - \int_{-1}^1 (x+2)^2 dx + \int_6^7 (x-1)^2 dx$$

$$= \int_1^5 x^2 dx - \int_1^3 x^2 dx + \int_5^6 x^2 dx$$

$$= \int_1^6 x^2 dx - \int_1^3 x^2 dx$$

$$= \int_3^6 x^2 dx$$

$$= \left[\frac{1}{3}x^3\right]_3^6$$

$$= \frac{1}{3} \times 6^3 - \frac{1}{3} \times 3^3$$

$$= 72 - 9$$

$$= 63$$

정답 63

20. 출제 의도 : 코사인 법칙을 이용하여 원의 현의 길이를 구할 수 있는가?

정답풀이 :

$$\overline{BD} = \overline{BE} = a$$

$\triangle ABC \sim \triangle BCD$ (답음)이므로

$$a^2 : 1 = 2 + \sqrt{3} : 1$$

$$a^2 = 2 + \sqrt{3}$$

$$\therefore (가) = 2$$

$$\cos\theta = \frac{2a^2 - 1}{2a^2} \text{에 } \textcircled{1} \text{을 대입하면}$$

$$\cos\theta = \frac{3 + 2\sqrt{3}}{4 + 2\sqrt{3}} = \frac{\sqrt{3}}{2}$$

$$\therefore \theta = \frac{\pi}{6}$$

$$\angle EBD = \frac{\pi}{2} - \frac{3\theta}{2} = \frac{\pi}{4}$$

$$\therefore (나) = \frac{\pi}{4}$$

$$(\overline{DE})^2 = a^2 + a^2 - 2a^2 \cdot \cos\frac{\pi}{4}$$

$$= 2a^2 - \sqrt{2}a^2$$

$$= (2 - \sqrt{2})a^2$$

$$= (2 - \sqrt{2})(2 + \sqrt{3})$$

$$= 4 + 2\sqrt{3} - 2\sqrt{2} - \sqrt{6}$$

$$\therefore (다) = 4$$

$$\frac{1}{\pi} \times p \times q \times r = \frac{1}{\pi} \times 2 \times \frac{\pi}{4} \times 4 = 2$$

정답 2

21. 출제 의도 : 등차수열의 합의 꼴과 성질을 알고 주어진 값을 구할 수 있는가?

정답풀이 :

문제의 조건에 따라 $S_{10} = -70$, $S_4 = 76$ or $S_4 = -76$ 이다.

또한, 등차수열 합의 일반항은 상수항이 없는 이차식으로 표현된다. 즉, 상수 a, b 에 대하여 $S_n = an^2 + bn$ ($a \neq 0$)

i) $S_4 = 76$ 일 때

$S_4 = 76$, $S_{10} = -70$ 을 이용하여 a, b 의 값을 결정한다.

$$S_4 = 76 = 16a + 4b \quad \dots \textcircled{1}$$

$$S_{10} = -70 = 100a + 10b \quad \dots \textcircled{2}$$

$\textcircled{1}$ 과 $\textcircled{2}$ 을 연립하면,

$$a = -\frac{13}{3}, b = \frac{109}{3}$$

하지만 이는 첫째항과 공차가 정수라는 조건에 모순.

ii) $S_4 = -76$ 일 때

$$S_4 = -76 = 16a + 4b \quad \dots \textcircled{3}$$

$$S_{10} = -70 = 100a + 10b \quad \dots \textcircled{4}$$

$\textcircled{3}$ 과 $\textcircled{4}$ 을 연립하면,

$$a = 2, b = -27$$

$$\therefore S_n = 2n^2 - 27n$$

이제 부등식 $\sum_{k=n}^{n+4} S_k \geq 0$ 을 만족하는 자연수 n 의 최솟값을 구하자.

$$\begin{aligned} \sum_{k=n}^{n+4} S_k &= S_n + S_{n+1} + S_{n+2} + S_{n+3} + S_{n+4} \\ &= 5(S_{n+2} + 4) \geq 0 \end{aligned}$$

이다.

즉, $S_{n+2} + 4 \geq 0$ 을 만족하는 자연수 n 의 최솟값을 찾는다.

$$S_{n+2} + 4 = 2(n+2)^2 - 27(n+2) + 4.$$

$$= 2n^2 - 19n - 42 \geq 0$$

$$\text{부등식의 해는 } n \leq \frac{19 - \sqrt{697}}{4} \text{ 또는 } n \geq \frac{19 + \sqrt{697}}{4}$$

그러나 n 은 자연수이므로 만족시키는 n 의 범위는

$$n \geq \frac{19 + \sqrt{697}}{4}$$

$$\therefore m = 12$$

$$\therefore \left| \frac{S_{m+1}}{S_{m-5}} \times S_{m-2} \right| = \left| \frac{S_{13}}{S_7} \times S_{10} \right| = \left| -\frac{13}{7 \times 13} \times 7 \times 10 \right| = 10$$

정답 10

다른 풀이) $\sum_{k=n}^{n+4} S_k = S_n + S_{n+1} + S_{n+2} + S_{n+3} + S_{n+4}$ 를

전개하지 않고 S_n 을 x 에 관한 이차함수 $y = 2x^2 - 27x$ 로

나타낸 후 함수가 0이 되는 x 값 근처에서 S_n 값들의 계산을

통해 $\sum_{k=n}^{n+4} S_k$ 의 부호를 판단할 수 있다.

$$y = 2x^2 - 27x = x(2x - 27) \quad x = 0 \text{ 또는 } x = \frac{27}{2}$$

이차함수가 0이 된다. $13 < \frac{27}{2} < 14$ (n 은 자연수)이므로,

따라서 근처의 6개 값 (S_{11} 부터 S_{16} 까지)의 적절한 연산

비교를 통해 m 의 값을 구할 수 있다.

S_{11}	S_{12}	S_{13}	S_{14}	S_{15}	S_{16}
-55	-36	-13	14	45	96

$$\sum_{n=11}^{15} S_n = -45 < 0, \quad \sum_{n=12}^{16} S_n = 106 > 0 \text{이므로 } m = 12 \text{ 이다.}$$

$$\left| \frac{S_{m+1}}{S_{m-5}} \times S_{m-2} \right| = \left| \frac{S_{13}}{S_7} \times S_{10} \right| = \left| -\frac{13}{7 \times 13} \times 7 \times 10 \right| = 10$$

22. 출제 의도 : 주어진 조건을 만족하는 함수를 찾을 수 있는가?

정답풀이 :

$f(f(2))=0$ 이므로, 방정식 $f(x)=0$ 은 $x=f(2)$ 를 해로 갖는다.
그리고 집합 A 의 정의에 따라 $f(2)\in A$ 이다.

또한, 조건 (가)를 통해

각각의 α_n (n 은 자연수)이 자연수임을 알 수 있다.

이때, $\alpha_2 \geq 3$ 이면

집합 A 에서 α_1 이외에 $\alpha_k = k$ 를 만족하는 α 가 존재할 수 없으므로 조건 (나)에 모순이다.

따라서 조건 (나)에 의해 $\alpha_1 = 1$, $\alpha_2 = 2$ 이고,

만약 A 의 원소 개수가 3 이상이라면 $\alpha_3 > 3$ 이 되어야 한다.

또한 집합 A 의 정의에 따라,

방정식 $f(x)f'(x)=0$ 은 $x=1$ 과 $x=2$ 를 해로 갖는다.

즉, $f(1)f'(1)=0$, $f(2)f'(2)=0$

여기서

$f(2)\in A$ 이므로 $f(2) > 0$ 이고, 따라서 $f'(2)=0$

이때, 만약 $f'(1)=0$ 이면

방정식 $f'(x)=0$ 에서

$f'(x)$ 는 $(x-1)$ 과 $(x-2)$ 를 인수로 갖게 되므로

$\therefore f'(x)=3(x-1)(x-2)$

따라서

$$f(x) = \int_1^x f'(t)dt \text{ 또는 } f(x) = \int_{\alpha_3}^x f'(t)dt$$

이다.

두 경우 모두 $f(2) < 0$ 인데

이는 $f(2) > 0$ 에 모순이므로,

$\therefore f'(1) \neq 0$, $f(1)=0$

이제 방정식 $f(x)=0$ 의 근의 개수에 따라 경우를 나눠 생각하자.

i) $f(x)=0$ 의 해의 개수가 3인 경우

$$f(x) = (x-1)(x-\alpha_3)(x-\alpha_5),$$

$$f'(x) = 3(x-2)(x-\alpha_4) \text{이다.}$$

ii) $f(x)=0$ 의 해의 개수가 2인 경우

$$f'(1) \neq 0 \text{이므로, } f'(x) = 3(x-2)(x-\alpha_3),$$

$$f(x) = (x-1)(x-\alpha_3)^2$$

이때, $f(f(2))=0$ 이므로 $f(2) = (2-\alpha_3)^2 = (\alpha_3)^2 - 4\alpha_3 + 4$ 의 값이 1 또는 α_3

$$(\alpha_3)^2 - 4\alpha_3 + 4 = 1 \text{이면 } \alpha_3 = 1 \text{ 또는 } \alpha_3 = 3$$

$$(\alpha_3)^2 - 4\alpha_3 + 4 = \alpha_3 \text{이면 } \alpha_3 = 1 \text{ 또는 } \alpha_3 = 4$$

$\alpha_3 > 3$ 이므로, $\alpha_3 = 4$ 이다.

$$\text{따라서 } f(x) = (x-1)(x-4)^2$$

iii) $f(x)=0$ 의 해의 개수가 1인 경우

$$f'(x) = 3(x-2)(x-p) \text{ (} p=2 \text{ 또는 } p=\alpha_3 \text{),}$$

$$f(x) = \int_1^x f'(t)dt$$

이때, $f(f(2))=0$ 이므로

$$f(2) = \int_1^2 f'(t)dt$$

$$= \int_1^2 (3t^2 - (3p+6)t + 6p)dt$$

$$= \left[t^3 - \left(\frac{3p+6}{2} \right) t^2 + 6pt \right]_1^2$$

$$= (8 - 6p - 12 + 12p) - (1 - \frac{3}{2}p - 3 + 6p)$$

$$= \frac{3}{2}p - 2 = 1$$

이므로 $p=2$

따라서 $f'(x) = 3(x-2)^2$, $f(x) = (x-2)^3 + 1$

이제 사차함수 $g(x)$ 와 조건 (다)를 생각하자.

우선, $g(x)$ 는 사차함수이고 양수인 최댓값이 존재하므로 최고차항의 계수가 음수임을 알 수 있다.

또한 $g(x)$ 는 조건 (다)에 의해 집합 A 의 원소를 해로 갖는다.

그리고 함수 $g(x)$ 는 사차함수이므로 $m \leq 4$

i)에서 집합 A 의 원소의 개수가 5인데,

이는 모순이다.

따라서, 집합 A 는

ii)에 따라 $A = \{1, 2, 4\}$ 또는

iii)에 따라 $A = \{1, 2\}$ 이다.

두 경우 모두에서 함수 $g(x)$ 는 닫힌구간 $\left[-1, \frac{3}{2}\right]$ 에서 유일하게 $x=1$ 만을 해로 갖는다.

이때, $g(-1)$ 과 $g\left(\frac{3}{2}\right)$ 이 모두 음수이므로,

방정식 $g(x)=0$ 이 $x=1$ 에서 중근을 가지면서 함수 $g(x)$ 가 $x=1$ 에서 극대이어야 한다.

따라서 $g(x) = a(x-1)^2(x^2 + bx + c)$ ($a < 0$)

즉, 함수 $g(x)$ 는

ii)에 따라 $g(x) = a(x-1)^2(x-2)(x-4)$ 또는

iii)에 따라 $g(x) = a(x-1)^2(x-2)^2$ 이다.

만약 $g(x) = a(x-1)^2(x-2)^2$ 이면

$g(x)$ 의 최댓값이 0인데,

이는 $g(x)$ 의 최댓값이 $\frac{9+6\sqrt{3}}{8}$ 임에 모순이므로

iii)을 만족하는 $g(x)$ 가 존재하지 않는다.

따라서

ii)에 따라

$$g(x) = a(x-1)^2(x-2)(x-4), \quad g(-1) = 60a = -30$$

$$\therefore a = -\frac{1}{2}, \quad g(x) = -\frac{1}{2}(x-1)^2(x-2)(x-4)$$

$m=3$, $f(2)=4$, $g'(4) = -9$ 이므로

$$m \times |f(2) \times g'(4)| = 108$$

정답 108

다른 풀이 1) $f(x)=0$ 의 해의 개수 대신 $f'(x)=0$ 의 해의 개수를 기준으로 나눠 풀이를 진행할 수도 있다.

방정식 $f'(x)=0$ 의 해에 따라 경우를 나눠 생각하자.

i) $f'(x)=0$ 이 $x=2$ 를 유일하게 해로 갖는 경우

$$f'(x) = 3(x-2)^2 \text{이다.}$$

따라서 방정식 $f(x)-f(2)=0$ 이 $x=2$ 에서 삼중근을 갖는다.

$$f(1)=0 \text{이므로,}$$

$$\therefore f(x) = (x-2)^3 + 1$$

$$\text{이때, } A = \{1, 2\}$$

ii) $f'(x)=0$ 이 $x=2$ 외에 다른 해를 갖는 경우

$x=2$ 외의 다른 해를 $x=p(p \neq 2)$ 라 하자.

$$\text{그러면 } f'(x) = 3(x-2)(x-p), f(x) = \int_1^x f'(t) dt$$

$f(x)=0$ 의 해와 집합 A 는 $f(p)$ 의 부호에 따라 결정된다.

ii-i) $f(p) > 0$ 인 경우

$$f(f(2)) = 0 \text{이므로}$$

$$f(2) = \int_1^2 f'(t) dt$$

$$= \int_1^2 (3t^2 - (3p+6)t + 6p) dt$$

$$= \left[t^3 - \left(\frac{3p+6}{2} \right) t^2 + 6pt \right]_1^2$$

$$= (8 - 6p - 12 + 12p) - \left(1 - \frac{3}{2}p - 3 + 6p \right)$$

$$= \frac{3}{2}p - 2 = 1$$

이를 만족하는 p 는 $p=2$ 뿐이다.

이는 p 가 $x=2$ 이외의 다른 해라는 전제에 모순이므로,

$f(p) > 0$ 인 함수 $f(x)$ 는 존재하지 않는다.

ii-ii) $f(p)=0$ 인 경우

$$f(f(2)) = 0 \text{이므로}$$

$$f(2) = \int_1^2 f'(t) dt = \frac{3}{2}p - 2 \text{의 값이 } 1 \text{ 또는 } p \text{이다.}$$

$$p \neq 2 \text{이므로, } p=4$$

$$\text{따라서 } f(4) = f'(4) = 0, f(x) = (x-1)(x-4)^2$$

$$\text{이때, } A = \{1, 2, 4\}$$

ii-iii) $f(p) < 0$ 인 경우

$f(2) > 0$ 이므로 $f(x)=0$ 은 3개의 서로 다른 실근을 갖는다.

따라서

$$f(x) = (x-1)(x-\alpha_3)(x-\alpha_5) \text{이고 } f'(x) = 3(x-2)(x-p)$$

$$\text{이때, } A = \{1, 2, \alpha_3, p, \alpha_5\}$$

이제 사차함수 $g(x)$ 와 조건 (다)를 생각하자.

함수 $g(x)$ 는 조건 (다)에 의해 집합 A 의 원소를 해로 갖는다.

$g(x)$ 는 사차함수이므로 $m \leq 4$ 인데

ii-iii)에서 $m=5$ 이므로 이는 모순이다.

따라서, 집합 A 는

i)에 따라 $A = \{1, 2\}$ 또는

ii-ii)에 따라 $A = \{1, 2, 4\}$ 이다.

이는 본래 풀이의 ii)와 iii)에 각각 대응된다.

역시 마찬가지로 ii-ii)를 만족하는 $g(x)$ 가 존재하지 않고,

$g(x)$ 는 i)에 따라

$$g(x) = -\frac{1}{2}(x-1)^2(x-2)(x-4) \text{이다.}$$

$$m \times |f(2) \times g'(4)| = 108$$

다른 풀이 2) 순서를 바꿔, $g(x)$ 와 조건 (다)를 먼저 접근할 수도 있다.

사차함수 $g(x)$ 가 양수인 최댓값을 가지므로

최고차항의 계수가 음수이고 2개 이상의 서로 다른 실근을 갖는다.

이때, 조건 (다)에 의해

$$g(x) = a(x-\alpha_1)(x-\alpha_2)(x^2+bx+c) \ (a < 0) \text{로 쓸 수 있다.}$$

또한, 본래 풀이와 마찬가지로 조건 (가)와 (나)에 의해

$$\alpha_1 = 1, \alpha_2 = 2$$

조건 (다)에 의해 $g(1) = g(2) = 0$ 이다.

따라서

$$g(x) = a(x-1)(x-2)(x^2+bx+c) \ (a < 0)$$

여기서, 함수 $g(x)$ 는

단현구간 $\left[-1, \frac{3}{2}\right]$ 에서 유일하게 $x=1$ 만을 해로 갖는다.

이때, $g(-1)$ 과 $g\left(\frac{3}{2}\right)$ 이 모두 음수이므로,

방정식 $g(x)=0$ 이 $x=1$ 에서 중근을 가지면서

함수 $g(x)$ 가 $x=1$ 에서 극댓값 0을 가져야 한다.

따라서 $g(x) = a(x-1)^2(x^2+bx+c) \ (a < 0)$

즉, $m < 4$ 이므로 $m=2$ 또는 $m=3$

$m=2$ 이면, $g(x) = a(x-1)^2(x-2)^2$ 인데,

$g(x) \leq 0$ 이므로 $g(x)$ 의 최댓값이 $\frac{9+6\sqrt{3}}{8}$ 임에 모순이다.

$\therefore m=3$

따라서 $A = \{1, 2, \alpha_3\} \ (\alpha_3 > 3)$ 이고

$$g(x) = a(x-1)^2(x-2)(x-\alpha_3)$$

여기서, 집합 A 의 정의에 의해

$f(x)f'(x)=0$ 의 해는 $x=1, x=2, x=\alpha_3$ 뿐이다.

만약 $f(x)=0$ 이 3개의 서로 다른 실근을 가지면

롤의 정리에 의해 $f(x)=0$ 의 해 이외에

$f'(x)=0$ 인 x 가 존재하므로 $m=3$ 에 모순이다.

따라서, 방정식 $f(x)=0$ 의 서로 다른 실근은 2개 이하이다.

또한 $f'(x)=0$ 의 서로 다른 실근이 1개 이하이면

집합 A 의 원소 개수가 3보다 작으므로 역시 $m=3$ 에 모순이다.

따라서, 방정식 $f'(x)=0$ 은 반드시 2개의 서로 다른 실근을 가진다.

이때, $f(f(2))=0$ 이므로 $f(2)=1$ 또는 $f(2)=\alpha_3$

즉, $f(2)>0$ 이고 $f'(2)=0$

이를 만족하기 위해서는 반드시

$f(1)=0$, $f'(1)\neq 0$ 이고 $f'(\alpha_3)=0$ 이어야 한다.

$f(x)$ 가 최고차항의 계수가 1인 삼차함수이므로,

그 도함수인 $f'(x)$ 는 최고차항의 계수가 3인 이차함수이다.

따라서 $f'(x)$ 는

$$f'(x)=3(x-2)(x-\alpha_3)$$

$f(1)=0$ 이므로 함수 $f(x)$ 는 $f(x)=\int_1^x f'(t)dt$

$$f(2)=\int_1^2 f'(t)dt$$

$$=\int_1^2 (3t^2 - (3\alpha_3 + 6)t + 6\alpha_3)dt$$

$$=\left[t^3 - \left(\frac{3\alpha_3 + 6}{2} \right) t^2 + 6\alpha_3 t \right]_1^2$$

$$=(8 - 6\alpha_3 - 12 + 12\alpha_3) - \left(1 - \frac{3}{2}\alpha_3 - 3 + 6\alpha_3 \right)$$

$$=\frac{3}{2}\alpha_3 - 2$$

$f(2)=1$ 이면 $\alpha_3=2$ 인데, 이는 $\alpha_3 > 3$ 에 모순이다.

따라서 $f(2)=\alpha_3$ 이고 $\alpha_3=4$

즉, $A=\{1, 2, 4\}$ 이고

함수 $g(x)$ 는

$$g(x)=a(x-1)^2(x-2)(x-4)$$

$$g(-1)=60a=-30$$

$$\therefore a=-\frac{1}{2}, g(x)=-\frac{1}{2}(x-1)^2(x-2)(x-4)$$

$m=3$, $f(2)=4$, $g'(4)=-9$ 이므로

$$m \times |f(2)| \times |g'(4)| = 108$$

선택과목(미적분)

23. 출제 의도 : 치환적분법을 활용하여 자연로그의 정적분 값을 구할 수 있는가?

정답풀이:

$\ln x = t$ 로 놓으면 $\frac{1}{x} dx = dt$ 이다.

$x = e$ 일 때 $t = 1$, $x = e^2$ 일 때 $t = 2$ 이므로

$$\begin{aligned} \int_e^{e^2} \frac{(1+\ln x)}{x \ln x} dx &= \int_1^2 \frac{(1+t)}{t} dt \\ &= \int_1^2 \left(\frac{1}{t} + 1 \right) dt \\ &= [\ln t + t]_1^2 \\ &= \ln 2 + 2 - 1 \\ &= \ln 2 + 1 \end{aligned}$$

정답 ②

24. 출제 의도 : 지수함수의 극한을 구할 수 있는가?

정답풀이:

$\lim_{x \rightarrow 0} x = 0$ 이므로 $\lim_{x \rightarrow 0} (8^x + 4^x - a) = 0$ 이다.

$a = 2$ 를 얻는다.

$$\begin{aligned} \lim_{x \rightarrow 0} \frac{8^x + 4^x - 2}{x} &= \lim_{x \rightarrow 0} \frac{(8^x - 1) + (4^x - 1)}{x} \\ &= \lim_{x \rightarrow 0} \frac{8^x - 1}{x} + \lim_{x \rightarrow 0} \frac{4^x - 1}{x} \\ &= \ln 8 + \ln 4 \\ &= 3 \ln 2 + 2 \ln 2 = 5 \ln 2 \text{이다.} \end{aligned}$$

따라서 $a = 2$, $b = 5$

$a + b = 2 + 5 = 7$

정답 ③

25. 출제 의도 : 입체도형의 부피를 구할 수 있는가?

정답풀이:

x 축에 수직인 평면으로 자른 단면은 반지름의 길이가 $\frac{1}{\sin x \cos x}$ 인 사분원 모양이므로 단면의 넓이 $S(x)$ 는

$$S(x) = \frac{1}{4} \left(\frac{1}{\sin x \cos x} \right)^2 \pi = \frac{\pi}{4 \sin^2 x \cos^2 x}$$

따라서 구하는 입체도형의 부피는

$$\begin{aligned} \int_{\frac{\pi}{6}}^{\frac{\pi}{4}} \frac{\pi}{4 \sin^2 x \cos^2 x} dx &= \frac{\pi}{4} \int_{\frac{\pi}{6}}^{\frac{\pi}{4}} \frac{1}{\sin^2 x \cos^2 x} dx \\ &= \frac{\pi}{4} \int_{\frac{\pi}{6}}^{\frac{\pi}{4}} \frac{\sin^2 x + \cos^2 x}{\sin^2 x \cos^2 x} dx \\ &= \frac{\pi}{4} \int_{\frac{\pi}{6}}^{\frac{\pi}{4}} \frac{1}{\cos^2 x} + \frac{1}{\sin^2 x} dx \\ &= \frac{\pi}{4} \int_{\frac{\pi}{6}}^{\frac{\pi}{4}} \frac{1}{\cos^2 x} + \frac{1}{\sin^2 x} dx \\ &= \frac{\pi}{4} \left\{ \int_{\frac{\pi}{6}}^{\frac{\pi}{4}} \frac{1}{\cos^2 x} dx + \int_{\frac{\pi}{6}}^{\frac{\pi}{4}} \frac{1}{\sin^2 x} dx \right\} \\ &= \frac{\pi}{4} [\tan x - \cot x]_{x=\frac{\pi}{6}}^{x=\frac{\pi}{4}} \\ &= \frac{\pi}{4} \left\{ \left(1 - \frac{1}{1} \right) - \left(\frac{1}{\sqrt{3}} - \sqrt{3} \right) \right\} \\ &= \frac{\pi}{4} \times \frac{2\sqrt{3}}{3} = \frac{\sqrt{3}\pi}{6} \end{aligned}$$

정답 ④

26. 출제 의도 : 음함수의 미분법을 사용하여 함수의 미분계수를 구할 수 있는가?

정답풀이:

$g(x) = e^x + e^{-x}$ 라 하면 $g(x)$ 는 우함수이다.

$e^x + e^{-x} = 3t^2 + 3$ 의 양수 해를 $x = \alpha(t)$ 라 하면 나머지 해는

$x = -\alpha(t)$ 이다.

이때 $e^{\alpha(t)} + e^{-\alpha(t)} = 3t^2 + 3$ 의 양변을 미분하면 $\alpha(t)$ 는 x 에 관한

식이므로 $\frac{dx}{dt} = \alpha'(t)$ 이다.

따라서

$$\frac{dx}{dt} (e^{\alpha(t)} - e^{-\alpha(t)}) = 6t$$

$$\frac{dx}{dt} = \frac{6t}{e^{\alpha(t)} - e^{-\alpha(t)}} \quad \dots \text{㉠}$$

한편 $f(t) = 2\alpha(t)$ 이고 미분가능하므로 $f'(t) = 2\alpha'(t) = 2 \frac{dx}{dt}$

$\frac{dx}{dt}$ 에 ㉠을 대입하면

$$f'(t) = \frac{12t}{e^{\alpha(t)} - e^{-\alpha(t)}} = \frac{12t}{\sqrt{\{e^{\alpha(t)} + e^{-\alpha(t)}\}^2 - 4}} = \frac{12t}{\sqrt{(3t^2 + 3)^2 - 4}}$$

따라서 $f'\left(\frac{\sqrt{3}}{3}\right) = \frac{4\sqrt{3}}{\sqrt{12}} = 2$

정답 ⑤

27. 출제 의도 : 삼각함수의 덧셈정리를 이용하여 값을 구할 수 있는가?

정답풀이:

$f(x)=6-2(\ln x)^2$ 의 도함수와 이계도함수를 이용해 $\tan\theta_2$ 를 먼저 구하자.

$f'(x)=-\frac{4\ln x}{x}$, $f''(x)=\frac{4\ln x-4}{x^2}$ 이고, 진수 조건에 의해

$x > 0$ 이다.

x	0	...	e	...
$f''(x)$		-	0	+
$f'(x)$		↘	$-\frac{4}{e}$	↗

$f(x)$ 의 변곡점의 x 좌표가 e 이므로 $\tan\theta_2=f'(e)=-\frac{4}{e}$ 이다.

원점에서 곡선 $f(x)$ 에 그은 접선의 접점의 x 좌표를 t 라 할 때,

접선의 방정식은 $y=-\frac{4\ln t}{t}(x-t)+6-2(\ln t)^2$ 이다.

이 접선이 원점을 지나므로 $(0,0)$ 을 대입하면

$4\ln t+6-2(\ln t)^2=0$ 이다.

이 식을 인수분해하면 $-2(\ln t-3)(\ln t+1)=0$ 이므로

$t=e^3$ 또는 $t=\frac{1}{e}$ 이다.

따라서 $\tan\theta_1=f'\left(\frac{1}{e}\right)=4e$ 이다. ($\because f'(e^3)=-\frac{12}{e^3}<0$)

$$\begin{aligned} \therefore \tan(\theta_2-\theta_1) &= \frac{\tan\theta_2-\tan\theta_1}{1+\tan\theta_2\tan\theta_1} = \frac{\left(-\frac{4}{e}\right)-4e}{1+\left(-\frac{4}{e}\right)(4e)} \\ &= \frac{-4}{-15}\left(\frac{1}{e}+e\right) = \frac{4}{15e}(e^2+1) \end{aligned}$$

정답 ⑤

28. 출제 의도 : 부분적분법을 활용하여 복잡한 식의 정적분 값을 구할 수 있는가?

정답풀이:

(가) $\ln f(x)=\int_1^x tg'(t)dt$ 에서 $x=1$ 을 대입하면

$f(1)=1$ 이라는 값을 얻고, 양변을 미분하면

$\frac{f'(x)}{f(x)}=xg'(x)$ 와 $f'(x)=xg'(x)f(x)$ 라는 식을 얻는다.

문제에서 주어진 정적분 $\int_1^2 \frac{\{f''(x)+f'(x)\}e^{g(1)}}{xg'(x)+1} dx$ 을 풀기 위해

서는 적절한 부분적분을 이용해야 한다.

$v=f''(x)+f'(x)$, $v=f'(x)+f(x)$

$u=\frac{e^{g(1)}}{xg'(x)+1}$, $u'=\left(\frac{e^{g(1)}}{xg'(x)+1}\right)'=\frac{e^{g(x)}}{f(x)}$ 라고 하면

$$\int_1^2 \frac{\{f''(x)+f'(x)\}e^{g(1)}}{xg'(x)+1} dx = \int_1^2 v'udx$$

$$= [uv]_1^2 - \int_1^2 vu'dx$$

$$= \left[\{f'(x)+f(x)\} \frac{e^{g(1)}}{xg'(x)+1} \right]_1^2 - \int_1^2 \{f'(x)+f(x)\} \frac{e^{g(x)}}{f(x)} dx$$

형태가 된다.

(가) 조건에서 찾은 $\frac{f'(x)}{f(x)}=xg'(x)$ 식으로 인해

$xg'(x)+1=\frac{f'(x)}{f(x)}+1=\frac{f'(x)+f(x)}{f(x)}$ 가 되므로

$$\left[\{f'(x)+f(x)\} \frac{e^{g(1)}}{xg'(x)+1} \right]_1^2$$

$$= \left[\{f'(x)+f(x)\} \frac{f(x)e^{g(1)}}{f'(x)+f(x)} \right]_1^2$$

$$= [f(x)e^{g(1)}]_1^2 = \{f(2)-f(1)\}e^{g(1)} = e^{g(1)} \text{이 된다.}$$

(다른 방법으로 $f'(x)=xg'(x)f(x)$ 이므로

$$\left[\{f'(x)+f(x)\} \frac{e^{g(1)}}{xg'(x)+1} \right]_1^2$$

$$= \left[\{xg'(x)+1\}f(x) \frac{e^{g(1)}}{xg'(x)+1} \right]_1^2$$

$$= [f(x)e^{g(1)}]_1^2 = \{f(2)-f(1)\}e^{g(1)} = e^{g(1)} \text{를 얻을 수도 있다.})$$

$$\int_1^2 \{f'(x)+f(x)\} \frac{e^{g(x)}}{f(x)} dx$$

$$= \int_1^2 \left\{ \frac{f'(x)}{f(x)} + 1 \right\} e^{g(x)} dx$$

$$= \int_1^2 \{xg'(x)+1\}e^{g(x)} dx \quad \because \text{(가)} \quad \frac{f'(x)}{f(x)}=xg'(x)$$

$$= [xe^{g(x)}]_1^2 = 2e^{g(2)} - e^{g(1)} \quad \because (xe^{g(x)})' = \{1+xg'(x)\}e^{g(x)}$$

이 된다.

$$\int_1^2 \frac{\{f''(x)+f'(x)\}e^{g(1)}}{xg'(x)+1} dx$$

$$= \left[\{f'(x)+f(x)\} \frac{e^{g(1)}}{xg'(x)+1} \right]_1^2 - \int_1^2 \{f'(x)+f(x)\} \frac{e^{g(x)}}{f(x)} dx$$

$$= e^{g(1)} - \{2e^{g(2)} - e^{g(1)}\}$$

$$= e^{g(1)} - 2e^{g(2)} + e^{g(1)}$$

$$= 2e^{g(1)} - 2e^{g(2)}$$

$$= 2\{e^{g(1)} - e^{g(2)}\}$$

$$= 2 \times 8 = 16 \text{이 된다.}$$

정답 ③

29. 출제 의도 : 무한급수를 부분합의 극한으로 바꿀 수 있는가?

정답풀이:

근의 공식에 의해 $x = a_1 \pm \sqrt{a_1^2 + 4n^4 + 8n^3}$ 이고

조건에 의해 $a_{n+1} = a_1 - \sqrt{a_1^2 + 4n^4 + 8n^3}$ 이다.

이때 $b_n = a_n - a_{n+1} - 4n$ 이라 하면 b_n 의 부분합 S_n 은

$$\begin{aligned} S_n &= (a_1 - a_2 - 4) + (a_2 - a_3 - 8) + \dots + (a_n - a_{n+1} - 4n) \\ &= (a_1 - a_2 + a_2 - \dots + a_n - a_{n+1}) - \sum_{k=1}^n 4k \\ &= a_1 - a_{n+1} - 4 \times \frac{n(n+1)}{2} = a_1 - a_{n+1} - 2n(n+1) \\ &= a_1 - (a_1 - \sqrt{a_1^2 + 4n^4 + 8n^3}) - 2n(n+1) \\ &= \frac{(a_1^2 + 4n^4 + 8n^3) - (4n^4 + 8n^3 + 4n^2)}{\sqrt{a_1^2 + 4n^4 + 8n^3} + (2n^2 + 2n)} \\ &= \frac{a_1^2 - 4n^2}{\sqrt{a_1^2 + 4n^4 + 8n^3} + (2n^2 + 2n)} \end{aligned}$$

$\sum_{n=1}^{\infty} (a_n - a_{n+1} - 4n) = \sum_{n=1}^{\infty} b_n = \lim_{n \rightarrow \infty} S_n$ 이므로

$$\lim_{n \rightarrow \infty} S_n = \lim_{n \rightarrow \infty} \frac{a_1^2 - 4n^2}{\sqrt{a_1^2 + 4n^4 + 8n^3} + (2n^2 + 2n)} = \frac{-4}{\sqrt{4} + 2} = -1$$

따라서 $45 \times \left| \sum_{n=1}^{\infty} (a_n - a_{n+1} - 4n) \right| = 45 \times |-1| = 45$

정답 45

30. 출제 의도 : 합성함수의 미분법과 주어진 조건을 이용하여 함수를 구하고 정적분 값의 범위를 구할 수 있는가?

정답풀이:

함수 $g(x)$ 가 $x=0$ 에서 미분 불가능하므로 $|f(x)|$ 가 $x=0$ 에서 미분 불가능하다.

$a > 0$ 인 실수 a 에 대하여 $f(a)=0$ 이므로 $f(x)=x(x-a)^2$ 이다.

$(0, a)$ 에서 함수 $g(x)$ 의 극대를 확인하기 위해 $g'(x)$ 의 부호를 확인하자.

$x > 0$ 일 때, $g(x) = e^{\sin(\pi f(x))}$, $g'(x) = f'(x) \cos(\pi f(x)) e^{\sin(\pi f(x))}$

모든 실수 x 에 대하여 $e^{\sin(\pi f(x))} > 0$ 이므로 $g'(x)$ 의 부호는 $f'(x) \cos(\pi f(x))$ 의 부호와 같다. $f'(x) = (x-a)(3x-a)$ 이므로

$f\left(\frac{1}{3}a\right)$ 는 $(0, a)$ 에서의 함수 $f(x)$ 의 최댓값이다.

$f\left(\frac{1}{3}a\right)$ 를 k , $\cos(\pi f(x))$ 를 $h(x)$ 라 하자.

$k \leq \frac{1}{2}$ 이면,

x	0	...	$\frac{1}{3}a$...	a
$f'(x)$		+	0	-	
$f(x)$		↗	k	↘	
$h(x)$		+	$\cos k\pi$	+	
$f'(x)h(x)$		+	0	-	

이므로 극대가 되는 점의 개수는 1이다.

$\frac{1}{2} < k \leq \frac{3}{2}$ 이고, $f(x) = \frac{1}{2}$ 인 두 점의 x 좌표를 각 α, β

($\alpha < \beta$)라 하면,

x	0	...	α	...	$\frac{1}{3}a$...	β	...	a
$f'(x)$		+	+	+	0	-	-	-	
$f(x)$		↗	$\frac{1}{2}$	↗	k	↘	$\frac{1}{2}$	↘	
$h(x)$		+	0	-	$\cos k\pi$	-	0	+	
$f'(x)h(x)$		+	0	-	0	+	0	-	

이므로 극대가 되는 점의 개수는 2이다.

$\frac{1}{2} < f\left(\frac{1}{3}a\right) \leq \frac{3}{2}$ 일 때,

함수 $g(x)$ 가 극대가 되는 점의 개수가 2이므로

$$f\left(\frac{1}{3}a\right) = \frac{1}{3}a \left(-\frac{2}{3}a\right)^2 = \frac{4}{27}a^3 \text{에서}$$

$$\frac{1}{2} < \frac{4}{27}a^3 \leq \frac{3}{2},$$

$$\frac{3^3}{2^3} < a^3 \leq \frac{3^4}{2^3},$$

$$\frac{3}{2} < a \leq \frac{3^{\frac{4}{3}}}{2} \quad (a > 0)$$

$$\int_{-a}^{2a} f(x) dx = \int_{-a}^{2a} x(x-a)^2 dx = \int_{-a}^{2a} (x^3 - 2ax^2 + a^2x) dx$$

$$= \left[\frac{1}{4}x^4 - \frac{2}{3}x^3 + \frac{1}{2}a^2x^2 \right]_{-a}^{2a} = \frac{15}{4}a^4 - 6a^4 + \frac{3}{2}a^4$$

$$= -\frac{3}{4}a^4$$

$$\frac{3}{2} < a \leq \frac{3^{\frac{4}{3}}}{2} \text{이므로 } -\frac{3}{4}a^4 \text{의 최솟값은 } -\frac{3^{\frac{19}{3}}}{2^6} \text{이다.}$$

이때, $p=6$, $q=\frac{19}{3}$ 이므로 $p \times q = 38$ 이다.

정답 38