

제 2 교시

수학 영역

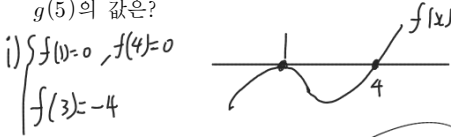
단답형

20. 최고차항의 계수가 양수인 삼차함수  $f(x)$ 에 대하여 함수

$$g(x) \text{를 } g(x) = \begin{cases} f(x) & (f(x) \geq 0) \\ f(3) - f(x) & (f(x) < 0) \end{cases} \text{이라 하자.}$$

$$\lim_{x \rightarrow 1} g(x) = g(1) - 4, \quad g(4) = \lim_{x \rightarrow 4^+} g(x) \neq \lim_{x \rightarrow 4^-} g(x) \text{일 때,}$$

$g(5)$ 의 값은?



$$\therefore f(x) = (x-1)^2(x-4)$$

$$g(5) = 16$$

22. 최고차항의 계수가 양수인 삼차함수  $f(x)$ 와 최고차항의 계수가 1인 일차함수  $g(x)$ 에 대하여  $x$ 에 대한 방정식  $f'(x)(x-t) + g(t) = f(x)$ 의 서로 다른 실근의 개수를  $h(t)$ 라 하자. 세 함수  $f(x), g(x), h(x)$ 가 다음 조건을 만족한다.

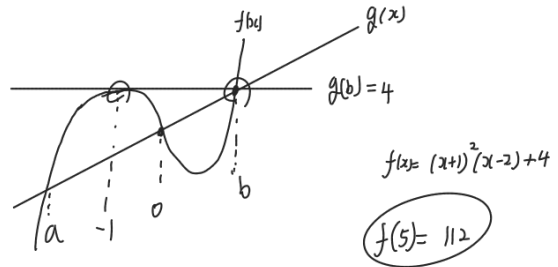
(가) 방정식  $f(x) = g(x)$ 는 서로 다른 세 실근  $a, 0, b$  ( $a < 0 < b$ )를 갖는다.

(나)  $h(t)$ 는  $t = a, b$ 에서만 불연속이다.

(다) 방정식  $f(x) = g(b)$ 가 서로 다른 두 실근을 가질 때,  $f(-1) = g(b) = 4$ 이다.

$f(5)$ 의 값을 구하시오.

i)  $f'(x) = \frac{f(x) - g(x)}{x-t} \Rightarrow (x, f(x)) \text{ 와 } (t, g(t)) \text{ 이은 기울기가 } f'(x)$

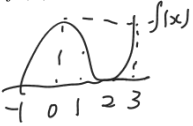


# 수학 영역

20. 최고차항의 계수가 1인 삼차함수  $f(x)$ 가 다음 조건을 만족한다.

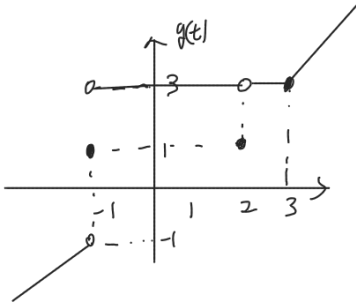
- (가)  $f(x) = f(t)$ 의 서로 다른 모든 실근의 합이  $t = -1, t = 2$ 에서만 불연속이다. ↓  
g(t)
- (나)  $f(3) = 0$

$f(7)$ 의 값은?



$$f(x) = x^3(x-3)$$

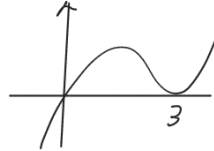
$$f(7) = 196$$



20. 최고차항의 계수가 양수인 삼차함수  $f(x)$ 가 다음 조건을 만족시킨다.

- (가)  $x_1 \leq 0 \leq x_2$ 인 모든 실수  $x_1, x_2$ 에 대하여  $f(x_1) \leq 0 \leq f(x_2)$ 를 만족시킨다.
- (나) 모든 실수  $x$ 에 대하여  $f'(x) \geq -3$ 이다.

$f(3) = 0$ 일 때,  $f(5)$ 의 최댓값은?



$$f(x) = x(x-3)^2 \text{ 일 때 } f(5) \text{ 최대}$$

$$f(5) = 20$$

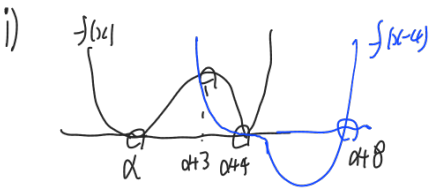
20. 최고차항의 계수가 1인 사차함수  $f(x)$ 에 대하여 함수  $g(x)$ 는 다음과 같다.

$$g(x) = \lim_{x \rightarrow 0} \frac{|f(x+h)| - |f(x-h)|}{h} \times f(x-4)$$

이때, 함수  $g(x)$ 는 다음 조건을 만족시킨다.

- (가) 함수  $g(x)$ 는 실수 전체의 집합에서 연속이다.
- (나)  $x$ 에 대한 방정식  $g(x)=0$ 의 실근을 작은 순서대로  $x_1, x_2, x_3, x_4$ 라 하면  $x_1, x_2, x_3, x_4$ 는 모두 정수이고 그 합은 11이다.

$f(5)$ 의 값을 구하시오.



$$4\alpha + 15 = 11$$

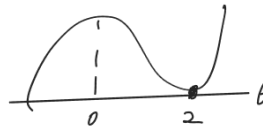
$$f(x) = (x+1)^3(x-3)$$

$$x = -1$$

$$f(5) = 432$$

19. 두 함수  $f(x), g(x)$ 에 대하여  $f(x) = x^3 + x^2 + 10$ ,  $g(x) = 4x^2 + k$ 이다.  $x \geq 0$ 인 모든 실수  $x$ 에 대하여  $f(x) \geq g(x)$ 를 만족시킬 때,  $k$ 의 최댓값을 구하시오.

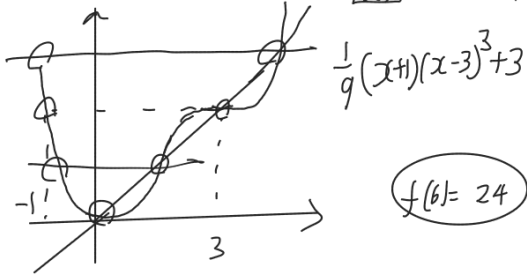
$$x^3 - 3x^2 + 10 \geq k$$



⑥

# 수학 영역

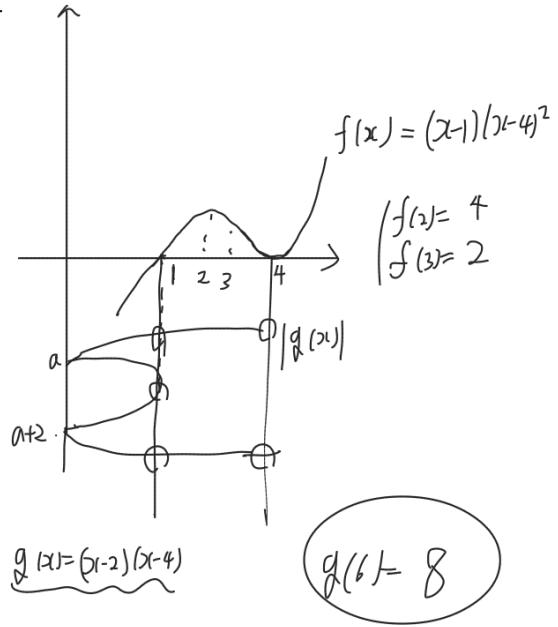
22. 최고차항의 계수가 양수인 사차함수  $f(x)$ 에 대하여 ~~.....~~이다. 방정식  $f(f(x))=f(x)$ 가 서로 다른 7개의 실근을 갖는다. 이 7개의 실근을 작은 것부터  $a_1, a_2, \dots, a_7$ 라고 하자.  $a_2 = -1, a_6 = 3$ 이고  $f'(a_5) > 0, f'(a_6) = 0$ 이다.  $f(x) = 0$ 의 실근은 0 뿐이다. ~~.....~~의 값을 구하시오.



20. 두 함수  $f(x), g(x)$ 에 대하여  $f(x)$ 는 최고차항의 계수가 1인 삼차함수이고  $g(x) = (x-a)(x-b)$ 이다.  $h(x) = |g(x)|$ 라 하자. 방정식  $f(h(x)) = 0$ 의 서로 다른 실근의 개수는 5개이다. 이때 두 함수  $f(x)$ 와  $g(x)$ 가 다음 조건을 만족시킨다.

- (가)  $g(x)$ 의 최솟값은  $-1$ 이다.
- (나) 함수  $f'(x)$ 는  $x=3$ 에서 음수인 최솟값을 갖는다.

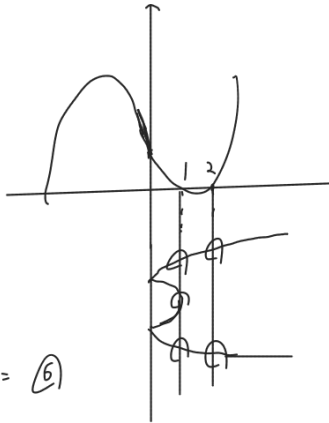
$f'(2) = 0$ 이고  $g(f(2)) = g(f(3)) = 0$ 일 때,  $g(6)$ 의 값을 구하시오.



# 수학 영역

20. 최고차항의 계수가 1인 삼차함수  $f(x)$ 와 최솟값이  $-1$ 인 이차함수  $g(x)$ 에 대하여  $\lim_{x \rightarrow 2} \left\{ \frac{1}{x-2} \int_{|g(a)|}^x f'(t) dt \right\} = f'(-2)$ 를 만족하는 실수  $a$ 의 개수가 5일 때,  $\int_0^3 f'(x) dx$ 의 값을 구하시오.

$$\begin{cases} f(2) = f(1g(a)) \\ f'(2) = f'(-2) \end{cases}$$



$$f(x) = x^3 - kx + c$$

$$f(1) = f(2) \dots k=1$$

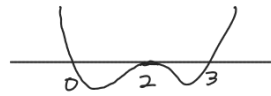
$$f(3) - f(0) = 27 - 2 = 25$$

20. 최고차항의 계수가 양수인 사차함수  $f(x)$ 와 삼차함수  $g(x)$ 에 대하여  $h(x) = f(x) + g(x)$ 이다. 이때 세 함수  $f(x)$ ,  $g(x)$ ,  $h(x)$ 가 다음 조건을 만족시킨다.

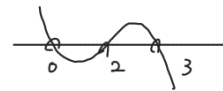
- (가) 세 방정식  $f(x)=0$ ,  $g(x)=0$ ,  $h(x)=0$ 은 모두 세 실근 0, 2, 3만을 갖는다.
- (나)  $h'(2) > 0$
- (다)  $f'(3) = 2$

$f'(0) < 0$ 일 때,  $h(5)$ 의 값을 구하시오.

$f(x)$

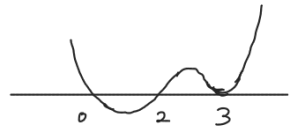


$g(x)$



+

$$h(x) = \frac{2}{3}x(x-2)(x-3)^2$$



$$h(5) = 40$$

22. 최고차항의 계수가 1인 삼차함수  $f(x)$ 와 실수 전체의 집합에서 연속인 함수  $g(x)$ 가 다음 조건을 만족한다.

- (가)  $x \neq 3$ 인 모든 실수  $x$ 에 대하여  $f(g(x)) = f(x) + f'(x)(g(x) - x)$
- (나) 방정식  $g(x) = x$ 의 실근은 3뿐이다.
- (다)  $f'(x)$ 의 최솟값은  $-3$ 이고,  $f(3) = 3$ 이다.

$g(2) + f(5)$ 의 값을 구하시오.

$g(x) \neq x$  일 때  $\frac{f(g(x)) - f(x)}{g(x) - x} = f'(x)$   
 $f(x) = (x-3)^3 - 3x + 12$   
 $\begin{cases} g(2) = 5 \\ f(5) = 5 \end{cases}$   
10

20. 최고차항의 계수가 1인 사차함수  $f(x)$ 와 상수  $k$ 에 대하여 구간  $(-\infty, t]$ 에서 함수  $f(x)$ 의 최솟값을  $m_1$ ,  $[t, \infty)$ 에서 함수  $f(x)$ 의 최솟값을  $m_2$ 라 하고,  $g(t) = |m_1 - m_2|$ 라 하자. 이때 함수  $g(t)$ 는 다음 조건을 만족시킨다.

- $g(t) = k$ 를 만족하는 모든 실수  $t$ 의 집합은  $\{t | t = -5 \text{ 또는 } -2 \leq t \leq 0\}$ 이다.

$f(0) = 0$ 일 때,  $k + f(3)$ 의 값은?

$f(x) = x^4(x+2)(x+5)$   
 $f(x) = 4x^3 + 21x^2 + 10x$   
 $f(-4) = -32 \dots k = 32 \dots \textcircled{1}$   
 $f(3) = 360 \dots \textcircled{2}$   
392

12. 최고차항의 계수가 1인 삼차함수  $f(x)$ 에 대하여

$g(x) = \int_0^x |f'(t)| dt - x$ 이다. 이때, 함수  $g(x)$ 가 다음 조건을 만족한다.

- (가) 상수  $k$ 에 대하여 함수  $|g(x)-k|$ 가 실수 전체의 집합에서 미분가능하다.  
 (나) 모든 실수  $x$ 에 대하여  $g(4-x) = -g(x)$ 이다.

$g(2)$ 의 값은?

- ① 5      ② 6      ③ 7      ④ 8      ⑤ 9

$g(x) > 0 \Rightarrow (2, k)$  대칭

$g'(x) = |f'(x)| - 1$   
 $\hookrightarrow 3(x-2)^2 + 1$

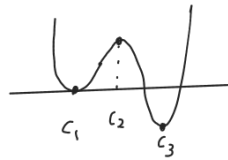
$g(x) = (x-2)^3 + 8$

$g(2) = 8$       4번

22. 최고차항의 계수가 양수인 사차함수  $f(x)$ 에 대하여 방정식  $f(x) = f(t)$ 의 서로 다른 실근의 개수를  $g(t)$ 라 할 때, 두 함수가 다음 조건을 만족한다.

- (가)  $\lim_{t \rightarrow c} g(t) > g(c)$ 인 실수  $c$ 의 개수는 3이고, 이를 작은 수부터 크기순으로 나열하면  $c_1, c_2, c_3$ 이다.  
 (나)  $\sum_{n=1}^3 c_n = 9$ 이고,  $c_1, c_2, c_3$ 는 모두 자연수이다.  
 (다) 함수  $|f(x) - f(c)|$ 는  $x=a$ 와  $x=b$ 에서만 미분가능하지 않다.

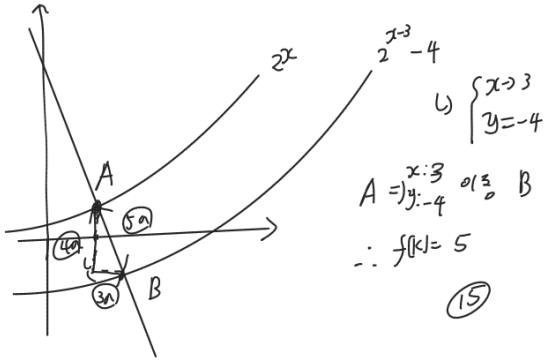
$c_2 + c_3$ 를 구하시오.



$(c_1, c_2 + c_3)$   
 $\Rightarrow \begin{cases} (1, 8) \Rightarrow c_2 = 2, c_3 = 6 \text{ 만가들} \\ (2, 7) \Rightarrow c_2 = 3, c_3 = 4 \text{ 전격 같음 (x)} \end{cases}$

8

9. 실수  $k$ 에 대하여 직선  $y = -\frac{4}{3}x + k$ 가 두 곡선  $y = 2^x$ ,  
 $y = 2^{x-3} - 4$ 와 만나는 두 점 사이의 거리를  $f(k)$ 라 할 때,  
 $f(0) + f(3) + f(9)$ 의 값은?



※ 오르비 IMIN 1257549님이 만들었습니다.  
 ○ 답안지의 해당란에 필요한 내용을 정확히 기입(표기)했는지 확인하십시오.



