

제 2 교시

수학 영역

만든놈: crazy_hansuckwon (인스타)

5 지선 다형

$\sqrt{a} \times \sqrt{b} = \sqrt{ab}$ 이용 (a>0, b>0)

1. $\sqrt{\frac{12}{5}} \times \sqrt{\frac{5}{3}}$ 의 값은? [2점]

a<0, b<0인 경우는 '절댓값' 관계에서 ??

- ① 1 ② 2 ③ 3 ④ 4 ⑤ 5

$$\sqrt{\frac{12}{5}} \times \sqrt{\frac{5}{3}} = \sqrt{4} = \boxed{2}$$

필요한 항만 뽑아서 ~ 다 전개해도 되는데 굳어?

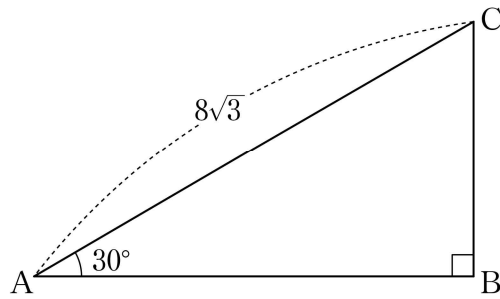
2. 다항식 $(2x+1)^2 - (2x^2+x-1)$ 의 일차항의 계수는? [2점]

- ① 1 ② 2 ③ 3 ④ 4 ⑤ 5

$$\left. \begin{array}{l} (2x+1)^2 \text{ 일차항 계수 } 4 \\ (2x^2+x-1) \text{ 일차항 계수 } 1 \end{array} \right\} 4-1 = \boxed{3}$$

$\frac{2}{\sqrt{3}}$ 이용 ~

3. 그림과 같이 $\overline{AC} = 8\sqrt{3}$, $\angle A = 30^\circ$, $\angle B = 90^\circ$ 인 직각삼각형 ABC에서 선분 AB의 길이는? [2점]



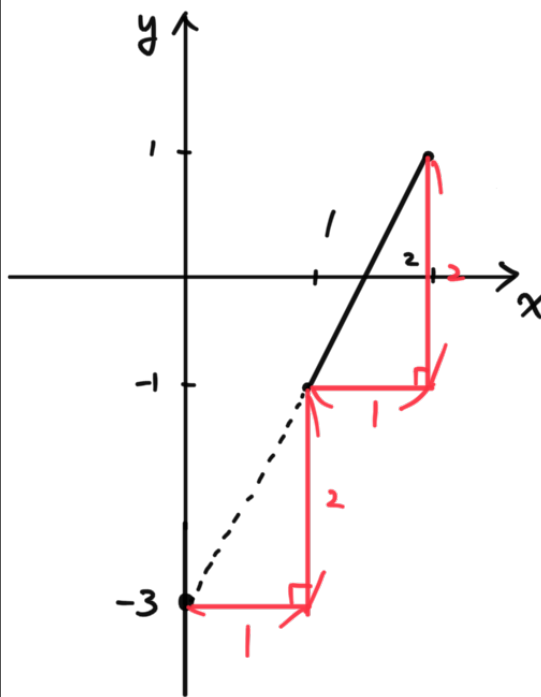
- ① 9 ② 10 ③ 11 ④ 12 ⑤ 13

$$\frac{\overline{AB}}{8\sqrt{3}} = \cos 30^\circ = \frac{\sqrt{3}}{2} \text{ 이므로 } \overline{AB} = \boxed{12}$$

일차항수: 기울기 중요!

4. 좌표평면 위의 두 점 (1, -1), (2, 1)을 지나는 직선의 y절편은? [3점]

- ① -3 ② -2 ③ -1 ④ 0 ⑤ 1



∴ y절편 $\boxed{-3}$

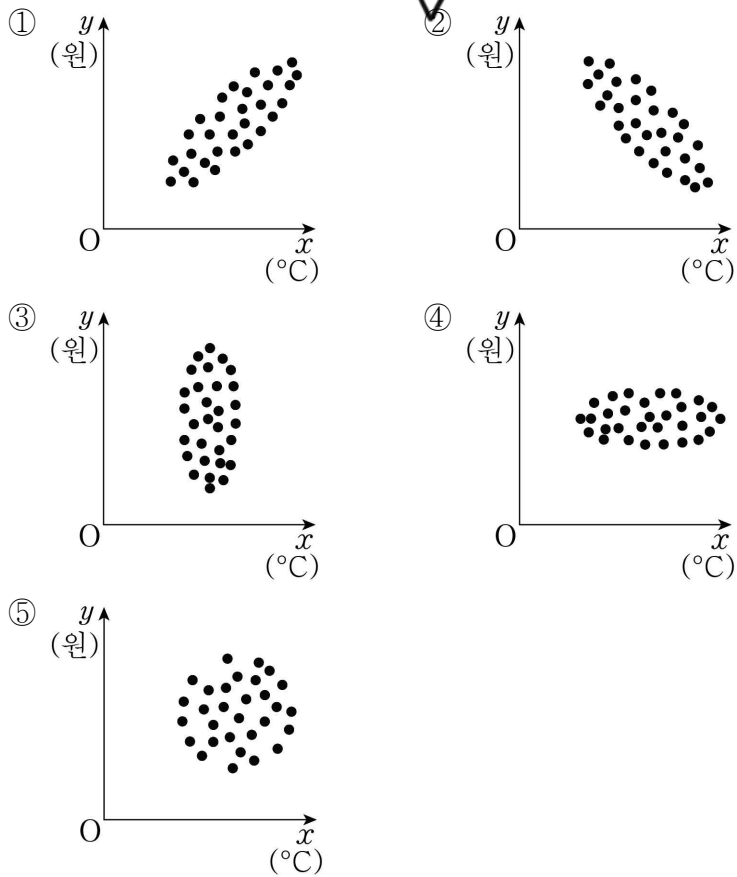
* 부왕으로 $y = mx + n$ 잡고 (1, -1), (2, 1) 대입해도 됨

와 상관관계도 개념만

모르는 건 하자...

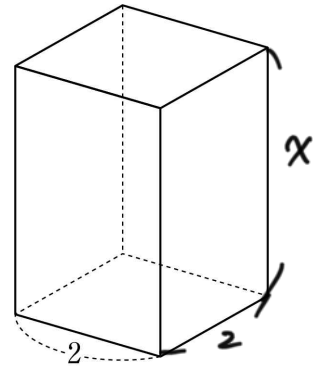
5. 어느 회사가 위치한 지역의 일일 최저 기온(°C)과 이 회사의 일일 난방비(원)를 30일 동안 조사한 결과, 일일 최저 기온이 높을수록 일일 난방비가 감소한다고 한다. 일일 최저 기온을 x °C, 일일 난방비를 y 원이라 할 때, x 와 y 사이의 상관관계를 나타낸 산점도로 가장 적절한 것은? [3점]

$x \uparrow \rightarrow y \downarrow$



7. 한 변의 길이가 2인 정사각형을 밑면으로 하는 직육면체의 부피가 12일 때, 이 직육면체의 겹넓이는? [3점]

- ① 24
- ② 26
- ③ 28
- ④ 30
- ⑤ 32



부피가 12 : $2 \times 2 \times x = 12$ $\therefore x = 3$

겹넓이 : $2 \times (2 \times 2) + 4 \times (2 \times x)$

$= 8 + 8x$ 이므로 $x = 3$ 에서

㉠ 32

중심각 = 원주각 $\times 2$ 중요! 앞으로 계속 사용

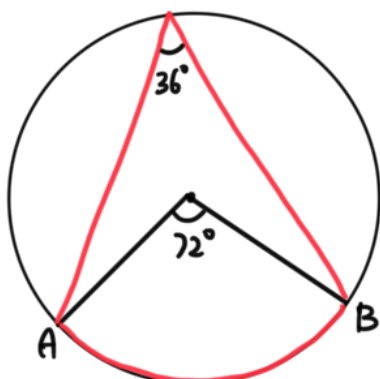
6. 원 위의 두 점 A, B에 대하여 호 AB의 길이가 원의 둘레의 길이의 $\frac{1}{5}$ 일 때, 호 AB에 대한 원주각의 크기는? [3점]

- ① 36°
- ② 40°
- ③ 44°
- ④ 48°
- ⑤ 52°

원의 호의 길이는 중심각의 크기에 비례

\Rightarrow 호의 원주각 $\frac{1}{5} \Rightarrow$ 중심각도 360° 의 $\frac{1}{5} \Rightarrow 72^\circ$

(부채꼴은 원의 일부분 뿐 원과 성질이 동일하다)



동일한 호에 대해
 중심각 = $2 \times$ 원주각 이므로
 원주각 = 36°

고 1

수학 영역

만든놈: crazy_hansuckwon (인스타) ³

키가 좀 많이 큰 반이네요..

8. 다음은 어느 학급 학생 25 명을 대상으로 키를 조사하여 나타낸 도수분포표이다.

키(cm)	학생 수(명)
150 이상 ~ 160 미만	a
160 ~ 170	8
170 ~ 180	b
180 ~ 190	6
합계	25

이 학생들 중에서 키가 170cm 미만인 학생 수가 조사한 학생 수의 40% 일 때, 키가 170cm 이상 180cm 미만인 학생 수는? [3점]

- ① 7 ② 8 ③ 9 ④ 10 ⑤ 11

총 조사한 학생의 40%

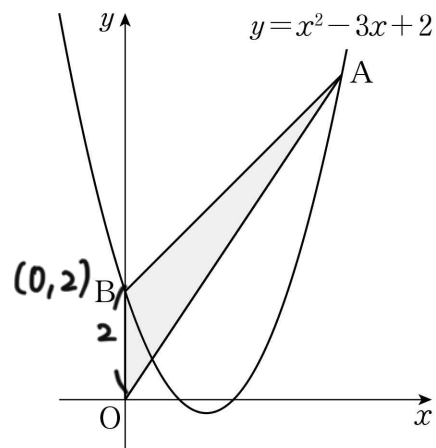
$\Rightarrow 25 \times \frac{2}{5} = 10 \therefore 150 \sim 170$ 10명

곧 $a+8 = 10$ 이어서 $a=2$ 이고, $\textcircled{3} b=9$

무엇을 밑변으로 둘 것인가?

10. 그림과 같이 제1사분면 위의 점 A(a, b)는 이차함수

$y = x^2 - 3x + 2$ 의 그래프 위에 있다. 이 이차함수의 그래프가 y축과 만나는 점 B에 대하여 삼각형 OAB의 넓이가 4일 때, a+b의 값은? (단, O는 원점이다.) [3점]



- ① 7 ② 8 ③ 9 ④ 10 ⑤ 11

B(0,2)에 대해 $\overline{OB} = 2$ 를 밑변으로 생각

$\Rightarrow \Delta OAB = \frac{1}{2} \times \overline{OB} \times \text{높이} = 4$ 이어서 $\text{높이} = 4$ 이고 이는

A의 x좌표이다.

$\therefore A(4,6)$ 이므로 (\because 점 A는 $y = x^2 - 3x + 2$ 위의 점)

$\textcircled{4} a+b = 10$

그저 교정 → 대입

9. 두 일차방정식 $ax + 2y - b = 0$, $2ax + by - 3 = 0$ 의 그래프의 교점의 좌표가 (2, 1)일 때, a+b의 값은? (단, a, b는 상수이다.) [3점]

- ① $\frac{3}{2}$ ② 2 ③ $\frac{5}{2}$ ④ 3 ⑤ $\frac{7}{2}$

$ax + 2y - b = 0 \xrightarrow{(2,1)\text{대입}} 2a + 2 - b = 0$

$2ax + by - 3 = 0 \xrightarrow{(2,1)\text{대입}} 4a + b - 3 = 0$

$\therefore 2a - b = -2, 4a + b = 3$ 을 연립하면

$a = \frac{1}{6}, b = \frac{7}{3}$

$\textcircled{3} a+b = \frac{5}{2}$

4

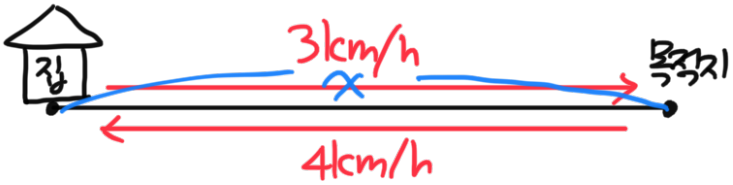
수학 영역

고 1

거리, 속도, 시간 사이의 관계

11. 어느 학생이 집에서 출발하여 갈 때는 시속 3km로, 집으로 돌아올 때는 같은 경로를 시속 4km로 이동하려고 한다. 이동한 전체 시간이 2시간 이하가 되도록 할 때, 이 학생이 집에서 출발하여 집으로 돌아올 때까지 이동한 거리의 최댓값은? [3점]

- ① $\frac{45}{7}$ km ② $\frac{48}{7}$ km ③ $\frac{51}{7}$ km
- ④ $\frac{54}{7}$ km ⑤ $\frac{57}{7}$ km



시간 = $\frac{\text{거리}}{\text{속도}}$ 이서 거리를 x 로 두면 (단위: km)

$$\left. \begin{array}{l} \text{① 가는데 걸린시간} : \frac{x}{3} \\ \text{② 오는데 걸린시간} : \frac{x}{4} \end{array} \right\} \frac{x}{3} + \frac{x}{4} \leq 2$$

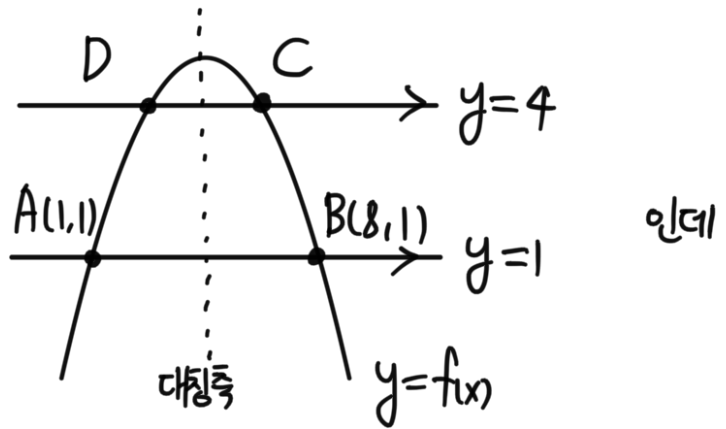
$\Rightarrow x \leq \frac{24}{7}$ 이므로 집까지 돌아온 거리까지 계산하면

$$\text{㉠ } 2x \leq \frac{48}{7}$$

이차함수의 대칭성. 굳이 이차함수 식부터 구하려고 하지말라

12. 이차함수 $y=f(x)$ 의 그래프 위의 서로 다른 네 점 $A(1, 1)$, $B(8, 1)$, $C(6, 4)$, $D(a, b)$ 에 대하여 $\overline{AB} \parallel \overline{CD}$ 일 때, $a+b$ 의 값은? [3점]

- ① 5 ② 6 ③ 7 ④ 8 ⑤ 9



대칭성에 의해 $\frac{1+8}{2} = \frac{6+a}{2} \therefore a=3$
 점 D의 y좌표는 C와 동일한 4이다.

$$\therefore \text{㉠ } a+b = \boxed{7}$$

고 1

수학 영역

5
만든놈: crazy_hansuckwon (인스타)

문제는 종종 '자연수' a, b이다.

경우의 수 늘기만 하라는 일차방정식

13. 두 자연수 a, b 에 대하여 다항식 $2x^2 + 9x + k$ 가 $(2x+a)(x+b)$ 로 인수분해되도록 하는 실수 k 의 최솟값은?

- ① 1 ② 4 ③ 7 ④ 10 ⑤ 13 [3점]

$2x^2 + 9x + k \Rightarrow (2x+a)(x+b)$ 이므로
 $\begin{matrix} 2 & \times & b \\ 1 & & a \end{matrix}$ $2a+b=9, ab=k$

(물론 당연히 $(2x+a)(x+b)$ 전개해서 계수비교해서 맞출음)

$2a+b=9$ 를 만족하는 자연수의 순서쌍 (a, b)

$\Rightarrow (1, 7), (2, 5), (3, 3), (4, 1)$

각각의 경우 $ab=k$ 는 7, 10, 9, 4 이므로

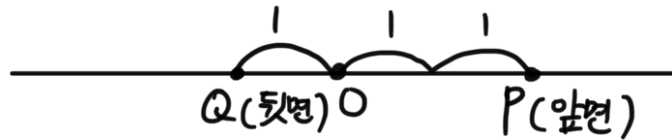
⊕ 실수 k 의 최솟값은 **4**

14. 수직선 위의 두 점 P, Q가 원점에 있다. 동전을 한 번 던질 때마다 두 점 P, Q가 다음 규칙에 따라 이동한다.

- (가) 동전의 앞면이 나오면 점 P가 양의 방향으로 2만큼 이동한다.
 (나) 동전의 뒷면이 나오면 점 Q가 음의 방향으로 1만큼 이동한다.

동전을 30번 던진 후 두 점 P, Q 사이의 거리가 46일 때, 동전의 앞면이 나온 횟수는? [4점]

- ① 12 ② 13 ③ 14 ④ 15 ⑤ 16



동전의 앞면이 나온 횟수를 x 로 두고, 뒷면을 y 로 두면

$x+y=30 \dots \textcircled{1}$

앞면이 나오면 두 점 P, Q 사이의 거리는 2만큼 벌어지고,
 뒷면이 나오면 " 1 "

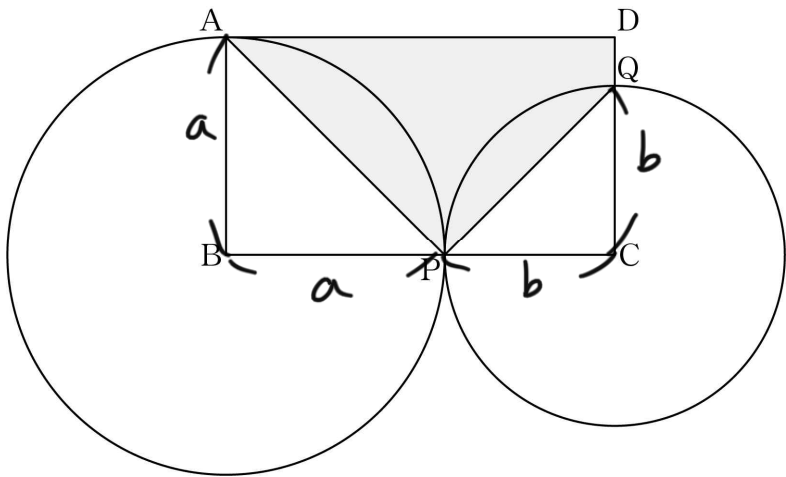
$\Rightarrow 2x+y=46 \dots \textcircled{2}$

①과 ②를 연립하면 $x=\boxed{16}$

주어진 넓이를 어떻게 구할 것인가??

같이, 각 꼭실히 표기

15. 그림과 같이 $\overline{AB}=a$ ($4 < a < 8$), $\overline{BC}=8$ 인 직사각형 ABCD가 있다. 점 B를 중심으로 하고 점 A를 지나는 원이 선분 BC와 만나는 점을 P, 점 C를 중심으로 하고 점 P를 지나는 원이 선분 CD와 만나는 점을 Q라 하자. 사각형 APQD의 넓이가 $\frac{79}{4}$ 일 때, a 의 값은? [4점]



- ① $\frac{25}{6}$
- ② $\frac{13}{3}$
- ③ $\frac{9}{2}$
- ④ $\frac{14}{3}$
- ⑤ $\frac{29}{6}$

$\overline{AB} = \overline{BP} = a$, $\overline{CP} = \overline{CQ} = b$ 로 두면

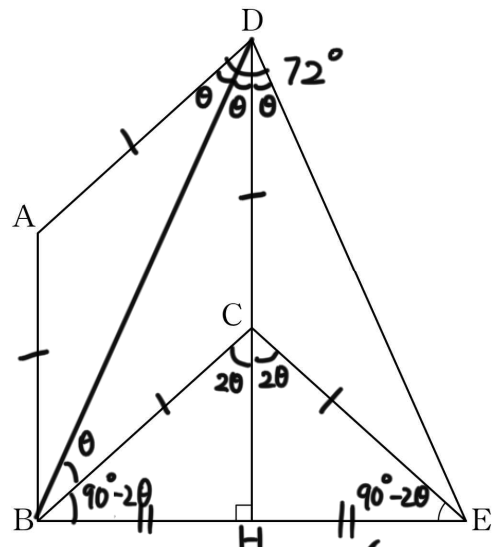
$$\begin{aligned} \square APQD &= \square - \triangle - \triangle \\ &= a(a+b) - \frac{1}{2}a^2 - \frac{1}{2}b^2 \\ &= \frac{1}{2}a^2 + ab - \frac{1}{2}b^2 \\ &= \frac{1}{2}(a^2 + 2ab - b^2) = \frac{79}{4} \end{aligned}$$

곧 $a^2 + 2ab - b^2 = (a+b)^2 - 2b^2 = \frac{79}{2}$ 이기 $a+b=8$ 이므로

$$64 - 2b^2 = \frac{79}{2} \quad \therefore b = \frac{7}{2} \quad (b > 0)$$

$$\textcircled{7} a = 8 - b = \frac{9}{2}$$

16. 그림과 같이 마름모 ABCD와 이 마름모의 외부의 한 점 E에 대하여 $\angle ADE = 72^\circ$ 이고 직선 CD가 선분 BE를 수직이등분할 때, 각 CEB의 크기는? (단, $0^\circ < \angle ADC < 72^\circ$) [4점]



- ① 39°
- ② 40°
- ③ 41°
- ④ 42°
- ⑤ 43°

C에서 BE에 내린 수선이 BE를 수직이등분한다. (수선의 발 H)
 $\Rightarrow \triangle CBE$ 는 $\overline{BC} = \overline{CE}$ 인 이등변 \triangle

$\square ABCD$ 는 마름모이므로 $\overline{AB} = \overline{BC} = \overline{CD} = \overline{DA}$ 이고, $\overline{BC} = \overline{CE}$ 이므로
 $\triangle ABD, \triangle CBD, \triangle CDE$ 모두 합동이다.

$\therefore \angle ADB = \theta$ 로 두면 $\angle BDC = \theta, \angle CDE = \theta$ 이므로
 $3\theta = 72^\circ$ 에서 $\theta = 24^\circ$

곧 $\angle BCH = \angle ECH = 2\theta$ 이고 (\because 삼각형의 두 내각 크기 합 = 한외각)

$$\textcircled{7} \angle CEB = 90^\circ - 2\theta = 42^\circ$$

고 1

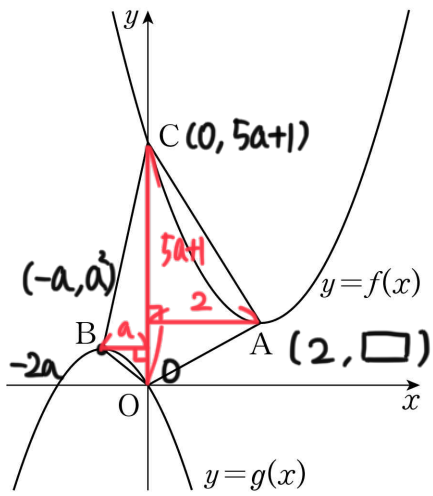
수학 영역

만든놈: crazy_hansuckwon⁷(인스타)

10번이상 비슷함. 날개 별로 없었나봐

17. 두 이차함수 $f(x) = ax^2 - 4ax + 5a + 1$, $g(x) = -x^2 - 2ax$ 의 그래프의 꼭짓점을 각각 A, B라 하자. 이차함수 $y = f(x)$ 의 그래프가 y 축과 만나는 점 C에 대하여 사각형 OACB의 넓이가 7일 때, 양수 a 의 값은? (단, O는 원점이다.) [4점]

- ① $\frac{2}{5}$ ② $\frac{1}{2}$ ③ $\frac{3}{5}$ ④ $\frac{7}{10}$ ⑤ $\frac{4}{5}$



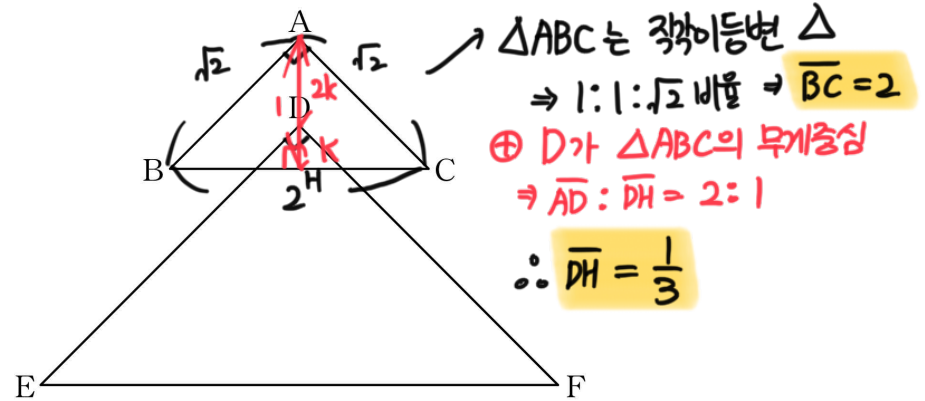
OC를 밑변으로 생각하면 □OACB의 넓이는 △OBC + △OAC로 생각할 수 있고, |BC|의 x좌표, |AC|의 x좌표를 각각 높이로 생각가능.

$$\Rightarrow \frac{1}{2} \times (5a+1) \times a + \frac{1}{2} \times (5a+1) \times 2$$

$$= \frac{1}{2} (5a+1)(a+2) = 7 \text{ 이므로 } a = \frac{4}{5} \quad (a > 0)$$

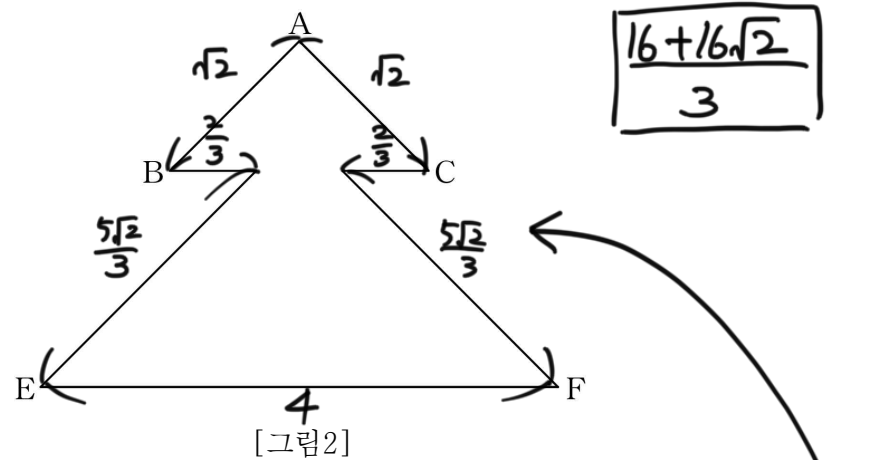
많은 열심히 이공~

18. [그림1]과 같이 $\overline{AB} = \overline{AC} = \sqrt{2}$, $\angle CAB = 90^\circ$ 인 삼각형 ABC의 무게중심 D에 대하여 $\overline{DE} = \overline{DF} = 2\sqrt{2}$, $\angle FDE = 90^\circ$ 이고 $\overline{BC} \parallel \overline{EF}$ 인 삼각형 DEF가 있다.



[그림1]

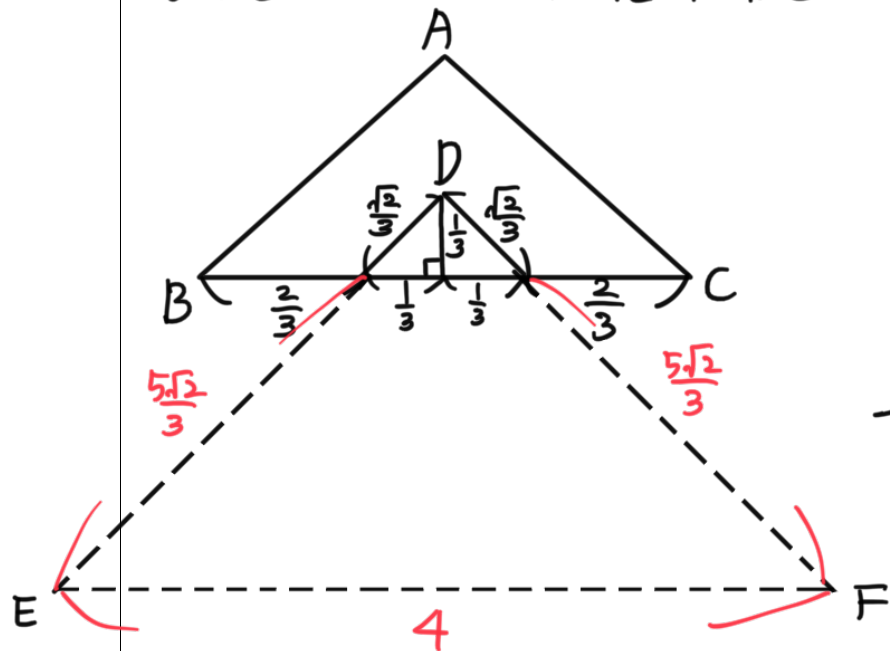
[그림2]와 같이 두 삼각형 ABC와 DEF로 만들어지는 모양 도형의 둘레의 길이는? (단, 점 A는 삼각형 DEF의 외부에 있다.) [4점]



[그림2]

- ① $\frac{16+16\sqrt{2}}{3}$ ② $\frac{17+16\sqrt{2}}{3}$ ③ $\frac{16+17\sqrt{2}}{3}$
 ④ $\frac{17+17\sqrt{2}}{3}$ ⑤ $\frac{18+17\sqrt{2}}{3}$

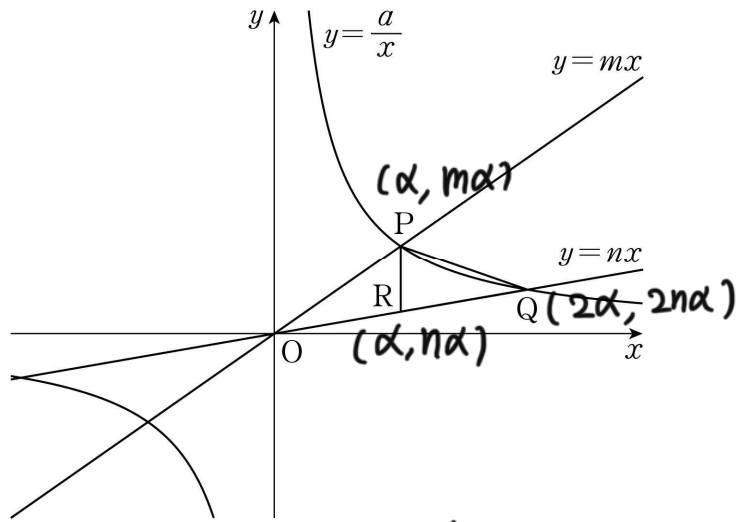
∴ 곧 △의 비중에 맞춰 길이를 다 써보면 다음과 같다.



알 수 있는 좌표 & 관계식 다 쓰다 보면 인연이 풀림

19. 그림과 같이 반비례 관계 $y = \frac{a}{x}$ ($a > 0$)의 그래프가 두

정비례 관계 $y = mx$, $y = nx$ 의 그래프와 제1사분면에서 만나는 점을 각각 P, Q라 하자. 점 P를 지나고 y축과 평행한 직선이 정비례 관계 $y = nx$ 의 그래프와 만나는 점 R에 대하여 삼각형 PRQ의 넓이가 $\frac{3}{2}$ 이다. 점 Q의 x좌표가 점 P의 x좌표의 2배일 때, 실수 a의 값은? (단, $m > n > 0$) [4점]



- ① 1 ② 2 ③ 3 ④ 4 ⑤ 5

$P(\alpha, m\alpha)$ 로 두면 이 점은 $y = \frac{a}{x}$ 위의 점이므로 $m\alpha = \frac{a}{\alpha}$

$\Rightarrow m\alpha^2 = a \dots ①$

R은 PR이 y축에 평행하므로 $R(\alpha, n\alpha)$ 로 들 수 있고, Q의 x좌표는 P의 두 배이므로 $Q(2\alpha, 2n\alpha)$ 로 들 수 있다.

\Rightarrow 마찬가지로 $y = \frac{a}{x}$ 위의 점이므로 $2n\alpha = \frac{a}{2\alpha}$

$\Rightarrow 4n\alpha^2 = a \dots ②$

곧 $m\alpha^2 = 4n\alpha^2 = a$ 이므로 $m = 4n$ 이다.

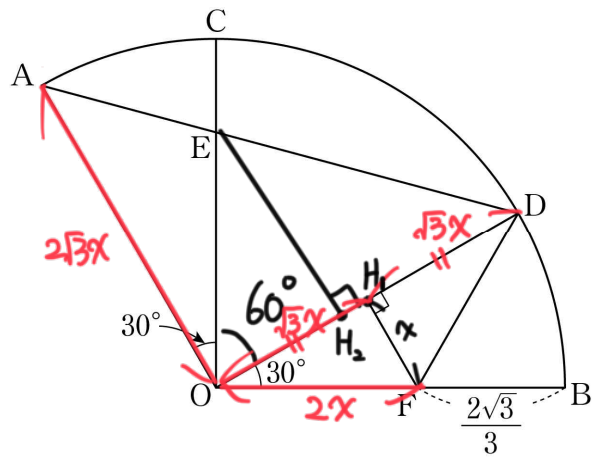
$\Delta PQR = \frac{1}{2} \times (m\alpha - n\alpha) \times \alpha = \frac{3}{2}$ 이므로 $\alpha^2(m-n) = 3$ 이고, $m = 4n$ 이므로 $\alpha^2(4n-n) = \alpha^2 \cdot 3n = 3$

$\therefore n\alpha^2 = 1 \dots ③$

결국 ②이 ③을 대입하면 ⑦ $a = 4$

삼각형에서 수선의 중요성! 문제 7초은듯

20. 그림과 같이 중심이 O이고 중심각의 크기가 120° 인 부채꼴 OAB가 있다. $\angle AOC = \angle DOB = 30^\circ$ 인 호 AB 위의 두 점 C, D에 대하여 선분 OC와 선분 AD가 만나는 점을 E라 하자. 선분 OD의 수직이등분선과 선분 OB가 만나는 점 F에 대하여 $\overline{BF} = \frac{2\sqrt{3}}{3}$ 일 때, 삼각형 ODE의 넓이는? [4점]



- ① $\frac{3+\sqrt{3}}{2}$ ② $\frac{4+\sqrt{3}}{2}$ ③ $\frac{3+2\sqrt{3}}{2}$
 ④ $2+\sqrt{3}$ ⑤ $\frac{3+3\sqrt{3}}{2}$

길이를 알고 있는 것이 거의 없으니 적당한 값 x로 두자.

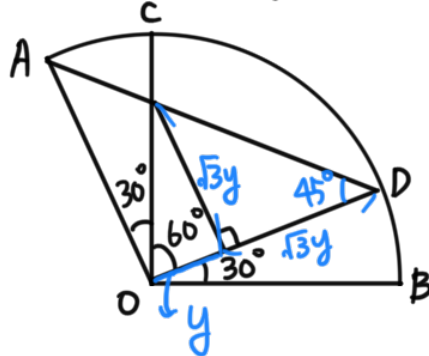
$\overline{FH} = x$ 로 두면 ΔOFH , 여기서 $\angle H, OF = 30^\circ$ 이므로 $\overline{OH} = \sqrt{3}x$
 \overline{OD} 의 수직이등분선과 \overline{OD} 의 교점이 H, 이므로 $\overline{OH} = \overline{HD} = 2\sqrt{3}x$

\therefore 부채꼴의 반지름: $2\sqrt{3}x$

이때 ΔOFH , 여기서 $\overline{OF} = 2x$ 이므로 $2x + \frac{2\sqrt{3}}{3} = 2\sqrt{3}x$
 $\overline{OF} + \overline{FB}$ 반지름

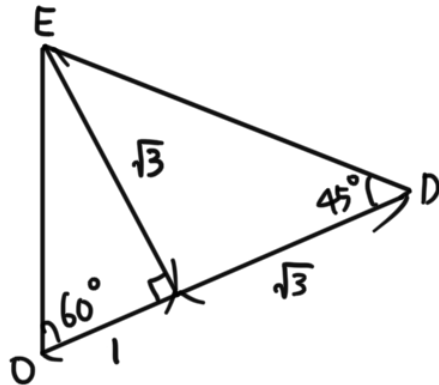
$\Rightarrow x = \frac{3+\sqrt{3}}{6}$

이제 $\overline{OH} = y$ 로 두면 ΔAOD 이 직각이등변 Δ 이므로 $\angle ADO = 45^\circ$



$\Rightarrow \overline{OD} = (\sqrt{3}+1)y$ 이므로
 $(\sqrt{3}+1)y = 2\sqrt{3}x = \sqrt{3}+1$ 이다.
 $\therefore y = 1$

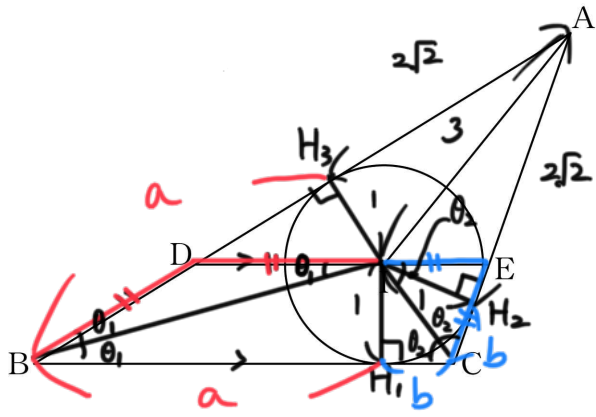
결국 ⑦



ΔODE
 $= \frac{1}{2} \times (1+\sqrt{3}) \times \sqrt{3}$
 $= \frac{\sqrt{3}+3}{2}$

보통 7, L, C 문제는 7이 L쪽에 도는걸, L이 C쪽에 도는 경우가 많음. 이 문제도 그렇음

21. 그림과 같이 삼각형 ABC의 내심 I를 지나고 선분 BC에 평행한 직선이 두 선분 AB, AC와 만나는 점을 각각 D, E라 하자. $\overline{AI}=3$ 이고, 삼각형 ABC의 내접원의 반지름의 길이가 1이다. 삼각형 ABC의 넓이가 $5\sqrt{2}$ 일 때, <보기>에서 옳은 것만을 있는 대로 고른 것은? [4점]



- < 보기 >
- ㉠ $\angle BID = \angle IBD$
 - ㉡ 삼각형 ADE의 둘레의 길이는 $7\sqrt{2}$ 이다.
 - ㉢ $\overline{DE} = 2\sqrt{2}$

- ① ㉠ ② ㉠, ㉡ ③ ㉠, ㉢
 ④ ㉡, ㉢ ⑤ ㉠, ㉡, ㉢

7. $\overline{BC} \parallel \overline{DE}$ 이므로 $\angle DIB$ 와 $\angle IBH_1$ 은 엇각이다.
 $\Rightarrow \angle DIB = \angle IBH_1$ 이고, $\overline{BH_3}$ 과 $\overline{BH_1}$ 모두 내접원에
 고른 접선이므로 $\triangle IBH_3$ 과 $\triangle IBH_1$ 은 합동이다.
 $\Rightarrow \angle IBD = \angle IBH_1$

$\therefore \angle BID = \angle IBH_1 = \angle IBD$
 $\Rightarrow \angle BID = \angle IBD$

L. 7선상에 의해 $\overline{DB} = \overline{DI}$ 이고, 마찬가지로 논할 $\triangle ICE$
 에도 적용가능 $\Rightarrow \overline{IE} = \overline{CE}$ 이다.

곧 $\triangle ADE$ 의 둘레의 길이 : $\overline{AD} + \overline{AE} + \overline{DE}$ 에서
 $\Rightarrow \overline{AD} + \overline{AE} + \overline{DI} + \overline{IE}$
 $\Rightarrow \overline{AD} + \overline{AE} + \overline{DB} + \overline{CE} = \overline{AB} + \overline{AC}$

이때 한 변의 길이가 각각 a, b, c이고 내접원의 반지름이 r인
 \triangle 의 넓이 : $\frac{1}{2}r(a+b+c)$ 이므로 $5\sqrt{2} = \frac{1}{2} \times 1 \times ((2\sqrt{2}+a) + (2\sqrt{2}+b) + (a+b))$

$\therefore a+b = 3\sqrt{2}$ 이고, $\textcircled{7} \overline{AB} + \overline{AC} = (2\sqrt{2}+a) + (2\sqrt{2}+b)$
 $= 4\sqrt{2} + a + b$
 $= 7\sqrt{2}$

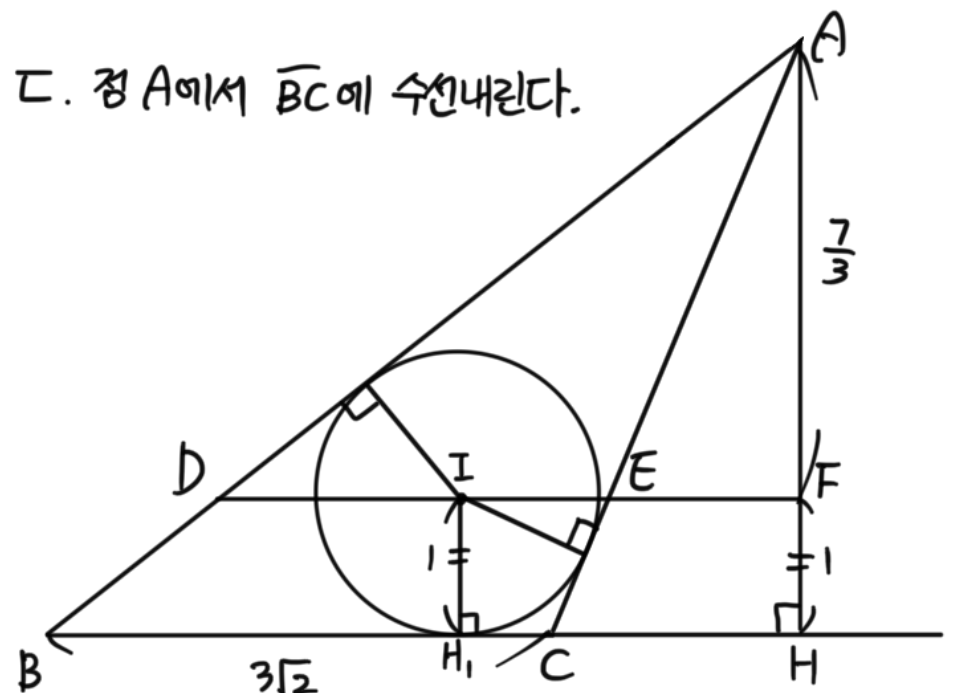
단답형

22. 이차방정식 $x^2 - 2ax + 5a = 0$ 의 한 근이 $x=3$ 일 때, 상수 a의 값을 구하시오. [3점]

그냥 $x=3$ 대입
 $\Rightarrow 9 - 6a + 5a = 0$
 $\Rightarrow a = 9$

연립해보라 ~
 23. 연립일차방정식 $\begin{cases} x-y=4 \\ 2x+y=11 \end{cases}$ 의 해가 $x=a, y=b$ 일 때,
 $a+b$ 의 값을 구하시오. [3점]

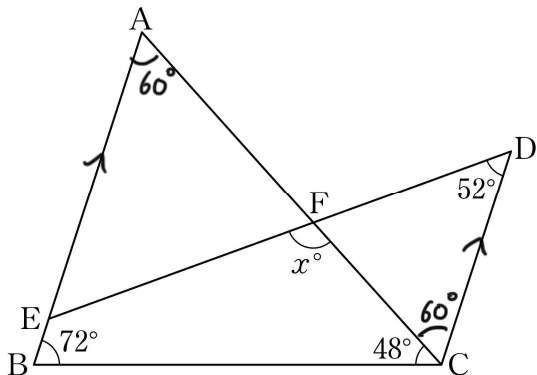
두식을 더하면 $3x=15 \therefore x=5, y=1$
 $\textcircled{7} a+b = 6$



L에서 $a+b = \overline{BC} = 3\sqrt{2}$ 이므로
 $\triangle ABC = \frac{1}{2} \times \overline{BC} \times \overline{AH} \Rightarrow 5\sqrt{2} = \frac{1}{2} \times 3\sqrt{2} \times \overline{AH}$
 $\therefore \overline{AH} = \frac{10}{3}$ 이고, $\overline{IH_1} = \overline{FH} = 1$ 이므로 $\overline{AF} = \frac{7}{3}$
 곧 $\overline{AF} : \overline{AH} = \frac{7}{3} : 10 = 7 : 10$ 이고, 이는 $\triangle ADE$ 와 $\triangle ABC$ 길이
 비례 동일 $\Rightarrow \overline{DE} : \overline{BC} = 7 : 10$
 $\overline{BC} = 3\sqrt{2}$ 이므로 $\overline{DE} = \frac{7}{10} \times 3\sqrt{2} \therefore \textcircled{7} \frac{21}{10}\sqrt{2}$

평행선 → 각/평각 등 영득해 주시길!

24. 그림과 같이 $\angle B = 72^\circ$, $\angle C = 48^\circ$ 인 삼각형 ABC가 있다. 점 C를 지나고 직선 AB에 평행한 직선 위의 점 D와 선분 AB 위의 점 E에 대하여 $\angle CDE = 52^\circ$ 이다. 선분 DE와 선분 AC의 교점을 F라 할 때, $\angle EFC = x^\circ$ 이다. x 의 값을 구하시오. (단, $\angle BCD > 90^\circ$ 이고, 점 E는 점 A가 아니다.) [3점]



$\angle BAC = 60^\circ$ ($\triangle ABC$ 의 내각의 합 180°)
 \overline{AB} 과 \overline{CD} 가 평행하므로 $\angle BAC$ 과 $\angle ACD$ 는 외각 $\Rightarrow \angle ACD = 60^\circ$
 \triangle 의 두 내각의 합 = 한 외각의 크기 = x° 이므로

$$\begin{aligned} \textcircled{+} x^\circ &= 60^\circ + 52^\circ \\ &= \boxed{112^\circ} \end{aligned}$$

케이스분류해서 열심히! 세보시면 됩니다

25. 한 개의 주사위를 두 번 던져서 나오는 눈의 수를 차례로 a, b 라 할 때, $a+b$ 가 14의 약수가 되도록 하는 모든 순서쌍 (a, b) 의 개수를 구하시오. [3점]

14의 약수 : 1, 2, 7, 14

여기서 두 눈의 합은 (1,1)일 때 2로 최소, (6,6)일 때 12로 최대
 \Rightarrow 2인 경우, 7인 경우만 check.

- i) 합 2인 경우: (1, 1) \rightarrow 1가지
- ii) 합 7인 경우: $\left. \begin{matrix} (1, 6) \\ (2, 5) \\ \vdots \\ (6, 1) \end{matrix} \right\} \textcircled{+} \boxed{6}$ 가지

이거 겁나 오래만는데... 중앙값이 6.5라는 것의 의미는?

26. 세 실수 a, b, c 에 대하여 다음 자료의 중앙값이 6.5, 평균이 6, 최빈값이 c 일 때, $a+b+c$ 의 값을 구하시오. [4점]

9, 5, 6, 4, 8, 1, a, b

알려져 있는 숫자를 작은 것부터 배열해보면

1 4 5 6 8 9 $\oplus a, b$

① 평균이 6이므로 $\frac{1+4+5+6+8+9+a+b}{8} = 6$

$\therefore a+b = 15$

② 중앙값이 6.5이므로 6보다 큰 수 중 가장 작은 수는 7이다.

(\because 총 배열의 개수 8개인데 6보다 작은 배열이 이미 3개.
 \Rightarrow 만약 6보다 작은 배열이 a, b 중 있으면 중앙값 6.5 불가능)
 곧 a, b 둘 중 하나는 7이고, $a+b=15$ 이므로 나머지는 8이다.

$\therefore 1, 4, 5, 6, 7, \textcircled{8}, \textcircled{8}, 9$

최빈값 : 8

$$\begin{aligned} \textcircled{+} a+b+c &= 15+8 \\ &= \boxed{23} \end{aligned}$$

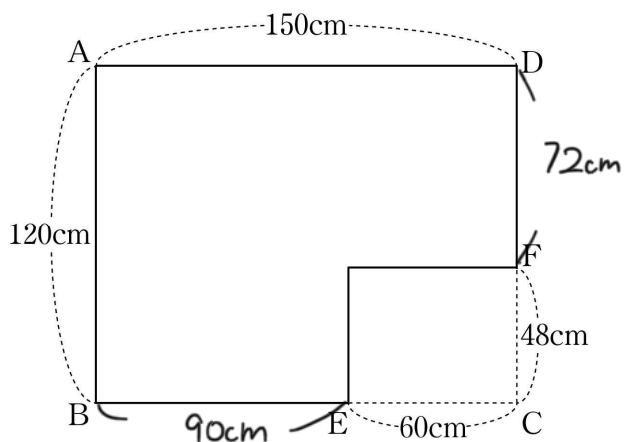
고 1

수학 영역

마지막 계산 너무 어려워요 선생님들 TTT 조건해석 잘 해보시길

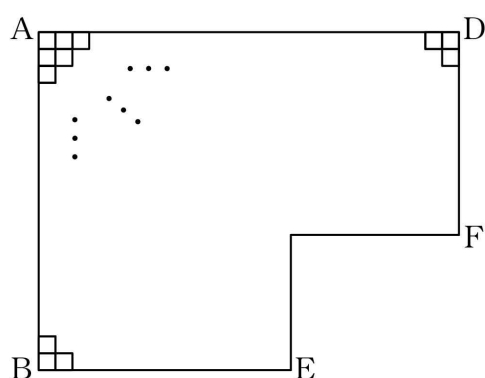
정당한 소인수에 4번이 되면 소인수들 가능

27. 가로 길이가 150cm, 세로 길이가 120cm인 직사각형 ABCD 모양의 종이가 있다. [그림1]과 같이 $\overline{CE}=60$ cm인 선분 BC 위의 점 E와 $\overline{CF}=48$ cm인 선분 CD 위의 점 F에 대하여 두 선분 CE, CF를 변으로 하는 직사각형 모양의 종이를 잘라내고 남은 □ 모양의 종이를 만들었다.



[그림1]

[그림2]와 같이 □ 모양의 종이의 내부에 한 변의 길이가 자연수이고 모두 합동인 정사각형 모양의 종이를 서로 겹치지 않고 빈틈없이 붙이려고 할 때, 붙일 수 있는 종이의 개수의 최솟값을 구하시오. [4점]



[그림2]

종이를 빈틈없이 붙이려면

- ① 90cm의 길이를 빈틈없이 덮어야 함 → 한 변의 길이 90의 약수
- ② 72 " → " 72의 약수
- ③ 48 " → " 48의 약수
- ④ 60 " → " 60의 약수

곧 90, 72, 60, 48의 최대공약수를 생각해볼 수 있다.

⑥ $\begin{array}{r} 90 \ 72 \ 60 \ 48 \\ \hline 15 \ 12 \ 10 \ 8 \end{array}$ ⇒ 당연한 소리겠지만 6은 150, 120의 약수이므로 조건에 부합한다.

∴ 총 도형 넓이: $150 \times 120 - 60 \times 48$
 $= 2^4 \times 3^2 \times 5^3 - 2^6 \times 3^2 \times 5$
 $= 2^4 \times 3^2 \times 5 \times (5^2 - 2^2)$ 이고, 이를 한 변의 길이 6인 정사각형으로 채우므로

⑦ □의 개수: $2^4 \times 3^2 \times 5 \times 21 \div 36 = 36 \times 2^2 \times 3^2$
 $= 2^2 \times 5 \times 21$
 $= 420$

28. $p < q$ 인 두 소수 p, q 에 대하여 $p^2q < n \leq pq^2$ 을 만족시키는 자연수 n 의 개수가 308일 때, $p+q$ 의 값을 구하시오. [4점]

$p^2q < n \leq pq^2$ 인 자연수의 개수: $pq^2 - p^2q$
 $\Rightarrow pq(q-p) = 308!$

이제 뭐... 308 소인수분해해서 적당히 p 랑 q 찾으면 되는데

$\begin{array}{r} 2 \overline{)308} \\ \underline{2154} \\ 77 \\ \underline{77} \\ 0 \end{array}$ ⇒ $2^2 \times 7 \times 11$. 여기서 전강 $p=7, q=11$ 로 두면 $11-7=4$ 니까 $pq(q-p)=308$ 을 만족시킨다고 보고 넘어갔는데 제대로 해볼 때 다음 써보면

문제에서 p, q 는 모두 소수이지만 pq 는 당연히 소수가 아닙니다.

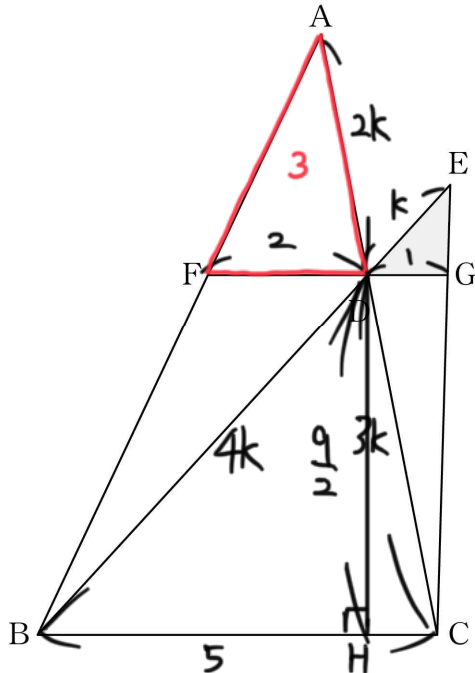
따라서 $pq = 2, 7, 11$ 은 불가능하고, $2^2, 2 \times 7, 2 \times 11, 7 \times 11$ 인데

- i) $pq = 2^2 \Rightarrow p=q=2$ (오답)
- ii) $pq = 2 \times 7 \Rightarrow p=2, q=7$ ∴ $q-p=5$ (오답)
- iii) $pq = 2 \times 11 \Rightarrow p=2, q=11$ ∴ $q-p=9$ (오답)
- iv) $pq = 7 \times 11 \Rightarrow p=7, q=11$ ∴ $q-p=4$ *

∴ ⊕ $p+q = 18$

답... 답... 또 답

29. 그림과 같이 삼각형 ABC의 선분 AC 위의 점 D와 직선 BD 위의 점 E에 대하여 $\overline{DE} : \overline{DA} : \overline{DB} = 1 : 2 : 4$ 이다. 점 D를 지나고 직선 BC와 평행한 직선이 두 선분 AB, EC와 만나는 점을 각각 F, G라 할 때, $\overline{FD} = 2$, $\overline{DG} = 1$ 이고 삼각형 AFD의 넓이가 3이다. 삼각형 EDG의 넓이가 $\frac{q}{p}$ 일 때, $p+q$ 의 값을 구하시오. (단, 점 E는 삼각형 ABC의 외부에 있고, p 와 q 는 서로소인 자연수이다.) [4점]



$\overline{DE} : \overline{DA} : \overline{DB} = 1 : 2 : 4$ 이므로
 $\overline{DE} : \overline{DA} : \overline{DB} = k : 2k : 4k$ 로 두자.

답을 덩어리임

- ① \overline{FG} 와 \overline{BC} 이 서로 평행하므로 $\triangle EDG$ 와 $\triangle EBC$ 는 닮음
 \Rightarrow 닮음비가 $1:5$ 이므로 $\overline{BC} = 5$
- ② 마찬가지로 $\triangle AFD$ 와 $\triangle ABC$ 는 닮음
 \Rightarrow 닮음비가 $2:5$ 이므로 $\overline{DC} = 3k$

곧 $\triangle AFD$ 와 $\triangle ABC$ 의 넓이비는 닮음비의 제곱이므로

$4 : 25 = 3 : \triangle ABC$
 $\Rightarrow \triangle ABC$ 의 넓이는 $\frac{75}{4}$ 이고, $\square FDCB = \triangle ABC - \triangle AFD$
 $\Rightarrow \frac{63}{4}$

$\square FDCB$ 의 넓이: $\frac{1}{2} \times (2+5) \times \overline{DH} = \frac{63}{4}$

$\therefore \overline{DH} = \frac{9}{2}$ ($\square FDCB$ 는 사다리꼴)

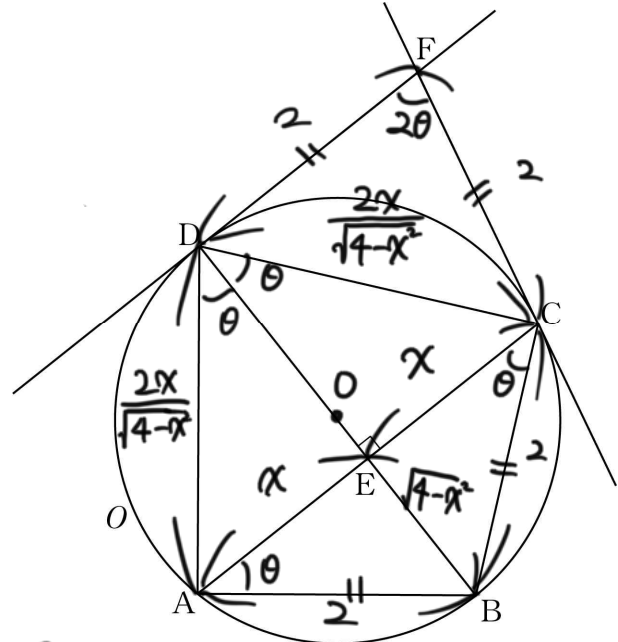
따라서 $\square DGCB$ 의 높이: $\frac{9}{2}$ 에서 $\triangle EDG$ 의 높이는 $\frac{1}{4} \times \frac{9}{2} = \frac{9}{8}$

($\because \triangle EDG$ 와 $\triangle EBC$ 닮음비 $1:5$)

㉗ $\triangle EDG = \frac{1}{2} \times \frac{9}{8} \times 1 = \frac{9}{16}$ $\therefore p+q = \boxed{25}$

삼각형에 외접하는 원: 원의 중심 꼭찬. 원의 개량이 다름

30. 그림과 같이 $\overline{AB} = \overline{BC} = 2$ 인 삼각형 ABC에 외접하는 원 O가 있다. 점 B를 지나고 직선 AC에 수직인 직선이 원 O와 만나는 점 중 B가 아닌 점을 D, 선분 AC와 선분 BD가 만나는 점을 E라 하자. 원 O 위의 점 C에서의 접선과 점 D에서의 접선이 만나는 점을 F라 할 때, $\overline{FD} = 2$ 이다. $\overline{AE} = \frac{a+b\sqrt{17}}{2}$ 일 때, a^2+b^2 의 값을 구하시오. (단, a, b 는 정수이다.) [4점]



- ① 한 점에서 원에 그은 접선의 길이는 같다.
 $\Rightarrow \overline{FD} = \overline{FC} = 2$
- ② 이등변 \triangle 의 두 내각의 크기는 같다.
 $\Rightarrow \triangle ABC$ 가 이등변 \triangle 이므로 $\angle BAC = \angle BCA = \theta$ 로 두자.
- ③ 원주각의 성질에 의해 $\angle BAC = \angle BDC = \theta$, $\angle BCA = \angle ADB = \theta$ 이 때, \overline{FD} 와 \overline{FC} 는 접선이므로 원의 중심과 이르는 각이 90° 인데, \overline{AC} 을 원의 현으로 생각하면 그 현을 수직이등분하는 선은 원의 "중심"을 무조건 지난다. $\Rightarrow \overline{BD}$ 는 원의 지름이고, 그 위 어떤가에 중심이 있다.

$\Rightarrow \angle FDE = \angle FDO = 90^\circ$, $\angle FCE = \angle FCO = 90^\circ$ 이므로
 $\angle FDC = \angle FCD = 90^\circ - \theta$ 이고, 곧 $\angle DFC = 2\theta$ 이므로

$\triangle FDC$ 와 $\triangle DAC$ 는 닮음
 또한, $\triangle DAE$ 와 $\triangle ABE$ 도 한 내각의 크기가 같은 직각 \triangle 이므로 닮음.
 \Rightarrow 변들의 길이를 비례식을 이용해 쓸 수 있다.

$\overline{AE} = x$ 로 두면 피타고라스 정리에 의해 $\overline{BE} = \sqrt{4-x^2}$ 이고,
 $\overline{AB} : \overline{BE} = \overline{DA} : \overline{AE}$ 이므로 $2 : \sqrt{4-x^2} = \overline{DA} : x \therefore \overline{DA} = \frac{2x}{\sqrt{4-x^2}}$
 결국 $\triangle FDC$ 와 $\triangle DAC$ 에서 $\overline{FD} : \overline{DC} = \overline{DA} : \overline{AC}$

$= 2 : \frac{2x}{\sqrt{4-x^2}} = \frac{2x}{\sqrt{4-x^2}} : 2x$
 * 확인 사항
 o 답안지의 해당란에 필요한 내용을 정확히 기입(표기)했는지 확인하시오. $\Rightarrow x^2 + x - 4 = 0$ 이므로 $x = \frac{-1 + \sqrt{17}}{2}$

㉗ $a^2 + b^2 = \boxed{2}$