

제 2 교시

수학 영역



5 지선 다형

1. 두 다항식

$$A = x^3 + 2x^2, B = 2x^3 - x^2 - 1$$

에 대하여  $A+B$ 를 간단히 하면? [2점]

- ①  $x^3 - 3x^2 - 1$       ②  $x^3 + x^2 + 1$       ③  $3x^3 + x^2 - 1$
- ④  $3x^3 + x^2 + 1$       ⑤  $3x^3 + 3x^2 - 1$

2. 실수  $x$ 에 대한 조건

‘ $x$ 는 음이 아닌 실수이다.’

의 진리집합은? [2점]

- ①  $\{x|x < 0\}$       ②  $\{x|x \leq 0\}$       ③  $\{x|x \neq 0\}$
- ④  $\{x|x \geq 0\}$       ⑤  $\{x|x > 0\}$

3.  ${}_5P_3$ 의 값은? [2점]

- ① 20      ② 30      ③ 40      ④ 50      ⑤ 60

4. 수직선 위의 두 점 A(-5), B(1)에 대하여 선분 AB를 3:1로  
외분하는 점의 좌표는? [3점]

- ① 4      ②  $\frac{9}{2}$       ③ 5      ④  $\frac{11}{2}$       ⑤ 6

$$\frac{3+5}{2} = 4$$

5.  $(\sqrt{2} + \sqrt{-2})^2$ 의 값은? (단,  $i = \sqrt{-1}$ ) [3점]

- ①  $-4i$     ②  $-2i$     ③  $0$     ④  $2i$     ⑤  $4i$

$$(\sqrt{2} + \sqrt{2}i)^2 = 2 - 2 + 4i$$

$$2 \cdot 2i$$

6.  $a+b=2$ ,  $a^3+b^3=10$ 일 때,  $ab$ 의 값은? [3점]

- ①  $-\frac{2}{3}$     ②  $-\frac{1}{3}$     ③  $0$     ④  $\frac{1}{3}$     ⑤  $\frac{2}{3}$

$$a^3+b^3 = (a+b)^3 - 3ab(a+b)$$

$$10 = 8 - 6(a+b), \quad a+b = -\frac{1}{3}$$

7. 점  $(6, a)$ 를 지나고 직선  $3x+2y-1=0$ 에 수직인 직선이 원점을 지날 때,  $a$ 의 값은? [3점]

- ①  $3$     ②  $\frac{7}{2}$     ③  $4$     ④  $\frac{9}{2}$     ⑤  $5$

수직  $\rightarrow$  기울기  $\frac{2}{3}$

$$y = \frac{2}{3}(x-6) + a \quad (0,0)$$

$$-4+a=0, \quad a=4$$

8. 이차함수  $y = x^2 + ax + a^2$ 의 그래프가 직선  $y = -x$ 에 접하도록 하는 양수  $a$ 의 값은? [3점]

- ①  $\frac{2}{3}$
- ② 1
- ③  $\frac{4}{3}$
- ④  $\frac{5}{3}$
- ⑤ 2

$x^2 + (a+1)x + a^2 = 0$

$D = (a+1)^2 - 4a^2 = 0$

$3a^2 - 2a - 1 = 0$

$3a$	$+1$	$a = 1$
$a$	$-1$	

9. 원  $x^2 + y^2 = r^2$  위의 점  $(a, 4\sqrt{3})$ 에서의 접선의 방정식이  $x - \sqrt{3}y + b = 0$ 일 때,  $a + b + r$ 의 값은? (단,  $r$ 는 양수이고,  $a, b$ 는 상수이다.) [3점]

- ① 17
- ② 18
- ③ 19
- ④ 20
- ⑤ 21

$a^2 + 48 = r^2$

$ax + 4\sqrt{3}y = r^2$

$-\frac{a}{4}x - \sqrt{3}y + \frac{r^2}{4} = 0$       $\div (-4)$

$a = -4$

$r^2 = 64$       $b = 16$       $-4 + 16 + 8 = 20$

10. 삼차방정식  $x^3 + 2x - 3 = 0$ 의 한 허근을  $a + bi$ 라 할 때,  $a^2 b^2$ 의 값은? (단,  $a, b$ 는 실수이고,  $i = \sqrt{-1}$ 이다.) [3점]

- ①  $\frac{11}{16}$
- ②  $\frac{3}{4}$
- ③  $\frac{13}{16}$
- ④  $\frac{7}{8}$
- ⑤  $\frac{15}{16}$

$(x-1)(x^2+x+3) = 0$

$x = \frac{-1 \pm \sqrt{11}i}{2} = -\frac{1}{2} \pm \frac{\sqrt{11}}{2}i$

$a^2 = \frac{1}{4}$

$b^2 = \frac{11}{4}$       $\frac{11}{16}$

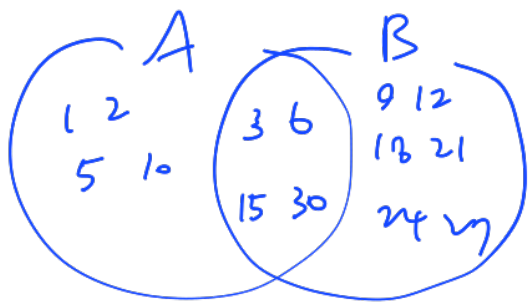
11. 전체집합  $U = \{x | x \text{는 } 50 \text{ 이하의 자연수}\}$ 의 두 부분집합

$A = \{x | x \text{는 } 30 \text{의 약수}\}, B = \{x | x \text{는 } 3 \text{의 배수}\}$

에 대하여  $n(A^c \cup B)$ 의 값은? [3점]

- ① 40    ② 42    ③ 44    ④ 46    ⑤ 48

1 2 3 5 6 10 15 30

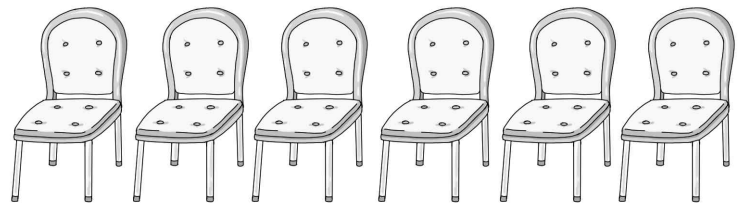


$50 - 4 = 46$

12. 1학년 학생 2명과 2학년 학생 4명이 있다. 이 6명의 학생이 일렬로 나열된 6개의 의자에 다음 조건을 만족시키도록 모두 앉는 경우의 수는? [3점]

- (가) 1학년 학생끼리는 이웃하지 않는다.  
(나) 양 끝에 있는 의자에는 모두 2학년 학생이 앉는다.

- ① 96    ② 120    ③ 144    ④ 168    ⑤ 192



(나)  $4P_2$

$\checkmark 2A \checkmark 2B \checkmark$

$2! \times 3P_2 = 12$

$4P_2 + 12 = 144$

13. 집합  $X = \{1, 2, 3, 4, 5\}$ 에 대하여  $X$ 에서  $X$ 로의 세 함수  $f, g, h$ 가 다음 조건을 만족시킨다.

(가)  $f$ 는 항등함수이고  $g$ 는 상수함수이다.  
(나) 집합  $X$ 의 모든 원소  $x$ 에 대하여  $f(x) + g(x) + h(x) = 7$ 이다.

$g(3) + h(1)$ 의 값은? [3점]

- ① 2
- ② 3
- ③ 4
- ④ 5
- ⑤ 6

	$f$	$g$	$h$	
1	1	1	5	$1+5=6$
2	2	1	4	
3	3	1	3	
4	4	1	2	
5	5	1	1	

14.  $x$ 에 대한 연립부등식

$$\begin{cases} x^2 + 3x - 10 < 0 \\ ax \geq a^2 \end{cases}$$

을 만족시키는 정수  $x$ 의 개수가 4가 되도록 하는 정수  $a$ 의 값은? [4점]

- ① -2
- ② -1
- ③ 0
- ④ 1
- ⑤ 2

$(x+5)(x-2) < 0$

$-5 < x < 2$

i)  $a=0 \rightarrow ax \geq a^2$  모든  $x$   $\rightarrow -5 < x < 2$  6개 ( $x$ )

ii)  $a > 0 \rightarrow \begin{cases} x \geq a \\ -5 < x < 2 \end{cases}$  정수 4개:  $-2, -1, 0, 1$   
 $a = -2$  ( $x$ ) ( $\because a > 0$ )

iii)  $a < 0 \rightarrow \begin{cases} x \leq a \\ -5 < x < 2 \end{cases}$  정수 4개:  $-4, -3, -2, -1$   
 $a = -1$

15. 다항식  $P(x)$ 와 상수  $a$ 에 대하여 등식

$$x^3 - x^2 + 3x - 2 = (x+2)P(x) + ax$$

가  $x$ 에 대한 항등식일 때,  $P(-2)$ 의 값은? [4점]

- ① 9      ② 10      ③ 11      ④ 12      ⑤ 13

$-2 \rightarrow -8 - 4 - 6 - 2 = -2a, a = 10$

$x^3 - x^2 - 7x - 2 = (x+2)P(x)$

$(x+2)(bx^2 - 3x - 1) = (x+2)P(x)$

$P(-2) = 4 + 6 - 1 = 9$

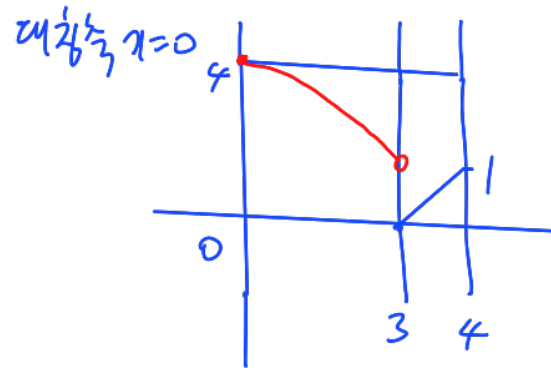
16. 집합  $X = \{x | 0 \leq x \leq 4\}$ 에 대하여  $X$ 에서  $X$ 로의 함수

$$f(x) = \begin{cases} ax^2 + b & (0 \leq x < 3) \\ x - 3 & (3 \leq x \leq 4) \end{cases}$$

가 일대일 대응일 때,  $f(1)$ 의 값은? (단,  $a, b$ 는 상수이다.)

[4점]

- ①  $\frac{7}{3}$       ②  $\frac{8}{3}$       ③ 3      ④  $\frac{10}{3}$       ⑤  $\frac{11}{3}$



$(0, 4), (3, 1) \rightarrow y = -\frac{1}{3}x^2 + 4$   
 $f(1) = -\frac{1}{3} + 4 = \frac{11}{3}$

17. 다음 조건을 만족시키는 허수  $z$ 가 존재하도록 하는 두 정수  $m, n$ 에 대하여  $m+n$ 의 최솟값은? (단,  $\bar{z}$ 는  $z$ 의 켈레복소수이다.) [4점]

- (가)  $z^2 + mz + n = 0$   
 (나)  $z + \bar{z} = 8$

- ① 3      ② 5      ③ 7      ④ 9      ⑤ 11

$z = 4 + bi \quad (b \neq 0)$   
 $\bar{z} = 4 - bi$

(가)  $16 - b^2 + 8bi + 4m + bmi + n = 0$

$(16 - b^2 + 4m + n) + bi(8 + m) = 0$   
 $m = -8$

$n - b^2 - 16 = 0$

$n - b^2 = 16$        $\begin{matrix} n & b^2 \\ 17 & 1 \end{matrix} \quad (b \neq 0)$

$m + n = 9$

18. 실수  $x$ 에 대한 두 조건

$p: |x - k| \leq 2,$

$q: x^2 - 4x - 5 \leq 0$

이 있다. 명제  $p \rightarrow q$ 와 명제  $p \rightarrow \sim q$ 가 모두 거짓이 되도록 하는 모든 정수  $k$ 의 값의 합은? [4점]

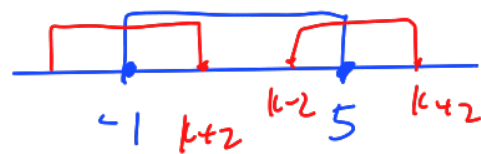
- ① 14      ② 16      ③ 18      ④ 20      ⑤ 22

$p: k-2 \leq x \leq k+2$       *가장 3.4*

$q: -1 \leq x \leq 5$

$k+2 = -1, 0, 1, 2, 6, 7, 8, 9$

$k = -3, -2, -1, 0, 4, 5, 6, 7$



$\{6\}$

19. 다음 조건을 만족시키는 집합  $A$ 의 개수는? [4점]

- (가)  $\{0\} \subset A \subset \{x | x \text{는 실수}\}$
- (나)  $a^2 - 2 \notin A$  이면  $a \notin A$  이다.
- (다)  $n(A) = 4$

- ① 3    ② 4    ③ 5    ④ 6    ⑤ 7

(가) 경우  $a \in A \rightarrow a^2 - 2 \in A$

$0 \in A \rightarrow -2 \in A \rightarrow 2 \in A$

$0, -2, 2$  : 짝수 & 1개 더

i)  $a = a^2 - 2, a^2 - a - 2 = 0$   
 $a = -1, 2 \therefore \{0, -2, 2, -1\}$

ii)  $a \in A \rightarrow a^2 - 2 \in A$   
 $a^2 = 2, 0, 4$   
 $a = \sqrt{2}, -\sqrt{2}, 0, 2, -2$   
 각각  $\{0, -2, 2, \sqrt{2}\}$   
 $\{0, -2, 2, -\sqrt{2}\}$

20. 함수

$$f(x) = \begin{cases} -(x-a)^2 + b & (x \leq a) \\ -\sqrt{x-a} + b & (x > a) \end{cases}$$

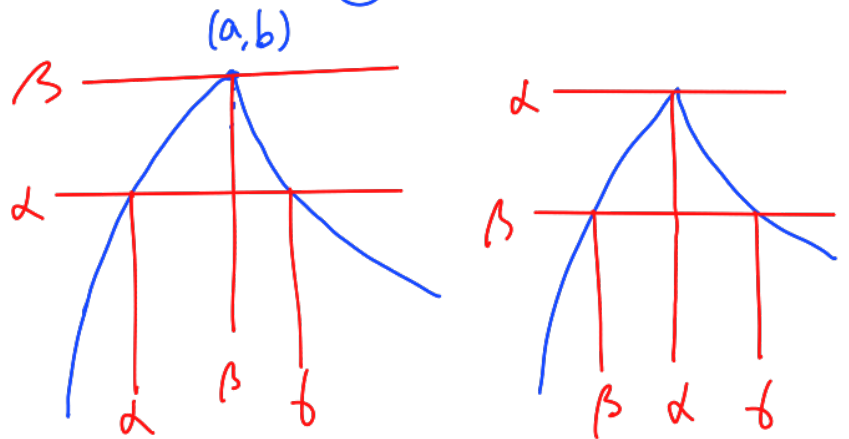
와 서로 다른 세 실수  $\alpha, \beta, \gamma$ 가 다음 조건을 만족시킨다.

- (가) 방정식  $\{f(x) - \alpha\}\{f(x) - \beta\} = 0$ 을 만족시키는 실수  $x$ 의 값은  $\alpha, \beta, \gamma$ 뿐이다.  $f(x) = \alpha$   
 $f(x) = \beta$
- (나)  $f(\alpha) = \alpha, f(\beta) = \beta$

$\alpha + \beta + \gamma = 15$ 일 때,  $f(\alpha + \beta)$ 의 값은? (단,  $a, b$ 는 상수이다.)

[4점]

- ① 1    ② 2    ③ 3    ④ 4    ⑤ 5



$a = b = \beta$   
 $-(a-\alpha)^2 + \beta = \alpha$   
 $-\sqrt{b-\beta} + \beta = \alpha$   
 $b - \beta = (a-\alpha)^2 = \beta - \alpha$   
 $a + b = 2\beta$   
 $\therefore \alpha + \beta + \gamma = 3\beta = 15$   
 $\beta = 5$

$-(a-5)^2 = a - 5$   
 $a^2 - 9a + 20 = 0$   
 $(a-4)(a-5) = 0$   
 $a = 4 (\because a \neq \beta)$   
 $f(a+\beta) = f(9) = -\sqrt{9-5} + 5$   
 $= 3$

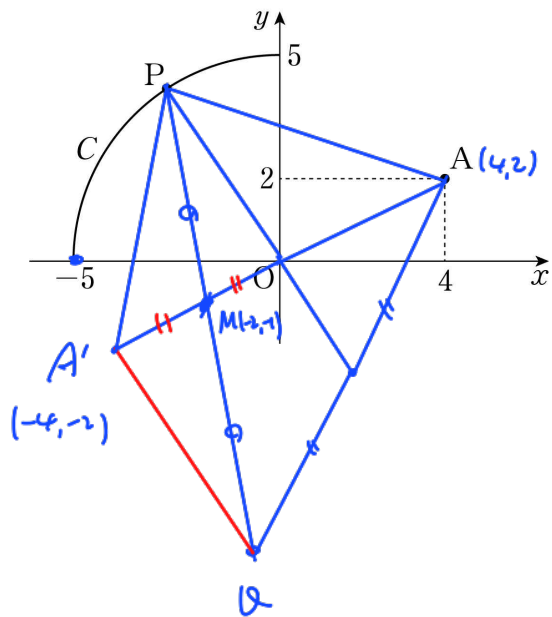
$\gamma > 5 \rightarrow f(\gamma) = -\sqrt{\gamma-5} + 5$



21. 좌표평면 위에 사분원의 호  $C: x^2 + y^2 = 25 (x \leq 0, y \geq 0)$ 과 점  $A(4, 2)$ 가 있다. 호  $C$  위를 움직이는 점  $P$ 에 대하여 점  $Q$ 를 삼각형  $APQ$ 의 무게중심이 원점과 일치하도록 잡는다. 점  $A$ 를 원점에 대하여 대칭이동한 점을  $A'$ 이라 할 때, <보기>에서 옳은 것만을 있는 대로 고른 것은? [4점]

- < 보기 >
- ㉠ 선분  $PQ$ 의 중점의 좌표는  $(-2, -1)$ 이다.
  - ㉡ 선분  $A'Q$ 의 길이는 항상 일정하다.
  - ㉢ 삼각형  $A'QP$ 의 넓이의 최댓값과 최솟값을 각각  $M, m$ 이라 할 때,  $M \times m = 20\sqrt{5}$ 이다.

- ① ㉠                      ② ㉠, ㉡                      ③ ㉠, ㉢  
 ④ ㉡, ㉢                      ⑤ ㉠, ㉡, ㉢

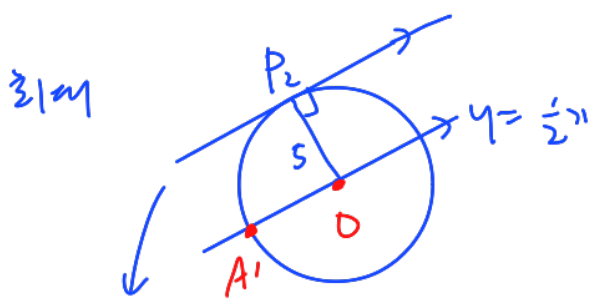


L.  $\triangle A'MQ \cong \triangle OMP \therefore \overline{A'Q} = \overline{PO} = 5$

C.  $\triangle A'QP = \triangle A'OP$ ,  $\overline{A'O} = 2\sqrt{5}$ ,  $AA': y = \frac{1}{2}x$

즉  $P_1(-5, 0) \rightarrow (-5, 0) \sim 7-2y=0 \quad \frac{-5}{\sqrt{5}} = \sqrt{5} = h$

$m = \frac{1}{2} \times 2\sqrt{5} + \sqrt{5} = 5$



기울기  $\frac{1}{2}$ ,  $7-2y=5 \quad M = \frac{1}{2} \times 2\sqrt{5} + 5 = 5\sqrt{5}$

$\therefore Mm = 25\sqrt{5}$

단답형

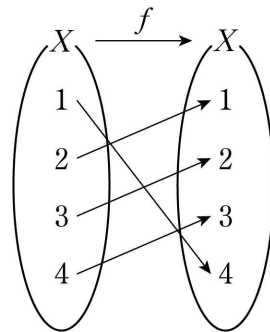
22. 두 집합

$A = \{-7, -5, 3\}, B = \{-7, -5, 9\}$

에 대하여 집합  $A \cap B$ 의 모든 원소의 곱을 구하시오. [3점]

35

23. 그림은 함수  $f: X \rightarrow X$ 를 나타낸 것이다.



$(f \circ f)(1) + f^{-1}(1)$ 의 값을 구하시오. [3점]

$3 + 2$

5

24. 다항식  $P(x)$ 를  $x^2+3$ 으로 나눈 몫이  $3x+1$ , 나머지가  $x+5$ 일 때,  $P(x)$ 를  $x-1$ 로 나눈 나머지를 구하시오. [3점]

$$P(x) = (x^2+3)(3x+1) + x + 5 \quad \boxed{22}$$

$$P(1) = 4 \times 4 + 6 = 22$$

25.  $-5 \leq x \leq -1$ 에서 함수  $f(x) = \sqrt{-ax+1}$  ( $a > 0$ )의 최댓값이 4가 되도록 하는 상수  $a$ 의 값을 구하시오. [3점]

$$\sqrt{-a(x-\frac{1}{a})} \quad \boxed{3}$$

$$-5 \rightarrow \sqrt{5a+1} = 4 \quad a=3$$

26. 좌표평면 위의 네 점

$$A(0, 1), B(0, 4), C(\sqrt{2}, p), D(3\sqrt{2}, q)$$

가 다음 조건을 만족시킬 때,  $p+q$ 의 값을 구하시오. [4점]

- (가) 직선  $CD$ 의 기울기는 음수이다.  $\boxed{9}$   
 (나)  $\overline{AB} = \overline{CD}$  이고  $\overline{AD} \parallel \overline{BC}$  이다.

$$(가) \frac{q-p}{2\sqrt{2}} < 0 \rightarrow q < p$$


$$(나) 3 = \sqrt{8+(p-q)^2}, (p-q)^2 = 1$$

$$\frac{q-1}{3\sqrt{2}} = \frac{p-4}{\sqrt{2}} \quad \left. \begin{array}{l} p-q=1 \\ p=5 \\ q=4 \end{array} \right\}$$

$$3p-12 = q-1, 3p-q = 11$$

27. 서로 다른 네 종류의 인형이 각각 2개씩 있다. 이 8개의 인형 중에서 5개를 선택하는 경우의 수를 구하시오. (단, 같은 종류의 인형끼리는 서로 구별하지 않는다.) [4점]

16



i) 4종류

$$A A B C D \rightarrow 4C_1 \times 1 = 4$$

ii) 3종류

$$A A B B C \rightarrow 4C_3 \times 3C_1 = 12$$

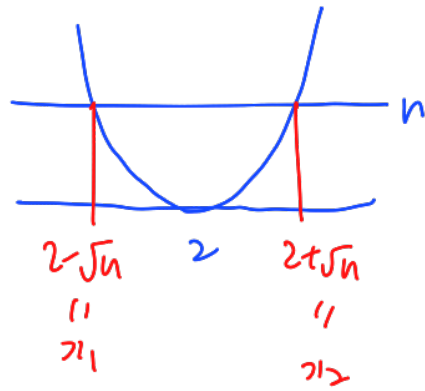
) 16

28. 자연수  $n$ 에 대하여 직선  $y=n$ 이 이차함수  $y=x^2-4x+4$ 의 그래프와 만나는 두 점의  $x$ 좌표를 각각  $x_1, x_2$ 라 하자.

$\frac{|x_1|+|x_2|}{2}$ 의 값이 자연수가 되도록 하는 100 이하의 자연수  $n$ 의 개수를 구하시오. [4점]

12

$$y=(x-2)^2$$



$$\begin{aligned} (x-2)^2 &= n \\ x-2 &= \pm\sqrt{n} \\ x &= 2 \pm \sqrt{n} \end{aligned}$$

$$1 \leq n \leq 4 \rightarrow \begin{cases} |x_1| = 2 - \sqrt{n} \\ |x_2| = 2 + \sqrt{n} \end{cases} \rightarrow \frac{4}{2} = 2 \text{ (하)} \text{ 4개}$$

$$n \geq 5 \rightarrow \begin{cases} |x_1| = -2 + \sqrt{n} \\ |x_2| = 2 + \sqrt{n} \end{cases} \rightarrow \frac{2\sqrt{n}}{2} = \sqrt{n}$$

$$n = 3^2, 4^2, \dots, 10^2 \text{ 8개}$$

$$4 + 8 = 12 \text{ 개}$$

29. 원  $(x-6)^2 + y^2 = r^2$  위를 움직이는 두 점 P, Q가 있다. 점 P를 직선  $y=x$ 에 대하여 대칭이동한 점의 좌표를  $(x_1, y_1)$ 이라 하고, 점 Q를  $x$ 축의 방향으로  $k$ 만큼 평행이동한 점의 좌표를  $(x_2, y_2)$ 라 하자.  $\frac{y_2 - y_1}{x_2 - x_1}$ 의 최솟값이 0이고 최댓값이  $\frac{4}{3}$ 일 때,  $|r+k|$ 의 값을 구하시오. (단,  $x_1 \neq x_2$ 이고,  $r$ 는 양수이다.)

[4점]

(가, 가1)  $\rightarrow$   $x^2 + (y-6)^2 = r^2$  위 [15]

(가2, 가21)  $\rightarrow$   $(x-b-1)^2 + y^2 = r^2$  위

(가, 가1), (가2, 가21) 기울기 =  $\frac{y_2 - y_1}{x_2 - x_1}$

가2가 중심 (x)

$p=11$   $p=1$

$r=3$

$(b+k_1, 0)$

$y = \frac{4}{3}x + p$

$(0, b) \sim 4x - 3y + 3p = 0 \quad \frac{-18+3p}{5} = 3, |p-6|=5$   
 $p=11, 1 \therefore p=11$

$(b+k_1, 0) \sim 4x - 3y + 33 = 0 \quad \frac{24+4k+33}{5} = 3$

$|4k+57|=15, 4k=-42, -72$   
 $k = -\frac{21}{2}, -18$

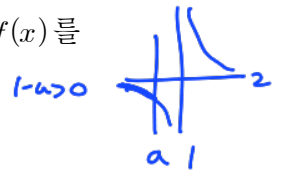
$4x - 3y + 33 = 0$

$k = -18 \quad k = -\frac{21}{2}$

$\therefore k = -18$   
 $|r+k| = |3-18| = 15$

30. 두 실수  $a (a < 1), b$ 에 대하여 함수  $f(x)$ 를

$$f(x) = \begin{cases} \frac{1-a}{x-1} + 2 & (x \leq a) \\ bx(x-a) + 1 & (x > a) \end{cases}$$



라 하자. 함수  $f(x)$ 가 다음 조건을 만족시키도록 하는  $a, b$ 의 모든 순서쌍이  $(a_1, b_1), (a_2, b_2)$ 일 때,  $-40 \times (a_1 + b_1 + a_2 + b_2)$ 의 값을 구하시오. [4점]

[250]

- (가)  $x \leq 0$ 인 모든 실수  $x$ 에 대하여  $f(x) \geq f(-2)$ 이다.
- (나) 방정식  $|f(x)| = 2$ 의 서로 다른 실근의 개수는 2이다.

i)  $a=0 \rightarrow$  (가) X

ii)  $0 < a < 1 \rightarrow$  (가) X

iii)  $a < 0$

①  $a=-2$   $(-2, 1)$

$b > (x+2)+1$

$x=-1 \rightarrow -b+1=2, b=-1$   
 $(a_1, b_1) = (-2, -1)$

②  $b > (x+a)+1$   $\frac{a}{2} = -2, a = -4$

$b > (x+4)+1$

$(-2, -2) \rightarrow -4b+1 = -2, b = \frac{3}{4}$   
 $(a_2, b_2) = (-4, \frac{3}{4})$

$-40(-2-4+\frac{3}{4}) = 250$

\* 확인 사항  
 ○ 답안지의 해당란에 필요한 내용을 정확히 기입(표기)했는지 확인하시오.