



04 수2

03 미분계수와 도함수

01 미분계수

01 미분계수1 (평균변화율)

[출처] 2021 모의_공공 교육청 고2 11월 7

1. 함수 $f(x) = x^3 + x^2 - 2x$ 에서 x 의 값이 0에서 k 까지
변할 때의 평균변화율이 10일 때, 양수 k 의 값은?

- ① 3 ② $\frac{7}{2}$ ③ 4
- ④ $\frac{9}{2}$ ⑤ 5

04 수2

03 미분계수와 도함수

01 미분계수

02 미분계수2 (평균변화율과 미분계수)

[출처] 2020 모의_공공 평가원 고3 06월 26

2. 함수 $f(x) = x^3 - 3x^2 + 5x$ 에서 x 의 값이 0에서 a 까지
변할 때의 평균변화율이 $f'(2)$ 의 값과 같게 되도록 하는
양수 a 의 값을 구하시오.

04 수2

03 미분계수와 도함수

01 미분계수

04 미분계수4 (극한식의 해석, 무한소로 갈때)

[출처] 2020 모의_공공 교육청 고3 04월 10

3. 다항함수 $f(x)$ 가

$$\lim_{h \rightarrow 0} \frac{f(3+h)-4}{2h} = 1$$

을 만족시킬 때, $f(3)+f'(3)$ 의 값은?

- ① 6 ② 7 ③ 8
- ④ 9 ⑤ 10

04 수2

03 미분계수와 도함수

01 미분계수

05 미분계수5 (극한식의 해석, 특정값으로 갈때)

[출처] 2020 모의_공공 교육청 고3 10월 4

4. 함수 $f(x)$ 에 대하여 $\lim_{x \rightarrow 2} \frac{f(x)-f(2)}{x-2} = 3$ 일 때,

$\lim_{h \rightarrow 0} \frac{f(2+h)-f(2-h)}{h}$ 의 값은?

- ① 0 ② 2 ③ 4
- ④ 6 ⑤ 8

04 수2

03 미분계수와 도함수

01 미분계수

06 미분계수6 (극한식의 해석, 식 변형)

[출처] 2021 모의_공공 교육청 고3 03월 공통범위 12

5. 두 다항함수 $f(x), g(x)$ 가 다음 조건을 만족시킨다.

$$\begin{aligned} \text{(가)} \quad & \lim_{x \rightarrow 1} \frac{f(x) - g(x)}{x - 1} = 5 \\ \text{(나)} \quad & \lim_{x \rightarrow 1} \frac{f(x) + g(x) - 2f(1)}{x - 1} = 7 \end{aligned}$$

두 실수 a, b 에 대하여 $\lim_{x \rightarrow 1} \frac{f(x) - a}{x - 1} = b \times g(1)$ 일 때, ab 의

값은?

- ① 4 ② 5 ③ 6
- ④ 7 ⑤ 8

04 수2

03 미분계수와 도함수

02 도함수의 정의와 미분법 공식

02 미분법 공식1 (공식과 미분계수)

[출처] 2020 모의_공공 평가원 고3 11월 6

6. 함수 $f(x) = x^4 + 3x - 2$ 에 대하여 $f'(2)$ 의 값은?

- ① 35 ② 37 ③ 39
- ④ 41 ⑤ 43

[출처] 2020 모의_공공 교육청 고3 04월 23

7. 함수 $f(x) = x^4 + 3x^2 + 7x$ 에 대하여 $f'(1)$ 의 값을

구하시오.

[출처] 2020 모의_공공 교육청 고3 03월 23

8. 함수 $f(x) = x^4 + 3x^2 + 9x - 27$ 에 대하여 $f'(1)$ 의 값을 구하시오.

[출처] 2020 모의_공공 평가원 고3 06월 2

9. 함수 $f(x) = x^3 + 7x + 1$ 에 대하여 $f'(0)$ 의 값은?

- ① 1 ② 3 ③ 5
④ 7 ⑤ 9

[출처] 2020 모의_공공 평가원 고3 09월 2

10. 함수 $f(x) = x^3 - 2x - 7$ 에 대하여 $f'(1)$ 의 값은?

- ① 1 ② 2 ③ 3
④ 4 ⑤ 5

[출처] 2020 모의_공공 교육청 고3 07월 23

11. 곡선 $y = 4x^3 - 5x + 9$ 위의 점 $(1, 8)$ 에서의 접선의 기울기를 구하시오.

[출처] 2021 모의_공공 평가원 고3 09월 공통범위 2

12. 함수 $f(x)=2x^3+4x+5$ 에 대하여 $f'(1)$ 의 값은?

- ① 6 ② 7 ③ 8
- ④ 9 ⑤ 10

[출처] 2021 모의_공공 교육청 고2 11월 3

13. 함수 $f(x)=x^3+3x+1$ 에 대하여 $f'(1)$ 의 값은?

- ① 2 ② 4 ③ 6
- ④ 8 ⑤ 10

[출처] 2021 모의_공공 평가원 고3 11월 2

14. 함수 $f(x)=x^3+3x^2+x-1$ 에 대하여 $f'(1)$ 의 값은?

- ① 6 ② 7 ③ 8
- ④ 9 ⑤ 10

[출처] 2021 모의_공공 교육청 고3 04월 공통범위 16

15. 함수 $f(x)=x^2+ax$ 에 대하여 $f'(1)=4$ 일 때, 상수 a 의 값을 구하시오.

[출처] 2021 모의_공공 교육청 고3 07월 공통범위 3

16. 함수 $f(x)=x^2-ax$ 에 대하여 $f'(1)=0$ 일 때, 상수 a 의 값은?

- ① 1 ② 2 ③ 3
- ④ 4 ⑤ 5

[출처] 2021 모의_공공 교육청 고3 10월 공통범위 16

17. 함수 $f(x) = 2x^2 + ax + 3$ 에 대하여 $x = 2$ 에서의 미분계수가 18일 때, 상수 a 의 값을 구하시오.

[출처] 2021 모의_공공 교육청 고3 04월 공통범위 7

18. 함수 $f(x) = x^3 - 3x$ 에서 x 의 값이 1에서 4까지 변할 때의 평균변화율과 곡선 $y = f(x)$ 위의 점 $(k, f(k))$ 에서의 접선의 기울기가 서로 같을 때, 양수 k 의 값은?

- ① $\sqrt{3}$ ② 2 ③ $\sqrt{5}$
 ④ $\sqrt{6}$ ⑤ $\sqrt{7}$

[출처] 2021 모의_공공 교육청 고3 07월 공통범위 18

19. 함수 $f(x) = x^3 + ax$ 에서 x 의 값이 1에서 3까지 변할 때의 평균변화율이 $f'(a)$ 의 값과 같게 되도록 하는 양수 a 에 대하여 $3a^2$ 의 값을 구하시오.

[출처] 2021 모의_공공 평가원 고3 09월 공통범위 19

20. 함수 $f(x) = x^3 - 6x^2 + 5x$ 에서 x 의 값이 0에서 4까지 변할 때의 평균변화율과 $f'(a)$ 의 값이 같게 되도록 하는 $0 < a < 4$ 인 모든 실수 a 의 값의 곱은 $\frac{q}{p}$ 이다. $p+q$ 의 값을 구하시오. (단, p 와 q 는 서로소인 자연수이다.)

[출처] 2022 모의_공공 교육청 고3 04월 공통범위 2

21. 함수 $f(x) = x^3 + 7x - 4$ 에 대하여 $f'(1)$ 의 값은?

- ① 6 ② 7 ③ 8
- ④ 9 ⑤ 10

[출처] 2022 모의_공공 교육청 고3 03월 공통범위 2

22. 함수 $f(x) = x^3 + 2x^2 + 3x + 4$ 에 대하여 $f'(-1)$ 의 값은?

- ① 1 ② 2 ③ 3
- ④ 4 ⑤ 5

[출처] 2022 모의_공공 교육청 고3 07월 공통범위 3

23. 함수 $f(x) = x^3 + 2x + 7$ 에 대하여 $f'(1)$ 의 값은?

- ① 5 ② 6 ③ 7
- ④ 8 ⑤ 9

[출처] 2022 모의_공공 교육청 고3 03월 공통범위 6

24. 함수 $f(x) = 2x^2 - 3x + 5$ 에서 x 의 값이 a 에서 $a+1$ 까지 변할 때의 평균변화율이 7이다.

$\lim_{h \rightarrow 0} \frac{f(a+2h) - f(a)}{h}$ 의 값은? (단, a 는 상수이다.)

- ① 6 ② 8 ③ 10
- ④ 12 ⑤ 14

04 수2

03 미분계수와 도함수

02 도함수의 정의와 미분법 공식

03 미분법 공식2 (극한식의 해석)

[출처] 2020 모의_공공 교육청 고3 03월 4

25. 함수 $f(x) = x^3 - 2x^2$ 에 대하여 $\lim_{h \rightarrow 0} \frac{f(2+2h) - f(2)}{h}$ 의

값은?

- ① 6 ② 7 ③ 8
- ④ 9 ⑤ 10

[출처]

2020 모의_공공 교육청 고3 03월 9

26. 함수 $f(x) = x^3 - 2x^2 + ax + 1$ 에 대하여

$\lim_{h \rightarrow 0} \frac{f(2+h) - f(2)}{h} = 9$ 일 때, 상수 a 의 값은?

- ① 1 ② 3 ③ 5
- ④ 7 ⑤ 9

[출처]

2021 모의_공공 사관학교 고3 07월 공통범위 4

27. 함수 $f(x) = x^3 - 4x^2 + ax + 6$ 에 대하여

$\lim_{h \rightarrow 0} \frac{f(2+h) - f(2)}{h \times f(h)} = 1$

일 때, 상수 a 의 값은?

- ① 2 ② 4 ③ 6
- ④ 8 ⑤ 10

[출처] 2022 모의_공공 평가원 고3 09월 공통범위 2

28. 함수 $f(x) = 2x^2 + 5$ 에 대하여 $\lim_{x \rightarrow 2} \frac{f(x) - f(2)}{x - 2}$ 의

값은?

- ① 8 ② 9 ③ 10
- ④ 11 ⑤ 12

[출처] 2022 모의_공공 평가원 고3 06월 공통범위 2

29. 함수 $f(x) = x^3 + 9$ 에 대하여 $\lim_{h \rightarrow 0} \frac{f(2+h) - f(2)}{h}$ 의

값은?

- ① 11 ② 12 ③ 13
- ④ 14 ⑤ 15

04 수2

03 미분계수와 도함수

02 도함수의 정의와 미분법 공식

05 미분법 공식4 (곱의 미분법)

[출처] 2020 모의_공공 교육청 고3 03월 22

30. 함수 $f(x) = (2x + 3)(x^2 + 5)$ 에 대하여 $f'(1)$ 의 값을 구하시오.

[출처] 2020 모의_공공 사관학교 고3 07월 4

31. 함수 $f(x) = (x^3 - 2x + 3)(ax + 3)$ 에 대하여

$f'(1) = 15$ 일 때, a 의 값은? (단, a 는 상수이다.)

- ① 3 ② 4 ③ 5
- ④ 6 ⑤ 7

[출처] 2021 모의_공공 교육청 고3 03월 공통범위 16

32. 두 함수 $f(x) = 2x^2 + 5x + 3$, $g(x) = x^3 + 2$ 에 대하여
함수 $f(x)g(x)$ 의 $x = 0$ 에서의 미분계수를 구하시오.

[출처] 2021 모의_공공 사관학교 고3 07월 공통범위 16

33. 함수 $f(x) = (x+3)(x^3+x)$ 의 $x = 1$ 에서의 미분계수를
구하시오.

[출처] 2022 모의_공공 사관학교 고3 07월 공통범위 2

34. 함수 $f(x) = (x^3 - 2x^2 + 3)(ax + 1)$ 에 대하여

$f'(0) = 15$ 일 때, 상수 a 의 값은?

- ① 3 ② 5 ③ 7
④ 9 ⑤ 11

04 수2

03 미분계수와 도함수

02 도함수의 정의와 미분법 공식

06 미분법 공식5 (곱의 미분법, 극한식의 해석)

[출처] 2020 모의_공공 평가원 고3 11월 17

35. 두 다항함수 $f(x), g(x)$ 가

$$\lim_{x \rightarrow 0} \frac{f(x)+g(x)}{x} = 3, \lim_{x \rightarrow 0} \frac{f(x)+3}{xg(x)} = 2$$

을 만족시킨다. 함수 $h(x) = f(x)g(x)$ 에 대하여 $h'(0)$ 의 값은?

- ① 27 ② 30 ③ 33
- ④ 36 ⑤ 39

[출처] 2020 모의_공공 교육청 고3 10월 17

36. $f(1) = -2$ 인 다항함수 $f(x)$ 에 대하여 일차함수

$g(x)$ 가 다음 조건을 만족시킨다.

$$(가) \lim_{x \rightarrow 1} \frac{f(x)g(x)+4}{x-1} = 8$$

$$(나) g(0) = g'(0)$$

$f'(1)$ 의 값은?

- ① 5 ② 6 ③ 7
- ④ 8 ⑤ 9

[출처] 2021 모의_공공 교육청 고2 11월 15

37. 두 다항함수 $f(x), g(x)$ 가

$$\lim_{x \rightarrow 1} \frac{f(x)-a+2}{x-1} = 4, \lim_{x \rightarrow 1} \frac{g(x)+a-2}{x-1} = a$$

를 만족시킨다. 함수 $f(x)g(x)$ 의 $x=1$ 에서의 미분계수가 -1 일 때, 상수 a 의 값은?

- ① 1 ② 2 ③ 3
- ④ 4 ⑤ 5

[출처] 2021 모의_공공 교육청 고3 07월 공통범위 19

38. 두 다항함수 $f(x), g(x)$ 가

$$\lim_{x \rightarrow 2} \frac{f(x)-4}{x^2-4} = 2, \lim_{x \rightarrow 2} \frac{g(x)+1}{x-2} = 8$$

을 만족시킨다. 함수 $h(x)=f(x)g(x)$ 에 대하여 $h'(2)$ 의 값을 구하시오.

[출처] 2022 모의_공공 경찰대 고3 07월 14

39. 두 다항함수 $f(x), g(x)$ 에 대하여

$$f(1) = 2, g(1) = 0, f'(1) = 0, g'(1) = 2$$

일 때, $\lim_{x \rightarrow \infty} \sum_{k=1}^4 \left\{ x f \left(1 + \frac{3^k}{x} \right) g \left(1 + \frac{3^k}{x} \right) \right\}$ 의 값은?

- ① 400 ② 440 ③ 480
- ④ 520 ⑤ 560

04 수2

03 미분계수와 도함수

02 도함수의 정의와 미분법 공식

07 미분법 공식6 (적절한 수치대입)

[출처] 2021 모의_공공 평가원 고3 06월 공통범위 5

40. 다항함수 $f(x)$ 에 대하여 함수 $g(x)$ 를

$$g(x) = (x^2 + 3)f(x)$$

라 하자. $f(1) = 2, f'(1) = 1$ 일 때, $g'(1)$ 의 값은?

- ① 6 ② 7 ③ 8
- ④ 8 ⑤ 10

[출처] 2021 모의_공공 평가원 고3 예비 공통범위 17

41. 미분가능한 함수 $f(x)$ 가 $f(1)=2, f'(1)=4$ 를 만족시킬 때, 함수 $g(x)=(x+1)f(x)$ 의 $x=1$ 에서의 미분계수를 구하시오.

[출처] 2022 모의_공공 평가원 고3 11월

42. 다항함수 $f(x)$ 에 대하여 함수 $g(x)$ 를

$$g(x)=x^2f(x)$$

라 하자. $f(2)=1, f'(2)=3$ 일 때, $g'(2)$ 의 값은?

- ① 12 ② 14 ③ 16
- ④ 18 ⑤ 20

04 수2

03 미분계수와 도함수

03 미분법 공식의 활용

01 활용1 (함수 구하기, 인수정리)

[출처] 2021 모의_공공 평가원 고3 예비 공통범위 11

43. 최고차항의 계수가 1인 삼차함수 $f(x)$ 가 다음 조건을 만족시킨다.

방정식 $f(x)=9$ 는 서로 다른 세 실근을 갖고,
이 세 실근은 크기 순서대로 등비수열을 이룬다.

$f(0)=1, f'(2)=-2$ 일 때, $f(3)$ 의 값은?

- ① 6 ② 7 ③ 8
- ④ 9 ⑤ 10

04 수2

03 미분계수와 도함수

03 미분법 공식의 활용

02 활용2 (함수 구하기, 해석)

[출처] 2020 모의_공공 교육청 고3 03월 13

44. 최고차항의 계수가 1인 이차함수 $y=f(x)$ 의 그래프가

x 축에 접한다. 함수 $g(x)=(x-3)f'(x)$ 에 대하여 곡선 $y=g(x)$ 가 y 축에 대하여 대칭일 때, $f(0)$ 의 값은?

- ① 1 ② 4 ③ 9
- ④ 16 ⑤ 25

[출처]

2021 모의_공공 교육청 고2 11월 28

45. 삼차함수 $f(x)$ 가 다음 조건을 만족시킨다.

(가) $\lim_{x \rightarrow 1} \frac{f(x)}{x-1} = 3$

(나) 1이 아닌 상수 α 에 대하여

$$\lim_{x \rightarrow 2} \frac{f(x)}{(x-2)f'(x)} = \alpha \text{이다.}$$

$\alpha \times f(4)$ 의 값을 구하시오.

[출처]

2022 모의_공공 교육청 고3 04월 공통범위 7

46. $f(3)=2, f'(3)=1$ 인 다항함수 $f(x)$ 와 최고차항의

계수가 1인 이차함수 $g(x)$ 가

$$\lim_{x \rightarrow 3} \frac{f(x)-g(x)}{x-3} = 1$$

을 만족시킬 때, $g(1)$ 의 값은?

- ① 3 ② 4 ③ 5
- ④ 6 ⑤ 7

[출처] 2022 모의_공공 사관학교 고3 07월 공통범위 14

47. 최고차항의 계수가 1인 이차함수 $f(x)$ 에 대하여 함수

$g(x)$ 를

$$g(x) = \begin{cases} f(x) & (x < 1) \\ 2f(1) - f(x) & (x \geq 1) \end{cases}$$

이라 하자. 함수 $g(x)$ 에 대하여 <보기>에서 옳은 것만을 있는 대로 고른 것은?

<보 기>

ㄱ. 함수 $g(x)$ 는 실수 전체의 집합에서 연속이다.

ㄴ. $\lim_{h \rightarrow 0^+} \frac{g(-1+h) + g(-1-h) - 6}{h} = a$ (a 는 상수)이고

$g(1) = 1$ 이면 $g(a) = 1$ 이다.

ㄷ. $\lim_{h \rightarrow 0^+} \frac{g(b+h) + g(b-h) - 6}{h} = 4$ (b 는 상수)이면

$g(4) = 1$ 이다.

- ① ㄱ ② ㄱ, ㄴ ③ ㄱ, ㄷ
 ④ ㄴ, ㄷ ⑤ ㄱ, ㄴ, ㄷ

04 수2

03 미분계수와 도함수

03 미분법 공식의 활용

07 활용7 (조건항등식, 미정계수법)

[출처] 2022 모의_공공 교육청 고3 10월 공통범위 9

48. 최고차항의 계수가 1인 다항함수 $f(x)$ 가 모든 실수

x 에 대하여

$$xf'(x) - 3f(x) = 2x^2 - 8x$$

를 만족시킬 때, $f(1)$ 의 값은?

- ① 1 ② 2 ③ 3
 ④ 4 ⑤ 5

04 수2

03 미분계수와 도함수

04 미분가능성과 연속성

04 미분가능조건1 (구간정의함수)

[출처] 2020 모의_공공 평가원 고3 09월 10

49. 함수

$$f(x) = \begin{cases} x^3 + ax + b & (x < 1) \\ bx + 4 & (x \geq 1) \end{cases}$$

이 실수 전체의 집합에서 미분가능할 때, $a+b$ 의 값은?
(단, a, b 는 상수이다.)

- ① 6 ② 7 ③ 8
- ④ 9 ⑤ 10

[출처] 2021 모의_공공 교육청 고2 11월 12

50. 함수

$$f(x) = \begin{cases} x^3 - ax + 2b & (x < 1) \\ -3x + b & (x \geq 1) \end{cases}$$

이 실수 전체의 집합에서 미분가능할 때, $a \times b$ 의 값은?
(단, a 와 b 는 상수이다.)

- ① 3 ② 6 ③ 9
- ④ 12 ⑤ 15

[출처] 2022 모의_공공 사관학교 고3 07월 공통범위 8

51. 함수

$$f(x) = \begin{cases} x^2 - 2x & (x < a) \\ 2x + b & (x \geq a) \end{cases}$$

가 실수 전체의 집합에서 미분가능할 때, $a+b$ 의 값은?
(단, a, b 는 상수이다.)

- ① -4 ② -2 ③ 0
- ④ 2 ⑤ 4

04 수2

03 미분계수와 도함수

04 미분가능성과 연속성

06 미분가능조건3 (곱함수)

[출처] 2021 모의_공공 교육청 고3 10월 공통범위 7

52. 두 함수 $f(x) = |x+3|$, $g(x) = 2x+a$ 에 대하여 함수 $f(x)g(x)$ 가 실수 전체의 집합에서 미분가능할 때, 상수 a 의 값은?

- ① 2 ② 4 ③ 6
- ④ 8 ⑤ 10

[출처] 2022 모의_공공 교육청 고3 04월 공통범위 14

53. 정수 k 와 함수

$$f(x) = \begin{cases} x+1 & (x < 0) \\ x-1 & (0 \leq x < 1) \\ 0 & (1 \leq x \leq 3) \\ -x+4 & (x > 3) \end{cases}$$

에 대하여 함수 $g(x)$ 를 $g(x) = |f(x-k)|$ 라 할 때, <보기>에서 옳은 것만을 있는 대로 고른 것은?

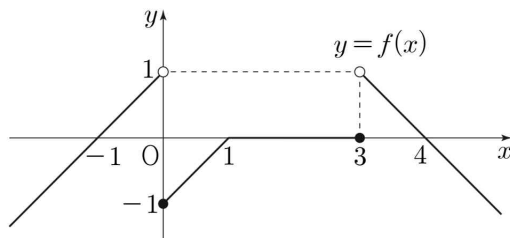
<보 기>

ㄱ. $k = -3$ 일 때, $\lim_{x \rightarrow 0^-} g(x) = g(0)$ 이다.

ㄴ. 함수 $f(x) + g(x)$ 가 $x = 0$ 에서 연속이 되도록 하는 정수 k 가 존재한다.

ㄷ. 함수 $f(x)g(x)$ 가 $x = 0$ 에서 미분가능하도록 하는 모든 정수 k 의 값의 합은 -5 이다.

- ① ㄱ ② ㄷ ③ ㄱ, ㄴ
- ④ ㄱ, ㄷ ⑤ ㄱ, ㄴ, ㄷ



04 수2

03 미분계수와 도함수

05 기타

02 임시분류

[출처] 2022 모의_공공 경찰대 고3 07월 20

54. 곡선 $y = x^3 - x^2$ 위의 제1사분면에 있는 점 A에서의 접선의 기울기가 8이다. 점 (0, 2)를 중심으로 하는 원 S가 있다. 두 점 B(0, 4)와 원 S 위의 점 X에 대하여 두 직선 OA와 BX가 이루는 예각의 크기를 θ 라 할 때, $\overline{BX} \sin\theta$ 의 최댓값이 $\frac{6\sqrt{5}}{5}$ 가 되도록 하는 원 S의 반지름의 길이는?

(단, O는 원점이다.)

- ① $\frac{3\sqrt{5}}{4}$ ② $\frac{4\sqrt{5}}{5}$ ③ $\frac{17\sqrt{5}}{20}$
- ④ $\frac{9\sqrt{5}}{10}$ ⑤ $\frac{19\sqrt{5}}{20}$

04 수2

04 접선의 방정식

01 접선의 방정식

01 접점1 (접선의 방정식)

[출처] 2020 모의_공공 평가원 고3 06월 24

55. 곡선 $y = x^3 - 6x^2 + 6$ 위의 점 (1, 1)에서의 접선이 점 (0, a)를 지날 때, a의 값을 구하시오.

[출처] 2022 모의_공공 교육청 고3 10월 공통범위 6

56. 함수 $f(x) = x^3 - 2x^2 + 2x + a$ 에 대하여 곡선 $y = f(x)$ 위의 점 $(1, f(1))$ 에서의 접선이 x 축, y 축과 만나는 점을 각각 P, Q라 하자. $\overline{PQ} = 6$ 일 때, 양수 a 의 값은?

- ① $2\sqrt{2}$ ② $\frac{5\sqrt{2}}{2}$ ③ $3\sqrt{2}$
- ④ $\frac{7\sqrt{2}}{2}$ ⑤ $4\sqrt{2}$

[출처] 2022 모의_공공 사관학교 고3 07월 공통범위 17

57. 함수 $f(x) = 3x^3 - x + a$ 에 대하여 곡선 $y = f(x)$ 위의 점 $(1, f(1))$ 에서의 접선이 원점을 지날 때, 상수 a 의 값을 구하시오.

04 수2

04 접선의 방정식

01 접선의 방정식

02 접점2 (법선의 방정식)

[출처] 2020 모의_공공 평가원 고3 11월 9

58. 곡선 $y = x^3 - 3x^2 + 2x + 2$ 위의 점 $A(0, 2)$ 에서 접선과 수직이고 점 A를 지나는 직선의 x 절편은?

- ① 4 ② 6 ③ 8
- ④ 10 ⑤ 12

04 수2

04 접선의 방정식

01 접선의 방정식

05 기울기2 (접점의 좌표)

[출처] 2020 모의_공공 사관학교 고3 07월 9

59. 곡선 $y = -x^3 + 3x^2 + 4$ 에 접하는 직선 중에서 기울기가 최대인 직선을 l 이라 하자. 직선 l 과 x 축 및 y 축으로 둘러싸인 부분의 넓이는?

- ① $\frac{3}{2}$ ② 2 ③ $\frac{5}{2}$
- ④ 3 ⑤ $\frac{7}{2}$

04 수2

04 접선의 방정식

01 접선의 방정식

07 곡선 밖의 점1 (접선의 방정식)

[출처] 2022 모의_공공 평가원 고3 11월

60. 점 $(0, 4)$ 에서 곡선 $y = x^3 - x + 2$ 에 그은 접선의 x 절편은?

- ① $-\frac{1}{2}$ ② -1 ③ $-\frac{3}{2}$
- ④ -2 ⑤ $-\frac{5}{2}$

04 수2

04 접선의 방정식

01 접선의 방정식

08 곡선 밖의 점2 (접점의 좌표)

[출처] 2021 모의_공공 평가원 고3 예비 공통범위 9

61. 원점을 지나고 곡선 $y = -x^3 - x^2 + x$ 에 접하는 모든

직선의 기울기의 합은?

- ① 2 ② $\frac{9}{4}$ ③ $\frac{5}{2}$
- ④ $\frac{11}{4}$ ⑤ 3

04 수2

04 접선의 방정식

02 접선의 방정식의 활용

01 활용1 (접선과 교점의 관계)

[출처] 2021 모의_공공 경찰대 고3 07월 7

62. 실수 k 에 대하여 함수

$$f(x) = x^3 + kx^2 + (2k-1)x + k + 3$$

의 그래프가 k 의 값에 관계없이 항상 점 P 를 지난다.

곡선 $y = f(x)$ 위의 점 P 에서의 접선이 곡선 $y = f(x)$ 와 오직 한 점에서 만난다고 할 때, k 의 값은?

- ① 1 ② 2 ③ 3
- ④ 4 ⑤ 5

[출처] 2022 모의_공공 평가원 고3 09월 공통범위 8

63. 곡선 $y = x^3 - 4x + 5$ 위의 점 $(1, 2)$ 에서의 접선이 곡선

$y = x^4 + 3x + a$ 에 접할 때, 상수 a 의 값은?

- ① 6 ② 7 ③ 8
- ④ 9 ⑤ 10

04 수2

04 접선의 방정식

02 접선의 방정식의 활용

02 활용2 (접선에 대한 조건)

[출처] 2022 모의_공공 경찰대 고3 07월 13

64. 좌표평면 위의 점 (a, b) 에서 곡선 $y = x^2$ 에 그은 두

접선이 서로 수직이고

$$a^2 + b^2 \leq \frac{37}{16}$$

일 때, $a+b$ 의 최댓값을 p , 최솟값을 q 라 하자. pq 의 값은?

- ① $-\frac{33}{16}$ ② $-\frac{35}{16}$ ③ $-\frac{37}{16}$
- ④ $-\frac{39}{16}$ ⑤ $-\frac{41}{16}$

04 수2

04 접선의 방정식

02 접선의 방정식의 활용

04 활용4 (곡선과 원의 접선)

[출처] 2020 모의_공공 경찰대 고3 07월 13

65. 곡선 $y = x^3 + 1$ 위의 점 $(1, 2)$ 에서의 접선을 l 이라 하자. 중심이 y 축 위에 있는 원이 점 $(1, 2)$ 에서 직선 l 에 접할 때, 이 원의 넓이는?

- ① $\frac{5}{9}\pi$ ② $\frac{8}{9}\pi$ ③ π
- ④ $\frac{10}{9}\pi$ ⑤ $\frac{13}{9}\pi$

04 수2

04 접선의 방정식

02 접선의 방정식의 활용

05 활용5 (함수 구하기)

[출처] 2021 모의_공공 평가원 고3 11월 10

66. 삼차함수 $f(x)$ 에 대하여 곡선 $y = f(x)$ 위의 점 $(0, 0)$ 에서의 접선과 곡선 $y = xf(x)$ 위의 점 $(1, 2)$ 에서의 접선이 일치할 때, $f'(2)$ 의 값은?

- ① -18 ② -17 ③ -16
- ④ -15 ⑤ -14

04 수2

04 접선의 방정식

02 접선의 방정식의 활용

06 활용6 (정의된 함수)

[출처] 2021 모의_공공 경찰대 고3 07월 9

67. 삼차함수 $f(x) = x^3 + x^2$ 의 그래프 위의 두 점 $(t, f(t))$ 와 $(t+1, f(t+1))$ 에서의 접선의 y 절편을 각각 $g_1(t)$ 와 $g_2(t)$ 라 하자. 함수 $h(t) = |g_1(t) - g_2(t)|$ 의 최솟값은?

- ① $\frac{1}{3}$ ② $\frac{2}{3}$ ③ 1
- ④ $\frac{4}{3}$ ⑤ $\frac{5}{3}$

04 수2

04 접선의 방정식

03 평균값의 정리

04 평균값의 정리3 (부등식의 해석)

[출처] 2022 모의_공공 평가원 고3 06월 공통범위 8

68. 실수 전체의 집합에서 미분가능하고 다음 조건을 만족시키는 모든 함수 $f(x)$ 에 대하여 $f(5)$ 의 최솟값은?

(가) $f(1) = 3$
 (나) $1 < x < 5$ 인 모든 실수 x 에 대하여 $f'(x) \geq 5$ 이다.

- ① 21 ② 22 ③ 23
- ④ 24 ⑤ 25

[수학2] [02미분계수-접방] 교사평경 최근 3개년(빠른 정답)

년도별경향

2022.12.28

- 1. [정답] ①
- 2. [정답] 3
- 3. [정답] ①
- 4. [정답] ④
- 5. [정답] ③

- 6. [정답] ①
- 7. [정답] 17
- 8. [정답] 19
- 9. [정답] ④
- 10. [정답] ①

- 11. [정답] 7
- 12. [정답] ⑤
- 13. [정답] ③
- 14. [정답] ⑤
- 15. [정답] 2

- 16. [정답] ②
- 17. [정답] 10
- 18. [정답] ⑤
- 19. [정답] 13
- 20. [정답] 11

- 21. [정답] ⑤
- 22. [정답] ②
- 23. [정답] ①
- 24. [정답] ③
- 25. [정답] ③

- 26. [정답] ③
- 27. [정답] ⑤
- 28. [정답] ①
- 29. [정답] ②
- 30. [정답] 22

- 31. [정답] ②
- 32. [정답] 10
- 33. [정답] 18
- 34. [정답] ②

- 35. [정답] ①
- 36. [정답] ①
- 37. [정답] ③
- 38. [정답] 24
- 39. [정답] ③
- 40. [정답] ③

- 41. [정답] 10
- 42. [정답] ③
- 43. [정답] ②
- 44. [정답] ③
- 45. [정답] 18

- 46. [정답] ④
- 47. [정답] ②
- 48. [정답] ③
- 49. [정답] ④
- 50. [정답] ④

- 51. [정답] ②
- 52. [정답] ③
- 53. [정답] ④
- 54. [정답] ②
- 55. [정답] 10

- 56. [정답] ③
- 57. [정답] 6
- 58. [정답] ①
- 59. [정답] ①
- 60. [정답] ④

- 61. [정답] ②
- 62. [정답] ③
- 63. [정답] ①
- 64. [정답] ②
- 65. [정답] ④

- 66. [정답] ⑤
- 67. [정답] ①
- 68. [정답] ③

[수학2] [02미분계수-접방] 교사평경 최근 3개년(해설)

년도별경향

2022.12.28

1) [정답] ①

[해설]

함수 $f(x) = x^3 + x^2 - 2x$ 에서 x 의 값이 0에서 k 까지 변할 때의 평균변화율은

$$\frac{f(k) - f(0)}{k - 0} = \frac{(k^3 + k^2 - 2k) - 0}{k - 0} = k^2 + k - 2$$

$$k^2 + k - 2 = 10$$

$$(k + 4)(k - 3) = 0 \text{에서 } k = -4 \text{ 또는 } k = 3$$

따라서 양수 k 의 값은 3

2) [정답] 3

[해설]

함수 $f(x)$ 에서 x 의 값이 0에서 a 까지 변할 때의 평균변화율은

$$\frac{f(a) - f(0)}{a - 0} = \frac{a^3 - 3a^2 + 5a}{a}$$

$$= a^2 - 3a + 5$$

또 $f'(x) = 3x^2 - 6x + 5$ 이므로

$$f'(2) = 12 - 12 + 5 = 5$$

따라서 $a^2 - 3a + 5 = 5$ 에서

$$a(a - 3) = 0$$

$$a = 0 \text{ 또는 } a = 3$$

$a > 0$ 이므로 $a = 3$

3) [정답] ①

[해설]

$$\lim_{h \rightarrow 0} \frac{f(3+h) - 4}{2h} = 1 \text{이고 } \lim_{h \rightarrow 0} 2h = 0 \text{이므로}$$

$$\lim_{h \rightarrow 0} \{f(3+h) - 4\} = 0, f(3) = 4$$

$$\frac{1}{2} \times \lim_{h \rightarrow 0} \frac{f(3+h) - f(3)}{h} = \frac{f'(3)}{2} = 1$$

$$f'(3) = 2$$

따라서 $f(3) + f'(3) = 6$

4) [정답] ④

[해설]

미분계수의 정의에 의하여 $\lim_{x \rightarrow 2} \frac{f(x) - f(2)}{x - 2} = f'(2)$ 이므로

$$f'(2) = 3$$

$$\lim_{h \rightarrow 0} \frac{f(2+h) - f(2-h)}{h}$$

$$= \lim_{h \rightarrow 0} \frac{f(2+h) - f(2) + f(2) - f(2-h)}{h}$$

$$= \lim_{h \rightarrow 0} \frac{f(2+h) - f(2)}{h} + \lim_{h \rightarrow 0} \frac{f(2) - f(2-h)}{-h}$$

$$= f'(2) + f'(2)$$

$$= 2f'(2)$$

$$= 6$$

5) [정답] ③

[해설]

조건 (가)에서 $x \rightarrow 1$ 일 때, (분모) $\rightarrow 0$ 이므로 (분자) $\rightarrow 0$ 이다. 즉, $f(1) = g(1) \dots \dots \textcircled{1}$

$$\lim_{x \rightarrow 1} \frac{f(x) - g(x)}{x - 1} = \lim_{x \rightarrow 1} \frac{\{f(x) - f(1)\} - \{g(x) - g(1)\}}{x - 1} = 5$$

$$\text{즉, } f'(1) - g'(1) = 5 \dots \dots \textcircled{2}$$

조건 (나)에서

$$\lim_{x \rightarrow 1} \frac{f(x) + g(x) - 2f(1)}{x - 1} = \lim_{x \rightarrow 1} \frac{\{f(x) - f(1)\} + \{g(x) - g(1)\}}{x - 1}$$

$$= 7$$

$$\text{즉, } f'(1) + g'(1) = 7 \dots \dots \textcircled{3}$$

$$\lim_{x \rightarrow 1} \frac{f(x) - a}{x - 1} = b \times g(1) \text{에서 } x \rightarrow 1 \text{일 때,}$$

(분모) $\rightarrow 0$ 이므로 (분자) $\rightarrow 0$ 이다.

$$\text{즉, } a = f(1) \text{이고 } \lim_{x \rightarrow 1} \frac{f(x) - f(1)}{x - 1} = f'(1)$$

$$\textcircled{1} \text{에서 } f(1) = g(1) \text{이므로 } f'(1) = b \times f(1) = ab$$

$$\textcircled{2}, \textcircled{3} \text{을 연립해서 풀면 } f'(1) = 6$$

따라서 $ab = 6$

6) [정답] ①

[해설]

$f(x) = x^4 + 3x - 2$ 의 양변을 x 에 대하여 미분하면

$$f'(x) = 4x^3 + 3$$

$x = 2$ 를 대입하면 $f'(2) = 32 + 3 = 35$

7) [정답] 17

[해설]

$f'(x) = 4x^3 + 6x + 7$ 이므로

$$f'(1) = 4 + 6 + 7 = 17$$

8) [정답] 19

[해설]

$f'(x) = 4x^3 + 6x + 9$ 이므로 $f'(1) = 19$

9) [정답] ④

[해설]

$f'(x) = 3x^2 + 7$ 이므로

$$f'(0) = 7$$

10) [정답] ①

[해설]

$$f'(x) = 3x^2 - 2$$

따라서

$$f'(1) = 3 \times 1^2 - 2 = 1$$

11) [정답] 7

[해설]

$f(x) = 4x^3 - 5x + 9$ 라 하면

$$f'(x) = 12x^2 - 5, f'(1) = 7$$

12) [정답] ⑤

[해설]

$f(x) = 2x^3 + 4x + 5$ 에서 $f'(x) = 6x^2 + 4$ 이므로

$$f'(1) = 6 + 4 = 10$$

13) [정답] ③

[해설]

$$f'(x) = 3x^2 + 3 \text{에서 } f'(1) = 3 + 3 = 6$$

14) [정답] ⑤

[해설]

$$f'(x) = 3x^2 + 6x + 1$$

이므로

$$f'(1) = 3 + 6 + 1 = 10$$

15) [정답] 2

[해설]

$f(x) = x^2 + ax$ 에서 $f'(x) = 2x + a$

$$f'(1) = 2 + a = 4 \text{에서 } a = 2$$

16) [정답] ②

[해설]

$f'(x) = 2x - a$ 이므로 $f'(1) = 2 - a = 0$

따라서 $a = 2$

17) [정답] 10

[해설]

$f'(x) = 4x + a$ 이므로 $f'(2) = 8 + a = 18$ 에서 $a = 10$

18) [정답] ⑤

[해설]

함수 $f(x) = x^3 - 3x$ 에서 x 의 값이 1에서 4까지

변할 때의 평균변화율은

$$\frac{f(4) - f(1)}{4 - 1} = \frac{(64 - 12) - (1 - 3)}{3} = 18$$

곡선 $y = f(x)$ 위의 점 $(k, f(k))$ 에서의

접선의 기울기는 $f'(k) = 3k^2 - 3$ 이므로

$$3k^2 - 3 = 18, k^2 = 7$$

$k > 0$ 이므로 $k = \sqrt{7}$

19) [정답] 13

[해설]

$f'(x) = 3x^2 + a$ 에서 x 의 값이 1에서 3까지 변할 때의 함수 $f(x)$ 의 평균변화율이 $f'(a)$ 의 값과 같으므로

$$\frac{f(3) - f(1)}{3 - 1} = f'(a)$$

$$\frac{3^3 + 3a - (1^3 + a)}{2} = 3a^2 + a$$

따라서 $3a^2 = 13$

20) [정답] 11

[해설]

함수 $f(x) = x^3 - 6x^2 + 5x$ 에서 x 의 값이 0에서 4까지 변할 때의 평균변화율은

$$\frac{f(4) - f(0)}{4 - 0} = \frac{64 - 96 + 20}{4} = -3$$

또한, $f'(x) = 3x^2 - 12x + 5$ 이므로

$$3a^2 - 12a + 5 = -3, \quad 3a^2 - 12a + 8 = 0 \quad \dots \textcircled{1}$$

①을 만족시키는 모든 실수 a 는 $0 < a < 4$ 를 만족시키므로 모든 실수 a 의 값의 곱은 이차방정식의 근과 계수의 관계에 의하여 $\frac{8}{3}$ 이다.

따라서 $p = 3, q = 8$ 이므로 $p + q = 11$

21) [정답] ⑤

[해설]

$$f'(x) = 3x^2 + 7 \text{에서 } f'(1) = 10$$

22) [정답] ②

[해설]

$$f'(x) = 3x^2 + 4x + 3 \text{이므로}$$

$$f'(-1) = 3 - 4 + 3 = 2$$

23) [정답] ①

[해설]

$$f'(x) = 3x^2 + 2 \text{이므로 } f'(1) = 5$$

24) [정답] ③

[해설]

$$\frac{f(a+1) - f(a)}{(a+1) - a} = 4a - 1 = 7 \text{에서 } a = 2 \text{이다.}$$

한편 $f'(x) = 4x - 3$ 이므로

$$\lim_{h \rightarrow 0} \frac{f(a+2h) - f(a)}{h} = 2 \lim_{h \rightarrow 0} \frac{f(a+2h) - f(a)}{2h}$$

$$= 2f'(a)$$

$$= 2f'(2) = 10$$

25) [정답] ③

[해설]

다항함수 $f(x)$ 는 $x = 2$ 에서 미분가능하다.

$$\lim_{h \rightarrow 0} \frac{f(2+2h) - f(2)}{h}$$

$$= \lim_{h \rightarrow 0} \left\{ \frac{f(2+2h) - f(2)}{2h} \times 2 \right\}$$

$$= 2 \lim_{h \rightarrow 0} \frac{f(2+2h) - f(2)}{2h} = 2f'(2)$$

$f'(x) = 3x^2 - 4x$ 이므로

$$f'(2) = 3 \times 2^2 - 4 \times 2 = 4$$

따라서 구하는 값은

$$2f'(2) = 2 \times 4 = 8$$

26) [정답] ③

[해설]

$f(x)$ 가 다항함수이므로 $f(x)$ 는 $x = 2$ 에서 미분가능하다.

$$\text{한편, } \lim_{h \rightarrow 0} \frac{f(2+h) - f(2)}{h} = f'(2) \text{에서 } f'(2) = 9$$

$$f(x) = x^3 - 2x^2 + ax + 1 \text{에서 } f'(x) = 3x^2 - 4x + a$$

$$\text{그러므로 } f'(2) = 3 \times 2^2 - 4 \times 2 + a = a + 4$$

따라서 $a + 4 = 9$ 에서 $a = 5$

27) [정답] ⑤

[해설]

$$\lim_{h \rightarrow 0} \frac{f(2+h) - f(2)}{h \times f(h)} = \lim_{h \rightarrow 0} \frac{f(2+h) - f(2)}{h} \times \frac{1}{f(h)}$$

$$= f'(2) \times \frac{1}{f(0)} = 1$$

$$f'(2) = f(0) = 6 \text{이므로 } f'(x) = 3x^2 - 8x + a \text{에서}$$

$$f'(2) = -4 + a = 6$$

$$\therefore a = 10$$

28) [정답] ①

[해설]

함수 $f(x) = 2x^2 + 5$ 에서 $f'(x) = 4x$

$$\therefore \lim_{x \rightarrow 2} \frac{f(x) - f(2)}{x - 2} = f'(2) = 4 \cdot 2 = 8$$

29) [정답] ②

[해설]

$f(x) = x^3 + 9$ 에서

$$f'(x) = 3x^2$$

이므로

$$\lim_{h \rightarrow 0} \frac{f(2+h) - f(2)}{h} = f'(2)$$

$$= 3 \times 2^2 = 12$$

30) [정답] 22

[해설]

$$\begin{aligned} f'(x) &= (2x+3)' \times (x^2+5) + (2x+3) \times (x^2+5)' \\ &= 2(x^2+5) + (2x+3) \times 2x \\ &= 6x^2 + 6x + 10 \end{aligned}$$

$$f'(1) = 6 + 6 + 10 = 22$$

31) [정답] ②

[해설]

$$f'(x) = (3x^2 - 2)(ax + 3) + (x^3 - 2x + 3)a$$

$$f'(1) = 15 = (a + 3) + 2a$$

$$\therefore a = 4$$

32) [정답] 10

[해설]

곱의 미분법에 의해 함수 $f(x)g(x)$ 의 도함수는

$$\{f(x)g(x)\}' = f'(x)g(x) + f(x)g'(x)$$

$$f'(x) = 4x + 5, g'(x) = 3x^2 \text{ 이므로}$$

$$f'(0)g(0) + f(0)g'(0) = 5 \times 2 + 3 \times 0 = 10$$

33) [정답] 18

[해설]

$f(x) = (x+3)(x^3+x)$ 의 양변을 미분하면

$$f'(x) = 1 \cdot (x^3+x) + (x+3)(3x^2+1)$$

$$\text{따라서 } f'(1) = 2 + 4 \cdot 4 = 18$$

34) [정답] ②

[해설]

$f'(x) = (3x^2 - 4x)(ax + 1) + a(x^3 - 2x^2 + 3)$ 에서

$$f'(0) = 3a = 15$$

$$\therefore a = 5$$

35) [정답] ①

[해설]

$$\lim_{x \rightarrow 0} \frac{f(x) + g(x)}{x} = 3 \text{에서 } x \rightarrow 0 \text{일 때 (분모)} \rightarrow 0 \text{이고}$$

극한값이 존재하므로 (분자) $\rightarrow 0$ 이어야 한다.

즉, $\lim_{x \rightarrow 0} \{f(x) + g(x)\} = 0$ 이고 두 다항함수 $f(x), g(x)$ 는

연속함수이므로

$$f(0) + g(0) = 0 \dots \text{㉠}$$

$$\lim_{x \rightarrow 0} \frac{f(x) + g(x)}{x} = \lim_{x \rightarrow 0} \frac{f(x) + g(x) - f(0) - g(0)}{x}$$

$$= \lim_{x \rightarrow 0} \left\{ \frac{f(x) - f(0)}{x} + \frac{g(x) - g(0)}{x} \right\}$$

$$= f'(0) + g'(0) = 3 \dots \text{㉡}$$

$$\text{또 } \lim_{x \rightarrow 0} \frac{f(x) + 3}{xg(x)} = 2 \text{에서 } x \rightarrow 0 \text{일 때 (분모)} \rightarrow 0 \text{이고}$$

극한값이 존재하므로 (분자) $\rightarrow 0$ 이어야 한다. 즉,

$\lim_{x \rightarrow 0} \{f(x) + 3\} = 0$ 이고 다항함수 $f(x)$ 는 연속함수이므로

$$f(0) + 3 = 0 \text{에서 } f(0) = -3 \text{이므로 } \text{㉠에서 } g(0) = 3$$

$$\lim_{x \rightarrow 0} \frac{f(x) + 3}{xg(x)} = \lim_{x \rightarrow 0} \left\{ \frac{f(x) - f(0)}{x} \times \frac{1}{g(x)} \right\}$$

$$= \frac{f'(0)}{g(0)} = \frac{f'(0)}{3} = 2$$

$$\text{에서 } f'(0) = 6$$

$$\text{㉡에서 } g'(0) = -3$$

따라서

$$h'(0) = f'(0)g(0) + f(0)g'(0) = 6 \times 3 + (-3) \times (-3) = 27$$

36) [정답] ①

[해설]

$$\text{(가)에서 } \lim_{x \rightarrow 1} \{f(x)g(x) + 4\} = 0$$

함수 $f(x)$ 와 $g(x)$ 가 $x=1$ 에서 연속이므로

$f(1)g(1) = -2g(1) = -4$ 에서 $g(1) = 2$ ㉠

$g(x)$ 는 일차함수이므로 $g(x) = ax + b$ 라 하면

$g'(x) = a$ ㉡

(나)에서 $g(0) = g'(0)$ 이므로 $b = a$

그런데 ㉠에서 $a + b = 2$ 이므로 $a = 1, b = 1$

㉡에서 $g'(1) = 1$

$\lim_{x \rightarrow 1} \frac{f(x)g(x) + 4}{x - 1}$ 는 함수 $f(x)g(x)$ 의 $x = 1$ 에서의 미분계수이므로

$$\lim_{x \rightarrow 1} \frac{f(x)g(x) + 4}{x - 1} = f'(1)g(1) + f(1)g'(1)$$

즉, $f'(1)g(1) + f(1)g'(1) = 2f'(1) - 2 = 8$

따라서 $f'(1) = 5$

37) [정답] ③

[해설]

$\lim_{x \rightarrow 1} \frac{f(x) - a + 2}{x - 1} = 4$ 이고 $\lim_{x \rightarrow 1} (x - 1) = 0$ 이므로

$\lim_{x \rightarrow 1} \{f(x) - a + 2\} = 0$

함수 $f(x)$ 는 다항함수이므로

$\lim_{x \rightarrow 1} f(x) = f(1) = a - 2$

$\lim_{x \rightarrow 1} \frac{f(x) - a + 2}{x - 1} = \lim_{x \rightarrow 1} \frac{f(x) - f(1)}{x - 1} = f'(1) = 4$

$\lim_{x \rightarrow 1} \frac{g(x) + a - 2}{x - 1} = a$ 이고 $\lim_{x \rightarrow 1} (x - 1) = 0$ 이므로

$\lim_{x \rightarrow 1} \{g(x) + a - 2\} = 0$

함수 $g(x)$ 는 다항함수이므로

$\lim_{x \rightarrow 1} g(x) = g(1) = -a + 2$

$\lim_{x \rightarrow 1} \frac{g(x) + a - 2}{x - 1} = \lim_{x \rightarrow 1} \frac{g(x) - g(1)}{x - 1} = g'(1) = a$

함수 $f(x)g(x)$ 의 $x = 1$ 에서의 미분계수는

$$f'(1)g(1) + f(1)g'(1) = 4 \times (-a + 2) + (a - 2) \times a = a^2 - 6a + 8 = -1$$

$a^2 - 6a + 9 = 0$ 에서 $(a - 3)^2 = 0$

따라서 $a = 3$

38) [정답] 24

[해설]

$\lim_{x \rightarrow 2} \frac{f(x) - 4}{x^2 - 4} = 2$ 에서 (분모) $\rightarrow 0$ 이고 극한값이 존재하므로

(분자) $\rightarrow 0$ 이다.

$\lim_{x \rightarrow 2} \{f(x) - 4\} = 0$ 이므로 $f(2) = 4$

$$\begin{aligned} \lim_{x \rightarrow 2} \frac{f(x) - 4}{x^2 - 4} &= \lim_{x \rightarrow 2} \left\{ \frac{1}{x + 2} \times \frac{f(x) - f(2)}{x - 2} \right\} \\ &= \frac{1}{4} f'(2) = 2 \end{aligned}$$

따라서 $f'(2) = 8$ 이므로 $\lim_{x \rightarrow 2} \frac{g(x) + 1}{x - 2} = 8$ 에서 (분모) $\rightarrow 0$ 이고

극한값이 존재하므로 (분자) $\rightarrow 0$ 이다.

$\lim_{x \rightarrow 2} \{g(x) + 1\} = 0$ 이므로 $g(2) = -1$

$$\lim_{x \rightarrow 2} \frac{g(x) + 1}{x - 2} = \lim_{x \rightarrow 2} \frac{g(x) - g(2)}{x - 2} = g'(2) = 8$$

$h'(x) = f'(x)g(x) + f(x)g'(x)$

따라서 $h'(2) = f'(2)g(2) + f(2)g'(2) = 24$

39) [정답] ③

[해설]

$\lim_{x \rightarrow \infty} \sum_{k=1}^4 \left\{ x f \left(1 + \frac{3^k}{x} \right) g \left(1 + \frac{3^k}{x} \right) \right\}$ 에서 $\frac{1}{x} = h, p(x) = f(x)g(x)$ 라 하면

$$\lim_{x \rightarrow \infty} \sum_{k=1}^4 \left\{ x f \left(1 + \frac{3^k}{x} \right) g \left(1 + \frac{3^k}{x} \right) \right\}$$

$$= \lim_{h \rightarrow 0} \sum_{k=1}^4 \frac{p(1 + 3^k h)}{h}$$

$$= \lim_{h \rightarrow 0} \sum_{k=1}^4 \frac{p(1 + 3^k h) - p(1)}{3^k h} \cdot 3^k \quad (\because p(1) = f(1)g(1) = 0)$$

$$= \sum_{k=1}^4 p'(1) \cdot 3^k$$

$$= \{f'(1)g(1) + f(1)g'(1)\} \sum_{k=1}^4 3^k$$

$$= 4 \sum_{k=1}^4 3^k$$

$$= 4 \times \frac{3(3^4 - 1)}{3 - 1}$$

$$= 480$$

40) [정답] ③

[해설]

$g(x) = (x^2 + 3)f(x)$ 에서

$g'(x) = 2xf(x) + (x^2 + 3)f'(x)$

따라서 $g'(1) = 2f(1) + 4f'(1) = 2 \times 2 + 4 \times 1 = 8$

41) [정답] 10

[해설]

$$g'(x) = f(x) + (x+1)f'(x) \text{이므로}$$

$$g'(1) = f(1) + 2f'(1) = 10$$

42) [정답] ③

[해설]

$g(x) = x^2 f(x)$ 를 x 에 대하여 미분하면

$$g'(x) = 2xf(x) + x^2 f'(x)$$

이때, $f(2) = 1, f'(2) = 3$ 이므로

$$g'(2) = 4f(2) + 4f'(2)$$

$$= 4 \times 1 + 4 \times 3$$

$$= 16$$

43) [정답] ②

[해설]

세 실근을 a, ar, ar^2 이라 하면

$$f(x) = (x-a)(x-ar)(x-ar^2) + 9$$

$$= x^3 - a(1+r+r^2)x^2 + a^2r(1+r+r^2)x - (ar)^3 + 9$$

$$f'(x) = 3x^2 - 2a(1+r+r^2)x + a^2r(1+r+r^2)$$

$$f(0) = -(ar)^3 + 9 = 1$$

$$f'(2) = 12 - 4a(1+r+r^2) + a^2r(1+r+r^2)$$

$$= -2$$

$$ar = 2, a(1+r+r^2) = 7$$

$$\therefore f(3) = 27 - 63 + 42 + 1 = 7$$

44) [정답] ③

[해설]

이차함수 $f(x)$ 는 최고차항의 계수가 1이고

함수 $y = f(x)$ 의 그래프는 x 축에 접하므로

$$f(x) = (x-a)^2 \text{ (단, } a \text{는 상수이다.)}$$

$$f(x) = (x-a)(x-a) \text{이므로}$$

$$f'(x) = 2(x-a)$$

$$g(x) = (x-3)f'(x) = 2(x-a)(x-3)$$

$$= 2x^2 - 2(a+3)x + 6a$$

함수 $y = g(x)$ 의 그래프가 y 축에 대하여 대칭이므로

x 의 계수가 0이다. 즉, $a = -3$

따라서 $f(x) = (x+3)^2$ 에서 $f(0) = 3^2 = 9$

45) [정답] 18

[해설]

조건 (가)에서 $\lim_{x \rightarrow 1} \frac{f(x)}{x-1} = 3$ 이고

$$\lim_{x \rightarrow 1} (x-1) = 0 \text{이므로 } \lim_{x \rightarrow 1} f(x) = 0$$

함수 $f(x)$ 는 $x=1$ 에서 연속이므로 $f(1) = 0$ ㉠

조건 (나)에서 $\lim_{x \rightarrow 2} \frac{f(x)}{(x-2)f'(x)} = \alpha (\alpha \neq 1)$ 이고

$$\lim_{x \rightarrow 2} (x-2)f'(x) = 0 \text{이므로 } \lim_{x \rightarrow 2} f(x) = 0$$

함수 $f(x)$ 는 $x=2$ 에서 연속이므로 $f(2) = 0$ ㉡

㉠, ㉡에 의해

$$f(x) = k(x-1)(x-2)(x+a) \text{ (} k, a \text{는 상수, } k \neq 0 \text{)}$$

$$f'(x) = k\{(x-2)(x+a) + (x-1)(x+a) + (x-1)(x-2)\}$$

$a \neq -2$ 라 하면

$$\lim_{x \rightarrow 2} \frac{f(x)}{(x-2)f'(x)} = \lim_{x \rightarrow 2} \frac{k(x-1)(x+a)}{f'(x)}$$

$$= \frac{2+a}{2+a}$$

$$= 1 \neq \alpha$$

그러므로 $a = -2$ 이며 $f(x) = k(x-1)(x-2)^2$

$$\alpha = \lim_{x \rightarrow 2} \frac{f(x)}{(x-2)f'(x)}$$

$$= \lim_{x \rightarrow 2} \frac{k(x-1)(x-2)^2}{(x-2)\{k(x-2)^2 + 2k(x-1)(x-2)\}}$$

$$= \lim_{x \rightarrow 2} \frac{(x-1)}{(x-2) + 2(x-1)}$$

$$= \frac{1}{0+2 \times 1} = \frac{1}{2}$$

조건 (가)에서

$$\lim_{x \rightarrow 1} \frac{f(x)}{x-1} = \lim_{x \rightarrow 1} \frac{f(x)-f(1)}{x-1} = f'(1) = 3 \text{이므로 } k = 3$$

따라서 $\alpha \times f(4) = \frac{1}{2} \times (3 \times 3 \times 2^2) = 18$

46) [정답] ④

[해설]

$$\lim_{x \rightarrow 3} \frac{f(x)-g(x)}{x-3} = 1 \text{이고 } \lim_{x \rightarrow 3} (x-3) = 0 \text{이므로}$$

$$\lim_{x \rightarrow 3} \{f(x)-g(x)\} = 0$$

$f(x), g(x)$ 가 모두 다항함수이므로 $f(3) = g(3)$ 이고

$$f(3) = 2 \text{이므로 } g(3) = 2$$

$$\lim_{x \rightarrow 3} \frac{f(x)-g(x)}{x-3} = \lim_{x \rightarrow 3} \frac{\{f(x)-f(3)\} - \{g(x)-g(3)\}}{x-3}$$

$$= f'(3) - g'(3) = 1$$

$f'(3) = 1$ 이므로 $g'(3) = 0$

$g(x) = x^2 + ax + b$ (a, b 는 상수)라 하면

$$g'(x) = 2x + a$$

$g(3) = 9 + 3a + b = 2$, $g'(3) = 6 + a = 0$ 에서

$$a = -6, b = 11$$

따라서 $g(1) = 1 - 6 + 11 = 6$

47) [정답] ②

[해설]

$$\neg. \lim_{x \rightarrow 1^-} g(x) = \lim_{x \rightarrow 1^-} f(x) = f(1),$$

$$\lim_{x \rightarrow 1^+} g(x) = \lim_{x \rightarrow 1^+} \{2f(1) - f(x)\} = f(1),$$

$$g(1) = 2f(1) - f(1) = f(1)$$

이므로 함수 $g(x)$ 는 $x = 1$ 에서 연속이다.

따라서 함수 $g(x)$ 는 실수 전체의 집합에서 연속이다. (참)

$$\sqcup. \lim_{h \rightarrow 0^+} \frac{g(-1+h) + g(-1-h) - 6}{h} = a \text{에서 극한값이}$$

존재하고 (분모) $\rightarrow 0$ 이므로 (분자) $\rightarrow 0$ 이어야 한다.

$$\lim_{h \rightarrow 0^+} \{g(-1+h) + g(-1-h) - 6\} = 0 \text{에서 } g(-1) = 3$$

$$\therefore f(-1) = 3$$

$$\lim_{h \rightarrow 0^+} \frac{g(-1+h) + g(-1-h) - 6}{h}$$

$$= \lim_{h \rightarrow 0^+} \left\{ \frac{g(-1+h) - g(-1)}{h} - \frac{g(-1-h) - g(-1)}{-h} \right\}$$

$$= g'(-1) - g'(-1)$$

$$= 0$$

$$\therefore a = 0$$

또한, $g(1) = 1$ 에서 $f(1) = 1$

$f(x) = x^2 + px + q$ 라 하면

$$f(-1) = 3 \text{에서 } 1 - p + q = 3, p - q = -2 \quad \dots\dots \textcircled{㉠}$$

$$f(1) = 1 \text{에서 } 1 + p + q = 1, p + q = 0 \quad \dots\dots \textcircled{㉡}$$

①, ②를 연립하면 $p = -1, q = 1$

따라서 $f(x) = x^2 - x + 1$ 이므로

$$g(a) = g(0) = f(0) = 1 \text{ (참)}$$

$$\sqcap. b \neq 1 \text{이면 } \lim_{h \rightarrow 0^+} \frac{g(b+h) + g(b-h) - 6}{h} = 0 \text{이므로 } b = 1 \text{이다.}$$

$$\lim_{h \rightarrow 0^+} \frac{g(1+h) + g(1-h) - 6}{h} = 4 \text{에서 극한값이 존재하고}$$

(분모) $\rightarrow 0$ 이므로 (분자) $\rightarrow 0$ 이어야 한다.

$$\lim_{h \rightarrow 0^+} \{g(1+h) + g(1-h) - 6\} = 0 \text{에서}$$

$$g(1) = 3 \quad \therefore f(1) = 3$$

$$\lim_{h \rightarrow 0^+} \frac{g(1+h) + g(1-h) - 6}{h}$$

$$= \lim_{h \rightarrow 0^+} \frac{2f(1) - f(1+h) + f(1-h) - 6}{h}$$

$$= \lim_{h \rightarrow 0^+} \frac{f(1-h) - f(1+h)}{h}$$

$$= -2f'(1)$$

따라서 $-2f'(1) = 4$ 에서 $f'(1) = -2$

$f(x) = x^2 + rx + s$ 라 하면 $f'(x) = 2x + r$

$$f(1) = 3 \text{에서 } 1 + r + s = 3, r + s = 2 \quad \dots\dots \textcircled{㉢}$$

$$f'(1) = -2 \text{에서 } 2 + r = -2, r = -4$$

$r = -4$ 를 ③에 대입하면 $s = 6$

따라서 $f(x) = x^2 - 4x + 6$ 이므로

$$g(4) = 2f(1) - f(4) = 6 - 6 = 0 \text{ (거짓)}$$

따라서 옳은 것은 ㉠, ㉡이다.

48) [정답] ③

[해설]

주어진 등식의 양변에 $x = 0$ 을 대입하면 $f(0) = 0$

다항함수 $f(x)$ 의 차수를 n 이라 하자.

(i) $n \leq 1$ 일 때, 주어진 등식의 좌변의 차수는

1 이하이고, 우변의 차수는 2이므로 등식이 성립하지 않는다.

(ii) $n = 2$ 일 때, 주어진 등식의 좌변의 이차항의 계수는

-1이고, 우변의 이차항의 계수는 2이므로 등식이 성립하지 않는다.

(iii) $n \geq 3$ 일 때, 주어진 등식의 좌변의 n 차항의 계수가

$n - 3$ 이고 우변의 차수는 2이므로 등식이 성립하기 위해서는 $n = 3$ 이어야 한다.

(i), (ii), (iii)에서 $f(x)$ 는 삼차함수이므로

$f(x) = x^3 + ax^2 + bx$ (a, b 는 상수)라 하면

$$f'(x) = 3x^2 + 2ax + b \text{이고}$$

$$xf'(x) - 3f(x) = x(3x^2 + 2ax + b) - 3(x^3 + ax^2 + bx) \\ = -ax^2 - 2bx$$

주어진 등식이 모든 실수 x 에 대하여 성립하므로

$$-a = 2, -2b = -8 \text{에서}$$

$$a = -2, b = 4 \text{이고 } f(x) = x^3 - 2x^2 + 4x$$

$$\text{따라서 } f(1) = 1 - 2 + 4 = 3$$

49) [정답] ④

[해설]

함수 $f(x)$ 가 $x = 1$ 에서 미분가능하면

$f(x)$ 는 실수 전체의 집합에서 미분가능 하다.

$$f(1) = b + 4 \text{이므로}$$

$$\lim_{x \rightarrow 1^+} \frac{f(x) - f(1)}{x - 1}$$

$$= \lim_{x \rightarrow 1^+} \frac{bx+4-b-4}{x-1}$$

$$= \lim_{x \rightarrow 1^+} \frac{b(x-1)}{x-1}$$

$$= \lim_{x \rightarrow 1^+} b = b \dots \dots \textcircled{㉠}$$

이고

$$\lim_{x \rightarrow 1^-} \frac{f(x)-f(1)}{x-1}$$

$$= \lim_{x \rightarrow 1^-} \frac{x^3+ax+b-b-4}{x-1}$$

$$= \lim_{x \rightarrow 1^-} \frac{x^3+ax-4}{x-1} \dots \dots \textcircled{㉡}$$

이다.

함수 $f(x)$ 가 $x=1$ 에서 미분가능하려면

$\lim_{x \rightarrow 1} \frac{f(x)-f(1)}{x-1}$ 의 값이 존재해야 하므로

$\textcircled{㉠}$, $\textcircled{㉡}$ 에서

$$\lim_{x \rightarrow 1^-} \frac{x^3+ax-4}{x-1} = b \dots \dots \textcircled{㉢}$$

이어야 한다.

이때 $x \rightarrow 1^-$ 일 때 (분모) $\rightarrow 0$ 이고 $\textcircled{㉢}$ 이 수렴하므로

(분자) $\rightarrow 0$ 이어야 한다.

$$\text{즉, } \lim_{x \rightarrow 1^-} (x^3+ax-4) = 1+a-4 = 0 \text{에서}$$

$$a = 3$$

이때 $\textcircled{㉢}$ 에서

$$b = \lim_{x \rightarrow 1^-} \frac{x^3+3x-4}{x-1}$$

$$= \lim_{x \rightarrow 1^-} \frac{(x-1)(x^2+x+4)}{x-1}$$

$$= \lim_{x \rightarrow 1^-} (x^2+x+4)$$

$$= 1^2+1+4$$

$$= 6$$

따라서

$$a+b = 3+6 = 9$$

50) [정답] ④

[해설]

함수 $f(x)$ 가 실수 전체의 집합에서 미분가능하므로 함수 $f(x)$ 는 $x=1$ 에서 미분가능하다.

그러므로 함수 $f(x)$ 는 $x=1$ 에서 연속이다.

$$\lim_{x \rightarrow 1^-} f(x) = \lim_{x \rightarrow 1^+} f(x) = f(1) \text{에서}$$

$$1-a+2b = -3+b$$

$$b = a-4$$

$$\lim_{x \rightarrow 1^-} \frac{f(x)-f(1)}{x-1} = \lim_{x \rightarrow 1^-} \frac{(x^3-ax+2b)-(-3+b)}{x-1}$$

$$= \lim_{x \rightarrow 1^-} \frac{x^3-ax+a-1}{x-1}$$

$$= \lim_{x \rightarrow 1^-} (x^2+x+1-a)$$

$$= 3-a$$

$$\lim_{x \rightarrow 1^+} \frac{f(x)-f(1)}{x-1} = \lim_{x \rightarrow 1^+} \frac{(-3x+b)-(-3+b)}{x-1}$$

$$= \lim_{x \rightarrow 1^+} \frac{-3x+3}{x-1}$$

$$= -3$$

함수 $f(x)$ 가 $x=1$ 에서 미분가능하므로

$$3-a = -3 \text{에서 } a=6 \text{이고 } b=2$$

따라서 $a \times b = 12$

51) [정답] ②

[해설]

함수 $f(x)$ 가 실수 전체의 집합에서 미분가능하므로

$x=a$ 에서 미분가능하다.

(i) 함수 $f(x)$ 가 $x=a$ 에서 미분가능하므로 $x=a$ 에서 연속이어야 한다.

$$\lim_{x \rightarrow a^-} f(x) = \lim_{x \rightarrow a^+} f(x) = f(a) \text{에서}$$

$$\lim_{x \rightarrow a^-} f(x) = \lim_{x \rightarrow a^-} (x^2-2x) = a^2-2a$$

$$\lim_{x \rightarrow a^+} f(x) = \lim_{x \rightarrow a^+} (2x+b) = 2a+b$$

$$f(a) = 2a+b$$

$$\therefore a^2-2a = 2a+b, b = a^2-4a \dots \dots \textcircled{㉠}$$

(ii) 함수 $f(x)$ 가 $x=a$ 에서 미분가능하여야 한다.

$$\lim_{x \rightarrow a^-} \frac{f(x)-f(a)}{x-a} = \lim_{x \rightarrow a^-} \frac{x^2-2x-(2a+b)}{x-a}$$

$$= \lim_{x \rightarrow a^-} \frac{x^2-2x-a(a-2)}{x-a}$$

$$= \lim_{x \rightarrow a^-} \frac{(x-a)(x+a-2)}{x-a}$$

$$= 2a-2$$

$$\lim_{x \rightarrow a^+} \frac{f(x)-f(a)}{x-a} = \lim_{x \rightarrow a^+} \frac{2x+b-(2a+b)}{x-a}$$

$$= \lim_{x \rightarrow a^+} \frac{2(x-a)}{x-a}$$

$$= 2$$

따라서 $2a-2 = 2$ 에서 $a=2$ 를 $\textcircled{㉠}$ 에 대입하면 $b=-4$

이상에서 $a+b = -2$

52) [정답] ③

[해설]

$$f(x)g(x) = \begin{cases} -(x+3)(2x+a) & (x < -3) \\ (x+3)(2x+a) & (x \geq -3) \end{cases}$$

함수 $f(x)g(x)$ 가 실수 전체의 집합에서 미분가능하므로 $x = -3$ 에서 미분가능하다. 즉,

$$\lim_{x \rightarrow -3^-} \frac{f(x)g(x) - f(-3)g(-3)}{x+3} = \lim_{x \rightarrow -3^+} \frac{f(x)g(x) - f(-3)g(-3)}{x+3}$$

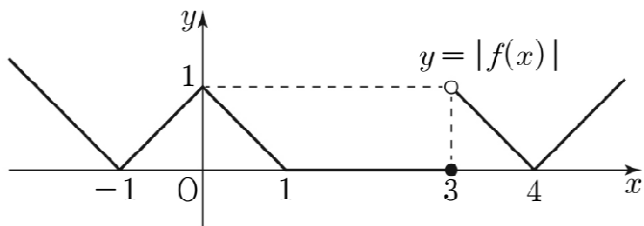
$$\lim_{x \rightarrow -3^-} (-2x-a) = \lim_{x \rightarrow -3^+} (2x+a)$$

따라서 $6-a = -6+a$ 에서 $a = 6$

53) [정답] ④

[해설]

함수 $y = |f(x)|$ 의 그래프는 그림과 같다.



함수 $y = g(x)$ 의 그래프는 함수 $y = |f(x)|$ 의 그래프를 x 축의 방향으로 k 만큼 평행이동한 것이므로 함수 $g(x)$ 는 $x = k+3$ 에서만 불연속이다.

ㄱ. $k = -3$ 일 때

$$\lim_{x \rightarrow 0^-} g(x) = \lim_{x \rightarrow 0^-} |f(x+3)| = 0,$$

$$g(0) = |f(0+3)| = 0 \text{에서 } \lim_{x \rightarrow 0^-} g(x) = g(0) \text{ (참)}$$

ㄴ. $\lim_{x \rightarrow 0^-} f(x) = 1, f(0) = -1$ 에서 $\lim_{x \rightarrow 0^-} f(x) \neq f(0)$

$k \neq -3$ 일 때 함수 $g(x)$ 는 $x = 0$ 에서 연속이므로

$$\lim_{x \rightarrow 0^-} \{f(x) + g(x)\} \neq f(0) + g(0)$$

$$k = -3 \text{일 때 } \lim_{x \rightarrow 0^-} g(x) = g(0) \text{이므로}$$

$$\lim_{x \rightarrow 0^-} \{f(x) + g(x)\} \neq f(0) + g(0)$$

그러므로 모든 정수 k 에 대하여

함수 $f(x) + g(x)$ 는 $x = 0$ 에서 불연속이다. (거짓)

ㄷ. 함수 $f(x)g(x)$ 가 $x = 0$ 에서 미분가능하기 위해서는 함수 $f(x)g(x)$ 는 $x = 0$ 에서 연속이어야 한다.

$$\lim_{x \rightarrow 0^-} f(x)g(x) = \lim_{x \rightarrow 0^-} g(x),$$

$$\lim_{x \rightarrow 0^+} f(x)g(x) = - \lim_{x \rightarrow 0^+} g(x),$$

$$f(0)g(0) = -g(0) \text{에서}$$

$$\lim_{x \rightarrow 0^-} g(x) = - \lim_{x \rightarrow 0^+} g(x) = -g(0)$$

모든 정수 k 에 대하여 $\lim_{x \rightarrow 0^-} g(x) = g(0)$ 이므로

$$\lim_{x \rightarrow 0} g(x) = g(0) = 0$$

그러므로 함수 $f(x)g(x)$ 가 $x = 0$ 에서 연속이 되도록 하는 정수 k 의 값은 $-4, -2, -1, 1$

(i) $k = -4$ 또는 $k = 1$ 일 때

$$\lim_{x \rightarrow 0^-} \frac{f(x)g(x) - f(0)g(0)}{x-0} = \lim_{x \rightarrow 0^-} \frac{(x+1)(-x)}{x} = -1$$

$$\lim_{x \rightarrow 0^+} \frac{f(x)g(x) - f(0)g(0)}{x-0} = \lim_{x \rightarrow 0^+} \frac{(x-1)x}{x} = -1$$

이므로 함수 $f(x)g(x)$ 는 $x = 0$ 에서 미분가능하다.

(ii) $k = -2$ 일 때

$$\lim_{x \rightarrow 0^-} \frac{f(x)g(x) - f(0)g(0)}{x-0} = 0$$

$$\lim_{x \rightarrow 0^+} \frac{f(x)g(x) - f(0)g(0)}{x-0} = 0$$

이므로 함수 $f(x)g(x)$ 는 $x = 0$ 에서 미분가능하다.

(iii) $k = -1$ 일 때

$$\lim_{x \rightarrow 0^-} \frac{f(x)g(x) - f(0)g(0)}{x-0} = \lim_{x \rightarrow 0^-} \frac{(x+1)(-x)}{x} = -1$$

$$\lim_{x \rightarrow 0^+} \frac{f(x)g(x) - f(0)g(0)}{x-0} = 0$$

이므로 함수 $f(x)g(x)$ 는 $x = 0$ 에서 미분가능하지 않다.

(i), (ii), (iii)에 의하여 모든 정수 k 의 값의 합은

$$-4 + (-2) + 1 = -5 \text{이다. (참)}$$

따라서 옳은 것은 ㄱ, ㄷ

54) [정답] ②

[해설]

$y = x^3 - x^2$ 위의 점을 $A(t, t^3 - t^2)$ 라 하면

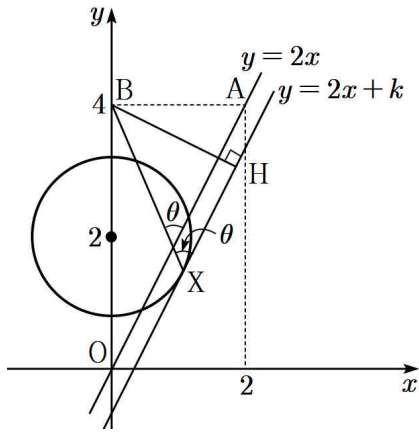
$y' = 3x^2 - 2x$ 에서 점 A에서의 기울기는 $3t^2 - 2t$ 이므로

$$3t^2 - 2t = 8, (t-2)(3t+4) = 0$$

$$\therefore t = 2 (\because t > 0)$$

따라서 점 A(2, 4)이다.

두 직선 OA와 BX가 이루는 예각의 크기가 θ 이고, 직선 OA의 기울기가 2이므로 θ 는 직선 BX와 점 X를 지나고 기울기가 2인 직선이 이루는 예각과 같다.



위의 그림에서 $\overline{BX} \sin\theta = \overline{BH}$ 이므로 $\overline{BX} \sin\theta$ 의 최대는 \overline{BH} 가 최대일 때이다.

$\overline{BX} \sin\theta$, 즉 \overline{BH} 의 최댓값이 $\frac{6\sqrt{5}}{5}$ 이므로 두 점 X, H를 지나는 직선의 방정식을 $y=2x+k$ 라 하면 점 B(0, 4)에서 직선 $2x-y+k=0$ 까지의 거리가 $\frac{6\sqrt{5}}{5}$ 이다.

$$\frac{|k-4|}{\sqrt{2^2+(-1)^2}} = \frac{6\sqrt{5}}{5}, |k-4|=6$$

$$\therefore k=-2 \text{ 또는 } k=10$$

그런데 θ 가 예각이므로 $k=-2$

$$\text{즉, } y=2x-2$$

따라서 원 S의 반지름을 r이라 하면 중심 (0, 2)에서 직선 $2x-y-2=0$ 과의 거리가 r이므로

$$r = \frac{|-4|}{\sqrt{2^2+(-1)^2}} = \frac{4\sqrt{5}}{5}$$

55) [정답] 10

[해설]

$$y = x^3 - 6x^2 + 6 \text{에서}$$

$$y' = 3x^2 - 12x \text{이므로 점 } (1, 1) \text{에서의 접선의 기울기는}$$

$$3 \times 1^2 - 12 \times 1 = -9$$

따라서 점 (1, 1)에서의 접선의 방정식은

$$y-1 = -9(x-1)$$

$$y = -9x + 10$$

이 접선이 점 (0, a)를 지나므로

$$a = -9 \times 0 + 10 = 10$$

56) [정답] ③

[해설]

$$f(x) = x^3 - 2x^2 + 2x + a \text{에서 } f'(x) = 3x^2 - 4x + 2$$

$$f(1) = a+1, f'(1) = 1 \text{이므로}$$

곡선 위의 점 (1, f(1))에서의 접선의 방정식은

$$y = (x-1) + a+1, \text{ 즉 } y = x+a$$

두 점 P, Q의 좌표는 각각 (-a, 0), (0, a)이다.

$$\overline{PQ} = 6 \text{에서 } \sqrt{a^2+a^2} = 6, a^2 = 18$$

$$a > 0 \text{이므로 } a = 3\sqrt{2}$$

57) [정답] 6

[해설]

$$f(x) = 3x^3 - x + a \text{에서 } f'(x) = 9x^2 - 1$$

$$f(1) = a+2 \text{이고, } x=1 \text{일 때의 접선의 기울기는}$$

$$f'(1) = 8 \text{이므로 접선의 방정식은}$$

$$y - (a+2) = 8(x-1), y = 8x + a - 6$$

이 접선이 원점을 지나므로 대입하면

$$0 = a - 6$$

$$\therefore a = 6$$

58) [정답] ①

[해설]

$$\text{곡선 } y = x^3 - 3x^2 + 2x + 2 \text{의 도함수는 } y' = 3x^2 - 6x + 2$$

즉, 점 A(0, 2)에서의 접선의 기울기는 2이므로 수직인

직선의 기울기는 $-\frac{1}{2}$ 이다.

따라서 기울기가 $-\frac{1}{2}$ 이고 점 A(0, 2)를 지나는 직선의

방정식은

$$y = -\frac{1}{2}(x-0) + 2$$

$$\text{즉 } y = -\frac{1}{2}x + 2 \text{이다.}$$

따라서 직선의 x절편은 $y=0$ 일 때 $x=4$

59) [정답] ①

[해설]

$$y' = -3x^2 + 6x = -3(x-1)^2 + 3 \text{이므로 } x=1, y=6 \text{일 때}$$

기울기는 3으로 최대이다.

$$\text{따라서 직선 } l \text{은 } y = 3(x-1) + 6 = 3x + 3$$

구하는 도형의 넓이는

$$S = \frac{1}{2} \times 3 \times 1 = \frac{3}{2}$$

60) [정답] ④

[해설]

$$y = x^3 - x + 2 \text{에서 } y' = 3x^2 - 1$$

이때 곡선 $y = x^3 - x + 2$ 위의 점 $(t, t^3 - t + 2)$ 에서의 접선의 방정식은

$$y - (t^3 - t + 2) = (3t^2 - 1)(x - t)$$

이 직선이 점 $(0, 4)$ 를 지나므로

$$4 - (t^3 - t + 2) = (3t^2 - 1)(0 - t)$$

$$t^3 = -1, \quad t = -1$$

따라서 점 $(0, 4)$ 에서 곡선 $y = x^3 - x + 2$ 에 그은 접선의 방정식은

$$y - 2 = 2(x + 1), \quad y = 2x + 4$$

그러므로 직선 $y = 2x + 4$ 의 x 절편은 -2 이다.

61) [정답] ②

[해설]

$$\text{접점의 } x \text{좌표를 } t \text{라 하면 } y' = -3x^2 - 2x + 1$$

$$y = (-3t^2 - 2t + 1)(x - t) - t^3 - t^2 + t$$

$$0 = 3t^3 + 2t^2 - t - t^3 - t^2 + t$$

$$2t^3 + t^2 = 0, \quad t^2(2t + 1) = 0$$

$$t = 0, \quad -\frac{1}{2}, \quad y' = 1, \quad \frac{5}{4}, \quad \therefore 1 + \frac{5}{4} = \frac{9}{4}$$

62) [정답] ③

[해설]

k 값에 관계없이 성립하므로 k 에 관한 항등식이다.

$$\text{즉, } x^2 + 2x + 1 = 0 \text{이므로 } x = -1$$

따라서 점 P 는 $P(-1, 3)$

점 P 에서의 접선이 곡선 $y = f(x)$ 와 오직 한 점에서 만나므로 점 P 는 변곡점이다.

$$f'(x) = 3x^2 + 2kx + 2k - 1$$

$$f''(x) = 6x + 2k$$

$$f''(-1) = 0 \text{이므로 } -6 + 2k = 0$$

$$\therefore k = 3$$

63) [정답] ①

[해설]

$$y = x^3 - 4x + 5 \text{을 미분하면 } y' = 3x^2 - 4 \text{이므로 곡선}$$

$y = x^3 - 4x + 5$ 위의 점 $(1, 2)$ 에서의 접선의 방정식은

$$y = -(x - 1) + 2 = -x + 3$$

이다. 이 접선이 곡선 $y = x^4 + 3x + a$ 와 $x = t$ 에서 접한다고 하면

$$t^4 + 3t + a = -t + 3 \quad \cdots \cdots \text{㉠}$$

$$4t^3 + 3 = -1 \quad \cdots \cdots \text{㉡}$$

이고, 식 ㉡에서 $t = -1$ 이므로 이를 식 ㉠에 대입하면

$$\therefore a = 6$$

64) [정답] ②

[해설]

곡선 $y = x^2$ 위의 점을 (t, t^2) 이라 하면 접선의 기울기는 $y' = 2x$ 에서 $m = 2t$ 이므로 접선의 방정식은

$$y - t^2 = 2t(x - t)$$

그런데 이 접선이 (a, b) 를 지나므로 $b - t^2 = 2t(a - t)$

$$\text{즉, } t^2 - 2at + b = 0$$

이차방정식 $t^2 - 2at + b = 0$ 을 만족하는 두 근을 α, β 라 하면 근과 계수의 관계에서 $\alpha\beta = b$

그런데, 두 접선이 서로 수직이므로 $2\alpha \cdot 2\beta = -1$ 이어야 한다.

$$\text{따라서 } 4b = -1, \quad b = -\frac{1}{4}$$

$$\text{조건에서 } a^2 + b^2 \leq \frac{37}{16} \text{이므로 } a^2 + \frac{1}{16} \leq \frac{37}{16}$$

$$\text{즉, } a^2 \leq \frac{9}{4} \text{이므로 } -\frac{3}{2} \leq a \leq \frac{3}{2}$$

따라서 $a + b$ 의 최댓값은 $a = \frac{3}{2}$ 일 때이고, 최솟값은

$$a = -\frac{3}{2} \text{일 때이므로}$$

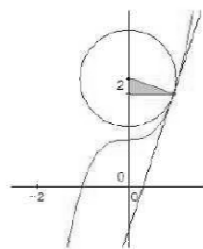
$$\text{최댓값 } p \text{는 } p = \frac{3}{2} - \frac{1}{4} = \frac{5}{4}$$

$$\text{최솟값 } q \text{는 } q = -\frac{3}{2} - \frac{1}{4} = -\frac{7}{4}$$

$$\therefore pq = -\frac{35}{16}$$

65) [정답] ④

[해설]



그림과 같이 원의 반지름의 기울기가 $-\frac{1}{3}$ 이므로

중심은 $(0, 2 + \frac{1}{3})$

따라서 반지름 r 에 대하여

$$S = \left(1 + \frac{1}{9}\right)\pi = \frac{10}{9}\pi$$

66) [정답] ⑤

[해설]

점 $(0, 0)$ 이 곡선 $y = f(x)$ 위의 점이므로 $f(0) = 0$

곡선 $y = f(x)$ 위의 점 $(0, 0)$ 에서의 접선의 방정식은

$$y - 0 = f'(0)(x - 0), y = f'(0)x \dots\dots \textcircled{㉠}$$

점 $(1, 2)$ 가 곡선 $y = xf(x)$ 위의 점이므로

$$1 \times f(1) = 2, f(1) = 2$$

$y = xf(x)$ 에서 $y' = f(x) + xf'(x)$ 이므로

곡선 $y = xf(x)$ 위의 점 $(1, 2)$ 에서의 접선의 방정식은

$$y - 2 = \{f(1) + f'(1)\}(x - 1), y = \{f'(1) + 2\}(x - 1) + 2$$

$$y = \{f'(1) + 2\}x - f'(1) \dots\dots \textcircled{㉡}$$

$f(x)$ 는 삼차함수이므로

$f(x) = ax^3 + bx^2 + cx + d$ (a, b, c, d 는 상수, $a \neq 0$)이라 하면

$$f(0) = 0 \text{에서 } d = 0$$

이때 $f(x) = ax^3 + bx^2 + cx$ 이므로

$$f(1) = 2 \text{에서 } a + b + c = 2 \dots\dots \textcircled{㉢}$$

한편, ㉠, ㉡에서 두 접선이 일치하므로

$$f'(0) = f'(1) + 2 \text{이고 } -f'(1) = 0$$

$$\text{즉, } f'(1) = 0, f'(0) = 2$$

$f'(x) = 3ax^2 + 2bx + c$ 이므로

$$f'(0) = 2 \text{에서 } c = 2$$

이때 $f'(x) = 3ax^2 + 2bx + 2$ 이므로

$$f'(1) = 0 \text{에서 } 3a + 2b + 2 = 0 \dots\dots \textcircled{㉣}$$

㉢에 $c = 2$ 를 대입하면 $a + b = 0 \dots\dots \textcircled{㉤}$

㉣, ㉤을 연립하여 풀면 $a = -2, b = 2$

따라서 $f'(x) = -6x^2 + 4x + 2$ 이므로

$$f'(2) = -24 + 8 + 2 = -14$$

67) [정답] ①

[해설]

$f'(x) = 3x^2 + 2x$ 이고, $(t, f(t))$ 에서의 접선의 방정식은

$$y = (3t^2 + 2t)(x - t) + t^3 + t^2 \dots\dots \textcircled{㉠}$$

$(t+1, f(t+1))$ 에서의 접선의 방정식은

$$y = (3(t+1)^2 + 2(t+1))(x - t - 1) + (t+1)^3 + (t+1)^2$$

$$\dots\dots \textcircled{㉡}$$

㉠, ㉡에서 각각의 y 절편 $g_1(t), g_2(t)$ 를 구하면

$$g_1(t) = -2t^3 - t^2, g_2(t) = -2(t+1)^3 - (t+1)^2$$

$$\therefore h(t) = |g_1(t) - g_2(t)|$$

$$= |6t^2 + 8t + 3|$$

$$= \left| 6\left(t + \frac{2}{3}\right)^2 + \frac{1}{3} \right|$$

따라서 $h(t)$ 의 최솟값은 $t = -\frac{2}{3}$ 일 때 $\frac{1}{3}$

68) [정답] ③

[해설]

함수 $f(x)$ 는 닫힌구간 $[1, 5]$ 에서 연속이

고 열린구간 $(1, 5)$ 에서 미분가능하므로

평균값의 정리에 의하여

$$\frac{f(5) - f(1)}{5 - 1} = f'(c) \dots\dots \textcircled{㉠}$$

를 만족하는 상수 c 가 열린구간 $(1, 5)$ 에 적어도 하나 존재한다.

이때, 조건 (나)에 의하여

$$f'(c) \geq 5$$

이므로 ㉠에서

$$\frac{f(5) - 3}{4} \geq 5$$

$$f(5) \geq 23$$

따라서 $f(5)$ 의 최솟값은 23이다.