

제 2 교시

수학 영역

5지선다형

1. $(-\sqrt{2})^4 \times 8^{-\frac{2}{3}}$ 의 값은? [2점]

- ① 1 ② 2 ③ 3 ④ 4 ⑤ 5

4×2^{-2}

2. 함수 $f(x) = x^3 + 9$ 에 대하여 $\lim_{h \rightarrow 0} \frac{f(2+h) - f(2)}{h}$ 의 값은? [2점]

- ① 11 ② 12 ③ 13 ④ 14 ⑤ 15

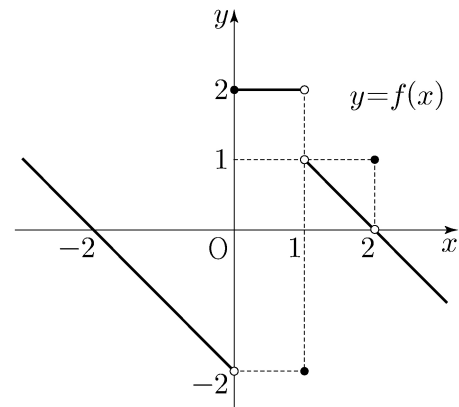
$f'(2) = 12$

3. $\frac{\pi}{2} < \theta < \pi$ 인 θ 에 대하여 $\cos^2 \theta = \frac{4}{9}$ 일 때, $\sin^2 \theta + \cos \theta$ 의 값은? [3점]

- ① $-\frac{4}{9}$ ② $-\frac{1}{3}$ ③ $-\frac{2}{9}$ ④ $-\frac{1}{9}$ ⑤ 0

$\cos \theta = -\frac{2}{3} = -\frac{6}{9}$
 $\sin^2 \theta = \frac{5}{9}$ $\therefore -\frac{1}{9}$

4. 함수 $y = f(x)$ 의 그래프가 그림과 같다.



$\lim_{x \rightarrow 0^-} f(x) + \lim_{x \rightarrow 1^+} f(x)$ 의 값은? [3점]

- ① -2 ② -1 ③ 0 ④ 1 ⑤ 2

$-2 + 1 = -1$

5. 모든 항이 양수인 등비수열 $\{a_n\}$ 에 대하여

$$a_1 = \frac{1}{4}, \quad a_2 + a_3 = \frac{3}{2}$$

↙ r⁴

일 때, $a_6 + a_7$ 의 값은? [3점]

- ① 16 ② 20 ③ 24 ④ 28 ⑤ 32

$$\frac{1}{4}r(1+r) = \frac{3}{2} \cdot 6$$

$$r^2 + r - 6 = 0$$

$$r = 2$$

$$\frac{3}{2} \times 2^4 = 24$$

6. 두 양수 a, b 에 대하여 함수 $f(x)$ 가

$$f(x) = \begin{cases} x+a & (x < -1) \\ x & (-1 \leq x < 3) \\ bx-2 & (x \geq 3) \end{cases}$$

이다. 함수 $|f(x)|$ 가 실수 전체의 집합에서 연속일 때, $a+b$ 의 값은? [3점]

- ① $\frac{7}{3}$ ② $\frac{8}{3}$ ③ 3 ④ $\frac{10}{3}$ ⑤ $\frac{11}{3}$

$$-1 = -1+a \rightarrow (x)$$

$$1 = -1+a \rightarrow a=2$$

$$3 = 3b-2 \rightarrow b = \frac{5}{3}$$


7. 닫힌구간 $[0, \pi]$ 에서 정의된 함수 $f(x) = -\sin 2x$ 가 $x=a$ 에서 최댓값을 갖고 $x=b$ 에서 최솟값을 갖는다. 곡선 $y=f(x)$ 위의 두 점 $(a, f(a)), (b, f(b))$ 를 지나는 직선의 기울기는? [3점]

- ① $\frac{1}{\pi}$ ② $\frac{2}{\pi}$ ③ $\frac{3}{\pi}$ ④ $\frac{4}{\pi}$ ⑤ $\frac{5}{\pi}$



$$a = \frac{3}{4}\pi$$

$$b = \frac{1}{4}\pi$$



$$\left(\frac{4}{\pi}\right)$$

8. 실수 전체의 집합에서 미분가능하고 다음 조건을 만족시키는 모든 함수 $f(x)$ 에 대하여 $f(5)$ 의 최솟값은? [3점]

(가) $f(1) = 3$
 (나) $1 < x < 5$ 인 모든 실수 x 에 대하여 $f'(x) \geq 5$ 이다.

- ① 21 ② 22 ③ 23 ④ 24 ⑤ 25

$$f(5) = f(1) + \int_1^5 f'(t) dt \geq 3 + 20 = 23$$

9. 두 함수

$$f(x) = x^3 - x + 6, \quad g(x) = x^2 + a$$

가 있다. $x \geq 0$ 인 모든 실수 x 에 대하여 부등식

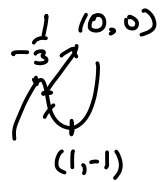
$$f(x) \geq g(x)$$

가 성립할 때, 실수 a 의 최댓값은? [4점]

- ① 1 ② 2 ③ 3 ④ 4 ⑤ 5

$$x^3 - x^2 - x + 6 - a \geq 0$$

$$3x^2 - 2x - 1$$

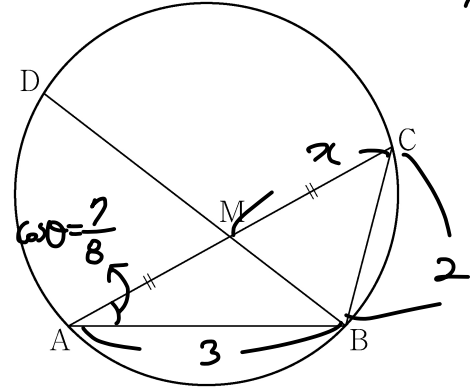


$$a - 6 \leq -1$$

$$a \leq 5$$

10. 그림과 같이 $\overline{AB} = 3, \overline{BC} = 2, \overline{AC} > 3$ 이고

$\cos(\angle BAC) = \frac{7}{8}$ 인 삼각형 ABC가 있다. 선분 AC의 중점을 M, 삼각형 ABC의 외접원이 직선 BM과 만나는 점 중 B가 아닌 점을 D라 할 때, 선분 MD의 길이는? [4점]



$$AC^2 = \frac{15}{8} \cdot 16$$

$$C = 4$$

$$S = \frac{1}{4}$$

- ① $\frac{3\sqrt{10}}{5}$ ② $\frac{7\sqrt{10}}{10}$ ③ $\frac{4\sqrt{10}}{5}$
 ④ $\frac{9\sqrt{10}}{10}$ ⑤ $\sqrt{10}$

$$\frac{4x^2 + p - 4}{\frac{1}{3}x} = \frac{7}{8}$$

$$8x^2 + 10 = 21x$$

$$8x^2 - 21x + 10 = 0$$

$$\begin{matrix} 8 & -21 \\ 1 & -2 \end{matrix}$$

$$x = 2$$

$$\overline{BM}^2 = 4 + p - 2x \cdot 2x \cdot \frac{7}{8} = 13 - \frac{21}{2} = \frac{5}{2}$$

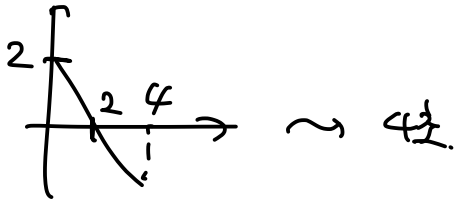
$$\therefore \overline{MD} \times \frac{\sqrt{5}}{2} = 4 \quad \therefore \frac{4\sqrt{5}}{5}$$

11. 시각 $t=0$ 일 때 동시에 원점을 출발하여 수직선 위를 움직이는 두 점 P, Q의 시각 $t(t \geq 0)$ 에서의 속도가 각각

$$v_1(t) = 2 - t, \quad v_2(t) = 3t$$

이다. 출발한 시각부터 점 P가 원점으로 돌아올 때까지 점 Q가 움직인 거리는? [4점]

- ① 16 ② 18 ③ 20 ④ 22 ⑤ 24



$$\left[\frac{3}{2}t^2 \right]_0^4 = 24$$

12. 공차가 3인 등차수열 $\{a_n\}$ 이 다음 조건을 만족시킬 때, a_{10} 의 값은? [4점]

(가) $a_5 \times a_7 < 0$

(나) $\sum_{k=1}^6 |a_{k+6}| = 6 + \sum_{k=1}^6 |a_{2k}|$

- ① $\frac{21}{2}$ ② 11 ③ $\frac{23}{2}$ ④ 12 ⑤ $\frac{25}{2}$

(가) $a_6^2 - 9 < 0 \rightarrow -3 < a_6 < 3$

$$\begin{aligned} \text{(나)} \quad a_7 + a_8 + \dots + a_{12} &= 6 + (-a_2 - a_4 + |a_6| \\ &\quad + a_8 + a_{10} + a_{12}) \\ 6a_6 + \frac{21 \times 3}{63} &= 6 + \underbrace{(a_8 - a_2) + (a_{10} - a_4)}_{12 \times 3 = 36} + a_{12} + |a_6| \end{aligned}$$

$$6a_6 + 21 = a_6 + 18 + |a_6|$$

$$\begin{cases} a_6 > 0 : 4a_6 = -3 \rightarrow a_6 = -\frac{3}{4} \text{ (x)} \\ a_6 < 0 : a_6 = -\frac{1}{2} \end{cases}$$

$$\therefore a_{10} = 3 \times 4 - \frac{1}{2} = \frac{23}{2}$$

13. 두 곡선 $y=16^x$, $y=2^x$ 과 한 점 $A(64, 2^{64})$ 이 있다.

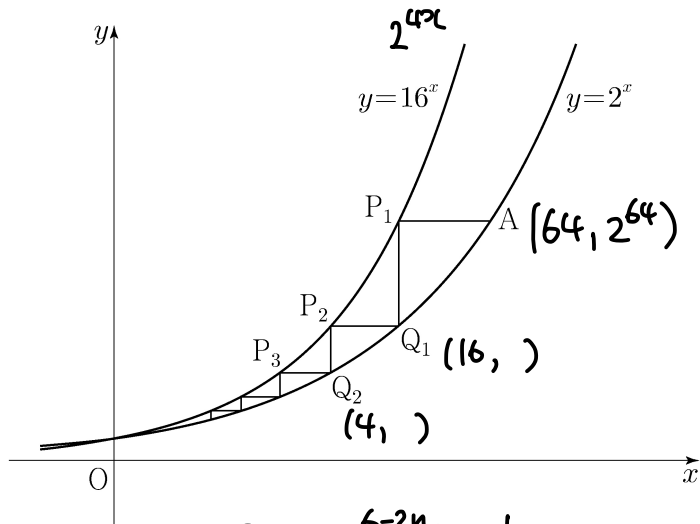
점 A 를 지나며 x 축과 평행한 직선이 곡선 $y=16^x$ 과 만나는 점을 P_1 이라 하고, 점 P_1 을 지나며 y 축과 평행한 직선이 곡선 $y=2^x$ 과 만나는 점을 Q_1 이라 하자.

점 Q_1 을 지나며 x 축과 평행한 직선이 곡선 $y=16^x$ 과 만나는 점을 P_2 라 하고, 점 P_2 를 지나며 y 축과 평행한 직선이 곡선 $y=2^x$ 과 만나는 점을 Q_2 라 하자.

이와 같은 과정을 계속하여 n 번째 얻은 두 점을 각각 P_n, Q_n 이라 하고 점 Q_n 의 x 좌표를 x_n 이라 할 때,

$x_n < \frac{1}{k}$ 을 만족시키는 n 의 최솟값이 6 이 되도록 하는 자연수 k 의 개수는? [4점]

- ① 48 ② 51 ③ 54 ④ 57 ⑤ 60



$$x_n = 2^{6-2n} < \frac{1}{k}$$

$$k < 2^{2n-6}$$

$$2^4 \leq k < 2^6$$

$$16 \sim 63 \sim \textcircled{48}$$

14. 실수 전체의 집합에서 연속인 함수 $f(x)$ 와 최고차항의 계수가 1 인 삼차함수 $g(x)$ 가

$$g(x) = \begin{cases} -\int_0^x f(t) dt & (x < 0) \\ \int_0^x f(t) dt & (x \geq 0) \end{cases} \quad g'(x) = \begin{cases} -f(x) \\ f(x) \end{cases} \rightarrow \underline{f(0)=0}$$

을 만족시킬 때, <보기>에서 옳은 것만을 있는 대로 고른 것은? [4점]

<보 기>

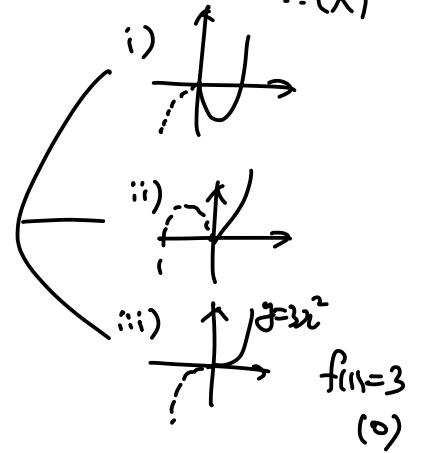
㉠. $f(0)=0 \Rightarrow g'(0)=0, g(0)=0$

㉡. 함수 $f(x)$ 는 극댓값을 갖는다. $g(x)=x^3 \rightarrow f'(x) = \begin{cases} -f'(x) & (x < 0) \\ g''(x) & (x \geq 0) \end{cases}$

㉢. $2 < f(1) < 4$ 일 때, 방정식 $f(x)=x$ 의 서로 다른 실근의 개수는 3 이다.

- ① ㉠ ② ㉡ ③ ㉠, ㉡
 ④ ㉠, ㉡ ⑤ ㉠, ㉡, ㉢

$$f(x) = \begin{cases} -g'(x) & (x < 0) \\ g'(x) & (x \geq 0) \end{cases}$$



i), ii) $g'(x) = 3x(x-k)$

$2 < f(1) = g'(1) = 3-3k < 4$

\downarrow
 $-\frac{1}{3} < k < \frac{1}{3}$

$-1 < -\frac{1}{3} < f'(0) = g''(0) = -k < \frac{1}{3} < 1$

이므로 정답. \therefore ㉠

15. 자연수 k 에 대하여 다음 조건을 만족시키는 수열 $\{a_n\}$ 이 있다.

$a_1 = 0$ 이고, 모든 자연수 n 에 대하여

$$a_{n+1} = \begin{cases} a_n + \frac{1}{k+1} & (a_n \leq 0) \\ a_n - \frac{1}{k} & (a_n > 0) \end{cases}$$

이다.

$a_{22} = 0$ 이 되도록 하는 모든 k 의 값의 합은? [4점]

- ① 12 14 ③ 16 ④ 18 ⑤ 20

$$a_1 = 0 \rightarrow \frac{1}{k+1} \rightarrow \frac{1}{k+1} - \frac{1}{k} \rightarrow \frac{2}{k+2} - \frac{1}{k} \rightarrow \frac{2}{k+4} - \frac{2}{k}$$

$n=22$ 이서 $a_{2n+1} = \frac{n}{k+1} - \frac{n}{k}$

a_n 이 두번째로 0 : $a_{2n+2} = \frac{n+1}{k+1} - \frac{n}{k}$

$\therefore a_{22} = \frac{11}{k+1} - \frac{10}{k} = 0 \therefore k=10$

Cycle을 잡아. $a_1 \sim a_{22}$: 21칸차이 $\left\{ \begin{array}{l} 3\text{칸차이} \rightarrow a_4 = \frac{2}{k+1} - \frac{1}{k} = 0 \rightarrow k=1 \\ 7\text{칸차이} \rightarrow a_8 = \frac{4}{k+1} - \frac{3}{k} = 0 \rightarrow k=3 \end{array} \right.$

$\therefore (14)$

단답형

16. 방정식 $\log_2(x+2) + \log_2(x-2) = 5$ 를 만족시키는 실수 x 의 값을 구하시오. [3점]

$2 < x : \log_2(x^2-4) = 5$
 $x^2 = 36 \therefore x = 6$

17. 함수 $f(x)$ 에 대하여 $f'(x) = 8x^3 + 6x^2$ 이고 $f(0) = -1$ 일 때, $f(-2)$ 의 값을 구하시오. [3점]

$$-1 - f(-2) = \int_{-2}^0 (8x^3 + 6x^2) dx = [2x^4 + 2x^3]_{-2}^0 = -16$$

$f(-2) = 15$

18. $\sum_{k=1}^{10} (4k+a) = 250$ 일 때, 상수 a 의 값을 구하시오. [3점]

$$4 \times 55 + 10a = 250$$

$$10a = 30$$


$$a = 3$$

19. 함수 $f(x) = x^4 + ax^2 + b$ 는 $x=1$ 에서 극소이다.

함수 $f(x)$ 의 극댓값이 4일 때, $a+b$ 의 값을 구하시오.

(단, a 와 b 는 상수이다.) [3점]

$$f'(x) = 4x^3 + 2ax = 2x(2x^2 + a)$$

$$\downarrow$$


$$; 2x^2 + a = 2x^2 - 2$$

$$\therefore a = -2$$

$$f(1) = b = 4$$

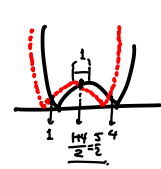
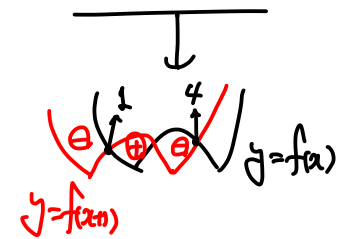
$$\therefore \boxed{2}$$

20. 최고차항의 계수가 2인 이차함수 $f(x)$ 에 대하여

함수 $g(x) = \int_x^{x+1} |f(t)| dt$ 는 $x=1$ 과 $x=4$ 에서 극소이다.

$f(0)$ 의 값을 구하시오. [4점]

$$g'(x) = |f(x+1)| - |f(x)|$$



$$f(x) = 2(x-1)(x-5) + k$$

$$f(2) = -k = -6+k$$

$$\therefore k = 3$$

$$f(0) = 2(-1)(-5) + 3 = \boxed{13}$$

21. 자연수 n 에 대하여 $4\log_{64}\left(\frac{3}{4n+16}\right)$ 의 값이 정수가 되도록 하는 1000 이하의 모든 n 의 값의 합을 구하시오. [4점]

$$\frac{1}{6} \times 4\log_2\left(\frac{3}{4n+16}\right) = l \text{ (1은 정수)}$$

$$\frac{3}{4n+16} = 2^{\frac{3}{2}l}$$

$$n+4 = 3 \times 2^{-\frac{3}{2}l-2}$$

$$n = 3 \times 2^{-\frac{3}{2}l-2} - 4$$

$-\frac{3}{2}l-2$ 는 2이상의 자연수

$$-\frac{3}{2}l-2 = m \text{ (2이상 자연수)}$$

$$l = (m+2) \times \frac{2}{3}$$

$$m = 1, 4, 7, 10, 13, 16$$

↓

$$n = 2, 44, 380, \dots$$

↓
1000 넘음

$$\therefore (426)$$

22. 두 양수 $a, b (b > 3)$ 과 최고차항의 계수가 1인 이차함수 $f(x)$ 에 대하여 함수

$$g(x) = \begin{cases} (x+3)f(x) & (x < 0) \\ (x+a)f(x-b) & (x \geq 0) \end{cases} \rightarrow 3f(0) = af(-b)$$

이 실수 전체의 집합에서 연속이고 다음 조건을 만족시킬 때, $g(4)$ 의 값을 구하시오. [4점]

$$\lim_{x \rightarrow -3} \frac{\sqrt{|g(x)| + \{g(t)\}^2} - |g(t)|}{(x+3)^2} \text{의 값이 존재하지 않는}$$

실수 t 의 값은 -3 과 6 뿐이다.

$$\lim_{x \rightarrow -3} \frac{|g(x)|}{(x+3)^2} \times \frac{1}{\sqrt{|g(x)| + \{g(t)\}^2} + |g(t)|}$$

$$g(x) \rightarrow f(x) = (x+3)(x-p)$$

$$g(t) \begin{cases} t < 0 : (t+3)f(t) = 0 \rightarrow t = -3 \text{ or } t = p \text{ (p가 정수면 아)} \\ t \geq 0 : (t+a)f(t-b) \rightarrow t-b = -3, p \begin{cases} t = b-3 \\ t = b+p \end{cases} \end{cases}$$

$$b-3 > 0 \rightarrow \therefore b = p$$

$$t = b+p \rightarrow \text{아래에 존재한다면, } -3 \text{ or } 6$$

$$t = p \rightarrow \therefore p = -3$$

$$3f(0) = af(-b)$$

↓

$$-27 = a \times f(-p) = -36a$$

$$\therefore a = \frac{3}{4}$$

$$g(4) = \left(4 + \frac{3}{4}\right)(4) = 16 + 3 = 19$$

* 확인 사항

○ 답안지의 해당란에 필요한 내용을 정확히 기입(표기)했는지 확인하시오.

○ 이어서, 「선택과목(확률과 통계)」 문제가 제시되오니, 자신이 선택한 과목인지 확인하시오.

제 2 교시

수학 영역(미적분)

5지선다형

23. $\lim_{n \rightarrow \infty} \frac{1}{\sqrt{n^2+3n} - \sqrt{n^2+n}}$ 의 값은? [2점]

- ① 1 ② $\frac{3}{2}$ ③ 2 ④ $\frac{5}{2}$ ⑤ 3

$$\approx \frac{n+n}{2n} = \textcircled{1}$$

24. 곡선 $x^2 - y \ln x + x = e$ 위의 점 (e, e^2) 에서의 접선의 기울기는? [3점]

- ① $e+1$ ② $e+2$ ③ $e+3$ ④ $2e+1$ ⑤ $2e+2$

$$2x - y' \cdot \ln x - y \cdot \frac{1}{x} + 1 = 0$$

$$2e - y' \cdot 1 - e^2 \cdot \frac{1}{e} + 1 = 0$$

$$\therefore y' = \textcircled{e+1}$$

2

수학 영역(미적분)

25. 함수 $f(x) = x^3 + 2x + 3$ 의 역함수를 $g(x)$ 라 할 때, $g'(3)$ 의 값은? [3점]

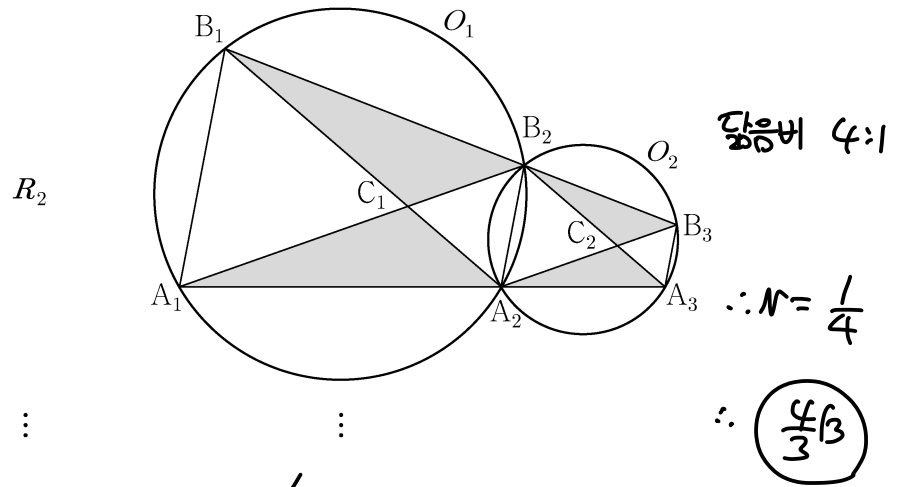
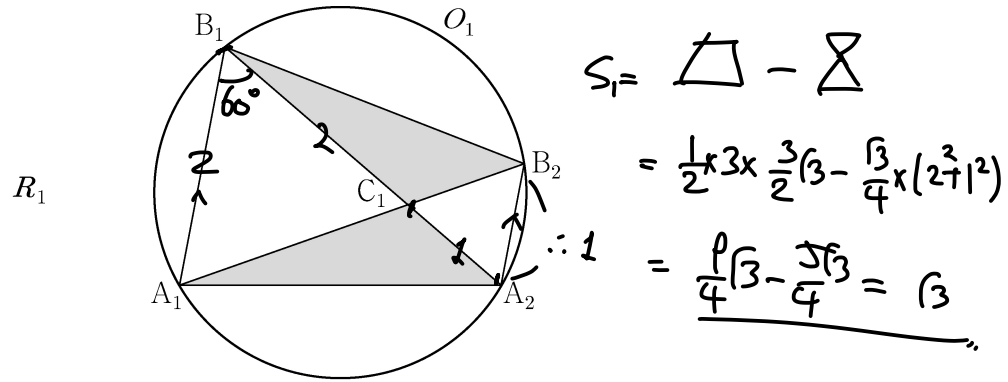
- ① 1 ② $\frac{1}{2}$ ③ $\frac{1}{3}$ ④ $\frac{1}{4}$ ⑤ $\frac{1}{5}$

$f(0) = 3$ $f'(0) = 2$ $\therefore \left(\frac{1}{2}\right)$

26. 그림과 같이 $\overline{A_1B_1} = 2$, $\overline{B_1A_2} = 3$ 이고 $\angle A_1B_1A_2 = \frac{\pi}{3}$ 인

삼각형 $A_1A_2B_1$ 과 이 삼각형의 외접원 O_1 이 있다.
 점 A_2 를 지나고 직선 A_1B_1 에 평행한 직선이 원 O_1 과 만나는 점 중 A_2 가 아닌 점을 B_2 라 하자. 두 선분 A_1B_2 , B_1A_2 가 만나는 점을 C_1 이라 할 때, 두 삼각형 $A_1A_2C_1$, $B_1C_1B_2$ 로 만들어진 \bowtie 모양의 도형에 색칠하여 얻은 그림을 R_1 이라 하자.
 그림 R_1 에서 점 B_2 를 지나고 직선 B_1A_2 에 평행한 직선이 직선 A_1A_2 와 만나는 점을 A_3 이라 할 때, 삼각형 $A_2A_3B_2$ 의 외접원을 O_2 라 하자. 그림 R_1 을 얻은 것과 같은 방법으로 두 점 B_3 , C_2 를 잡아 원 O_2 에 \bowtie 모양의 도형을 그리고 색칠하여 얻은 그림을 R_2 라 하자.

이와 같은 과정을 계속하여 n 번째 얻은 그림 R_n 에 색칠되어 있는 부분의 넓이를 S_n 이라 할 때, $\lim_{n \rightarrow \infty} S_n$ 의 값은? [3점]



- ① $\frac{11\sqrt{3}}{9}$ ② $\frac{4\sqrt{3}}{3}$ ③ $\frac{13\sqrt{3}}{9}$
 ④ $\frac{14\sqrt{3}}{9}$ ⑤ $\frac{5\sqrt{3}}{3}$

27. 첫째항이 4인 등차수열 $\{a_n\}$ 에 대하여 급수

$$\sum_{n=1}^{\infty} \left(\frac{a_n}{n} - \frac{3n+7}{n+2} \right)$$

이 실수 S 에 수렴할 때, S 의 값은? [3점]

- ① $\frac{1}{2}$ ② 1 ③ $\frac{3}{2}$ ④ 2 ⑤ $\frac{5}{2}$

$$\lim_{n \rightarrow \infty} \left(\frac{a_n}{n} - \frac{3n+7}{n+2} \right) = 0$$

$$\therefore \lim_{n \rightarrow \infty} \frac{a_n}{n} = 3$$

$$\therefore a_n = 3n + 1$$

$$\begin{aligned} \sum_{n=1}^{\infty} \left(\frac{3n^2 + n + 2 - 3n^2 - 7n}{n(n+2)} \right) &= \frac{2x}{2} \left(\frac{1}{1} - \frac{1}{3} + \frac{1}{2} - \frac{1}{4} \dots \right) \\ &= \left(\frac{3}{2} \right) \end{aligned}$$

28. 최고차항의 계수가 $\frac{1}{2}$ 인 삼차함수 $f(x)$ 에 대하여

함수 $g(x)$ 가

$$g(x) = \begin{cases} \ln|f(x)| & (f(x) \neq 0) \\ 1 & (f(x) = 0) \end{cases}$$

이고 다음 조건을 만족시킬 때, 함수 $g(x)$ 의 극솟값은? [4점]

- (가) 함수 $g(x)$ 는 $x \neq 1$ 인 모든 실수 x 에서 연속이다.
 (나) 함수 $g(x)$ 는 $x=2$ 에서 극대이고, 함수 $|g(x)|$ 는 $x=2$ 에서 극소이다.
 (다) 방정식 $g(x)=0$ 의 서로 다른 실근의 개수는 3이다.

- ① $\ln \frac{13}{27}$ ② $\ln \frac{16}{27}$ ③ $\ln \frac{19}{27}$ ④ $\ln \frac{22}{27}$ ⑤ $\ln \frac{25}{27}$

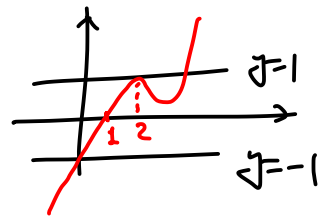
(가) $\rightarrow f(1) = 0$ (유일한 근이 $f(x)$)

(나) $g(2) \leq 0$, $g'(2) = 0 \rightarrow |f(2)| \leq 1$, $f(2) = 0$ (극대)

(다) $|f(x)| = 1 \rightarrow$ 실근 3개.

$g(x) = \ln|x \cdot |f(x)|| \sim f$ 타미닛 ($\because \ln x$ 는 단조증가)

$\therefore f(x)$ 은 $x=2$ 에서 극대



$$f(x) = \frac{1}{2}(x-2)^2(x-p) + 1$$

$$f(1) = \frac{1}{2}(1-p) + 1 = 0 \quad \therefore p = 3$$

$$f(x) = \frac{1}{2}(x-2)^2(x-3) + 1 \rightarrow 3 \leq x \text{ at } x = \frac{8}{3}$$

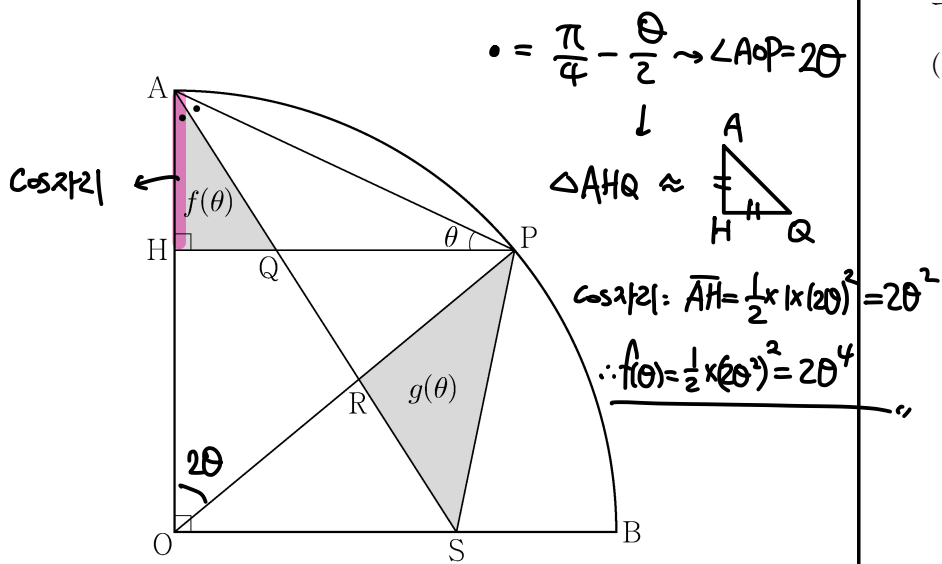
$$g \text{ 3} \leq x \text{ at } x = \frac{8}{3}$$

$$f\left(\frac{8}{3}\right) = \frac{1}{2} \times \frac{4}{9} \times \left(-\frac{1}{3}\right) + 1 = 1 - \frac{2}{27} = \left(\frac{25}{27}\right)$$

단답형

29. 그림과 같이 반지름의 길이가 1이고 중심각의 크기가 $\frac{\pi}{2}$ 인 부채꼴 OAB가 있다. 호 AB 위의 점 P에서 선분 OA에 내린 수선의 발을 H라 하고, $\angle OAP$ 를 이등분하는 직선과 세 선분 HP, OP, OB의 교점을 각각 Q, R, S라 하자. $\angle APH = \theta$ 일 때, 삼각형 AQH의 넓이를 $f(\theta)$, 삼각형 PSR의 넓이를 $g(\theta)$ 라 하자.

$\lim_{\theta \rightarrow 0^+} \frac{\theta^3 \times g(\theta)}{f(\theta)} = k$ 일 때, $100k$ 의 값을 구하시오. (단, $0 < \theta < \frac{\pi}{4}$) [4점]



$\bullet = \frac{\pi}{4} - \theta \rightarrow \angle AOP = 2\theta$
 $\Delta AHQ \approx \Delta$
 Cos자리: $AH = \frac{1}{2} \times 1 \times (2\theta)^2 = 2\theta^2$
 $\therefore f(\theta) = \frac{1}{2} \times (2\theta)^2 = 2\theta^4$
 $\overline{AO} : \overline{AP} = \overline{OR} : \overline{RP} = 1 : 2\theta$
 $\overline{OP} = \overline{OR} + \overline{RP}$
 $\downarrow 1$
 $\therefore \overline{OR} \approx 1, \overline{RP} \approx 2\theta$
 $\therefore \Delta RPS = \frac{1}{2} \times (2\theta) \times 2\theta \times \frac{\sqrt{2}}{2} = \theta$
 $\therefore 100k = \underline{50}$

30. 양수 a 에 대하여 함수 $f(x)$ 는

$$f(x) = \frac{x^2 - ax}{e^x} = (x^2 - ax)e^{-x}$$

이다. 실수 t 에 대하여 x 에 대한 방정식

$$f(x) = f'(t)(x-t) + f(t) \dots (t, f(t)) \text{ 접선}$$

의 서로 다른 실근의 개수를 $g(t)$ 라 하자.

$g(5) + \lim_{t \rightarrow 5} g(t) = 5$ 일 때, $\lim_{t \rightarrow k^-} g(t) \neq \lim_{t \rightarrow k^+} g(t)$ 를 만족시키는

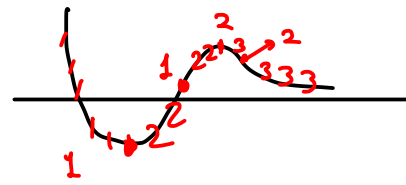
모든 실수 k 의 값의 합은 $\frac{q}{p}$ 이다. $p+q$ 의 값을 구하시오.

(단, p 와 q 는 서로소인 자연수이다.) [4점]

$f(x) = (x^2 - (a+4)x + 2a)x e^{-x}$
 $f'(x) = (x^2 - (a+4)x + 2a)x e^{-x}$

$g(t)$ 는 1, 2, 3

$$\therefore g(5) + \lim_{t \rightarrow 5} g(t) = 2+3 \text{ or } 3+2$$



$\therefore 5 = \text{두번째 변곡점}$

$$25 - 5a - 20 + 2a \cdot 2 = 0 \therefore a = \frac{2}{3}$$

k 는 3점 $\rightarrow f'(x) = (-x^2 + \frac{13}{3}x - \frac{7}{3})e^{-x}$

$$= -\frac{1}{3}(3x^2 - 13x + 7)$$

$$a+b = \frac{13}{3} \rightarrow \underline{16}$$

- * 확인 사항
- 답안지의 해당란에 필요한 내용을 정확히 기입(표기)했는지 확인하시오.
- 이어서, 「선택과목(기하)」 문제가 제시되오니, 자신이 선택한 과목인지 확인하시오.