

합성함수와 부등식

1] 간단한 유형 - 상수와 비교

- $f(g(t)) \geq 3 \rightsquigarrow f(x) \geq 3$ 의 해인 $\alpha \leq x \leq \beta$, $y=x$ 구한 뒤, $\alpha \leq g(t) \leq \beta$, $g(t)=y$ 인 t 가 답이다

- 자기자신 포함함수도 같은 유형으로 본다.

$$f(f(x)) \geq 2f(x) + 3$$

- ①→ $f(t) \geq 2t + 3$ 의 해를 찾고,
 $\alpha \leq t \leq \beta \rightarrow \alpha \leq f(x) \leq \beta$ 인 x 를 찾는다

- ②→ $f(f(x)) - 2f(x) - 3 \geq 0$. $g(x) = f(x) - 2x - 3$ 으로 본다
 $g(f(x)) \geq 0$ 으르, '상수와 비교'와 같다.

2] 애매한 유형 + 변수 겹쳐서 혼란

- $g(f(x)) \geq x + 3$ ^{위에처럼} $\rightsquigarrow f(x)=t$ 로 두고 푸는게 안됨. 우변에 $f(x)$ 가 아닌, 그냥 x 관련 식이 있기 때문.

→ 이럴때는 $g(x)$ 가 이차함수라거나 어쨌든 직접 대입해서 계산할 수 있는 함수일 확률 ↑.

ex) 정리 시 $\{g(x) - (3x+7)\} \{g(x) - 5\} \geq 0$ 나오는 ~

③ 결합수 증감 판단 (미적분)

• $f(g(x)) \geq f(h(x))$

→ f 가 증가함수인 구간 / f 가 감소함수인 구간을 나눔

→ f 가 증가할 때: $g(x) \geq h(x)$

f 가 감소할 때: $g(x) \leq h(x)$

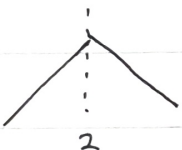
→ f 의 극점 (증감바뀔 때): $g(x) = h(x)$

ex) $f(x) = 2 - |x-2|$ 와 최고차항 계수가 1인 삼차함수 $g(x)$ 가

모든 실수 x 에 대하여 $f(4-x) \geq f(g(x))$ 이다.

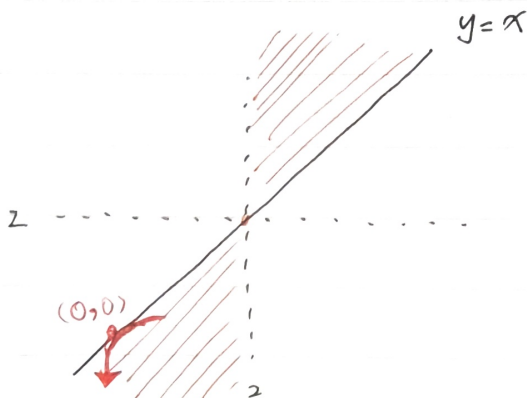
$g(0) = 0$ 일 때, $g(x)$ 를 구하시오 [N서바 2회 14번]

→ $f(4-x) = f(x)$. $f(x) \geq f(g(x))$ 풀면 됨.

결합수가  이므로, $\begin{cases} y=x \\ y=g(x) \end{cases}$ 에 대하여

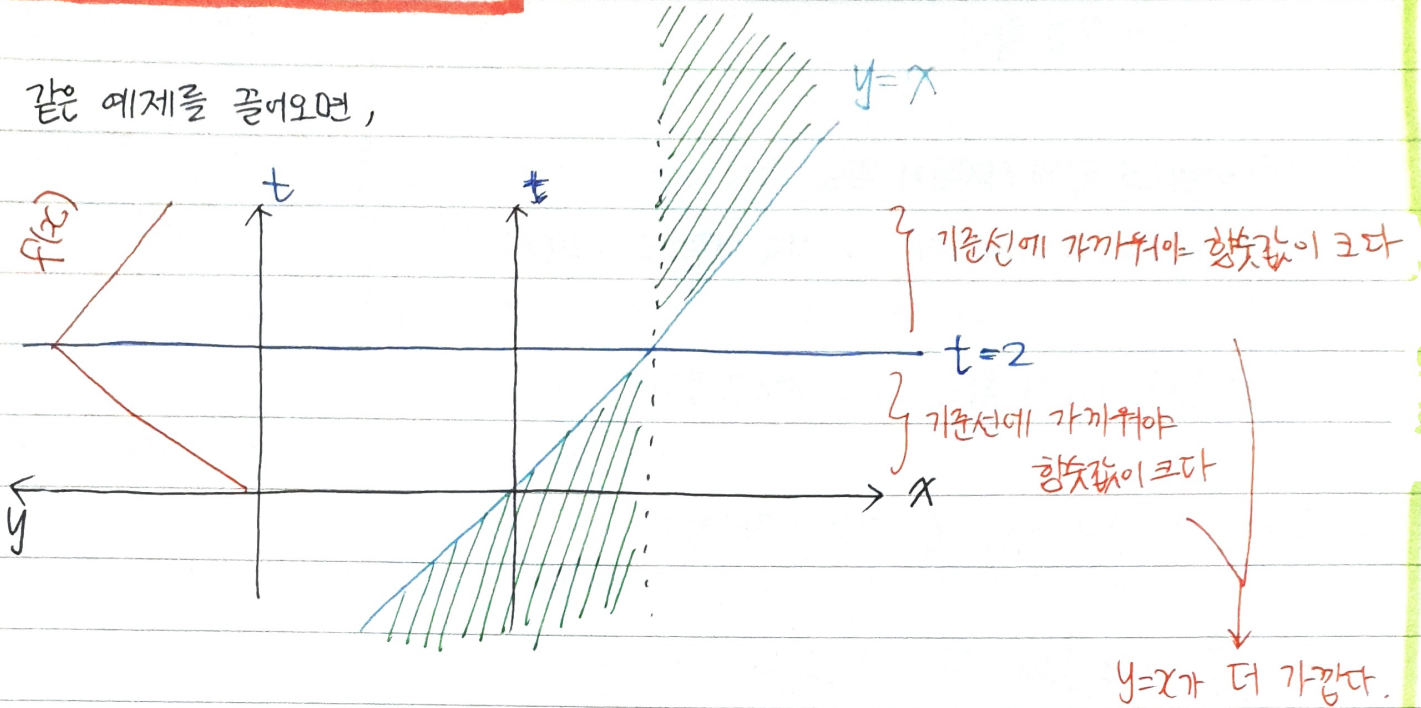
$y \leq 2$ 일 때 $\rightarrow x \geq g(x)$

$y \geq 2$ 일 때 $\rightarrow x \leq g(x)$



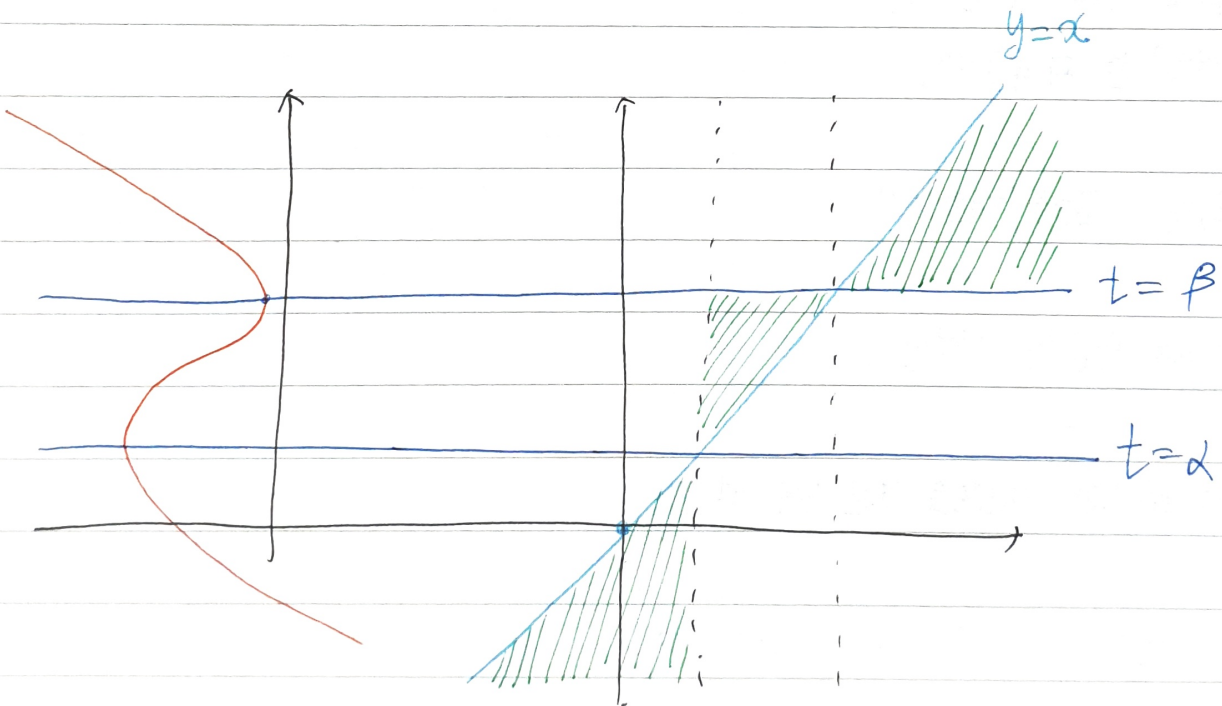
④ N쪽으로 판단 (가깝다/멀다)

같은 예제를 끌어오면,



/// : $g(x)$ 존재 가능 영역.

- 확장하면, 극값 지나는 t 값을 y 좌표로 가질때
속행속 $g(x)$ 와 $h(x)$ 가 만나면서 교차한다.



개닫고 보면, ③과 ④는 같은 얘기이다.

#. 속도·가속도·위치 완벽 정리

① 위치의 변화량 vs 움직인 거리

• $\int_a^b v(t) dt = \text{위치의 변화량} = s(b) - s(a)$

• $\int_a^b |v(t)| dt = \text{이동한 거리} \Rightarrow \text{구간 나눠서 계산, } |s(c) - s(b)| + |s(b) - s(a)| \dots$

• $t=a$ 부터 $t=b$ 까지 위치의 변화량과 움직인 거리가 같다

$\Rightarrow v(t) \geq 0 \quad (\because \int_a^b v(t) dt = \int_a^b |v(t)| dt \Rightarrow \int_a^b (|v(t)| - v(t))^2 dt = 0)$

② 운동 방향

• $v(t) > 0$

• $v(t) < 0$

• $v(t)$ 의 부호가 $t=a$ 에서 변한다 $\Leftrightarrow t=a$ 에서 이동 방향이 바뀐다

③ 속도의 증가·감소

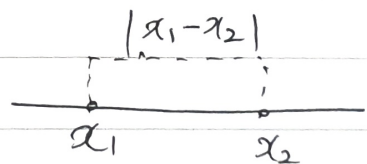
• $a(t) > 0$: 속도 증가

• $a(t) < 0$: 속도 감소

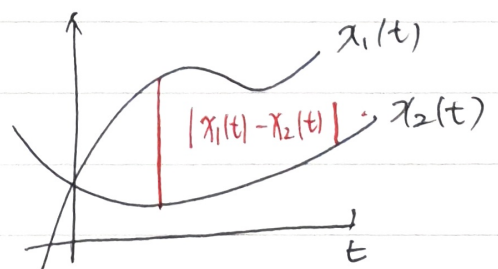
④ 두 점 사이의 거리

$|x_1(t) - x_2(t)|$

① 수직선상의 이해



② 좌표 평면상의 이해

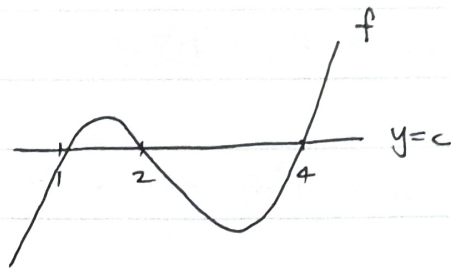


#. 3차함수 계산

① 함숫값이 같다는 것은

• $f(1) = f(2) = f(4)$ 라는 것은

• ' $f(x) - C = (x-1)(x-2)(x-4)$ '로
식을 세울 수 있음을 의미함.

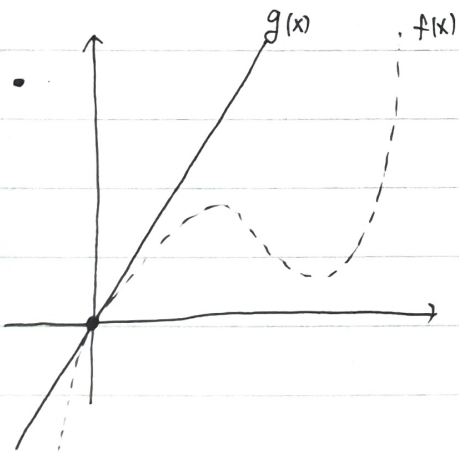


② 점대칭함수 식 세울 때

• 가함수의 평행이동이라고 생각하고 세운다.

• (a, b) 대칭 $\rightarrow p(x-a)^3 + q(x-a) + b$

③ 근을 부족하게 알 때 \rightarrow 판별식용이.



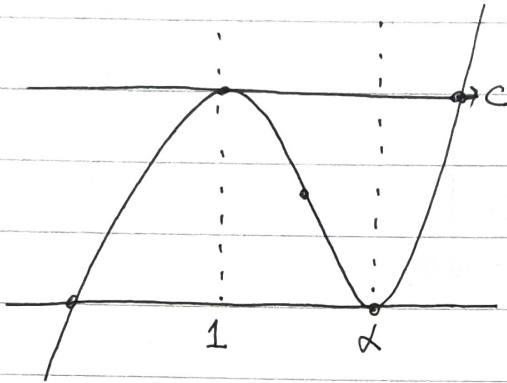
$\leftarrow f(x)$ 가 $x > 0$ 에서

$0 \leq f(x)$ 여야 할 때

한 근을 인수분해하고 남은 이차식에서

판별식을 사용할 수 있다.

④ 최고차항 무리 비율관계 원가 쓸 수 있을 것 같을 때



이런 상황일 때, ①과 같이 세우지 말고, ②와 같이 세운다.

$$\textcircled{1} f = p(x-1)^2(x-(2\alpha-1)) + c$$

$$\begin{aligned} 1 + 2\frac{(\alpha-1)}{2} &= \alpha \\ (2\alpha-1) & \end{aligned}$$

→ 그뒤 다른 조건을 넣어서 계산할 때,

“p와 α 가 곱해져서 나와 매우 클지아프다”

$$\textcircled{2} f(x) = (x-1)^2(px+q) + c.$$

→ 이후 주어진 조건 대입.

원가 부족할 시에는 비율관계도 사용

(나머지 한 근이 $2\alpha-1$ 인 것)

중복도와 그 일반방법론

• f 가 다항함수일 때

$$\lim_{x \rightarrow n} \frac{(x-n)f'(x)}{f(x)} = a$$

라는 식은, $\{f(x) = (x-n)^a Q(x), Q(n) \neq 0\}$

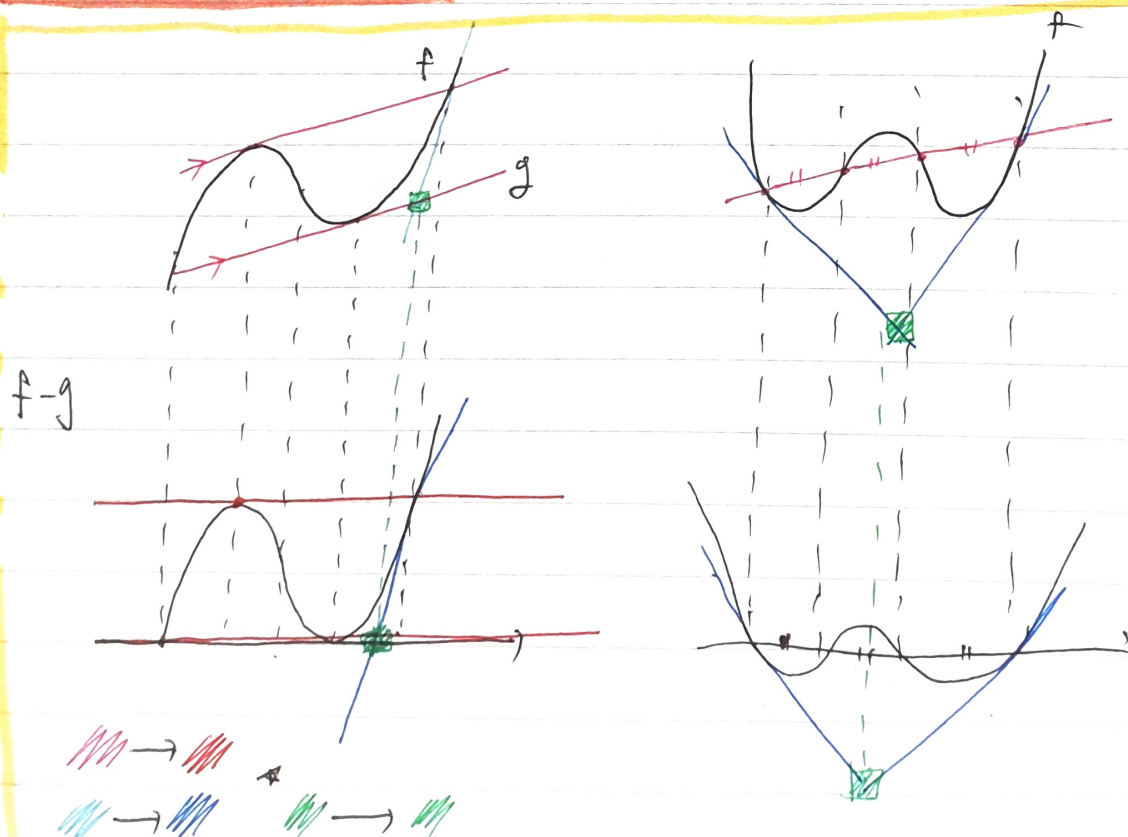
즉 $f(x)$ 의 $(x-n)$ 중복도가 a 라는 것을 알려준다.

$$\lim_{x \rightarrow n} \frac{(x-n) \left\{ \overset{a \text{승}}{a(x-n)^{a-1} Q(x)} + \cancel{(x-n)^a Q'(x)} \right\}}{\underset{\text{항소 상아냄}}{(x-n)^a Q(x)}} = a$$

좌표상의 원과 직선

✓ '점과 직선의 거리 공식' 으로 이어지는 경우가 많다.

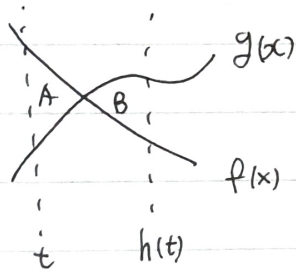
직선은 배도 유지된다.



$$\#. f(x) - f(a) \geq f'(a)(x-a)$$

- 처음봤을때, $(a, f(a)) - (x, f(x))$ 가절기 VS $f'(a)$ 를 x 의 범위에 따른 $(x-a)$ 의 부호관계를 고려하여 부등호 방향에 신경쓰며 부등식을 푸는것인 줄 알았다.
- 그렇게 하면 좀 힘들다.
- 볼록성과 관련된 유명한 조건인데,
- $f(x) \geq f'(a)(x-a) + f(a)$ 로 쓰면 의미가 확 와닿는다.

넓이가 같다



- $A=B$ 이면
 $A-B=0$ 이므로,

$$\int_t^{h(t)} [g(x) - f(x)] dx = 0$$

근 찾을수 있는 로그연산

- 밑을 맞추는것이 가능할 경우, 범위를 조심하며 근의 개수나 근을 직접 알아낼 수 있다

ex) $\log_2(x-1) = \log_4(x-t)$ 가 실근 1개를 갖도록하는 t 의 범위는?

→ 다음 페이지에서 계속...

$$\rightarrow \log_2(x-1) = \frac{1}{2} \log_2(x-t). \quad (x > 1 \cap x > t)$$

$$\rightarrow 2 \log_2(x-1) = \log_2(x-t)$$

$$\rightarrow \log_2(x-1)^2 = \log_2(x-t)$$

$$\rightarrow (x-1)^2 = (x-t) \quad (\text{병위 } x > 1 \cap x > t \text{ 인 것 조심!})$$

|다항함수| x 다항함수

사실 꼭 다항함수여야 하는 것은 아닌데, 설명의 편의를 위해 ~


다음과 같은 순서를 그리면 된다.

① 절댓값이 없다고 생각함고 그린다

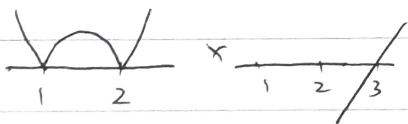
② 각 근을 기준으로 부호를 따져가며 뒤집어준다.

$$\text{ex) } |(x-1)(x-2)| \times (x-3)$$

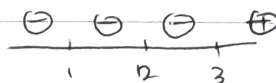
① 그냥 그림



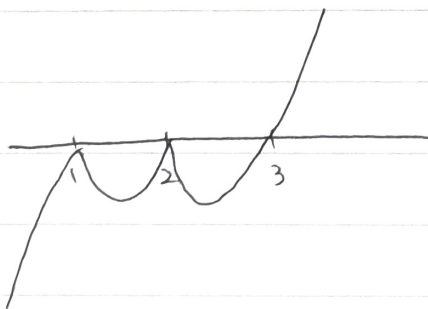
②



이므로



이다.



합성함수 개론

크게 4가지로 나뉜다.

① 장재원류 제 1식 → 곱함수 조건 바탕으로 속함수 추론

ex) $f(x) = 3$ 의 근이 $x = 0, 2$ 라면,

$f(g(x)) = 3$ 의 근은 $g(x) = 0, 2$ 인 x 들이다.

② 장재원류 제 2식 → 범위를

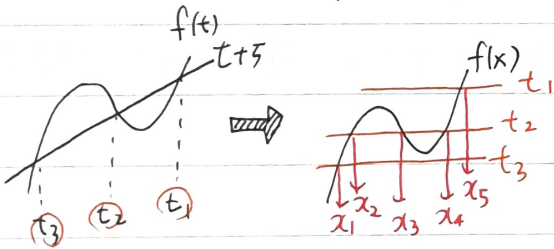
ex) 속함수는 그저 범위를 남겨주는 녀석일 뿐.

주요 개수에는 문제가 많다.

③ 씨발 그냥 치환류, → 교집합에 집중하여 풀이 전개

ex) $f(f(x)) = f(x) + 5$

→ <교집합생성> $\begin{cases} t = f(x) \\ f(t) = t + 5 \end{cases}$ 인 x 가 이 방정식의 근이다.



ex2) $f(f(x) + 5) = f(x)$

이때, $f(\triangle) = f(x)$ 로 봐서 (□으로 봐서)

\triangle 와 x 의 관계를 찾아서 삼질하고 있어야 안된다.

③을 써서, $\begin{cases} f(x) + 5 = p \\ f(p) = p - 5 \end{cases}$ 를 만족시키는 " x " 찾기

로 바꾸어 풀다.

4 대입 후 함수방정식 풀어버리기 with 연속/미가 조건 (17304형)

ex)

$f(x)$ 는 이차방정식일 때,

$f(g(x)) = f(x)$ 를 풀 길이 아예 안보인다면,

f 에 진짜 $g(x)$ 대입해서 인수분해해

$$\{g(x) - (5x+3)\} \{g(x) - 6x\} = 0 \quad \text{등을 얻어낸다.}$$

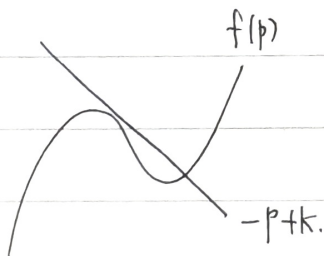
그러면 $g(x)$ $\begin{cases} 5x+3 \\ 6x \end{cases}$ 을 얻어낼 수 있고, 연속·미가 조건에 따라

$g(x)$ 를 알맞게 선택해주면 끝!

3] 예시 추가

$$f(k - f(x)) = f(x)$$

<교집합 생성> $\begin{cases} k - f(x) = p \\ \cap \\ f(p) = k - p \end{cases}$ 인 "X"



→ k 에 따라 근의 (X의) 개수 바뀐다!

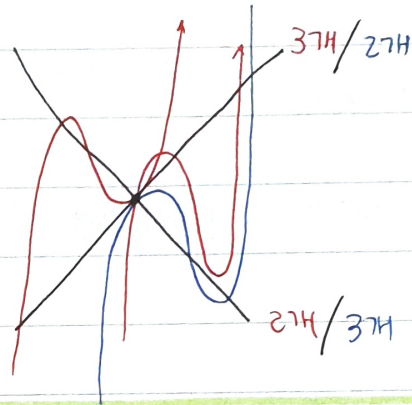
직선 2개와 곡선이 만나는 점의 수 세는 법.

- ① 곡선이 교점을 지나는지 안지나는지 확인.
- ② 가능한 조합 세우고, 그림 그려서 fix
- ③ 근과 계수관계 쓸수있으면 쓰기.

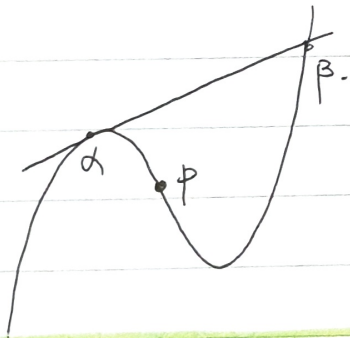
ex1) 3차함수, 교점지남, 근 4개일 때.

$$\begin{cases} y=x \\ y=-x \end{cases} \quad \begin{array}{l} \text{최고차 양수인 삼차} \\ f(x), f(0)=0. \end{array}$$

4개: $(3+2) - 1$ 조합만 가능



실근 Count 할 때.



중근을 한번 빼주면 된다.

$$\alpha + \beta = 3p - \alpha$$

#. 적분과 등차수열

$$\bullet \int_1^2 f(x) dx = \int_2^3 f(x) dx = \frac{1}{2} \int_2^4 f(x) dx$$

등의 등식이 나오고, 정리시 "적분구간들이 같다면?"

• 식을 정리했더니

$$\int_{x-1}^x f(t) dt = C \quad (x=0, 1, 2, 3)$$

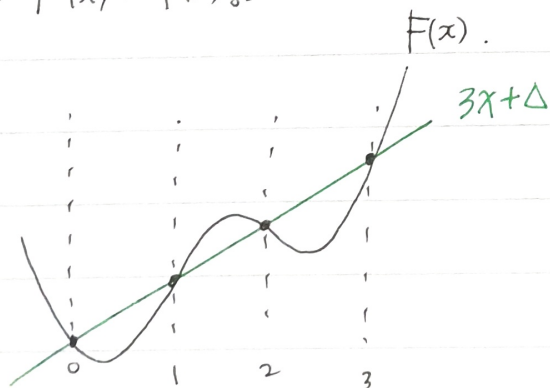
등의 식이 나왔다면?

$f(t)$ 를 $F'(t)$ 로 보고,

"도함수의 정적분은 함수값의 변화량이다"를 사용하자.

$$\text{ex) } \int_0^1 f(x) dx = \int_1^2 f(x) dx = \int_2^3 f(x) dx = 3$$

$$\rightarrow F'(x) = f(x).$$



#. $g(x) = \int_a^x |f(t)| dt$ 꼴

- 이런 형태의 문제는 대부분 마지막 발문이

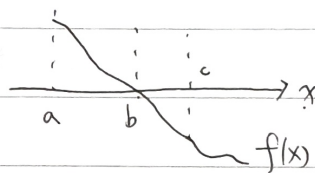
$$\int_1^3 g(x)f(x) dx \text{ 꼴인데, 그 이유는}$$

위 식을 미분하면 $g'(x) = |f(x)|$ 가 도출되어

“부호를 고려해 구간을 나누는 치환적분” 이 가능하기 때문이다.

- $g'(x) = |f(x)|$ 가 나왔을 때,

$$g'(x) = \begin{cases} f(x) & (a \leq x \leq b) \\ -f(x) & (b \leq x \leq c) \end{cases}$$



$$\begin{aligned} \text{라고 하면, } \int_a^c f(x)g(x) dx &= \int_a^b f(x)g(x) dx + \int_b^c f(x)g(x) dx \\ &= \int_a^b g'(x)g(x) dx + \int_b^c [-f(x)g(x)] dx \\ &= \frac{1}{2}g(b)^2 - \frac{1}{2}g(a)^2 + \frac{1}{2}g(b)^2 - \frac{1}{2}g(c)^2 \end{aligned}$$

미분가능성을 따질 때 0의 개수를 고려한다는 것은

• 미분 불가능한 함수에 어떤 함수를 곱해주어 미분 가능하게 만들어야 할 때가 있다. 일반적인 해법을 알고 써야, *특수* 같은 것에서 애먹지 않는다.

• 미분계수의 정의: $f'(a) = \lim_{x \rightarrow a} \frac{f(x) - f(a)}{x - a}$

• 곱함수는 인수를 포함할 것이기에, $f(a)g(a) = 0$ 이므로

$\lim_{x \rightarrow a} \frac{f(x)g(x)}{x-a}$ 꼴이 남게 된다.

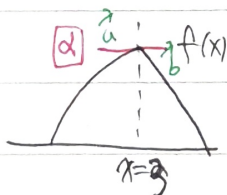
• 중요한 건, **뺀개부터** 조건을 무시하고 즉원 수 있는가? 이다.

• 만약 $\sqrt{\quad}$ 조건이라고 쳐보자. $\sqrt{|x-3|}$ 에 $(x-3)$ 몇개를 곱해줘야 할까?

→ $\frac{\sqrt{|x-3|} (x-3)}{x-3} \Rightarrow 0$ 으르 잘 가므로, 1개면 충분하다.

• 만약 $\sqrt{|x-3|}$ 이 있다면, $|x-3|$ 몇개를 곱해줘야 할까?

→ $\frac{\sqrt{|x-3|} |x-3|}{x-3}$
 $\begin{matrix} \nearrow -\sqrt{|x-3|} \rightarrow 0 \\ \searrow +\sqrt{|x-3|} \rightarrow 0 \end{matrix}$
 $\Rightarrow 0$ 으르 잘 가므로, 1개면 충분하다.



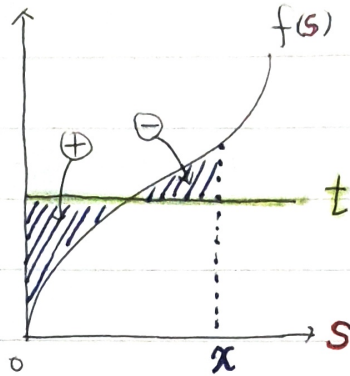
$|x-3|$ 을 몇개를 곱해줘야 할까?

→ $\frac{f(x) |x-3|}{x-3}$
 $\begin{matrix} \nearrow 3\oplus \alpha \\ \searrow 3\ominus -\alpha \end{matrix}$
 \rightarrow 미분 불가능하다!

이변 함수의 장적분

① 기본유형 (2022 예비문항 29번)

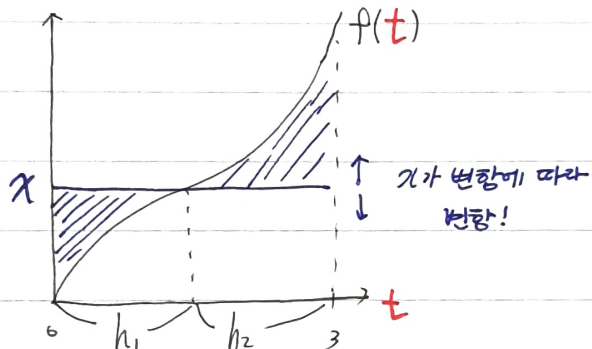
$$g(x) = \int_0^x \{t - f(s)\} ds$$



② 특수유형

$$g(x) = \int_0^3 |x - f(t)| dt$$

$$g'(x) = h_1^{\oplus} - h_2$$



③ 특수-합성 유형 (개특수)

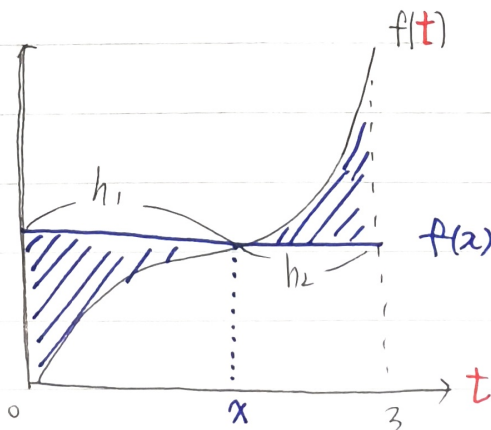
→ ②에 함수를 합성한것으로 보면 됨. x 대신 f(x) 넣고, g(f(x)) = h(x)라고 두면

$$h(x) = \int_0^3 |f(x) - f(t)| dt$$

* 미분할때가 Point.

$$h'(x) = g'(f(x))f'(x) = f'(x) \{h_1 - h_2\}$$

↑ 식으로 확인 ↑ 직관적인 변화



* f가 감소중일때는 f'(x) < 0 이므로,

상황에 맞게 (h1 - h2)와 (h2 - h1)f' 중 하나를 적절히 선택

$\alpha^2 - \alpha - 1 = 0$ 꼴의 식 등장시

• 근의공식 박아버렸... 도 좋지만, 허나만 ㉠ 생각하자.

만약 저 식을 얻었는데,

$$\frac{1}{3}(\alpha^3 - 2\alpha^2 + 2\alpha - 1) = ?$$

이라는 물음이 뜨면, $\alpha = \frac{1 \pm \sqrt{5}}{2}$ 를 다 갖다박아 계산할 것인가?

• 정답은, '아니오시다' 이다.

$\alpha^2 - \alpha - 1 = 0$ 을 잘 이행하여, $\alpha^2 = \alpha + 1$ 꼴로 바꾸기

$$\checkmark \alpha^3 \rightarrow \alpha(\alpha^2) \rightarrow \alpha(\alpha+1) \Rightarrow \alpha^2 + \alpha = (\alpha+1) + \alpha = 2\alpha + 1$$

이런식으로 차수를 다 낮춰서 계산하는 것이 좋다.

$\int_{g(x)}^{f(x)} h(x) dt$ 를 미분할 때

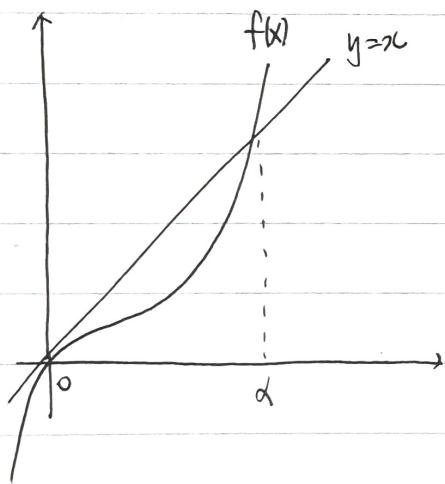
• 직분구간에 \ominus 가 끼는 순간 주의했 갈린다.

⇒ 아래 방법을 따르면 해결된다.

• 구간에 들어찬 함수의 도함수를 "괄호치고 앞에 쳐준다"

$$\text{ex } \left[\int_{-2x}^x t f(t) dt \right]' = x f(x) - \underbrace{(-2)}_{\star} (-2x) f(-2x)$$

대소판정 시 합성의 관점을 이용할 수 있다.



$$\left| f(f(x)) - x \right| \quad (0 < x < \alpha)$$

부호가 긍정하다.

$$x < f(x)$$

$$f(x) < x$$

$$f(f(x)) < f(x)$$

※ 개념: 증가함수는 합성해도 부등호 방향이 같고
 감소함수는 합성하면 부등호 방향이 바뀐다

$$\Rightarrow 0 < x < \alpha \text{ 에서 } x > f(x).$$

$$f(x) > f(f(x))$$

$$\therefore x > f(f(x)) \downarrow$$

자신방면

$f(x)$ 증가함수. $> x$ 면

$$f(f(x)) > f(x) \text{ 이고}$$

$$f(f(x)) > f(x) > x$$

#. 구간바꾸기 정칙분 성질

※ 떼어내기 1

$$\int_a^x f(t) dt = \int_a^{x+2} f(t) dt - \int_x^{x+2} f(t) dt.$$

※ 떼어내기 2

$$\int_a^b f(t) dt = \int_a^x f(t) dt + \int_x^b f(t) dt.$$

⇒ 이런 문제에 적용가능.

$$\int_a^x f(t) dt \times \int_b^x f(t) dt = x^4 - 1$$

$$\int_a^b f(t) dt = 2 \Rightarrow \text{위에 곱이 있으니까, 차나 합으로 바꾸면 연립이 될듯.}$$

$$\int_a^x f(t) dt + \int_x^b f(t) dt = 2 \quad \text{도 변환.}$$

결과 합차를 안다 → 이차방정식 세워서 연립.

#. 근의 개수가 제한되는 상황에서 눈치끼기.

- 일단, 눈치가 좀 있어야 한다.

$$\begin{cases} f(a) = a + p \\ f(b) = b + p \end{cases} \text{의 연립은, } f(x) = x + p \text{의 근이 } a, b \text{를 포함함을 의미.}$$

- 다항함수는 실근 (직선과의 교점) 개수가 제한된 함수이다.

∴ $f(x)$ 가 2차함수 일 때,

$$f(3) = 3 - k$$

$$f(2) = 2 - k \quad \text{라면, } f(x) = x - k \text{의 근이 } x=3, x=2, x=\alpha \text{ 인 것.}$$

$$f(\alpha) = \alpha - k$$

그러나, $f(x)$ 는 직선과의 교점이 최대 2개이다.

그러므로, $\alpha = 3$ 또는 2 라는 결론을 얻는다.

$$\text{사태판으로 } \begin{cases} g(a) = 2a - k \\ g(b) = 2b - k \end{cases} \text{ 등이 있고,}$$

$$\text{일반화되는 } \begin{cases} f(a) = g(a) \\ f(b) = g(b) \end{cases} \text{ 가 있다.}$$

#. 적분으로 정의된 함수 다루기.

① $\int_{\alpha}^x f(t) dt$ 를 만난다면.

- 하나의 함수로 보고, $\begin{cases} h(\alpha) = 0 \\ h'(x) = f(x) \end{cases}$ 로 본다.

• 도함수를 $f(x)$ 로 갖고, $(\alpha, 0)$ 을 지나는 함수 라고 생각한다.

② $\int_{\alpha}^x f(t) dt = x - \alpha$ 같은 꼴을 만난다면?

① $h(x) = x - \alpha$ 로 본다.

★ ② $\int_{\alpha}^x f(t) dt - (x - \alpha) = 0$ 으로 이항하고

$g(x)$ 로 쳐보자.

$$\begin{cases} g'(x) = f(x) - 1 \\ g(\alpha) = 0 \end{cases}$$

$g(x) = g(\alpha)$ 인 x 를 ...

인 함수의 실근을 찾는 방정식으로 바뀐다.

③ $\int_{\alpha}^x f(t) dt$ 와 $\int_{\beta}^x f(t) dt$ 는 평행이동 관계이다.

둘의 도함수는 $f(x)$ 로 같으므로 '모양'이 같고.

각각 $(\alpha, 0)$ // $(\beta, 0)$ 을 지나므로

평행이동(y축 방향으로) 관계이다.

#평균 변화율과 극한

($h \rightarrow 0$ 인지, $h \rightarrow 0^+$ 인지 구별하면서 보기)

① $\lim_{h \rightarrow 0} \frac{|f(a+h)|}{h} = k$ 가 내포하는 것.

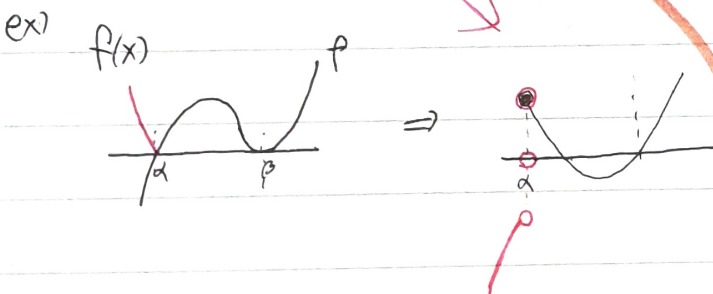
① $|f(x)|$ 가 절댓값 함수임에도 불구하고 $x=a$ 에서 미분이 가능하다. (\because 미분계수가 실수 k 로 존재)

② $f(a) = 0$ 이다

③ $\therefore f'(a) = 0$ 이다. ($f(x)$ 는 $x=a$ 에서 직각에 접한다)

② $\lim_{h \rightarrow 0^+} \frac{|f(x+h)| - |f(x)|}{h}$

\Rightarrow $|f(x)|$ 의 우 미분계수. (양수 음수 모두 가능.)

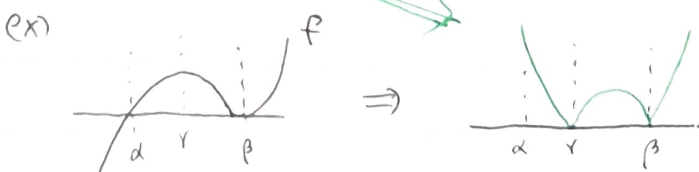


비교지점.

③ $\lim_{h \rightarrow 0^+} \frac{|f(x+h) - f(x)|}{h}$

\Rightarrow $f(x)$ 의 우미분계수의 절댓값. \Rightarrow 무조건 ≥ 0 .

($\because h > 0 \rightarrow |h| = h$)
 $\lim_{h \rightarrow 0^+} \left| \frac{f(x+h) - f(x)}{h} \right| \Rightarrow |f'(x^+)|$



$$\textcircled{4} \lim_{h \rightarrow 0^+} \frac{|f(x+h)| - |f(x-h)|}{h} \Rightarrow \text{절댓값함수 } |f(x)| \text{의 좌미계 + 우미계 } < \infty$$

$$\textcircled{5} \lim_{h \rightarrow 0^+} \frac{|f(x+h) - f(x-h)|}{h} \Rightarrow \text{좌극한 + 우극한} \text{ (좌미계 + 우미계 의 절댓값)} \geq 0$$

$$\textcircled{6} \lim_{h \rightarrow 0} \frac{|f(x+h)| - |f(x-h)|}{h} \Rightarrow \textcircled{4} \text{와 같음, 항상 존재}$$

$$\textcircled{7} \lim_{h \rightarrow 0} \frac{|f(x+h) - f(x-h)|}{h} \Rightarrow \text{존재할수도, 안할수도} \text{ (}\because h = |h| \text{ or } -|h| \text{ at } 0 < h < \infty \text{)}$$

$$\textcircled{8} \lim_{h \rightarrow 0} \frac{|f(x+h) - f(x)|}{h} \Rightarrow \text{존재할수도, 안할수도 있음.}$$

$$h \rightarrow 0^{\oplus} \text{ (}|h|=h) \lim_{h \rightarrow 0^+} \left| \frac{f(x+h) - f(x)}{h} \right| = \oplus |f'(x^+)|$$

$$h \rightarrow 0^{\ominus} \text{ (}|h|=-h) \lim_{h \rightarrow 0^-} \left| \frac{f(x+h) - f(x)}{h} \right| = \ominus |f'(x^-)|$$

같은 값인지 비교해서
존재성 판단하는
단계가 필요하다.

※ 태도

① 극한식이 아닌, 하나의 함수, 즉 그래프를 그릴 대상으로 바라볼 것.

② $h > 0 : h = |h|$, $h < 0 : h = -|h|$

③ $\lim_{h \rightarrow 0} \frac{f(a+h) - f(a)}{h}$ 에서 $f(a) = 0$ 일 때, $f(a)$ 는 그냥 쓰지 않기.

x 축, y 축에 동시에 접하는 원

• x 축, y 축에 동시에 접하는 원의 중심은

$$\begin{cases} y = x \\ y = -x \end{cases} \text{ 위에 존재한다.}$$

$\therefore f(x)$ 위의 점 $(t, f(t))$ 를 중심으로 하고 x 축과 y 축에 동시에 접하는 원은

$f(x) = x$, $f(x) = -x$ 에서 $x=0$ 일 때를 배준 것과 같다.

이차함수 최고차항이 문자일 때

ex) $(a+3)x^2 + (a+1)x + 5 = x$


의 근의 개수를 $f(a)$ 라고 할 때, $f(a)$ 의 불변속점 개수는?

$\Rightarrow a = -3$ 일 때를 주의하자.

$f(x) \cdot f(-x)$ 의 연속성

• $x=0$ 일 때, 극한값은 있는지 몰라도, 함수값은 다를 수 있기에 조심한다.

$$f(0+)f(0-) = f(0-)f(0+) \neq \{f(0)\}^2$$



평균 변화율과 극한...

* 비교 관점.

(A)

$$\lim_{h \rightarrow 0^+} \frac{|f(x+h)| - |f(x)|}{h}$$



$|f(x)|$ 의 우미분계수

⇒ 양, 음 둘 다 가능

(B)

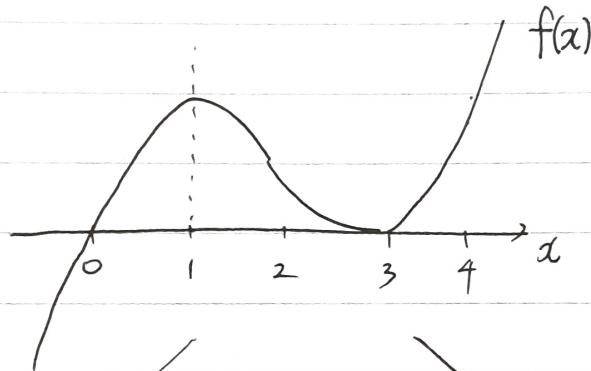
$$\lim_{h \rightarrow 0^+} \frac{|f(x+h) - f(x)|}{h}$$



$$\left(\lim_{h \rightarrow 0^+} \frac{|f(x+h) - f(x)|}{h} \right)$$

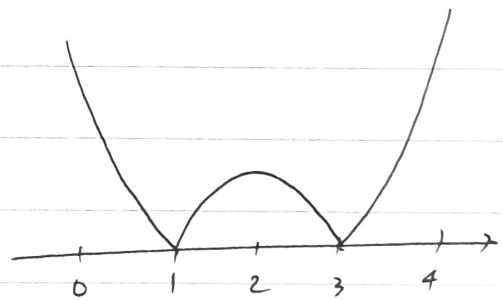
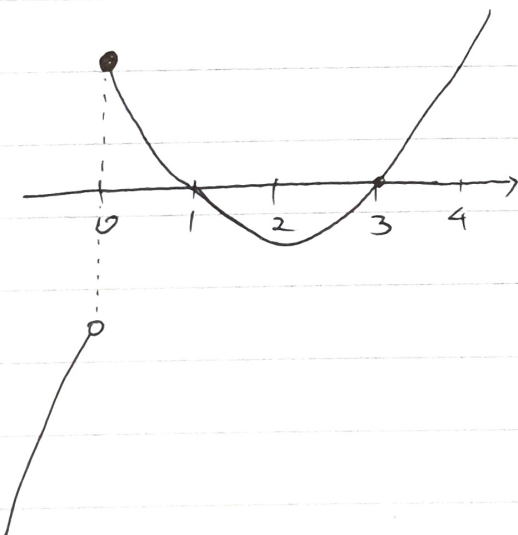
$|f(x)|$ 의 우미분계수

⇒ 무조건 0 이상.



(A)

(B)



⇔ 절댓값함수의 우미분계수

⇔ 우미분계수의 절댓값

Ⓒ

$$\lim_{h \rightarrow 0} \frac{f(f(x+h)) - f(f(x))}{h}$$



$$\lim_{h \rightarrow 0} \frac{f(f(x+h)) - f(f(x))}{f(x+h) - f(x)} \times \frac{f(x+h) - f(x)}{h}$$



$$f'(f(x)) \cdot f'(x)$$

Ⓓ

$$\lim_{h \rightarrow 0} \frac{f(f(x)+h) - f(f(x))}{h}$$



$$\lim_{h \rightarrow 0} \frac{f(f(x)+h) - f(f(x))}{(f(x)+h) - (f(x))}$$



$$f'(f(x))$$

↔ 합성함수 $f \circ f(x)$ 의
 x 에서의 미분계수

↔ 함수 $f(x)$ 의
 $\alpha = f(x)$ 에서의 미분계수.

함수의 제시

$|f(x)| = g(x) \rightarrow g(x) \text{는 } g(x) \geq 0 \text{ 이다. } g(x) = 0 \text{ 이라면, } g'(x) = 0 \text{ 이여야 한다.}$

$|f(x)| = \int_0^x g(t) dt \rightarrow f(0) = 0, f'(0) = 0 \text{ 이다. (무조건 극값이다)}$
 $\rightarrow \int_0^x g(t) dt \text{ 는 실전 미기이므로, } f(x) \text{ 도 실전 미기이다.}$

$$f(g(x)) = 3x^2$$

- ① $f(g(x))$ 는 실수 전체 미분가능
- ② $f(g(x))$ 는 이계미분 가능 (월예 9월 30번)
- ③ $f(g(x))$ 는 $f(g(x)) \geq 0$ 만족
- ④ $f(g(x))$ 는 우함수

$$|f(x) + g(x)|$$

- ① 정말 쉬운 상황이면 각각 그래프 그려서 해석
- ② $f(x) + g(x) = h(x)$ 로 두고,
 $h(x)$ 를 상수와 비교하든, $h(x) = 0 \rightarrow h'(x) = 0$ 을 이용하든, 미분해서 그려든..

$$\int_3^x f(t) dt = x - \alpha$$

- ① $x=3$ 대입: 좌변 0, $\alpha = 3$
- ② $\int_3^x f(t) dt - (x - \alpha) = h(x)$ 로 두고 미분해서.
 $h'(x) = f(x) - 1$ 로 두고 $h(x)$ 를 그려든 ~

$$f(x) \cdot f(2-x) = 4$$

($f(x)$ 연속 전제)

- ① $f(x)$ 는 절대 0이 못된다.
- ② 그러므로, $f(x) > 0$ or $f(x) < 0$ 이고, 이는 부호가 일정함을 의미한다.
- ③ 양변을 $f(x)$ 로 나눈 극한 때려볼 수 있다 (연속이나, 극한값=함숫값)
- ④ 산술기하도 생각해볼 수 있다.

$$|f(x)| = |g(x)|$$

⇔ $f(x) = \pm g(x)$ 의 근

함) $g(x)$ 가 만약

$g = (x)(x-1)(x-2)$ 이면, f 는 "선택"

