

수학 영역(수2)

1. 두 함수

$$f(x) = x^3 - 2kx^2 + 3$$

$$g(x) = x^2 - 3kx$$

가 다음 조건을 만족시키도록 하는 실수 k 의 최댓값은?

$a < b$ 인 모든 실수 a, b 에 대하여

$$\frac{g(b) - g(a)}{b - a} \leq \frac{f(b) - f(a)}{b - a}$$

이다.

- ① $\frac{1}{4}$ ② $\frac{1}{2}$ ③ $\frac{3}{4}$ ④ 1 ⑤ $\frac{5}{4}$

2. 이차함수 $f(x)$ 가 다음 조건을 만족시킨다.

(가) 모든 음수 x 에 대하여 $\int_0^x f(t)dt \leq 0$ 이다.

(나) $f(3) = 0$ 이고 $\int_0^3 f(x)dx \leq 0$ 이다.

$\frac{f(9)}{f(6)}$ 의 최댓값과 최솟값의 차는?

- ① $\frac{1}{10}$ ② $\frac{1}{5}$ ③ $\frac{3}{10}$ ④ $\frac{2}{5}$ ⑤ $\frac{1}{5}$

2

수학 영역(수2)

3. 다음 조건을 만족시키고 최고차항의 계수가 1인 삼차함수 $f(x)$ 가 존재하도록 하는 두 자연수 m, n 의 모든 순서쌍 (m, n) 의 개수를 구하시오. (단, $m \leq 2$)

(가) 함수 $|f(x) - x^m|$ 은 실수 전체의 집합에서 미분가능하다.
(나) $f(0) = n$ 이고 $f'(0) \leq 17 - m$ 이다.

4. 최고차항의 계수가 1이고 $f(0) = 0$ 인 삼차함수 $f(x)$ 가 다음 조건을 만족시킨다.

(가) 방정식 $f(x) = x$ 의 서로 다른 실근의 개수는 2이다.
(나) 방정식 $f'(x) = x$ 의 서로 다른 실근의 개수는 1이다.

$f(1) + f(-1) = k$ 라 할 때, 모든 k 의 값의 곱을 구하시오.

5. 최고차항의 계수가 -1 이고 $f(0)=f'(0)=0$ 인 삼차함수 $f(x)$ 가 $x=a(a>0)$ 에서 극대이고

$$f(a) \leq (f \circ f)(a)$$

일 때, $f(\sqrt{2})$ 의 값은?

- ① 1 ② $\sqrt{2}$ ③ 2 ④ $2\sqrt{2}$ ⑤ 4

6. 최고차항의 계수가 1인 삼차함수 $f(x)$ 와 함수

$$g(x) = ax^2 - \left(2a - \frac{1}{2}\right)x + 1$$

가 다음 조건을 만족시킨다.

$k=0, 2, p$ 일 때, $f(k)=k$ 이고, 방정식 $f(x)=k$ 의 서로 다른 실근의 개수는 $g(k)$ 이다.

두 상수 a, p 에 대하여 $\frac{1}{a^2 \times p^2}$ 의 값을 구하시오. (단, $p > 2$)

7. 함수 $f(x) = \frac{1}{3}x^3 + \frac{3}{2}x^2 + k$ 에 대하여 함수 $g(x)$ 를

$$g(x) = \int_0^x f(|t|)dt$$

라 하자. 함수

$$h(x) = f'(x)g(x) - \int_0^x (2u+3)g(u)du$$

가 $x=a$ 에서 극대 또는 극소인 실수 a 의 개수가 2가 되도록 하는 실수 k 의 최솟값은?

- ① $-\frac{41}{2}$ ② $-\frac{43}{2}$ ③ $-\frac{45}{2}$ ④ $-\frac{47}{2}$ ⑤ $-\frac{49}{2}$

8. 삼차함수 $f(x)$ 와 상수 k 가 다음 조건을 만족시킨다.

(가) 모든 실수 x 에 대하여 $(x-3)f(x) \leq 0$ 이다.

(나) $\lim_{x \rightarrow -1} \frac{(x+1)\{f'(x)+k\}}{f(x)} = f(1)$

$f(1) \neq 0$ 일 때, $f'(k)$ 의 값은?

- ① $\frac{3}{4}$ ② $\frac{7}{8}$ ③ 1 ④ $\frac{9}{8}$ ⑤ $\frac{5}{4}$

9. 두 함수

$$f(x) = \begin{cases} x^2 + x - 2 & (x \geq 1 \text{ 또는 } x \leq -2) \\ x + k & (-2 < x < 1) \end{cases},$$

$$g(x) = \begin{cases} 2x^2 + 5x & (x \leq k) \\ -4x + 5 & (x > k) \end{cases}$$

에 대하여 함수 $\frac{g(x)}{f(x)}$ 가 $x = \alpha$ 에서 불연속인 α 의 개수가 2가 되도록 하는 모든 실수 k 의 값의 곱을 구하시오.

10. 함수

$$f(x) = \int_0^x |tx - |x|| dt$$

에 대하여 $3 \times \int_{-1}^3 f(x) dx$ 의 값을 구하시오.

11. 최고차항의 계수가 1이고 극값 2를 갖는 삼차함수 $f(x)$ 와 상수 k 에 대하여 함수 $g(x)$ 를

$$g(x) = \begin{cases} f'(x) & (x \leq k) \\ f'(x) + f(1) & (x > k) \end{cases}$$

라 하자. 함수 $f(x)$ 가 $x=a$ 에서 극대 또는 극소인 실수 a 의 집합을 A , 함수 $g(x)$ 가 $x=b$ 에서 극대 또는 극소인 실수 b 의 집합을 B 라 할 때,

$$A \cup B = \{-2, -1, 0, 2\}$$

이다. $f(4)$ 의 값을 구하시오.

12. 다음 조건을 만족시키고 최고차항의 계수가 $\frac{1}{6}$ 인 삼차함수 $f(x)$ 의 개수가 2가 되도록 하는 모든 자연수 n 의 값의 합을 구하시오.

방정식 $f(x)=0$ 의 서로 다른 실근의 개수를 a 라 할 때, $f'(0)=f'(a)=0$ 이고, 함수 $nf(x)$ 의 극댓값은 a 이다.

13. 삼차함수 $f(x)$ 가 다음 조건을 만족시킨다.

- (가) 함수 $f(x)$ 는 $x=0$ 에서 극댓값 2를 갖는다.
- (나) 함수 $f'(x)$ 의 최솟값은 -9 이다.
- (다) 방정식 $(f' \circ f)(x)=0$ 의 서로 다른 실근의 개수는 5이다.

함수 $f(x)$ 가 음수인 극솟값 m 을 가질 때, m^2 의 값을 구하시오.

14. 일차함수 $f(x)$ 에 대하여 함수 $g(x)$ 를

$$g(x) = \begin{cases} f(x+1) \times \{f(x)\}^2 & (x < 0) \\ f(x-1) \times \int_0^x f(t)dt & (x \geq 0) \end{cases}$$

라 하자. 함수 $g(x)$ 는 실수 전체의 집합에서 연속이고, 방정식 $g(x) = -\frac{2}{3}$ 의 서로 다른 실근의 개수는 3이다. $f(2)$ 의 최솟값을 k 라 할 때, k^2 의 값을 구하시오.

15. 최고차항의 계수가 1인 삼차함수 $f(x)$ 와 실수 t 에 대하여

$$f(x) = t \text{ 또는 } (t-a)^2 + x^2 = 0$$

을 만족시키는 모든 실수 x 의 개수를 $g(t)$ 라 하자. 함수 $g(t)$ 가 다음 조건을 만족시킨다.

- (가) 실수 k 에 대하여 함수 $g(t)$ 가 $t=k$ 에서 불연속이면,
함수 $g(t)$ 는 $t=-k$ 에서 불연속이다.
(나) $g(-3) < g(4)$

$f'(0)=0$ 일 때, $f(1)$ 의 최솟값은? (단, a 는 상수이다.)

- ① 1 ② 2 ③ 3 ④ 4 ⑤ 5

16. 최고차항의 계수가 1인 이차함수 $f(x)$ 에 대하여 함수

$$g(x) = \frac{1}{2} \{f(x)\}^2 - \int_1^x f(t) dt$$

가 $x=1$ 에서 극댓값 0을 갖는다. <보기>에서 옳은 것만을 있는 대로 고른 것은?

<보 기>

- ㄱ. $f(1)=0$
 ㄴ. $1 < f(2) < 2$
 ㄷ. $a < 1$ 인 실수 a 에 대하여 $g'(a)=0$ 이면
 $-\frac{1}{6} < g(a)$ 이다.

- ① ㄱ ② ㄱ, ㄴ ③ ㄱ, ㄷ
 ④ ㄴ, ㄷ ⑤ ㄱ, ㄴ, ㄷ

17. $a < 1$ 인 실수 a 에 대하여 함수 $f(x)$ 를

$$f(x) = 9(x-a)(x-1)^2$$

이라 하자. 함수 $g(x)$ 가

$$g(x) = \begin{cases} x-a-\frac{1}{3} & (f'(x)=0) \\ f(x) & (f'(x) \neq 0) \end{cases}$$

일 때, <보기>에서 옳은 것만을 있는 대로 고른 것은?

<보 기>

- ㄱ. $a=0$ 이면 $g\left(\frac{1}{3}\right)=0$ 이다.
- ㄴ. 함수 $g(x)$ 가 $x=k(k < 1)$ 에서 불연속이면 $f(k) > g(k)$ 이다.
- ㄷ. 방정식 $g(x)=t$ 의 서로 다른 실근의 개수가 2가 되도록 하는 양수 t 는 존재하지 않는다.

- ① ㄱ ② ㄱ, ㄴ ③ ㄱ, ㄷ
- ④ ㄴ, ㄷ ⑤ ㄱ, ㄴ, ㄷ

18. 최고차항의 계수가 1인 사차함수 $f(x)$ 와 실수 t 에 대하여 함수 $|f(x)-f(t)|$ 가 $x=a$ 에서 미분가능하지 않고, $t \leq a$ 인 모든 실수 a 의 개수를 $g(t)$ 라 하자. 함수 $g(t)$ 와 음수 k 가 다음 조건을 만족시킨다.

- (가) 방정식 $g(t)=0$ 의 실근은 1 뿐이다.
- (나) $g(0)=1$ 이고 $g(k)=2$ 이다.

$f(0)=0$, $f(k) < 0$ 일 때, $f(2)$ 의 범위는 $\alpha < f(2) < \beta$ 이다. $36(\beta-\alpha)$ 의 값을 구하시오.

19. 최고차항의 계수가 양수인 삼차함수 $f(x)$ 가 다음 조건을 만족시킬 때, $f(3\sqrt{3})$ 의 값을 구하시오. (단, k 는 $k < 1$ 인 상수이다.)

- (가) 모든 실수 x 에 대하여 $f(-x) = -f(x)$ 이다.
 (나) 실수 t 에 대하여 방정식 $(f \circ f)(x) = t$ 의 서로 다른 실근의 개수가 7이기 위한 필요충분조건은 $k < t < 1$ 이다.

20. 자연수 n 과 실수 p 가 다음 조건을 만족시킬 때, p 가 될 수 있는 모든 수의 합은 S 이다. $6S^2$ 의 값을 구하시오.

함수 $\left| x^3 + \frac{\sqrt{2}}{2}nx^2 + a \right|$ 가 $x=t$ 에서 극소이고 $a \leq t$ 인 실수 t 의 개수가 2가 되도록 하는 실수 a 의 집합은 $\{a \mid a \leq p\}$ 이다.

정답

- 1. ④
- 2. ②
- 3. 22
- 4. 484
- 5. ②
- 6. 4
- 7. ③
- 8. ⑤
- 9. 10
- 10. 16
- 11. 34
- 12. 62
- 13. 100
- 14. 36
- 15. ②
- 16. ⑤
- 17. ②
- 18. 96
- 19. 351
- 20. 27

해설

1. 주어진 조건

$$\frac{g(b)-g(a)}{b-a} \leq \frac{f(b)-f(a)}{b-a}$$

에서 양 변에 $b-a(b-a>0)$ 를 곱해서 정리하면

$$f(a)-g(a) \leq f(b)-g(b)$$

이고, 이는 함수 $f(x)-g(x)$ 가 실수 전체의 집합에서 증가한다는 것을 알 수 있다.

$$f(x)-g(x) = (x^3 - 2kx^2 + 3) - (x^2 - 3kx) = x^3 - (2k+1)x^2 + 3kx + 3$$

에서 $f'(x)-g'(x) \geq 0$ 이어야 하므로

$$f'(x)-g'(x) = 3x^2 - 2(2k+1)x + 3k \geq 0 \text{이어야 한다.}$$

즉, 이차방정식 $3x^2 - 2(2k+1)x + 3k = 0$ 의 판별식 D 가 0보다 작거나 같아야 한다.

$$D = 4(2k+1)^2 - 36k = 4(4k-1)(k-1) \leq 0$$

에서 $\frac{1}{4} \leq k \leq 1$ 이고, k 의 최댓값은 1이다.

답) 1

2. 모든 음수 x 에 대하여

$$\int_0^x f(t)dt \leq 0 \Rightarrow \int_x^0 f(t)dt \geq 0$$

이므로 함수 $f(x)$ 의 최고차항의 계수는 양수이며, 모든 음수 x 에 대하여 $f(x) \geq 0$ 이다.

$f(3) = 0$ 임을 이용해서 $f(x) = a(x-b)(x-3)$ 이라 두면, $a > 0$ 이고, 모든 음수 x 에 대하여 $f(x) \geq 0$ 이므로 $b \geq 0$ 이다.

$$\int_0^3 f(x)dx = \int_0^3 a(x-b)(x-3)dx = a \times \int_0^3 \{x^2 - (3+b)x + 3b\}dx$$

$$= a \left[\frac{1}{3}x^3 - \frac{3+b}{2}x^2 + 3bx \right]_0^3 = \frac{9}{2}a(b-1)$$

$$\int_0^3 f(x)dx \leq 0 \text{에서 } \frac{9}{2}a(b-1) \leq 0 \text{이고, } b \leq 1 \text{이다.}$$

$$\text{즉, } 0 \leq b \leq 1 \text{이고 } \frac{f(9)}{f(6)} = \frac{6a(9-b)}{3a(6-b)} = \frac{18-2b}{6-b} \text{이므로}$$

$b=0$ 에서 최솟값 3, $b=1$ 에서 최댓값 $\frac{16}{5}$ 을 갖는다.

따라서 최댓값과 최솟값의 차는 $\frac{16}{5} - 3 = \frac{1}{5}$ 이다.

답) $\frac{1}{5}$

3. (i) $m=1$ 일 때,

함수 $f(x)-x$ 는 삼차함수이므로 함수 $|f(x)-x|$ 가 실수 전체의 집합에서 미분가능하기 위해서는

$$f(x)-x=(x+a)^3$$

이어야 한다. (a 는 실수) 즉,

$$f(x)=(x+a)^3+x=x^2+3ax^2+(3a^2+1)x+a^3$$

$$f(0)=a^3=n \text{에서 } a=n^{\frac{1}{3}} \text{이고,}$$

$$f'(0)=3a^2+1 \leq 16 \text{에서 } a^2=n^{\frac{2}{3}} \leq 5, n \leq 5\sqrt{5} \text{이다.}$$

n 이 자연수이므로 $n=1, 2, 3, \dots, 11$

즉, 순서쌍 (m, n) 은 $(1, 1), (1, 2), \dots, (1, 11)$ 이고 11개다.

(ii) $m=2$ 일 때,

함수 $f(x)-x^2$ 는 삼차함수이므로 함수 $|f(x)-x^2|$ 가 실수 전체의 집합에서 미분가능하기 위해서는

$$f(x)-x^2=(x+a)^3$$

이어야 한다. (a 는 실수) 즉,

$$f(x)=(x+a)^3+x^2=x^2+(3a+1)x^2+3a^2x+a^3$$

$$f(0)=a^3=n \text{에서 } a=n^{\frac{1}{3}} \text{이고,}$$

$$f'(0)=3a^2 \leq 15 \text{에서 } a^2=n^{\frac{2}{3}} \leq 5, n \leq 5\sqrt{5} \text{이다.}$$

n 이 자연수이므로 $n=1, 2, 3, \dots, 11$

즉, 순서쌍 (m, n) 은 $(2, 1), (2, 2), \dots, (2, 11)$ 이고 11개다.

(i), (ii)에 의하여 구하는 순서쌍의 개수는 $11+11=22$ 이다.

답) 22

4. $f(0)=0$ 이므로 조건 (가)에 따라 다음과 같은 두 가지 경우로 나눌 수 있다.

$$(i) f(x)-x=x(x-a)^2$$

$$(ii) f(x)-x=x^2(x-a) \quad (\text{단, } a \neq 0)$$

$$(i) f(x)-x=x(x-a)^2$$

$$f(x)=x(x-a)^2+x=x^3-2ax^2+(a^2+1)x$$

$$f'(x)=3x^2-4ax+a^2+1$$

이때 조건 (나)에 의하여 방정식 $f'(x)-x=0$ 이 중근을 가져야 한다.

$$f'(x)-x=3x^2-(4a+1)x+a^2+1=0 \text{에서 이 방정식이 중근을 가져야 하므로 (판별식)=0이어야 한다.}$$

$$(\text{판별식})=(4a+1)^2-12(a^2+1)=4a^2+8a-11=0$$

방정식 $4a^2+8a-11=0$ 은 서로 다른 두 실근 α, β 를 가지므로, $f(1)+f(-1)=(1-a)^2-(-1-a)^2=-4a=k$ 에서 모든 k 의 곱은

$$(-4\alpha)(-4\beta)=16\alpha\beta=16 \times \left(-\frac{11}{4}\right)=-44 \quad (\text{근과 계수와의 관계})$$

$$(ii) f(x)-x=x^2(x-a)$$

$$f(x)=x^2(x-a)+x=x^3-ax^2+x$$

$$f'(x)=3x^2-2ax+1$$

이때 조건 (나)에 의하여 방정식 $f'(x)-x=0$ 이 중근을 가져야 한다.

$$f'(x)-x=3x^2-(2a+1)x+1=0 \text{에서 이 방정식이 중근을 가져야 하므로 (판별식)=0이어야 한다.}$$

$$(\text{판별식})=(2a+1)^2-12=4a^2+4a-11=0$$

방정식 $4a^2+4a-11=0$ 은 서로 다른 두 실근 γ, δ 를 가지므로, $f(1)+f(-1)=1-a-1-a=-2a=k$ 에서 모든 k 의 곱은

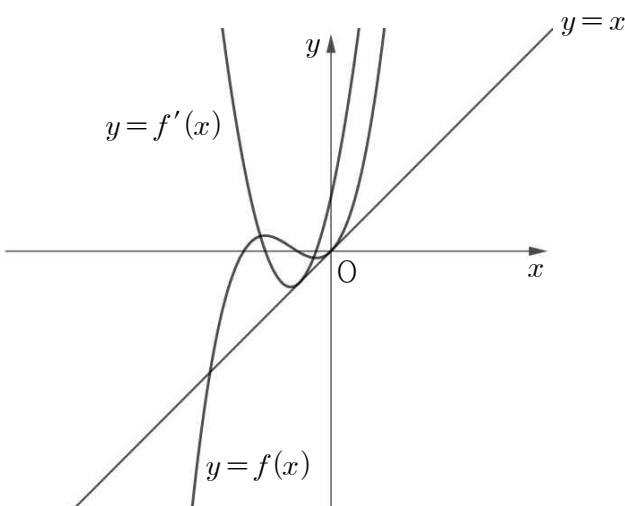
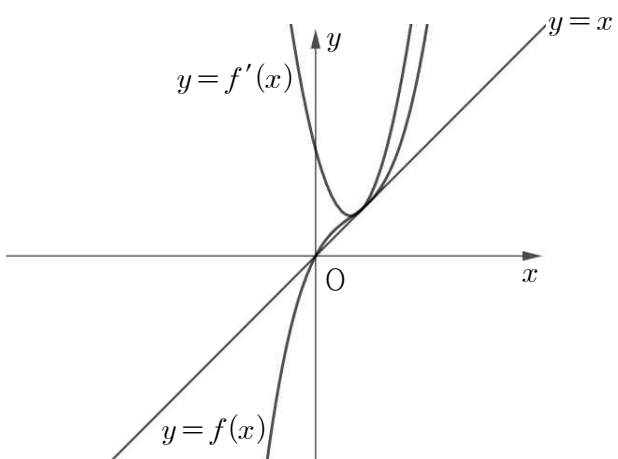
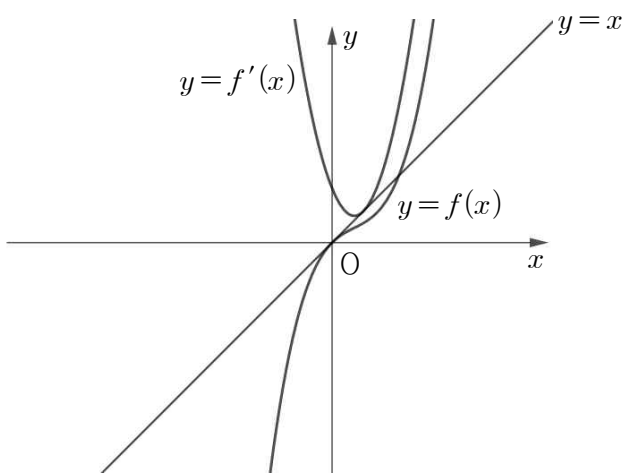
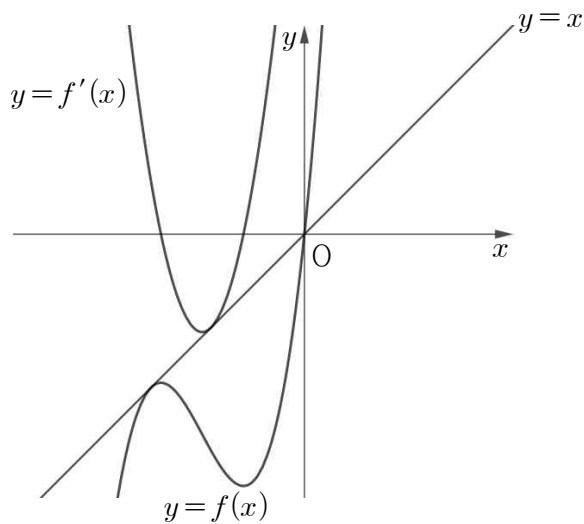
$$(-2\gamma)(-2\delta)=4\gamma\delta=4 \times \left(-\frac{11}{4}\right)=-11 \quad (\text{근과 계수와의 관계})$$

(i), (ii)에 의하여 모든 k 의 값의 곱은 $(-44) \times (-11)=484$ 이다.

답) 484

참고)

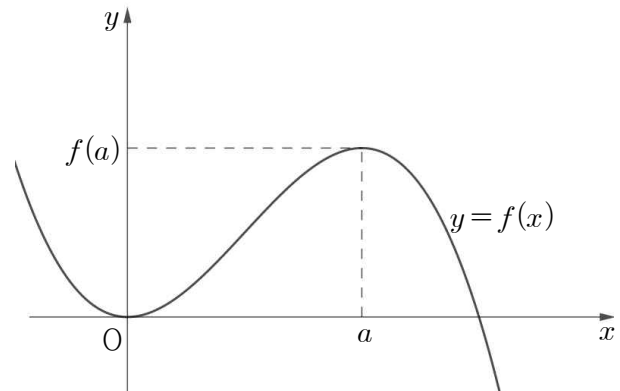
위의 상황에서 알 수 있듯이, 조건을 만족시키는 함수 $f(x)$ 의 개수는 4이다. 이때의 함수 $f(x)$ 의 그래프와 함수 $f'(x)$ 의 그래프를 그리면 다음과 같다.



5. $f(x) = -x^2(x-k)$ 라 하면, $f'(x) = -x(3x-2k)$ 이다. 함수 $f(x)$ 가 $x=a$ 에서 극대이므로 $f'(a) = 0$ 이어야 한다.

$a > 0$ 이므로 $3a-2k=0$ 이고, $k = \frac{3}{2}a$ 이다.

함수 $f(x) = -x^2\left(x - \frac{3}{2}a\right)$ 의 그래프를 그리면 다음과 같다.



위의 그래프에서 두 가지 사실을 알 수 있다.

- (i) $f(a) > 0$
- (ii) 모든 양수 x 에 대하여 $f(a) \geq f(x)$

위 두 가지 사실을 조합하면

$$f(a) \geq (f \circ f)(a)$$

를 얻고, $f(a) \leq (f \circ f)(a)$ 이므로

$$f(a) = (f \circ f)(a)$$

를 얻는다. 즉, $x=f(a)$ 일 때 극솟값 $f(a)$ 를 갖는다는 것을 알 수 있고, $f(a)=a$ 라는 것을 알 수 있다.

$$f(a) = -a^2\left(-\frac{1}{2}a\right) = \frac{a^3}{2} = a \text{이므로 } a^2 = 2 \text{에서 } a = \sqrt{2} \text{를 얻는다.}$$

$$\text{따라서 } f(x) = -x^2\left(x - \frac{3\sqrt{2}}{2}\right) \text{이고 } f(\sqrt{2}) = \sqrt{2} \text{이다.}$$

답) $\sqrt{2}$

6. 조건에 의하여 $f(0)=0, f(2)=2$ 이고, 방정식 $f(x)=x$ 의 서로 다른 실근의 개수는 3이다.

$g(0)=1$ 이므로 방정식 $f(x)=0$ 은 오직 하나의 실근을 갖고, $g(2)=2$ 이므로 방정식 $f(x)=2$ 의 서로 다른 실근의 개수는 2이다. 즉, 함수 $f(x)$ 는 극값 2를 갖고, $f(2)=2$ 이므로 다음의 두 가지 경우로 나눌 수 있다.

(i) $f(x)=(x-2)(x-a)^2+2$

$f(0)=-2a^2+2=0$ 이므로 $a^2=1, a=1$ 또는 $a=-1$ 이다.

① $a=1$ 이면 $f(x)=(x-2)(x-1)^2+2$ 이다.

방정식 $f(x)-x=0$ 의 서로 다른 실근의 개수가 3이어야 한다.

$f(x)-x=x(x-2)^2$ 에서 서로 다른 실근의 개수가 2이므로 조건을 만족시키지 않는다.

② $a=-1$ 이면 $f(x)=(x-2)(x+1)^2+2$ 이다.

방정식 $f(x)-x=0$ 의 서로 다른 실근의 개수가 3이어야 한다.

$f(x)-x=x(x-2)(x+2)$ 에서 서로 다른 실근의 개수가 3이므로 조건을 만족시키고, $p=-2$ 이다. 그런데 $2 < p$ 이므로 모순이다.

(ii) $f(x)=(x-2)^2(x-a)+2$

$f(0)=-4a+2=0$ 이므로 $a=\frac{1}{2}$ 이고,

$f(x)=(x-2)^2\left(x-\frac{1}{2}\right)+2$ 이다.

$f(x)-x=0$ 의 서로 다른 실근의 개수가 3이어야 하고,

$f(x)-x=x(x-2)\left(x-\frac{5}{2}\right)$ 이므로 조건을 만족시키고

$p=\frac{5}{2} > 2$ 이다.

(i), (ii)에 의하여 $f(x)=(x-2)^2\left(x-\frac{1}{2}\right)+2$ 이다.

방정식 $f(x)=\frac{5}{2}$ 이 서로 다른 실근의 개수가 $g\left(\frac{5}{2}\right)$ 이므로 함수 $f(x)$ 의 그래프의 개형을 알아야 한다.

$f(x)=(x-2)^2\left(x-\frac{1}{2}\right)+2$ 에서 $f'(x)=3x^2-9x+6=0$ 에서 $x=1$

또는 $x=2$ 이고, 함수 $f(x)$ 는 $x=1$ 에서 극댓값 $f(1)=\frac{5}{2}$ 를

갖는다. 따라서 방정식 $f(x)=\frac{5}{2}$ 의 서로 다른 실근의 개수는

2이고, $g\left(\frac{5}{2}\right)=2$ 이다.

$g\left(\frac{5}{2}\right)=\frac{5}{4}a+\frac{9}{4}=2$ 에서 $a=-\frac{1}{5}$ 이고 $\frac{1}{a^2 \times p^2}=4$ 이다.

답) 4

7. $h(x)=f'(x)g(x)-\int_0^x(2u+3)g(u)du$

$= (x^2+3x)g(x)-\int_0^x(2u+3)g(u)du$ 에서

$h'(x)=(2x+3)g(x)+(x^2+3x)g'(x)-(2x+3)g(x)$

$=x(x+3)g'(x)=x(x+3)f'(|x|)$ 이다.

함수 $h(x)$ 가 $x=a$ 에서 극대 또는 극소인 실수 a 의 개수가 2가 되도록 하려면, 함수 $h'(x)$ 의 부호변화가 두 번 나타나야 한다.

$h'(0)=h'(3)=0$ 이므로 경우를 나누면 다음과 같다.

(i) 모든 실수 x 에 대하여 $f(|x|) \geq 0$ 인 경우

$x \geq 0$ 에서 함수 $f(x)$ 의 최솟값이 0 이상이어야 한다.

$f'(x)=x(x+3)$ 이고 $x \geq 0$ 에서 $f'(x) \geq 0$ 이므로

함수 $f(x)$ 는 $x \geq 0$ 에서 증가한다. 즉, $x \geq 0$ 에서 함수 $f(x)$ 의 최솟값은 $f(0)=k$ 이다. 따라서 $k \geq 0$ 이다.

(ii) $f(|p|)=0$ 인 p 가 존재하는 경우 ($p \neq 0$)

함수 $f(x)$ 는 $x \geq 0$ 에서 증가하고 $f(|p|)=f(-p)=0$ 이므로 방정식 $f(|x|)=0$ 의 실근은 p 또는 $-p$ 이다.

함수 $h'(x)$ 의 부호변화가 두 번 나타나야 하고

$h'(0)=h'(3)=0, p \neq 0$ 이므로 방정식 $f(|x|)=0$ 의 실근이

-3 이어야 한다. $f(|-3|)=f(3)=0$ 에서 $\frac{45}{2}+k=0$ 이고,

$k=-\frac{45}{2}$ 이다.

(i), (ii)에 의하여 $k=-\frac{45}{2}$ 또는 $k \geq 0$ 이고, k 의 최솟값은

$-\frac{45}{2}$ 이다.

답) $-\frac{45}{2}$

8. 모든 실수 x 에 대하여 $(x-3)f(x) \leq 0$ 이므로, $x \leq 3$ 이면 $f(x) \geq 0$, $x \geq 3$ 이면 $f(x) \leq 0$ 이다. 즉, $f(3) = 0$ 이다.

$$\lim_{x \rightarrow -1} \frac{(x+1)\{f'(x)+k\}}{f(x)} = f(1) \text{에서 } f(1) \neq 0 \text{이므로 } 0 \text{이 아닌}$$

극한값이 존재하려면 $f(-1) = 0$ 이어야 한다.

$x \leq 3$ 이면 $f(x) \geq 0$ 이므로 함수 $f(x)$ 는 $x = -1$ 에서 접해야 한다. 따라서 $f'(-1) = 0$ 이다.

$f(x) = a(x+1)^2(x-3)$ 이라 두면,

$$\begin{aligned} \lim_{x \rightarrow -1} \frac{(x+1)\{f'(x)+k\}}{f(x)} &= \lim_{x \rightarrow -1} \frac{(x+1)\{f'(x)+k\}}{a(x+1)^2(x-3)} \\ &= \lim_{x \rightarrow -1} \frac{f'(x)+k}{a(x+1)(x-3)} = f(1) \end{aligned}$$

극한값이 존재하려면 $f'(-1)+k = k = 0$ 이어야 한다. 따라서

$$\begin{aligned} \lim_{x \rightarrow -1} \frac{f'(x)}{a(x+1)(x-3)} &= \lim_{x \rightarrow -1} \frac{2a(x+1)(x-3) + a(x+1)^2}{a(x+1)(x-3)} \\ &= \lim_{x \rightarrow -1} \frac{2a(x-3) + a(x+1)}{a(x-3)} = \frac{-8a}{-4a} = 2 = f(1) \end{aligned}$$

$$f(1) = 2 \text{이므로 } f(1) = a(1+1)^2(1-3) = -8a = 2, \quad a = -\frac{1}{4}$$

따라서 $f(x) = -\frac{1}{4}(x+1)^2(x-3)$ 이고,

$$f'(k) = f'(0) = \frac{5}{4} \text{이다.}$$

답) $\frac{5}{4}$

9. 함수 $\frac{g(x)}{f(x)}$ 는 $f(x) = 0$ 인 x 에서 항상 불연속이다. 이때,

$$x^2 + x - 2 = (x-1)(x+2) \text{이므로 } f(1) = f(-2) = 0 \text{이고, 함수}$$

$\frac{g(x)}{f(x)}$ 는 $x = 1$, $x = -2$ 에서 불연속이다. 따라서 함수 $\frac{g(x)}{f(x)}$ 는

$x \neq 1$ 이고 $x \neq -2$ 인 모든 실수 x 에 대하여 연속이어야 한다.

$f(x)$ 는 $x \neq 1$ 이고 $x \neq -2$ 인 모든 실수 x 에 대하여

$f(x) \neq 0$ 이어야 한다. 따라서 $-2 < x < 1$ 에서 $x+k > 0$ 또는

$x+k < 0$ 이어야 한다.

$x+k > 0$ 이어야 하는 경우는 $k \geq 2$ 이어야 하고,

$x+k < 0$ 이어야 하는 경우는 $k \leq -1$ 이어야 한다.

따라서 $k \leq -1$ 또는 $k \geq 2$ 이다.

$g(x)$ 가 $x = k$ 에서 연속인지 불연속인지에 따라서 경우를 나누면

(i) $g(x)$ 가 $x = k$ 에서 연속인 경우

$$\lim_{x \rightarrow k^+} g(x) = \lim_{x \rightarrow k^-} g(x) \text{에서 } 2k^2 + 5k = -4k + 5 \text{이고 } k = -5 \text{ 또는}$$

$k = \frac{1}{2}$ 인데, $k \leq -1$ 또는 $k \geq 2$ 이므로 $k = -5$ 이다.

(ii) $g(x)$ 가 $x = k$ 에서 불연속인 경우

함수 $\frac{g(x)}{f(x)}$ 는 $x \neq 1$ 이고 $x \neq -2$ 인 모든 실수 x 에 대하여

연속이어야 하므로 함수 $g(x)$ 는 $x = 1$ 또는 $x = -2$ 에서

불연속이어야 한다. 따라서 $k = 1$ 또는 $k = -2$ 이고,

$k \leq -1$ 또는 $k \geq 2$ 이므로 $k = -2$ 이다.

(i), (ii)에 의하여 $k = -5$ 또는 $k = -2$ 이고, 모든 k 의 값의 곱은 $(-5) \times (-2) = 10$ 이다.

답) 10

10. $f(x) = \int_0^x |tx - |x|| dt$ 에서

(i) $-1 \leq x \leq 0$

$$\begin{aligned} f(x) &= \int_0^x |tx - |x|| dt = \int_0^x |tx + x| dt = \int_0^x |x| |t+1| dt \\ &= -x \int_0^x |t+1| dt = -x \int_0^x (t+1) dt = -x \left[\frac{1}{2}t^2 + t \right]_0^x \\ &= -\frac{1}{2}x^3 - x^2 \end{aligned}$$

(ii) $0 \leq x \leq 1$

$$\begin{aligned} f(x) &= \int_0^x |tx - |x|| dt = \int_0^x |tx - x| dt = \int_0^x |x| |t-1| dt \\ &= x \int_0^x |t-1| dt = x \int_0^x (1-t) dt = x \left[t - \frac{1}{2}t^2 \right]_0^x \\ &= x^2 - \frac{1}{2}x^3 \end{aligned}$$

(iii) $1 \leq x$

$$\begin{aligned} f(x) &= \int_0^x |tx - |x|| dt = \int_0^x |tx - x| dt = \int_0^x |x| |t-1| dt \\ &= x \int_0^x |t-1| dt = x \int_0^1 (1-t) dt + x \int_1^x (t-1) dt \\ &= x \left[t - \frac{1}{2}t^2 \right]_0^1 + x \left[\frac{1}{2}t^2 - t \right]_1^x = \frac{1}{2}x + x \left(\frac{1}{2}x^2 - x + \frac{1}{2} \right) \\ &= \frac{1}{2}x^3 - x^2 + x \end{aligned}$$

$$\text{따라서 } f(x) = \begin{cases} -\frac{1}{2}x^3 - x^2 & (-1 \leq x < 0) \\ x^2 - \frac{1}{2}x^3 & (0 \leq x < 1) \\ \frac{1}{2}x^3 - x^2 + x & (1 \leq x) \end{cases}$$

$$\begin{aligned} \int_{-1}^3 f(x) dx &= \int_{-1}^0 f(x) dx + \int_0^1 f(x) dx + \int_1^3 f(x) dx \\ &= \left[-\frac{1}{8}x^4 - \frac{1}{3}x^3 \right]_{-1}^0 + \left[\frac{1}{3}x^3 - \frac{1}{8}x^4 \right]_0^1 + \left[\frac{1}{8}x^4 - \frac{1}{3}x^3 + \frac{1}{2}x^2 \right]_1^3 \\ &= -\frac{5}{24} + \frac{5}{24} + \frac{16}{3} = \frac{16}{3} \end{aligned}$$

따라서 구하는 값은 $3 \times \frac{16}{3} = 16$ 이다.

답) 16

다른 풀이)

$f(x) = \int_0^x |tx - |x|| dt$ 에서

$$\begin{aligned} f(-x) &= \int_0^{-x} |-tx - |-x|| dt = \int_0^{-x} |tx + |x|| dt \\ &= -\int_{-x}^0 |tx + |x|| dt \end{aligned}$$

이때 t 에 대한 두 함수 $|tx - |x||$, $|tx + |x||$ 의 그래프는 직선 $t=0$ 에 대하여 대칭이다. 따라서

$$\int_0^x |tx - |x|| dt = \int_{-x}^0 |tx + |x|| dt$$

이다. 즉,

$$f(-x) = -\int_{-x}^0 |tx + |x|| dt = -f(x)$$

이므로 함수 $f(x)$ 는 원점에 대하여 대칭이다.

따라서

$$\int_{-1}^3 f(x) dx = \int_1^3 f(x) dx = \left[\frac{1}{8}x^4 - \frac{1}{3}x^3 + \frac{1}{2}x^2 \right]_1^3 = \frac{16}{3}$$

이고, 구하는 값은 $3 \times \frac{16}{3} = 16$ 이다.

11. 집합 $A \cup B$ 의 원소의 개수는 4이고, 함수 A 의 원소의 개수는 2이다. 함수 B 의 원소의 개수는 최대 2이므로, 함수 B 의 원소의 개수가 2가 되어야 한다. 즉, 함수 $g(x)$ 가 $x=b$ 에서 극대 또는 극소인 b 의 개수는 2이다.

함수 $g(x)$ 는 $f'(x)$ 가 $x=\alpha$ 에서 극소인 α 인 경우와 k 인 경우에서 극대 또는 극소를 가진다. 따라서 집합 $A \cup B$ 에 α 와 k 가 포함되어 있다.

집합 A 의 원소는 방정식 $f'(x)=0$ 의 두 실근 $p, q(p < q)$ 이므로

$$A \cup B = \{p, q, \alpha, k\}$$

이다.

방정식 $f'(x)=0$ 의 두 실근 $p, q(p < q)$ 와 $f'(x)$ 가 $x=\alpha$ 에서 극소인 α 에 대하여 세 수 p, α, q 는 이 순서대로 등차수열을 이룬다. 이때 집합 $A \cup B$ 의 원소가 $-2, -1, 0, 2$ 이므로 p, α, q 가 될 수 있는 경우는 다음의 두 가지 경우가 있다.

(i) $p=-2, \alpha=-1, q=0$ 인 경우

$f'(x) = 3x(x+2) = 3x^2 + 6x$ 이고 $f(x) = x^3 + 3x^2 + C$ 이다. 또, $k=2$ 이므로 함수 $g(x)$ 는

$$g(x) = \begin{cases} 3x^2 + 6x & (x \leq 2) \\ 3x^2 + 6x + f(1) & (x > 2) \end{cases}$$

이다.

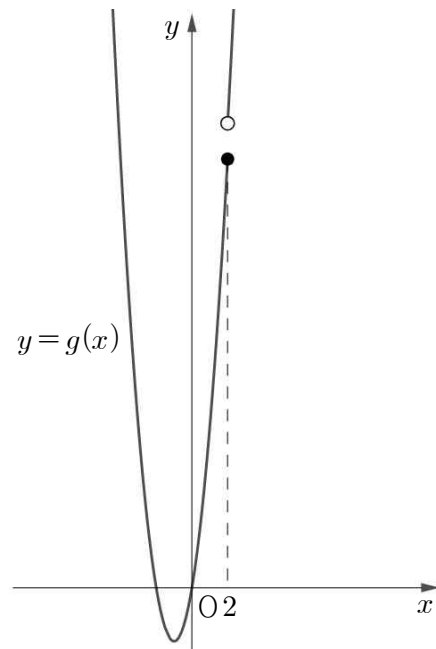
함수 $f(x)$ 가 극값 2를 가지므로 다음과 같은 두 가지 경우로 나눌 수 있다.

① $f(-2) = 2$ 인 경우

$f(-2) = -8 + 12 + C = 4 + C = 2$ 이므로 $C = -2$ 이고 $f(1) = 1 + 3 - 2 = 2$ 이다. 따라서 함수 $g(x)$ 는

$$g(x) = \begin{cases} 3x^2 + 6x & (x \leq 2) \\ 3x^2 + 6x + 2 & (x > 2) \end{cases}$$

이고, 함수 $g(x)$ 의 그래프를 그리면 다음과 같다.



그림과 같이 $x=2$ 에서 극값을 갖지 않고, 조건을 만족시키지 않는다.

② $f(0) = 2$ 인 경우

$C=2$ 이고, $f(1) = 1 + 3 + 2 = 6$ 이다. 따라서 함수 $g(x)$ 는

$$g(x) = \begin{cases} 3x^2 + 6x & (x \leq 2) \\ 3x^2 + 6x + 6 & (x > 2) \end{cases}$$

이다. 함수 $g(x)$ 의 그래프를 그리면 위의 ①의 경우와 같이 $x=2$ 에서 극값을 갖지 않고, 조건을 만족시키지 않는다.

(ii) $p=-2, \alpha=0, q=2$ 인 경우

$f'(x) = 3(x-2)(x+2) = 3x^2 - 12$ 이고 $f(x) = x^3 - 12x + C$ 이다. 또, $k=-1$ 이므로 함수 $g(x)$ 는

$$g(x) = \begin{cases} 3x^2 - 12 & (x \leq -1) \\ 3x^2 - 12 + f(1) & (x > -1) \end{cases}$$

이다.

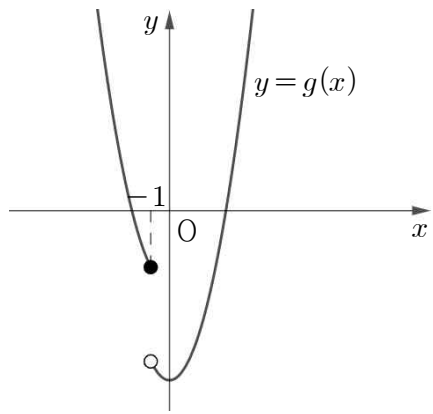
함수 $f(x)$ 가 극값 2를 가지므로 다음과 같은 두 가지 경우로 나눌 수 있다.

③ $f(-2) = 2$ 인 경우

$f(-2) = -8 + 24 + C = 16 + C = 2$ 이므로 $C = -14$ 이고 $f(1) = 1 - 12 - 14 = -25$ 이다. 따라서 함수 $g(x)$ 는

$$g(x) = \begin{cases} 3x^2 - 12 & (x \leq -1) \\ 3x^2 - 25 & (x > -1) \end{cases}$$

이고, 함수 $g(x)$ 의 그래프를 그리면 다음과 같다.



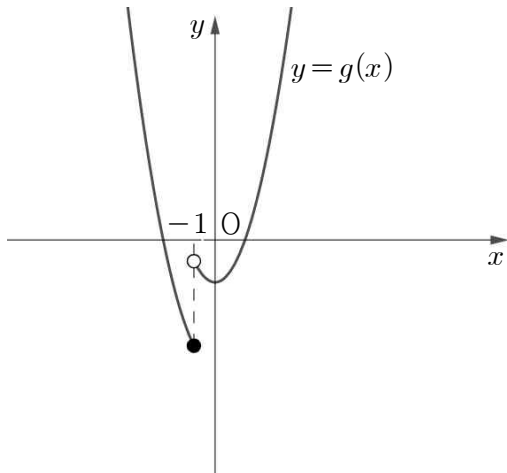
그림과 같이 $x=-1$ 에서 극값을 갖지 않는다. 따라서 조건을 만족시키지 않는다.

④ $f(2)=2$ 인 경우

$f(2)=8-24+C=-16+C=2$ 이므로 $C=18$ 이고
 $f(1)=1-12+18=7$ 이다. 따라서 함수 $g(x)$ 는

$$g(x) = \begin{cases} 3x^2 - 12 & (x \leq -1) \\ 3x^2 - 5 & (x > -1) \end{cases}$$

이고, 함수 $g(x)$ 의 그래프를 그리면 다음과 같다.



그림과 같이 $x=-1$ 에서 극소이고, 조건을 만족시킨다.

(i), (ii)에 의하여 $f(x)=x^3-12x+18$ 이고, $f(4)=34$ 이다.

답) 34

12. (i) $a=1$ 인 경우

$$f'(0)=f'(1)=0 \text{이므로 } f'(x)=\frac{1}{2}x(x-1)=\frac{1}{2}x^2-\frac{1}{2}x \text{이고,}$$

$$f(x)=\frac{1}{6}x^3-\frac{1}{4}x^2+C \text{이다.}$$

이때 방정식 $f(x)=0$ 이 오직 하나의 실근을 가지므로 함수 $f(x)$ 의 극솟값이 0보다 커야한다.

$$\text{즉, } f(1) > 0 \text{이어야 한다. } f(1)=\frac{1}{6}-\frac{1}{4}+C=C-\frac{1}{12} > 0 \text{에서}$$

$$C > \frac{1}{12} \text{이다.}$$

또, 함수 $nf(x)$ 의 극댓값이 1이므로 $nf(0)=nC=1$,

$$C=\frac{1}{n} \text{이다. 따라서 } \frac{1}{n} > \frac{1}{12} \text{이고 } n < 12 \text{이다.}$$

(ii) $a=2$ 인 경우

$$f'(0)=f'(2)=0 \text{이므로 } f'(x)=\frac{1}{2}x(x-2)=\frac{1}{2}x^2-x \text{이고,}$$

$$f(x)=\frac{1}{6}x^3-\frac{1}{2}x^2+C \text{이다.}$$

이때 방정식 $f(x)=0$ 이 의 실근의 개수가 2이므로 가지므로 함수 $f(x)$ 의 극값 중 0이 있어야 하고, 함수 $nf(x)$ 가 극댓값 2를 가지므로 $f(x)$ 의 극솟값이 0이어야 한다.

$$\text{즉, } f(2)=0 \text{이어야 한다. } f(2)=\frac{8}{6}-2+C=C-\frac{2}{3}=0 \text{에서}$$

$$C=\frac{2}{3} \text{이다.}$$

또, 함수 $nf(x)$ 의 극댓값이 2이므로 $nf(0)=\frac{2n}{3}=2$, $n=3$ 이다.

(iii) $a=3$ 인 경우

$$f'(0)=f'(3)=0 \text{이므로 } f'(x)=\frac{1}{2}x(x-3)=\frac{1}{2}x^2-\frac{3}{2}x \text{이고,}$$

$$f(x)=\frac{1}{6}x^3-\frac{3}{4}x^2+C \text{이다.}$$

이때 방정식 $f(x)=0$ 이 의 실근의 개수가 3이므로 가지므로 함수 $f(x)$ 의 극솟값이 0보다 작아야 한다.

$$\text{즉, } f(3) < 0 \text{이어야 한다. } f(3)=\frac{27}{6}-\frac{27}{4}+C=C-\frac{9}{4} < 0 \text{에서}$$

$$C < \frac{9}{4} \text{이다.}$$

또, 함수 $nf(x)$ 의 극댓값이 3이므로 $nf(0)=nC=3$.

$$C=\frac{3}{n} \text{이고, } \frac{3}{n} < \frac{9}{4} \text{에서 } \frac{4}{3} < n \text{이다.}$$

(i), (ii), (iii)에서

$n < 12$ 이면 $a = 1$ 인 삼차함수 $f(x)$ 가 존재하고,

$n = 3$ 이면 $a = 2$ 인 삼차함수 $f(x)$ 가 존재하고,

$\frac{4}{3} < n$ 이면 $a = 3$ 인 삼차함수 $f(x)$ 가 존재한다.

즉, $n = 1$ 이면 함수 $f(x)$ 의 개수가 1이고

$n = 2$ 이면 함수 $f(x)$ 의 개수가 2이고

$n = 3$ 이면 함수 $f(x)$ 의 개수가 3이고

$n = 4 \sim 11$ 이면 함수 $f(x)$ 의 개수가 2이고

$n \geq 12$ 이면 함수 $f(x)$ 의 개수가 1이다.

따라서 구하는 자연수 n 은

2, 4, 5, 6, 7, 8, 9, 10, 11

이고 합은 $2+4+5+6+7+8+9+10+11=62$ 이다.

답) 62

13. 조건 (가)에서 $f'(x) = ax(x-k)$ 라 둘 수 있고, $k > 0$ 이다.

조건 (나)에 의하여 $a > 0$ 이다.

조건 (다)에서 $f(x) = t$ 라 두면 $f'(t) = 0$ 의 실근의 개수가 5인데, $f'(0) = f'(k) = 0$ 이므로 $t = 0$ 또는 $t = k$ 인 실근의 개수가 5이다.

즉, $f(x) = 0$ 또는 $f(x) = k$ 인 실근의 개수가 5인데, 함수 $f(x)$ 가 양수인 극댓값과 음수인 극솟값을 가지므로 방정식 $f(x) = 0$ 의 서로 다른 실근의 개수는 3이고, 방정식 $f(x) = k$ 의 서로 다른 실근의 개수는 2이다.

방정식 $f(x) = k$ 의 서로 다른 실근의 개수는 2이므로 k 는 함수 $f(x)$ 의 극값이고, $k > 0$ 이므로 $k = 2$ 이어야 한다. 따라서 $f'(x) = ax(x-2)$ 이고, 조건 (나)에 의하여 $f'(1) = -9$ 이고, $a = 9$ 이다.

$f'(x) = 9x(x-2) = 9x^2 - 18x$ 이고 $f(x) = 3x^3 - 9x^2 + C$

$f(0) = 2$ 이므로 $C = 2$ 이고 $f(x) = 3x^3 - 9x^2 + 2$ 이며, 극솟값은

$f(2) = -10 = m$ 이다. 따라서 $m^2 = (-10)^2 = 100$ 이다.

답) 100

14. 함수 $g(x)$ 가 실수 전체의 집합에서 연속이므로

$$\lim_{x \rightarrow 0^+} g(x) = \lim_{x \rightarrow 0^-} g(x) \text{이고, } f(1)\{f(0)\}^2 = 0 \text{이다.}$$

(i) $f(1) = 0$ 일 때

$$f(x) = m(x-1) \text{이고,}$$

$$\int_0^x f(t)dt = \left[\frac{m}{2}t^2 - mt \right]_0^x = \frac{m}{2}x^2 - mx = \frac{m}{2}x(x-2) \text{이다.}$$

따라서 $g(x)$ 는

$$g(x) = \begin{cases} m^3x(x-1)^2 & (x < 0) \\ \frac{m^2}{2}x(x-2)^2 & (x \geq 0) \end{cases}$$

이다. $m^2 > 0$ 이므로 $x \geq 0$ 에서 항상 $g(x) \geq 0$ 이고 방정식

$$g(x) = -\frac{2}{3} \text{의 모든 실근은 음수이다.}$$

$$m^3x(x-1)^2 = g_1(x) \text{라 두면}$$

$$g_1'(x) = m^3(x-1)^2 + m^3 \cdot 2x(x-1) = m^3(x-1)(3x-1)$$

$x \leq 0$ 인 모든 실수 x 에 대하여

$$m > 0 \text{이면 } g_1'(x) \geq 0, \quad m < 0 \text{ 이면 } g_1'(x) \leq 0,$$

즉, 함수 $g_1(x)$ 는 $x \leq 0$ 에서 증가하거나 감소하며, 방정식

$$g_1(x) = -\frac{2}{3} \text{은 많아봐야 하나의 실근을 갖는다.}$$

따라서 방정식 $g(x) = -\frac{2}{3}$ 은 많아봐야 하나의 실근을 갖고, 조건을 만족시키지 않는다.

(ii) $f(0) = 0$ 일 때

$$f(x) = mx \text{이고, } \int_0^x f(t)dt = \left[\frac{m}{2}t^2 \right]_0^x = \frac{m}{2}x^2 \text{이다.}$$

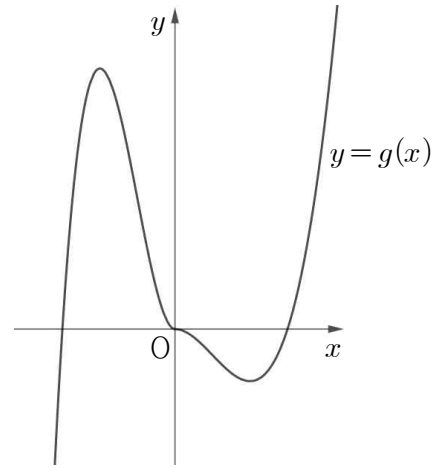
따라서 $g(x)$ 는

$$g(x) = \begin{cases} m^3x^2(x+1) & (x < 0) \\ \frac{m^2}{2}x^2(x-1) & (x \geq 0) \end{cases}$$

이다.

① $m > 0$ 일 때

함수 $g(x)$ 의 그래프를 그리면 다음과 같다.



방정식 $g(x) = -\frac{2}{3}$ 의 서로 다른 실근의 개수가 3이려면 함수 $g(x)$ 의 극솟값이 $-\frac{2}{3}$ 보다 작아야 한다.

$$g_2(x) = \frac{m^2}{2}x^2(x-1) \text{라 두면,}$$

$$g_2'(x) = \frac{m^2}{2}x^2 + m^2x(x-1) = \frac{m^2}{4}x(3x-2)$$

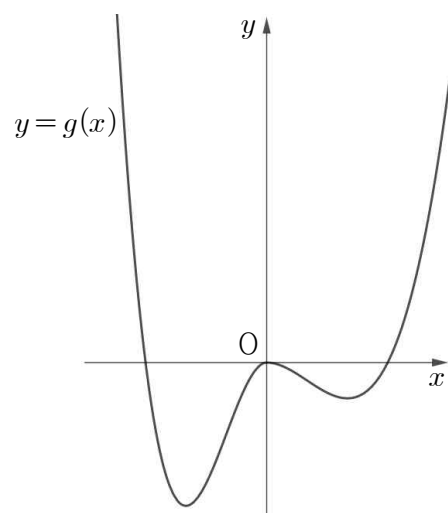
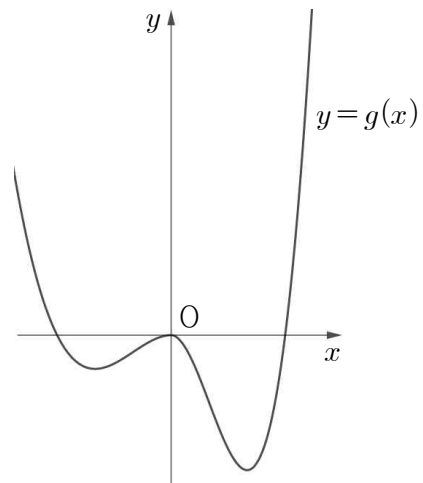
$$g_2'(x) = 0 \text{에서 } x = 0 \text{ 또는 } x = \frac{2}{3} \text{이고 함수 } g_2(x) \text{는 } x = \frac{2}{3} \text{에서}$$

$$\text{극솟값 } g_2\left(\frac{2}{3}\right) = -\frac{2}{27}m^2 \text{을 갖고, 극솟값이 } -\frac{2}{3} \text{보다 작아야}$$

$$\text{하므로 } -\frac{2}{27}m^2 < -\frac{2}{3}, \quad 3 < m \text{이다.}$$

② $m < 0$ 일 때

함수 $g(x)$ 의 그래프는 다음과 같이 두 가지 경우가 있다.



$g_3(x) = m^3x^2(x+1)$ 이라 두면, $g_3'(x) = m^3x(3x+2)$

$g_3'(x) = m^3x(3x+2) = 0$ 에서 $x=0$ 또는 $x = -\frac{2}{3}$ 이고,

$x = -\frac{2}{3}$ 에서 극소이며, 극솟값 $g_3\left(-\frac{2}{3}\right) = \frac{4}{27}m^3$ 을 갖는다.

방정식 $g(x) = -\frac{2}{3}$ 의 서로 다른 실근의 개수가 3이 되려면,

함수 $g(x)$ 의 극솟값이 $-\frac{2}{3}$ 이어야 하므로 $\frac{4}{27}m^3 = -\frac{2}{3}$ 이거나

$-\frac{2}{27}m^2 = -\frac{2}{3}$ 이어야 한다.

$\frac{4}{27}m^3 = -\frac{2}{3}$ 이면, $m = -\frac{6^{\frac{3}{2}}}{2}$ 이고 $-\frac{2}{27}m^2 = -\frac{6^{\frac{1}{3}}}{9}$

$-\frac{2}{3} < -\frac{6^{\frac{1}{3}}}{9}$ 이므로 방정식 $g(x) = -\frac{2}{3}$ 의 서로 다른 실근의

개수는 1이다. 따라서 조건을 만족시키지 않는다.

$-\frac{2}{27}m^2 = -\frac{2}{3}$ 에서 $m = -3$ 이고, $\frac{4}{27}m^3 = -4$ 이다.

$-4 < -\frac{2}{3}$ 이므로 방정식 $g(x) = -\frac{2}{3}$ 의 서로 다른 실근의

개수는 3이다. 따라서 $m = -3$

(i), (ii)에 의하여 $f(x) = mx$ 이고, $m = -3$ 또는 $3 < m$ 이다.

$f(2) = 2m$ 에서 $m = -3$ 일 때 최솟값 -6 을 갖는다.

따라서 $k = -6$ 이고, $k^2 = 36$ 이다.

답) 36

15. $(t-a)^2 + x^2 = 0$ 에서 $t=a$ 일 때 $x=0$ 이다.

즉, 함수 $g(t)$ 는 함수 $y=f(x)$ 의 그래프와 점 $(0, a)$ 가 직선 $y=t$ 와 만나는 모든 점의 개수와 같다.

모든 실수 t 에 대하여 $g(t) \geq 1$ 이므로 조건 (나)를 만족시키려면 $g(4) > 1$ 이어야 한다.

만약 함수 $f(x)$ 가 극값을 갖지 않으면 함수 $y=f(x)$ 의 그래프와 직선 $y=t$ 가 무조건 한 점에서 만난다. 따라서 조건 (가)를 만족시키기 위해서는 $a=0$ 이어야 하고, $g(-3) = g(4) = 1$ 이므로 조건을 만족시킬 수 없다.

즉, 함수 $f(x)$ 는 극값을 가지고, 조건 (가)에 의하여 두 가지의 경우를 생각할 수 있다.

(i) 함수 $f(x)$ 의 극댓값과 극솟값의 절댓값이 같은 경우

조건 (가)를 만족시키기 위해서는 점 $(0, a)$ 에서

- ① $f(0) = a$
- ② $a = 0$
- ③ a 는 함수 $f(x)$ 의 극댓값 또는 극솟값

이 세 가지 경우 중에서 하나를 만족시켜야 한다.

만약 함수 $f(x)$ 의 극솟값이 -3 보다 크거나 같으면 함수 $f(x)$ 의 극댓값과 극솟값의 절댓값이 같으므로 함수 $f(x)$ 의 극댓값은 3 보다 작다. 즉, ①, ②, ③의 모든 경우에서 $g(4) = 1$ 이고, 조건을 만족시키지 않는다.

만약 함수 $f(x)$ 의 극솟값이 -3 보다 작으면 ①, ②, ③의 모든 경우에서 $g(-3) = 3$ 이다. 즉, $g(4) = 4$ 이어야 한다.

① 또는 ② 또는 ③을 만족시키면서 $g(4) = 4$ 를 만족시킬 수는 없다.

(ii) 함수 $f(x)$ 의 극댓값이 0인 경우

함수 $f(x)$ 의 극솟값을 m 이라 하자.

함수 $g(t)$ 가 무조건 $t=m$ 에서 불연속이므로, 조건 (가)를 만족시키려면 함수 $g(t)$ 는 $t=-m$ 에서도 불연속이어야 한다.

양수 t 에 대하여 함수 $y=f(x)$ 의 그래프와 직선 $y=t$ 가 무조건 한 점에서 만나므로 함수 $g(t)$ 가 $t=-m$ 에서도 불연속이려면 $a=-m$ 이어야 한다.

$g(4) > 1$ 이므로 $g(4) = 2$ 이어야 하고, $a = 4 = -m$, $m = -4$ 이다.

극솟값이 -4 이므로 $g(-3) = 3$ 이고, $g(-3) < g(4)$ 를 만족시킬 수 없다.

(iii) 함수 $f(x)$ 의 극솟값이 0인 경우

함수 $f(x)$ 의 극댓값을 M 이라 하자.

함수 $g(t)$ 가 무조건 $t=M$ 에서 불연속이므로, 조건 (가)를 만족시키려면 함수 $g(t)$ 는 $t=-M$ 에서도 불연속이어야 한다. 음수 t 에 대하여 함수 $y=f(x)$ 의 그래프와 직선 $y=t$ 가 무조건 한 점에서 만나므로 함수 $g(t)$ 가 $t=-M$ 에서도 불연속이려면 $a=-M$ 이어야 한다.

$g(4) > 1$ 이므로 $M \geq 4$ 이어야 한다. $-M \leq -4$ 이므로 $g(-3) = 1$ 이다. 즉, $M \geq 4$ 이면 $g(-3) < g(4)$ 를 만족시킨다.

(i), (ii), (iii)에 의하여

함수 $f(x)$ 의 극솟값은 0이고, 극댓값은 4 이상이다. $f'(0) = 0$ 이므로,

(1) 함수 $f(x)$ 가 $x=0$ 에서 극소인 경우

$f(0) = 0$ 이므로 $f(x) = x^2(x-k)$ 라 둘 수 있다.

$f'(x) = x(3x-2k)$ 에서 $x = \frac{2}{3}k$ 에서 극대이고,

$$f\left(\frac{2}{3}k\right) = -\frac{4}{27}k^3 \geq 4 \text{에서 } k \leq -3,$$

$f(1) = 1-k$ 에서 $k = -3$ 일 때 최솟값 4를 갖는다.

(2) 함수 $f(x)$ 가 $x=0$ 에서 극대인 경우

$f(x) = (x-m)^2(x-n)$ 에서 $f'(x) = (x-m)(3x-2n-m)$
 $x=0$ 에서 극대이므로 $f'(0) = 0$ 이어야 하며, $m \neq 0$ 이므로 $-2n-m=0$, $m=-2n$ 이고, $f(x) = (x+2n)^2(x-n)$ 이다.

$f(0) = -4n^3 \geq 4$ 에서 $n \leq -1$ 이고,

$f(1) = (1+2n)^2(1-n)$ 이다.

$h(n) = (1+2n)^2(1-n)$ 이라 두면 $h'(n) = 3(1-2n)(1+2n)$ 이고, $n \leq -1$ 에서 $h'(n) < 0$ 이므로 함수 $h(n)$ 은 $n \leq -1$ 에서 감소한다. 따라서 $f(1)$ 은 $n = -1$ 에서 최솟값 2를 갖는다.

(1), (2)에 의하여 $f(1)$ 의 최솟값은 2이다.

답) 2

16. ㄱ. 함수 $g(x)$ 가 $x=1$ 에서 극댓값 0을 가지므로

$$g(1) = \frac{1}{2} \{f(1)\}^2 = 0$$

따라서 $f(1) = 0$ 이다. (참)

ㄴ. ㄱ에 의하여 $f(x) = (x-1)(x-\alpha)$ 이라 둘 수 있다.

$g(x) = \frac{1}{2} \{f(x)\}^2 - \int_1^x f(t)dt$ 에서

$$g'(x) = f(x)f'(x) - f(x) = f(x)\{f'(x) - 1\}$$

이고, $f(x) = (x-1)(x-\alpha)$, $f'(x) = 2x-\alpha-1$ 이므로

$$g'(x) = (x-1)(x-\alpha)(2x-\alpha-2)$$

이다. 함수 $g(x)$ 가 $x=1$ 에서 극대이므로

$\alpha < 1 < \frac{\alpha+2}{2}$ 이어야 한다.

$1 < \frac{\alpha+2}{2}$ 에서 $0 < \alpha$ 이므로 $\alpha < 1 < \frac{\alpha+2}{2}$ 를 만족시키기

위해서는 $0 < \alpha < 1$ 이어야 한다.

$f(2) = 2-\alpha$ 에서 $0 < \alpha < 1$ 이므로 $1 < f(2) < 2$ 이다. (참)

ㄷ. 실수 $a(a < 1)$ 에 대하여 $g'(a) = 0$ 이므로 ㄴ에서 $a = \alpha$ 임을 알 수 있고, $f(a) = 0$ 이다. 따라서

$$\begin{aligned} g(a) &= -\int_a^1 f(t)dt = -\int_a^1 (t-1)(t-a)dt \\ &= -\int_a^1 (t^2 - (a+1)t + a)dt = -\left[\frac{1}{3}t^3 - \frac{a+1}{2}t^2 + at\right]_a^1 \\ &= -\frac{1}{6}a^3 + \frac{1}{2}a^2 - \frac{1}{2}a + \frac{1}{6} = -\frac{1}{6}(a-1)^3 \end{aligned}$$

이고, ㄴ에서 $0 < a < 1$ 이므로 $-\frac{1}{6} < g(a) < 0$ 이다. (참)

따라서 ㄱ, ㄴ, ㄷ이다.

답) ㄱ, ㄴ, ㄷ

17. $f(x) = 9(x-a)(x-1)^2$ 에서

$$f'(x) = 9(x-1)^2 + 18(x-a)(x-1) = 9(x-1)(3x-1-2a)$$

이므로 $f'(x) = 0$ 에서 $x = 1$ 또는 $x = \frac{1+2a}{3}$ 이다.

따라서 함수 $g(x)$ 는

$$g(x) = \begin{cases} -a + \frac{2}{3} & (x=1) \\ -\frac{a}{3} & \left(x = \frac{1+2a}{3}\right) \\ 9(x-a)(x-1)^2 & (f'(x) \neq 0) \end{cases}$$

이다.

ㄱ. $a = 0$ 이면 함수 $g(x)$ 는

$$g(x) = \begin{cases} \frac{2}{3} & (x=1) \\ 0 & \left(x = \frac{1}{3}\right) \\ 9x(x-1)^2 & (f'(x) \neq 0) \end{cases}$$

이고, $g\left(\frac{1}{3}\right) = 0$ 이다 (참)

ㄴ. 함수 $g(x)$ 가 $x = k (k < 1)$ 에서 불연속이고 $a < 1$ 에서 $\frac{1+2a}{3} < 1$ 이므로 $k = \frac{1+2a}{3}$ 이다.

$$f(k) = f\left(\frac{1+2a}{3}\right) = (3-3a)\left(\frac{2}{3}a - \frac{2}{3}\right)^2 = -\frac{4}{3}(a-1)^3$$

$$g(k) = g\left(\frac{1+2a}{3}\right) = -\frac{a}{3}$$

이고, $f(k) > g(k)$ 에서 $f(k) - g(k) = -\frac{4}{3}(a-1)^3 + \frac{a}{3} > 0$ 이

$a < 1$ 에서 성립하는지를 보이면 충분하다.

$0 < a < 1$ 인 경우는 무조건 성립하므로 $a \leq 0$ 인 경우만 보면 충분하다.

$-\frac{4}{3}(a-1)^3 + \frac{a}{3} = h_1(a)$ 라 두면 $h_1'(a) = -4(a-1)^2 + \frac{1}{3}$ 이고,

$h_1'(a) = -4(a-1)^2 + \frac{1}{3} = 0$ 이다. $0 \leq a$ 에서 $h_1'(a) < 0$ 이므로

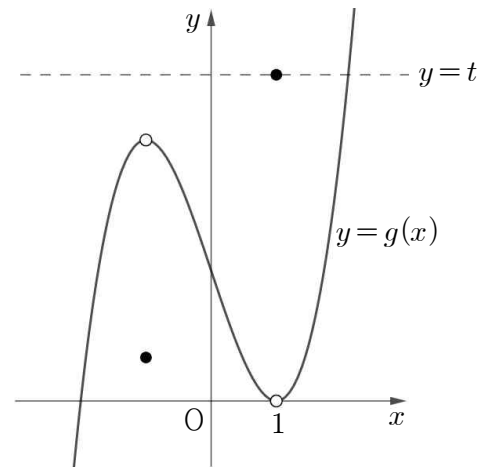
함수 $h_1(a)$ 는 $0 \leq a$ 에서 감소한다. 이때, $h_1(0) = \frac{4}{3}$ 이므로

$0 \leq a$ 에서 $h_1(a) > 0$ 이다.

따라서 $a < 1$ 에서 $h_1(a) > 0$ 이고, $f(k) - g(k) > 0$ 에서

$f(k) > g(k)$ 이다. (참)

ㄷ. ㄴ에서 $f\left(\frac{2a+1}{3}\right) < g\left(\frac{2a+1}{3}\right)$ 이므로 방정식 $g(x) = t$ 의 서로 다른 실근의 개수가 2가 되려면 함수 $g(x)$ 의 그래프는 다음과 같아야 한다.



즉, 방정식 $g(x) = t$ 의 서로 다른 실근의 개수가 2가 되도록 하는 양수 t 는 존재하지 않으려면, $a < 1$ 인 모든 a 에 대하여 $g(1)$ 의 값이 함수 $f(x)$ 의 극댓값인 $f\left(\frac{2a+1}{3}\right)$ 보다 작아야 한다.

$$g(1) = -a + \frac{2}{3}, f\left(\frac{2a+1}{3}\right) = -\frac{4}{3}(a-1)^3 \text{ 이고,}$$

$$-\frac{4}{3}(a-1)^3 > -a + \frac{2}{3}, \text{ 즉 } -\frac{4}{3}(a-1)^3 + a - \frac{2}{3} > 0 \text{ 이어야 한다.}$$

$$h_2(a) = -\frac{4}{3}(a-1)^3 + a - \frac{2}{3} \text{ 이라 두면}$$

$$h_2'(a) = -4(a-1)^2 - 1 \text{ 이고, } h_2'(a) = 0 \text{ 에서 } a = \frac{1}{2} \text{ 이다.}$$

즉, $h_2(a) = -\frac{4}{3}(a-1)^3 + a - \frac{2}{3}$ 는 $a = \frac{1}{2}$ 에서 최소이다. 그런데

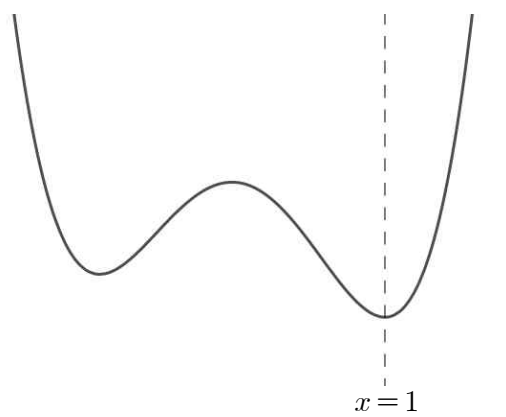
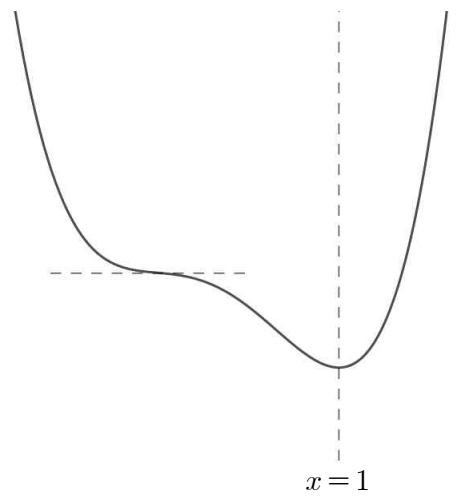
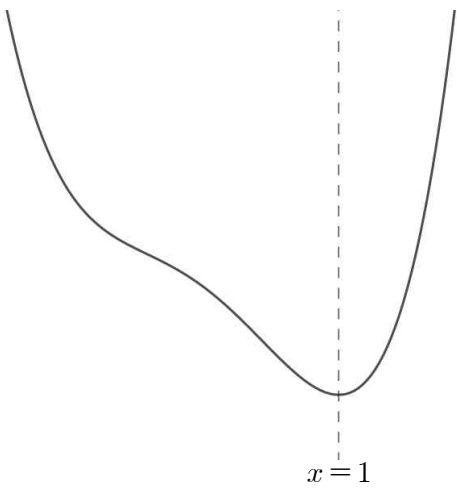
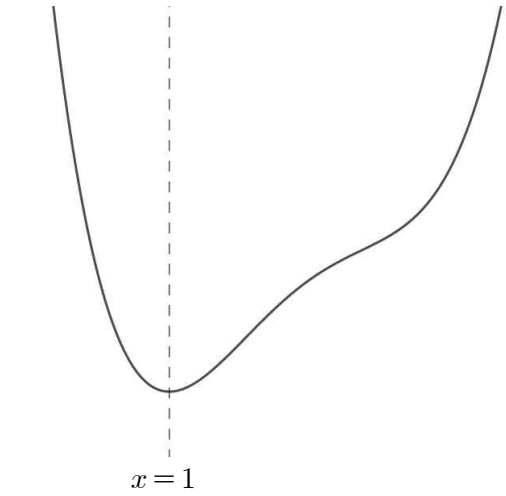
$$h_2\left(\frac{1}{2}\right) = 0 \text{ 이므로 } -\frac{4}{3}(a-1)^3 + a - \frac{2}{3} > 0 \text{ 를 만족시키지 않는다.}$$

즉, $a = \frac{1}{2}$ 이면 방정식 $g(x) = t$ 의 서로 다른 실근의 개수가 2가 되도록 하는 양수 t 는 존재한다. (거짓)

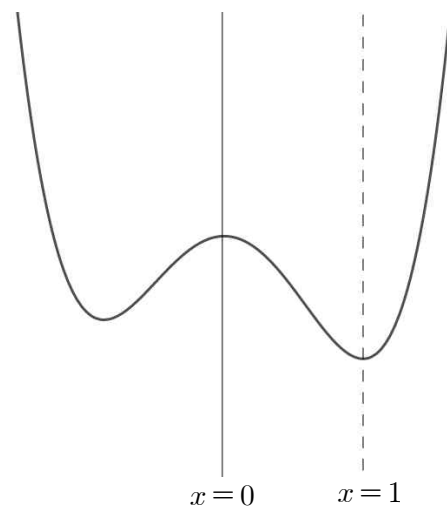
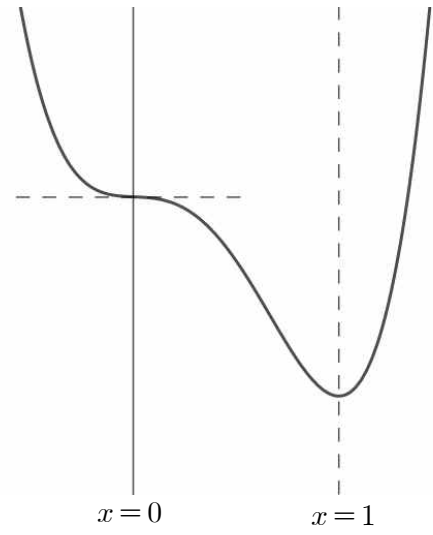
따라서 ㄱ, ㄴ이다.

답) ㄱ, ㄴ

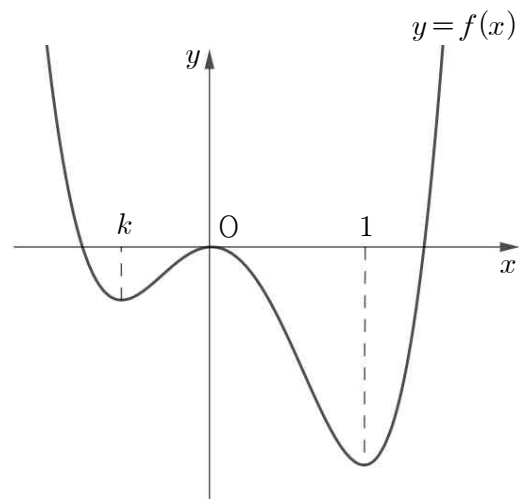
18. 방정식 $g(t)=0$ 의 실근이 1 뿐인 경우는 다음과 같다.



이때, $g(0)=1$ 이어야 하므로 다음의 경우만 가능하다.



이때, $g(k)=2$ 이고 $f(k) < 0$ 인 음수 k 가 존재하려면 두 번째 경우만 가능하다.



즉, $x=k, x=1$ 에서 극대이고, $x=0$ 에서 극소이며, $f(k) > f(1)$ 이다.

$$f'(x) = 4x(x-k)(x-1) \text{에서 } f(x) = x^4 - \frac{4k}{3}x^3 - \frac{4}{3}x^3 + 2kx^2$$

$$f(1) = \frac{2}{3}k - \frac{1}{3}$$

$$f(k) = -\frac{1}{3}k^4 + \frac{2}{3}k^3$$

이고 $f(k) > f(1)$ 이어야 하므로

$-\frac{1}{3}k^4 + \frac{2}{3}k^3 > \frac{2}{3}k - \frac{1}{3}$ 에서 $\frac{1}{3}k^4 - \frac{2}{3}k^3 + \frac{2}{3}k - \frac{1}{3} < 0$

즉, $k^4 - 2k^3 + 2k - 1 < 0$ 인 k 를 구하면 충분하다.

$k^4 - 2k^3 + 2k - 1 = (k-1)^3(k+1) < 0$ 에서 $-1 < k < 0$ 이어야 한다.

$f(2) = -\frac{8}{3}k + \frac{16}{3}$ 에서 $-1 < k < 0$ 이므로 $\frac{16}{3} < f(2) < 8$ 이다.

즉, $\alpha = \frac{16}{3}$, $\beta = 8$ 이고, $36(\beta - \alpha) = 36 \times \frac{8}{3} = 96$ 이다.

답) 96

19. 조건 (가)에 의하여 함수 $f(x)$ 는 원점에 대하여 대칭이다.

조건 (나)에 의하여 실수 전체의 두 부분집합

$\{t \mid (f \circ f)(x) = t \text{의 서로 다른 실근의 개수는 } 7\}$

$\{t \mid k < t < 1\}$

은 서로 같다.

방정식 $(f \circ f)(x) = t$ 에서 $f(x) = X$ 라 두면 $f(X) = t$ 이다.

만약 방정식 $f(X) = t$ 의 서로 다른 실근의 개수가 1이면

$f(X) = t$ 의 실근은 $X = \alpha$ 뿐이다. 즉, 방정식 $(f \circ f)(x) = t$ 의 실근의 개수는 방정식 $f(x) = \alpha$ 의 실근의 개수와 같다.

즉, 방정식 $(f \circ f)(x) = t$ 의 서로 다른 실근의 개수는 최대 3개 갖는다.

같은 이유로 방정식 $f(X) = t$ 의 서로 다른 실근의 개수가 2이면 방정식 $(f \circ f)(x) = t$ 의 서로 다른 실근의 개수는 최대 6개다.

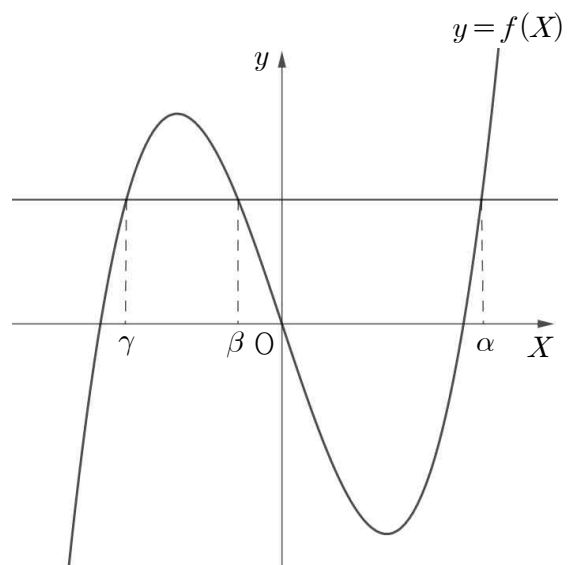
방정식 $(f \circ f)(x) = t$ 의 서로 다른 실근의 개수가 7이 되어야 하므로 방정식 $f(X) = t$ 의 서로 다른 실근의 개수는 3이어야 한다. 즉, $k < t < 1$ 인 모든 실수 t 에 대하여 방정식 $f(X) = t$ 의 서로 다른 실근의 개수는 3이어야 하므로, 1은 함수 $f(x)$ 의 극댓값보다 작거나 같고, k 는 함수 $f(x)$ 의 극솟값보다 크거나 같다.

k 가 양수라 하자.

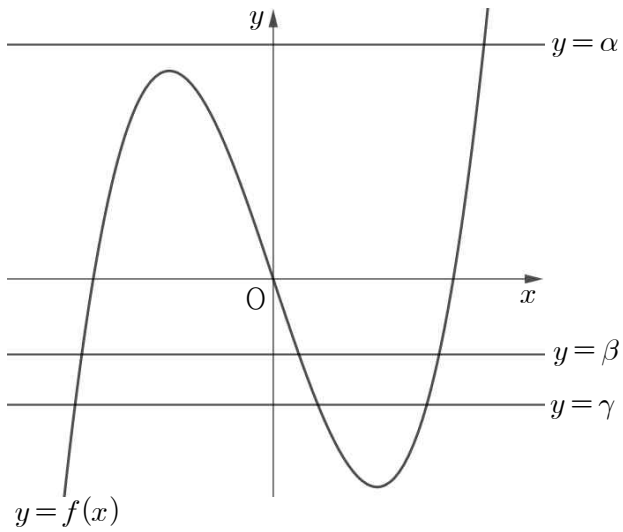
방정식 $(f \circ f)(x) = t$ 에서 $f(x) = X$ 라 두면 $k < t < 1$ 인 어떤

양수 t 에 대하여 방정식 $f(X) = t$ 은 α, β, γ 의 서로 다른 세 실근을 갖는다. 즉, 방정식 $(f \circ f)(x) = t$ 의 실근의 개수는

$f(x) = \alpha$ 또는 $f(x) = \beta$ 또는 $f(x) = \gamma$ 를 만족시키는 모든 실수 x 의 개수와 같고, 그 개수는 7이다.

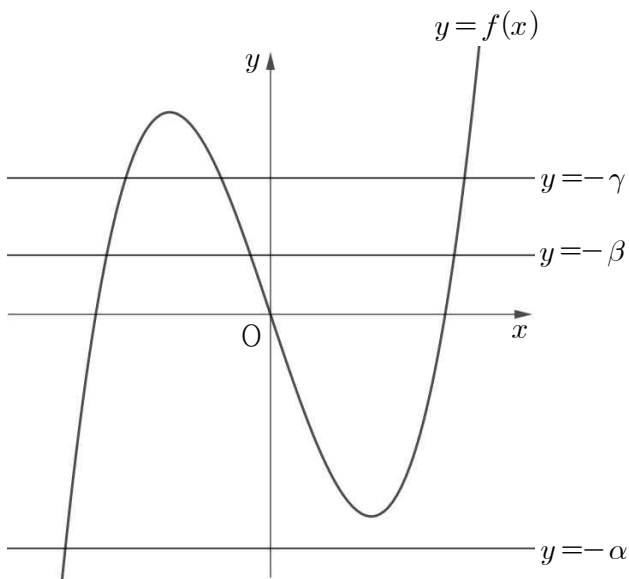


($|\beta| < |\gamma| < |\alpha|$ 이므로 $f(x) = \alpha$ 의 서로 다른 실근의 개수는 1이어야 한다.)



이때, 함수 $f(x)$ 는 원점에 대하여 대칭이므로, 방정식 $f(x)=t$ 은 $-\alpha, -\beta, -\gamma$ 의 서로 다른 세 실근을 갖는다. 즉, 방정식 $(f \circ f)(x)=-t$ 의 실근의 개수는 $f(x)=-\alpha$ 또는 $f(x)=-\beta$ 또는 $f(x)=-\gamma$ 를 만족시키는 모든 실수 x 의 개수와 같다.

위의 그림에서 함수 $f(x)$ 의 극댓값이 α 보다 작고, 함수 $f(x)$ 의 극솟값이 γ 보다 작으므로, $-\alpha$ 는 함수 $f(x)$ 의 극솟값보다 작고, $-\gamma$ 는 함수 $f(x)$ 의 극댓값보다 작다.



그림과 같이 $f(x)=-\alpha$ 또는 $f(x)=-\beta$ 또는 $f(x)=-\gamma$ 를 만족시키는 모든 실수 x 의 개수가 7이므로 방정식 $(f \circ f)(x)=-t$ 의 서로 다른 실근의 개수가 7이다.

$k < t < 1$ 인 모든 실수 t 에 대해서만 $(f \circ f)(x)=t$ 의 서로 다른 실근의 개수가 7이어야 하는데, $(f \circ f)(x)=-t$ 의 서로 다른 실근의 개수도 7이므로 조건 (나)를 만족시키지 않는다.

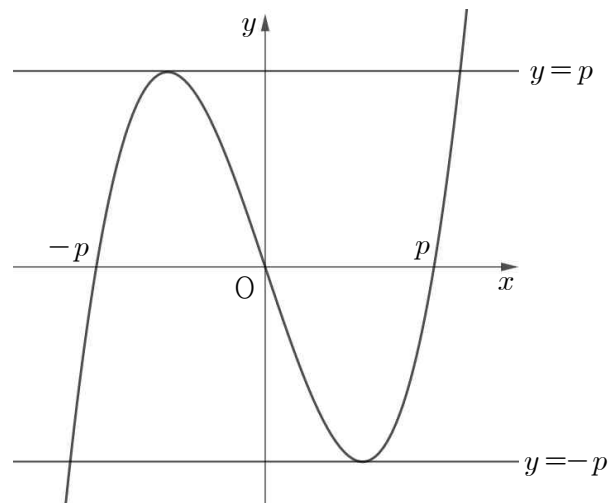
같은 이유로 $k=0$ 도 조건을 만족시키지 않고, $k < 0$ 이다.

$k < 0$ 이므로 $(f \circ f)(x)=0$ 의 서로 다른 실근의 개수도 7이다.

함수 $f(x)$ 의 극댓값이 1보다 클 때,

$(f \circ f)(x)=0$ 의 서로 다른 실근의 개수가 7이다. $f(x)=0$ 의 모든 실근이 $-p, 0, p(p > 0)$ 이므로 $f(x)=-p$ 또는 $f(x)=0$ 또는 $f(x)=p$ 를 만족시키는 모든 실수 x 의 개수가 7이다.

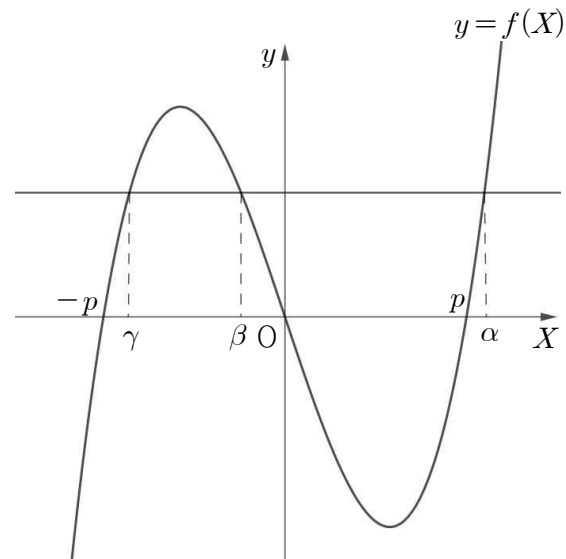
$f(x)=0$ 의 서로 다른 실근의 개수는 무조건 3이므로 방정식 $f(x)=p$ 의 서로 다른 실근의 개수는 2이어야 한다.



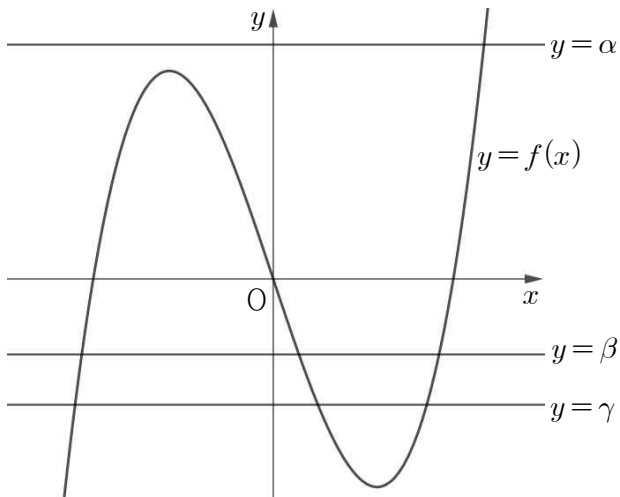
즉, 함수 $f(x)$ 의 극댓값이 p 이고, $p > 1$ 이다.

조건 (나)를 만족시키기 위해서는 $1 < t < p$ 인 모든 실수 t 에 대하여 방정식 $(f \circ f)(x)=t$ 의 실근의 개수가 7이 될 수 없다.

방정식 $(f \circ f)(x)=t$ 에서 $f(x)=X$ 라 두면 $1 < t < p$ 인 양수 t 에 대하여 방정식 $f(X)=t$ 은 α, β, γ 의 서로 다른 세 실근을 갖는다. 즉, 방정식 $(f \circ f)(x)=t$ 의 실근의 개수는 $f(x)=\alpha$ 또는 $f(x)=\beta$ 또는 $f(x)=\gamma$ 를 만족시키는 모든 실수 x 의 개수와 같다.



위의 그림에서 $-p < \gamma < \beta < 0 < p < \alpha$ 이고 함수 $f(x)$ 의 극댓값이 p 이므로



그림과 같이 $f(x)=\alpha$ 또는 $f(x)=\beta$ 또는 $f(x)=\gamma$ 를 만족시키는 모든 실수 x 의 개수가 7이므로 방정식 $(f \circ f)(x)=t$ 의 서로 다른 실근의 개수가 7이다.

즉, $1 < t < p$ 인 모든 실수 t 에 대하여 방정식 $(f \circ f)(x)=t$ 의 실근의 개수가 7이므로 조건을 만족시킬 수 없다.

따라서 함수 $f(x)$ 의 극댓값은 1이고, 방정식 $(f \circ f)(x)=0$ 의 서로 다른 실근의 개수가 7이므로 (i)과 같은 방법으로 $f(-1)=f(0)=f(1)=0$ 임을 알 수 있다.

$f(x) = q(x-1)x(x+1) = qx^3 - qx$ 라 두면, $f'(x) = q(3x^2 - 1)$

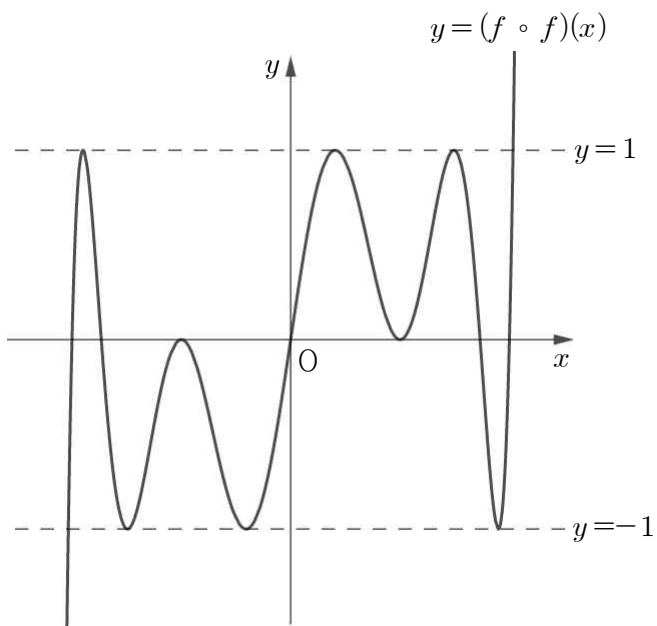
$f'(\frac{\sqrt{3}}{3}) = f'(-\frac{\sqrt{3}}{3}) = 0$ 이므로 $f(-\frac{\sqrt{3}}{3}) = 1$ 이어야 한다.

$f(-\frac{\sqrt{3}}{3}) = \frac{2\sqrt{3}}{9}q = 1$ 에서 $q = \frac{3\sqrt{3}}{2}$ 이고,

$f(x) = \frac{3\sqrt{3}}{2}(x^3 - x)$ 이다. 따라서 $f(3\sqrt{3}) = 351$ 이다.

답) 351

참고) $k=-1$ 이고, 함수 $(f \circ f)(x)$ 의 그래프를 그리면 다음과 같다.



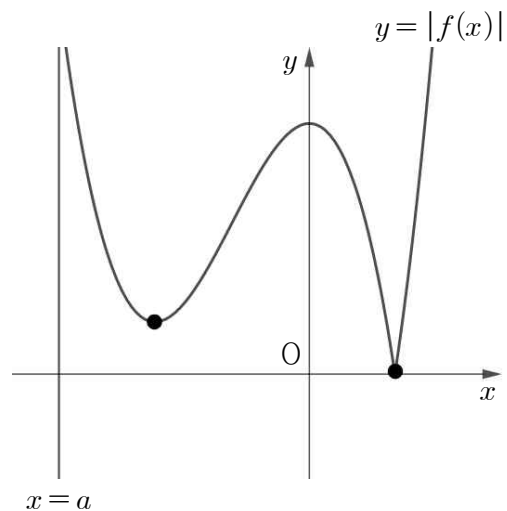
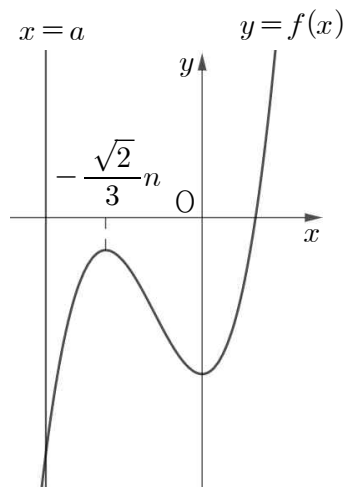
20. $f(x) = x^3 + \frac{\sqrt{2}}{2}nx^2 + a$ 라 두면 $f'(x) = 3x^2 + \sqrt{2}nx$ 이고,

$f'(x)=0$ 에서 $x=0$ 또는 $x=-\frac{\sqrt{2}}{3}n$ 이다. 즉, 함수 $f(x)$ 는

$x=-\frac{\sqrt{2}}{3}n$ 에서 극대, $x=0$ 에서 극소이다.

함수 $f(x)$ 가 $x \geq 0$ 에서 증가하므로 함수 $|f(x)|$ 가 $x=t$ 에서 극소이고 $a \leq t$ 인 실수 t 의 개수는 최대 1개다. 따라서 a 는 음수이다.

함수 $f(x)$ 의 극댓값이 0보다 작고 $a < -\frac{\sqrt{2}}{3}n$ 이면 두 함수 $f(x), |f(x)|$ 의 그래프는 다음과 같다.



그림과 같이 극소인 점이 2개다.

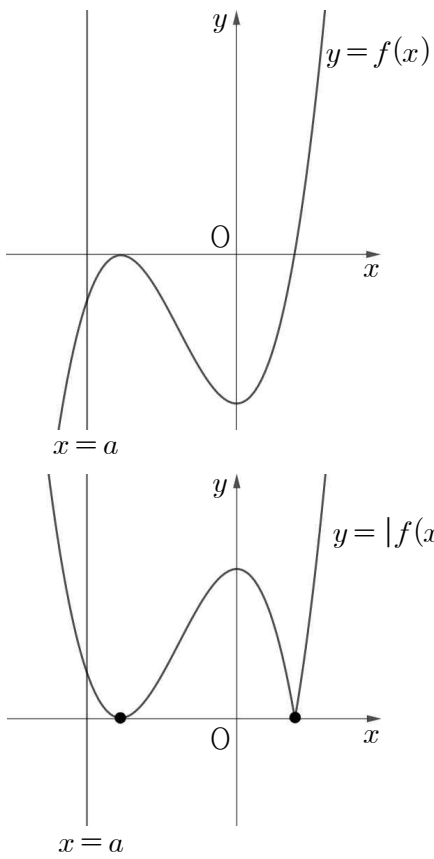
즉, 함수 $f(x)$ 의 극댓값이 0보다 작고 $a < -\frac{\sqrt{2}}{3}n$ 이면 극소인 점의 개수는 항상 2개다.①

따라서 $a = -\frac{\sqrt{2}}{3}n$ 일 때를 기준으로 조건을 나누자.

(i) $a = -\frac{\sqrt{2}}{3}n$ 일 때 $f(a) > 0$ 인 경우

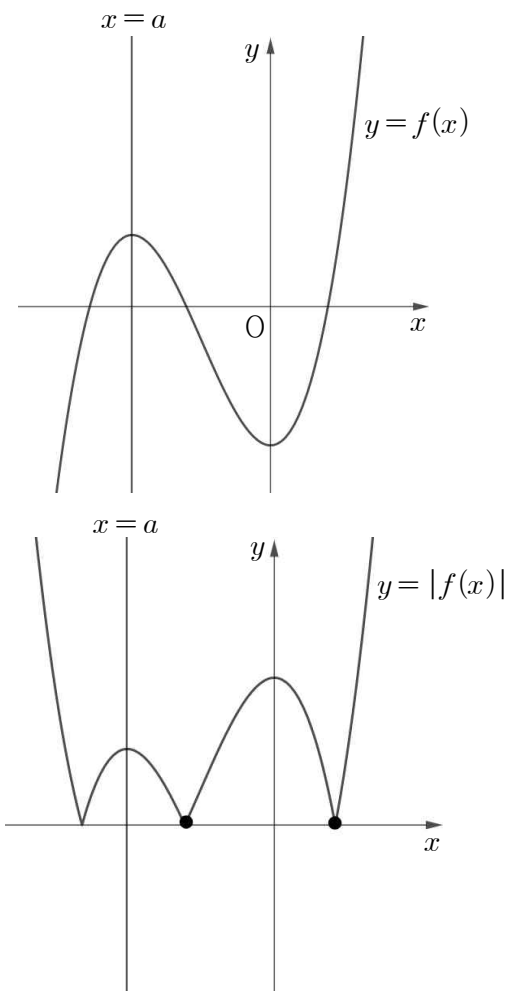
그림과 같이 $f(x)$ 의 극댓값이 0이 되도록 하는

$a(a < -\frac{\sqrt{2}}{3}n)$ 가 존재한다.



이때의 a 를 a_0 이라 하면, $|f(x)|$ 의 극소점이 2개이므로 $a_0 \in \{a | a \leq p\}$ 이고, ①에 의하여 $a \leq a_0$ 인 모든 a 에 대하여 $a \in \{a | a \leq p\}$ 이다.

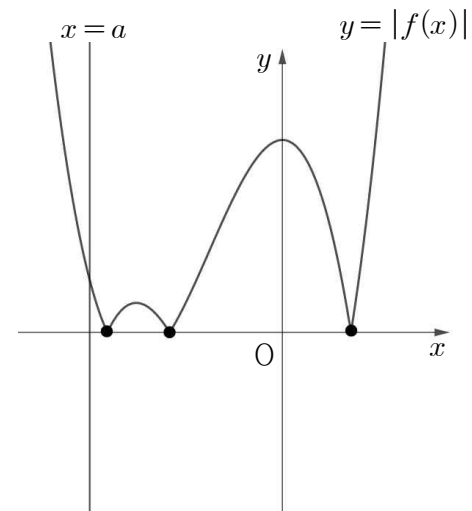
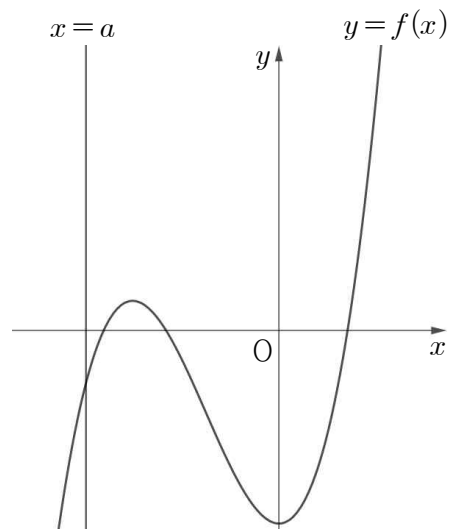
또, $a = -\frac{\sqrt{2}}{3}n$ 일 때 $f(a) > 0$ 이므로 이때의 $f(x), |f(x)|$ 의 그래프를 그리면 다음과 같다.



$a = -\frac{\sqrt{2}}{3}n$ 일 때 $|f(x)|$ 의 극소점이 2개이므로 $-\frac{\sqrt{2}}{3}n \in \{a | a \leq p\}$ 이다.

조건을 만족시킬 p 가 존재하려면 $a_0 < a < -\frac{\sqrt{2}}{3}$ 인 모든 a 에 대하여 $a \in \{a | a \leq p\}$ 이어야 한다.

그러나 a_0 보다 조금만 더 큰 어떤 a 에 대하여 두 함수 $f(x), |f(x)|$ 의 그래프를 그리면 다음과 같다.



그림과 같이 $|f(x)|$ 의 극소점이 3개이므로

$a_0 < a < -\frac{\sqrt{2}}{3}$ 인 모든 a 에 대하여 $a \in \{a | a \leq p\}$ 일 수 없다. 따라서 조건을 만족시키지 않는다.

(ii) $a = -\frac{\sqrt{2}}{3}n$ 일 때 $f(a) = 0$ 인 경우

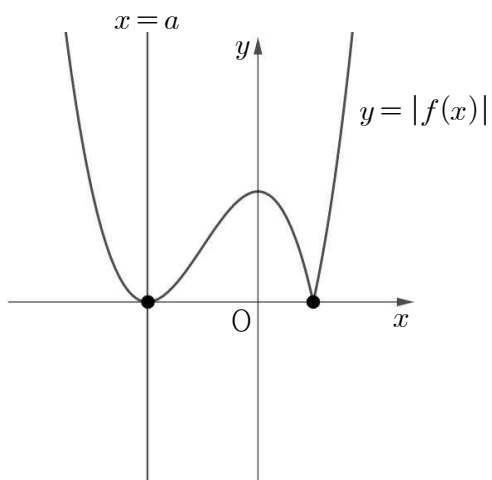
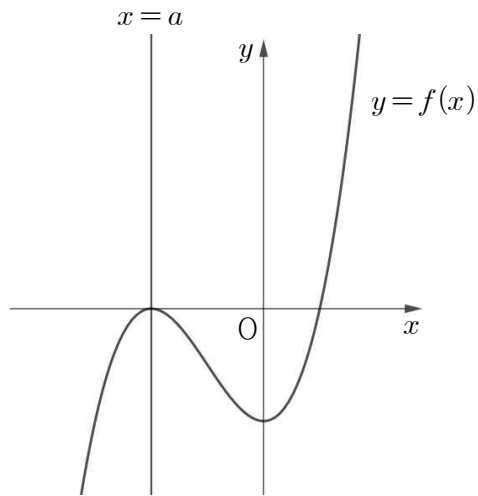
$$f(a) = a^3 + \frac{\sqrt{2}}{2}na^2 + a = 0 \text{에서 } a^2 + \frac{\sqrt{2}}{2}na + 1 = 0 \text{이고,}$$

$$a = -\frac{\sqrt{2}}{3}n \text{이므로}$$

$$\left(-\frac{\sqrt{2}}{3}n\right)^2 + \frac{\sqrt{2}}{2}n\left(-\frac{\sqrt{2}}{3}n\right) + 1 = -\frac{1}{9}n + 1 = 0, n = 3$$

따라서 $a = -\sqrt{2}$ 일 때 $f(a) = 0$ 이다.

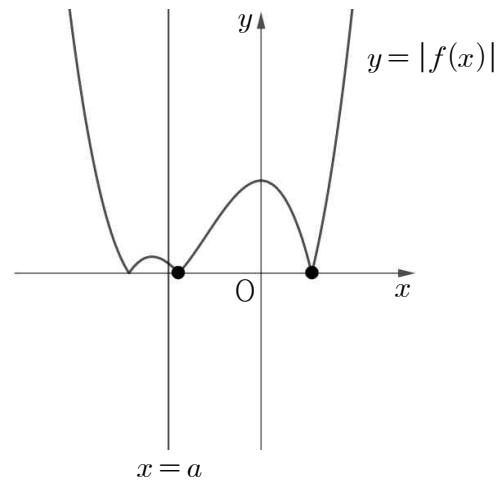
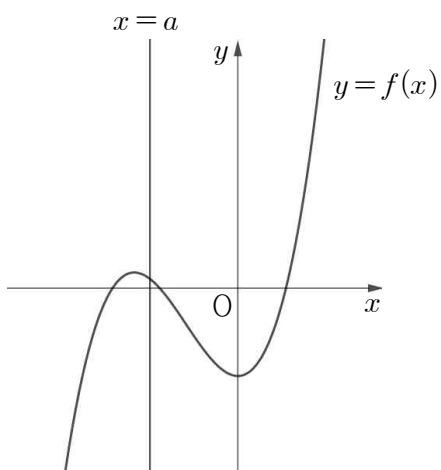
$a = -\sqrt{2}$ 일 때 두 함수 $f(x)$, $|f(x)|$ 의 그래프를 그리면 다음과 같다.



$a = -\sqrt{2}$ 일 때 $|f(x)|$ 의 극소점이 2개이므로 $-\sqrt{2} \in \{a | a \leq p\}$ 이고, ①에 의하여 $a \leq -\sqrt{2}$ 인 모든 a 에 대하여 $a \in \{a | a \leq p\}$ 이다.

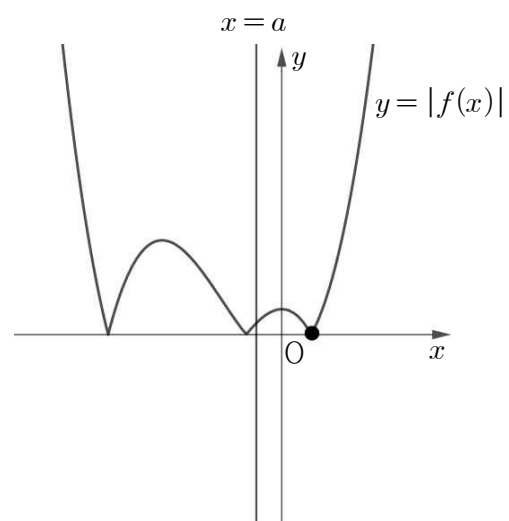
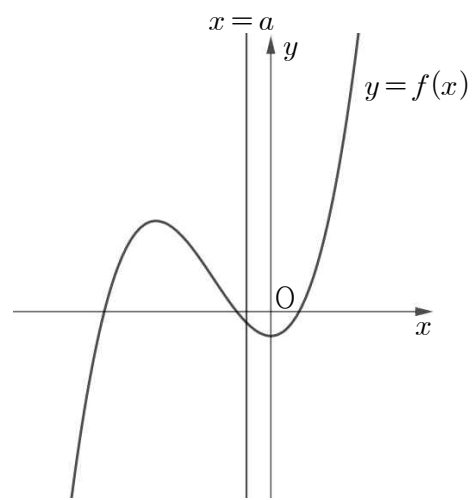
즉, $-\sqrt{2} < a < 0$ 인 경우만 더 알아보면 충분하다.

$f(a) \geq 0$ 이면



그림과 같이 $|f(x)|$ 의 극소점이 2개다.

$f(a) < 0$ 이면



그림과 같이 그림과 같이 $|f(x)|$ 의 극소점이 1개다.

즉, $f(a) \geq 0$ 인 a 의 범위를 알아야 한다.

$$f(a) = a^3 + \frac{3\sqrt{2}}{2}a^2 + a, \quad a = -\sqrt{2} \text{일 때 } f(a) = 0 \text{이므로 이를}$$

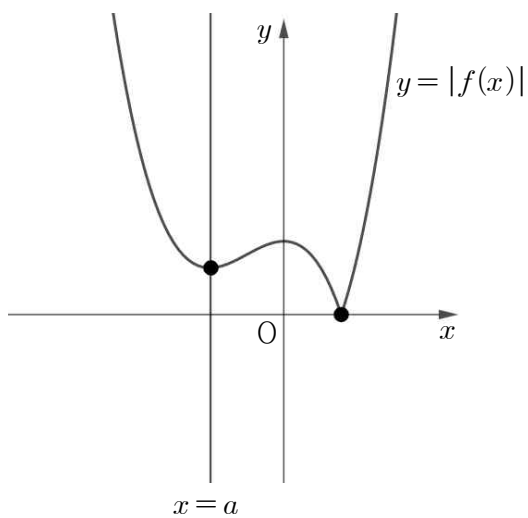
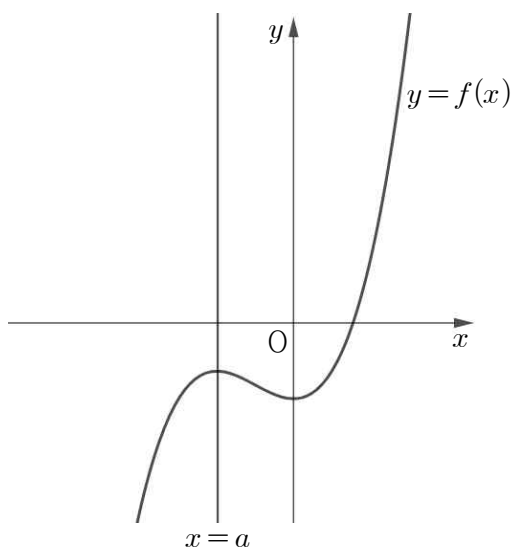
$$\text{이용해서 인수분해 하면 } f(a) = a(a + \sqrt{2})\left(a + \frac{\sqrt{2}}{2}\right) \text{이다.}$$

$$a(a + \sqrt{2})\left(a + \frac{\sqrt{2}}{2}\right) \geq 0 \text{에서 } -\sqrt{2} \leq a \leq -\frac{\sqrt{2}}{2} \text{이다.}$$

즉 $a \leq -\frac{\sqrt{2}}{2}$ 까지는 극소인 점의 개수가 2이고, $-\frac{\sqrt{2}}{2} < a$ 이면 극소인 점의 개수가 2가 아니다. 따라서 실수 a 의 집합은 $\left\{a \mid a \leq -\frac{\sqrt{2}}{2}\right\}$ 이고, $p = -\frac{\sqrt{2}}{2}$ 이다.

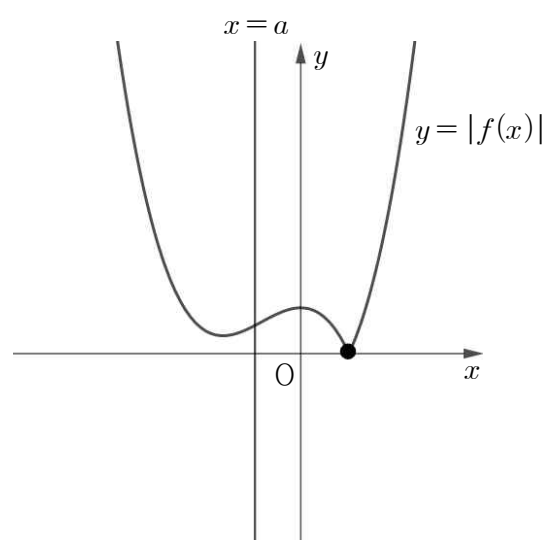
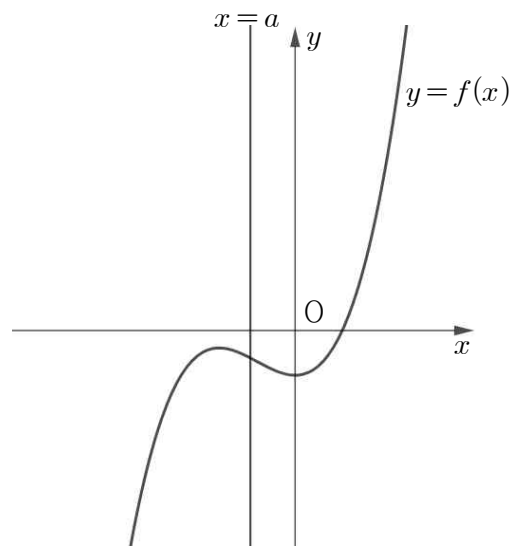
(iii) $a = -\frac{\sqrt{2}}{3}n$ 일 때 $f(a) < 0$ 인 경우

$a = -\frac{\sqrt{2}}{3}n$ 일 때 두 함수 $f(x), |f(x)|$ 의 그래프를 그리면 다음과 같다.



$a = -\frac{\sqrt{2}}{3}n$ 일 때 $|f(x)|$ 의 극소점이 2개이므로 $-\frac{\sqrt{2}}{3}n \in \{a \mid a \leq p\}$ 이고, ①에 의하여 $a \leq -\frac{\sqrt{2}}{3}$ 인 모든 a 에 대하여 $a \in \{a \mid a \leq p\}$ 이다.

a 가 $-\frac{\sqrt{2}}{3}n$ 보다 조금 작을 때의 두 함수 $f(x), |f(x)|$ 의 그래프를 그리면 다음과 같다.



그림과 같이 $|f(x)|$ 의 극소점이 1개다. 따라서 실수 p 가 존재하지 않기 위해서는 $-\frac{\sqrt{2}}{3}n < a < 0$ 일 때 $|f(x)|$ 의 극소점의 개수가 2가 아니어야 한다. 따라서 $-\frac{\sqrt{2}}{3}n < a < 0$ 에서 $f(a) < 0$ 이어야 한다.

$$f(a) = a^3 + \frac{\sqrt{2}}{2}na^2 + a < 0 \text{에서 } a^2 + \frac{\sqrt{2}}{2}na + 1 > 0 \text{이다.}$$

$a^2 + \frac{\sqrt{2}}{2}na + 1 = \left(a + \frac{\sqrt{2}}{4}n\right)^2 + 1 - \frac{n^2}{8}$ 이므로 $1 - \frac{n^2}{8} > 0$ 이면 충분하다. $n^2 < 8$ 에서 n 이 자연수이므로 $n=1$ 또는 $n=2$ 이다.

$a \leq -\frac{\sqrt{2}}{3}n$ 까지는 극소인 점의 개수가 2이고, $-\frac{\sqrt{2}}{3}n < a$ 이면 극소인 점의 개수가 2가 아니다. 따라서 실수

a 의 집합은 $\left\{a \mid a \leq -\frac{\sqrt{2}}{3}n\right\}$ 이고, $p = -\frac{\sqrt{2}}{3}n$ 이다.

$n=1$ 이면 $p = -\frac{\sqrt{2}}{3}$, $n=2$ 이면 $p = -\frac{2\sqrt{2}}{3}$ 이다.

(i), (ii), (iii)에서 $p = -\frac{\sqrt{2}}{2}$, $p = -\frac{\sqrt{2}}{3}$, $p = -\frac{2\sqrt{2}}{3}$ 이고, 모든

p 의 합은 $-\frac{3\sqrt{2}}{2}$ 이다. 따라서 $S = -\frac{3\sqrt{2}}{2}$ 이고,

$6S^2 = 27$ 이다.

답) 27