

이때 어떤 음이 아닌 실수  $t$ 에 대하여  $\overline{PQ} + \overline{RQ} \geq 20$ 을 만족시키는 자연수  $n$ 의 값은 없다.

(ii)  $2 < \log_3(1+n) \leq 3$ 일 때

$$9 < 1+n \leq 27$$

$$8 < n \leq 26 \quad \dots \textcircled{1}$$

$$n < \overline{PQ} + \overline{RQ} \leq n + \log_3(1+n)$$

이때 어떤 음이 아닌 실수  $t$ 에 대하여  $\overline{PQ} + \overline{RQ} \geq 20$ 이 성립하려면

$$n + \log_3(1+n) \geq 20$$

$$\log_3(1+n) \geq 20-n \quad \dots \textcircled{2}$$

$n=17$ 일 때,  $\log_3 18 < 3$ 이므로  $\textcircled{2}$ 을 만족시키지 않는다.

$n \geq 18$ 일 때,  $\log_3(1+n) \geq \log_3 19 \geq 2$ 이므로  $\textcircled{2}$ 을 만족시킨다.

따라서  $\textcircled{1}$ ,  $\textcircled{2}$ 을 모두 만족시키는 자연수  $n$ 의 값의 범위는

$$18 \leq n \leq 26$$

(iii)  $3 < \log_3(1+n) \leq 4$ 일 때

$$27 < 1+n \leq 81$$

$$26 < n \leq 80$$

이때 조건 (가)에서  $n \leq 50$ 이므로

$$26 < n \leq 50$$

$$\overline{PQ} + \overline{RQ} > 26$$

즉, 음이 아닌 실수  $t$ 에 대하여  $\overline{PQ} + \overline{RQ} \geq 20$ 이 성립하므로 조건을 모두 만족시키는 자연수  $n$ 의 값의 범위는

$$26 < n \leq 50$$

(i), (ii), (iii)에서 모든 자연수  $n$ 의 값의 범위는

$$18 \leq n \leq 50$$

이므로 그 개수는

$$50 - 18 + 1 = 33$$

답 33

## 03 삼각함수의 뜻과 그래프

유제

본문 39~47쪽

1 ①	2 10	3 ②	4 ②	5 ③
6 8	7 ①	8 ⑤	9 ②	10 ③

1 직각삼각형 ABC에서  $\tan \frac{\pi}{6} = \frac{\overline{BC}}{\overline{AB}}$ 이므로

$$\frac{1}{\sqrt{3}} = \frac{4}{\overline{AB}}, \overline{AB} = 4\sqrt{3}$$

이때  $\overline{AD} = \overline{AB} = 4\sqrt{3}$ 이므로

$$\begin{aligned} \overline{DE} &= \overline{AD} \times \sin \frac{\pi}{6} \\ &= 4\sqrt{3} \times \frac{1}{2} = 2\sqrt{3} \end{aligned}$$

$$\begin{aligned} \overline{AE} &= \overline{AD} \times \cos \frac{\pi}{6} \\ &= 4\sqrt{3} \times \frac{\sqrt{3}}{2} = 6 \end{aligned}$$

이때 삼각형 AED의 넓이는

$$\frac{1}{2} \times \overline{AE} \times \overline{DE} = \frac{1}{2} \times 6 \times 2\sqrt{3} = 6\sqrt{3}$$

따라서 구하는 부분의 넓이는

$$\frac{1}{2} \times (4\sqrt{3})^2 \times \frac{\pi}{6} - 6\sqrt{3} = 4\pi - 6\sqrt{3}$$

이므로  $a + b = 4 + (-6) = -2$

답 ①

2 오른쪽 그림에서 동경 OP가 나타내는 각의 크기가  $\frac{\pi}{4}$ 이므로

$$\angle AOP = \frac{\pi}{4}$$

또 동경 OQ가 나타내는 각의

$$\text{크기가 } -\frac{10}{3}\pi \text{이므로}$$

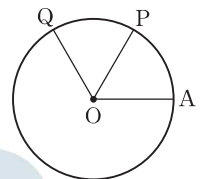
이 각을 0 이상  $2\pi$  미만의 각으로 나타내면

$$-\frac{10}{3}\pi + 2 \times 2\pi = \frac{2}{3}\pi$$

그러므로

$$\begin{aligned} \angle POQ &= \frac{2}{3}\pi - \frac{\pi}{4} \\ &= \frac{5}{12}\pi \end{aligned}$$

따라서 부채꼴 OPQ의 넓이는





$$\frac{1}{2} \times 4^2 \times \frac{5}{12} \pi = \frac{10}{3} \pi$$

$$\text{이므로 } a = \frac{10}{3}$$

$$\text{따라서 } 3a = 10$$

답 10

3  $\cos \theta + \sin \theta \times \tan \theta < 0$ 에서

$$\cos \theta + \sin \theta \times \frac{\sin \theta}{\cos \theta} < 0$$

$$\frac{\cos^2 \theta + \sin^2 \theta}{\cos \theta} < 0$$

$$\cos^2 \theta + \sin^2 \theta = 1 \text{ 이므로}$$

$$\cos \theta < 0 \quad \dots \text{㉠}$$

$$\text{한편 } \sin \theta = \frac{3}{5} \text{ 이므로}$$

$$\cos^2 \theta = 1 - \sin^2 \theta$$

$$= 1 - \left(\frac{3}{5}\right)^2$$

$$= \frac{16}{25}$$

$$\text{㉠에서 } \cos \theta = -\frac{4}{5}$$

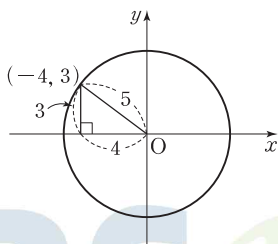
$$\text{따라서 } \tan \theta = \frac{\sin \theta}{\cos \theta} = \frac{\frac{3}{5}}{-\frac{4}{5}} = -\frac{3}{4}$$

답 ②

참고

$\sin \theta = \frac{3}{5} > 0$ ,  $\cos \theta < 0$  이므로  $\theta$ 는 제 2사분면의 각이다.

그러므로 오른쪽 그림을 이용하여  $\tan \theta$ 의 값을 구할 수도 있다.

4  $(\theta - \frac{\pi}{2})(\theta - \frac{3}{2}\pi) < 0$ 에서

$$\frac{\pi}{2} < \theta < \frac{3}{2}\pi \quad \dots \text{㉠}$$

$$\text{또 } \tan \theta = 2\sqrt{2} \text{ 이므로}$$

$$\frac{\sin \theta}{\cos \theta} = 2\sqrt{2}$$

$$\sin \theta = 2\sqrt{2} \cos \theta \quad \dots \text{㉡}$$

$$\text{이때 } \cos^2 \theta + \sin^2 \theta = 1 \text{ 이므로}$$

㉡을 위의 식에 대입하면

$$\cos^2 \theta + (2\sqrt{2} \cos \theta)^2 = 1$$

$$\cos^2 \theta + 8 \cos^2 \theta = 1$$

$$9 \cos^2 \theta = 1$$

$$\cos^2 \theta = \frac{1}{9}$$

㉠에서  $\cos \theta < 0$ 이므로

$$\cos \theta = -\frac{1}{3}$$

답 ②

5 함수  $y = 2 \cos(ax) + a$ 의 주기가  $4\pi$ 이므로

$$\frac{2\pi}{|a|} = 4\pi$$

$$a > 0 \text{ 이므로}$$

$$a = \frac{1}{2}$$

이때 주어진 함수는  $y = 2 \cos \frac{1}{2}x + \frac{1}{2}$ 이므로최댓값  $M$ 은

$$M = 2 + \frac{1}{2} = \frac{5}{2}$$

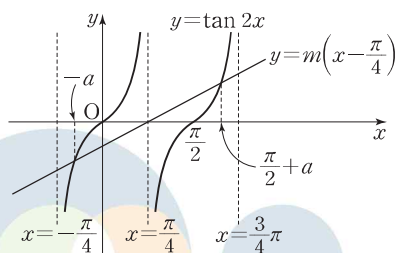
$$\text{따라서 } a + M = \frac{1}{2} + \frac{5}{2} = 3$$

답 ③

6 함수  $y = \tan 2x$ 의 그래프의 주기는  $\frac{\pi}{2}$ 이고,

직선  $y = m(x - \frac{\pi}{4})$ 는 점  $(\frac{\pi}{4}, 0)$ 을 지나는 직선이므로

$-\frac{\pi}{4} < x < \frac{3}{4}\pi$ 에서 그래프를 나타내면 그림과 같다.

이때 양수  $a$ 에 대하여  $\beta = \frac{\pi}{2} + a$ 라 하면

함수  $y = \tan 2x$ 의 그래프는 주기가  $\frac{\pi}{2}$ 이고,

점  $(\frac{\pi}{4}, 0)$ 에 대하여 대칭이므로

$$a = -a$$

$$\text{그러므로 } \beta - a = \frac{3}{4}\pi \text{에서}$$

$$\left(\frac{\pi}{2} + a\right) - (-a) = \frac{3}{4}\pi$$

$$\frac{\pi}{2} + 2a = \frac{3}{4}\pi$$

$$a = \frac{\pi}{8}$$

그러므로  $x$ 좌표가  $a$ 인 점의 좌표는

$$\left(-\frac{\pi}{8}, \tan\left(-\frac{\pi}{4}\right)\right)$$

즉,  $\left(-\frac{\pi}{8}, -1\right)$ 이므로

$$m = \frac{0 - (-1)}{\frac{\pi}{4} - \left(-\frac{\pi}{8}\right)} = \frac{8}{3\pi}$$

따라서  $3\pi m = 8$

답 8

**7**  $\cos\left(\frac{3}{2}\pi - \theta\right) = \frac{1}{3}$ 에서

$$\begin{aligned} \cos\left(\frac{3}{2}\pi - \theta\right) &= \cos\left\{\pi + \left(\frac{\pi}{2} - \theta\right)\right\} \\ &= -\cos\left(\frac{\pi}{2} - \theta\right) \\ &= -\sin\theta \end{aligned}$$

이므로  $\sin\theta = -\frac{1}{3}$

이때  $\tan\theta > 0$ 이므로  $\theta$ 는 제3사분면의 각이다.

따라서

$$\begin{aligned} \cos\theta &= -\sqrt{1 - \sin^2\theta} \\ &= -\sqrt{1 - \left(-\frac{1}{3}\right)^2} \\ &= -\frac{2\sqrt{2}}{3} \end{aligned}$$

답 ①

**8**  $\sin\theta \times \sin\left(\frac{\pi}{2} - \theta\right) > 0$ 에서

$$\sin\theta \times \cos\theta > 0$$

그러므로  $\theta$ 는 제1사분면의 각 또는 제3사분면의 각이다.

한편  $\sin\theta = -\frac{\sqrt{7}}{4}$ 이므로  $\theta$ 는 제3사분면의 각이다.

따라서  $\cos\theta < 0$ 이므로

$$\begin{aligned} \tan\left(\frac{\pi}{2} - \theta\right) \times \cos\left(\frac{\pi}{2} + \theta\right) &= \frac{\sin\left(\frac{\pi}{2} - \theta\right)}{\cos\left(\frac{\pi}{2} - \theta\right)} \times \cos\left(\frac{\pi}{2} + \theta\right) \\ &= \frac{\cos\theta}{\sin\theta} \times (-\sin\theta) \\ &= -\cos\theta \\ &= -(-\sqrt{1 - \sin^2\theta}) \end{aligned}$$

$$\begin{aligned} &= \sqrt{1 - \left(-\frac{\sqrt{7}}{4}\right)^2} \\ &= \sqrt{1 - \frac{7}{16}} \\ &= \frac{3}{4} \end{aligned}$$

답 ⑤

**9**  $2\sin^2x + 5\cos\left(x + \frac{\pi}{2}\right) + 2 < 0$ 에서

$$\begin{aligned} 2\sin^2x - 5\sin x + 2 < 0 \\ (2\sin x - 1)(\sin x - 2) < 0 \\ \frac{1}{2} < \sin x < 2 \end{aligned}$$

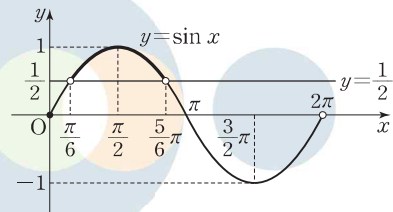
이때  $-1 \leq \sin x \leq 1$ 이므로

$$\frac{1}{2} < \sin x \leq 1$$

이 부등식의 해는 함수  $y = \sin x$ 의 그래프가

직선  $y = \frac{1}{2}$ 보다 위쪽에 있는  $x$ 의 값의 범위이므로

$$\frac{\pi}{6} < x < \frac{5}{6}\pi$$



따라서

$$\begin{aligned} \beta - \alpha &= \frac{5}{6}\pi - \frac{\pi}{6} \\ &= \frac{2}{3}\pi \end{aligned}$$

답 ②

**10**  $\cos^2x + \sqrt{3}\sin x \times \cos x - 1 = 0$ 에서

$$(1 - \sin^2x) + \sqrt{3}\sin x \times \cos x - 1 = 0$$

$$\sin x(\sin x - \sqrt{3}\cos x) = 0$$

$$\sin x = 0 \text{ 또는 } \sqrt{3}\cos x = \sin x$$

(i)  $\sin x = 0$ 일 때

이 방정식의 해는

$$x = 0 \text{ 또는 } x = \pi$$

(ii)  $\sqrt{3}\cos x = \sin x$ 일 때

$\cos x = 0$ 이면 위의 방정식에서  $\sin x = 0$ 이므로

이 두 식을 만족시키는 해는 없다.

그러므로  $\cos x \neq 0$

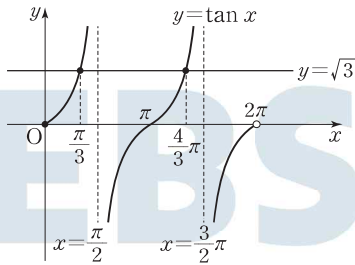
방정식  $\sqrt{3}\cos x = \sin x$ 의 양변을  $\cos x$ 로 나누면



$$\tan x = \sqrt{3}$$

이때 함수  $y = \tan x$ 의 그래프와 직선  $y = \sqrt{3}$ 이 만나는

점의  $x$ 좌표는  $\frac{\pi}{3}, \frac{4}{3}\pi$ 이다.



그러므로 이 방정식의 해는  $x = \frac{\pi}{3}$  또는  $x = \frac{4}{3}\pi$ 이다.

(i), (ii)에서 주어진 방정식의 해는

$$0, \frac{\pi}{3}, \pi, \frac{4}{3}\pi \text{이다.}$$

한편 부등식  $\cos x < 0$ 의 해는 함수  $y = \cos x$ 의 그래프가 직선  $y = 0$ 보다 아래쪽에 있는  $x$ 의 값의 범위이므로

$$\frac{\pi}{2} < x < \frac{3}{2}\pi$$

따라서 주어진 방정식과 부등식을 모두 만족시키는  $x$ 의 값은  $\pi, \frac{4}{3}\pi$ 이므로 그 합은

$$\pi + \frac{4}{3}\pi = \frac{7}{3}\pi$$

답 ③

Level 1

기초 연습

본문 48~49쪽

- |     |     |     |     |     |
|-----|-----|-----|-----|-----|
| 1 ① | 2 ⑤ | 3 ③ | 4 ④ | 5 ② |
| 6 ③ | 7 ④ | 8 ③ | 9 ② |     |

$$\begin{aligned}
 1 \quad \sin \frac{3}{2}\pi &= \sin \left( \pi + \frac{\pi}{2} \right) \\
 &= -\sin \frac{\pi}{2} = -1
 \end{aligned}$$

$$\begin{aligned}
 \cos \frac{2}{3}\pi &= \cos \left( \pi - \frac{\pi}{3} \right) \\
 &= -\cos \frac{\pi}{3} = -\frac{1}{2}
 \end{aligned}$$

따라서

$$\begin{aligned}
 \sin \frac{3}{2}\pi + \cos \frac{2}{3}\pi &= -1 + \left( -\frac{1}{2} \right) \\
 &= -\frac{3}{2}
 \end{aligned}$$

답 ①

2 부채꼴의 반지름의 길이를  $r$ 라 하면 부채꼴의 호의 길이는  $8\pi$ 이고, 중심각의 크기는  $\frac{4}{5}\pi$ 이므로

$$8\pi = r \times \frac{4}{5}\pi$$

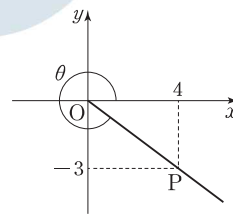
$$r = 8\pi \times \frac{5}{4\pi} = 10$$

따라서 부채꼴의 넓이는

$$\frac{1}{2} \times 10 \times 8\pi = 40\pi$$

답 ⑤

3



점  $P(4, -3)$ 에 대하여

$$OP = \sqrt{4^2 + (-3)^2} = 5 \text{이므로}$$

$$\sin \theta = -\frac{3}{5}, \cos \theta = \frac{4}{5}$$

$$\text{따라서 } \sin \theta + \cos \theta = -\frac{3}{5} + \frac{4}{5} = \frac{1}{5}$$

답 ③

4  $\sin \theta = \frac{\sqrt{11}}{6}$ 이므로

$$\cos^2 \theta = 1 - \sin^2 \theta$$

$$= 1 - \left( \frac{\sqrt{11}}{6} \right)^2$$

$$= \frac{25}{36}$$

이때  $\frac{\pi}{2} < \theta < \pi$ 에서  $\cos \theta < 0$ 이므로

$$\cos \theta = -\frac{5}{6}$$

따라서

$$\cos \theta \times \tan^2 \theta = \cos \theta \times \frac{\sin^2 \theta}{\cos^2 \theta}$$

$$= \frac{\sin^2 \theta}{\cos \theta}$$

$$= \frac{\frac{11}{36}}{-\frac{5}{6}} = -\frac{11}{30}$$

답 ④

5 이차방정식  $3x^2 - \sqrt{3}x + a = 0$ 의 두 실근이  $\sin \theta, \cos \theta$ 이므로 근과 계수의 관계에 의하여

$$\sin \theta + \cos \theta = \frac{\sqrt{3}}{3} \quad \cdots \textcircled{A}$$

$$\sin \theta \times \cos \theta = \frac{a}{3} \quad \cdots \textcircled{B}$$

①의 양변을 제곱하면

$$\sin^2 \theta + 2 \sin \theta \times \cos \theta + \cos^2 \theta = \frac{1}{3}$$

$$1 + 2 \sin \theta \times \cos \theta = \frac{1}{3}$$

$$\sin \theta \times \cos \theta = -\frac{1}{3} \quad \cdots \textcircled{C}$$

①, ③에서

$$\frac{a}{3} = -\frac{1}{3}$$

따라서  $a = -1$

답 ②

6 함수  $y = a \sin bx + 1$ 의 그래프는 함수  $y = a \sin bx$ 의 그래프를  $y$ 축의 방향으로 1만큼 평행이동한 것이다.

$a > 0$ 이므로 함수  $y = a \sin bx + 1$ 은

$\sin bx = 1$ 일 때 최댓값  $a + 1$ 을 갖고,

$\sin bx = -1$ 일 때 최솟값  $-a + 1$ 을 갖는다.

즉,  $a + 1 = 3, -a + 1 = -1$ 이므로

$$a = 2$$

한편 함수  $y = a \sin bx + 1$ 의 주기가  $\frac{5\pi}{6} - \frac{\pi}{6} = \frac{2\pi}{3}$ 이므로

$$\frac{2\pi}{|b|} = \frac{2\pi}{3}$$

$$|b| = 3$$

$b > 0$ 이므로

$$b = 3$$

따라서  $a + b = 2 + 3 = 5$

답 ③

7  $\sin\left(\pi + \frac{\pi}{5}\right) = -\sin \frac{\pi}{5}$

$$\cos\left(\pi - \frac{\pi}{5}\right) = -\cos \frac{\pi}{5}$$

$$\sin\left(\frac{\pi}{2} - \frac{\pi}{5}\right) = \cos \frac{\pi}{5}$$

$$\cos\left(\frac{\pi}{2} + \frac{\pi}{5}\right) = -\sin \frac{\pi}{5}$$

따라서

$$\left\{ \sin\left(\pi + \frac{\pi}{5}\right) + \cos\left(\pi - \frac{\pi}{5}\right) \right\}^2$$

$$+ \left\{ \sin\left(\frac{\pi}{2} - \frac{\pi}{5}\right) + \cos\left(\frac{\pi}{2} + \frac{\pi}{5}\right) \right\}^2$$

$$\begin{aligned} &= \left(-\sin \frac{\pi}{5} - \cos \frac{\pi}{5}\right)^2 + \left(\cos \frac{\pi}{5} - \sin \frac{\pi}{5}\right)^2 \\ &= \left(\sin^2 \frac{\pi}{5} + 2 \sin \frac{\pi}{5} \times \cos \frac{\pi}{5} + \cos^2 \frac{\pi}{5}\right) \\ &\quad + \left(\cos^2 \frac{\pi}{5} - 2 \sin \frac{\pi}{5} \times \cos \frac{\pi}{5} + \sin^2 \frac{\pi}{5}\right) \\ &= \left(1 + 2 \sin \frac{\pi}{5} \times \cos \frac{\pi}{5}\right) + \left(1 - 2 \sin \frac{\pi}{5} \times \cos \frac{\pi}{5}\right) \\ &= 2 \end{aligned}$$

답 ④

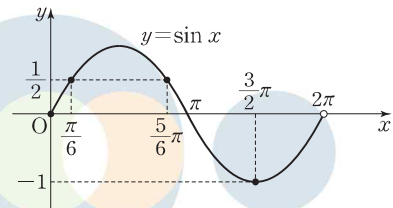
8  $2 \sin^2 x + \sin x - 1 = 0$ 에서  
 $(2 \sin x - 1)(\sin x + 1) = 0$   
 $\sin x = \frac{1}{2}$  또는  $\sin x = -1$

(i)  $\sin x = \frac{1}{2}$ 일 때

$$x = \frac{\pi}{6} \text{ 또는 } x = \frac{5}{6}\pi$$

(ii)  $\sin x = -1$ 일 때

$$x = \frac{3}{2}\pi$$



(i), (ii)에서 구하는 모든 실근의 합은

$$\frac{\pi}{6} + \frac{5}{6}\pi + \frac{3}{2}\pi = \frac{5}{2}\pi$$

답 ③

9 부등식  $\cos^2 x - \sin^2 x - 3 \cos x - 1 > 0$ 에서  
 $\sin^2 x = 1 - \cos^2 x$ 이므로

$$\cos^2 x - (1 - \cos^2 x) - 3 \cos x - 1 > 0$$

$$2 \cos^2 x - 3 \cos x - 2 > 0$$

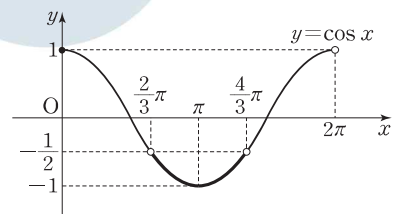
$$(2 \cos x + 1)(\cos x - 2) > 0$$

이때  $\cos x - 2 < 0$ 이므로

$$2 \cos x + 1 < 0$$

$$\cos x < -\frac{1}{2}$$

$$\frac{2}{3}\pi < x < \frac{4}{3}\pi$$





따라서  $\alpha = \frac{2}{3}\pi$ ,  $\beta = \frac{4}{3}\pi$ 이므로

$$\beta - \alpha = \frac{2}{3}\pi$$

답 ②

## Level 2

## 기본 연습

본문 50~52쪽

1 ③	2 ④	3 ④	4 ②	5 ②
6 ②	7 ③	8 ①	9 ⑤	10 8
11 ⑤	12 ⑤			

1 조건 (가)에서  $\sin \theta \times \cos \theta < 0$ 이므로

$$\frac{\pi}{2} < \theta < \pi \text{ 또는 } \frac{3}{2}\pi < \theta < 2\pi$$

조건 (나)에서 각  $\theta$ 가 나타내는 동경과 각  $6\theta$ 가 나타내는 동경이 서로 일치하므로

$$6\theta - \theta = 2n\pi \text{ (단, } n \text{은 정수)}$$

$$\text{즉, } \theta = \frac{2n}{5}\pi$$

$$n \leq 0 \text{ 일 때, } \theta \leq 0$$

$$n = 1 \text{ 일 때, } \theta = \frac{2}{5}\pi$$

$$n = 2 \text{ 일 때, } \theta = \frac{4}{5}\pi$$

$$n = 3 \text{ 일 때, } \theta = \frac{6}{5}\pi$$

$$n = 4 \text{ 일 때, } \theta = \frac{8}{5}\pi$$

$$n \geq 5 \text{ 일 때, } \theta \geq 2\pi$$

따라서  $\theta = \frac{4}{5}\pi$  또는  $\theta = \frac{8}{5}\pi$ 이므로

구하는 모든  $\theta$ 의 값의 합은

$$\frac{4}{5}\pi + \frac{8}{5}\pi = \frac{12}{5}\pi$$

답 ③

2 부채꼴 OAB의 반지름의 길이를  $r$ ,  $\angle BOA = \theta$ 라 하자.

부채꼴 OAB의 호의 길이가  $2\pi$ , 넓이는  $8\pi$ 이므로

$$8\pi = \frac{1}{2} \times r \times 2\pi \text{에서}$$

$$r = 8$$

$$\text{또 } 2\pi = 8 \times \theta \text{에서}$$

$$\theta = \frac{\pi}{4}$$

직각삼각형 OAC에서

$$\cos \frac{\pi}{4} = \frac{\overline{OC}}{\overline{OA}}$$

$$\text{즉, } \frac{\sqrt{2}}{2} = \frac{\overline{OC}}{8} \text{이므로}$$

$$\overline{OC} = 4\sqrt{2}$$

따라서 호 CD의 길이는

$$4\sqrt{2} \times \frac{\pi}{4} = \sqrt{2}\pi$$

답 ④

$$3 \frac{\sin \theta}{1 + \cos \theta} + \frac{1 + \cos \theta}{\sin \theta} = \frac{5}{2} \text{에서}$$

$$\frac{\sin \theta}{1 + \cos \theta} + \frac{1 + \cos \theta}{\sin \theta}$$

$$= \frac{\sin^2 \theta + (1 + \cos \theta)^2}{(1 + \cos \theta) \sin \theta}$$

$$= \frac{\sin^2 \theta + (1 + 2 \cos \theta + \cos^2 \theta)}{(1 + \cos \theta) \sin \theta}$$

$$= \frac{2(1 + \cos \theta)}{(1 + \cos \theta) \sin \theta}$$

$$= \frac{2}{\sin \theta}$$

$$\text{이므로 } \frac{2}{\sin \theta} = \frac{5}{2}$$

$$\text{즉, } \sin \theta = \frac{4}{5}$$

이때

$$\cos^2 \theta = 1 - \sin^2 \theta$$

$$= 1 - \left(\frac{4}{5}\right)^2$$

$$= \frac{9}{25}$$

이고,  $\frac{\pi}{2} < \theta < \pi$ 에서  $\cos \theta < 0$ 이므로

$$\cos \theta = -\frac{3}{5}$$

$$\text{따라서 } \tan \theta = \frac{\sin \theta}{\cos \theta} = \frac{\frac{4}{5}}{-\frac{3}{5}} = -\frac{4}{3}$$

답 ④

4 직선  $y = 2x + 6$ 에서

$$x = 0 \text{ 일 때 } y = 6,$$

$$y = 0 \text{ 일 때 } x = -3$$

이므로 두 점 A, B의 좌표는 각각

$(-3, 0)$ ,  $(0, 6)$ 이다.

선분 AB를 2 : 1로 내분하는 점 P의 좌표는

$$\left(\frac{2 \times 0 + 1 \times (-3)}{2+1}, \frac{2 \times 6 + 1 \times 0}{2+1}\right)$$

즉,  $(-1, 4)$

이때  $\overline{OP} = \sqrt{(-1)^2 + 4^2} = \sqrt{17}$ 이므로

$$\sin \theta = \frac{4}{\sqrt{17}}, \cos \theta = -\frac{1}{\sqrt{17}}$$

따라서

$$\begin{aligned} \sin \theta \times \cos \theta &= \frac{4}{\sqrt{17}} \times \left(-\frac{1}{\sqrt{17}}\right) \\ &= -\frac{4}{17} \end{aligned}$$

답 ②

5  $2 \sin \theta + a \cos \theta = \frac{4\sqrt{5}}{3}$ 의 양변을 제곱하면

$$4 \sin^2 \theta + 4a \sin \theta \times \cos \theta + a^2 \cos^2 \theta = \frac{80}{9} \quad \dots\dots ㉠$$

$a \sin \theta - 2 \cos \theta = \frac{1}{3}$ 의 양변을 제곱하면

$$a^2 \sin^2 \theta - 4a \sin \theta \times \cos \theta + 4 \cos^2 \theta = \frac{1}{9} \quad \dots\dots ㉡$$

㉠+㉡을 하면

$$(a^2 + 4) \sin^2 \theta + (a^2 + 4) \cos^2 \theta = 9$$

$$(a^2 + 4)(\sin^2 \theta + \cos^2 \theta) = 9$$

이때  $\sin^2 \theta + \cos^2 \theta = 1$ 이므로

$$a^2 + 4 = 9$$

따라서  $a^2 = 5$

답 ②

6  $\tan \theta + \frac{1}{\tan \theta} = 4$ 에서

$$\begin{aligned} \tan \theta + \frac{1}{\tan \theta} &= \frac{\sin \theta}{\cos \theta} + \frac{\cos \theta}{\sin \theta} \\ &= \frac{\sin^2 \theta + \cos^2 \theta}{\sin \theta \times \cos \theta} \end{aligned}$$

$$= \frac{1}{\sin \theta \times \cos \theta}$$

이므로

$$\frac{1}{\sin \theta \times \cos \theta} = 4$$

$$\text{즉, } \sin \theta \times \cos \theta = \frac{1}{4}$$

한편 이차방정식  $x^2 - ax + b = 0$ 의 두 근이

$2 \sin^2 \theta, 2 \cos^2 \theta$ 이므로 근과 계수의 관계에 의하여

$$a = 2 \sin^2 \theta + 2 \cos^2 \theta$$

$$= 2(\sin^2 \theta + \cos^2 \theta)$$

$$= 2$$

$$b = 2 \sin^2 \theta \times 2 \cos^2 \theta$$

$$= 4 \times (\sin \theta \times \cos \theta)^2$$

$$= 4 \times \left(\frac{1}{4}\right)^2$$

$$= \frac{1}{4}$$

따라서  $ab = 2 \times \frac{1}{4} = \frac{1}{2}$

답 ②

7 함수  $f(x) = a \sin 2x + 1$ 의 그래프가 점  $\left(\frac{\pi}{12}, 3\right)$ 을 지나므로

$$f\left(\frac{\pi}{12}\right) = a \sin\left(2 \times \frac{\pi}{12}\right) + 1 = 3 \text{에서}$$

$$a \sin \frac{\pi}{6} + 1 = 3$$

$$\frac{1}{2}a + 1 = 3$$

$$a = 4$$

이때  $f(x) = 4 \sin 2x + 1$ 이므로

함수  $y = f(x)$ 는  $\sin 2x = 1$ 일 때 최댓값을 갖는다.

따라서 구하는 최댓값은

$$4 + 1 = 5$$

답 ③

8  $f(x) = \cos^2 x - \sin^2 x + 2 \cos(\pi + x)$

$$= \cos^2 x - (1 - \cos^2 x) - 2 \cos x$$

$$= 2 \cos^2 x - 2 \cos x - 1$$

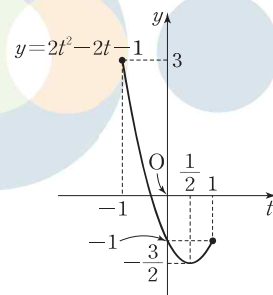
이때  $\cos x = t$  ( $-1 \leq t \leq 1$ )이라 하면

$$f(x) = 2t^2 - 2t - 1$$

$$= 2\left(t - \frac{1}{2}\right)^2 - \frac{3}{2}$$

이므로 함수  $f(x)$ 의 최댓값은  $t = -1$ 일 때 3이고,

최솟값은  $t = \frac{1}{2}$ 일 때  $-\frac{3}{2}$ 이다.



따라서  $M = 3, m = -\frac{3}{2}$ 이므로



$$M - m = 3 - \left(-\frac{3}{2}\right) = \frac{9}{2}$$

답 ①

9 직선  $y=2x$  위의 한 점  $P(1, 2)$ 에 대하여 동경  $OP$ 가 나타내는 각의 크기를  $\theta$ 라 하면

$$\overline{OP} = \sqrt{1^2 + 2^2} = \sqrt{5} \text{이므로}$$

$$\sin \theta = \frac{2}{\sqrt{5}}, \cos \theta = \frac{1}{\sqrt{5}}$$

한편

$$\sin\left(\frac{\pi}{2} - \theta\right) = \cos \theta$$

$$\cos(\pi + \theta) = -\cos \theta$$

$$\cos\left(\frac{\pi}{2} + \theta\right) = -\sin \theta$$

$$\sin(\pi - \theta) = \sin \theta$$

따라서

$$\sin\left(\frac{\pi}{2} - \theta\right) \times \cos(\pi + \theta) - \cos\left(\frac{\pi}{2} + \theta\right) \times \sin(\pi - \theta)$$

$$= \cos \theta \times (-\cos \theta) - (-\sin \theta) \times \sin \theta$$

$$= -\cos^2 \theta + \sin^2 \theta$$

$$= -\left(\frac{1}{\sqrt{5}}\right)^2 + \left(\frac{2}{\sqrt{5}}\right)^2$$

$$= \frac{3}{5}$$

답 ⑤

10 방정식  $\log_3(\tan x) = \log_2 \sqrt{2}$ 에서

(i)  $\tan x > 0$

이때  $0 \leq x < 2\pi$ 이므로

$$0 < x < \frac{\pi}{2} \text{ 또는 } \pi < x < \frac{3}{2}\pi$$

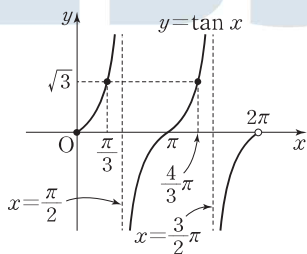
(ii)  $\log_2 \sqrt{2} = \log_2 2^{\frac{1}{2}} = \frac{1}{2}$ 이므로

$$\log_3(\tan x) = \frac{1}{2}$$

$$\tan x = 3^{\frac{1}{2}}$$

$$\tan x = \sqrt{3}$$

$$x = \frac{\pi}{3} \text{ 또는 } x = \frac{4}{3}\pi$$



(i), (ii)에서

$$x = \frac{\pi}{3} \text{ 또는 } x = \frac{4}{3}\pi$$

주어진 방정식의 모든 해의 합은

$$\frac{\pi}{3} + \frac{4}{3}\pi = \frac{5}{3}\pi$$

따라서  $p=3, q=5$ 이므로

$$p+q=8$$

답 8

11 방정식  $\tan^2 x - 2 \sin^2 x = 0$ 에서

$$\frac{\sin^2 x}{\cos^2 x} - 2 \sin^2 x = 0$$

$$\sin^2 x \times (1 - 2 \cos^2 x) = 0$$

$$\sin x = 0 \text{ 또는 } \cos x = \frac{\sqrt{2}}{2} \text{ 또는 } \cos x = -\frac{\sqrt{2}}{2}$$

(i)  $\sin x = 0$ 일 때

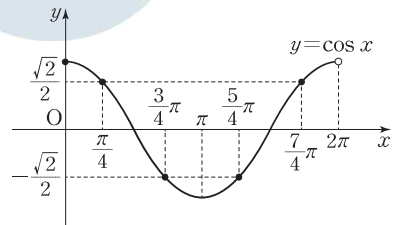
$$x = 0 \text{ 또는 } x = \pi$$

(ii)  $\cos x = \frac{\sqrt{2}}{2}$ 일 때

$$x = \frac{\pi}{4} \text{ 또는 } x = \frac{7}{4}\pi$$

(iii)  $\cos x = -\frac{\sqrt{2}}{2}$ 일 때

$$x = \frac{3}{4}\pi \text{ 또는 } x = \frac{5}{4}\pi$$



(i), (ii), (iii)에서 구하는 모든 해의 합은

$$0 + \pi + \frac{\pi}{4} + \frac{7}{4}\pi + \frac{3}{4}\pi + \frac{5}{4}\pi = 5\pi$$

답 ⑤

12 모든 실수  $x$ 에 대하여 부등식

$$x^2 - (2 \cos \theta)x - \sin^2 \theta - 2 \cos \theta + 2 \geq 0$$

이 항상 성립하려면

이차방정식  $x^2 - (2 \cos \theta)x - \sin^2 \theta - 2 \cos \theta + 2 = 0$ 의 판별식을  $D$ 라 할 때,  $D \leq 0$ 이어야 한다.

$$\frac{D}{4} = (-\cos \theta)^2 + \sin^2 \theta + 2 \cos \theta - 2 \leq 0 \text{에서}$$

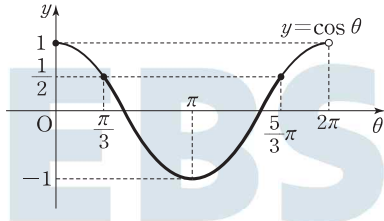
$$\cos^2 \theta + \sin^2 \theta + 2 \cos \theta - 2 \leq 0$$



$$1 + 2 \cos \theta - 2 \leq 0$$

$$\cos \theta \leq \frac{1}{2}$$

$$\frac{\pi}{3} \leq \theta \leq \frac{5}{3}\pi$$



따라서  $\alpha = \frac{\pi}{3}$ ,  $\beta = \frac{5}{3}\pi$ 이므로

$$4\alpha + \beta = 4 \times \frac{\pi}{3} + \frac{5}{3}\pi = 3\pi$$

답 ⑤

**Level 3** 실력 완성

본문 53쪽

- 1 8      2 ④      3 ⑤      4 26

1 함수  $y = 2^{x-2} + 4$ 에서  $x$ 와  $y$ 를 서로 바꾸면

$$x = 2^{y-2} + 4$$

$$x - 4 = 2^{y-2}$$

$$y = \log_2(x - 4) + 2$$

즉,  $f(x) = \log_2(x - 4) + 2$

함수  $y = f(x)$ 의 그래프는 함수  $y = \log_2 x$ 의 그래프를  $x$ 축의 방향으로 4만큼,  $y$ 축의 방향으로 2만큼 평행이동한 것이므로 함수  $y = f(x)$ 의 그래프의 점근선의 방정식은  $x = 4$

함수  $y = \tan \frac{\pi}{a}x$ 의 주기는  $\frac{\pi}{|\frac{\pi}{a}|}$ 에서  $a > 0$ 이므로

$$\frac{\pi}{\frac{\pi}{a}} = a$$

이때 함수  $y = \tan \frac{\pi}{a}x$ 의 그래프의 점근선 중 제1사분면을 지나는 점근선은

$$x = \frac{a}{2}, x = \frac{3a}{2}, x = \frac{5a}{2}, \dots$$

이므로  $\frac{a}{2} = 4$ 일 때  $a$ 의 값은 최대이다.

따라서  $a$ 의 최댓값은 8이다.

답 8

2 함수  $y = 2 \sin \frac{\pi}{2}x$ 의 그래프의 주기는

$$\frac{2\pi}{\frac{\pi}{2}} = 4$$

두 점 A, B의  $x$ 좌표를 각각  $x_1, x_2$  ( $x_1 < x_2$ )라 하면

$$\overline{AB} = \frac{4}{3}$$
이므로

$$x_2 = x_1 + \frac{4}{3} \dots \textcircled{1}$$

함수  $y = 2 \sin \frac{\pi}{2}x$ 의 그래프는 직선  $x = 1$ 에 대하여 대칭이므로

$$\frac{x_1 + x_2}{2} = 1$$

$$x_1 + x_2 = 2$$

이 식에  $\textcircled{1}$ 을 대입하면

$$x_1 + \left(x_1 + \frac{4}{3}\right) = 2$$

$$2x_1 = \frac{2}{3}$$

$$x_1 = \frac{1}{3}$$

$x_1 = \frac{1}{3}$ 을  $\textcircled{1}$ 에 대입하면

$$x_2 = \frac{1}{3} + \frac{4}{3} = \frac{5}{3}$$

$$x_1 = \frac{1}{3} \text{일 때 } y = 2 \sin \frac{\pi}{6} = 1,$$

$$x_2 = \frac{5}{3} \text{일 때 } y = 2 \sin \frac{5}{6}\pi = 1$$

이므로 두 점 A, B의 좌표는 각각

$$\left(\frac{1}{3}, 1\right), \left(\frac{5}{3}, 1\right)$$

이다.

따라서

$$\overline{OA}^2 = \left(\frac{1}{3}\right)^2 + 1^2 = \frac{10}{9},$$

$$\overline{OB}^2 = \left(\frac{5}{3}\right)^2 + 1^2 = \frac{34}{9}$$

이므로

$$\begin{aligned} \left(\frac{\overline{OB}}{\overline{OA}}\right)^2 &= \frac{\overline{OB}^2}{\overline{OA}^2} = \frac{\frac{34}{9}}{\frac{10}{9}} \\ &= \frac{17}{5} \end{aligned}$$

답 ④



3  $|\sin 2x| = \frac{\sqrt{3}}{3}$ 에서

$2x = t$  ( $0 \leq t < 4\pi$ )로 놓으면

$$|\sin t| = \frac{\sqrt{3}}{3}$$

$$\sin t = \frac{\sqrt{3}}{3} \text{ 또는 } \sin t = -\frac{\sqrt{3}}{3}$$

(i)  $\sin t = \frac{\sqrt{3}}{3}$ 일 때

함수  $y = \sin t$ 의 그래프와 직선  $y = \frac{\sqrt{3}}{3}$ 은 서로 다른 네 점에서 만나므로 방정식  $\sin t = \frac{\sqrt{3}}{3}$ 은 서로 다른 네 실근을 갖는다.

이때 네 실근을 각각  $\alpha_1, \alpha_2, \alpha_3, \alpha_4$  ( $\alpha_1 < \alpha_2 < \alpha_3 < \alpha_4$ )라 하면

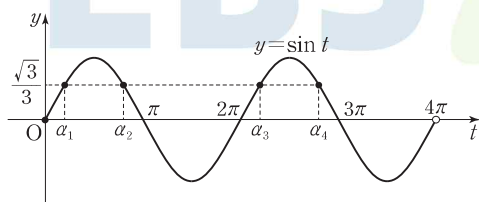
$$\alpha_1 + \alpha_2 = \pi, \alpha_3 + \alpha_4 = 5\pi$$

$x = \frac{t}{2}$ 이므로 방정식  $\sin 2x = \frac{\sqrt{3}}{3}$ 의 해는

$$\frac{\alpha_1}{2}, \frac{\alpha_2}{2}, \frac{\alpha_3}{2}, \frac{\alpha_4}{2}$$

이고, 그 합은

$$\frac{\alpha_1}{2} + \frac{\alpha_2}{2} + \frac{\alpha_3}{2} + \frac{\alpha_4}{2} = \frac{\pi}{2} + \frac{5}{2}\pi = 3\pi$$



(ii)  $\sin t = -\frac{\sqrt{3}}{3}$ 일 때

함수  $y = \sin t$ 의 그래프와 직선  $y = -\frac{\sqrt{3}}{3}$ 은 서로 다른 네 점에서 만나므로 방정식  $\sin t = -\frac{\sqrt{3}}{3}$ 은 서로 다른 네 실근을 갖는다.

이때 네 실근을 각각  $\beta_1, \beta_2, \beta_3, \beta_4$  ( $\beta_1 < \beta_2 < \beta_3 < \beta_4$ )라 하면

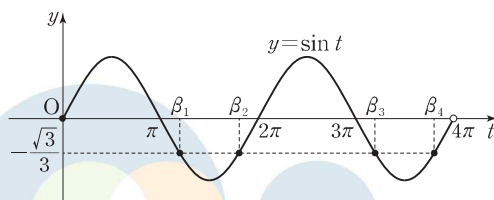
$$\beta_1 + \beta_2 = 3\pi, \beta_3 + \beta_4 = 7\pi$$

$x = \frac{t}{2}$ 이므로 방정식  $\sin 2x = -\frac{\sqrt{3}}{3}$ 의 해는

$$\frac{\beta_1}{2}, \frac{\beta_2}{2}, \frac{\beta_3}{2}, \frac{\beta_4}{2}$$

이고, 그 합은

$$\frac{\beta_1}{2} + \frac{\beta_2}{2} + \frac{\beta_3}{2} + \frac{\beta_4}{2} = \frac{3}{2}\pi + \frac{7}{2}\pi = 5\pi$$



(i), (ii)에서 주어진 방정식의 서로 다른 해의 개수는 8이고, 모든 해의 합은

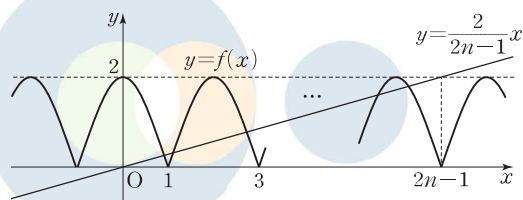
$$3\pi + 5\pi = 8\pi$$

따라서  $a = 8, b = 8$ 이므로

$$a + b = 16$$

답 5

4 두 조건 (가), (나)에서 함수  $f(x)$ 는 주기가 2이고, 그 그래프는 다음 그림과 같다.



$0 \leq x \leq 2n-1$ 에서

방정식  $(2n-1)f(x) = 2x$ , 즉  $f(x) = \frac{2}{2n-1}x$ 의 서로 다른 실근의 개수는  $0 \leq x \leq 2n-1$ 에서 함수  $y = f(x)$ 의 그래프와 직선  $y = \frac{2}{2n-1}x$ 가 만나는 점의 개수와 같다.

이때 직선  $y = \frac{2}{2n-1}x$ 는 원점과 점  $(2n-1, 2)$ 를 지난다.

$0 \leq x < 1$ 일 때 함수  $y = f(x)$ 의 그래프와

직선  $y = \frac{2}{2n-1}x$ 는 한 점에서 만난다.

2 이상의 자연수  $m$  ( $2 \leq m \leq n$ )에 대하여

$2m-3 \leq x < 2m-1$ 일 때 함수  $y = f(x)$ 의 그래프와

직선  $y = \frac{2}{2n-1}x$ 는 서로 다른 두 점에서 만난다.

따라서 함수  $y = f(x)$ 의 그래프와 직선  $y = \frac{2}{2n-1}x$ 의

교점의 개수는  $2n-1$ 이므로

$$2n-1 = 51$$

$$n = 26$$

답 26