

제 4 교시

사회탐구 영역(한국 지리)

성명	수험 번호
----	-------

#1 - 2019학년도 수능 #13

13. 표는 지도에 표시된 네 지역의 답사 일정을 정리한 것이다. (가)에 해당하는 일정으로 가장 적절한 것은? (단, 하루에 한 지역만 답사하며, 각 날짜별 답사 지역은 다른 지역임.) [3점]

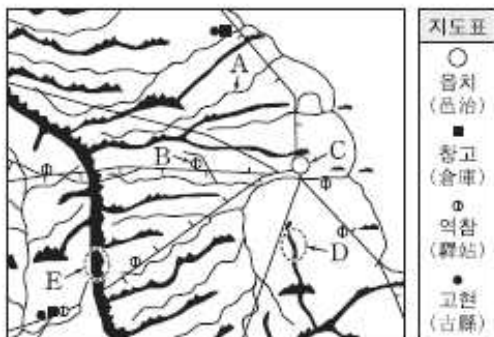
구분	주요 일정
1일 차	습로 시터로 지정된 지역에서 전통 한옥 마을 탐방과 한지 박물관 견학
2일 차	벽골제 댐방과 지평선이 보이는 곡창 지대에서 벼농사 문화 체험
3일 차	죽녹원 댐방과 대나무로 만든 다양한 수공품 제품 제작 체험
4일 차	(가)



- ① 친환경 농업 지역 방문과 나비 축제 체험
- ② 세계 문화유산으로 지정된 고인돌 유적지 탐방
- ③ 고추장의 본고장에서 장류를 주제로 한 축제 관람
- ④ 전통 공예품인 목기로 유명한 지역에서 춘향제 관람
- ⑤ 지리적 표시제 제1호인 녹차 재배지 방문과 다향제 참여

#2 - 2018학년도 수능 #1

1. 대동여지도의 일부와 지도표를 보고 알 수 있는 내용으로 옳지 않은 것은? [3점]



- ① A는 수운 교통로로 이용되는 하천이다.
- ② C는 관아가 있는 행정의 중심지이다.
- ③ C에서 B까지의 거리는 10리 이상이다.
- ④ E는 하천 유역을 나누는 분수계의 일부이다.
- ⑤ E는 D보다 규모가 큰 산지이다.

#2 - 2017학년도 수능 #9

9. 다음 글의 (가)~(다) 지역에 대한 설명으로 옳은 것은?

(가) 비록 강원도에 딸렸으나 들판에 이루어진 고을로서 서쪽은 경기도 장단과 경계가 맞닿았다. 땅은 메마르나 들이 크고, 산이 낮아 평탄하며 두 강 안쪽에 위치하였으니 또한 두메 속의 도회지이다. 들 북편의 물이 깊고, 벌레 먹은 듯한 검은 돌이 있는데 매우 이상스럽다.

(나) 강원도 삼척부 바다 가운데 있다. 갯 날 높은 데 올라서 바라보면 흑 구름같이 보인다. …(중략)… 장한상이 함경도 안변에서 물의 흐름을 따라 배를 띄워 동남쪽을 향하다가 이들 만에 비로소 큰 산이 바다 가운데서 솟아 있는 것을 발견하게 되었다. …(중략)… 아마도 이곳이 옛 우산국일 것이다.

(다) 바다 한복판에 있는 산 또한 기이한 곳이 많다. …(중략)… 산 위에 큰 못이 있는데 사람들이 시끄럽게 하면 갑자기 구름과 안개가 크게 일어난다. …(중략)… 옛 탐라국이며 …(중략)… 말을 산에다 놓아 먹여서 목장으로 만들었다.
-이중환, 『택리지』-

- ① (가)에는 유동성이 큰 용암이 하곡을 메워 형성된 지형이 발달해 있다.
- ② (다)에는 칼데라 호가 형성되어 있다.
- ③ (나)는 (다)보다 용암 동굴이 잘 발달해 있다.
- ④ (가), (나)에는 기반암의 용식으로 인한 지형이 잘 발달해 있다.
- ⑤ (가), (나), (다)에서는 주로 논농사가 이루어진다.

#3 - 2019학년도 수능 #1

1. 다음 자료는 지도에 표시된 네 지역의 지리 정보이다. (가)~(라) 지역에 대한 설명으로 옳은 것은?

지역	지리 정보
(가)	• 천연기념물 제336호로 지정 • 통도, 서도와 88개의 부속 도서로 구성
(나)	• 압록강 하구에 위치한 섬으로 「동북여지승원」에 마도(馬島)로 소개
(다)	• 두만강이 흐르며, 연변 조선족 자치주가 있는 북간도(동간도)와의 접경지
(라)	• 면적 약 0.3km ² , 해안선 길이 약 4.2km • 제주도 모슬포 항에서 남쪽으로 약 11km 떨어져 있는 최산섬

- ① (라)에는 종합 해양 과학 기지가 건설되어 있다.
- ② (가)는 (나)보다 태양이 남중하는 시각이 이르다.
- ③ (나)는 (다)보다 우리나라 표준 경선과의 최단 거리가 가깝다.
- ④ (라)는 (다)보다 기온의 연교차가 크다.
- ⑤ 영해 설정에 (가)는 통상 기선, (라)는 직선 기선이 적용된다.

#4 - 2019학년도 수능 #20

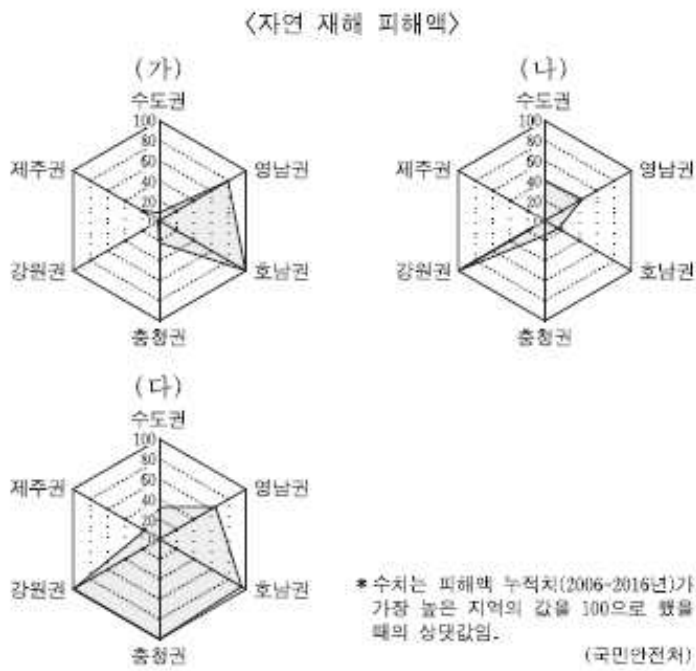
20. 다음 자료의 (가) 자연재해에 대한 설명으로 가장 적절한 것은?



- ① (가)를 대비한 시설로 정주권이 있다.
- ② 장마 전선이 한반도에 장기간 정체할 때 발생한다.
- ③ 북서 계절풍이 한반도에 강하게 불 때 주로 발생한다.
- ④ 열대 이동성 저기압이 한반도를 통과할 때 주로 발생한다.
- ⑤ 북태평양 고기압이 한반도 전역에 강하게 영향을 미칠 때 주로 발생한다.

#4 - 2018학년도 수능 #4

4. (가)~(다) 자연 재해에 대한 옳은 설명만을 <보기>에서 있는 대로 고른 것은? (단, (가)~(다)는 대설, 태풍, 호우 중 하나임.) [3점]



<보기>
 가. (가)는 강풍과 많은 비를 동반하여 풍수해를 유발한다.
 나. (나)는 장마 전선이 정체되었을 때 주로 발생한다.
 다. (다)는 겨울철 찬 공기가 바다를 지나면서 형성된 눈구름에 의해 발생하는 경우가 많다.
 라. 우리나라 연 강수량에서 차지하는 비중은 (다)가 (나)보다 높다.

- ① 가, 나 ② 나, 다 ③ 다, 라
- ④ 가, 나, 다 ⑤ 나, 다, 라

#4 - 2017학년도 수능 #11

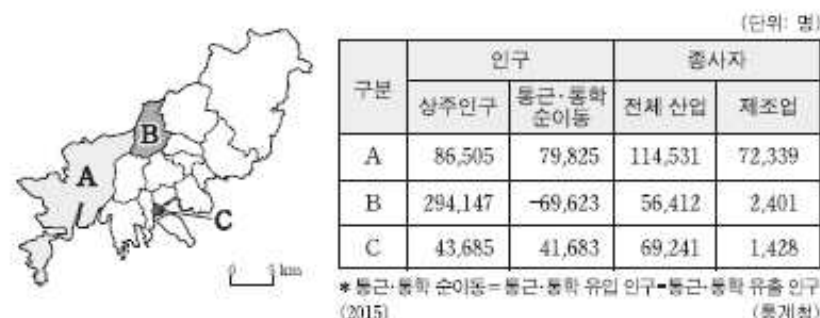
11. 다음 자료는 (가), (나) 자연재해에 대한 국민 행동 요령을 나타낸 것이다. 이에 대한 설명으로 옳은 것은?

(가)	(나)
<ul style="list-style-type: none"> • 바람에 날릴 수 있는 입간판 및 위험 시설물 주변에 접근하지 않습니다. • 저지대 및 상습 침수 지역의 주민은 대피합니다. • 농작물을 보호하고 배수로를 점검합니다. 	<ul style="list-style-type: none"> • 집 앞과 골목길에 염화칼슘과 모래를 살포합니다. • 비닐하우스 위에 쌓인 것을 지속적으로 치워 줍니다. • 붕괴가 우려되는 비닐하우스는 발침대를 보강합니다.

- ① (가)는 북서 계절풍의 영향으로 서해안에서 자주 발생한다.
- ② (나)는 주로 장마 전선의 정체에 따라 발생한다.
- ③ (가)는 (나)보다 해일 피해를 유발하는 경우가 많다.
- ④ 우데기는 (가)를, 대청마루는 (나)를 대비한 시설이다.
- ⑤ (가)는 중국 내륙의 건조 지역에서, (나)는 열대 해상에서 발원한다.

#5 - 2018학년도 수능 #16

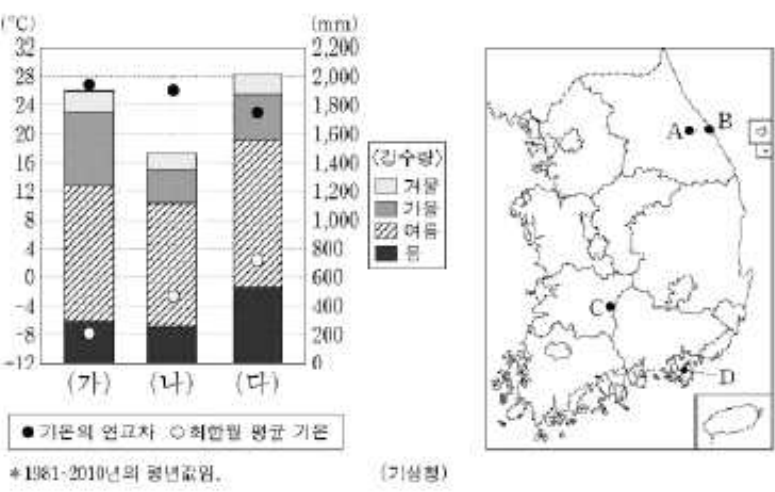
16. 다음 자료는 부산광역시에 위치한 A~C 구(區)의 인구나 종사자 현황을 나타낸 것이다. 이에 대한 설명으로 옳은 것은?



- ① A는 B보다 인구 밀도가 높다.
- ② C는 A보다 초등학교 수가 많다.
- ③ C는 B보다 주거 기능이 우세하다.
- ④ 주간 인구는 A가 가장 많다.
- ⑤ 생산자 서비스업 종사자 비중은 C가 가장 높다.

#6 - 2019학년도 수능 #16

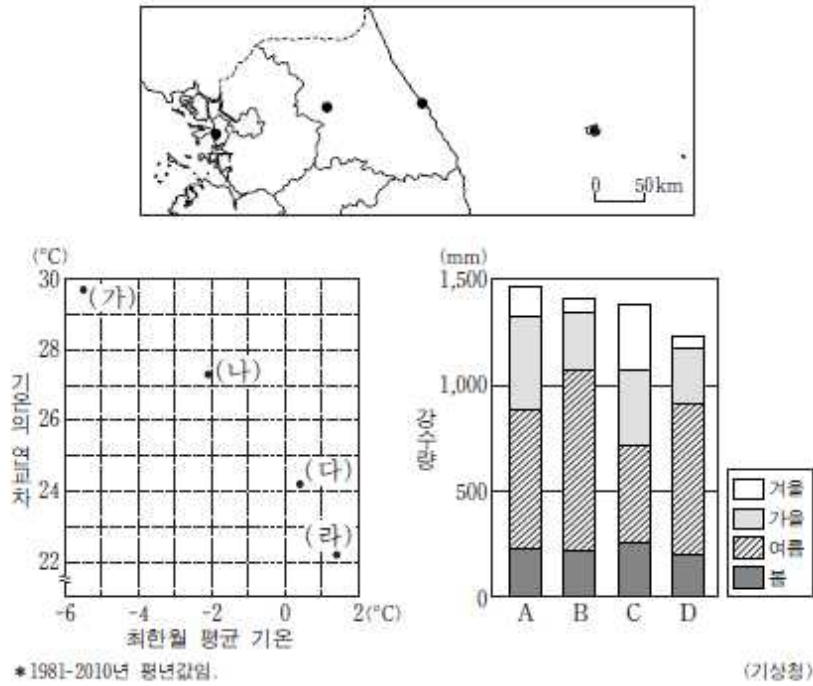
16. 그래프는 (가)~(다) 지역의 기후 특성을 나타낸 것이다. 이에 해당하는 지역을 지도의 A~D에서 고른 것은? [3점]



- | | | | | | | | |
|---|-----|-----|-----|---|-----|-----|-----|
| | (가) | (나) | (다) | | (가) | (나) | (다) |
| ① | A | B | D | ② | A | C | D |
| ③ | C | A | B | ④ | C | B | D |
| ⑤ | D | C | B | | | | |

#6 - 2017학년도 수능 #10

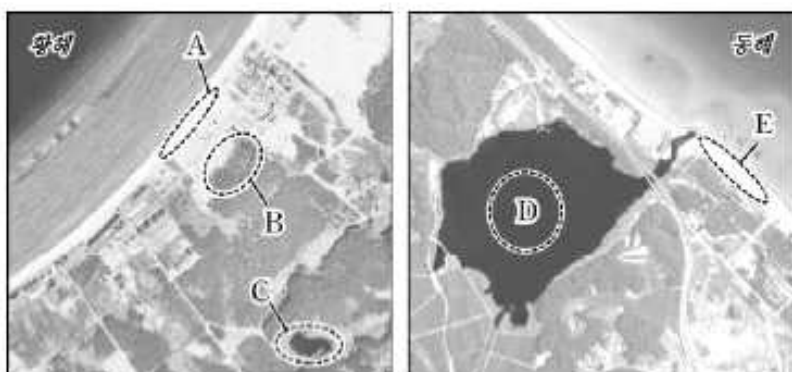
10. 그래프는 지도에 표시된 네 지역의 기후 자료이다. 이에 대한 설명으로 옳은 것은? (단, (가)~(라), A~D는 지도에 표시된 지역 중 하나임.) [3점]



- ① (다)는 B, (라)는 A이다.
- ② (가)는 (라)보다 연 적설량이 많다.
- ③ (다)는 (나)보다 여름 강수 집중률이 높다.
- ④ A는 D보다 최한월 평균 기온이 낮다.
- ⑤ D는 C보다 최난월 평균 기온이 높다.

#7 - 2019학년도 수능 #3

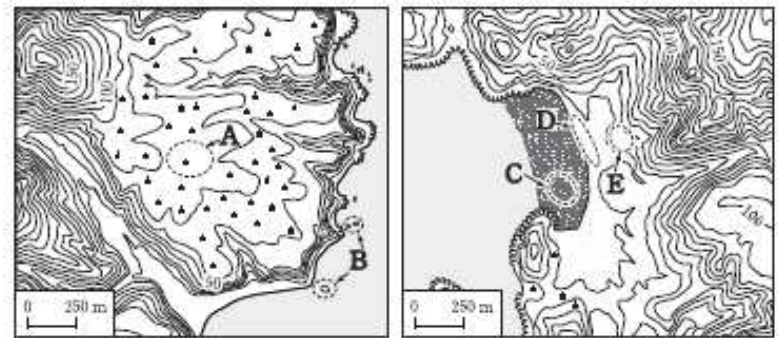
3. 그림의 A~E에 대한 설명으로 옳은 것은? [3점]



- ① A는 만보다 꽃에 넓게 발달한다.
- ② D 호수는 파랑의 작용으로 규모가 확대되고 있다.
- ③ A는 B보다 퇴적물의 평균 입자 크기가 작다.
- ④ C 습지는 D 호수보다 물의 염도가 낮다.
- ⑤ A와 E는 주로 조류의 퇴적 작용으로 형성된다.

#7 - 2018학년도 수능 #11

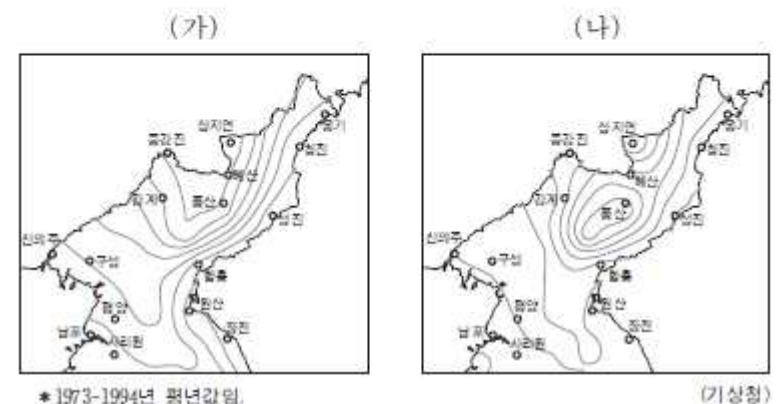
11. 지도의 A~E에 대한 설명으로 옳지 않은 것은?



- ① A는 과거의 파식대가 융기된 지형이다.
- ② B는 해식애가 후퇴하면서 육지에서 분리된 지형이다.
- ③ C는 주로 조류에 의해 퇴적되는 지형이다.
- ④ D는 주로 파랑과 연안류의 퇴적 작용으로 만들어진 지형이다.
- ⑤ E는 D보다 퇴적물의 평균 입자 크기가 크다.

#8 - 2017학년도 수능 #14

14. 지도는 (가), (나)월의 평균 기온이 같은 지점을 연결한 등치선도이다. 이에 대한 옳은 설명을 <보기>에서 고른 것은? (단, (가), (나)는 1월, 8월 중 하나임.) [3점]



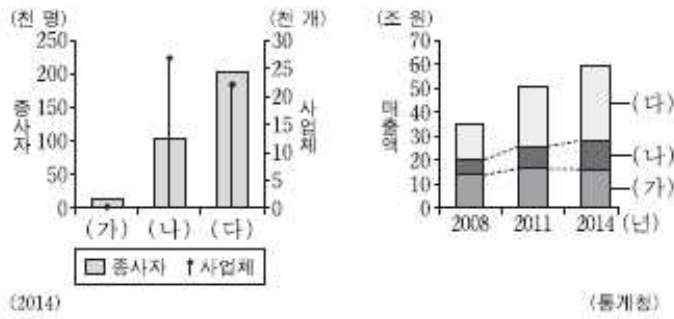
<보기>

ㄱ. (가)에는 남고북저형의 기압 배치가 주로 나타난다.
 ㄴ. (가)는 (나)보다 강수량이 적다.
 ㄷ. (나)는 (가)보다 대륙성 기단의 영향을 많이 받는다.
 ㄹ. (가)에서 (나) 사이의 기간은 (나)에서 (가) 사이의 기간보다 황사 발생 빈도가 높다.

- ① ㄱ, ㄴ ② ㄱ, ㄷ ③ ㄴ, ㄷ ④ ㄴ, ㄹ ⑤ ㄷ, ㄹ

#9 - 2018학년도 수능 #3

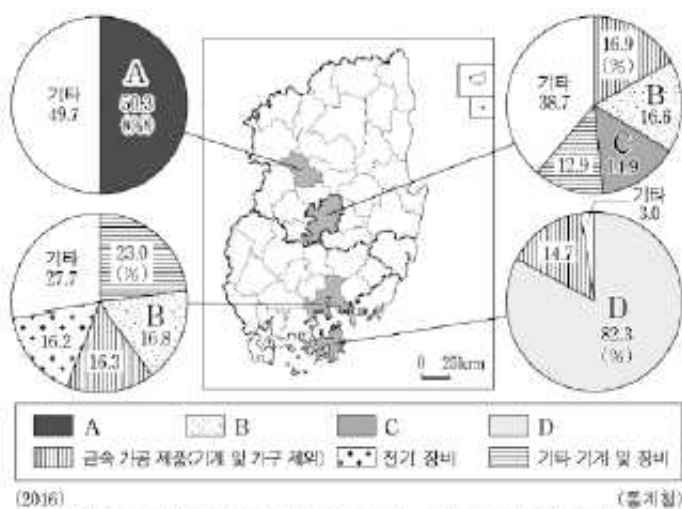
3. 그래프의 (가)~(다) 소매 업체에 대한 설명으로 옳은 것은? (단, (가)~(다)는 무점포 소매업체, 백화점, 편의점 중 하나임.)



- ① (가)는 (나)보다 사업체 간 평균 거리가 멀다.
- ② (가)는 (다)보다 2008년부터 2014년까지 매출액 증가율이 높다.
- ③ (나)는 (가)보다 고가 제품의 판매 비중이 높다.
- ④ (나) 사업체는 (가) 사업체보다 2014년에 전국 대비 특별·광역시에 분포하는 비중이 높다.
- ⑤ (가)~(다) 중 2014년에 종사자당 매출액은 (다)가 가장 많다.

#10 - 2019학년도 수능 #9

9. 다음 자료는 영남권 네 지역의 제조업 업종별 종사자 수 비율을 나타낸 것이다. A~D 제조업에 대한 옳은 설명을 <보기>에서 고른 것은? (단, A~D는 섬유 제품(의복 제외), 전자 부품·컴퓨터·영상·음향 및 통신 장비, 자동차 및 트레일러, 기타 운송 장비 제조업 중 하나임.) [3점]

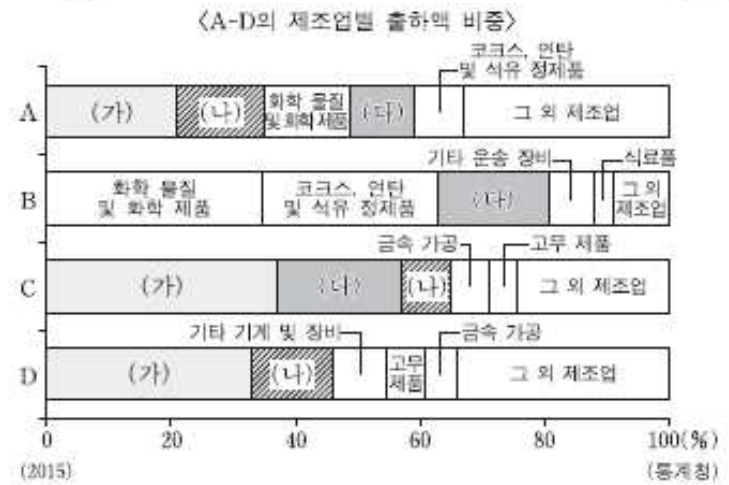
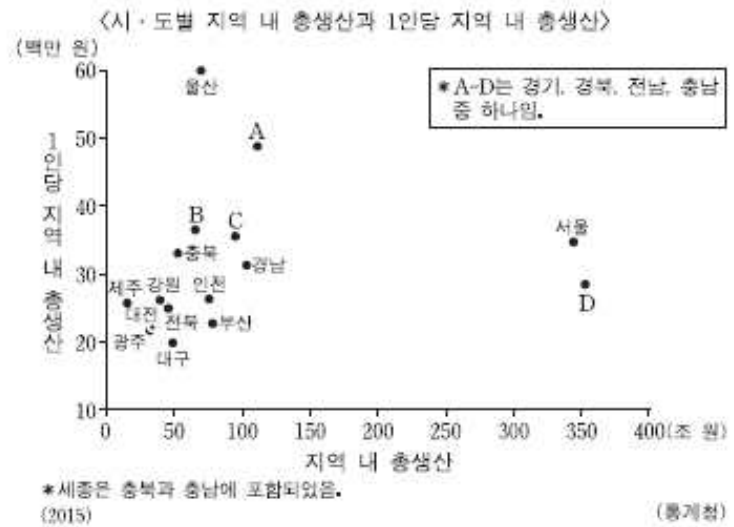


<보기>
 가. B는 C보다 사업체당 종사자 수가 많다.
 나. C는 A보다 2000년대 이후 수출액이 많다.
 다. D는 A보다 전국에서 영남권이 차지하는 출하액 비중이 높다.
 리. B와 D 모두 종사자 수가 가장 많은 지역은 수도권이다.

- ① 가, 나 ② 가, 리 ③ 나, 리 ④ 나, 리 ⑤ 다, 리

#10 - 2018학년도 수능 #10

10. (가)~(다) 제조업의 특성에 대한 설명으로 옳은 것은? (단, (가)~(다)는 자동차 및 트레일러, 전자 부품·컴퓨터·영상·음향 및 통신 장비, 1차 금속 중 하나임.)



- ① (가)는 계열화된 공정이 필요한 집적 지향형 제조업이다.
- ② (나)는 1970년대 우리나라의 수출 주력 제조업이었다.
- ③ (다)는 운송비에 비해 부가 가치가 크며 임지가 자유로운 제조업이다.
- ④ (가)는 (나)보다 최종 제품의 무게가 무겁고 부피가 크다.
- ⑤ (다)에서 생산된 최종 제품은 (나)의 주요 재료로 이용된다.

#11 - 2017학년도 6평 #5

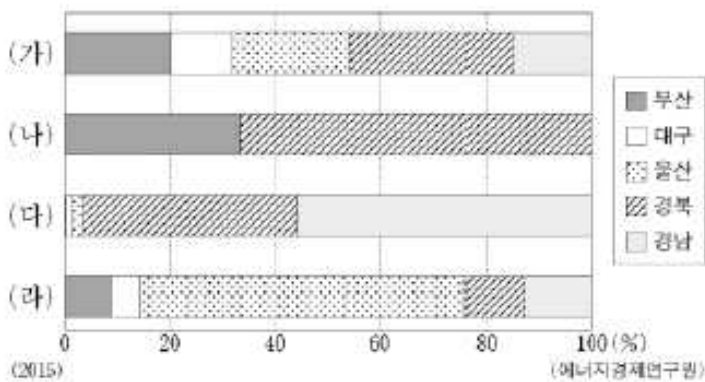
5. 지도는 우리나라 주요 하천 유역에 관한 것이다. 이에 대한 설명으로 옳은 것은? [3점]



- ① 한강은 댐 건설 이후 하상계수가 커졌다.
- ② 금강 유역은 낙동강 유역보다 면적이 넓다.
- ③ 낙동강 하구에는 넓은 규모의 삼각주가 발달해 있다.
- ④ 영산강과 섬진강에는 모두 하굿둑이 건설되어 있다.
- ⑤ A와 B 지점에 떨어진 빗물은 모두 금강 유역으로 유입된다.

#12 - 2019학년도 수능 #14

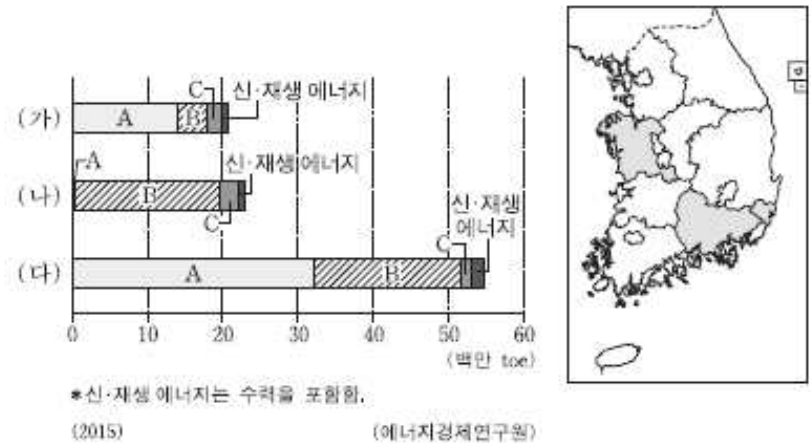
14. 그래프는 (가)~(라) 에너지원별 영남권 5개 시·도 공급 비율을 나타낸 것이다. 이에 대한 설명으로 옳은 것은? (단, (가)~(라)는 석유, 석탄, 원자력, 천연가스 중 하나임.) [3점]



- ① (가)는 우리나라에서 수송용보다 가정·상업용으로 사용되는 비율이 높다.
- ② (나)의 공급량이 가장 많은 지역은 충청권이다.
- ③ (다)는 우리나라에서 생산되지 않아 전량 수입에 의존한다.
- ④ (라)는 우리나라의 1차 에너지원별 발전량이 가장 많다.
- ⑤ (가), (나), (다)는 화력 발전소의 연료로 이용된다.

#12 - 2018학년도 수능 #19

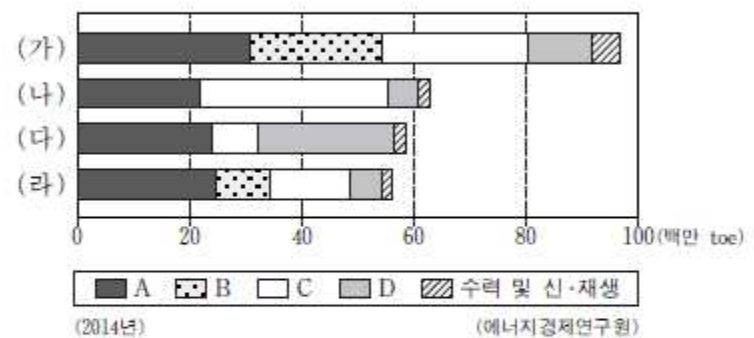
19. 그래프의 (가)~(다)는 지도에 표시된 세 지역의 1차 에너지원별 공급량을 나타낸 것이다. 이에 대한 설명으로 옳지 않은 것은? (단, A~C는 석유, 석탄, 천연가스 중 하나임.) [3점]



- ① 경남은 충남보다 1차 에너지원별 공급량에서 석탄이 차지하는 지역 내 비중이 작다.
- ② A는 제철 공업의 주요 연료로 이용된다.
- ③ B는 울산의 1차 에너지원별 공급량에서 가장 큰 비중을 차지한다.
- ④ C는 B보다 가정용으로 이용되는 비중이 크다.
- ⑤ 발전에 이용되는 1차 에너지의 비중은 A>C>B 순이다.

#12 - 2017학년도 수능 #16

16. 그래프는 권역별 1차 에너지 공급 구조를 나타낸 것이다. 이에 대한 설명으로 옳지 않은 것은? (단, (가)~(라)는 수도권, 영남권, 충청권, 호남권 중 하나임.) [3점]



- ① (가)의 주변 해역에서는 D가 생산되고 있다.
- ② (나)는 충청권, (다)는 수도권이다.
- ③ A는 C보다 우리나라 1차 에너지 공급에서 차지하는 비중이 높다.
- ④ C는 D보다 발전 시 대기 오염 물질의 배출량이 많다.
- ⑤ 우리나라 1차 에너지원별 발전량은 A>B>D>C 순이다.

#13 - 2019학년도 수능 #4

4. 다음 글의 ㉠~㉥에 대한 설명으로 옳은 것은? [3점]

○ ㉠ 침식 분지는 주위가 산지로 둘러싸인 평지를 말하며, 암석의 차별적인 풍화와 침식에 의해 형성된다. 우리나라에서는 주로 변성암이 ㉡ 화강암을 둘러싸고 있는 지역이나 하천의 합류 지점에서 발달한다.
○ ㉢ 카르스트 지형은 ㉣ 석회암이 이산화탄소를 함유한 빗물과 지하수의 용식 작용을 받아 형성된다. 강원도 남부 및 충청북도 북동부 지역 등에 발달하였으며, 대표적인 지형으로 ㉤ 돌리네와 석회 동굴 등이 있다.

- ① ㉠에서는 기온 역전 현상에 따른 안개가 잘 발생한다.
- ② ㉡은 주로 신생대에 마그마가 관입하여 형성되었다.
- ③ ㉢을 이루는 암석층에서는 공통 발자국 화석이 많이 발견된다.
- ④ ㉣은 오랜 시간 동안 변성 작용을 받아 형성되었다.
- ⑤ ㉤은 주로 논으로 이용된다.

#13 - 2018학년도 수능 #6

6. 다음 글의 ㉠~㉥에 대한 설명으로 옳은 것은?

한반도는 중생대에 여러 차례 지각 운동을 겪었다. 중생대 초 송림 변동에 이어 중생대 중엽에는 가장 격렬했던 ㉠ 대보조산 운동이 일어나 구조선이 만들어졌다. 이 과정에서 마그마의 관입이 일어나 한반도의 ㉡ 화강암 분포에 영향을 주었다. ㉢ 관입된 암석과 주변 암석 간의 차별 침식은 특징적인 지형을 만들기도 했다. 중생대 후기에는 ㉣ 불국사 변동으로 ㉤ 경상 분지 곳곳에 마그마가 관입되었다.

- ① ㉠의 영향으로 남북 방향의 1차 산맥이 형성되었다.
- ② ㉡이 산 정상부를 이루는 경우 주로 흑산으로 나타난다.
- ③ ㉢의 결과로 침식 분지가 형성되었다.
- ④ ㉣은 동고서저 지형 형성의 주요 원인이다.
- ⑤ ㉤에는 갈탄이 광범위하게 매장되어 있다.

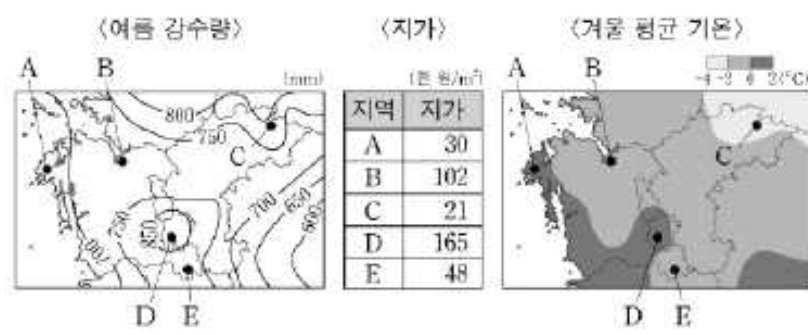
#14 - 2019학년도 수능 #11

11. 다음 조건만을 고려하여 ○○ 리조트 입지 지역을 선정하려고 할 때, 가장 적절한 곳을 후보지 A~E에서 고른 것은?

<조건>

평가 항목별 배점 기준은 다음과 같으며, 점수의 합이 가장 큰 지역을 선정함.

여름 강수량 (mm)	점수	지가 (천 원/㎡)	점수	겨울 평균 기온 (°C)	점수
750 미만	3	50 미만	3	0 이상	3
750 이상~850 미만	2	50 이상~150 미만	2	-2 이상~0 미만	2
850 이상	1	150 이상	1	-2 미만	1



- ① A ② B ③ C ④ D ⑤ E

#14 - 2018학년도 수능 #9

9. 다음 <조건>을 고려하여 ○○시설의 입지를 선정하고자 할 때, 가장 적절한 곳을 후보지 A~E에서 고른 것은?

<조건>

1. 평가 항목별 점수는 표와 같으며, 각 평가 항목 점수의 합이 가장 큰 곳에 입지함.

고도(m)	점수	생태 등급	점수
50 미만	1	2등급	1
50 이상~80 미만	2	3등급	2
80 이상	3	4등급	3

2. 후보지에 이웃한 8개 면의 고도가 후보지보다 모두 높으면 입지하지 못함.

<고도 정보>

40	45	55	50	40
40	35	60	55	50
55	65	80	75	70
60	50	85	90	85
55	60	85	85	80

<생태 등급 정보>

4	4	3	3	3
4	3	3	3	3
4	4	3	3	3
4	4	2	2	2
4	4	2	4	2

<입지 후보지>

	A		B	
			C	
			D	E

- ① A ② B ③ C ④ D ⑤ E

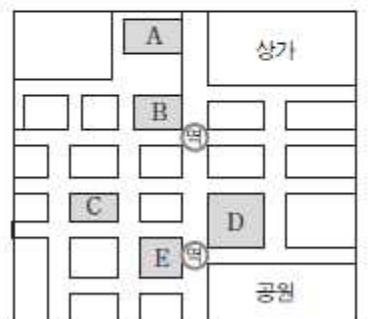
#14 - 2017학년도 수능 #17

17. 다음 <조건>만을 고려하여 주택 구입지를 선택할 때 가장 적절한 곳을 후보지 A~E 중에서 고른 것은?

<조건>

ㄱ. 방은 3개 이상일 것
 ㄴ. 상가 또는 공원 접근성이 양호할 것
 ㄷ. 가격은 3 이하일 것
 ㄹ. 조건 ㄱ~ㄷ을 만족하는 후보지 중 역에 가까운 곳을 선택함.

후보지	방 수	상가 접근성	공원 접근성	가격
A	3	○	×	2.5
B	3	○	×	2.0
C	4	×	×	3.5
D	2	×	○	2.0
E	3	×	○	4.0

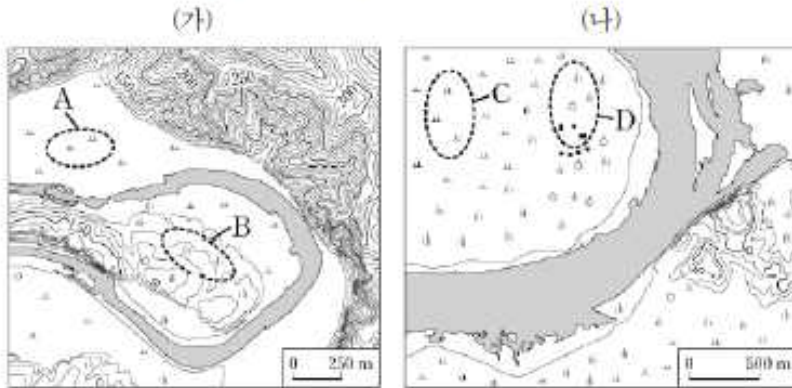


* ○: 양호, ×: 불량

- ① A ② B ③ C ④ D ⑤ E

#15 - 2019학년도 수능 #7

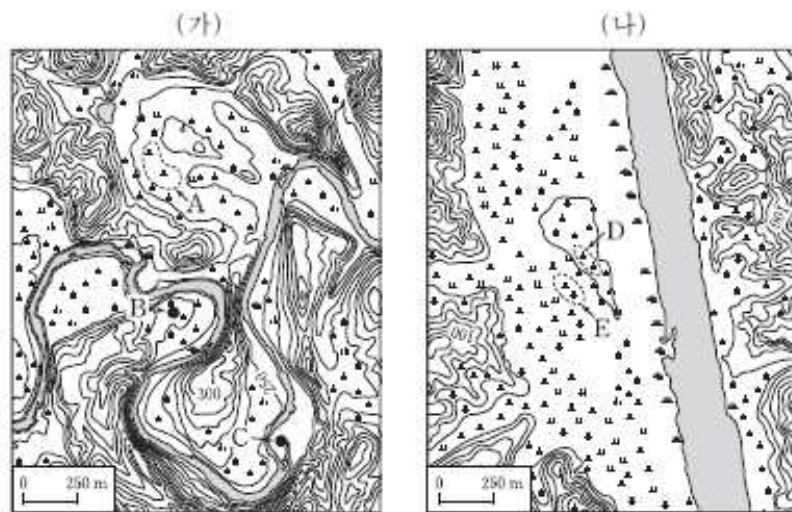
7. (가), (나) 지역에 대한 설명으로 옳은 것은? (단, (가), (나)의 하천은 동일한 하계망에 속함.)



- ① (가)의 하천은 (나)의 하천보다 평균 유량이 많다.
- ② (나)의 하천은 (가)의 하천보다 하상의 해발 고도가 높다.
- ③ B에서는 둥근 모양의 자갈이 발견된다.
- ④ B는 A보다 범람에 의한 침수 가능성이 높다.
- ⑤ C의 토양은 D의 토양보다 배수가 양호하다.

#15 - 2018학년도 수능 #7

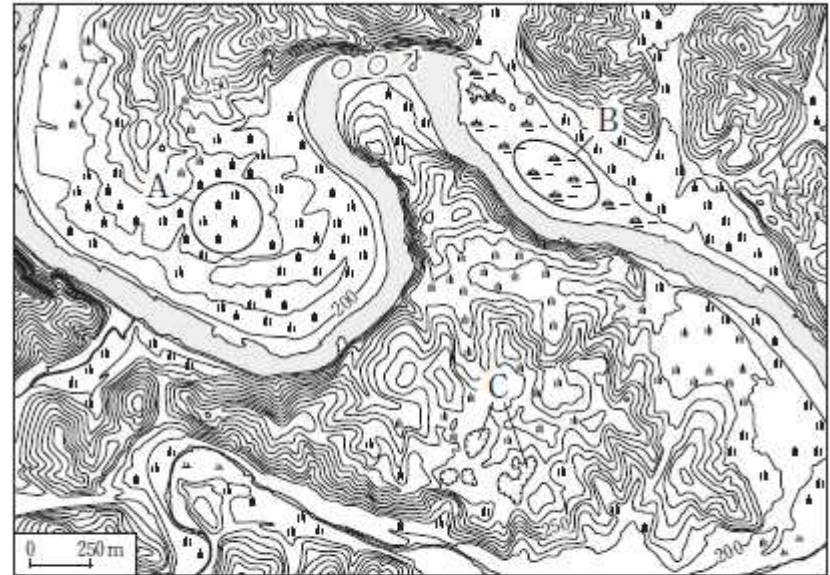
7. (가), (나) 지역에 대한 설명으로 옳지 않은 것은? (단, (가), (나)는 동일한 하계망에 속함.) [3점]



- ① 하천의 하방 침식은 (나)보다 (가)에서 활발하다.
- ② A는 과거에 하천의 유로였다.
- ③ B는 C보다 인근 하상과의 고도 차이가 크다.
- ④ C는 E보다 퇴적물의 평균 입자 크기가 크다.
- ⑤ E의 토양은 D의 토양보다 배수가 양호하다.

#14 - 2017학년도 수능 #8

8. 지도의 A~C에 대한 설명으로 옳은 것은? [3점]



- ① A에서는 하천의 작용으로 형성된 둥근 자갈이 발견된다.
- ② B는 지반 융기로 형성된 고위 평탄면이다.
- ③ C의 기반암은 중생대에 마그마의 관입으로 형성되었다.
- ④ A는 B보다 ○○강의 범람에 의한 침수 가능성이 높다.
- ⑤ B, C는 배수가 불량하다.

#16 - 2017학년도 수능 #7

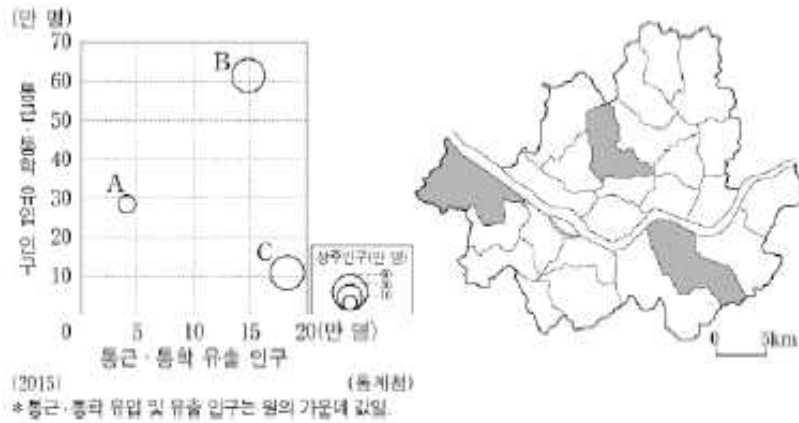
7. 지도의 A~E 지역 특성을 활용한 탐구 주제로 가장 적절한 것은?



- ① A: 천연기념물로 지정된 석회 동굴을 활용한 지역 홍보 방안
- ② B: 석탄 산업 쇠퇴 후 폐광의 관광 자원화 현황
- ③ C: 조력 발전소 건설 이후 해양 생태계의 변화
- ④ D: 국토 정중앙 테마 공원 조성을 통한 관광객 유치 방안
- ⑤ E: 기업 도시 조성 현황과 첨단 의료 복합 도시로의 성장 방안

#17 - 2019학년도 수능 #8

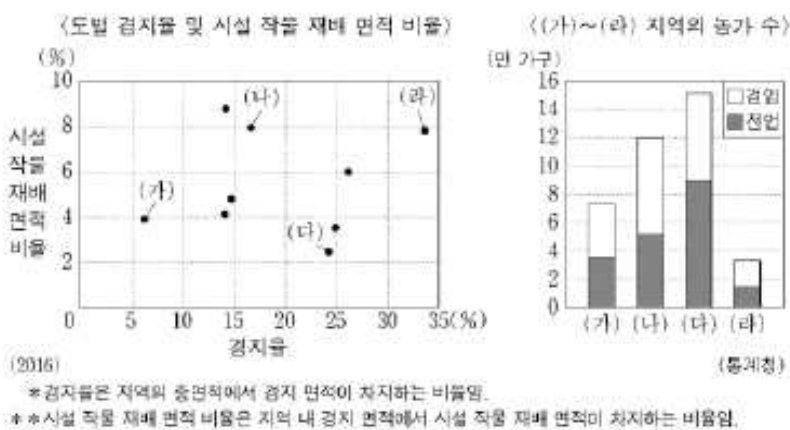
8. 그래프는 지도에 표시된 세 지역의 통근·통학 유입 및 유출 인구, 상주인구를 나타낸 것이다. A~C 지역에 대한 설명으로 옳은 것은? [3점]



- ① A는 B보다 인구 밀도가 높다.
- ② B는 A보다 시가지의 형성 시기가 이른다.
- ③ C는 A보다 상업지의 평균 지가가 높다.
- ④ C는 B보다 생산자 서비스업 사업체 수가 많다.
- ⑤ 주간 인구 지수는 A>B>C 순으로 높다.

#18 - 2019학년도 수능 #10

10. (가)~(라) 지역에 대한 옳은 설명을 <보기>에서 고른 것은? (단, (가)~(라)는 경기, 강원, 전남, 제주 중 하나임.) [3점]

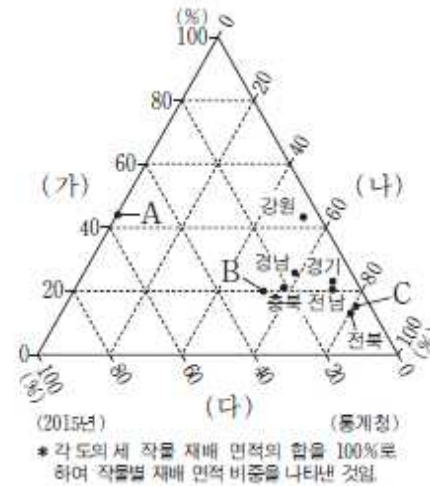


<보기>
 가. (가)는 (라)보다 과실 생산량이 많다.
 나. (나)는 (가)보다 노지 채소 재배 면적이 넓다.
 다. (다)는 (나)보다 쌀 생산량이 많다.
 라. (다)는 (라)보다 경지 면적 중 논 비율이 높다.

- ① 가, 나 ② 가, 다 ③ 나, 다 ④ 나, 라 ⑤ 다, 라

#18 - 2017학년도 수능 #18

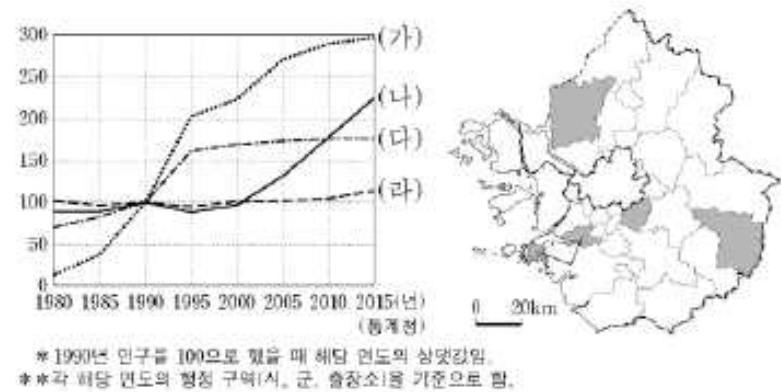
18. 그래프는 각 도(道)의 (가)~(다) 작물별 재배 면적 비중을 나타낸 것이다. A~C에 해당하는 지역으로 옳은 것은? (단, (가)~(다)는 과수, 벼, 채소 중 하나임.) [3점]



- | | A | B | C |
|---|----|----|----|
| ① | 경북 | 제주 | 충남 |
| ② | 경북 | 충남 | 제주 |
| ③ | 제주 | 경북 | 충남 |
| ④ | 제주 | 충남 | 경북 |
| ⑤ | 충남 | 경북 | 제주 |

#19 - 2019학년도 수능 #15

15. 그래프는 지도에 표시된 네 지역의 인구 변화를 나타낸 것이다. (가)~(라) 지역에 대한 옳은 설명만을 <보기>에서 있는 대로 고른 것은?

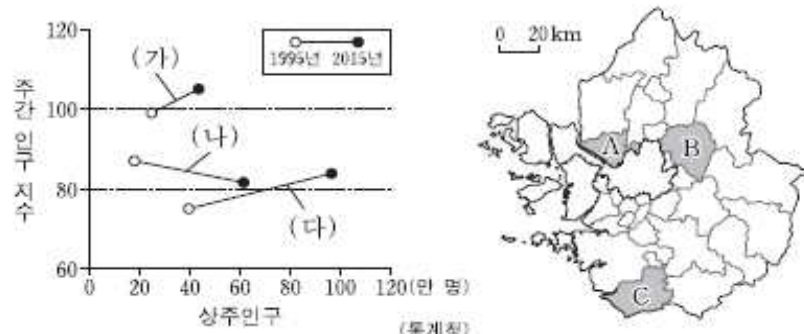


<보기>
 가. (가)는 (라)보다 거주 외국인 수가 많다.
 나. (나)는 (다)보다 지역 내 제조업 종사자 비율이 높다.
 다. (나)는 (라)보다 주택 중 아파트 비율이 높다.
 라. (가)와 (다)에는 수도권 1기 신도시가 위치해 있다.

- ① 가, 다 ② 나, 다 ③ 나, 라
- ④ 가, 나, 다 ⑤ 가, 나, 라

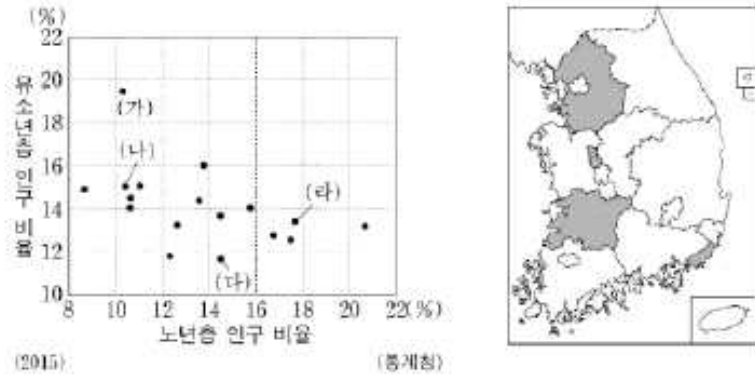
#19- 2018학년도 수능 #2

2. (가)~(다)에 해당하는 지역을 지도의 A~C에서 고른 것은?



- | | (가) | (나) | (다) | | (가) | (나) | (다) |
|---|-----|-----|-----|---|-----|-----|-----|
| ① | A | B | C | ② | B | A | C |
| ③ | B | C | A | ④ | C | A | B |
| ⑤ | C | B | A | | | | |

18. 그래프는 시·도별 유소년층 및 노년층 인구 비율을 나타낸 것이다. 이에 대한 설명으로 옳은 것은? (단, (가)~(라)는 지도에 표시된 지역 중 하나임.)



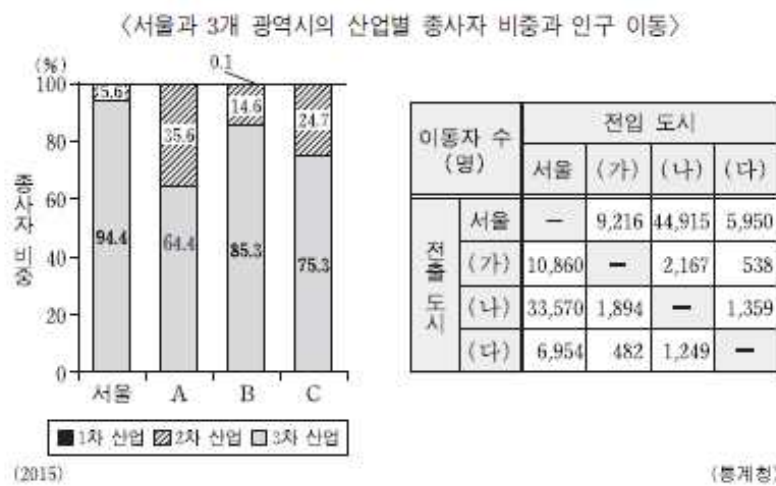
- ① (나)에는 공공 기관이 이전한 혁신 도시가 위치해 있다.
- ② (가)는 (다)보다 노령화 지수가 높다.
- ③ (나)는 (가)보다 유소년층 인구가 많다.
- ④ (다)는 (라)보다 총 부양비가 높다.
- ⑤ (다)는 호남권, (라)는 영남권에 해당한다.

정답표

⑤	①	①	②	
⑤	④	③	⑤	②
⑤	④	⑤	④	
①	②	⑤		
③	①	①	⑤	
①	③	①	③	②
③	⑤	①	⑤	
⑤	⑤	③	④	⑤
③	①			

#20 - 2018학년도 수능 #20

20. 다음 자료에 대한 옳은 설명을 <보기>에서 고른 것은? (단, A~C, (가)~(다)는 광주, 울산, 인천 중 하나임.) [3점]



〈보기〉

ㄱ. A는 (다), B는 (가)에 해당한다.
 ㄴ. 인천으로 전입한 인구는 광주가 울산보다 많다.
 ㄷ. (가)~(다) 중 서울과 지리적으로 가장 인접한 도시는 (가)이다.
 ㄹ. (가)~(다) 중 인구 규모가 가장 큰 도시는 3차 산업의 비중도 가장 높다.

- ① ㄱ, ㄴ ② ㄱ, ㄷ ③ ㄴ, ㄷ ④ ㄴ, ㄹ ⑤ ㄷ, ㄹ

MIKANG

19학년도 한국지리 47 50 50

학생을 컴퓨터 취급하는 GIS 아웃!

법과 정치 (IMIN 762906)

19학년도 한국지리 50 47 48

법정특) 법정 해설 안하고 한지 해설함

* 확인 사항

○ 답안지의 해당란에 필요한 내용을 정확히 기입(표기)했는지 확인 하시오.