

제 4 교시

사회탐구 영역(사회·문화)

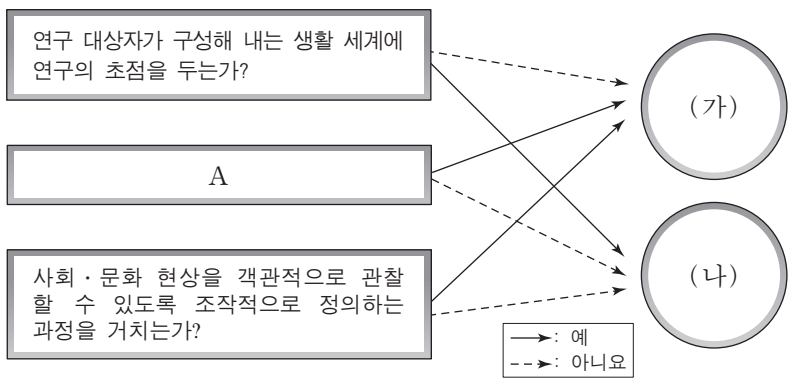
성명 수험 번호

1. 다음 자료에서 부각되는 사회·문화 현상의 탐구 태도로 가장 적절한 것은?

미국의 한 사회학자는, 미국의 전업 주부가 자신의 계급 지위를 주관적으로 인식할 때 현재 자신이 속한 가족의 계급 지위를 기준으로 삼는다는 것을 발견했다. 이후 그는 한국 전업 주부의 계급 인식도 연구하였다. 한국 전업 주부는 현재 자신이 속한 가족의 계급 지위보다는 과거 자신이 속했던 친정의 계급 지위와 미래에 자녀들이 갖기를 바라는 계급 지위에 더 영향을 받는 것으로 나타났다. 이에 대해 그는 한국 사회의 특성으로 한국의 전업 주부는 남편의 계급 지위와는 별도로 자신만의 계급 지위에 대한 주관적 인식을 가지고 있는 것으로 해석하였다.

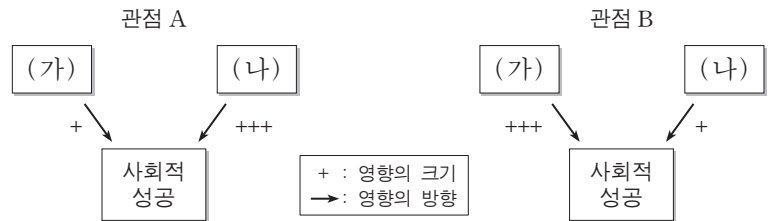
- ① 사회·문화 현상에 관련된 사실과 가치를 엄격하게 분리해야 한다.
- ② 사회·문화 현상의 탐구 시 해당 사회의 문화적 맥락이나 배경을 고려해야 한다.
- ③ 연구 결과가 사회적으로 미칠 수 있는 영향을 고려하여 탐구를 진행하여야 한다.
- ④ 사회·문화 현상의 탐구 시 자신의 연구 결과에 대한 다른 연구자의 비판을 허용해야 한다.
- ⑤ 연구 절차나 방법, 연구 윤리 등을 제대로 지키고 있는지 연구자 스스로 되짚어 보아야 한다.

2. 그림의 (가), (나)는 사회·문화 현상의 연구 방법이다. 이에 대한 설명으로 옳은 것은? [3점]



- ① (가)는 방법론적 이원론에 기반하여 사회·문화 현상을 탐구하고자 한다.
- ② (나)는 행위 주체인 연구 대상자의 주관적 의도가 배제된다는 비판을 받는다.
- ③ (가)와 달리 (나)는 행위의 동기보다는 행위 자체를 주된 분석 대상으로 삼는다.
- ④ (나)와 달리 (가)는 사회·문화 현상의 의미가 인식 주체에 의해 다르게 규정된다고 본다.
- ⑤ A에 들어갈 질문으로 '변수와 변수 간의 관계 파악을 목적으로 하는가?'가 적절하다.

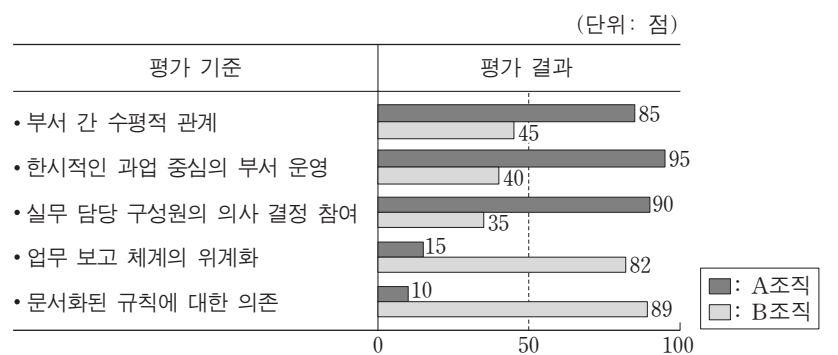
3. 그림은 교육 제도의 기능에 대한 기능론과 갈등론의 두 관점을 나타낸 것이다. 이에 대한 옳은 진술을 <보기>에서 고른 것은? [3점]



- <보기>
- ㄱ. 관점 A가 사회의 부분들이 상호 의존 관계를 맺고 사회를 유지시킨다고 본다면, (가)에는 가정 배경, (나)에는 학교 교육이 적절하다.
 - ㄴ. 관점 A가 한 사회의 지배 계급과 피지배 계급 간의 갈등이 필연적이라고 본다면, (가)에는 가정 배경, (나)에는 학교 교육이 적절하다.
 - ㄷ. 관점 B가 사회 유지에 필요한 합의된 가치가 존재한다고 본다면, (가)에는 학교 교육, (나)에는 가정 배경이 적절하다.
 - ㄹ. 관점 B가 사회 구조나 제도가 지배 계급의 이익 보호를 위해 존재한다고 본다면, (가)에는 학교 교육, (나)에는 가정 배경이 적절하다.

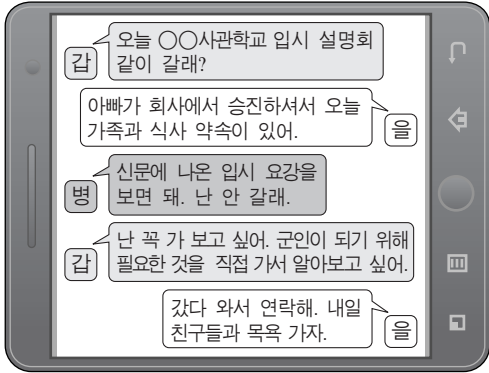
- ① ㄱ, ㄴ ② ㄱ, ㄷ ③ ㄴ, ㄷ ④ ㄴ, ㄹ ⑤ ㄷ, ㄹ

4. 그림은 A, B 두 조직의 운영 방식을 조사한 결과이다. 이에 대한 설명으로 가장 적절한 것은?



- ① A조직은 B조직에 비해 표준화된 업무 처리 방식을 통해 안정된 조직을 운영할 것이다.
- ② A조직은 B조직에 비해 업무 담당자가 제시하는 의견을 의사 결정에 반영하기 쉬울 것이다.
- ③ B조직은 A조직에 비해 빠르게 변화하는 사회 환경에 유연하게 대처할 것이다.
- ④ B조직은 A조직에 비해 구성원 간 업무에 대한 자유로운 의사소통을 더 많이 장려할 것이다.
- ⑤ B조직은 A조직에 비해 상황이나 목적에 따라 업무 부서를 자유롭게 구성하고 해체시킬 것이다.

5. 그림에서 갑~병의 대화를 (가)~(라)에 관련지어 옳게 설명한 것은? [3점]



구분	1차적 사회화 기관	2차적 사회화 기관
공식적 사회화 기관	(가)	(나)
비공식적 사회화 기관	(다)	(라)

- ① ○○사관학교는 (가)에 해당한다.
- ② 갑은 (나)에 속하는 사회화 기관에서 예기 사회화를 경험하고 있다.
- ③ 을은 (라)에 속하는 사회화 기관을 중요시한다.
- ④ 병은 (나)보다 (다)에 속하는 사회화 기관의 사회화 기능을 더 선호한다.
- ⑤ 갑~병의 대화에 나타난 사회화 기관 중 (라)에 속하는 것은 2개이다.

6. 다음 두 사례에서 공통적으로 부각되는 문화의 속성에 대한 진술로 가장 적절한 것은?

- 우리나라 사람들이 돌무더기 탑을 지날 때 돌 하나를 엮는 이유를 외국 사람들은 알지 못한다.
- 요즘 청소년들이 여러 단어의 첫 음절만을 이용하여 만든 줄임말의 의미를 기성 세대는 알지 못한다.

- ① 문화는 환경의 특수성과 관계없이 공통성을 갖는다.
- ② 문화는 부분들이 모여 전체로서 하나의 체계를 이룬다.
- ③ 문화는 경험과 상징을 통해 세대 간에 전승되고 축적된다.
- ④ 문화는 구성원 간에 사고와 행동의 동질성을 형성하게 해 준다.
- ⑤ 문화는 기존 요소가 사라지거나 새로운 요소가 만들어지며 변화한다.

7. (가), (나)에 나타난 개인과 사회의 관계를 바라보는 관점에 대한 설명으로 가장 적절한 것은?

- (가) 사회는 물질적 환경의 구조에 비견될 수 있는 '확고함' 또는 '견고함'을 가진다. 이것은 벽과 문의 위치가 나가고 들어오는 경로를 결정하는 것과 같은 논리이다.
- (나) 사회 현상은 '사물' 같은 것이 아니다. 모든 사회 현상은 인간을 포함하고 있으며 따라서 사회 현상의 이해란 결국 인간의 개별적 특성에 대한 이해와 동일한 것이다.

- ① (가)에서는 개인 행위의 의미를 사회 속에서 찾는다.
- ② (가)에서는 개인의 이익이 늘어나면 사회 전체의 이익도 증가하는 것으로 본다.
- ③ (나)에서는 인간의 행위를 사회적 조건에 의해 설명 가능한 것으로 본다.
- ④ (나)에서는 사회 속의 개인은 자신의 외부에 존재하는 의무를 수행하며 살아가는 것으로 본다.
- ⑤ (가)에서는 개인의 능동성을, (나)에서는 개인의 독립성을 강조한다.

8. (가), (나)에 대한 옳은 설명을 <보기>에서 고른 것은?

- (가) 구체제의 붕괴 이후 A국에서는 물질적 풍요와 경제적 성공을 가장 중요한 가치로 여기는 경제지상주의가 확산되었다. 하지만 A국의 산업 기반은 사람들에게 경제적 성공의 기회를 충분히 제공하지 못했다. 이런 상황은 범죄나 일탈의 가능성을 한층 높이는 결과를 초래하였다.
- (나) B는 절도죄를 저질러 처벌을 받았다. 그 후 B는 범죄를 저질렀다는 주위의 따가운 시선 때문에 학교 생활에 더 이상 적응을 하지 못했다. 이후 B는 스스로 학교를 그만두고 취업도 포기하고, 강도짓을 하게 되었다.

- <보기> —
- ㄱ. (가)에서는 문화적 목표와 제도적 수단 간의 괴리 상태가 일탈의 원인으로 작용한다.
 - ㄴ. (나)에서는 범죄자로 규정짓는 사회적 반응이 일탈의 원인으로 작용한다.
 - ㄷ. (가)는 (나)에 비해 범죄자가 되는 과정에 초점을 맞춘다.
 - ㄹ. (가)와 (나) 모두 일탈의 원인을 미시적 측면에서 찾고 있다.

- ① ㄱ, ㄴ
- ② ㄱ, ㄷ
- ③ ㄴ, ㄷ
- ④ ㄴ, ㄹ
- ⑤ ㄷ, ㄹ

9. (가), (나)의 사례에 대한 옳은 설명만을 <보기>에서 있는 대로 고른 것은? [3점]

- (가) 맞벌이 부부가 많아지면서 대부분의 부부들은 집안일을 함께하고 있다. 자신도 맞벌이 부부로서 이를 당연시하던 남편 갑이 설거지를 하던 중, 이를 본 아버지에게 "우리 세대는 생각도 못한 일이니 그만두어라."라는 꾸지람을 듣고 고민에 빠졌다.
- (나) 부모가 교사인 중학생 을은 부모의 영향을 받아 자신도 교사가 되어야겠다고 생각해 왔다. 그런데 대부분의 청소년들이 연예인을 미래 직업으로 선호한다는 기사를 읽고 자신의 미래 직업에 대해 고민하다가 진로 문제로 부모와 말다툼을 하였다.


- <보기> —
- ㄱ. (가)에서 아버지 세대는 갑의 준거 집단이다.
 - ㄴ. (나)에서 을이 교사를 미래 직업으로 생각한 것은 사회화 결과이다.
 - ㄷ. (가), (나) 모두에 하위 문화가 나타나 있다.
 - ㄹ. (가)에서의 갑과 (나)에서의 을은 모두 역할 갈등을 경험하였다.

- ① ㄱ, ㄴ
- ② ㄱ, ㄹ
- ③ ㄴ, ㄷ
- ④ ㄱ, ㄷ, ㄹ
- ⑤ ㄴ, ㄷ, ㄹ

10. 다음 자료에 나타난 사회 집단과 관련한 설명으로 옳은 것은?

갑: '녹색사랑' 주간지 기자 갑입니다. '○○산사랑모임'이라는 환경 단체가 만들어진 배경을 이야기해 주시죠.

을: 대학 입학 후 '◇◇동아리'만 가입하여 활동하다가, 등산을 좋아하는 사람 몇 명이 모여 '△△등산회'라는 동호회를 만들었어요. 동호회 사람들과 ○○산 개발 반대 운동을 하던 중, 환경 보호 운동을 더 열심히 하기 위해서 '○○산사랑모임'을 조직하여 오늘에 이르게 된 거죠.



- ① '녹색사랑'은 만남 자체를 목적으로 하는 사회 집단이다.
- ② '◇◇동아리'는 을의 외집단이다.
- ③ '△△등산회'는 이익 사회이면서 자발적 결사체이다.
- ④ '○○산사랑모임'은 2차 집단인 동시에 공동 사회이다.
- ⑤ 을은 구성원의 의지와 관계없이 자연적으로 결합된 집단에 속해 있다.

11. 밑줄 친 ㉠~㉣에 대한 옳은 설명을 <보기>에서 고른 것은? [3점]

㉠ 자기 통제력과 범죄의 관계를 연구하기 위해서 ㉡ 일반인 500명과 교도소에 수감되어 있는 ㉢ 재소자 500명을 대상으로 ㉣ 충동 조절 능력 지수의 점수를 파악하였다. 그 결과, ㉠ 일반인들의 충동 조절 능력 지수의 평균 점수가 재소자들의 충동 조절 능력 지수의 평균 점수보다 높은 것으로 나타났다. 연구 결과를 바탕으로 일반인의 충동 조절 능력은 범죄인보다 높다고 해석하고, ㉠ 자기 통제력이 낮을수록 범죄를 저지를 가능성이 높다고 결론을 내렸다.

— <보기> —

㉠. ㉠은 ㉢로 조작적 정의를 하였다.

㉡. ㉡은 통제 집단, ㉢은 실험 집단이다.

㉣. ㉣이 모집단을 대표하지 못할 경우에는 ㉠을 일반화하기 어렵다.

㉤. ㉤에서 자기 통제력은 종속 변수, 범죄는 독립 변수이다.

- ① ㉠, ㉡ ② ㉠, ㉣ ③ ㉡, ㉣ ④ ㉡, ㉤ ⑤ ㉣, ㉤

12. 사회 변동을 바라보는 (가), (나)의 주장에 대한 설명으로 가장 적절한 것은?

(가) 인간 사회는 원시적, 중간적, 근대적 사회로 변해 왔다. 원시적 사회에서 중간적 사회로 발전하는 데에는 언어의 발달이, 중간적 사회에서 근대적 사회로 발전하는 데에는 규범의 제도화가 중요한 요인으로 작용하였다.

(나) 문명도 생애 주기가 있어서, 일련의 발생과 성장 단계를 거쳐 결국 몰락의 과정을 겪는다. 인류 역사 이래 여러 문화권을 검토한 결과 모든 문명은 일반적으로 천년을 생애 주기로 하는 것으로 나타났다.

- ① (가)는 사회 변동을 미시적 관점에서 보고 있다.
- ② (가)는 사회가 항상 진보하는 것은 아니라고 본다.
- ③ (나)는 운명론적 시각을 갖는다.
- ④ (나)는 사회 변동을 발전으로 인식한다.
- ⑤ (가), (나) 모두 사회 변동의 주요인을 기술 발전에서 찾는다.

13. (가), (나)는 사회 계층화 현상을 보는 두 관점이다. 이에 대한 옳은 설명을 <보기>에서 고른 것은? [3점]

질문 항목	답변	
	(가)	(나)
차등적인 보상이 사회 유지를 위해 필요하다고 보는가?	아니요	예
사회적 희소 가치의 배분이 불공정하다고 보는가?	예	아니요
A	예	아니요

— <보기> —

㉠. A에 들어갈 질문으로 '직업의 중요성이 사회 전체의 필요에 의해서 결정된다고 보는가?'가 적절하다.

㉡. (가)는 (나)와 달리 사회 계층화 현상을 불가피한 것으로 본다.

㉢. (가)는 (나)와 달리 사회가 기득권층의 지배를 바탕으로 유지된다고 본다.

㉣. (나)는 (가)와 달리 사회 계층화 현상의 긍정적 기능을 강조한다.

- ① ㉠, ㉡ ② ㉠, ㉣ ③ ㉡, ㉣ ④ ㉡, ㉤ ⑤ ㉣, ㉤

14. 그림에서 밑줄 친 ㉠, ㉡이 속한 사회 보장 제도의 두 유형에 대한 설명으로 옳은 것은?

㉠ 국민 기초 생활 보장 제도는 빈곤 계층에 대해 국가가 생계, 주거, 교육, 의료 등 기본적인 생활을 보장하는 제도야.

㉡ 국민 연금 제도는 고령으로 인한 미래의 소득 손실에 대비한 거야. 그런데 저출산·고령화로 연금 보험료 부담이 늘어날 것 같아.



- ① ㉠이 속한 유형은 원칙적으로 모든 국민이 수급자가 된다.
- ② ㉡이 속한 유형은 비금전적 지원을 원칙으로 한다.
- ③ ㉠이 속한 유형은 ㉡이 속한 유형에 비해 소득 재분배 기능이 더 강조된다.
- ④ 두 유형 모두 강제 가입을 원칙으로 한다.
- ⑤ 두 유형 모두 국가와 제도 대상자가 비용을 공동 부담한다.

15. 다음 두 사례에서 공통적으로 추론할 수 있는 진술로 적절하지 않은 것은?

○ 방송 기자들이 모든 사건을 취재하는 것은 아니며, 그들이 취재한 많은 사건들이 모두 뉴스로 방송되는 것도 아니다.

○ 편집장이 선택한 기사는 어떤 방식으로 전달하느냐에 따라 그 사안의 중요성이 달라진다.

- ① 대중 매체는 동일한 사안을 서로 다르게 보도할 수 있다.
- ② 대중 매체에 대해 비판적 수용 태도를 견지할 필요가 있다.
- ③ 대중 매체에서 전달되는 방식에 따라 사실이 다르게 보일 수 있다.
- ④ 대중 매체는 정보 선별을 통해 대중의 지적 능력을 향상시킬 수 있다.
- ⑤ 대중 문화란 대중이 주체적으로 만든 것이 아니라 대중 매체에 의해 만들어진 것일 수 있다.

16. 표는 어느 해의 성별·교육 수준별 임금 근로자 중 비정규직의 비율을 조사한 것이다. 이에 대한 옳은 분석을 <보기>에서 고른 것은? [3점]

(단위: %)

교육 수준별	성별	여성	남성
초졸 이하		67.7	63.8
중졸		50.4	51.7
고졸		44.9	32.5
대졸 이상		32.2	16.8

— <보기> —

ㄱ. 초졸 이하인 남성 임금 근로자의 과반수가 비정규직이다.
 ㄴ. 고졸 이상인 여성 임금 근로자 중 비정규직은 77.1%이다.
 ㄷ. 교육 수준별 임금 근로자 중 비정규직 비율은 교육 수준이 높을수록 낮다.
 ㄹ. 대졸 이상인 경우, 여성에 비해 남성의 비정규직 임금 근로자의 수가 더 적다.

- ① ㄱ, ㄴ ② ㄱ, ㄷ ③ ㄴ, ㄷ ④ ㄴ, ㄹ ⑤ ㄷ, ㄹ

17. 밑줄 친 ㉠~㉣에 대한 설명으로 가장 적절한 것은? [3점]

A국은 국민의 건강을 위해 서양 의학과 ㉠서양 의료 기기를 도입했다. 서양 의료 교육을 받은 의사들이 질병을 치료하면서, ㉡사람들의 평균 수명이 증가했다. 또한 ㉢국민들은 과거에 행했던 수술적인 방식을 버리고 서양 의학에 의존하게 되었다. 그러자 초자연적인 존재를 통해 생명의 위기를 극복할 수 있다고 믿는 ㉣전통 신앙 체계에 근본적인 변화가 나타났다. 일상생활 전체에서 중추적인 역할을 했던 ㉤수술사의 역할은 길흉화복을 점치는 것으로 제한되었다.

- ① ㉠은 A국에 나타난 문화 변동의 내재적 요인에 해당한다.
 ② ㉡은 물질 문화로 인해 비물질 문화의 변화가 나타난 경우에 해당한다.
 ③ ㉢은 문화 동화의 사례에 해당한다.
 ④ ㉣은 강제적 문화 접변 과정에서 나타난 문화적 대응 양상이다.
 ⑤ ㉤은 문화 융합의 사례에 해당한다.

18. 사회적 소수자에 관한 갑, 을의 관점에 대한 설명으로 옳지 않은 것은? [3점]

갑: 한국 사회의 필요에 따라 급격하게 이주 노동자가 들어 오면서 예상치 못한 상황이 발생한 것입니다. 이주 노동자 증가에 대비한 제도적 준비 부족과 이들의 사회적 부적응 때문에 이들이 사회적 소수자가 된 것입니다.
 을: 한정된 일자리를 놓고 내국인과 이주 노동자가 대립하는 경우가 있는데, 이 상황에서 약자는 이주 노동자입니다. 왜냐하면 우리 사회에서는 이주 노동자가 기본적으로 불리한 위치에 놓인 사회적 소수자이기 때문입니다.

- ① 갑은 이주 노동자가 처한 상황을 거시적 차원에서 파악한다.
 ② 을은 이주 노동자가 처한 상황을 사회 불평등 현상으로 본다.
 ③ 갑은 을과 달리 이주 노동자를 위한 한국어 강좌 개설을 해결 방안으로 우선시할 것이다.
 ④ 을은 갑과 달리 이주 노동자의 재사회화를 강조할 것이다.
 ⑤ 갑은 내국인과 이주 노동자의 통합을, 을은 희소 자원의 공정한 배분을 강조할 것이다.

19. 다음에 나타난 문화 이해의 관점에 대한 옳은 설명을 <보기>에서 고른 것은?

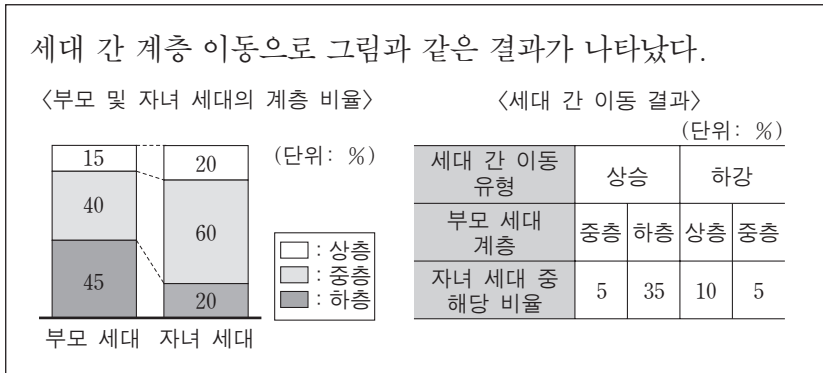
교사: '한국의 대학 입시 문화'에 대한 조사 계획을 발표해 봅시다.
 갑: 한국과 핀란드의 대학 입시 문화의 공통점과 차이점을 비교하여 한국의 대학 입시 문화의 특징을 살펴볼 예정입니다.
 을: 한국 고등학생들의 학습 시간, 학원 이용 현황, 여가 생활 모습, 심리 상태, 친구 관계, 가족 관계 등을 종합하여 한국의 대학 입시 문화를 살펴볼 예정입니다.

— <보기> —

ㄱ. 갑의 관점은 특정 지역의 문화 요소 간의 유기적 관계에 초점을 둔다.
 ㄴ. 갑의 관점은 다른 문화를 거울로 삼아 자기 문화를 파악하는데 유용하다.
 ㄷ. 을의 관점은 문화 요소의 보편성을 찾는 것에 초점을 둔다.
 ㄹ. 을의 관점은 특정 문화 요소를 그 사회의 전체적인 맥락에서 이해하는데 유용하다.

- ① ㄱ, ㄴ ② ㄱ, ㄷ ③ ㄴ, ㄷ ④ ㄴ, ㄹ ⑤ ㄷ, ㄹ

20. 다음 자료에 대한 옳은 분석만을 <보기>에서 있는 대로 고른 것은? (단, 계층은 상층, 중층, 하층으로만 구분한다.) [3점]



— <보기> —

ㄱ. 부모 세대의 계층 지위가 대물림된 비율은 45%이다.
 ㄴ. 자녀 세대 중 부모가 상층이고 자녀가 하층인 비율은 5%이다.
 ㄷ. 세대 간 상승 이동한 사람은 세대 간 하강 이동한 사람의 3배 이상이다.
 ㄹ. 세대 간 이동으로 다른 계층에서 유입된 사람들이 가장 많은 계층은 하층이다.

- ① ㄱ, ㄴ ② ㄱ, ㄷ ③ ㄷ, ㄹ
 ④ ㄱ, ㄴ, ㄹ ⑤ ㄴ, ㄷ, ㄹ


* 확인 사항
 ○ 답안지의 해당란에 필요한 내용을 정확히 기입(표기)했는지 확인하십시오.

제 4 교시

사회탐구 영역(사회·문화)

성명		수험 번호							
----	--	-------	--	--	--	--	--	--	--

1. 밑줄 친 ㉠~㉣과 같은 현상의 일반적인 특징에 대한 옳은 설명을 <보기>에서 고른 것은?



㉠ 빛의 변화에 따른 자연을 묘사한 인상파의 대표적인 화가인 모네의 작품 '인상, 해돋이'는 바다가

㉡ 새벽 물안개 속에서 떠오르는 태양빛에 물드는 순간을 포착한 것이다. 유연한 붓놀림과 투명한 색의 사용으로 아침 햇살에 빛나는

㉢ 항구의 아름다움을 표현하였다. 배와 돛대와 연통은

㉣ 짙은 안개 때문에 흐릿하지만 부드러운 붓놀림으로 인해 화면이 정지되어 있지 않고 생명력을 가지고 있는 것이 이 작품의 특징이다.

— <보기> —

ㄱ. ㉠과 같은 현상은 ㉡과 같은 현상과 달리 당위 법칙의 지배를 받는다.

ㄴ. ㉠과 같은 현상은 ㉣과 같은 현상과 달리 개연성으로 설명된다.

ㄷ. ㉡과 같은 현상은 ㉢과 같은 현상과 달리 경험적 자료로 연구할 수 있다.

ㄹ. ㉢과 같은 현상은 ㉣과 같은 현상과 달리 특수성보다 보편성이 강조된다.

- ① ㄱ, ㄴ ② ㄱ, ㄷ ③ ㄴ, ㄷ ④ ㄴ, ㄹ ⑤ ㄷ, ㄹ

2. 사회·문화 현상을 바라보는 (가)~(다)의 관점에 대한 옳은 설명만을 <보기>에서 있는 대로 고른 것은? [3점]

(가) 혼인은 단순한 통과 의례가 아니라 부부간의 끊임없는 상호 작용을 통해 서로의 역할을 재구성해 가는 사회적 과정의 출발점이다.

(나) 혼인은 사회 구성원의 재생산 및 양육과 보호의 역할을 담당하는 가족을 구성하기 위한 사회적 의례이다.

(다) 혼인은 이를 통해 얻을 수 있는 보상과 지급해야 하는 비용을 계산하여 이루어진 합리적 선택의 결과이다.

— <보기> —

ㄱ. (나)는 사회 문제를 병리적인 현상으로 간주한다.

ㄴ. (다)는 이해타산적인 인간의 행동을 설명하기 곤란하다.

ㄷ. (가)는 (나)에 비해 사회 구조가 개인에게 미치는 영향력을 과대평가한다.

ㄹ. (가)와 (다)는 인간의 능동적 사고와 자율적 행위의 측면을 강조한다.

- ① ㄱ, ㄴ ② ㄱ, ㄹ ③ ㄴ, ㄷ ④ ㄱ, ㄷ, ㄹ ⑤ ㄴ, ㄷ, ㄹ

3. 다음 대화에 나타난 대중 매체의 유형별 특징에 대한 설명으로 옳은 것은?



갑: 이번 주 동물 보호 교육에서는 TV 다큐멘터리 프로그램을 보여 주는 것이 좋겠습니다.

을: 체계적이고 깊이 있는 정보를 알려 주려면 동영상보다 관련 잡지나 책을 읽게 하는 것이 더 좋겠습니다.

병: 그것보다 동물 보호 단체의 홈페이지를 알려 주거나 인터넷 검색을 통해 관련 자료를 조사하게 하는 것이 좋겠습니다.

- ① 갑의 선호 매체는 을의 선호 매체와 달리 정보의 전달이 일방적이다.
- ② 갑의 선호 매체는 병의 선호 매체와 달리 정보 수용자도 정보를 생산한다.
- ③ 을의 선호 매체는 갑의 선호 매체에 비해 정보 전달의 동시성과 신속성이 뛰어나다.
- ④ 을의 선호 매체는 갑과 병의 선호 매체에 비해 사용자의 범위가 넓고 접근성이 뛰어나다.
- ⑤ 병의 선호 매체는 갑과 을의 선호 매체에 비해 전달자와 수용자 간의 상호 작용성이 뛰어나다.

4. (가), (나)는 사회·문화 현상의 탐구 태도이다. 이에 대한 옳은 설명을 <보기>에서 고른 것은? [3점]

(가) 연구자 역시 특정 사회의 가치와 규범을 내면화하기 때문에, 사회·문화 현상을 연구할 때 현상이 가진 사실에만 근거하여 파악해야 한다.

(나) 연구자는 올바른 절차를 거쳐 사회·문화 현상을 검증했는지라도 자신의 연구 결과에 대한 다른 연구자의 반증 가능성을 인정해야 한다.

— <보기> —

ㄱ. (가)는 연구자가 연구 진행 과정에서 주관적인 가치와 편견을 배제하려는 태도이다.

ㄴ. (나)는 사회·문화 현상 연구에서 유연하고 수용적인 태도를 갖는 것을 강조한다.

ㄷ. (나)는 (가)와 달리 연구자가 연구 절차나 방법이 제대로 수행되었는지 살펴보는 것을 강조한다.

ㄹ. (가)는 제3자의 입장에서, (나)는 상대방의 입장에서 연구를 진행하는 것을 강조한다.

- ① ㄱ, ㄴ ② ㄱ, ㄷ ③ ㄴ, ㄷ ④ ㄴ, ㄹ ⑤ ㄷ, ㄹ

[5~6] 다음 글을 읽고 물음에 답하시오.

갑: 청소년 비행은 (가)이론으로 설명할 수 있습니다. 이 이론에서는 비행 친구와 어울린 이후에 최초의 비행을 저지른다고 봅니다. 비행 친구와 어울리면서 그들의 가치나 태도를 배워 비행을 저지르게 되는 것입니다. 이를 검증하기 위해서는 '비행'과 '비행 친구'를 조작적으로 정의하고 자료를 수집하여 관련성을 분석하는 연구 방법을 사용해야 합니다.
 을: 어떤 이유로든 비행을 저지른 이후에 비행 청소년은 따가운 주위의 시선과 소위를 경험하면서 자아가 부정적으로 변합니다. 그래서 다시 비행을 저지르게 되는 것입니다. 이 과정에 초점을 두어 비행을 설명하는 것이 (나)이론입니다. 이를 파악하기 위해서는 주변 사람들이 비행 청소년에게 부여하는 의미와 비행 청소년의 자아 변화 과정을 심층적으로 이해할 수 있는 연구 방법을 사용해야 합니다.

5. 일탈을 설명하는 밑줄 친 (가), (나)이론에 대한 진술로 가장 적절한 것은? [3점]

- ① (가)이론은 사회 규범의 통제력 회복을 해결 방안으로 제시한다.
- ② (가)이론에 해당하는 속담으로 “세 살 버릇 여든까지 간다.”가 적절하다.
- ③ (나)이론은 정상적인 사회 집단과의 교류 확대를 해결 방안으로 제시한다.
- ④ (나)이론은 본질적으로 일탈을 규정하는 절대적인 기준은 없다고 본다.
- ⑤ (가)이론은 가치 갈등을, (나)이론은 목표와 수단의 괴리를 일탈의 근본적 원인으로 본다.

6. 갑, 을의 연구 방법에 대한 옳은 설명을 <보기>에서 고른 것은?

— <보기> —

ㄱ. 갑의 방법은 연구 대상자의 동기나 의도를 객관화할 수 있다고 본다.
 ㄴ. 을의 방법은 주로 연역적 과정을 통해 결론을 도출한다.
 ㄷ. 을의 방법은 갑의 방법에 비해 결론의 재생 가능성이 낮다.
 ㄹ. 갑과 을의 방법 모두 연구자와 연구 대상자 간의 정서적 교감을 중시한다.

- ① ㄱ, ㄴ ② ㄱ, ㄷ ③ ㄴ, ㄷ ④ ㄴ, ㄹ ⑤ ㄷ, ㄹ

7. 다음 글에서 부각되는 문화의 속성에 대한 진술로 가장 적절한 것은?

힌두교인이 굶주려도 암소를 잡아먹지 않는 행동을 이해하려면 그 사회의 종교와 농경 생활을 살펴보아야 한다. 암소를 성스러운 존재로 여기는 종교적 의미 부여는 암소가 농경 생활과 일상 생활에 여러 가지로 유용하다는 사실에 기인한다.

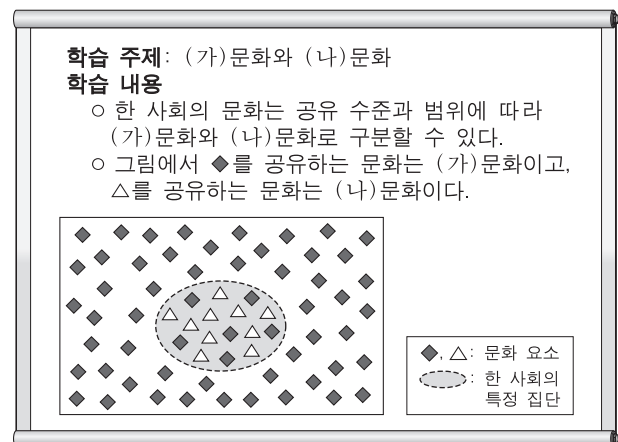
- ① 선천적이기보다는 후천적으로 습득된다.
- ② 새로운 문화 요소가 추가되면서 전승된다.
- ③ 특정 상황에서 상대방의 행동 방식을 예측하게 한다.
- ④ 하나의 전체 속에서 다른 것들과 관련을 맺으며 존재한다.
- ⑤ 새로운 특성이 추가되거나 기존의 특성이 소멸되기도 한다.

8. 밑줄 친 ㉠~㉣에 대한 설명으로 옳은 것은?

갑은 아빠인 을이 ㉠☆☆기업에 다니고 있는 것을 자랑스럽게 여긴다. 이 기업은 매년 팀별 성과급을 지급하는데, 팀내 구성원에게 ㉡성과급을 차등적으로 지급한다. △△팀 내에서 ㉢최고령 사원인 을은 최근 팀장 진급이 확정되어 애사심이 더 커졌다. 현재 을은 같은 팀 ㉣직장 동료인 병과 함께 ㉤팀장 연수를 받고 있다.

- ① ㉠은 갑의 준거 집단이다.
- ② ㉠은 을의 내집단이면서 공식적 사회화 기관이다.
- ③ ㉡으로 인해 을과 병은 역할 갈등을 경험한다.
- ④ ㉢은 귀속 지위, ㉣은 성취 지위이다.
- ⑤ ㉤은 을의 재사회화이면서 예기 사회화이다.

9. 다음 자료에 제시된 (가), (나)문화에 대한 설명으로 옳지 않은 것은? [3점]



- ① 사회가 다원화되고 복잡해질수록 (나)문화는 다양해진다.
- ② (나)문화는 한 사회에서 문화 갈등의 원인이 되기도 한다.
- ③ 사회 변화에 따라 (나)문화는 (가)문화가 되기도 한다.
- ④ 한 사회 내에 있는 모든 (나)문화의 총합이 (가)문화이다.
- ⑤ (나)문화는 (가)문화와 다른 독특한 가치와 규범을 갖기도 한다.

10. 다음 자료에 대한 옳은 분석을 <보기>에서 고른 것은? [3점]

갑국과 을국의 가족 유형을 조사한 결과는 다음과 같다. 단, 갑국의 가구 수는 을국의 두 배이다. (단위: %)

구분	친족 가구			1인 가구	기타 가구
	부부	2세대	3세대 이상		
갑국	8.0	69.0 (9.0)	12.0	9.5	1.5
을국	16.0	49.0 (14.0)	7.0	25.0	3.0

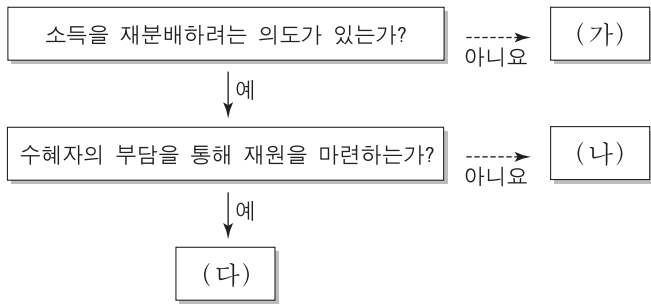
* ()는 전체 가구 대비 기혼 자녀와 함께 사는 2세대 가구의 비율임.
 ** 기타 가구는 조손 가구 및 기타 친족 가구, 비친족 가구 등을 포함함.

— <보기> —

ㄱ. 부부 가구 수와 기타 가구 수의 합은 을국이 갑국의 두 배이다.
 ㄴ. 갑국의 부부 가구 인구는 을국의 1인 가구 인구보다 더 많다.
 ㄷ. 갑국은 을국에 비해 친족 가구 중에서 확대 가족이 차지하는 비중이 크다.
 ㄹ. 갑국과 을국 모두 핵가족은 전체 가구의 과반수이다.

- ① ㄱ, ㄴ ② ㄱ, ㄷ ③ ㄴ, ㄷ ④ ㄴ, ㄹ ⑤ ㄷ, ㄹ

11. (가)~(다)는 우리나라 사회 보장 제도의 세 가지 유형을 분류한 것이다. 이에 대한 설명으로 옳은 것은? [3점]



- ① (가)와 (다)의 대상자는 서로 배타적이다.
- ② (나)는 (가)에 비해 상호 부조의 성격이 강하다.
- ③ (나)는 (다)와 달리 의무 가입이 원칙이다.
- ④ (다)는 (나)와 달리 대상자를 선별하여 시행한다.
- ⑤ (다)는 (나)에 비해 사전 예방적인 성격이 강하다.

12. (가)~(다)는 사회 변동에 대한 이론이다. 이에 대한 설명으로 옳지 않은 것은?

(가) 사회는 그 자체로 발전하며, 인간의 의도에 의해서 발전하는 것은 아니다. 사회의 발전은 그 자체의 본성이며 독자적인 과정이다.

(나) 사회는 강력한 힘으로 통치하는 엘리트 집단과 영리한 피로 통치하는 엘리트 집단이 번갈아 가면서 집권과 몰락을 반복하며 변화한다.

(다) 사회 발전은 국제적 힘의 관계 및 세계 체제와 연관된다. 개발도상국 저발전의 원인은 국내적인 것보다는 선진국과의 관계에서 기인한다.

- ① (가)는 후진적인 사회가 선진적인 사회로 발전한다고 본다.
- ② (나)는 사회가 일정한 양상을 반복하면서 변동하는 것에 주목한다.
- ③ (다)는 주변부 간의 강한 연계성으로 인한 제3세계의 저발전을 강조한다.
- ④ (가)는 (나)와 달리 일정한 방향으로 사회가 변동한다고 본다.
- ⑤ (나)는 (다)와 달리 운명론적인 관점에서 사회 변동을 설명한다.

13. 밑줄 친 ㉠~㉣에 대한 설명으로 가장 적절한 것은? [3점]

사회적 소수자가 발생하는 과정은 세 단계로 이루어진다. 첫 번째는 ㉠ “우리와 그들은 다르다.”라고 인식하는 것이다. 이때 서로 다르다고 인식되는 주요 대상은 성별, 피부색, 문화 등이다. 두 번째는 ㉡ “우리는 정상이고, 그들은 비정상이다.”라고 판단하는 것이다. 이 단계에서 ‘우리’는 ‘그들’에 대하여 배타적인 태도를 갖게 된다. 마지막은 ㉢ “우리는 그들보다 더 많은 사회적 가치를 차지할 권리가 있다.”라고 주장하는 것이다. 이 단계에서 ‘우리’는 법과 제도를 통해 ‘그들’을 사회적 가치의 배분에서 배제한다.

- ① ㉠의 기준은 후천적인 요소가 아니라 선천적인 것이다.
- ② 극단적 문화 상대주의는 ㉡에서 나타난다.
- ③ ㉡에서는 구성원 수의 크기가 핵심적인 기준이 된다.
- ④ ㉢보다 ㉡으로 인해 역차별의 문제가 발생한다.
- ⑤ ㉡의 대상과 ㉢에서의 사회적 가치는 사회마다 상이하다.

14. 다음 글에서 강조하는 문화 이해의 관점에 부합하는 진술로 가장 적절한 것은?

내가 속한 사회의 관습과 뉴기니 부족의 관습은 서로 다르지만 결국 동일한 문제를 처리하는 사회적 틀이다. 그러므로 인류학자라면 한 틀을 지지하고 다른 틀을 비판하는 일은 피해야 한다. 각각의 사회에서 나타나는 상이한 관습은 그 사회의 문화적 전통 속에서 이해해야 한다.

- ① 문화를 부분이 아닌 전체로 파악해야 한다.
- ② 자문화의 장단점을 객관적으로 파악해야 한다.
- ③ 사회의 특수한 환경과 역사 속에서 문화를 파악해야 한다.
- ④ 여러 문화를 비교하면서 공유되는 보편성을 파악해야 한다.
- ⑤ 특정한 기준을 바탕으로 다른 사회의 문화를 파악해야 한다.

15. 다음 자료에 제시된 A, B집단에 대한 설명으로 옳지 않은 것은? [3점]

<A집단 회칙>

- 제1조 본 단체는 우리 사회의 경제 정의와 사회 정의를 실현하기 위한 평화적 시민 운동을 전개함을 목적으로 한다.
- 제2조 본 단체의 목적에 동의하여 본 단체의 사업에 참여하려는 자는 자신의 의사에 따라 본 단체의 회원이 된다.
- 제3조 본 단체는 총회, 중앙위원회, 상임집행위원회로 구성된다.

<B집단 회칙>

- 제1조 본 회의 명칭은 ○○기업의 ‘구에미(야구에 미친 사람들) 동호회’라 칭한다.
- 제2조 ○○기업에 근무하면서 야구를 좋아하는 사람들 중 본 회의 참여를 희망하는 자는 본 회의 회원이 된다.
- 제3조 본 회의 회원은 매월 정해진 회비를 납부해야 하며, 3개월 이상 미납 시에는 탈퇴하는 것으로 간주한다.

- ① A집단은 과업 중심의 공식 조직이다.
- ② B집단은 구성원의 관심사에 바탕을 둔 비공식 조직이다.
- ③ A집단은 B집단과 달리 이익 사회에 해당한다.
- ④ A집단은 공익을, B집단은 사익을 추구한다.
- ⑤ A, B집단 모두 가입과 탈퇴가 자유롭다.

16. 다음 글에서 파악할 수 있는 개인과 사회의 관계를 바라보는 관점에 부합하는 진술을 <보기>에서 고른 것은?

아픈 것은 육체적인 고통이 따르는 것으로, 개인적인 현상인 것처럼 보인다. 그렇지만 아플 때 그것을 이해하는 방식은 사회적으로 정해진 것을 따르며 육체적 고통의 성질과는 무관하다. 예를 들어, 바이러스 감염 증상을 ‘질병’, 운동하다가 타박상을 입은 것을 ‘다쳤다’라고 표현하는 것은 임의로 정하는 것이 아니다.

— <보기> —

ㄱ. 사회 규범은 개인들이 옳다고 믿기에 존재한다.
 ㄴ. 사회 전체를 위해 개인의 희생은 정당화될 수 있다.
 ㄷ. 사회 현상은 개인의 자율적인 의지에 의해 형성된다.
 ㄹ. 사회 구조는 개인이 활동할 수 있는 한계를 설정한다.

- ① ㄱ, ㄴ ② ㄱ, ㄷ ③ ㄴ, ㄷ ④ ㄴ, ㄹ ⑤ ㄷ, ㄹ

17. 다음 자료에 제시된 수행 평가의 활동을 적절하게 수행한 모둠을 고른 것은? [3점]

<수행 평가>
모둠별로 주어진 사회 문제에 관한 연구 가설을 검증하기에 적합한 자료 수집 활동을 제시하시오.

구분	연구 가설	자료 수집 활동
모둠 1	노인 인구 비율이 높은 지역일수록 가구당 의료비 부담이 클 것이다.	지역별 노인 인구 비율 및 의료비 총지출액에 대한 통계 자료 조사
모둠 2	청·장년층 인구가 적은 지역일수록 절대 빈곤층 인구의 비율이 높을 것이다.	지역별 및 연령별 국민 기초 생활 보장 수급자의 분포에 대한 통계 자료 조사
모둠 3	정규직과 비정규직 노동자 간 임금 격차가 클수록 비정규직 노동자의 직장 만족도가 낮을 것이다.	정규직·비정규직 노동자 대상 임금 수준 및 직장 만족도에 대한 질문지 조사
모둠 4	양육비 부담을 크게 느낄수록 자녀 출산을 기피할 것이다.	가구별 양육비 부담에 대한 인식 및 희망 자녀 수에 대한 질문지 조사

- ① 모둠 1, 모둠 2 ② 모둠 1, 모둠 3 ③ 모둠 2, 모둠 3
 ④ 모둠 2, 모둠 4 ⑤ 모둠 3, 모둠 4

18. 사회 계층화 현상을 설명하는 A, B이론에 대한 옳은 진술만을 <보기>에서 있는 대로 고른 것은?

A이론은 생산 관계에 초점을 맞춘 B이론의 경제 결정론적 시각을 비판한다. A이론은 경제적 요소 외에 신앙, 윤리, 가치관 등 관념적인 요소가 인간의 행위와 사회의 구성, 그리고 역사에 큰 영향을 미치는 것으로 본다. 그래서 B이론과 달리 A이론은 경제적 차원인 계급, 사회적 차원인 신분, 권력적 차원인 파당의 세 가지 차원을 같이 고려하여 사회 불평등을 설명한다.

— <보기> —

- ㄱ. A이론은 B이론에 비해 지위 불일치를 설명하기 용이하다.
- ㄴ. A이론은 B이론에 비해 이분화된 계급 구조를 설명하기 용이하다.
- ㄷ. B이론은 A이론과 달리 사회 불평등을 보편적인 현상이라고 본다.
- ㄹ. B이론은 A이론과 달리 사회·정치적 불평등은 경제적 불평등에 종속되는 것으로 본다.

- ① ㄱ, ㄴ ② ㄱ, ㄹ ③ ㄴ, ㄷ
 ④ ㄱ, ㄷ, ㄹ ⑤ ㄴ, ㄷ, ㄹ

19. 다음 글에 나타난 교육의 기능에 대한 관점에 부합하는 진술로 가장 적절한 것은?

교육은 개인의 이익 추구를 위한 것이라기보다는 사회 자체의 존재를 유지하기 위한 것이다. 이를 위해 집단 생활에 필요한 사회 규범을 사회 구성원들에게 학습시킴으로써 그들의 동질성을 강화하여 사회를 존속시키고자 한다.

- ① 교사가 사용하는 언어는 중·상류층 학생에게 유리하게 작용한다.
- ② 학생에 대한 교사의 긍정적인 기대와 칭찬이 학업 성취에 영향을 준다.
- ③ 학교는 사회적 희소 가치의 배분 및 고착화에 정당성을 부여하는 기관이다.
- ④ 학교는 그 사회가 공유하는 지배적 가치를 다음 세대로 전승하는 데 기여한다.
- ⑤ 교사와 학생 간의 교육 활동은 서로에게 도움이 되는 호혜성에 기초해 이루어진다.

20. (가), (나)에 대한 옳은 분석만을 <보기>에서 있는 대로 고른 것은? [3점]

(가) <각국의 세대 간 이동 현황>

(나) <자녀 세대의 계층 간 상대적 비율>

(단위: %)

부모 세대 계층	국가 이동 결과		A국			B국		
	일치	하강	상승	일치	하강	상승		
상층	8	2	0	20	10	0		
중층	14	6	10	0	5	5		
하층	34	0	26	20	0	40		

구분	국가	A국	B국
중층 대비 하층	상층	1/1	1/2
	중층 대비 상층	1/2	1/2

— <보기> —

- ㄱ. 자녀 세대에서 중층의 비율은 A국과 B국이 동일하다.
- ㄴ. 부모 세대에서는 B국이 A국에 비해 양극화된 계층 구조를 보인다.
- ㄷ. 자녀 세대의 계층 대비 부모와 계층이 일치하는 비율은 A국은 상층, B국은 중층이 가장 낮다.
- ㄹ. A국의 상층은 하층으로 세대 간 이동을 하지 않았으며, B국의 하층은 중층으로만 세대 간 이동을 하였다.

- ① ㄱ, ㄴ ② ㄱ, ㄷ ③ ㄴ, ㄹ
 ④ ㄱ, ㄷ, ㄹ ⑤ ㄴ, ㄷ, ㄹ

* 확인 사항

○ 답안지의 해당란에 필요한 내용을 정확히 기입(표기)했는지 확인하시오.

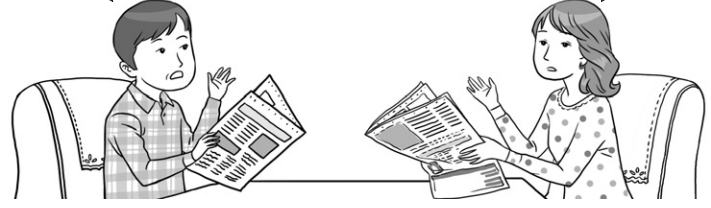
제 4 교시

사회탐구 영역(사회·문화)

성명	수험 번호
----	-------

1. 밑줄 친 ㉠~㉣과 같은 현상의 일반적 특징에 대한 옳은 설명을 <보기>에서 고른 것은?

폭염과 가뭄으로 ㉠더위에 강한 일본 뇌염 모기가 증가하고 있다고 하는군.
 ㉡태풍으로 물웅덩이가 증가하면 일반 모기 개체 수도 늘어날 거야. 보건 당국의 ㉢방역 관리가 필요하겠네.



— < 보 기 > —

ㄱ. ㉠과 같은 현상은 ㉡과 같은 현상과 달리 특수성의 원리가 적용된다.
 ㄴ. ㉠과 같은 현상이 원인이 되어 ㉣과 같은 현상이 나타날 수 있다.
 ㄷ. ㉡과 같은 현상은 ㉢과 같은 현상과 달리 개연성과 확률의 원리가 적용된다.
 ㄹ. ㉡과 같은 현상은 존재 법칙, ㉢과 같은 현상은 당위 법칙이 적용된다.

- ① ㄱ, ㄴ ② ㄱ, ㄷ ③ ㄴ, ㄷ ④ ㄴ, ㄹ ⑤ ㄷ, ㄹ

2. 가족을 보는 서로 다른 관점 (가), (나)에 대한 진술로 가장 적절한 것은? [3점]

(가) 사람들이 다른 혈족에서 배우자를 구하는 이유는 무엇일까? 다른 혈족과의 결혼이 우호적인 집단을 넓히고 적대적인 집안과도 동맹을 맺어 가족이 생존하는 데 유리하다고 판단했기 때문이다. 그러므로 근친 간 결혼은 외부와의 결혼에 비해 비합리적인 선택이 된다.
 (나) 산업 사회에서 핵가족이 늘어난 원인은 무엇일까? 산업화에 따라 산업 현장에서 대규모의 노동력이 요구되면서 사람들이 일자리를 찾아 각자의 직장 근처로 이주하게 되었기 때문이다. 그러므로 핵가족은 산업 사회의 중요한 하부 체계이다.

- ① (가) 관점은 가족 구성원 간의 상호 의존을 통한 가족 역할의 재구성을 강조한다.
 ② (나) 관점은 다른 사회 집단과 마찬가지로 가족 또한 구성원 간 권력 관계의 장임을 강조한다.
 ③ (가) 관점은 (나) 관점에 비해 가족 관계에서 얻을 수 있는 보상이 지불해야 하는 비용보다 클 때 가족이 유지됨을 강조한다.
 ④ (나) 관점은 (가) 관점에 비해 가족 구성원 간의 상호 작용을 통해 가족의 생활 경험에 의미를 부여함을 강조한다.
 ⑤ (가) 관점은 가족이 사회 유지에 기여하는 측면, (나) 관점은 가족이 사회 변동에 영향을 주는 측면을 강조한다.

[3~4] 다음 글을 읽고 물음에 답하시오.

(가) 구성원에게 물질적 성공이라는 가치를 고무시키는 사회에서 모두가 이러한 성공에 도달할 수 있는 합법적 수단을 갖는 것은 아니다. 그래서 제도적 수단이 제한적인 하층에서 범죄를 저지를 가능성이 높다. 이를 검증하기 위해서는 계층을 개념화하고 범죄를 유형화하여 이들 간의 상관 관계를 분석하는 ㉠ 연구 방법을 사용해야 한다.
 (나) 범죄도 학습의 산물이다. 친구나 가족으로부터 범죄 태도와 행동을 배운다. 특히 약물 범죄의 경우 약물에 대한 우호적 태도와 사용 기술이 요구되므로 경험자와의 연줄이 중요하다. 이를 파악하기 위해서는 심층 면접을 통해 약물 사용에 동조하고 함께하는 친구와의 연결망을 형성하는 과정을 이해할 수 있는 ㉡ 연구 방법을 사용해야 한다.

3. (가), (나)에 나타난 일탈 이론에 대한 설명으로 가장 적절한 것은?

- ① (가) 이론은 경제 구조의 특성과 그로 인한 계급 간 갈등을 일탈의 원인으로 본다.
 ② (가) 이론은 문화적 목표에 도달할 기회의 제공을 해결 방안으로 중시한다.
 ③ (나) 이론은 무규범 상태를 일탈의 원인으로 본다.
 ④ (나) 이론은 일탈에 대한 규정을 신중하게 하는 것을 해결 방안으로 중시한다.
 ⑤ (가), (나) 이론 모두 일탈을 규정하는 객관적 기준이 존재하지 않는 것으로 본다.

4. 밑줄 친 ㉠, ㉡과 같은 연구 방법의 일반적 특징에 대한 설명으로 옳지 않은 것은? [3점]

- ① ㉠과 같은 방법은 경험적 자료를 통해 연구 대상자의 가치나 태도를 객관적으로 파악하고자 한다.
 ② ㉡과 같은 방법은 직관적 통찰을 통해 주로 인간 행위의 이면보다 행위 자체를 분석하고자 한다.
 ③ ㉠과 같은 방법은 ㉡과 같은 방법에 비해 연구 결과를 일반화할 수 있어 현상에 대한 예측력이 높다.
 ④ ㉡과 같은 방법은 ㉠과 같은 방법에 비해 연구자와 연구 대상자 간의 정서적 교감을 중시한다.
 ⑤ ㉠과 같은 방법은 방법론적 일원론, ㉡과 같은 방법은 방법론적 이원론에 기초하고 있다.

5. 밑줄 친 '이 문화'에 대한 설명으로 옳지 않은 것은?

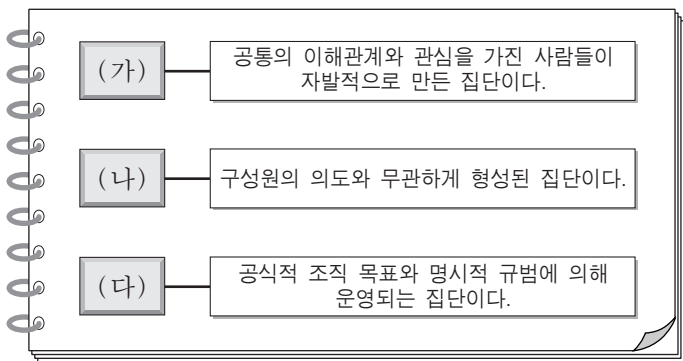
이 문화의 대표적인 사례로 1960년대 미국을 중심으로 등장한 후 여러 나라로 퍼져 나간 청년 문화를 들 수 있다. 이 청년 문화는 기존 사회 제도에 동조하지 않고, 도덕이나 이성보다는 자연스럽게 자유로운 감성과 즐거움을 추구했다. 이 청년 문화를 추구하는 이들은 긴 머리에 맨발로 다니거나 샌들을 신고, 여러 색깔의 천으로 옷을 만들어 입었다. 또한 베트남 전쟁 참전을 위한 징집을 거부했다.

- ① 사회 변화를 견인하는 역할을 하기도 한다.
 - ② 지배 집단에 의해 일탈 문화로 규정되기도 한다.
 - ③ 전체 문화에 다양성과 역동성을 제공하기도 한다.
 - ④ 해당 집단 구성원의 욕구 해결에 기여하기도 한다.
 - ⑤ 전체 사회 구성원의 문화 공유성을 높이기도 한다.
6. (가), (나)에 나타난 문화 이해의 태도에 대한 설명으로 옳지 않은 것은?

(가) 예전에 많은 한국인들은 품질과 상관없이 국산 가전 제품을 하찮게 여기고 수입 가전제품을 동경하였다. 요즘도 의류나 화장품을 선택할 때 한국 제품보다 외국 제품을 동경하는 경향이 있다.

(나) 16세기에 아메리카 대륙으로 이주한 유럽인들은 원주민들을, 서구의 사상을 바탕으로 한 교양을 갖추지 않았다는 이유로 이성을 지닌 인간이 아닌 야수라고 보았다.

- ① (가) 태도는 문화적 주체성을 상실할 가능성이 높다.
 - ② (가) 태도는 타문화의 장점을 객관적으로 인식하는 데 기여한다.
 - ③ (나) 태도는 문화 제국주의로 변질될 가능성이 높다.
 - ④ (나) 태도는 집단 구성원의 결속력을 강화하는 데 일조한다.
 - ⑤ (가), (나) 태도 모두 문화 간 우열이 있음을 전제한다.
7. (가)~(다)에 해당하는 사회 집단 유형에 대한 옳은 설명을 <보기>에서 고른 것은? [3점]



<보기>

ㄱ. 시민 단체는 (가), (다) 모두에 해당한다.
 ㄴ. (다) 안에 존재하는 (가)는 모두 비공식 조직이다.
 ㄷ. (나)는 (다)에 비해 비공식적이고 전인격적인 인간관계가 주로 나타난다.
 ㄹ. (가), (나) 모두 구성원의 가입과 탈퇴가 자유롭다.

- ① ㄱ, ㄴ ② ㄱ, ㄷ ③ ㄴ, ㄷ ④ ㄴ, ㄹ ⑤ ㄷ, ㄹ

8. 사회 조직 유형 (가), (나)의 일반적 특징을 다음과 같이 비교할 때, A와 B에 들어갈 적절한 질문만을 <보기>에서 있는 대로 고른 것은? (단, (가)와 (나)는 각각 관료제와 탈관료제 중 하나이다.) [3점]

질문	사회 조직 유형	
	(가)	(나)
경력보다 업무 성과를 고려한 차등적 보상을 중시하는가?	아니요	예
A	예	아니요
B	아니요	예

<보기>

ㄱ. 효율적인 과업 수행을 지향하는가?
 ㄴ. 의사 결정 권한의 집중보다 분산을 지향하는가?
 ㄷ. 조직의 운영에서 유연성보다 안정성을 중시하는가?
 ㄹ. 규약에 따른 과업 수행보다 창의적 과업 수행을 중시하는가?

- | | | | | | |
|---|----------|----------|---|----------|----------|
| | <u>A</u> | <u>B</u> | | <u>A</u> | <u>B</u> |
| ① | ㄱ | ㄴ, ㄹ | ② | ㄱ, ㄷ | ㄴ, ㄹ |
| ③ | ㄴ, ㄹ | ㄱ, ㄷ | ④ | ㄷ | ㄴ, ㄹ |
| ⑤ | ㄷ | ㄱ, ㄴ, ㄹ | | | |

9. 밑줄 친 ㉠~㉣에 대한 설명으로 가장 적절한 것은?

㉠ 화가가 되기를 원했던 갑은 교사가 되기를 바라는 부모의 뜻을 거역하고 싶지 않아 ㉡ 마음이 복잡했다. 그러나 ㉢ 담임교사가 부모를 설득하여 ㉣ 미술 대학 진학을 허락받았다. 그는 서양화과에 지원하려고 했지만 부모는 동양화과를 권유했다. 갑은 부모가 미술 대학 진학을 허락했기 때문에 일단은 ㉤ 동양화과를 가지 않으면 안 된다고 생각했다. 지금 그는 ㉥ 동양화의 대가로 인정받고 있다.

- ① ㉠은 갑의 준거 집단이자 갑의 부모의 준거 집단이다.
- ② ㉡은 역할 갈등이 아니지만, ㉣은 역할 갈등이다.
- ③ ㉢은 ㉠과 달리 후천적 노력에 의해 획득된 지위이다.
- ④ ㉣은 공식적 사회화 기관이면서 1차적 사회화 기관이다.
- ⑤ ㉥은 ㉠으로서 갑의 역할 수행에 대한 보상이다.

10. (가), (나)에서 강조하고 있는 사회·문화 현상의 탐구 태도에 대한 설명으로 가장 적절한 것은?

(가) 연구자는 사회·문화 현상 연구에서 얻은 결과를 확정하려고 고집하기보다는 잠정적 결론으로 보고 다른 연구자의 의견을 고려함으로써 좀 더 타당한 주장이나 결론으로 대체할 수 있음을 인정해야 한다.

(나) 동일한 사회·문화 현상이라도 시대와 사회에 따라 그 현상이 가지는 의미가 달라질 수 있으므로 연구자는 사회·문화 현상 연구에서 역사적 전통과 사회적 맥락을 충분히 고려해야 한다.

- ① (가)는 현상을 사실 그 자체에 초점을 두어 파악하는 태도이다.
- ② (나)는 타인의 비판을 편견 없이 받아들이는 태도이다.
- ③ (가)는 (나)와 달리 현상에 대한 깊이 있는 성찰을 중시한다.
- ④ (나)는 (가)와 달리 현상이 지닌 고유한 가치에 대한 인정을 중시한다.
- ⑤ (가)는 연구 대상자의 관점, (나)는 제3자의 관점을 중시한다.

11. 다음에 나타난 사회 계층화 현상을 바라보는 관점에 부합하는 진술을 <보기>에서 고른 것은? [3점]

인체를 구성하는 모든 부분들은 인간의 생명 유지를 위해 필요하다. 그런데 심장과 머리카락의 역할이 동일하게 중요한 것은 아니다. 심장이 튼튼한 갈비뼈로 둘러싸여 있는 것은 그것이 인체의 생명 활동과 관련하여 머리카락보다 중요한 역할을 하기 때문이다. 이와 같은 논리로 직업 간에 발생하는 보수의 차이도 그 직업이 갖는 사회적 중요도의 차이로 설명할 수 있다.

—<보기>—
ㄱ. 균등 분배는 사회 구성원의 성취 동기를 저해한다.
ㄴ. 균등 분배는 기존 질서의 유지와 안정에 기여한다.
ㄷ. 균등 분배는 인재의 적재적소 배치에 어려움을 야기한다.
ㄹ. 균등 분배는 사회적 희소 가치를 공정하게 배분하는 기제이다.

- ① ㄱ, ㄴ ② ㄱ, ㄷ ③ ㄴ, ㄷ ④ ㄴ, ㄹ ⑤ ㄷ, ㄹ

12. 밑줄 친 ㉠~㉣에 대한 옳은 설명만을 <보기>에서 있는 대로 고른 것은? [3점]

연구자 갑은 ㉠초등학교 1학년 96명을 선정하여 ㉡성별, 언어 능력 등에서 차이가 나지 않도록 조정하여 4개 집단을 구성하였다. 이를 통해 아동의 ㉢문장 독해력이 ㉣교수법에 따라 차이가 나는지, 특히 상징적 교수법이 더 효과적인지를 파악하고자 하였다. ㉤4개 집단은 각각 상징적, 음성적, 표출적, 해석적 교수법에 따라 동일 기간 학습하였다. 문장 이해 능력 검사를 실시한 결과 상징적 교수법으로 배운 집단이 다른 교수법으로 배운 집단에 비해 ㉥점수가 더 높았다.

—<보기>—
ㄱ. ㉠은 모집단, ㉡은 표본이다.
ㄴ. ㉢은 독립 변수 외의 다른 변수를 통제하기 위한 작업이다.
ㄷ. ㉣은 독립 변수, ㉤은 종속 변수이다.
ㄹ. ㉥은 ㉣을 조작적으로 정의하여 얻은 1차 자료이다.

- ① ㄱ, ㄴ ② ㄱ, ㄷ ③ ㄴ, ㄹ
④ ㄱ, ㄷ, ㄹ ⑤ ㄴ, ㄷ, ㄹ

13. 다음 글을 통해 추론할 수 있는 내용으로 가장 적절한 것은?

A 종교가 국교(國敎)인 사회에서 B 종교 신자는 사회적 소수자가 될 수 있다. 반대로 A 종교 신자는 B 종교가 지배적인 사회에 가면 사회적 소수자가 될 수 있다.

- ① 사회적 소수자는 사회에 의해 규정된다.
② 사회적 소수자는 역차별에 의한 결과이다.
③ 한 사회 안에서 지배 집단이 사회적 소수자가 되기도 한다.
④ 사회적 소수자는 권력 관계보다는 집단의 크기에 의해 결정된다.
⑤ 사회적 소수자의 집단 내에서도 또 다른 사회적 소수자가 존재한다.

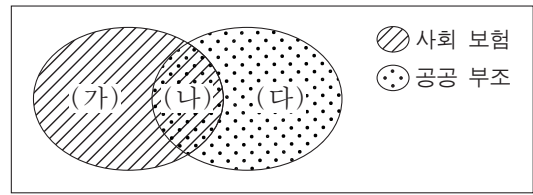
14. 밑줄 친 ㉠~㉣에 대한 옳은 설명만을 <보기>에서 있는 대로 고른 것은?

정보 사회에서는 ㉠뉴미디어가 ㉡전통적인 대중 매체를 대체할 것이라고 기대되었다. 그러나 예전에 비해 줄었지만 전통적인 대중 매체의 영향력은 여전히 크다. 전문가들은 그 이유 중 하나로 ㉢대중의 특성을 거론한다. 전통적인 대중 매체는 수용자가 가만히 있어도 정보를 제공하는데, 뉴미디어는 수용자 스스로 찾아 나서지 않으면 정보 획득이 어렵다. 그래서 대중은 여전히 전통적인 대중 매체에 매력을 느낀다.

—<보기>—
ㄱ. ㉠에는 스마트폰과 소셜 네트워크 서비스(SNS), ㉡에는 신문과 라디오가 해당된다.
ㄴ. ㉠은 ㉡에 비해 정보 전달자와 수용자 간에 상호 작용성이 뛰어나다.
ㄷ. ㉢에서는 ㉠과 달리 수용자별 정보 획득의 비동시성이 나타난다.
ㄹ. 정보 수집에서의 수동적인 성향은 ㉢에 해당한다.

- ① ㄱ, ㄴ ② ㄱ, ㄷ ③ ㄷ, ㄹ
④ ㄱ, ㄴ, ㄹ ⑤ ㄴ, ㄷ, ㄹ

15. 그림은 사회 보험과 공공 부조가 갖는 특징의 공통점과 차이점을 도식화한 것이다. (가)~(다)에 해당되는 내용으로 옳은 것은?



- ① (가) - 수혜자의 수혜 정도에 따라 보험료가 산출된다.
② (가) - 빈곤층의 최저 생활 보장을 목적으로 한다.
③ (나) - 소득 재분배 효과가 나타난다.
④ (다) - 사전 예방적 성격을 갖는다.
⑤ (다) - 상호 부조의 성격을 갖는다.

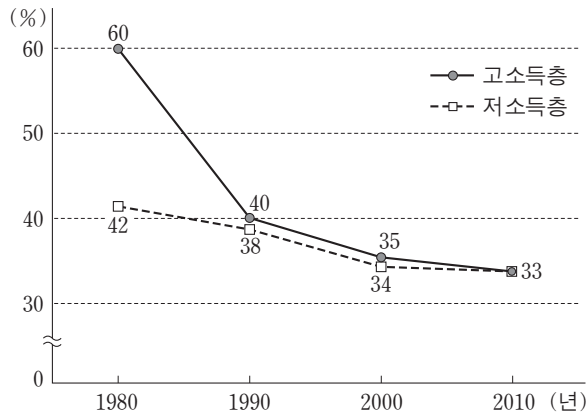
16. 다음은 근대화를 설명하는 한 주장이다. 이에 대한 옳은 진술만을 <보기>에서 있는 대로 고른 것은? [3점]

근대화라는 것은 기술 발전, 공업화, 민주주의, 개인주의의 확산을 가리킨다. 서구 사회가 이를 먼저 이루어냈으므로 근대화와 서구화가 동일시되는 것은 당연하다. 따라서 우리나라의 근대화를 위해서는 서구 사회의 경제 발전 모델뿐만 아니라 서구 사회의 제도와 사고 방식도 배워야 한다.

—<보기>—
ㄱ. 서구화를 진보적인 사회 변동으로 본다.
ㄴ. 근대화를 위한 내부의 자생력 강화를 강조한다.
ㄷ. 서구 강대국의 식민 정책을 정당화하는 근거로 활용될 수 있다.
ㄹ. 전통적 가치와 서구적 가치의 조화를 추구하는 근대화를 강조한다.

- ① ㄱ, ㄴ ② ㄱ, ㄷ ③ ㄴ, ㄹ
④ ㄱ, ㄷ, ㄹ ⑤ ㄴ, ㄷ, ㄹ

17. 그림은 갑국의 고소득층과 저소득층의 남녀 간 평균 임금 격차 추이를 나타낸 것이다. 이에 대한 분석으로 옳은 것은? (단, 고소득층과 저소득층 모두에서 남성 평균 임금은 지속적으로 상승하였다.) [3점]



* 남녀 간 평균 임금 격차(%) = (남성 평균 임금 - 여성 평균 임금) ÷ 남성 평균 임금 × 100

- ① 1980년에 고소득층에서 여성 평균 임금은 전체 평균 임금의 40%이다.
- ② 1990년에 저소득층 여성 평균 임금은 10년 전과 비교하여 4% 증가하였다.
- ③ 1990년 대비 2000년에 고소득층에서 남성 평균 임금의 상승률이 여성 평균 임금의 상승률보다 크다.
- ④ 2010년에 고소득층과 저소득층의 남녀 간 평균 임금의 차이는 같다.
- ⑤ 1980년, 2010년 모두 저소득층에서 여성 평균 임금은 남성 평균 임금의 50%를 넘는다.

18. (가)~(마)에 대한 학생들의 발표 내용으로 옳지 않은 것은? [3점]

○ 과제: 모둠별로 주어진 각각의 다른 '문화의 속성'을 설명하는 데 적합한 주제를 조사하십시오.

○ 모둠별로 제출한 조사 주제

모둠	문화의 속성	조사 주제
1	(가)	조선 시대의 음식에 영향을 준 당시의 유교 문화와 농경 문화
2	(나)	우리나라 청소년 특유의 언어에 대한 청소년과 성인 간 이해 양상의 차이
3	(다)	우리나라의 민간 신앙이 복잡해지고 풍부해진 과정
4	변동성	(라)
5	학습성	(마)

○ 교사의 평가: 모든 모둠이 해당 문화의 속성을 설명하는 데 적합한 조사 주제를 선정했음.

- ① 갑: (가)는 문화 요소들의 연쇄적인 변동을 설명하기에 용이해요.
- ② 을: (나)로 인해 사회 구성원 간의 행동을 이해하고 예측할 수 있어요.
- ③ 병: (다)는 인류 문명의 발달을 가능하게 하는 바탕이 돼요.
- ④ 정: (라)에 들어갈 내용으로 '서로 다른 나라에서 자란 일란성 쌍둥이 형제의 사고 방식 차이 비교'가 적절해요.
- ⑤ 무: (마)에 들어갈 내용으로 '결혼 이주 여성의 거주 지역별 사투리 사용 실태'가 적절해요.

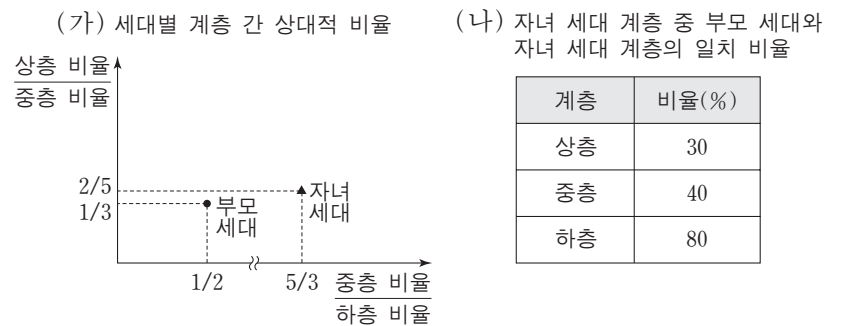
19. (가), (나)에 나타난 문화 변동에 대한 설명으로 가장 적절한 것은?

(가) 과거에 미국의 음악이 라디오나 음반을 통해 한국에 유입되어 인기를 끌게 되면 그 음악을 부른 가수의 팬클럽이 생기고 그 가수가 입은 의상이 유행하였다. 최근에는 한국의 대중 음악이 인터넷을 통해 '한류'라는 이름으로 세계 여러 곳에서 인기를 누리고 있다.

(나) 1990년대 이후 한국 사회에 결혼이나 노동을 위해 유입된 이주민이 증가하면서 그들의 다양한 문화가 확산되고 있다. 이에 따라 한국 사회에서 지배적이었던 단일 민족 사상을 대신해 다문화주의가 중요한 사회적 가치로 받아들여지고 있다.

- ① (가)에서는 직접 전파, (나)에서는 간접 전파가 나타난다.
- ② (가)와 달리 (나)에서는 자극 전파에 따른 문화 변동이 나타난다.
- ③ (나)와 달리 (가)에서는 구성원의 자발성에 기초한 문화 변동이 나타난다.
- ④ 세계화가 진행될수록 (가)보다 (나)에 나타난 문화 변동 요인의 영향력이 커진다.
- ⑤ (가), (나) 모두 외재적 요인에 의한 문화 접변에 해당한다.

20. (가), (나)는 갑국의 부모 세대와 자녀 세대 간 계층 이동을 나타낸 것이다. 이에 대한 옳은 분석만을 <보기>에서 있는 대로 고른 것은? (단, 계층은 상층, 중층, 하층으로만 구분한다.) [3점]



—<보기>—

- ㄱ. 세대 간 이동을 경험한 비율은 50%이다.
- ㄴ. 부모 세대의 계층 대비 계층 대물림 비율은 하층에서 가장 낮다.
- ㄷ. 부모 세대보다 자녀 세대의 계층 구조가 더 안정적이며 개방적이다.
- ㄹ. 세대 간 상승 이동을 한 사람보다 세대 간 하강 이동을 한 사람이 더 많다.

- ① ㄱ, ㄴ ② ㄱ, ㄷ ③ ㄷ, ㄹ
- ④ ㄱ, ㄴ, ㄹ ⑤ ㄴ, ㄷ, ㄹ


* 확인 사항
○ 답안지의 해당란에 필요한 내용을 정확히 기입(표기)했는지 확인하십시오.

제 4 교시

사회탐구 영역(사회·문화)

성명 수험 번호

1. 밑줄 친 ㉠~㉣과 같은 현상의 일반적 특징에 대한 옳은 설명을 <보기>에서 고른 것은?



— <보기> —

ㄱ. ㉠과 같은 현상은 특수성을 지닌다.
 ㄴ. ㉡과 같은 현상은 인간의 의지가 개입되어 나타난다.
 ㄷ. ㉢과 같은 현상은 ㉣과 같은 현상에 비해 인과 관계가 분명하다.
 ㄹ. ㉣과 같은 현상은 ㉢과 같은 현상과 달리 확실성의 원리를 따른다.

- ① ㄱ, ㄴ ② ㄱ, ㄷ ③ ㄴ, ㄷ ④ ㄴ, ㄹ ⑤ ㄷ, ㄹ

2. (가), (나)에 나타난 사회·문화 현상을 보는 서로 다른 관점에 대한 설명으로 가장 적절한 것은?

(가) 사랑하는 사람들이 빨간 장미 꽃다발을 주고받는 이유는 무엇일까요? 연인에게 빨간 장미는 단순히 꽃이 아니라 꽃말에 담겨 있는 열정적 사랑을 전하는 상징물이기 때문입니다.
 (나) 우리가 선물을 받았을 경우 상대방에게 답례를 하는 이유는 무엇일까요? 답례를 함으로써 선물을 한 사람이 일방적으로 손해를 본다는 마음을 갖지 않도록 해야만 그 관계가 지속될 수 있기 때문입니다.

- ① (가)에서는 개인과 개인 간의 관계가 비용과 보상을 고려한 합리적 선택을 통해 이루어진다고 본다.
 ② (나)에서는 개인과 개인 간의 관계가 의미와 해석을 공유하는 과정을 통해 형성된다고 본다.
 ③ (가)에서는 인간이 의미를 추구하는 존재임을, (나)에서는 인간이 이익을 추구하는 존재임을 가정한다.
 ④ (가)에서는 전략적 사고에 기반한 인간 관계에, (나)에서는 상황 정의를 매개로 한 인간 관계에 주목한다.
 ⑤ (가), (나) 모두에서는 인간의 자율성과 능동성을 간과한다.

3. 다음 사례에 대한 옳은 설명을 <보기>에서 고른 것은?

○ 교사라는 꿈을 실현한 갑은 학교에 처음 도입된 '스마트 교실'의 운영을 위해 퇴근 후 교육연수원에서 연수를 받고 있다. 그런데 부모님의 갑작스러운 입원으로 연수를 그만두어야 할지 고민 중이다.
 ○ 직장 생활에 만족하지 못하는 회사원 을은 요리사의 꿈을 실현하고자 매일 퇴근 후 요리 학원을 다니며 한식 조리사 자격증을 준비하고 있다. 하지만 아내가 반대하여 학원을 그만두어야 할지 고민 중이다.

— <보기> —

ㄱ. 갑은 공식적 사회화 기관에서 재사회화를 경험하고 있다.
 ㄴ. 을은 비공식적 사회화 기관에서 예기 사회화를 경험하고 있다.
 ㄷ. 을은 갑과 달리 소속 집단과 준거 집단이 일치하지 않는다.
 ㄹ. 갑, 을 모두 서로 다른 성취 지위 사이에서 역할 갈등을 경험하고 있다.

- ① ㄱ, ㄴ ② ㄱ, ㄷ ③ ㄴ, ㄷ ④ ㄴ, ㄹ ⑤ ㄷ, ㄹ

4. 밑줄 친 ㉠~㉣에 대한 옳은 설명을 <보기>에서 고른 것은? [3점]

① 연구 주제: 고등학생의 스포츠 활동과 행복 간의 관계 연구
 ② 연구 가설: ㉠ 스포츠 활동 참여도가 고등학생의 생활 만족도에 긍정적인 영향을 미칠 것이다.
 ③ 자료 수집
 • 조사 대상: ㉡ A 지역 남자 고등학생 1,000명
 • 조사 내용: ㉢ 학교 생활 만족도, 교우 관계 만족도, 주당 스포츠 활동 참여 시간
 • 자료 수집 방법: ㉣ 질문지법
 ④ 자료 분석 결과

주당 스포츠 활동 참여 시간	만족도 평균(5점 만점)	
	학교 생활	교우 관계
2시간 미만	3.4	3.2
2시간 이상 ~ 5시간 미만	4.1	4.1
5시간 이상	4.6	4.7

— <보기> —

ㄱ. ㉠은 독립 변수이다.
 ㄴ. ㉡은 모집단의 특성을 대표한다.
 ㄷ. ㉢은 독립 변수와 종속 변수에 대한 조작적 정의에 해당한다.
 ㄹ. ㉣에서는 연구 대상의 주관적 인식을 묻지 않아야 한다.

- ① ㄱ, ㄴ ② ㄱ, ㄷ ③ ㄴ, ㄷ ④ ㄴ, ㄹ ⑤ ㄷ, ㄹ

5. (가), (나)에 나타난 개인과 사회의 관계를 보는 관점에 대한 설명으로 가장 적절한 것은?

(가) 사회는 개인의 외부에 존재한다. 개인은 각자의 사회적 역할을 수행하면서 사회 유지와 발전에 기여한다.
 (나) 개인이 없으면 사회도 없다. 개인의 권리와 안전을 지키기 위해 개개인이 합의하여 만든 것이 사회이다.

- ① (가)에서는 사회가 개인의 총합 이상이라고 본다.
- ② (가)에서는 개인의 속성이 사회의 속성을 결정한다고 본다.
- ③ (나)에서는 사회가 발전하면 개인도 발전한다고 본다.
- ④ (나)에서는 개인이 사회에 의해 구조화된 행동을 한다고 본다.
- ⑤ 사회 문제 해결을 위해 (가)에서는 개인의 의식 개선, (나)에서는 사회 제도의 개혁을 강조한다.

6. 일탈 행동 이론 (가), (나)에 대한 설명으로 옳은 것은? [3점]

(가) 누구나 일탈 행동을 할 수는 있지만, 그들 모두가 일탈자가 되는 것은 아니다. 누군가의 일탈 행동이 알려지게 되어 사람들이 그를 일탈자로 대하면, 그 역시 스스로를 일탈자로 받아들이게 된다.
 (나) 일탈 행동도 사회화 과정을 거친다. 일탈 행동은 일탈자들과 빈번히 만나 의사소통하면서 학습된다. 단지 일탈 행동뿐만 아니라 그 행동을 정당화하는 가치와 태도까지 내면화하게 된다.

- ① (가)는 차별적 교제를 일탈 행동의 원인으로 강조한다.
- ② (가)는 일탈 행동 자체보다는 그에 대한 사회의 반응에 주목한다.
- ③ (나)는 무규범 상태를 일탈 행동의 원인으로 강조한다.
- ④ (나)는 일탈 행동을 규정하는 합의된 기준이 없다고 본다.
- ⑤ (가), (나) 모두 일탈 행동에 대한 대책으로 강력한 사회 통제를 강조한다.

7. 다음은 갑의 일기이다. 밑줄 친 ㉠~㉣에 대한 설명으로 옳은 것은? [3점]

○월 ○일

방학한 지 3일째, 온종일 바빴다. 오전에는 ㉠ ☆☆고등학교에서 운영하는 논술 특강을 들었고, 오후에는 ㉡ 교내 댄스 동아리 모임에서 공연 연습을 하였다. 저녁에는 청소년 인권 관련 ㉢ 시민 단체가 주최하는 인권 영화제에 ㉣ 가족과 함께 다녀왔다.
 나름 뿌듯한 하루~

- ① ㉠은 구성원들의 선택 의지에 따라 형성된 1차 집단이다.
- ② ㉡은 공동 사회이면서 자발적 결사체이다.
- ③ ㉢은 공익을 추구하는 이익 사회이다.
- ④ ㉠, ㉢ 모두 비공식 조직이면서 갑의 내집단이다.
- ⑤ ㉡, ㉣ 모두 친밀감을 바탕으로 형성된 2차 집단이다.

8. 밑줄 친 ㉠~㉣에 대한 설명으로 옳은 것은?

인도네시아 토라자 부족은 ㉠ 대부분의 사회와 마찬가지로 부모가 죽으면 고인을 떠나보내는 의식을 치른다. 그런데 이 부족의 ㉡ 장례 문화에는 독특한 점이 있다. ㉢ 장례식을 치를 때 물소를 잡는 고유한 풍습이 있다는 점이다. 부족 사람들에게 물소는 고인이 저세상으로 갈 때 타고 가는 교통수단이라는 의미인 동시에 저세상에서의 편안한 생활을 보장해주는 재산으로 여겨진다. 만약 ㉣ 죽은 자의 자녀들이 물소를 잡지 않으면 그들은 부족 사회에서 지탄의 대상이 된다. 한편 장례식에서 부족 사람들은 ㉤ 고인의 가족과 화해하는 의식을 가지는데, 이 의식은 부족 사회의 결속력을 높이는 데 중요한 역할을 한다.

- ① ㉠은 문화가 개별 사회마다 고유한 특수성을 지니고 있음을 보여 준다.
- ② ㉡에서의 '문화'는 청소년 문화에서의 '문화'와 달리 좁은 의미로 사용된 것이다.
- ③ ㉢은 문화 현상이 고정된 것이 아니라 지속적으로 변화함을 보여 준다.
- ④ ㉣은 문화란 한 사회의 구성원이 함께 향유하는 생활양식임을 보여 준다.
- ⑤ ㉤은 구성원의 욕구 충족을 위한 기술이나 도구에 해당하는 문화 요소이다.

9. 다음은 어느 모둠이 제출한 연구 계획서와 그에 대한 교사의 평가이다. 밑줄 친 ㉠에 해당하는 내용으로 적절한 것을 <보기>에서 고른 것은? [3점]

<연구 계획서>

◇◇모둠

이 연구에서는 결혼 이후 여성의 여가 생활 현황에 대해 알아보고자 한다. 이를 위해 다문화 지원 센터를 방문하여 결혼 이후 여성을 면접할 수 있는지를 소장에게 확인할 것이다. 그리고 그날 센터를 방문한 결혼 이후 여성 모두에게 연구 목적과 방법을 설명한 후, 그들 전부를 대상으로 별도의 공간에서 한 명씩 면접할 것이다. 면접 자료를 분석할 때는 연구의 타당성 확보를 위해 면접 내용 중 연구자가 기대한 것과 다른 내용이 있더라도 수정하지 않고 그대로 분석에 반영할 것이다. 연구 보고서를 제출할 때는 연구의 신뢰성 확보를 위해 연구 대상의 이름을 밝힐 것이다.

<교사의 평가>

연구 계획서를 성실하게 작성했네요. 그런데 이 계획서에는 연구 윤리 측면에서 몇 가지 ㉠ 문제점이 있어요. 실제 연구를 수행할 때는 이 점을 보완해 주세요.

—<보기>—

㉠. 연구 대상에게 연구 관련 정보를 사전에 제공하지 않는다.
 ㉡. 연구 대상에게 면접 참여에 대한 동의를 구하는지가 드러나지 않는다.
 ㉢. 자료를 분석할 때 연구자가 가치 중립적 태도를 지키지 않는다.
 ㉣. 연구 결과를 보고할 때 연구 대상의 익명성을 보장하지 않는다.

- ① ㉠, ㉡ ② ㉠, ㉢ ③ ㉡, ㉣ ④ ㉡, ㉣ ⑤ ㉢, ㉣

10. 다음 사례에 대한 옳은 설명을 <보기>에서 고른 것은? [3점]

- A국이 B국을 정복하여 문화 이식 정책을 시행한 결과, B국에서는 A국 언어가 널리 쓰이게 되면서 B국 언어를 더 이상 사용하지 않게 되었다.
- A국에 유학하여 A국 언어를 학습한 C국의 상류층 자녀들은 귀국 후에도 A국 언어를 사용하였다. 이후 A국 언어가 확산되면서 C국에서는 A국 언어도 널리 쓰이게 되었다.

— <보기> —

ㄱ. B국에서는 외재적 요인에 의한 문화 변동이 일어났다.
 ㄴ. C국에서는 강제적 문화 접변이 나타났다.
 ㄷ. B국에서는 문화 동화, C국에서는 문화 공존이 나타났다.
 ㄹ. B국에서는 직접 전파, C국에서는 간접 전파로 인한 문화 변동이 일어났다.

- ① ㄱ, ㄴ ② ㄱ, ㄷ ③ ㄴ, ㄷ ④ ㄴ, ㄹ ⑤ ㄷ, ㄹ

11. 사회 불평등 현상을 보는 관점 A, B에 대한 설명으로 옳은 것은? [3점]

구분	관점 A	관점 B
사회 불평등 현상의 발생 원인은 무엇인가?	사회적 역할의 중요도에 따른 보상의 차등 분배	(가)
희소가치의 배분 방식은 어떻게 결정되는가?	(나)	권력 유지를 위한 기득권 집단의 결정

- ① A는 사회 불평등 현상이 지배와 피지배 관계에서 비롯된다고 본다.
- ② B는 사회 불평등 현상을 불가피한 것으로 본다.
- ③ A는 B와 달리 개인의 성취동기가 지위 변동에 미치는 영향력을 간과한다는 한계가 있다.
- ④ (가)에는 '개인의 능력 차이에 따른 보상의 차등 분배'가 적절하다.
- ⑤ (나)에는 '사회의 효율적 운영을 위한 사회 구성원의 합의'가 적절하다.

12. 표는 산업 사회와 정보 사회의 특징을 비교한 것이다. (가), (나)에 들어갈 내용으로 옳은 것은? (단, 산업 사회와 정보 사회는 각각 A와 B 중 하나이다.)

비교 기준	비교 결과
지식·정보·서비스 산업의 비중	A > B
(가)	A < B
(나)	A > B

- | | |
|--|--|
| <p style="text-align: center;">(가)</p> <ul style="list-style-type: none"> ① 정보 격차 정도 ② 면대면 소통의 비중 ③ 사생활 침해의 가능성 ④ 소품종 대량 생산 비중 ⑤ 사이버 일탈 행동 빈도 | <p style="text-align: center;">(나)</p> <ul style="list-style-type: none"> 관료제 조직의 비중 전자 상거래의 비중 가정과 일터의 통합 정도 업무 방식의 표준화 정도 의사 결정의 분권화 정도 |
|--|--|

13. 문화 이해의 태도 (가)~(다)에 대한 설명으로 옳은 것은?

자기 문화와 다른 문화를 대할 때 (가)은/는 해당 문화의 관점에서 그 의미와 가치를 파악하려고 노력한다. 이와 달리 (나)은/는 자기 문화의 관점을 내세워 다른 문화가 지닌 가치를 낮게 평가한다. 한편, (다)은/는 다른 문화를 우월하게 보고 자기 문화의 가치를 평가 절하한다.

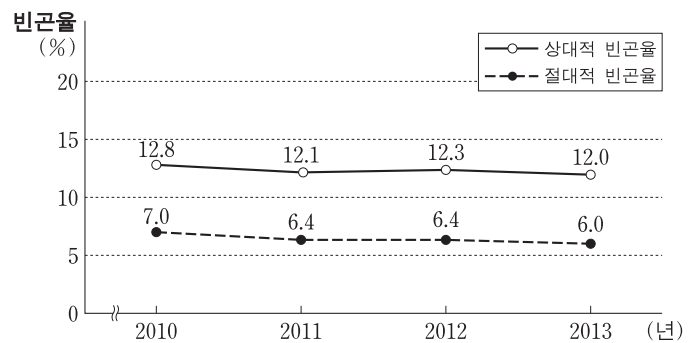
- ① (가)는 문화 다양성 유지를 용이하게 한다.
- ② (나)는 다른 문화의 수용에 적극적이다.
- ③ (다)는 자기 문화의 주체성 형성에 도움이 된다.
- ④ (나), (다) 모두 모든 문화의 고유한 가치를 존중한다.
- ⑤ (가)는 (나), (다)와 달리 문화를 평가의 대상으로 간주한다.

14. (가), (나)에 나타난 사회적 소수자에 대한 내용으로 옳지 않은 것은?

(가) 갑은 자국에서는 대학을 졸업한 우수한 인재로 대접받았지만, A국에서는 이주 노동자로서 차별을 당하고 있다.
 (나) B국에서는 흑인이 인구의 다수를 차지하지만, 권력을 독점한 소수의 백인이 흑인의 공직 참여 기회를 제한하고 있다.

- ① (가)는 역차별에 의해 사회적 소수자가 나타남을 보여 준다.
- ② (가)는 특정 사회의 사회적 소수자가 다른 사회에서는 사회적 소수자가 아닐 수 있음을 보여 준다.
- ③ (나)는 사회적 소수자가 사회적으로 불평등한 대우를 받고 있음을 보여 준다.
- ④ (나)는 사회적 소수자가 집단의 크기에 의해 결정되는 것은 아님을 보여 준다.
- ⑤ (가), (나) 모두 특정 집단이 주류 집단과 다른 특성을 보인다는 이유로 사회적 소수자가 될 수 있음을 보여 준다.

15. 자료는 갑국의 빈곤율을 나타낸 것이다. 이에 대한 분석으로 옳은 것은? (단, 갑국 모든 가구의 구성원 수는 동일하다.) [3점]



* 상대적 빈곤율(%): 전체 가구 중 상대적 빈곤 가구(가구 소득이 중위 소득의 50% 미만인 가구)의 비율
 ** 절대적 빈곤율(%): 전체 가구 중 절대적 빈곤 가구(가구 소득이 최저 생계비 미만인 가구)의 비율
 *** 중위 소득: 전체 가구를 소득순으로 나열했을 때 한 가운데 위치한 가구의 소득

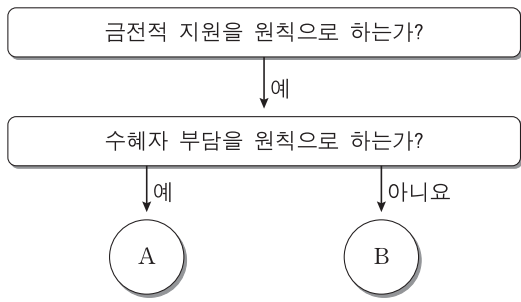
- ① 2010년에 상대적 빈곤 가구는 모두 절대적 빈곤 가구이다.
- ② 2011년에 상대적 빈곤 가구의 인구는 절대적 빈곤 가구의 인구보다 2배 이상 많다.
- ③ 전년과 대비하여 2012년에 상대적 빈곤 가구의 수는 증가했고 절대적 빈곤 가구의 수는 변함이 없다.
- ④ 2013년에 중위 소득은 같은 해 최저 생계비의 2배이다.
- ⑤ 제시된 모든 연도에서 중위 소득 대비 최저 생계비의 비율은 50% 미만이다.

16. 가족을 보는 갑, 을의 관점에 부합하는 설명으로 옳은 것은?



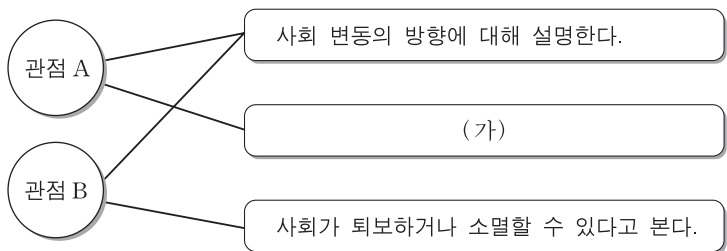
- ① 갑은 가족 내 구성원 간의 갈등을 자연스럽게 정상적인 현상으로 이해한다.
- ② 갑은 불평등한 가족 관계가 가족 구성원의 사회화를 통해 고착화된다고 본다.
- ③ 을은 안정적인 가족 관계를 위해 가족 내의 성별 분업이 필요하다고 본다.
- ④ 을은 가족 구성원이 역할을 제대로 수행하지 못해서 가족 문제가 발생한다고 본다.
- ⑤ 갑, 을 모두 가족 제도를 사회 구조와 연관하여 본다.

17. 자료는 우리나라 사회 보장 제도의 세 가지 유형 중에서 A, B 두 가지 유형을 분류한 것이다. 이에 대한 설명으로 옳은 것은?



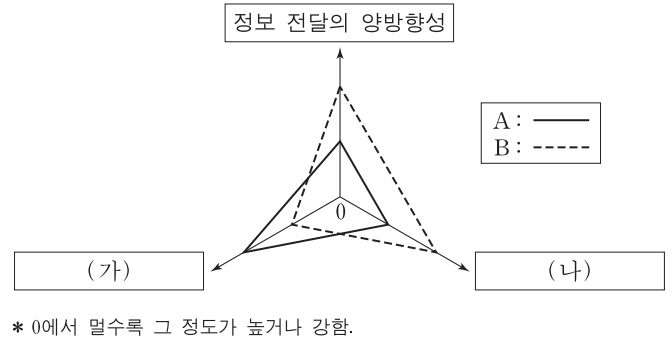
- ① A는 대상자가 수혜 정도에 따라 복지 비용을 부담한다.
- ② A는 B에 비해 사후 처방의 성격이 강하다.
- ③ A는 B와 달리 의무 가입을 원칙으로 한다.
- ④ B는 A와 달리 소득 재분배 효과가 있다.
- ⑤ B는 A에 비해 상호 부조의 성격이 강하다.

18. 자료는 사회 변동을 보는 관점 A, B의 공통점과 차이점을 나타낸 것이다. 이에 대한 설명으로 옳은 것은? (단, A와 B는 각각 진화론과 순환론 중 하나이다.) [3점]



- ① A는 사회 변동의 유형이 사회마다 다르다고 본다.
- ② A는 과거의 사회 변동만을 설명한다는 비판을 받고 있다.
- ③ B는 사회 변동에 의해 사회가 더 복잡하게 분화한다고 본다.
- ④ B는 서구 중심적 사고라는 비판을 받고 있다.
- ⑤ (가)에 들어갈 내용으로 '사회 변동이 곧 발전이나 진보를 의미한다고 본다.'가 적절하다.

19. 그림은 매체 A, B의 특징을 비교한 것이다. 이에 대한 옳은 설명을 <보기>에서 고른 것은? (단, A와 B는 각각 인쇄 매체와 뉴미디어 중 하나이다.) [3점]

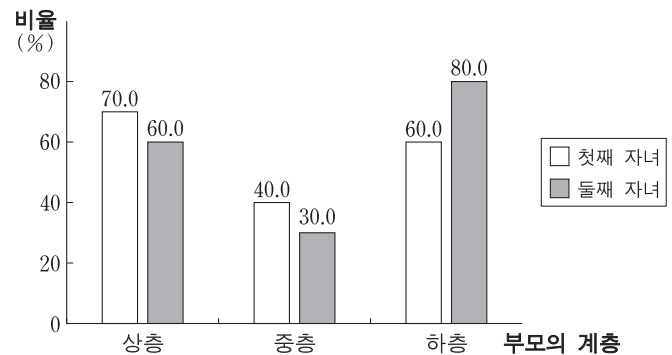


<보기>

- ㄱ. A는 B에 비해 정보 확산의 시공간적 제약이 적다.
- ㄴ. B는 A에 비해 정보의 복제와 재가공이 쉽다.
- ㄷ. (가)에는 '매체에 대한 수용자의 영향력'이 적절하다.
- ㄹ. (나)에는 '정보 전달의 속도'가 적절하다.

- ① ㄱ, ㄴ ② ㄱ, ㄷ ③ ㄴ, ㄷ ④ ㄴ, ㄹ ⑤ ㄷ, ㄹ

20. 자료는 부모와 자녀 간의 계층 일치 비율을 나타낸 것이다. 이에 대한 옳은 분석을 <보기>에서 고른 것은? (단, 모든 부모의 자녀는 2명이며, 부모의 계층 구성은 상층 : 중층 : 하층 = 1 : 3 : 1이다.) [3점]



<보기>

- ㄱ. 첫째 자녀 중 세대 간 하강 이동 비율은 50% 이상이다.
- ㄴ. 둘째 자녀 중 세대 간 수직 이동 비율은 50% 이하이다.
- ㄷ. 부모의 계층이 자녀에게 대물림된 비율은 둘째 자녀보다 첫째 자녀에서 더 높다.
- ㄹ. 상층 부모의 둘째 자녀와 하층 부모의 첫째 자녀 중에서 세대 간 이동을 한 사람의 수는 같다.

- ① ㄱ, ㄴ ② ㄱ, ㄷ ③ ㄴ, ㄷ ④ ㄴ, ㄹ ⑤ ㄷ, ㄹ

* 확인 사항
○ 답안지의 해당란에 필요한 내용을 정확히 기입(표기)했는지 확인하십시오.

제 4 교시

사회탐구 영역(사회·문화)

성명 수험 번호

1. 밑줄 친 ㉠~㉣과 같은 현상의 일반적인 특징으로 옳은 것은?

- 조류 인플루엔자가 전국적으로 확산되는 조짐을 보이는 가운데, 처음 ㉠ 조류 인플루엔자가 발생했던 ○○ 지역 농가는 오가는 이 없는 쓸쓸한 설 명절을 보내고 있다. 이곳 주민들은 반가운 손님을 부른다는 ㉡ 까치 소리에도 불안해 하면서 정초를 맞이하고 있다.
- 중국의 급속한 산업화로 인해 ㉢ 화석 연료 사용이 늘어나면서 미세 먼지가 한반도로 유입되는 날이 잦아졌다. ㉣ 미세 먼지는 사람의 폐까지 깊숙이 침투해 호흡기 질환을 유발하고 면역력을 약화시키기 때문에, 특히 외출 시에는 각별한 주의가 요구된다.

- ① ㉠과 같은 현상은 ㉡과 같은 현상에 비해 특수성이 강하다.
- ② ㉠과 같은 현상은 ㉢과 같은 현상과 달리 인과 법칙을 따른다.
- ③ ㉡과 같은 현상은 ㉣과 같은 현상과 달리 가치 함축적이다.
- ④ ㉡과 같은 현상은 ㉢과 같은 현상에 비해 예측이 용이하다.
- ⑤ ㉣과 같은 현상은 ㉠과 같은 현상과 달리 당위 법칙을 따른다.

2. 다음은 어느 모둠이 제출한 과제의 일부이다. 밑줄 친 ㉠~㉣에 대한 설명으로 가장 적절한 것은?

한국의 음식 문화와 김치

◇◇ 모듬

김치를 빼놓고는 한국의 ㉠ 음식 문화를 논할 수 없다. ㉡ 우리나라 사람은 밥을 먹을 때면 자연스럽게 김치를 찾는다. 또한 식당에서 라면을 주문할 때도 당연히 ㉢ 빨간 김치가 반찬으로 나올 것이라고 기대한다. 이는 ㉣ 어릴 때부터 우리 입맛이 김치에 익숙해졌기 때문이다. 그런데 우리 민족이 처음부터 지금과 같은 김치를 먹었던 것은 아니다. 문헌에 따르면 본래 우리의 김치는 고춧가루가 들어가지 않은 백김치였다. 임진왜란을 거치면서 고추가 전래되고 ㉤ 김치를 담그는 데 고춧가루가 양념으로 들어가면서 지금과 같은 김치를 먹게 되었다. ...(후략)...

- ① ㉠에서의 문화는 '하위 문화'에서의 문화와 달리 좁은 의미로 사용되었다.
- ② ㉡은 시간의 흐름에 따라 문화의 형태나 의미가 변화함을 보여 준다.
- ③ ㉢은 사회 구성원이 지닌 태도나 신념의 옳고 그름을 판단하는 데 사용되는 문화 요소에 해당한다.
- ④ ㉣은 문화가 사회화 과정을 통해 후천적으로 습득됨을 보여 준다.
- ⑤ ㉤은 서로 다른 문화 요소가 한 사회에 공존하는 사례에 해당한다.

3. 사회 계층화 현상을 설명하는 개념 (가), (나)에 대한 진술로 가장 적절한 것은?

(가)	(나)
경제적, 정치적, 사회적 요인을 종합하여 사회 계층을 상층, 중층, 하층으로 구분	생산 수단의 소유 여부를 기준으로 사회 계층을 지배층과 피지배층으로 구분

- ① (가)는 내부 구성원 간의 강한 귀속 의식을 설명하기에 용이하다.
- ② (나)는 자유로운 사회 이동을 설명하기에 용이하다.
- ③ (가)는 (나)와 달리 계층화 현상을 연속적으로 서열화되어 있는 상태라고 전제한다.
- ④ (나)는 (가)와 달리 위계를 구분하는 기준이 다차원적이다.
- ⑤ (가), (나) 모두 계층화 현상이 필수 불가결하다고 전제한다.

4. 밑줄 친 ㉠~㉣에 대한 설명으로 옳은 것은? [3점]

㉠ ○○ 전자 사보 200회 특집 - 화제의 인물, 갑을 만나다!

㉡ 평의원 출신으로 최연소 대표 이사까지 오른 갑이 본사 이달의 인물로 선정되었다. 취임사에서 갑은 "㉢ 사내 모바일 기술 혁신팀 팀장으로서 팀원들과 함께 하던 시절이 가장 기억에 남는다."라고 말했다. 갑의 팀이 개발한 획기적인 스마트폰 운영 체제 덕분에 본사는 시장 점유율 세계 1위인 ㉣ □□ 기업을 바짝 추격하여 제2의 도약을 맞게 되었다. ...(중략)... 갑은 그동안 ㉤ △△ 봉사 단체를 통해 꾸준히 결식 아동을 도와 왔다는 사실이 알려지면서, 진정한 리더의 본보기라는 평가를 받고 있다.

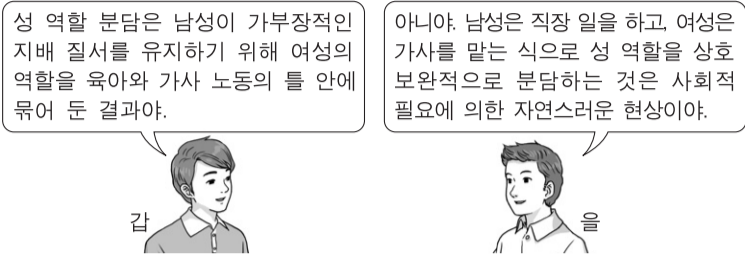
- ① ㉠은 갑의 내집단이자 1차적 사회화 기관이다.
- ② ㉡은 갑의 수직 이동이자 구조적 이동이다.
- ③ ㉢은 공동의 목표에 기반을 둔 비공식 조직이다.
- ④ ㉣은 비공식적 사회화 기관이자 갑의 외집단이다.
- ⑤ ㉤은 결합 자체를 목적으로 하는 자발적 결사체이다.

5. 표는 자료 수집 방법 A~D의 일반적인 특징을 구분한 것이다. 이에 대한 설명으로 옳은 것은? (단, A~D는 각각 질문지법, 면접법, 참여 관찰법, 실험법 중 하나이다.) [3점]

구분 기준 \ 자료 수집 방법	A	B	C	D
주로 양적 자료를 수집하는 데 사용되니까?	×	○	×	○
조사 대상자와 언어를 매개로 상호 작용하는 것이 필수적입니까?	○	×	×	○

- * ○: 예, ×: 아니오
- ① A는 B에 비해 조사 대상자의 깊이 있는 답변을 유도하기에 용이하다.
 - ② B는 C에 비해 조사 대상자에 대한 감정 이입적 이해를 증시한다.
 - ③ C는 D와 달리 표본의 대표성 확보가 중요하다.
 - ④ D는 A와 달리 조사 대상자의 동의 확보 문제로부터 자유롭다.
 - ⑤ B, D는 A, C와 달리 새로운 사실의 발견에 유리하다.

6. 다음 대화에서 사회·문화 현상을 바라보는 갑, 을의 관점에 대한 설명으로 옳은 것은?



- ① 갑의 관점은 사회 규범이 지배 집단의 합의를 통해 형성된다고 본다.
- ② 을의 관점은 사회적 상호 작용을 통한 의미 부여를 중시한다.
- ③ 갑의 관점은 을의 관점과 달리 사회가 스스로 균형을 유지하려는 속성을 지닌다고 본다.
- ④ 을의 관점은 갑의 관점과 달리 사회화가 현재의 불평등한 구조를 정당화하는 수단이라고 본다.
- ⑤ 갑, 을의 관점은 모두 개인의 행위에 미치는 사회 구조의 영향을 간과한다.

7. 다음은 한 연구 보고서의 일부이다. 밑줄 친 ㉠~㉣에 대한 옳은 설명만을 <보기>에서 있는 대로 고른 것은? [3점]

○○시는 갑에게 가로등 개선이 ㉠ 시민의 삶의 질에 미치는 효과에 대해 조사해 달라고 요청하였다. 이에 갑은 가로등 개선, 범죄 발생, 밤 시간대의 이동성 간의 관계에 대한 연구를 수행하였다. 먼저 갑은 가로등 개선 사업 ㉡ 시범 실시 지역 중 두 곳을 선정하였다. 이 두 지역을 대상으로 조명 개선 전후의 ㉢ 가로등 밝기, 주변 지역의 물리적 조건, ㉣ 보행자 수를 체계적으로 조사하였다. 또한 조명 개선 전후의 범죄 발생률을 파악하기 위해 ㉤ 정부의 공식 통계 자료를 확인하였다.

— <보기> —

- ㉠. 갑의 연구에서 ㉠은 모집단, ㉡은 표본 집단이다.
- ㉢. ㉢ 중에서 한 곳은 실험 집단, 다른 한 곳은 통제 집단이다.
- ㉣. ㉣은 독립 변수를 조작적으로 정의한 것이다.
- ㉤. ㉤은 갑의 연구에서 활용된 2차 자료이다.

- ① ㉠, ㉢ ② ㉠, ㉣ ③ ㉣, ㉤
- ④ ㉠, ㉢, ㉤ ⑤ ㉢, ㉣, ㉤

8. 다음은 고등학생 갑이 쓴 자기소개서의 일부이다. 밑줄 친 ㉠~㉣에 대한 설명으로 옳지 않은 것은?

저의 가장 큰 장점은 리더십과 공정함입니다. 저는 2학년 때 학급회장과 ㉠ 학생회 체육부장을 겸하게 되었습니다. 1학기 말에 ㉡ 교내 반별 합창 대회와 교내 체육 대회의 일정이 겹쳐 ㉢ 학급을 이끌어야 하는 책임과 학교 체육 대회를 진행해야 하는 책임 사이에서 고민하게 되었습니다. …(중략)… 이러한 체계적 계획과 역할 분담 등을 통해 저는 학급과 학생회의 일을 모두 성공적으로 이끌었습니다. 또한 ㉣ 체육 대회 운영진으로서 공정하게 대회를 운영한 점을 인정받아 ㉤ 공로상을 수상하게 되었습니다. 앞으로 저는 이러한 경험을 살려 ㉥ 체육교육과에서 제가 꿈꾸는 국제 심판이 되는 데 필요한 자질과 능력을 함양하고 싶습니다.

- ① ㉠은 과업 중심으로 결합된 공식 조직이다.
- ② ㉡에서는 협동적 상호 작용과 경쟁적 상호 작용이 모두 나타난다.
- ③ ㉢은 갑의 서로 다른 성취 지위에 따른 역할 갈등이다.
- ④ ㉣은 갑의 ㉡로서의 역할에 대한 보상이다.
- ⑤ ㉥은 갑이 예기 사회화를 기대하는 기관이다.

9. 일탈 이론 (가)~(다)에 부합하는 연구 결과로 적절하지 않은 것은? [3점]

(가) 일탈은 특정 행위에 대한 사회적 반응에 의해 규정되며, 그러한 사회적 반응의 결과 행위자가 일탈자로서의 정체성을 형성할 때 지속적인 일탈로 이어진다.
 (나) 준법적 태도를 보이던 사람도 일탈자들과 오랫동안 빈번하게 교류하면서 법과 규범을 경시하는 태도를 학습할 경우 일탈에 가담할 가능성이 높아진다.
 (다) 공유된 사회적 목표에 도달하기 위한 제도화된 수단이 제한되어 있을 때에 야기되는 갈등과 긴장으로 인해 일탈이 나타난다.

- ① (가) - 지속적인 상담 과정을 통해 자아상이 새롭게 바뀐 상습 범죄자의 경우 범죄를 중단하는 경향을 보였다.
- ② (가) - 비행 청소년이 영화 속 갱단을 준거 집단으로 삼아 그들의 가치를 내면화할 경우 일탈 행위가 강화되었다.
- ③ (나) - 다수의 초범 청소년을 조사해 보니 법 위반에 앞서 비행 친구들과 밀접한 접촉이 있었던 것으로 밝혀졌다.
- ④ (다) - 경기 침체가 장기화되면서 일자리가 감소할 경우 실업자들의 생계형 범죄가 증가하는 것으로 나타났다.
- ⑤ (다) - 경제적 곤란을 겪는 청소년들에게 생활비 지원 정책을 시행한 결과 해당 청소년들의 일탈 행위가 감소하였다.

10. 다음 자료에 대한 옳은 분석만을 <보기>에서 있는 대로 고른 것은? [3점]

표는 갑국의 절대적 빈곤 가구 비율과 상대적 빈곤 가구 비율의 변화를 나타낸 것이다. 2010년에 최저 생계비는 중위 소득의 50% 미만이었으며, 2000년에서 2010년 사이에 최저 생계비는 지속적으로 증가하였다. (단, A, B는 각각 절대적 빈곤 가구와 상대적 빈곤 가구 중 하나이며, 갑국에서 모든 가구의 구성원 수는 동일하다.)

(단위: %)

구분	2000년	2005년	2010년
A	5	7	10
B	9	7	5

* 절대적 빈곤 가구: 소득이 절대적 빈곤선(최저 생계비) 미만인 가구
 ** 상대적 빈곤 가구: 소득이 상대적 빈곤선(중위 소득의 50%) 미만인 가구
 *** 중위 소득: 전체 가구를 소득 순으로 나열했을 때 한가운데 위치한 가구의 소득

— <보기> —

- ㉠. 2000년에 상대적 빈곤 가구는 모두 절대적 빈곤 가구에 속한다.
- ㉢. 2010년에 전체 가구 소득 중 A의 소득 점유 비중은 10% 미만이다.
- ㉣. 2000년 대비 2005년에 중위 소득 증가율이 최저 생계비 증가율보다 더 크다.
- ㉤. 2005년에 상대적 빈곤선은 절대적 빈곤선과 일치하며, 2010년에 상대적 빈곤선은 절대적 빈곤선의 2배이다.

- ① ㉠, ㉢ ② ㉢, ㉤ ③ ㉣, ㉤
- ④ ㉠, ㉢, ㉣ ⑤ ㉠, ㉣, ㉤

11. 다음 대화에서 근대화를 바라보는 갑, 을의 관점에 대한 설명으로 옳은 것은?

낙후된 상태에 있는 국가들도 선진국의 문명을 받아들여 그들의 성장 경로를 따라가면 발전할 수 있어.



갑

그렇지 않아. 후진국이 선진국에게 착취당하는 구조에서는 선진국과 교류를 하더라도 발전을 기대할 수 없어.



을

- ① 갑의 관점은 사회 변동을 보는 순환론적 관점에 기초한다.
- ② 을의 관점은 국제 사회를 국가 간 지배-종속 관계로 설명한다.
- ③ 을의 관점은 저발전의 원인을 중심부와 주변부의 단절에서 찾는다.
- ④ 갑의 관점은 을의 관점과 달리 발전의 원동력으로 국가 내부의 자생력을 중시한다.
- ⑤ 을의 관점은 갑의 관점과 달리 단선적이고 표준화된 발전 경로를 중시한다.

12. 사회·문화 현상의 연구 방법 (가), (나)의 일반적인 특징에 대한 설명으로 옳은 것은?

연구 주제	1920년대 여성의 사회적 지위 변화	
연구 방법	(가)	(나)
연구 설계 개요	1920년대 여성의 근대 학교 진학률과 취업률, 직업 분포를 조사하여, 당시 여성의 교육 수준과 사회적 지위 변화 사이의 상관 관계를 분석하고자 함.	1920년대 소설의 이면에 담긴 신여성에 대한 인식과 신여성의 자아 정체감을 해석하여, 당시 여성의 사회적 지위 변화의 의미를 심층적으로 이해하고자 함.

- ① (가)는 직관적 통찰을 통해 사회·문화 현상을 해석한다.
- ② (나)는 주로 연역적 과정을 통해 결론을 도출한다.
- ③ (가)는 (나)에 비해 경험적 자료의 분석을 통한 일반화가 용이하다.
- ④ (나)는 (가)와 달리 연구 대상에 대해 연구자의 주관적 개입이 개입되는 것을 통제한다.
- ⑤ (가)는 방법론적 이원론, (나)는 방법론적 일원론에 기초한다.

13. 표는 우리나라의 사회 보장 제도 A, B의 일반적인 특징을 비교한 것이다. (가)~(라)에 들어갈 적절한 질문만을 <보기>에서 있는 대로 고른 것은? [3점]

	A	B
구분	국민의 질병·부상에 대한 예방·진단·치료·재활과 출산·사망 및 건강 증진에 대하여 보험 급여를 실시하는 제도	소득 인정액이 일정 수준 이하인 가구의 최저 생활을 보장하기 위해 일정한 절차를 거쳐 급여를 실시하는 제도
(가)	예	예
(나)	예	아니요
(다)	아니요	예
(라)	아니요	아니요

— <보기> —

- ㄱ. (가) - 소득 재분배 효과가 있는가?
- ㄴ. (나) - 대상자의 강제 가입을 원칙으로 하는가?
- ㄷ. (다) - 대상자가 수혜 정도에 따라 비용을 부담하는가?
- ㄹ. (라) - 수혜 대상자 선정 과정에서 소득이 고려되는가?

- ① ㄱ, ㄴ ② ㄴ, ㄷ ③ ㄷ, ㄹ
- ④ ㄱ, ㄴ, ㄹ ⑤ ㄱ, ㄷ, ㄹ

14. (가), (나)에 나타난 문화 이해의 관점에 대한 옳은 설명을 <보기>에서 고른 것은?

- (가) 세계 각지에 존재하는 매장(埋葬), 화장(火葬), 수목장(樹木葬), 조장(鳥葬) 등 다양한 유형의 장례 문화를 조사하여 공통점과 차이점을 연구하였다.
- (나) 고산 지대에 사는 ○○족의 장례 문화가 그들의 종교, 경제, 가족 제도 등 다른 문화 요소들과 어떻게 연관되어 있는지 연구하였다.

— <보기> —

- ㄱ. (가)의 관점은 자문화의 특징을 타문화와 비교하여 파악하는 데 유용하다.
- ㄴ. (나)의 관점은 문화가 부분이 아닌 전체로서의 의미를 갖는 생활양식임을 중시한다.
- ㄷ. (가)의 관점은 (나)의 관점과 달리 사회적 맥락을 고려하여 문화를 이해하는 데 기여한다.
- ㄹ. (나)의 관점은 (가)의 관점과 달리 문화의 보편성을 찾는 것에 초점을 둔다.

- ① ㄱ, ㄴ ② ㄱ, ㄷ ③ ㄴ, ㄷ ④ ㄴ, ㄹ ⑤ ㄷ, ㄹ

15. (가), (나)에 나타난 교육을 바라보는 관점에 대한 옳은 설명을 <보기>에서 고른 것은? [3점]

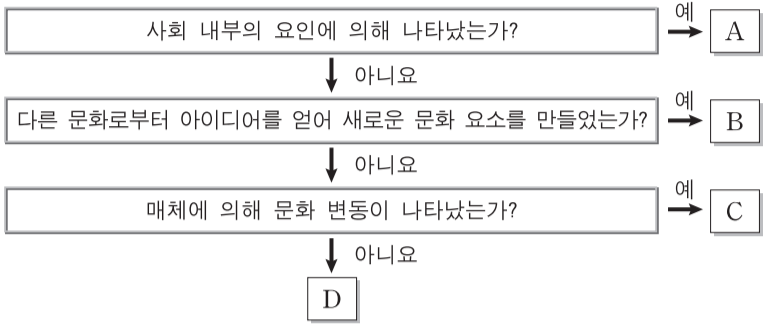
- (가) 개인의 능력과 노력보다 부모의 사회·경제적 배경이 학업 성취에 더 큰 영향을 끼친다. 부모의 물질적 지원이 부족한 하층의 학생은 교육을 받더라도 높은 수준의 학업 성취에 도달하기가 상대적으로 힘들고, 따라서 사회적으로 성공할 가능성도 낮다.
- (나) 부모의 사회·경제적 배경보다는 개인의 능력과 노력이 학업 성취에 끼치는 영향력이 더 크다. 개인의 능력과 노력이 뛰어난 학생일수록 교육을 통해 높은 학업 성취에 도달할 수 있고, 그에 따라 사회적으로 성공할 가능성도 커진다.

— <보기> —

- ㄱ. (가)의 관점은 교육을 전체 구성원의 동의에 기초한 지배적 가치의 전파 수단으로 간주한다.
- ㄴ. (나)의 관점은 학교 교육 내용에 계층 간 유불리가 존재함을 강조한다.
- ㄷ. (가)의 관점은 (나)의 관점과 달리 교육을 개인의 사회 이동 수단보다는 계층적 지위의 고착화 수단으로 본다.
- ㄹ. (나)의 관점은 (가)의 관점과 달리 교육의 인재 선발 기능이 사회적 효율성을 높이는 데 기여한다고 본다.

- ① ㄱ, ㄴ ② ㄱ, ㄷ ③ ㄴ, ㄷ ④ ㄴ, ㄹ ⑤ ㄷ, ㄹ

16. 그림은 문화 변동 요인 A~D를 분류한 것이다. 이에 대한 설명으로 옳은 것은? (단, A~D는 각각 발명, 직접 전파, 간접 전파, 자극 전파 중 하나이다.) [3점]



- ① 다른 나라 기성 종교의 교리와 체계를 응용하여 신흥 종교를 창시한 사례는 A에 해당한다.
- ② 한류 드라마의 인기로 한국어를 배우려는 외국인이 늘어난 사례는 B에 해당한다.
- ③ 독일에서 구텐베르크가 인쇄 기술을 만들어 자국 내 지식 보급에 기여한 사례는 C에 해당한다.
- ④ 서아시아 지역에서 종교 의식에 사용되던 커피가 유럽에 전해져 일반인의 기호품으로 대중화된 사례는 D에 해당한다.
- ⑤ 미국에서 배구가 처음 고안된 사례는 A, 미국인 선교사가 한국 청년들에게 처음 배구를 지도한 사례는 C에 해당한다.

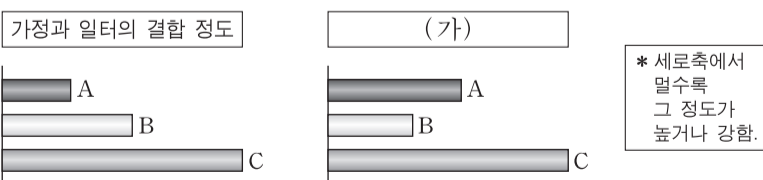
17. 다음에 나타난 개인과 사회의 관계를 바라보는 관점에 대한 옳은 진술을 <보기>에서 고른 것은?

생산 요소로서 육체적 노동력이 중시되던 농업 사회에서는 노동력의 재생산을 위한 조혼과 다산이 사회 구성원들에게 자연스러운 삶의 방식으로 받아들여졌다. 그러나 전문화되고 숙련된 노동이 중시되는 현대 사회는 사회 구성원들에게 오랜 기간의 교육과 훈련을 요구하며, 그 결과 사회 전체적으로 초혼 연령이 높아지고 출산율은 낮아지게 되었다. 이처럼 개인의 선택처럼 보이는 초혼 시기와 출산 계획조차도 당대의 산업 구조로부터 자유로운 것은 아니다.

- <보기>—
- ㄱ. 개인은 사회 속에서만 존재 의미를 갖는다고 본다.
 - ㄴ. 사회는 개인으로 환원하여 설명될 수 있다고 본다.
 - ㄷ. 사회는 개인의 외부에서 독자적으로 작동한다고 본다.
 - ㄹ. 개인의 능동성이 사회 규범의 구속성보다 우선한다고 본다.

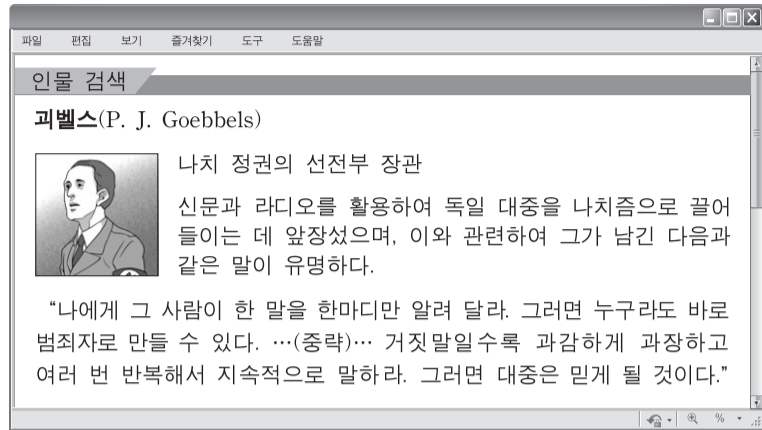
- ① ㄱ, ㄴ ② ㄱ, ㄷ ③ ㄴ, ㄷ ④ ㄴ, ㄹ ⑤ ㄷ, ㄹ

18. 그림은 A~C의 특징을 비교한 것이다. 이에 대한 설명으로 옳은 것은? (단, A~C는 각각 농업 사회, 산업 사회, 정보 사회 중 하나이다.) [3점]



- ① A는 B에 비해 의사 결정의 분권화 정도가 높다.
- ② B는 A에 비해 지식 산업의 부가 가치 총량이 크다.
- ③ B는 A, C에 비해 소품종 대량 생산의 비중이 높다.
- ④ C는 A, B에 비해 구성원 간 익명성이 높다.
- ⑤ (가)에는 '쌍방향 미디어의 비중'이 적절하다.

19. 그림의 내용에서 도출할 수 있는 대중 매체의 문제점으로 옳은 진술만을 <보기>에서 있는 대로 고른 것은?



- <보기>—
- ㄱ. 정보의 조작을 통해 여론을 왜곡할 수 있다.
 - ㄴ. 특정 집단의 이익을 옹호하기 위한 도구로 활용될 수 있다.
 - ㄷ. 이윤을 추구하는 자본의 영향을 받아 상업주의에 빠질 수 있다.
 - ㄹ. 일방적 정보 전달로 대중을 수동적인 존재로 전락시킬 수 있다.

- ① ㄱ, ㄷ ② ㄴ, ㄹ ③ ㄷ, ㄹ
- ④ ㄱ, ㄴ, ㄷ ⑤ ㄱ, ㄴ, ㄹ

20. 다음 자료에 대한 분석으로 옳은 것은? [3점]

표는 갑국의 1980년 대비 2010년 세대 내 이동 현황을 나타낸 것이다. A~C는 각각 상층, 중층, 하층 중 하나이며, 2010년의 계층 구성비는 A : B : C = 2 : 1 : 1이다.

<1980년 대비 2010년의 세대 내 이동 유형별 비율> (단위: %)

1980년의 계층	A			B			C			계
	상승	하강	동일	상승	하강	동일	상승	하강	동일	
비율	5	5	20	20	0	20	0	20	10	100

- ① 2010년의 중층 중 세대 내 수직 이동을 경험한 비율은 해당 계층의 50% 미만이다.
- ② 1980년보다 2010년의 계층 구조가 더 개방적이며 사회 통합에 유리하다.
- ③ 1980년 계층 대비 2010년에 각 계층별로 계층적 지위가 유지된 비율은 중층과 하층이 동일하다.
- ④ 상층에서 중층으로 세대 내 이동한 인구가 하층에서 중층으로 세대 내 이동한 인구보다 많다.
- ⑤ 상층에서 하층으로의 세대 내 이동과 하층에서 상층으로의 세대 내 이동은 나타나지 않았다.

* 확인 사항
○ 답안지의 해당란에 필요한 내용을 정확히 기입(표기)했는지 확인 하시오.

제 4 교시

사회탐구 영역(사회·문화)

성명	수험 번호
----	-------

1. 밑줄 친 ㉠~㉣과 같은 현상의 일반적인 특징에 대한 옳은 설명을 <보기>에서 고른 것은?

○○연구팀은 ㉠ 평균 기온이 2°C 오르면 범죄는 15%, 집단 분쟁은 50% 이상 증가한다는 연구 결과를 발표하면서, “㉡ 급격한 기온 상승이 농작물의 생육을 저해하고, 이로 인해 경제가 어려워져 개인이나 집단 간에 갈등이 증가하면서 분쟁이 늘어난다.”라고 설명하였다. 이에 대해 □□연구팀은 “폭염으로 인한 스트레스와 긴장 때문일 수도 있다. ㉢ 인간 신체는 과도한 열에 반응하여 스트레스 호르몬을 생성하는데 이 호르몬의 활동은 공격성과 연결되어 있다.”라고 주장하였다.

— <보기> —

ㄱ. ㉠과 같은 현상은 ㉡과 같은 현상과 달리 확률성의 원리를 따른다.
 ㄴ. ㉠과 같은 현상은 ㉢과 같은 현상에 비해 인과 관계가 분명하게 나타난다.
 ㄷ. ㉡과 같은 현상은 ㉠과 같은 현상에 비해 보편성이 강하게 나타난다.
 ㄹ. ㉡과 같은 현상은 ㉢과 같은 현상과 달리 불가치적이다.

- ① ㄱ, ㄴ ② ㄱ, ㄷ ③ ㄴ, ㄷ ④ ㄴ, ㄹ ⑤ ㄷ, ㄹ

2. 일탈 행동을 보는 갑~병의 이론적 관점에 대한 설명으로 옳은 것은? [3점]

갑: 일시적으로 잘못을 저지른 청소년을 포용하지 못하고 문제아로 단정 짓는 사회 분위기로 인해 스스로를 포기하고 범죄의 길로 접어드는 청소년이 증가하고 있어.
 을: 어렸을 적부터 불량한 친구들과 지속적으로 접촉하면서 일탈적 가치를 배워 범죄를 저지르는 청소년이 증가하고 있어.
 병: 생계유지를 위해서 취업을 원했지만 취업 기회가 주어지지 않아서 범죄를 저지르는 청년이 증가하고 있어.

- ① 갑의 관점은 부정적 자아가 형성되어 일탈 행동이 반복된다고 본다.
 ② 을의 관점은 상호 작용을 통한 2차적 일탈 행동의 발생에 초점을 둔다.
 ③ 갑의 관점은 병의 관점과 달리 사소한 사회적 무질서를 방치하는 것이 더 큰 일탈 행동을 초래한다고 본다.
 ④ 병의 관점은 을의 관점과 달리 일탈 행동의 해결 방안으로 정상적인 사회 집단과의 교류 촉진을 제시한다.
 ⑤ 갑, 을의 관점 모두 일탈을 규정하는 객관적 기준은 없다고 본다.

3. 다음에서 공통적으로 추론할 수 있는 내용으로 가장 적절한 것은?

○ 장애로 인한 차별을 시정하기 위해 ‘장애인 차별 금지법’이 시행된 이후 스스로 자신의 권리를 지키려는 장애인들이 많아졌다. 하지만 사회적 인식이 크게 바뀌지 않아 여전히 장애인에 대한 차별이 해소되지 못하고 있다.
 ○ 여성의 사회 진출을 돕기 위한 ‘남녀 고용 평등과 일·가정 양립 지원에 관한 법률’이 시행된 이후에도 여전히 성차별적 인식으로 인해 여성에게 낮은 임금을 주거나 취업 및 승진 기회를 제한하는 등 여성에 대한 차별이 해소되지 못하고 있다.

- ① 사회적 소수자 우대 정책으로 인한 역차별 문제도 함께 해소해야 한다.
 ② 사회적 소수자는 법을 통한 제도적 인정 여부에 따라 상대적으로 규정된다.
 ③ 사회적 소수자에 대한 차별은 개인적 능력 차이가 집합적 차별로 전환된 결과이다.
 ④ 사회적 소수자에 대한 차별을 해소하기 위해서는 문화 다양성 존중보다 문화 동질성 형성이 중요하다.
 ⑤ 사회적 소수자에 대한 차별을 해소하기 위해서는 제도 개선뿐만 아니라 의식 개혁도 이루어져야 한다.

4. 다음에서 갑이 수행한 연구에 대한 옳은 설명을 <보기>에서 고른 것은? [3점]

연구자 갑은 인종 차별에 관한 연구를 수행하면서, 질문지법으로 조사한 을의 연구에서 ○○지역 주민들이 인종 차별을 하지 않는다고 응답한 것을 확인하였다. 갑은 직접 ○○지역을 다니며 호텔과 식당 등에서 인종에 따라 서비스가 달라지는지 여부를 살펴보면서 상세한 기술을 통하여 자료를 수집하였다. 호텔과 식당에서 일하는 사람들은 자신이 연구 대상임을 알지 못한 상태에서 손님의 피부색에 따라 다양한 차별적 행동을 보여주었다. 갑은 을의 연구 결과와 자신이 수집한 자료를 비교하여 을의 결론에 반론을 제기하였다.

— <보기> —

ㄱ. 2차 자료를 수집하여 활용하는 방법이 사용되었다.
 ㄴ. 실제성이 높은 생생한 자료를 수집하기에 용이한 방법이 사용되었다.
 ㄷ. 구조화되고 표준화된 도구로 자료를 직접 수집하는 방법이 사용되었다.
 ㄹ. 인위적으로 통제된 상황에서 변수의 효과를 관찰하는 방법이 사용되었다.

- ① ㄱ, ㄴ ② ㄱ, ㄷ ③ ㄴ, ㄷ ④ ㄴ, ㄹ ⑤ ㄷ, ㄹ

5. 사회화 기관 A~C에 대한 설명으로 옳은 것은?

전통 사회에서는 한 개인이 출생을 통해 소속되는 **A** 이/가 개인의 사회적 신분을 결정하고 그에 따른 역할과 규범을 학습시켰다. 현대 사회에서도 **A** 이/가 위치한 사회적 계층에 따라 사회화의 차이가 존재한다. 아동은 비슷한 연령의 타인과 **B** 을/를 이루고, 상호 작용을 통해 자신들만의 사회적 규칙을 만드는 등 교환과 협동의 경험을 한다. 한편 **C** 은/는 공식적 사회화를 통해 아동에게 지식과 기술, 가치와 태도 등을 가르쳐 그들을 더 큰 사회로 인도한다.

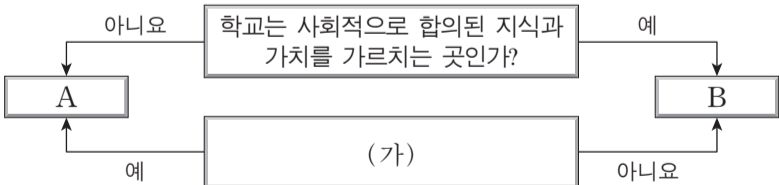
- ① A는 원초적 사회화, C는 재사회화를 전담한다.
 - ② A는 1차 집단, B와 C는 2차 집단에 해당한다.
 - ③ A는 B와 달리 이익 사회에 해당한다.
 - ④ B는 A와 달리 비공식적 사회화 기관이다.
 - ⑤ C는 A, B와 달리 2차적 사회화 기관이다.
6. 다음에 나타난 개인과 사회의 관계를 보는 관점에 대한 옳은 설명을 <보기>에서 고른 것은?

늦은 밤 도시의 외진 곳을 걸어갈 때 사람들은 범죄에 대한 불안감에 조심스러워 한다. 이는 개인의 심리적 특성에 기인한 것일까? 혹은 특정한 범죄자의 위협을 의식하기 때문일까? 사실 이런 행동은 범죄율에 대한 인지에서 비롯된다. 범죄율은 개인의 범죄 행동의 합으로 구성되지만 그것을 넘어서서 존재하는 사회적 실체이다. 인적이 뜸한 밤거리에서의 조심스러움은 특정한 범죄자에 대한 의식이나 자신의 심리적 억압에 의해 조장된 것이 아니라 높은 범죄율에 기인한 것이다.

—<보기>—

ㄱ. 개인의 발전이 곧 사회의 발전이라고 본다.
 ㄴ. 인간의 행동과 사회 현상을 분석함에 있어 개인적 요인을 중시한다.
 ㄷ. 사회는 개인의 외부에서 개인의 사고와 행위를 구속하는 힘을 가지고 있다고 본다.
 ㄹ. “축구팀의 역량은 선수들의 개인기보다는 조직력에 의해 결정된다.”라는 사례를 설명하기에 적절하다.

- ① ㄱ, ㄴ ② ㄱ, ㄷ ③ ㄴ, ㄷ ④ ㄴ, ㄹ ⑤ ㄷ, ㄹ
7. 자료는 교육 제도를 보는 두 관점 A, B를 비교한 것이다. 이에 대한 설명으로 옳은 것은? (단, A와 B는 각각 기능론과 갈등론 중 하나이다.) [3점]



- ① A는 교육의 인재 선발 기능이 공정하게 작동한다고 본다.
- ② B는 교육의 성과가 가정 배경에 의해 결정된다고 본다.
- ③ A는 B와 달리 교육 불평등 문제를 해결하기 위해 접근 기회의 평등을 강조한다.
- ④ B는 A에 비해 교육이 개인에게 사회 이동의 기회를 제공할 것을 강조한다.
- ⑤ (가)는 “교육이 계층 불평등 해소에 기여하는가?”가 적절하다.

8. 다음에서 1인 가구 증가 현상을 보는 갑~병의 관점에 대한 설명으로 옳은 것은?

갑: 현대 사회에서 여성들이 일과 가정의 양립을 위해 애쓰는 삶보다는 결혼하지 않고 취업 상태를 유지하는 삶이 더 이득이라고 생각해서 선택한 결과야.
 을: 과거와 달리 결혼과 이혼에 대한 사회적 인식이 달라지고 사람들이 독신에 대해 긍정적인 가치를 부여하기 때문이야.
 병: 현대 사회에서 기존에 가족이 가졌던 가족 구성원에 대한 양육과 보호의 역할이 약화되어 나타나는 가족 해체의 맥락으로 이해해야 해.

- ① 갑은 을과 달리 1인 가구 증가에 미치는 사회 구조의 영향력이 약하다고 본다.
- ② 을은 병과 달리 1인 가구 증가는 가족 구성에 대해 부여하는 의미가 달라진 결과라고 본다.
- ③ 병은 갑과 달리 1인 가구 증가가 가족 내 불평등 구조에서 발생한다고 본다.
- ④ 을, 병은 갑과 달리 가족 기능의 약화로 인한 가족 구성원의 역할 갈등이 1인 가구 증가의 원인이라고 본다.
- ⑤ 1인 가구 증가에 대해 갑과 병은 사회 병리적 현상으로, 을은 자연스러운 현상으로 본다.

9. 표는 갑국의 빈곤율을 나타낸 것이다. 이에 대한 옳은 분석을 <보기>에서 고른 것은? (단, 전체 가구는 도시 가구와 농촌 가구로 구성되며 구성비는 1:1이고, 모든 가구의 구성원 수는 동일하다.) [3점]

구분		연도	
		2010년	2011년
전체 가구	절대적 빈곤율(%)	7.5	8.0
	상대적 빈곤율(%)	10.0	12.0
도시 가구	절대적 빈곤율(%)	4.5	4.0
	상대적 빈곤율(%)	8.0	9.0

*절대적 빈곤율(%): 전체 가구 중 절대적 빈곤 가구(가구 소득이 최저 생계비 미만인 가구)의 비율
 **상대적 빈곤율(%): 전체 가구 중 상대적 빈곤 가구(가구 소득이 중위 소득의 50% 미만인 가구)의 비율
 ***중위 소득: 전체 가구를 소득순으로 일렬로 배열했을 때 한가운데 위치한 가구의 소득

—<보기>—

ㄱ. 2010년 전체 가구의 소득 중 절대적 빈곤 가구의 소득이 차지하는 비율은 7.5% 미만이다.
 ㄴ. 2011년 농촌에서 절대적 빈곤 가구는 모두 상대적 빈곤 가구에 속한다.
 ㄷ. 2010년 대비 2011년에 도시와 달리 농촌에서 소득 불평등이 완화되는 경향이 나타난다.
 ㄹ. 2010년과 달리 2011년에 도시에서 가구 소득이 최저 생계비 이상이면 중위 소득의 50% 미만인 가구 수는 절대적 빈곤 가구 수의 2배 이상이다.

- ① ㄱ, ㄴ ② ㄱ, ㄷ ③ ㄴ, ㄷ ④ ㄴ, ㄹ ⑤ ㄷ, ㄹ

10. 밑줄 친 ㉠~㉣에 대한 설명으로 가장 적절한 것은? [3점]

㉠ 중국과의 접촉을 통해 우리나라에 한자가 전래된 것은 대략 기원전 2세기경으로 추정된다. 이후 ㉡ 우리나라에서는 한자의 음과 훈을 빌려 표기하는 이두를 만들어 사용했지만 불편함이 있었다. 조선 시대에 이르러 세종대왕이 우리말에 맞는 ㉢ 한글을 창제하여 비로소 우리 고유의 글자를 사용하게 되었다. ㉣ 한글은 한때 사대부 등에 의해 경시되기도 했지만 오늘날 여러 나라에서 가르칠 정도로 그 위상이 높아졌다. 특히 최근에는 한류의 인기로 ㉤ 동남아 지역에서 한국어 교육 수요가 증가하고 있다.

- ① ㉠은 물질문화의 직접 전파에 해당한다.
- ② '전통적으로 계승된 온돌의 원리를 활용하여 현대식 바다 난방 장치를 만든 것'은 ㉡과 동일한 문화 변동 요인의 사례이다.
- ③ ㉢은 내재적 요인에 의한 문화 변동이다.
- ④ ㉣은 문화 지체 현상에 해당한다.
- ⑤ ㉤은 자발적 문화 접변에 의한 문화 동화이다.

11. 다음에서 강조하는 문화 이해의 관점에 대한 설명으로 가장 적절한 것은?

특정 문화 현상의 의미를 이해하기 위해서는 그 문화 현상이 해당 사회의 문화적 전통과 사회적 맥락에 의해 형성된 것임을 고려해야 한다. 독수리에게 죽은 이의 시체를 먹게 하는 장례 문화처럼 외부인에게는 낯설고 이상하게 보이는 문화 현상도 그 사회 나름의 합리적인 근거를 지니고 있기 때문이다.

- ① 다른 문화를 거울삼아 자기 문화를 파악하는 데 유용하다.
- ② 문화를 단절 없이 연속적으로 발전하는 과정으로 파악한다.
- ③ 문화를 문명과 동일시하면서 문화 요소 간의 연관성을 강조한다.
- ④ 해당 문화를 향유하는 사회 구성원의 관점에서 문화의 의미를 파악한다.
- ⑤ 보편적 문화 현상을 바탕으로 특정 문화 현상의 객관적 의미를 파악한다.

12. 표는 질문 (가)~(다)를 활용하여 사회 불평등 현상을 설명하는 두 이론 A, B를 비교한 것이다. 이에 대한 설명으로 옳은 것은? (단, A와 B는 각각 계급론과 계층론 중 하나이다.) [3점]

이론 \ 질문	(가)	(나)	(다)
A	아니요	예	아니요
B	예	아니요	아니요

- ① A가 계층론이면 (가)는 “지위 불일치 현상을 설명할 수 있는가?”가 적절하다.
- ② A가 계층론이면 (나)는 “계층을 일원론적 관점에서 구분하는가?”가 적절하다.
- ③ (나)가 “동일한 경제적 위치에 있는 집단 구성원이 갖는 강한 귀속 의식을 중시하는가?”이면, B는 계층론이다.
- ④ (다)는 “불평등의 원인을 희소가치의 차등 분배에서 찾는가?”가 적절하다.
- ⑤ (가)가 “사회 불평등을 연속적인 서열로 파악하는가?”이면, (나)는 “사회 이동의 개방성이 크다고 보는가?”가 적절하다.

13. (가), (나)의 일반적인 특징에 대한 설명으로 옳지 않은 것은?

A 기업의 조직 운영 방식은 (가)의 대표적 사례이다. 부장급 이상 임원만 100명이며, 직위에 따라 권한과 책임이 다르다. 출퇴근 시간과 업무 절차는 회사가 정한 규정을 따라야 한다. 승진과 보수는 경력과 직급에 따라 결정된다. 반면 B 기업의 조직 운영 방식은 (나)의 대표적 사례이다. 업무의 성격이나 상황에 따라 여러 팀을 구성하여 운영한다. 팀 내 구성원의 관계는 수평적이며 세부적인 업무 절차와 내용도 자체적으로 결정할 수 있다. 승진과 보수는 개인별 능력과 업적에 따라 결정된다.

- ① (가)는 무사안일주의로 인한 비효율성이 나타날 가능성이 크다는 비판을 받는다.
- ② (나)는 외부 환경 변화에 유연하게 대처하기가 용이하다.
- ③ (가)에서는 (나)와 달리 공식적 통제 방식으로 갈등을 해결한다.
- ④ (나)에서는 (가)에 비해 상향식 의사 결정과 수평적 의사소통이 더 중시된다.
- ⑤ (나)에서는 (가)에 비해 업무 결정권이 분산되며 구성원의 창의성이 발휘되기가 더 용이하다.

14. (가), (나)가 적용되어야 할 연구 단계로 옳은 것만을 <보기>에서 있는 대로 고른 것은? [3점]

연구자는 사회 현상의 연구 과정에서 가치 개입과 가치 중립의 문제에 직면한다. 연구자는 학문적 객관성을 위해 가급적 (가)을/를 지켜야 한다. 하지만 연구 과정에서 어떠한 가치 판단도 전제하지 않는 연구는 불가능하므로 (나)이/가 용인되는 단계도 있다.

— <보기> —

ㄱ. (가) - 개념을 측정 가능하도록 조작적으로 정의한다.
 ㄴ. (가) - 수집된 자료를 통해 가설의 진위 여부를 확인한다.
 ㄷ. (나) - 자료 수집 방법으로 질문지법을 선택한다.
 ㄹ. (나) - 독립 변수와 종속 변수 간의 잠정적 관계를 설정한다.

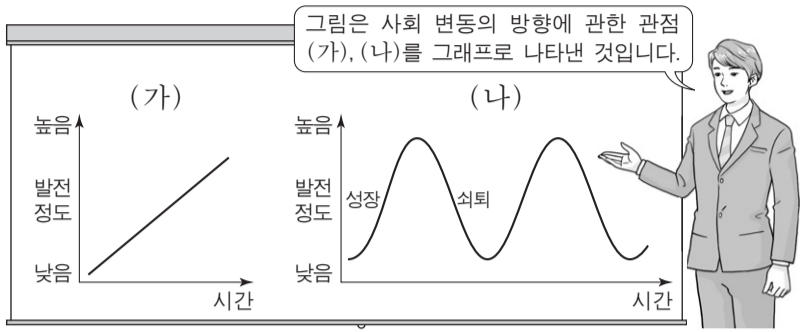
- ① ㄱ, ㄴ ② ㄱ, ㄹ ③ ㄴ, ㄷ
- ④ ㄱ, ㄷ, ㄹ ⑤ ㄴ, ㄷ, ㄹ

15. 표는 우리나라 사회 보장 제도를 구분한 것이다. A~C에 대한 설명으로 옳은 것은? (단, A~C는 각각 사회 보험, 공공 부조, 사회 복지 서비스 중 하나이다.) [3점]

구분	A	B	C
강제 가입을 원칙으로 하는가?	아니요	아니요	예
금전적 지원을 원칙으로 하는가?	아니요	예	예

- * 사회 복지 서비스는 2013년부터 사회 서비스로 변경되어 시행됨.
- ① A는 빈곤층의 최저 생활 보장을 목적으로 한다.
 - ② B는 C보다 상호 부조의 성격이 강하다.
 - ③ B는 A, C보다 수혜 대상자의 범위는 작고, 소득 재분배 효과는 크다.
 - ④ A는 사전 예방, C는 사후 처방의 성격이 강하다.
 - ⑤ A, B 모두 수혜자 부담의 원칙이 적용된다.

16. (가), (나)에 대한 설명으로 가장 적절한 것은? (단, (가)와 (나)는 각각 진화론과 순환론 중 하나이다.)



- ① (가)는 사회 변동이 항상 진보를 의미하지는 않는다는 점을 간과한다.
 - ② (나)는 사회가 이전보다 복잡하고 분화된 모습으로 변동한다고 본다.
 - ③ (가)는 (나)와 달리 미래의 사회 변동에 대한 역동적 대응이 곤란하다는 비판을 받는다.
 - ④ (나)는 (가)와 달리 사회 변동을 긍정적으로 본다.
 - ⑤ (가), (나) 모두 특정 국가의 지속적인 저발전 상태를 설명하는 데 적합하다.
17. 표는 A~C의 특징을 비교한 것이다. 이에 대한 설명으로 옳은 것은? (단, A~C는 각각 농업 사회, 산업 사회, 정보 사회 중 하나이다.) [3점]

비교 기준	비교 결과
가정과 일터의 결합 정도	A > B > C
(가)	B > C > A
(나)	C > B > A

- ① A는 C에 비해 구성원 간 익명성이 높다.
 - ② B는 A에 비해 정보 확산의 시공간적 제약이 크다.
 - ③ C는 B에 비해 정보의 생산자와 소비자 간 구분이 뚜렷하다.
 - ④ (가)는 '면대면 접촉의 비중'이 적절하다.
 - ⑤ (나)는 '다품종 소량 생산의 비중'이 적절하다.
18. 다음에서 사회·문화 현상을 보는 갑~병의 서로 다른 관점에 대한 설명으로 가장 적절한 것은? [3점]

갑: 산업 현장에서 로봇의 활용이 증가하는 것은 첨단 산업 비중이 높아지면서 정밀한 작업을 요하는 정보 사회로의 변화에 대응하기 위한 구성원들의 요구 때문이야.
 을: 내 생각에는 산업 현장에 로봇을 도입하는 것은 초기 부담은 크지만 직원의 인건비 부담을 줄일 수 있어 장기적으로 더 유리하다고 기업가들이 판단했기 때문이야.
 병: 하지만 산업 현장에서 사용되는 로봇은 기업가의 이익을 위한 수단일 뿐, 직원들은 일자리를 빼앗겨 실업자로 전락하고 결국 빈곤 가구의 비율만 높아질 거야.

- ① 갑의 관점은 사회의 안정보다 변동을 중시한다.
- ② 을의 관점은 희소가치를 둘러싼 집단 간 이해관계의 대립을 강조한다.
- ③ 병의 관점은 인간 행동의 동기에 대한 의미와 해석을 중시한다.
- ④ 을의 관점은 갑의 관점과 달리 인간이 이익을 추구하는 존재임을 강조한다.
- ⑤ 병의 관점은 갑의 관점과 달리 사회 구조의 영향력을 중시한다.

19. 밑줄 친 ㉠~㉤에 대한 설명으로 옳지 않은 것은?

㉠ 하우사 족에게는 출산 후 2년간 임신을 금하는 관습이 있다. 부족 여성들의 영양 상태가 나빠 ㉡ 출산 직후에 또 임신하면 단백질 결핍증으로 사망할 위험이 높기 때문에 그들을 보호하려는 것이다. 한편 하우사 족은 결혼한 여성이 이혼하지 않고도 다른 남자와 결혼할 수 있는 ㉢ 혼인 문화를 갖고 있다. 만약 부인이 남편을 버리고 다른 남자에게 가면 남편은 빨리 처가로 달려가 부인을 데려다 달라고 요구해야 한다. 그러지 않으면 ㉣ 그 여자는 다른 남자의 배우자로 공인되는데, 원래 남편과의 혼인도 유지되므로 ㉤ 일처이부제가 인정되는 것이다.

- ① ㉠은 문화가 한 사회의 구성원 다수가 공통적으로 지니는 생활양식임을 보여 준다.
- ② ㉡은 특정 문화가 개별 사회 안에서 고유한 가치를 가지고 형성됨을 보여 준다.
- ③ ㉢에서의 문화는 '문화 시설'에서의 문화와 달리 넓은 의미로 사용된 것이다.
- ④ ㉣은 새로운 문화 요소가 추가되어 점점 더 풍부해지는 문화의 속성을 보여 준다.
- ⑤ ㉤은 사회 구성원의 행동을 통제하는 문화 요소에 해당한다.

20. 다음 자료에 대한 옳은 분석만을 <보기>에서 있는 대로 고른 것은?

(가), (나)는 갑국에서 부모와 자녀의 계층이 일치하는 비율을 부모 세대와 자녀 세대의 계층별로 각각 나타낸 것이다. 자녀 세대의 계층 구성 비율은 상층 25%, 중층 50%, 하층 25%이다. 모든 부모의 자녀는 1명씩이고, 부모 세대 상층에서 자녀 세대 하층으로의 이동은 발생하지 않았다.

(가) 부모 세대 계층 대비 부모와 자녀의 계층이 일치하는 비율		(나) 자녀 세대 계층 대비 부모와 자녀의 계층이 일치하는 비율	
부모 계층	비율(%)	자녀 계층	비율(%)
상층	75	상층	60
중층	50	중층	30
하층	40	하층	80

<보기>

- ㄱ. 세대 간 이동 비율은 50%이다.
- ㄴ. 세대 간 하강 이동한 자녀보다 세대 간 상승 이동한 자녀가 더 많다.
- ㄷ. 부모 세대보다 자녀 세대의 계층 구조에서 사회 통합의 필요성이 더 크다.
- ㄹ. 부모 세대 하층에서 자녀 세대 상층으로의 세대 간 이동은 발생하지 않았다.

- ① ㄱ, ㄴ ② ㄱ, ㄷ ③ ㄷ, ㄹ
- ④ ㄱ, ㄴ, ㄹ ⑤ ㄴ, ㄷ, ㄹ


* 확인 사항
 ○ 답안지의 해당란에 필요한 내용을 정확히 기입(표기)했는지 확인하십시오.

제 4 교시

사회탐구 영역(사회·문화)

성명		수험 번호							
----	--	-------	--	--	--	--	--	--	--

1. 밑줄 친 ㉠~㉣과 같은 현상의 일반적인 특징에 대한 설명으로 옳은 것은?



남아메리카 아마존 강과 오리노코 강 유역에 서식하는 ㉠ 분홍 돌고래는 아마존 지역의 명물로 알려져 있다. 이 돌고래는 몸길이가 2m 내외로, ㉡ 숨을 쉬기 위해 몇 분 간격으로 한 번씩 물 위로 올라온다. 시력이 나쁜 분홍돌고래는 ㉢ 초음파를 이용해 먹이와 장애물의 위치를 감지한다. 과거에는 강가로 나와 아이들과 어울리며 함께 친구가 될 정도로 친숙한 존재였으나 ㉣ 무분별한 사냥과 개발 때문에 현재는 멸종 위기에 처해 있다.

- ① ㉠과 같은 현상은 ㉡과 같은 현상과 달리 상위 법칙의 지배를 받는다.
- ② ㉡과 같은 현상은 ㉢과 같은 현상과 달리 경험적 자료로 연구할 수 있다.
- ③ ㉢과 같은 현상은 ㉠과 같은 현상에 비해 특수성이 강하다.
- ④ ㉢과 같은 현상은 ㉠과 같은 현상과 달리 가치 함축적이다.
- ⑤ ㉣과 같은 현상은 ㉡과 같은 현상에 비해 예측이 용이하다.

2. 갑~병의 대화에 나타난 일탈 이론에 대한 설명으로 옳은 것은? [3점]

사회자: 범죄로 인해 수감되었던 사람들 중 일부는 왜 다시 범죄를 저지르게 될까요?
 갑: 교도소에서 수감자들과 어울리는 동안 범죄 행동에 대해 우호적인 태도를 공유하게 되고, 때로는 함께 지내던 수감자들로부터 범죄 기술을 배우게 되기 때문이지요.
 을: 범죄는 사회적으로 권장되는 목표와 이를 달성하기 위한 합법적 수단 간의 괴리로부터 야기되는 긴장 때문에 발생하는데, 출소 후에도 여전히 그와 같은 상황에 놓인 이들이 범죄를 반복하게 되지요.
 병: 교도소에서 나온 후에 주위로부터 지속적으로 따가운 시선을 받게 되어 스스로를 일탈자로 인식하면서 다시 범죄를 저지르게 되지요.

- ① 갑의 이론은 일탈 행동의 원인을 사회 통제의 강화에서 찾는다.
- ② 을의 이론은 일탈 행동의 구조적 원인보다는 일탈자가 되어 가는 내면적 과정에 초점을 둔다.
- ③ 병의 이론은 특정 행위를 일탈 행동으로 규정하는 객관적 기준이 있다고 본다.
- ④ 갑, 병의 이론은 타인들과의 상호 작용이 일탈 발생 과정에 미치는 영향을 중시한다.
- ⑤ 병의 이론은 갑, 을과 달리 최초의 일탈을 방치하면 또 다른 일탈로 이어진다고 본다.

3. 다음 사례에 나타난 연구 윤리상의 문제점으로 적절하지 않은 것은? [3점]

연구자 갑은 학술 대회 논문 발표를 위해 노인의 요양 기간과 가족 유대감 간의 관계를 연구하기로 하였다. 이를 위해 ○○요양병원 원장에게 허락을 구하고 해당 병원의 노인들을 대상으로 설문 조사와 면접을 실시하였다. 면접 중에 피로를 호소하거나 정서적 불안을 토로하는 노인들의 경우, 면접을 중단하고 미리 대기시켜 놓은 의료진의 보살핌을 받도록 하였다. 그 대신 본인에게는 알리지 않고 가족으로부터 노인들의 편지, 수첩 등을 확보하였다. 수집한 자료 중 가시를 지지하지 않는 자료는 의도적으로 제외하고 분석하였다. 그리고 논문 발표 시 자료의 사실성을 보여 주기 위해 면접 참여 노인들의 이름을 공개하였다. 그 후, 가족 유대감이 낮은 노인들의 명단 등 조사 자료를 노인 전문 상담 기관에 제공하고 금전적 보상을 받았다.

- ① 수집한 자료를 연구 이외의 목적으로 활용하였다.
- ② 면접 과정에서 연구 대상의 안전을 고려하지 않았다.
- ③ 연구 대상의 동의를 구하지 않고 자료를 수집하였다.
- ④ 연구 결과 발표 시 연구 대상의 익명성을 보장하지 않았다.
- ⑤ 자료 분석 과정에서 특정 방향으로 결론을 유도하기 위한 조작이 이루어졌다.

4. 사회 변동의 방향을 바라보는 갑, 을의 관점에 대한 옳은 설명을 <보기>에서 고른 것은?

갑: 인류 문명의 성장 과정을 미디어의 발달과 관련지어 설명할 수 있다. 인류 문명은 말[言]의 등장과 수렵·채취 사회, 문자의 등장과 농경 사회, 인쇄술의 등장과 산업 사회, 원격 통신의 등장과 정보 사회의 네 단계를 거쳐 왔다.
 을: 유목민과 정착민 간의 갈등을 통해 120년 주기로 나타나는 문명의 변동 과정을 설명할 수 있다. 유목민은 기회가 오면 도시의 정착민을 공격하고 정복한다. 이렇게 정복에 성공한 유목민은 차츰 도시 생활에 안주하면서 정착민으로 변모한다. 하지만 이들 역시 안일한 삶과 부패가 만연해지면서 또 다른 강력한 유목민에게 정복당한다.

— <보기> —

- ㄱ. 갑의 관점은 사회 변동을 비관적으로 바라본다.
- ㄴ. 을의 관점은 사회 변동이 일정한 양상을 반복하며 진행된다고 본다.
- ㄷ. 갑의 관점은 을과 달리 사회가 단순한 상태에서 복잡하고 분화된 상태로 변동한다고 본다.
- ㄹ. 을의 관점은 갑과 달리 모든 발전은 곧 서구화임을 전제로 하여 제국주의의 지배를 정당화한다.

- ① ㄱ, ㄴ ② ㄱ, ㄷ ③ ㄴ, ㄷ ④ ㄴ, ㄹ ⑤ ㄷ, ㄹ

5. 밑줄 친 ㉠~㉥에 대한 설명으로 옳은 것은? [3점]

○○신문 2015년 ○월 ○일

축구 선수 갑은 수년 간 해외 구단에서 주전 공격수로 활동하다가 부진으로 인해 ㉠ 계약 해지를 통보받았다. ㉡ 향후 거취를 고민하던 갑은 국내 △△프로 축구팀 ㉢ 감독인 ㉣ 아버지 을의 권유로 국내 리그에 복귀하였다. 그 후 ㉤ ☆☆축구협회에서 지도자 연수를 받고 코치 겸 선수로 뛰던 갑은 지치지 않는 체력과 탁월한 리더십을 발휘하며 소속팀을 우승으로 이끌었다. 그 결과 ㉥ 국가 대표팀 선수로도 거론되는 등 제2의 전성기를 누리고 있다.

- ① ㉠은 갑의 역할 수행에 대한 제재에 해당한다.
- ② ㉡은 갑의 역할 갈등이다.
- ③ ㉢은 후천적으로 획득한 지위, ㉣은 선천적으로 주어진 지위이다.
- ④ 갑은 공식적 사회화 기관인 ㉤에서 예기 사회화를 경험하였다.
- ⑤ ㉥은 갑의 내집단이면서 준거 집단이다.

6. 다음에 나타난 종교를 바라보는 관점에 대한 옳은 설명을 <보기>에서 고른 것은?

종교는 성스러운 존재들과 관련된 믿음과 의례가 결합된 체계를 통해 구성원에게 공통의 가치를 제공한다. 그리고 공동체의 집단 정체성을 형성하며 구성원 간의 결속을 강화시킨다. 이를 통해 종교는 사회 질서 유지와 통합에 기여한다.

— <보기> —

ㄱ. 종교가 제시하는 도덕률이 사회의 조화와 균형에 기여한다고 본다.

ㄴ. 종교는 개인으로 하여금 구조화된 행동 양식을 따르게 한다고 본다.

ㄷ. 종교는 개인을 현실에 순응하게 함으로써 사회 변혁 의지를 무력화시킨다고 본다.

ㄹ. 종교가 기득권층의 가치를 합리화하여 현재의 불평등 구조를 정당화한다고 본다.

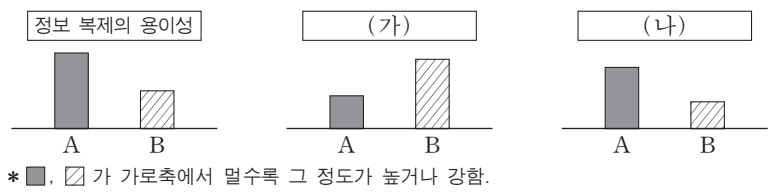
- ① ㄱ, ㄴ ② ㄱ, ㄷ ③ ㄴ, ㄷ ④ ㄴ, ㄹ ⑤ ㄷ, ㄹ

7. 밑줄 친 ㉠~㉥에 대한 설명으로 가장 적절한 것은?

동아프리카의 키크유 족은 ㉠ 상대의 손바닥에 침을 뱉어 반가움을 표현한다. 일부 사람들은 이러한 ㉡ 인사 문화에 대해 ㉢ 더럽다거나 상대방의 기분을 고려하지 않는다고 생각하기도 한다. 그러나 이러한 인사법은 ㉣ 물이 귀한 이 지역에서 수분을 함께 나눈다는 뜻으로 이해할 수 있다. 또한, 행운을 기원하는 ㉤ 주술의 의미도 포함되어 있다.

- ① ㉠은 문화 요소 중 인간의 욕구 충족을 위한 '기술'에 해당한다.
- ② ㉡에서의 문화는 '문화 시민'에서의 문화와 같이 좁은 의미로 사용되었다.
- ③ ㉢에는 문화를 평가의 대상으로 보는 태도가 담겨 있다.
- ④ ㉣은 타문화를 통해 자신의 문화를 객관적으로 바라보는 관점에 해당한다.
- ⑤ ㉤은 ㉡과 달리 비물질 문화에 해당한다.

8. 그림은 대중 매체 유형 A, B의 특징을 비교한 것이다. 이에 대한 설명으로 옳은 것은? (단, A, B는 각각 인쇄 매체와 뉴미디어 중 하나이다.) [3점]



- ① A는 B에 비해 정보의 생산자와 소비자 간 경계가 뚜렷하다.
- ② B는 A와 달리 정보의 동시적 전달이 가능하다.
- ③ B는 A에 비해 정보의 전달자와 수용자 간 상호 작용이 활발하다.
- ④ (가)에는 '시청각 정보 제공의 용이성'이 적절하다.
- ⑤ (나)에는 '정보 확산 경로의 다양성'이 적절하다.

9. 밑줄 친 A, B문화의 일반적인 특징에 대한 설명으로 옳은 것은? [3점]

문화는 사회마다 다를 뿐 아니라 같은 사회 내에서도 다양한 양상으로 나타난다. 한 사회 내의 특정 집단 구성원들만이 공유하는 문화가 있는데, 이를 A문화라고 한다. 또한, 주류 문화에 반대하고 적극적으로 도전하는 양상을 보이는 B문화도 있다. B문화는 때로는 지배 집단에 의해 일탈로 규정되기도 한다.

- ① 모든 A문화의 총합은 전체 문화이다.
- ② 사회가 복잡해질수록 A문화는 전체 문화로 수렴되는 경향을 보인다.
- ③ B문화는 전체 문화와 공통 요소를 가지고 있다.
- ④ A문화는 사회의 변동을, B문화는 사회의 안정을 지향한다.
- ⑤ A문화는 사회에 따라 상대적으로, B문화는 사회에 상관없이 절대적으로 규정된다.

10. 다음 자료에 대한 분석으로 옳은 것은?

표는 갑국과 을국의 절대적 빈곤 가구 수(A) 대비 상대적 빈곤 가구 수(B)의 변화를 나타낸 것이다. 두 국가 모두 2000년에서 2010년 사이에 최저 생계비는 지속적으로 증가하였다. (단, 갑국과 을국 각각 모든 가구의 구성원 수는 동일하다.)

구분	2000년	2005년	2010년
갑국(B/A)	0.25	1	1.5
을국(B/A)	2	1	0.5

* 절대적 빈곤 가구: 가구 소득이 절대적 빈곤선(최저 생계비) 미만인 가구
 ** 상대적 빈곤 가구: 가구 소득이 상대적 빈곤선(중위 소득의 50%) 미만인 가구
 *** 중위 소득: 전체 가구를 소득 순으로 나열했을 때 한 가운데 위치한 가구의 소득

- ① 2000년에 갑국에서 절대적 빈곤선은 상대적 빈곤선의 4배이다.
- ② 2000년에 을국에서 상대적 빈곤 가구는 모두 절대적 빈곤 가구에 해당한다.
- ③ 2005년 대비 2010년에 갑국에서는 절대적 빈곤선과 상대적 빈곤선이 모두 높아졌다.
- ④ 2010년에 을국에서 중위 소득 대비 최저 생계비의 비율은 50% 미만이다.
- ⑤ 2010년에 갑국은 을국과 달리 상대적 빈곤 가구의 비율이 절대적 빈곤 가구의 비율보다 낮다.

11. 표는 교육 제도를 바라보는 관점 (가), (나)를 구분한 것이다. A에 들어갈 질문으로 옳은 것은? (단, (가), (나)는 각각 기능론과 갈등론 중 하나이다.) [3점]

질문	관점	
	(가)	(나)
학교를 지배 집단이 자신들의 가치를 학습시키는 통치 수단으로 보는가?	예	아니요
A	아니요	예

- ① 학교 교육을 통한 사회 이동의 가능성을 과소평가한다는 비판을 받는다?
- ② 학교 교육을 통해 인재가 적재적소에 효율적으로 배치될 수 있다고 보는가?
- ③ 학교 교육의 내용과 방식이 중·상류층에 속한 학생에게 유리하다고 보는가?
- ④ 교육 불평등 문제를 해결하기 위한 방안으로 접근 기회의 평등보다 결과의 평등을 중시하는가?
- ⑤ 학교 교육은 학생을 기존 권위에 복종하도록 훈육함으로써 불평등 구조를 고착화한다고 보는가?

12. 갑~병이 선택한 자료 수집 방법의 일반적인 특징에 대한 설명으로 옳은 것은?

교사 청소년들의 팬덤(fandom) 문화를 주제로 각자의 연구 계획을 발표해 보세요.

갑 저는 청소년들의 팬덤 문화와 소비 양식의 관계를 분석해 보기 위해 우리 학교 학생들을 대상으로 설문 조사를 하려고 합니다.

을 저는 청소년들의 팬덤 문화가 그들에게 어떤 의미를 갖는지 알아보기 위해 팬클럽에 가입하고 콘서트장과 팬미팅 현장 등에 가서 직접 느끼고 확인해 볼 생각입니다.

병 저는 청소년들의 팬덤 문화 실태를 살펴보기 위해 최근의 언론 자료와 주요 연구 논문 등을 찾아 정리해 보겠습니다.

- ① 갑의 방법은 을에 비해 예상치 못한 상황의 통제가 어렵다.
- ② 을의 방법은 병에 비해 시간과 공간의 제약을 적게 받는다.
- ③ 병의 방법은 갑에 비해 실제성이 높은 생생한 자료를 확보하기 용이하다.
- ④ 갑의 방법은 을, 병에 비해 연구 대상에 대한 연구자의 감정 이입을 중시한다.
- ⑤ 갑, 을의 방법은 1차 자료를 수집하는 방법이다.

13. 사회 집단과 사회 조직의 유형 A~C에 대한 설명으로 옳은 것은?

○ A의 성립은 B를 전제로 하며, A의 구성원은 항상 B의 구성원이 된다. A는 친목 도모를, B는 과업 달성을 중시한다.

○ 결합 의지에 따라 사회 집단을 구분할 때 A, B는 C로 분류된다.

- ① 대학 내 홍보 부서는 A에, 대학은 B에 해당한다.
- ② 종친회와 가족은 C에 해당한다.
- ③ A는 B에 비해 공식적 규범에 대한 의존도가 높다.
- ④ B는 A와 달리 상향식 의사 결정 과정이 지배적이다.
- ⑤ A, B, C 모두 구성원의 특정 목적을 위해 인위적으로 만들어진 것이다.

14. 다음 두 사례에서 공통적으로 부각되는 문화의 속성에 대한 옳은 설명을 <보기>에서 고른 것은? [3점]

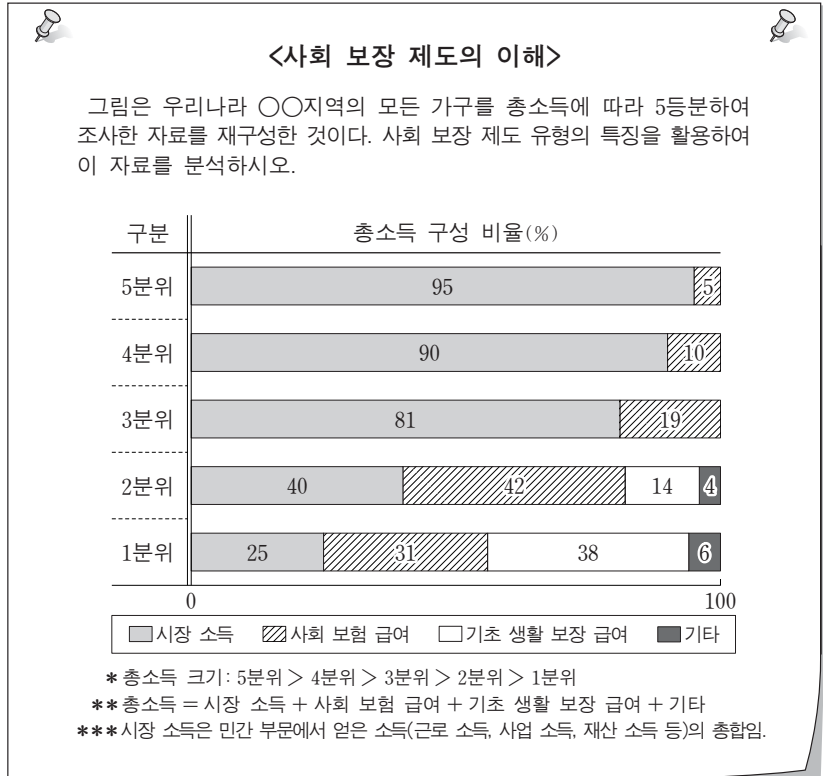
- A국에서는 남은 음식을 제공하는 사람이 이를 얻어 가는 걸인에게 고마움을 표시한다. 이는 덩고 습한 지역이 많은 A국에서는 다모작이 가능하여 식량이 풍족하게 생산되는 반면, 음식을 오래 보관하기 곤란하다는 것과 관련이 깊다.
- 유목 생활을 하는 B민족은 화장(火葬) 문화를 가지고 있다. 이는 잦은 이동 생활로 인해 무덤에 대한 지속적인 사후 관리가 용이하지 않다는 것과 관련이 깊다.

<보기>

- ㄱ. 문화는 상징을 통해 다음 세대로 전달·계승된다.
- ㄴ. 문화는 여러 요소들이 유기적으로 결합된 하나의 체계이다.
- ㄷ. 문화는 시간의 흐름에 따라 기존 요소가 사라지거나 변화한다.
- ㄹ. 문화는 부분이 아닌 전체로서 의미를 갖기 때문에 문화 요소 간에 서로 영향을 미친다.

- ① ㄱ, ㄴ ② ㄱ, ㄷ ③ ㄴ, ㄷ ④ ㄴ, ㄹ ⑤ ㄷ, ㄹ

15. 교사가 제작한 수업 자료에 대한 학생들의 분석으로 옳은 것은? [3점]



- ① 갑: 소득 재분배 효과가 있는 사회 보장 제도에 의한 급여는 2분위 이하에게만 제공됩니다.
- ② 을: 저소득 분위일수록 총소득 중 강제 가입을 원칙으로 하는 제도에 의한 급여의 비율이 높습니다.
- ③ 병: 수혜 대상자 선정 과정에서 소득이 고려되는 제도의 수혜자는 ○○지역 전체 인구의 40%입니다.
- ④ 정: 1분위에서는 총소득 중 사후 처방적 성격이 강한 사회 보장 제도에 의한 급여의 비율이 가장 높습니다.
- ⑤ 무: 총소득 중 수혜자 부담 원칙이 적용되지 않는 사회 보장 제도에 의한 급여의 비율이 가장 높은 분위는 2분위입니다.

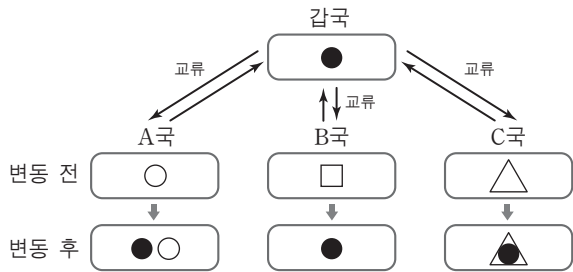
16. 다음은 사회 계층화 현상에 대한 어떤 이론이다. 이에 대한 옳은 설명만을 <보기>에서 있는 대로 고른 것은?

사회는 재산, 권력, 위신에 기초하여 계층화된다. 재산의 차이는 '계급'을, 권력의 차이는 '파당'을, 위신의 차이는 '지위 집단'을 만들어 낸다. 어떤 사람이 이들 중 한두 가지 차원에서 상층에 속하더라도 나머지 다른 차원에서는 하층에 속할 수 있다.

〈보기〉
 ㄱ. 다원론적 관점에서 사회 계층화 현상을 바라본다.
 ㄴ. 현대 사회의 지위 불일치 현상을 설명하기 용이하다.
 ㄷ. 동일한 계층적 위치에 속한 구성원 간의 귀속 의식을 강조한다.
 ㄹ. 사회 계층화 현상을 불연속적으로 구분되어 있는 상태로 파악한다.

- ① ㄱ, ㄴ ② ㄱ, ㄷ ③ ㄷ, ㄹ
 ④ ㄱ, ㄴ, ㄹ ⑤ ㄴ, ㄷ, ㄹ

17. 그림은 갑국과 교류한 A~C국의 문화 변동 양상과 결과를 나타낸 것이다. 이에 대한 분석으로 가장 적절한 것은?



* □ 안의 기호는 각국의 문화 요소이며, ▲는 ●와 △가 혼합되어 나타난 것임.

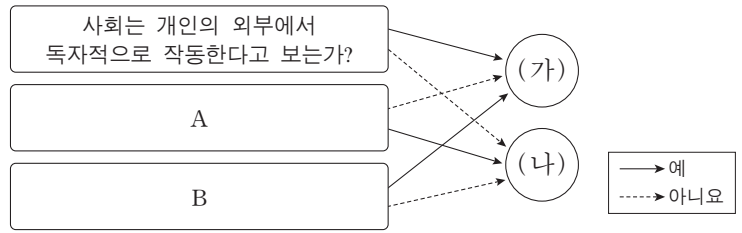
- ① A국의 문화 변동 결과에 해당하는 사례로는 서양의 결혼 예식과 전통 폐백 의례가 결합된 현재 한국의 결혼식을 들 수 있다.
 ② B국의 문화 변동 결과는 자발적이 아닌 강제적 문화 접변에 의해 나타났다.
 ③ C국의 문화 변동 결과에 해당하는 사례로는 한국에서 전통 시장과 별도로 온라인 쇼핑몰이 자리 잡은 것을 들 수 있다.
 ④ A, C국에서는 문화 접변 후에도 자문화 요소가 유지되고 있다.
 ⑤ A, B국에서는 C국과 달리 외래 문화 요소를 수용하였다.

18. 다음 연구에 대한 설명으로 옳은 것은? [3점]

야간 대학원을 다니며 석사 학위 논문을 준비하던 직장인 갑은 자신의 직장 동호회 활동 경험에서 아이디어를 얻어 직장인들의 ㉠ 회사 생활 만족도에 ㉡ 사내 동호회 활동이 미치는 영향을 알아보기 위한 연구를 진행하였다. 먼저 갑은 ㉢ 자신이 속한 직장의 전체 직원들 중 ㉣ 500명을 성별, 연령별, 직급별 비율에 따라 추출하였다. 그리고 이들을 대상으로 구조화된 질문지를 활용하여 급여 수준, 근무 환경, 직장 내 인간 관계 등에 대한 만족도를 조사한 후, ㉤ 동호회 참여 집단과 ㉥ 미참여 집단으로 구분하여 자료를 분석하였다. 그 결과, 동호회 참여 집단의 만족도가 더 높게 나타났다.

- ① ㉠은 독립 변수, ㉡은 종속 변수이다.
 ② ㉢은 모집단, ㉣은 표본 집단이다.
 ③ ㉤은 실험 집단, ㉥은 통제 집단이다.
 ④ 주제 설정 및 자료 수집 단계에서 연구자의 가치가 배제되었다.
 ⑤ 연구 대상의 주관적 가치를 측정하여 규칙성을 도출할 수 있는 연구 방법이 사용되었다.

19. 그림은 개인과 사회의 관계를 보는 관점 (가), (나)를 분류한 것이다. 이에 대한 옳은 설명만을 <보기>에서 있는 대로 고른 것은?



〈보기〉
 ㄱ. (가)는 개인의 능동성보다 사회 규범의 구속성을 중시한다.
 ㄴ. (나)는 사회를 실체가 없는 허구적 개념에 불과한 것으로 본다.
 ㄷ. A에는 '사회 문제 해결을 위해 개인의 의식 변화보다 제도적 개입을 강조하는가?'가 적절하다.
 ㄹ. B에는 '사회가 개인으로 환원될 수 있다고 보는가?'가 적절하다.

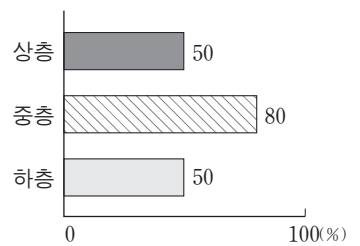
- ① ㄱ, ㄴ ② ㄱ, ㄷ ③ ㄷ, ㄹ
 ④ ㄱ, ㄴ, ㄹ ⑤ ㄴ, ㄷ, ㄹ

20. (가), (나)에 대한 옳은 분석만을 <보기>에서 있는 대로 고른 것은? [3점]

(가) <갑국의 1970년 계층 구조 현황>

구분	자녀 세대 계층			계
	상층	중층	하층	
부모 세대	상층 6	중층 2	하층 2	계 10
세대 계층	중층 24	17	19	계 60
	하층 4	1	25	계 30
계	34	20	46	100

(나) <갑국의 1970년 자녀 세대 중 2000년에도 계층을 유지한 비율>



〈보기〉
 ㄱ. (가)에 따르면, 세대 간 상승 이동이 세대 간 하강 이동보다 많다.
 ㄴ. (가)에 따르면, 자녀 세대 중에서 세대 간 이동을 경험한 비율이 가장 낮은 계층은 중층이다.
 ㄷ. (가)에 따르면, 부모 세대의 계층 대비 계층 대물림 비율은 중층에서 가장 낮고 상층에서 가장 높다.
 ㄹ. (가), (나)에 따르면, 자녀 세대 중 세대 내 상승 이동을 한 사람이 세대 내 하강 이동을 한 사람보다 많다.

- ① ㄱ, ㄴ ② ㄴ, ㄷ ③ ㄷ, ㄹ
 ④ ㄱ, ㄴ, ㄹ ⑤ ㄱ, ㄷ, ㄹ

* 확인 사항
 ○ 답안지의 해당란에 필요한 내용을 정확히 기입(표기)했는지 확인하십시오.

제 4 교시

사회탐구 영역(사회·문화)

성명		수험 번호							
----	--	-------	--	--	--	--	--	--	--

1. 밑줄 친 ㉠~㉣과 같은 현상의 일반적인 특징에 대한 설명으로 옳은 것은?

중국 황제의 아내인 누조는 어느 날 정원을 거닐다가 ㉠ 나무 위에서 누에가 고치를 만들고 있는 것을 보았다. 고치 속의 ㉡ 누에가 눈보라를 견디며 겨울을 넘긴 것을 겨우내 관찰한 그녀는 이것으로 옷을 만들면 추위를 막을 수 있으리라 여겼다. 실제로 누에고치에서 실을 뽑아 옷을 만들어 ㉢ 동물 가죽으로 만든 옷과 비교해보니 한결 따뜻하고 가볍다는 것을 알게 되었다. 이듬해 그녀는 ㉣ 야생 누에를 거두어 길러 많은 고치를 생산해 냈다.

- ① ㉠, ㉢과 같은 현상에는 확실성의 원리가 작용한다.
- ② ㉠, ㉣과 같은 현상은 특수성보다 보편성이 강하다.
- ③ ㉡, ㉣과 같은 현상은 가치 함축적이다.
- ④ ㉠과 같은 현상은 ㉢과 같은 현상과 달리 당위법칙을 따른다.
- ⑤ ㉢과 같은 현상은 ㉡과 같은 현상과 달리 인과관계가 분명하다.

2. (가), (나)에 나타난 교육의 기능을 보는 서로 다른 관점에 대한 설명으로 옳은 것만을 <보기>에서 있는 대로 고른 것은?

(가) 학교에서 가르치는 교육 내용은 보편적이거나 중립적이지 않음에도 불구하고 사회 구성원이 합의한 것이라고 전제하고 있다. 교육은 특정 집단의 가치와 그들을 위한 제도를 보편타당한 것으로 정당화시켜 자연스럽게 전수하는 기능을 수행하고 있는 것이다.

(나) 교육은 사회생활을 위한 준비가 안 된 어린 세대에게 성인 세대가 영향력을 행사하는 과정이다. 이를 통해 어린 세대는 사회가 요구하는 규범 체계에 대한 헌신의 감정을 갖게 된다. 이처럼 그 사회가 요구하는 지적, 도덕적, 신체적 특성을 갖추도록 어린 세대를 육성하는 것이 교육의 목적이다.

— <보기> —

- ㄱ. (가)의 관점은 교육이 사회 불평등 구조를 재생산한다고 본다.
- ㄴ. (나)의 관점은 교육을 그 사회에서 지배적으로 인정되는 가치와 규범을 학습시키는 과정으로 본다.
- ㄷ. (가)의 관점은 (나)의 관점과 달리 학생의 가정 배경이 학업 성취에 미치는 영향력을 간과한다는 비판을 받는다.
- ㄹ. (나)의 관점은 (가)의 관점과 달리 사회가 필요로 하는 인재 양성에 대한 학교 교육의 공헌을 간과한다는 비판을 받는다.

- ① ㄱ, ㄴ ② ㄱ, ㄹ ③ ㄷ, ㄹ
- ④ ㄱ, ㄴ, ㄷ ⑤ ㄴ, ㄷ, ㄹ

3. (가), (나)에 나타난 사회·문화 현상을 바라보는 서로 다른 관점에 대한 설명으로 가장 적절한 것은? [3점]

(가) 젊은 세대는 고령자로부터 제공받는 경험과 지식의 가치에 상응하여 고령자에게 권위와 존경을 부여한다. 젊은 세대가 고령자의 경험과 지식의 효용성을 인정하지 않으면 고령자에 대한 권위와 존경을 철회한다. 이 경우에 고령자의 삶의 만족도가 낮아질 수 있다.

(나) 고령자들은 노년에 대한 부정적 정의를 스스로 거부하고 다양한 여가 활동과 사회 참여를 통해 노후의 삶에 대한 긍정적인 의미를 부여한다. 이를 통해 고령자는 새로운 노년상을 만들어 가면서 스스로 삶의 만족도를 높인다.

- ① (가)의 관점은 전략적인 판단에 기초한 인간관계에 주목한다.
- ② (나)의 관점은 집단 간의 대립과 갈등을 사회 구조의 필연적 속성으로 파악한다.
- ③ (가)의 관점과 달리 (나)의 관점은 구성원 간의 사회적 합의에 기초한 규범을 강조한다.
- ④ (나)의 관점과 달리 (가)의 관점은 사회의 질서와 안정을 위한 행위자의 역할을 강조한다.
- ⑤ (가)의 관점은 인간의 합리성을, (나)의 관점은 사회 구조의 영향력을 강조한다.

4. 밑줄 친 ㉠~㉣에 대한 설명으로 옳은 것은? [3점]

A는 ㉠ “개인의 일상적인 행동의 변화에 가치 지향보다 주변 사람에의 동조가 더 큰 영향을 미칠 것이다.”라는 가설을 검증하기 위해 연구를 시작했다. 한 마을의 ㉡ 주택 소유자 1,000명을 대상으로 자신이 ㉢ 에너지 소비량을 줄인다면 ㉣ 2가지 이유 (환경보호에 도움, 주변 이웃에의 동조) 중 어떤 것이 더 큰 영향을 줄 것인지를 설문조사한 결과 ‘환경보호에 도움’을 선택한 비율이 더 높았다. 이와 별도로 동일 대상을 무작위로 ㉤ 500명씩 2개 집단으로 분류하고, 집단별로 2가지 이유 중의 하나가 적힌 팻말을 집 앞에 세워 놓았다. 한 달 후에 에너지 소비량을 측정하여 분석했더니, “에너지 절약이 환경보호에 도움이 됩니다.”라는 팻말을 세운 집단보다 ㉥ “많은 이웃이 에너지를 절약하고 있습니다.”라는 팻말을 세운 집단에서 개인별 에너지 소비량의 감소 정도가 더 크게 나타났다. 이런 연구 과정을 통해 A는 가설 검증에 관련된 연구 결론을 제시했다. 더불어 A는 ㉦ 실제로 사람들은 자신의 일상적인 행동의 변화에 영향을 주는 요인을 정확하게 알지 못한다는 것을 부가적으로 파악했다고 밝혔다.

- ① 설문조사 분석 결과에 의해 ㉠은 채택된다.
- ② ㉠에서의 ‘일상적인 행동의 변화’는 ‘에너지 소비량 감소’로 조작적 정의되었다.
- ③ ㉢은 독립 변수이고, ㉣은 종속 변수이다.
- ④ ㉤은 ㉡의 표본이며, 실험 집단은 ㉥이다.
- ⑤ ㉦은 ㉠을 연역적 과정을 통해 일반화한 것이다.

5. 밑줄 친 ㉠~㉣에 대한 설명으로 옳은 것은? [3점]

○ 갑은 동료 교사들과 ㉠ 학교 내 ㉡ 연극 동아리 활동을 하면서 '햄릿' 공연을 준비하고 있다. ㉢ 주인공 햄릿 역할을 맡은 갑은 원작을 어떻게 해석해 연기를 해야 할지 ㉣ 고민에 빠졌다.

○ 을은 ㉤ △△김씨중친회 총무이다. 또한 평소 환경 문제에도 관심이 있어 ㉥ □□환경연대라는 환경 단체에서 상임위원으로 선출되어 활동하고 있다. 그런데 이번 주말에 두 모임의 일정이 겹쳐 어떻게 해야 할지 ㉦ 고민에 빠졌다.

- ① ㉡은 갑의 내집단이면서 공동 사회이다.
- ② ㉢은 갑의 ㉡에서의 성취 지위이다.
- ③ ㉤은 혈연적 특성에 의해 선천적으로 부여된 지위이다.
- ④ ㉥은 ㉠과 같이 과업 지향적인 공식 조직이다.
- ⑤ ㉣은 갑의, ㉦은 을의 역할 갈등에 해당한다.

6. 문화 이해의 태도 A~C에 대한 설명으로 옳지 않은 것은? (단, A~C는 각각 문화 사대주의, 문화 상대주의, 자문화 중심주의 중 하나이다.)

타문화를 받아들임에 있어서 A는 B에 비해 수용적이지만, 자기 문화의 정체성을 보존하는 데는 B가 A보다 유리하다. 한편 문화의 다양성 신장을 위해서는 A, B보다 C가 필요하다.

- ① 외국 브랜드 제품에 대한 맹목적인 선호 풍조는 A의 사례이다.
- ② 연장자에게 악수를 청하는 외국인을 보고 무례하다고 비난하는 것은 B의 사례이다.
- ③ 외국의 특정 음식에 대해 거부감은 있지만 그들의 생활양식으로 이해하는 것은 C의 사례이다.
- ④ A는 국수주의에, C는 극단적 상대주의에 빠질 가능성이 높다는 비판을 받는다.
- ⑤ A, B 모두 문화에 대한 우열 비교가 가능하다고 본다.

7. 근대화를 바라보는 갑, 을의 관점에 대한 설명으로 옳은 것은?

선진국으로 발전한 서구 국가들의 개발 경로를 그대로 따라서 후진국들도 산업화 과정을 통해 정치, 경제, 사회, 문화 등 모든 측면에서 발전을 이루어 근대 사회로 나아가야 한다고 봅니다.

글쎄요. 서구 국가들의 발전은 그들의 식민지 지배를 받은 후진국을 억압하고 착취하여 이뤄낸 것이며, 지금도 이런 구조가 유지되고 있습니다. 이를 근본적으로 개선하지 않으면 후진국의 자립적 발전은 어렵다고 봅니다.



- ① 갑의 관점은 사회 변동에 일정한 방향이 없다고 본다.
- ② 을의 관점은 후진국의 저발전 원인을 외부적 요인에서 찾는다.
- ③ 갑의 관점과 달리 을의 관점은 후진국의 발전 전략으로 서구 선진국의 발전 방식을 선호한다.
- ④ 을의 관점과 달리 갑의 관점은 후진국의 전통문화가 근대 사회로의 발전에 기여할 것으로 본다.
- ⑤ 갑, 을의 관점은 모두 후진국의 발전을 위해 선진국과 후진국 간에 호혜적 상호 작용이 필수적이라고 본다.

8. A~D에 해당하는 자료 수집 방법의 일반적인 특징에 대한 설명으로 옳은 것은? (단, A~D는 각각 면접법, 실험법, 질문지법, 참여 관찰법 중 하나이다.)

- A와 달리 B에서는 언어적 상호 작용이 필수적이다.
- B와 달리 D에서는 연구 변수에 대한 인위적인 처치와 조작을 강조한다.
- C와 달리 A는 □(가) (이)라는 장점이 있다.
- C, D는 모두 양적 연구에서 흔히 사용된다.

- ① A는 문맹자에게 사용하기 어렵다.
- ② B는 기존 연구의 경향성 파악에 용이하다.
- ③ C는 일상생활을 심층적으로 파악하기에 용이하다.
- ④ 자료 수집 상황에 대한 통제 수준은 D>C>B>A 순서이다.
- ⑤ (가)에는 “다수를 대상으로 자료를 수집하기에 용이하다.”가 적절하다.

9. 다음은 개인과 사회를 바라보는 관점에 대한 글이다. A에 들어갈 적절한 진술을 <보기>에서 고른 것은?

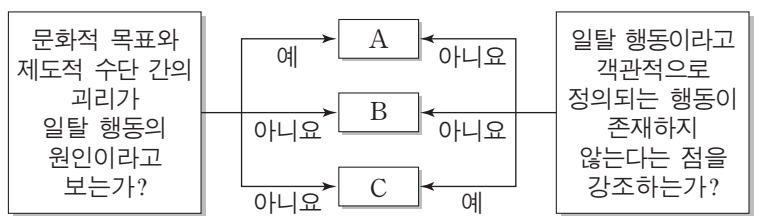
사회에 대해 어떤 사람들은 '본능', '의지', '모방 성향', '이기심과 합리적 선택'과 같은 구성원의 개인적인 특성을 기반으로 분석한다. 이런 관점은 사회 구조가 개인의 특성과 행동을 집합한 결과라는 점을 전제한다. 그런데 이는 개인의 특성과 행동을 규정하는 근원적인 규범이 존재함을 무시하는 것이다. 이 점에서 “ A ”라는 주장에는 동의할 수 없다.

— <보기> —

- ㄱ. 사회적 사실은 개인적 행위로 환원될 수 없다.
- ㄴ. 개인의 능동성이 사회의 구속성보다 우선한다.
- ㄷ. 사회 규범은 개인들이 옳다고 믿기에 존재한다.
- ㄹ. 개인은 집단 전체와의 관련 속에서만 존재 의미를 지닌다.

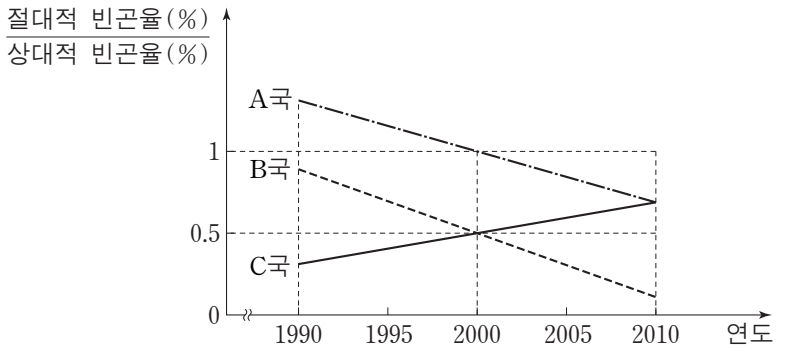
- ① ㄱ, ㄴ ② ㄱ, ㄷ ③ ㄴ, ㄷ ④ ㄴ, ㄹ ⑤ ㄷ, ㄹ

10. 일탈 이론 A~C에 대한 설명으로 가장 적절한 것은? (단, A~C는 각각 낙인 이론, 아노미 이론, 차별적 교제 이론 중 하나이다.) [3점]



- ① A는 법 위반에 대한 우호적 가치의 습득을 일탈 행동의 원인으로 본다.
- ② B는 불평등한 사회 구조와 그로 인한 집단 간의 갈등을 일탈 행동의 원인으로 본다.
- ③ C는 사소한 사회적 무질서를 방치하는 것이 더 큰 일탈 행동을 초래한다고 본다.
- ④ B와 달리 A는 일탈 행동에 대한 규정을 신중하게 할 필요가 있음을 강조한다.
- ⑤ C와 달리 B는 일탈 행동의 해결 방안으로 정상적인 사회 집단과의 상호 작용 촉진을 제시한다.

11. 그림에 대한 분석으로 옳은 것만을 <보기>에서 있는 대로 고른 것은? (단, 이 기간 동안 A~C국의 전체 가구 수와 절대적 빈곤 가구 수는 지속적으로 증가하였으며, 모든 가구의 구성원 수는 동일하다.)



*절대적 빈곤율: 전체 가구 중 절대적 빈곤 가구(가구 소득이 최저 생계비 미만인 가구)의 비율
 **상대적 빈곤율: 전체 가구 중 상대적 빈곤 가구(가구 소득이 중위 소득의 50% 미만인 가구)의 비율
 ***중위 소득: 전체 가구를 소득 순으로 일렬로 배열했을 때 한가운데 위치한 가구의 소득

— <보기> —

- ㄱ. 1990년부터 2000년까지 B국의 상대적 빈곤 가구 수는 증가하였고, C국의 상대적 빈곤 가구 수는 감소하였다.
- ㄴ. 1990년부터 2010년까지 A국에서 절대적 빈곤 가구 수의 증가율보다 상대적 빈곤 가구 수의 증가율이 더 낮다.
- ㄷ. 1995년부터 2010년까지 B국에서 중위 소득의 1/2이 최저 생계비보다 크다.
- ㄹ. 2005년부터 2010년까지 A국, B국, C국 모두에서 절대적 빈곤 가구는 모두 상대적 빈곤 가구에 속한다.

- ① ㄱ, ㄴ ② ㄴ, ㄷ ③ ㄷ, ㄹ
- ④ ㄱ, ㄴ, ㄹ ⑤ ㄱ, ㄷ, ㄹ

12. (가), (나)에서 공통적으로 부각되는 문화의 속성에 대한 진술로 옳은 것만을 <보기>에서 있는 대로 고른 것은? [3점]

- (가) 농경 국가이던 A국에 목축업이 도입되면서 다수의 사람들이 유제품과 육류를 즐기는 식생활 문화를 누리게 되었다. 또한 양모를 활용한 의복 문화와 가죽 도축을 위한 공간이 있는 주거 문화도 형성되었다.
- (나) B국 사람들은 가족만이 아니라 고향의 친지와 함께 명절을 즐기기 위해 고향을 방문한다. 이를 위해 명절을 포함한 일정 기간을 휴일로 지정하고 있다. 최근에는 개인주의의 영향으로 연휴 기간에 타지로 여행을 가는 사람들이 늘어나면서 명절의 의미가 퇴색되었다.

— <보기> —

- ㄱ. 상대방의 행동을 예측하고, 대응할 수 있게 한다.
- ㄴ. 새로운 요소가 추가되거나 기존 요소가 소멸되기도 한다.
- ㄷ. 한 부분의 변동이 다른 부분에 영향을 주어 변동을 일으킨다.
- ㄹ. 후대에 문화가 계승되면서 보다 풍부한 요소를 갖추게 된다.

- ① ㄱ, ㄹ ② ㄴ, ㄷ ③ ㄷ, ㄹ
- ④ ㄱ, ㄴ, ㄷ ⑤ ㄱ, ㄴ, ㄹ

13. (가), (나)에 해당하는 연구 윤리의 위반 사례만을 <보기>에서 있는 대로 고른 것은?

- (가) 연구자는 연구 대상자의 사생활이 노출되지 않도록 개인 정보와 응답 결과에 대한 비밀을 보장해야 한다.
- (나) 연구자는 연구 대상자에게 조사 참여 여부를 자발적으로 선택하게 해 주어야 한다.

— <보기> —

- ㄱ. 입사 시험을 보러 온 지원자에게 기업 관계자가 그 기업의 이미지 연구를 위한 설문조사에 반드시 응답하도록 한 경우
- ㄴ. 연구자가 청소년 약물 남용 실태 조사 과정에서 특정 문항에 응답한 대상자와 그렇지 않은 대상자의 신원을 제3자가 파악할 수 있도록 보고서를 작성한 경우
- ㄷ. 학생의 가족생활에 대해 면접 조사한 연구자에게 학교 당국이 학생 상담에 필요하다고 특정 학생의 응답 자료를 달라고 요구하자 연구자가 이에 응한 경우

- | | | | | | |
|---|------|-----|---|------|-----|
| | (가) | (나) | | (가) | (나) |
| ① | ㄱ | ㄴ | ② | ㄴ | ㄱ |
| ③ | ㄷ | ㄱ | ④ | ㄱ, ㄴ | ㄷ |
| ⑤ | ㄴ, ㄷ | ㄱ | | | |

14. 밑줄 친 ㉠~㉥에 대한 설명으로 옳은 것은? [3점]

강대국인 A국 왕실이 주도한 ㉠정략혼인을 통해 A국 왕실 문화가 B국 왕실로 전래되었다. 또한 양국 간에 ㉡사람들의 왕래가 많아지면서 B국 왕실 사람들이 누리던 ㉢A국 왕실의 음식 문화를 B국의 상류층 대다수도 향유하였는데, 이를 B국 사람들은 ㉣'A 양식'이라고 불렀다. 이후 경제적 여유가 없었던 B국의 중·하층에서는 A국의 ㉤음식 문화를 모방하여, ㉥A국의 요리법과 B국의 요리 재료가 결합된 새로운 음식을 만들어 냈다.

- ① ㉠은 ㉡과 달리 문화변동의 외재적 요인으로 작용했다.
- ② ㉢은 하위문화이지만 반문화는 아니다.
- ③ ㉣은 강제적 문화접변에 의해 나타난 것이다.
- ④ ㉤의 '문화'에는 문화에 대한 평가적 의미가 내포되어 있다.
- ⑤ ㉥은 문화공존의 사례이다.

15. 표는 분류 기준 (가), (나)에 따라 A~C를 비교한 것이다. 이에 대한 진술로 옳은 것은? (단, A~C는 각각 농업 사회, 산업 사회, 정보 사회 중 하나이다.) [3점]

분류 기준	비교 결과	분류 기준	비교 결과
(가)	C>B>A	(나)	A>C>B

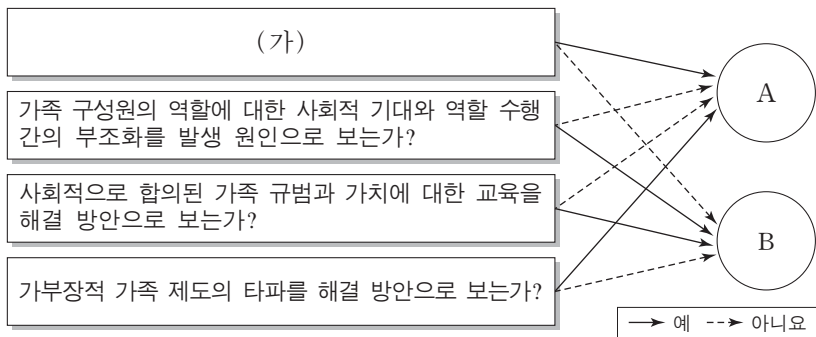
- ① (가)가 '기술 발전의 속도'라면 C보다 B에서 전자 상거래 이용 빈도가 높다.
- ② (나)가 '3차 산업의 비중'이라면 A에서는 소품종 대량 생산 방식이, C에서는 다품종 소량 생산 방식이 주를 이룬다.
- ③ (가)가 '확대 가족의 비중'이라면, (나)는 '사회 변화의 속도'가 적절하다.
- ④ (가)가 '사회의 다원화 정도'라면, (나)는 '가정과 일터의 결합 정도'가 적절하다.
- ⑤ (가)가 '면대면 접촉의 비중'이라면, (나)는 '지식 산업의 부가 가치 총량'이 적절하다.

16. (가), (나)에 나타난 우리나라 사회보장제도의 일반적인 특징에 대한 설명으로 가장 적절한 것은? [3점]

(가) A는 2011년 3월부터 3년간 회사를 다니던 중 경기 불황으로 회사가 어려움에 처하면서 해고를 당한 후 실업급여를 신청하여 지급받았다.
 (나) 68세인 B는 소득 인정액이 2015년 기준액 이하로 판정되어 매월 일정 금액을 정부로부터 받고 있다.

- ① (가)의 제도는 (나)의 제도에 비해 사후 처방적 성격이 강하다.
- ② (가)의 제도는 (나)의 제도와 달리 상호부조의 원칙이 적용된다.
- ③ (나)의 제도는 (가)의 제도에 비해 소득재분배 기능이 약하다.
- ④ (나)의 제도는 (가)의 제도와 달리 대상자의 강제 가입을 원칙으로 한다.
- ⑤ (가), (나)의 제도 모두는 수혜자 부담 원칙이 적용된다.

17. 가족 문제를 바라보는 이론적 관점 A, B에 대한 옳은 설명을 <보기>에서 고른 것은? [3점]



— < 보 기 > —
 ㄱ. A는 B와 달리 가족관계에서 얻는 보상이 지불하는 비용보다 적을 때 가족 문제가 나타난다고 본다.
 ㄴ. B는 A와 달리 가족 구성원 간의 갈등을 불가피한 현상으로 본다.
 ㄷ. A, B 모두 가족 문제를 사회 구조적 차원에서 접근한다.
 ㄹ. (가)에는 “가족 구성원 간의 불평등한 권력 관계를 발생 원인이라고 보는가?”가 적절하다.

- ① ㄱ, ㄴ ② ㄱ, ㄷ ③ ㄴ, ㄷ ④ ㄴ, ㄹ ⑤ ㄷ, ㄹ

18. 표에 제시된 A~D의 일반적인 특징에 대한 설명으로 가장 적절한 것은? (단, A~D는 각각 신문, 라디오, TV, 인터넷 중 하나이다.)

대중 매체	항목	시각 정보	청각 정보	양방향성
A		○	×	-
B		○	○	+
C		×	○	-
D		○	○	-

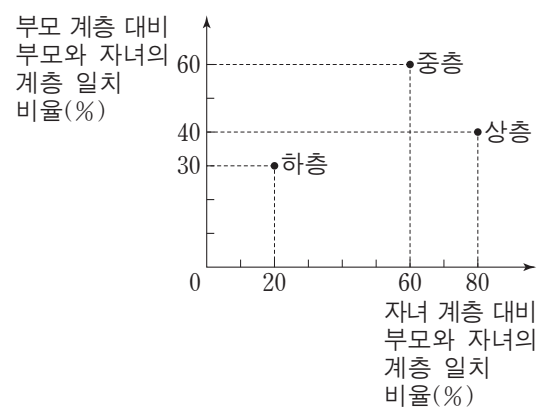
- * ○는 있음을 ×는 없음을, +는 높음을 -는 낮음을 나타냄.
- ① A는 D에 비해 정보의 확산 속도가 빠른 매체이다.
 - ② B에서는 A와 달리 정보 생산자와 정보 소비자가 명확하게 구분된다.
 - ③ B에서는 C와 달리 비동시적인 정보 소비가 가능하다.
 - ④ D에서는 C와 달리 정보 소비자 간 의사소통이 보편적으로 나타난다.
 - ⑤ A와 B는 산업 사회에서, C와 D는 정보 사회에서 지배적인 매체이다.

19. (가), (나)는 사회 불평등 현상에 대한 서로 다른 이론에 근거한 주장이다. 이에 대한 설명으로 옳은 것은?

(가) 단순히 개인의 경제적 상황에 국한시켜서 사회 불평등 현상을 이해해서는 안 된다. 경제적 계급이 다르더라도 동일한 지위 집단에 소속될 수 있으며 지위 집단의 차이는 생활양식의 차이로 나타난다.
 (나) 역사 발전 단계별로 주요한 생산 수단의 소유 여부에 따라 권력관계가 결정된다. 자본주의 경제 체제에서는 자본을 소유한 집단과 그렇지 못한 집단 간에 권력관계가 형성된다.

- ① (가)의 이론은 사회 불평등의 경제적 요인이 사회적 요인에 종속된다고 본다.
- ② (나)의 이론은 다차원적 측면에서 사회 불평등 현상을 규정한다.
- ③ (가)의 이론은 (나)의 이론에 비해 경제적 지위에 따른 집단 귀속 의식을 중요하게 파악한다.
- ④ (가)의 이론은 (나)의 이론과 달리 이분법적이고 불연속적인 개념으로 사회 불평등 현상을 규정한다.
- ⑤ (가), (나)의 이론은 모두 사회 불평등 현상에 경제적 요인이 작용한다고 본다.

20. 그림은 갑국의 세대 간 계층 이동 현황을 나타낸 것이다. 이에 대한 분석으로 옳지 않은 것은? (단, 자녀 계층의 구성비는 상층 : 중층 : 하층 = 1 : 6 : 3이며, 모든 부모의 자녀는 1명이다.) [3점]



- ① 세대 간 상승 이동보다 하강 이동이 더 많다.
- ② 부모 세대는 다이아몬드형 계층 구조를 보인다.
- ③ 상층의 하강 이동이 하층의 상승 이동보다 많다.
- ④ 부모 세대와 자녀 세대의 중층은 각각 60%로 동일하다.
- ⑤ 세대 간 계층 이동 비율과 유지 비율은 각각 50%로 동일하다.

* 확인 사항
 ○ 답안지의 해당란에 필요한 내용을 정확히 기입(표기)했는지 확인하십시오.

제 4 교시

사회탐구 영역(사회·문화)

성명 [] 수험 번호 []

1. 밑줄 친 ㉠~㉣과 같은 현상의 일반적인 특징에 대한 설명으로 옳은 것은?

아열대 기후가 나타나는 국가에서는 최근 ㉠갑작스러운 기후 변화로 예년보다 기온이 낮아지는 일이 잦아지고 있다. 게다가 ㉡바람에 의해 피부에 느껴지는 온도를 지표화한 체감 온도는 실제 온도보다 더 낮다. 그래서 노약자들에게 ㉢저체온증이나 심혈관 질환이 발생하여 사망자가 나오기도 한다. 반면, 우리나라에서는 예년보다 기온이 높아지는 경우가 많아지고 있다. 입동(立冬) 무렵이 되면 수능 시험을 치르는데, 그때 발생하던 ㉣입시 한파라고 불리는 매서운 추위가 최근에는 잘 나타나지 않는다.

- 1. 밑줄 친 ㉠~㉣과 같은 현상의 일반적인 특징에 대한 설명으로 옳은 것은?
1. ㉠과 같은 현상은 ㉢과 같은 현상과 달리 인과 관계가 나타난다.
2. ㉡과 같은 현상은 ㉣과 같은 현상과 달리 당위 법칙을 따른다.
3. ㉢과 같은 현상은 ㉠과 같은 현상과 달리 확률의 원리가 적용된다.
4. ㉣과 같은 현상은 ㉡과 같은 현상과 달리 보편성보다 특수성이 강하다.
5. ㉠, ㉡과 같은 현상은 ㉢, ㉣과 같은 현상과 달리 불가치적이다.

2. 일탈 이론 (가)~(다)에 대한 설명으로 옳은 것은?

(가) 사회가 누군가를 일탈자라고 규정하면 그 사람은 이를 동일시하여 내면화 과정을 거치면서 규정된 것과 같은 특성을 보이게 된다. 일탈은 행위 자체의 속성에 있는 것이 아니라 행위에 대한 사회적 반응의 결과이다.
(나) 산업화 단계로 접어들면서 대도시로의 인구 유입, 분업, 개인의 고립 등을 특징으로 하는 변화가 나타난다. 이 과정에서 사람들은 규범과 역할의 혼란을 겪게 되고 욕구를 통제하지 못하게 되면서 일탈을 저지른다.
(다) 개인이 법 위반에 우호적인 태도를 가진 사람들과 밀접한 관계를 맺으면서 일탈을 저지를 수 있다. 일탈은 개인이나 사회의 특성에서 비롯되는 것이 아니라 개인이 경험한 학습 과정의 결과로 나타난다.

- 2. 일탈 이론 (가)~(다)에 대한 설명으로 옳은 것은?
1. (가)는 일탈 집단 대신 정상적인 집단과의 교류 확대를 일탈의 해결책으로 본다.
2. (나)는 사회 집단 간의 이해 관계를 두고 발생하는 갈등이 일탈 행동의 원인이라고 본다.
3. (다)는 일탈 행동 자체보다 사회적 상호 작용을 통한 낙인 과정에 주목한다.
4. (나)는 (가)와 달리 미시적 관점에서 일탈 행동을 설명한다.
5. (다)는 (가)와 달리 일탈 행동을 규정하는 객관적 기준이 존재한다고 전제한다.

3. 밑줄 친 ㉠~㉣에 대한 설명으로 옳은 것은? [3점]

연구자 갑은 ㉠고등학생의 건전한 인성 형성과 봉사 활동의 관계를 연구하기로 하였다. 이에 따라 가설을 세우고 이를 검증하기 위해 고등학생 ㉡1,000명을 무작위로 추출한 후, ㉢타인 배려 정도, 관용 정신 정도를 지수화하여 ㉣조사하였다. 그리고 조사 대상자를 ㉤봉사 활동 시간이 많은 A 집단과 적은 B 집단으로 나누어 그들의 응답을 분석해 보았다. 그 결과, ㉥봉사 활동 시간이 타인 배려 정도에는 유의미한 영향을 미치는 것으로, 관용 정신 정도에는 거의 영향을 미치지 않는 것으로 나타났다.

- 3. 밑줄 친 ㉠~㉣에 대한 설명으로 옳은 것은? [3점]
1. ㉠ 단계에서는 연구자의 가치 중립이 요구된다.
2. ㉡은 표본으로, ㉢은 실험 집단으로 선정된 것이다.
3. ㉣은 종속 변인을 조작적으로 정의하는 과정이다.
4. ㉤은 사전 조사를 통해 기존의 연구 동향을 파악한 것이다.
5. ㉥을 통해 갑의 가설은 검증되지 않았음을 알 수 있다.

4. 갑, 을이 가진 문화 이해의 관점에 대한 옳은 설명을 <보기>에서 고른 것은?

여가 문화를 연구하던 갑은 A국과 B국의 프로야구 응원 문화를 조사했다. 조사 과정에서 A국이 개인적으로 응원을 하는 반면, B국은 치어 리더를 중심으로 관중이 집단적으로 응원을 하는 특징이 있다는 점에 주목했다.
장례 문화를 연구하던 을은 시신을 바로 땅에 묻지 않고 풀 같은 것으로 덮는 임시 무덤인 초분(草墳)을 조사했다. 조사 과정에서 초분이 자연 환경적 원인 및 민간 신앙과 어떻게 관련되어 있는지에 주목했다.

<보기>
ㄱ. 갑의 관점은 서로 다른 문화 간의 공통점과 차이점을 파악하고자 한다.
ㄴ. 을의 관점은 다양한 문화 요소를 전체적인 맥락에서 이해하고자 한다.
ㄷ. 갑의 관점은 을의 관점과 달리 모든 문화는 고유한 가치를 지닌다고 본다.
ㄹ. 을의 관점은 갑의 관점과 달리 자문화를 객관적으로 인식하는 데 효과적이다.

- 4. 갑, 을이 가진 문화 이해의 관점에 대한 옳은 설명을 <보기>에서 고른 것은?
1. ㄱ, ㄴ 2. ㄱ, ㄷ 3. ㄴ, ㄷ 4. ㄴ, ㄹ 5. ㄷ, ㄹ

5. 사회 집단과 사회 조직의 유형 (가)~(라)에 대한 설명으로 옳은 것은? [3점]

(가) 구성원의 의지와 무관하게 자연 발생적으로 형성된 집단
(나) 공식적인 목표와 과업을 효율적으로 달성하기 위해 형성된 조직
(다) 결합 의지에 따라 구분할 때, 특정한 목적을 위해 인위적으로 형성된 집단
(라) 공식 조직 내에서 친밀한 인간 관계를 바탕으로 취미, 관심사 등에 의해 형성된 조직

- 5. 사회 집단과 사회 조직의 유형 (가)~(라)에 대한 설명으로 옳은 것은? [3점]
1. (가)는 자발적인 동기로 결합된 집단이다.
2. (나)에는 (다)와 달리 공식적인 규칙과 절차가 적용된다.
3. (나)의 구성원은 모두 (라)의 구성원이다.
4. (라)는 (가)와 달리 전인격적 인간 관계를 중시한다.
5. (나), (라)에 해당하는 조직은 모두 (다)로 볼 수 있다.

6. 밑줄 친 ㉠, ㉡에 해당하는 문화의 속성에 대한 옳은 설명을 <보기>에서 고른 것은? [3점]



<보기>

㉠. ㉠은 문화의 각 요소가 상호 연관되어 있음을 보여 준다.
 ㉡. ㉠은 기존의 문화 요소가 소멸되거나 새로운 문화 요소가 나타나기도 함을 보여 준다.
 ㉢. ㉡은 문화가 세대 간 전승을 통해 복잡하고 다양해짐을 보여 준다.
 ㉣. ㉡은 문화를 통해 상대방의 행동을 예측하고 그에 대응하여 사회 질서 유지에 기여할 수 있음을 보여 준다.

- ① ㉠, ㉡ ② ㉠, ㉢ ③ ㉡, ㉢ ④ ㉡, ㉣ ⑤ ㉢, ㉣

7. 다음 두 사례에 대한 공통적인 설명으로 가장 적절한 것은?

○ 힙합 음악계에서 사용되다가 청년층의 문화로까지 새롭게 확산되고 있는 '스웨그(swag)' 라는 용어는 과시를 하거나 허세를 부리는 행위를 가리킨다. 이러한 행위는 지나치게 자신을 내세우는 태도가 타인을 비하하는 언행으로 이어지는 경우가 있어서 비판을 받기도 하지만, 스웨그는 자유 분방함과 개성을 지향하는 젊은이들에게 큰 호응을 얻고 있다.
 ○ 최근 등장한 '스낵 컬처(snack culture)' 라는 용어는 출퇴근이나 휴식 시간 등을 이용하여 웹 드라마, 웹툰 등을 즐기는 것을 가리킨다. 스낵 컬처는 휴대용 스마트 기기의 대량 보급과 함께 간편하게 즐길 거리를 찾는 소비자들이 증가하면서 나타난 현상이다. 그러나 상업주의와 결합하여 즉흥적이고 자극적인 소비를 조장할 수 있다는 비판을 받기도 한다.

- ① 대중문화 안에 존재하는 반문화의 사례를 보여 준다.
 ② 대중문화 영역에서 발생한 문화 지체 현상을 지적한다.
 ③ 지나친 상업주의로 인한 대중문화의 질적 저하 문제를 지적한다.
 ④ 특정 집단의 문화가 기존의 주류 문화를 대체하는 현상을 보여 준다.
 ⑤ 일부 구성원이 공유하는 생활 양식이 문화 다양성에 기여할 수 있음을 보여 준다.

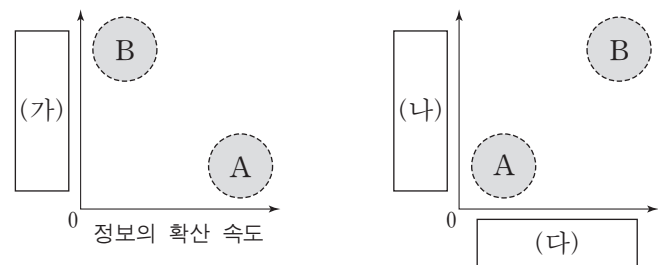
8. 밑줄 친 ㉠~㉣에 대한 설명으로 옳은 것은? [3점]

갑은 건축가가 되기를 원하는 아버지의 뜻에 따라 ㉠ 건축학과에 진학했지만, 요리에 관심을 갖게 되면서 졸업 후 외식 사업에 뛰어들었다. 한때는 매출 부진으로 인해 자신이 세운 회사의 ㉡ 대표 이사 자리에서 해임되기도 했지만, 이후 재기를 도모하여 현재는 여러 브랜드를 소유할 정도로 ㉢ 사람들에게 널리 인정받는 ㉣ 기업인이 되었다. 또한 갑은 꿈을 찾는 청소년을 위해 ㉤ 청소년 수련원에 후원금을 내고 있다. 최근에는 경쟁 관계에 있는 두 개의 ㉥ 방송사 프로그램에서 동시에 출연 제의를 받고 ㉦ 어느 쪽을 선택할지 고민하는 중이다.

- ① ㉠은 갑의 아버지의 준거 집단이자 내집단이다.
 ② ㉡과 ㉢은 각각 ㉣로서의 갑의 역할 행동에 대한 제재와 보상이다.
 ③ ㉤은 앞으로 얻게 될 지위에 요구되는 역할을 미리 학습하는 1차적 사회화 기관이다.
 ④ ㉠, ㉤은 공식적 사회화 기관, ㉣은 비공식적 사회화 기관이다.
 ⑤ ㉦은 갑이 복수의 성취 지위로 인해 겪고 있는 역할 갈등이다.
 9. (가)~(다)는 가족 문제를 바라보는 관점이다. 이에 대한 설명으로 옳은 것은? (단, (가)~(다)는 각각 기능론, 갈등론, 상징적 상호 작용론 중 하나이다.) [3점]

질문	관점	(가)	(나)	(다)
가족 문제에 대해 사회 구조적 차원에서 접근하는가?		예	아니요	예
가족 구성원 간의 갈등을 필연적이고 자연스러운 것으로 간주하는가?		예	아니요	아니요
A		아니요	아니요	예


- ① (가)는 (나)와 달리 가족 구성원 간의 합리적인 선택을 통해 가족 관계의 안정이 유지된다고 본다.
 ② (나)는 (다)와 달리 가족 구성원 간의 상호 의존적인 역할 수행을 강조한다.
 ③ 가족 문제의 원인으로 (가)는 가부장 제도의 폐해에, (다)는 가족 구성원 간의 유대 약화에 주목한다.
 ④ (다)는 (가), (나)와 달리 가족 문제가 가족 구성원 간의 상호 작용 양상에 따라 각기 다르게 나타난다고 본다.
 ⑤ A에는 "가족 문제 해결을 위해서는 가족 구성원 간의 고착화된 불평등 관계를 근본적으로 개선해야 하는가?"가 들어갈 수 있다.
 10. 그림은 대중 매체의 유형 A, B의 특징을 비교한 것이다. 이에 대한 설명으로 옳은 것은? (단, A, B는 각각 인쇄 매체, 뉴미디어 중 하나이다.)



* 0에서 멀수록 빠름 또는 높음.

- ① A는 B에 비해 정보 확산의 시·공간적 제약이 크다.
 ② B는 A와 달리 정보의 동시적 전달이 가능하다.
 ③ (가)에는 '정보 재가공의 용이성' 이 들어갈 수 있다.
 ④ (나)에는 '시청각 정보 제공의 용이성' 이 들어갈 수 있다.
 ⑤ (다)에는 '정보 생산자와 소비자 간 경계의 명확성' 이 들어갈 수 있다.

11. 다음 연구 사례를 연구 윤리 측면에서 평가한 것으로 가장 적절한 것은?

 연구자 갑은 자동차의 외관에 대한 판단이 운전자 행동에 미치는 영향을 주제로, 해외 연구자가 새롭게 개발한 연구 설계를 활용하여 연구를 진행하였다. 도로에서 각각 경차와 중·대형차로 주변 차량보다 느리게 달리면서, 뒤차가 추월을 시도할 때까지 걸린 시간을 기록하고 뒤차의 추월 상황과 차량 번호를 녹화하였다. 그리고 자신의 예상에 부합하는지의 여부와 상관없이 모든 기록과 동영상을 분석하였다. 이를 종합하여 보고서를 작성하면서 연구 설계를 마치 자신이 만든 것처럼 기술하였다. 이후 연구 결과가 사회의 관심을 받아 언론사의 요청으로 원본 영상을 제공하였다.

- ① 연구 대상자의 사적인 정보를 보호하였다.
- ② 연구 대상자의 자발적 참여 기회를 보장하였다.
- ③ 수집한 자료를 연구 이외의 목적으로 사용하지 않았다.
- ④ 다른 연구자가 수행한 연구를 활용하면서 출처를 밝혔다.
- ⑤ 원하는 결과를 얻기 위한 자의적인 자료 선별을 하지 않았다.

12. (가), (나)는 사회 불평등 현상을 설명하는 이론이다. 이에 대한 설명으로 옳은 것은?

(가) 역사상 주요 시대는 생산 양식의 변화에 따라 구분된다. 어느 시대에서나 사람들 간의 불평등한 관계가 나타나는데, 이는 생산 수단의 소유 여부에서 비롯된다.
 (나) 집단 간 차이는 경제적 기준뿐만 아니라 위신과 권력에 의해서도 형성된다. 이러한 요인들은 복잡한 상호 작용을 통해 사회 내에 다양한 위계를 만들어 낸다.

- ① (가)는 서로 다른 경제적 위치에 있는 집단 간의 위계가 불연속적이라고 본다.
- ② (나)는 불평등한 분배 상태를 이분법적으로 구분한다.
- ③ (가)는 (나)에 비해 현대 사회의 지위 불일치 현상을 설명하기에 용이하다.
- ④ (나)는 (가)에 비해 서로 다른 계층에 속한 구성원 간의 적대감이 강하다고 본다.
- ⑤ (가)는 사회 불평등 현상을 경제적 요인으로만, (나)는 사회·정치적 요인으로만 설명한다.

13. 빈곤 유형 A, B에 대한 옳은 설명만을 <보기>에서 있는 대로 고른 것은? (단, A, B는 각각 절대적 빈곤과 상대적 빈곤 중 하나이다.)

○ A는 사회 구성원이 누리고 있는 일반적인 생활 수준과 비교하여 박탈 상태에 처한 경우를 말한다. A에 따르면 사회의 전반적인 소득 수준과 대비하여 낮은 소득 수준의 계층이 빈곤층으로 정의된다.
 ○ B는 한 개인이나 가구의 소득 또는 지출이 최저 생활을 유지하는 데 필요한 기준에 미치지 못하는 경우를 말한다. B에 따르면 인간의 기본적인 욕구 충족을 위한 자원이 심각하게 박탈된 상태에 있는 계층이 빈곤층으로 정의된다.

— < 보기 —

ㄱ. A의 기준을 적용하면 기본적인 의식주가 충족된 사람이라도 빈곤층에 포함될 수 있다.
 ㄴ. B는 A와 달리 소득의 불평등 현상을 설명하는 데 활용된다.
 ㄷ. A에 따른 빈곤율과 B에 따른 빈곤율을 더한 것이 그 나라의 전체 빈곤율이 된다.
 ㄹ. 우리나라에서 A와 B에 해당하는 빈곤층은 객관화된 기준에 의해 분류된다.

- ① ㄱ, ㄴ ② ㄱ, ㄹ ③ ㄴ, ㄷ
- ④ ㄱ, ㄷ, ㄹ ⑤ ㄴ, ㄷ, ㄹ

14. 다음 연구에 대한 옳은 설명만을 <보기>에서 있는 대로 고른 것은? [3점]

연구 주제	특정 지역의 문화와 그 지역 주민들의 폭력적 행동 양식 간의 관련성 연구
연구 대상	공식 통계로 확인된 폭력 범죄율이 높은 지역(A)과 낮은 지역(B) 각각에 거주하는 주민
자료 수집	각 지역에서 주민들과 함께 생활하면서 있는 그대로의 삶의 모습을 심층적으로 관찰함.
연구 결과	B지역 주민들과 달리 A지역 주민들이 타인으로부터 자신을 보호하고 자존감을 지키기 위해 폭력에 의존하게 되는 맥락적인 이유를 밝혀 그들만의 문화적 특징을 이해하게 됨.

— < 보기 —

ㄱ. 수량화된 2차 자료를 활용하였다.
 ㄴ. 질적 자료를 활용하여 양적 연구를 수행하였다.
 ㄷ. 계량화하기 어려운 인간 행위의 의미를 직관적 통찰을 통해 파악하였다.
 ㄹ. 생생한 자료를 얻기 위해 인위적 조작의 정도가 낮은 자료 수집 방법을 활용하였다.

- ① ㄱ, ㄴ ② ㄴ, ㄹ ③ ㄷ, ㄹ
- ④ ㄱ, ㄴ, ㄷ ⑤ ㄱ, ㄷ, ㄹ

15. 다음 자료는 우리나라 사회 보장 제도 (가)~(다)와 ○○시의 수급자 비율이다. 이에 대한 분석으로 옳은 것은? (단, ○○시는 A, B 지역으로만 이루어져 있다.) [3점]

(가) 노령, 장애, 사망으로 인한 소득 상실을 보전하기 위해 연금 급여를 지급하는 제도로서, 이를 실행하는 데 드는 비용은 고용주, 가입자 등이 부담한다.
 (나) 노인에게 안정적인 소득 기반을 제공하여 생활 안정을 돕기 위한 제도로서, 65세 이상 노인 중 소득 인정액이 기준 금액 이하인 사람에게 연금 급여를 지급한다.
 (다) 생활이 어려운 국민의 최저 생활을 보장하고 자활을 지원하기 위한 제도로서, 국가나 지방 자치 단체가 수급권자로 선정된 사람에게 생계 급여 등을 지급한다.

<○○시 지역별 총인구 대비 수급자 비율> (단위: %)

지역 \ 제도	(가)	(나)	(다)
A 지역	6.7	5.5	1.9
B 지역	6.7	7.6	1.6
전체	6.7	6.9	1.7

- ① A 지역의 경우, (가)~(다) 중에서 의무 가입 원칙이 적용되는 제도의 수급자 비율은 12.2%이다.
- ② B 지역의 경우, (가)~(다) 중에서 사후 처방적 성격이 강한 제도의 수급자 비율은 6.7%이다.
- ③ (가)~(다) 중에서 수혜자 부담 원칙이 적용되지 않는 제도의 수급자 수는 A 지역이 B 지역보다 많다.
- ④ (가)~(다) 중에서 가입자 간 상호 부조 원리가 적용되는 제도의 수급자 수는 B 지역이 A 지역보다 많다.
- ⑤ 지역별 총인구 중 65세 이상 노인 인구의 비율은 B 지역이 A 지역보다 높다.

16. 밑줄 친 ㉠~㉣에 해당하는 그래프를 (가)~(다)에서 고른 것은?

A~C는 각각 농업 사회, 산업 사회, 정보 사회 중 하나이다. 세 사회를 사회 조직의 관료제화 정도에 따라 비교하면 오른쪽 그래프와 같이 나타낼 수 있다. 마찬가지로 ㉠ 가정과 일터의 결합 정도, ㉡ 구성원 간의 비대면 접촉 정도, ㉢ 직업의 동일성 정도도 이러한 방법으로 비교하여 (가)~(다)와 같이 나타낼 수 있다.

- ① ㉠ (가) ㉡ (나) ㉢ (다) ② ㉠ (가) ㉡ (다) ㉢ (나)
 ③ ㉠ (나) ㉡ (가) ㉢ (다) ④ ㉠ (나) ㉡ (다) ㉢ (가)
 ⑤ ㉠ (다) ㉡ (나) ㉢ (가)

17. 표는 문화 접변의 결과 A, B를 비교한 것이다. 이에 대한 옳은 설명을 <보기>에서 고른 것은? [3점]

구분	A	B
의미	(가)	서로 다른 두 문화가 결합하여 새로운 문화를 형성함.
사례	OO국에서 고유 언어와 외래 언어를 모두 공용어로 사용함.	(나)
공통점	(다)	

<보기>

ㄱ. (가)에는 '외래문화 요소에서 영감을 얻어 새로운 문화 요소를 만들.'이 들어갈 수 있다.
 ㄴ. (나)에는 '△△국에서 전통적인 온돌 문화와 외래의 침대 문화가 혼합된 돌침대가 만들어짐.'이 들어갈 수 있다.
 ㄷ. (다)에는 '고유문화의 정체성이 남아 있음.'이 들어갈 수 있다.
 ㄹ. A와 B의 구분 기준은 외래문화의 자발적 수용 여부이다.

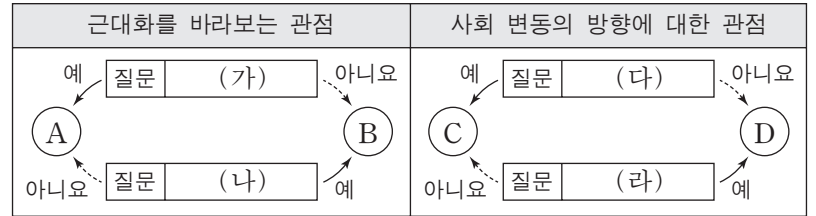
- ① ㄱ, ㄴ ② ㄱ, ㄷ ③ ㄴ, ㄷ ④ ㄴ, ㄹ ⑤ ㄷ, ㄹ

18. (가), (나)는 개인과 사회의 관계를 보는 서로 다른 관점이다. 이에 대한 설명으로 옳지 않은 것은?

(가) 사회 과학의 주된 연구 대상인 사회 제도와 조직들이 그 구성 요소와 별개로 실제 존재하는 것으로 오인하면 안 된다. 우주가 원자로 구성되듯이 사회도 개인들로 이루어져 있으므로 복잡한 현상도 개별 요소로 설명해야 한다.
 (나) 의사소통, 교환 등 개인 간의 상호 작용에 주목하는 접근법으로는 사회 현상을 설명할 수 없다. 사회 현상은 순수한 개인적 선택의 결과로 볼 수 없으므로 사회 자체의 논리를 찾아서 이를 설명해야 한다.

- ① (가)는 개인의 자유 의지가 허구적 개념이라고 본다.
 ② (가)는 개인의 속성이 사회의 속성을 결정한다고 본다.
 ③ (나)는 사회가 개인의 외부에 존재하는 고유한 실체라고 본다.
 ④ (가)는 (나)와 달리 개인에 대한 사회 구조의 영향력을 간과한다.
 ⑤ (나)는 (가)와 달리 사회를 유기체에 비유하여 설명한다.

19. 그림은 사회 변동에 대한 관점 A~D를 구분한 것이다. 이에 대한 옳은 설명을 <보기>에서 고른 것은? (단, A~D는 각각 순환론, 진화론, 근대화론, 종속 이론 중 하나이다.) [3점]

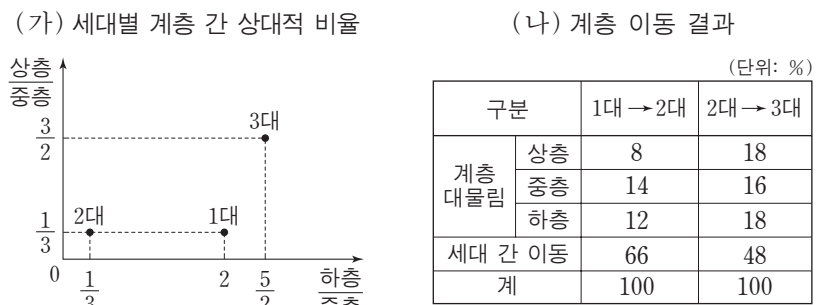


<보기>

ㄱ. (가)가 "전통과 근대의 양립을 인정하지 않는가?"라면, A는 자생적인 경제 성장을 사회 발전의 중요 요소로 본다.
 ㄴ. (나)가 "서구 중심적이라는 비판을 받는가?"라면, (가)에는 "후진국의 저발전 요인을 외부에서 찾는가?"가 들어갈 수 있다.
 ㄷ. (다)가 "사회 변동을 긍정적으로 바라보는가?"라면, C는 미래의 사회 변동을 예측하는 것이 곤란하다고 본다.
 ㄹ. (라)가 "사회 변동 과정에서 문명이 퇴보할 수 있는가?"라면, (다)에는 "사회가 단순한 것에서 복잡한 것으로 분화한다고 보는가?"가 들어갈 수 있다.

- ① ㄱ, ㄴ ② ㄱ, ㄷ ③ ㄴ, ㄷ ④ ㄴ, ㄹ ⑤ ㄷ, ㄹ

20. (가), (나)는 갑국의 계층 이동을 나타낸 것이다. 이에 대한 분석으로 옳은 것은? [3점]



* 1대는 조부모 세대, 2대는 부모 세대, 3대는 자녀 세대이며, 각 세대의 구성원 수는 모든 가계에서 동일함.

- ① 2대의 계층 구조보다 3대의 계층 구조가 사회 통합에 더 유리하다.
 ② 1대에서 2대로의 세대 간 이동의 경우, 하강 이동이 상승 이동보다 많다.
 ③ 2대에서 3대로의 세대 간 이동의 경우, 상승 이동이 하강 이동보다 많다.
 ④ 2대에서 3대로의 세대 간 이동의 경우, 상층에서 하층으로의 이동과 하층에서 상층으로의 이동은 모두 나타나지 않았다.
 ⑤ 상층 부모를 둔 사람 중 하강 이동을 한 비율은 1대에서 2대로의 이동에서와 2대에서 3대로의 이동에서가 동일하다.

* 확인 사항
 ○ 답안지의 해당란에 필요한 내용을 정확히 기입(표기)했는지 확인하십시오.

제 4 교시

사회탐구 영역(사회·문화)

성명 수험 번호

1. 밑줄 친 ㉠~㉣과 같은 현상의 일반적인 특징에 대한 설명으로 옳은 것은?

얼마 전 ㉠ 지리산에 사는 반달가슴곰의 영상이 공개되었습니다. 최근 태어난 다섯 마리 새끼에 관한 영상입니다. 앞으로 ㉡ 유전적 다양성을 확보하기 위해 추가 방사를 한다면 안정적으로 번식할 수 있을 것으로 보입니다. ㉢ 겨울잠에서 깨어난 곰들이 왕성한 활동을 하고 있으므로, 국립공원 관리 공단은 등산객들에게 ㉣ 곰들이 출몰할 가능성이 있는 구역의 출입을 자제해 줄 것을 당부했습니다.



- ① ㉠과 같은 현상은 ㉡과 같은 현상과 달리 불가치적이다.
- ② ㉡과 같은 현상은 ㉢과 같은 현상과 달리 당위 법칙을 따른다.
- ③ ㉢과 같은 현상은 ㉣과 같은 현상과 달리 개연성으로 설명된다.
- ④ ㉣과 같은 현상은 ㉠과 같은 현상과 달리 필연성의 원리가 적용된다.
- ⑤ ㉠, ㉢과 같은 현상은 ㉡, ㉣과 같은 현상에 비해 특수성이 강하다.

2. 사회·문화 현상을 바라보는 갑~병의 서로 다른 관점에 대한 설명으로 옳은 것은?

사회자: 최근 증가하고 있는 아동 학대 사건의 원인에 대한 의견을 말씀해 주십시오.
 갑: 자녀를 학대하는 부모들만의 문제가 아닙니다. 가족, 학교, 사회가 모두 제 기능을 못하고 있어 발생한 문제입니다.
 을: 최근 사건을 보면 대부분 빈곤층에서 발생하고 있어요. 자녀 양육에 필요한 사회적 자원을 기득권층에서 독점하는 구조가 문제입니다.
 병: 이 문제는 제도적 결함이나 구조적 불평등에서 비롯된 것이 아닙니다. 자녀의 행동에 대한 부모의 잘못된 상황 정의와 부모와 자녀 간의 왜곡된 상호 작용이 원인입니다.

- ① 갑의 관점은 을의 관점과 달리 행위 주체인 인간이 부여하는 의미를 중시한다.
- ② 을의 관점은 갑의 관점에 비해 사회 구성원들 사이의 사회적 합의를 중시한다.
- ③ 병의 관점은 갑의 관점과 달리 다양한 제도들이 상호 의존하는 관계에 주목한다.
- ④ 병의 관점은 을의 관점에 비해 사회적 희소가치 배분의 불평등 구조에 주목한다.
- ⑤ 갑, 을의 관점은 병의 관점과 달리 사회·문화 현상을 사회 구조적 측면에서 바라본다.

3. 표에 제시된 자료 수집 방법 A~D의 일반적 특징에 대한 설명으로 옳은 것은? (단, A~D는 각각 면접법, 실험법, 질문지법, 참여 관찰법 중 하나이다.) [3점]

연구 조건	적합한 자료 수집 방법
면대면 대화를 통해 깊이 있는 정보를 수집한다.	A
일상생활에서 나타나는 연구 대상의 행동을 관찰한다.	B
대규모 집단을 대상으로 계량화된 자료를 수집한다.	C
인위적으로 통제된 상황에서 변수의 효과를 관찰한다.	D

- ① A는 B보다 예상하지 못한 변수의 통제가 어렵다.
- ② B는 C보다 시간과 비용 측면에서의 효율성이 높다.
- ③ C는 D보다 문맹자에게 사용하기 어렵다.
- ④ D는 A보다 연구자의 주관적 가치 개입 가능성이 높다.
- ⑤ A, B는 C, D와 달리 양적 연구에서 주로 사용된다.

4. 밑줄 친 ㉠~㉣에 대한 설명으로 옳은 것은? [3점]

㉠ 같은 ㉠ 아버지의 권유로 ㉡ 직업 훈련소에서 기술을 배웠다. 회사에 입사한 후, ㉢ 야간 대학에서 만난 ㉣ 아내와 결혼하여 맞벌이를 하고 있다. 갑은 해외 지사 근무를 꿈꾸며 외국어 공부를 하였다. 최근 갑은 다른 회사로부터 ㉤ 해외 지사 근무를 조건으로 한 영입을 제안 받았다. 갑은 국내에 남으라는 어머니와 해외로 떠나라는 아버지 사이에서 ㉥ 누구의 의견을 따라야 할지 고민에 빠져 있다.

- ① ㉠은 선천적으로 주어진 지위이다.
- ② ㉡과 ㉢은 2차적 사회화 기관이며 공식적 사회화 기관이다.
- ③ ㉣은 ㉠의 지위로서 수행한 역할 행동이다.
- ④ ㉤은 갑의 준거 집단이자 소속 집단이다.
- ⑤ ㉥은 갑이 가진 두 가지 지위에서 발생하는 역할 갈등이다.

5. 표는 질문 (가)~(다)를 활용하여 사회 변동을 보는 관점 A, B를 구분한 것이다. 이에 대한 설명으로 옳은 것은? (단, A와 B는 각각 진화론과 순환론 중 하나이다.)

관점 \ 질문	(가)	(나)	(다)
A	아니요	예	예
B	예	아니요	예

- ① A가 진화론이면 (가)에는 “서구 중심적 사고라고 비판을 받는가?”가 적절하다.
- ② B가 순환론이면 (다)에는 “사회 변동을 사회 발전으로 인식하는가?”가 적절하다.
- ③ (나)가 “사회 변동은 주기적으로 동일한 과정을 반복하는가?”이면, B는 순환론이다.
- ④ (다)에는 “사회 변동은 일정한 방향을 가지고 있는가?”가 적절하다.
- ⑤ (가)가 “제국주의를 정당화하는 근거로 사용되었는가?”이면, (나)에는 “사회 변동 과정에서 문명이 퇴보할 수 있는가?”가 적절하다.

6. 다음 두 사례를 종합하여 내린 결론으로 가장 적절한 것은?

- 남성 우위 문화가 지배적인 A국에서 살던 갑은 여성 우위 문화가 지배적인 B국으로 이주하였다. 그 결과 갑은 남성으로서 누리던 우월한 지위를 상실하고 사회적 불이익을 받게 되었다.
- C지역의 다수 민족 출신인 을은 D지역으로 이주하면서 소수 민족에 속하게 되었다. D지역에 널리 퍼져 있는 소수 민족 차별의 사회적 관행으로 인해 을은 자신의 민족 언어와 문화를 포기해야 할 지경에 이르렀다.

- ① 사회적 소수자가 되는 기준은 상대적이다.
- ② 사회적 소수자는 수적으로 열세에 놓인 집단이다.
- ③ 성별에 따른 차별이 출신에 따른 차별보다 강하다.
- ④ 사회적 소수자에 대한 차별은 주류 집단의 정체성을 약화시킨다.
- ⑤ 사회적 소수자 집단에서 벗어나려면 성취 지위의 변화가 필수적이다.

7. 밑줄 친 ㉠~㉣에 대한 설명으로 옳은 것은? [3점]

갑은 다문화 가정 자녀들의 ㉠ 학교생활 만족도에 ㉡ 차별 경험 정도가 미치는 영향을 알아보기 위한 ㉢ 연구를 하였다. 이를 위해 ㉣ OO지역 고등학교 다문화 가정 자녀들 중 설문에 자발적으로 참여한 100명을 대상으로 설문 조사를 실시하였다. ㉤ 수집된 자료를 분석한 결과, 차별 경험 정도가 학교생활 만족도에 유의미한 영향을 미친다는 ㉥ 결론을 도출하였다. 두 변수의 관계는 그림과 같다.

- ① ㉠은 독립 변수, ㉡은 종속 변수이다.
- ② ㉢은 질적 연구 방법에 기초하였다.
- ③ ㉣에 대한 연구 결과를 모집단에 일반화할 수 있다.
- ④ ㉤에서 ㉥을 도출하는 과정은 귀납적이다.
- ⑤ ㉥은 독립 변수와 종속 변수가 양(+)의 관계에 있음을 보여준다.

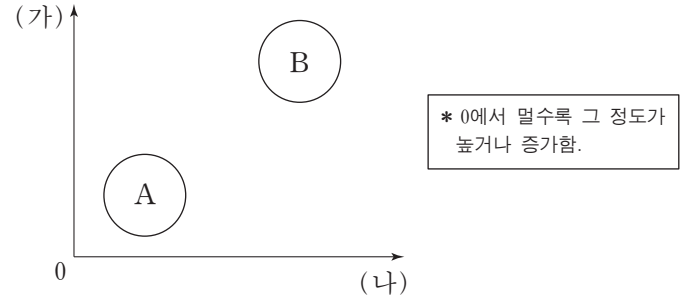
8. (가)에 들어갈 적절한 내용을 <보기>에서 고른 것은?

갑은 외국인에 대한 한국인의 태도가 피부색에 따라서 달라지는지 알아보기 위한 연구를 수행하였다. 갑은 피부색이 서로 다른 외국인 여성 을과 외국인 남성 병을 섭외하여 각각 길거리에서 한국인들에게 휴대전화를 빌리는 실험을 진행하였다. 실험 결과에 따르면 을의 성공률은 70%, 병의 성공률은 30%였다. 이를 통해 갑은 "한국인은 외국인의 피부색에 따라 외국인에 대한 태도가 상이하다."라는 결론을 내렸다. 연구와 관련된 내용 일체를 연구 대상자에게 알리지 않은 채, 갑은 연구 결과를 학회에서 발표하였다. 그러나 이 연구에는 (가)라는 문제점이 있다.

- <보기> —
- ㄱ. 연구 대상자에게 연구와 관련된 정보를 제공하지 않았다.
 - ㄴ. 피부색 이외에 다른 변수가 미치는 영향을 고려하지 않았다.
 - ㄷ. 사생활 관련 정보를 연구 목적 이외의 용도로 활용하였다.
 - ㄹ. 실험 집단과 통제 집단 간의 성별 동질성을 확보하지 않았다.

- ① ㄱ, ㄴ ② ㄱ, ㄷ ③ ㄴ, ㄷ ④ ㄴ, ㄹ ⑤ ㄷ, ㄹ

9. 그림은 A, B의 일반적 특징을 비교한 것이다. 이에 대한 옳은 설명만을 <보기>에서 있는 대로 고른 것은? (단, A와 B는 각각 산업 사회와 정보 사회 중 하나이다.) [3점]



- <보기> —
- ㄱ. A가 산업 사회라면 (가)에는 '정보 확산의 속도', (나)에는 '구성원 간 익명성'이 적절하다.
 - ㄴ. B가 정보 사회라면 (가)에는 '관료제 조직의 비중', (나)에는 '사회의 다원화 정도'가 적절하다.
 - ㄷ. (가)가 '비대면 접촉 비중', (나)가 '3차 산업의 비중'이라면, A는 B보다 사회 변동 속도가 느리다.
 - ㄹ. (가)가 '직업의 이질성', (나)가 '일터와 가정의 결합 정도'라면, B는 A보다 전자 상거래 비중이 낮다.

- ① ㄱ, ㄴ ② ㄱ, ㄷ ③ ㄴ, ㄹ
- ④ ㄱ, ㄷ, ㄹ ⑤ ㄴ, ㄷ, ㄹ

10. 다음 자료에 대한 옳은 분석만을 <보기>에서 있는 대로 고른 것은? [3점]

다음은 문화 변동의 요인을 (가)~(다)로 구분하고, 이를 통해 갑국과 을국의 문화 변동 사례를 분석한 자료이다. 갑국과 을국은 상호 교류 이외에 다른 제3의 국가와는 교류를 하지 않았다. 단, (가)~(다)는 각각 발명, 직접 전파, 자극 전파 중 하나이다.

<문화 변동의 요인>

구분	(가)	(나)	(다)
문화 변동의 외재적 요인인가?	아니오	예	예
타 문화로부터 아이디어를 얻어 새로운 문화 요소가 만들어졌는가?	아니오	예	아니오

<갑국과 을국의 문화 변동>

* ○, ●, □, △, ☆은 서로 다른 문화 요소를 의미함.
** ◎는 ○와 ●가 결합하여 나타난 제3의 문화 요소임.

- <보기> —
- ㄱ. (가)는 발명, (나)는 직접 전파이다.
 - ㄴ. 을국에서는 (다)로 인한 문화 융합이 나타났다.
 - ㄷ. 갑국에서 창조된 문화 요소가 을국으로 전달되었다.
 - ㄹ. 을국은 1차, 2차 변동에서 모두 갑국의 영향을 받았다.

- ① ㄱ, ㄴ ② ㄱ, ㄹ ③ ㄴ, ㄷ
- ④ ㄱ, ㄷ, ㄹ ⑤ ㄴ, ㄷ, ㄹ

11. 문화를 이해하는 갑~병의 태도에 대한 설명으로 옳은 것은?



- ① 갑의 태도는 문화 제국주의로 변질될 가능성이 높다.
- ② 을의 태도는 모든 문화가 동등한 가치를 지닌다고 본다.
- ③ 병의 태도는 자기 문화에 대한 객관적 이해를 가능하게 한다.
- ④ 갑의 태도와 달리 병의 태도는 특정 문화를 기준으로 문화의 우열을 판단한다.
- ⑤ 을의 태도와 달리 병의 태도는 다문화 사회에서 문화 갈등을 초래할 수 있다.

12. 사회 조직의 유형 A~C에 대한 설명으로 옳은 것은? (단, A~C는 각각 공식 조직, 비공식 조직, 자발적 결사체 중 하나이다.) [3점]

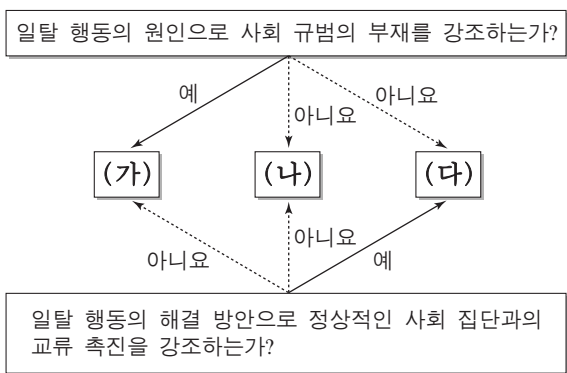
○ A는 공동의 목표를 가진 사람들의 자유의사에 따라 결성되며, B 혹은 C의 형태를 띌 수 있다.

○ B는 C를 기반으로 출현하여, C에 긍정적 혹은 부정적으로 작용하기도 한다.

○ C에 해당하는 사회 조직은 B에 속하지 않으나, B의 구성원은 C의 구성원이다.

- ① A는 1차 집단의 성격이 강하며, 2차 집단의 성격은 나타나지 않는다.
- ② B에서는 형식적·수단적인 인간관계가 지배적으로 나타난다.
- ③ B는 C에 비해 조직의 규모가 크고, 구성원이 이질적이다.
- ④ C는 A와 달리 구성원의 의지와 무관하게 자연 발생적으로 형성된 집단이다.
- ⑤ C는 B에 비해 구성원에 대한 공식적 통제의 정도가 강하다.

13. 그림의 일탈 이론 (가)~(다)에 대한 설명으로 옳은 것은? (단, (가)~(다)는 각각 낙인 이론, 아노미 이론, 차별적 교제 이론 중 하나이다.) [3점]



- ① (가)는 일탈 행동이 급격한 사회 변동으로 인해 촉발된다고 본다.
- ② (나)는 일탈을 규정하는 객관적 기준이 존재한다고 본다.
- ③ (다)는 일탈 행동 자체보다 일탈 행동에 대한 사회적 반응을 중시한다.
- ④ (가)는 (나)와 달리 일탈 행동의 해결 방안으로 불평등 구조의 근본적 변화를 강조한다.
- ⑤ (다)는 (나)와 달리 일탈 행동이 문화적 목표와 제도적 수단 간의 괴리에서 비롯된다고 본다.

14. 교육을 바라보는 갑, 을의 서로 다른 관점에 대한 옳은 설명을 <보기>에서 고른 것은?

갑: 교육이 인력 양성과 사회 질서 유지에 기여한다는 주장도 있지만, 누가 인재로 양성되며 누구를 위한 질서 유지인지 생각해 본다면 사회적 합의의 산물로 볼 수 없습니다. 결국 교육은 지배 이념을 정당화하는 수단입니다.

을: 교육은 사회적으로 필요한 인재를 양성해 적재적소에 배치하는 역할을 담당합니다. 사회가 필요로 하는 가치를 내면화하고, 직업 세계에서 필요로 하는 기능을 습득하도록 하는 것이 교육의 목적입니다.

— <보기> —

ㄱ. 갑의 관점은 교육이 개인에게 사회 이동의 기회를 제공한다는 것을 강조한다.

ㄴ. 을의 관점은 교육이 지위 세습을 강화하고 그 결과를 고착시킨다고 본다.

ㄷ. 갑의 관점은 을의 관점과 달리 교육이 사회 불평등 구조를 재생산하여 확대시킨다고 본다.

ㄹ. 을의 관점은 갑의 관점과 달리 교육이 사회 안정과 통합에 기여한다고 본다.

- ① ㄱ, ㄴ ② ㄱ, ㄷ ③ ㄴ, ㄷ ④ ㄴ, ㄹ ⑤ ㄷ, ㄹ

15. 다음 자료에 대한 설명으로 옳은 것은? (단, A와 B는 각각 신문과 뉴미디어 중 하나이다.) [3점]

표는 시민들을 대상으로 매체의 이용률과 신뢰도를 조사한 결과와 각 매체의 특징을 제시한 것이다. 각 매체별 이용률은 뉴스를 접하기 위해 이용한다고 응답한 사람의 비율(복수 응답 가능)이며, 신뢰도는 매체에 대한 신뢰도 점수(100점 만점)의 평균값이다.

매체	특징	이용률(%)	신뢰도(점)
A	심층적인 정보 전달에 유리함.	31	49
텔레비전	(가)	94	66
B	양방향 정보 전달에 유리함.	75	25
라디오	(나)	20	38


- ① A는 시각 정보 또는 청각 정보를 활용하는 다른 모든 매체들보다 신뢰도가 높다.
- ② B는 텔레비전보다 정보의 생산자와 소비자 간의 경계가 뚜렷하다.
- ③ (가)에는 '정보 전달의 동시성이 높음.', (나)에는 '시각 정보를 제공할 수 있음.'이 적절하다.
- ④ 이용률 대비 신뢰도는 청각 정보만 전달하는 매체가 인쇄 매체보다 높다.
- ⑤ 뉴미디어를 이용한다고 응답한 비율에 비해 나머지 세 가지 매체를 함께 이용한다고 응답한 비율이 높다.

16. 다음은 사회 불평등 현상을 설명하기 위해 사회학자 갑과 을이 조사 대상자 A~D를 분류한 것이다. 이에 대한 설명으로 옳지 않은 것은?

〈갑의 분류〉			〈을의 분류〉			
구분	생산 수단	소유 여부	구분	경제적 요인	정치적 요인	사회적 요인
자본가	A		상층	A	A, C	C
노동자	B, C, D		중층	B, C	D	A, B
			하층	D	B	D

- ① 을의 분류에서 A~D는 모두 지위 불일치의 사례에 해당한다.
- ② 을의 분류에서 상층에 속한 모든 대상자는 갑의 분류에서 자본가이다.
- ③ 갑은 을과 달리 사회 불평등 현상을 이분법적으로 파악한다.
- ④ 을은 갑과 달리 다차원적 측면에서 사회 불평등 현상을 파악한다.
- ⑤ 갑과 을의 분류에는 모두 경제적 요소가 반영되어 있다.

17. (가), (나)는 갑국의 사회 복지 제도 변화를 나타낸 것이다. 이에 대한 분석으로 옳은 것은? [3점]



* 최저 생계비는 중위 소득 40%와 동일함.
 ** 개별 가구의 월 소득 인정액 이외의 다른 조건은 모두 동일함.
 *** 중위 소득: 전체 가구를 소득 순으로 나열했을 때 한가운데 위치한 가구의 소득

- ① (가)는 선별적 복지보다는 보편적 복지의 성격이 강하다.
- ② (나)에서 교육 급여를 받을 수 있는 기준은 월 소득 인정액 1,400달러 이하이다.
- ③ (나)에서 월 소득 인정액 1,000달러인 가구는 의료 급여를 받을 수 있다.
- ④ (가)는 (나)와 달리 상대적 생활수준을 반영한 기준을 적용한다.
- ⑤ 월 소득 인정액 900달러인 가구는 (가)에서는 모든 급여를 받았으나 (나)에서는 교육 급여만 받을 수 있다.

18. 밑줄 친 ㉠~㉣에 대한 옳은 설명을 <보기>에서 고른 것은?

갑국에는 다양한 ㉠ 이민자 집단의 문화가 존재한다. 그 중 일부는 갑국의 보편적 문화로 자리 잡았다. 그 대표적인 사례를 음식과 ㉡ 음악에서 찾을 수 있다. 한 때 토마토소스는 '마녀의 피'라고 불리며 ㉢ 문화인이라면 먹어서는 안 되는 야만적인 식재료로 간주되었으나, 오늘날 갑국에서 토마토소스를 사용한 ㉣ 요리는 누구나 즐겨 먹는 음식이 되었다. 하층 계급 이민자들의 정서를 표현하고 있어 ㉤ 과거 대다수 사람들이 저속하다고 여기던 재즈(Jazz)와 블루스(Blues)도 주류 음악과 융합하여 변형되면서 갑국의 대중음악으로 자리 잡았다.

— <보기> —

- ㉠. ㉠은 갑국의 주류 문화에 대항하는 반문화이다.
- ㉡. ㉡에서 '문화'는 넓은 의미, ㉢에서 '문화'는 좁은 의미로 사용되었다.
- ㉣. ㉣은 물질문화, ㉤은 비물질문화에 해당한다.
- ㉤. ㉤은 문화가 고정되어 있지 않고 변화하는 것임을 보여 준다.

- ① ㉠, ㉡
- ② ㉠, ㉣
- ③ ㉡, ㉣
- ④ ㉡, ㉤
- ⑤ ㉢, ㉤

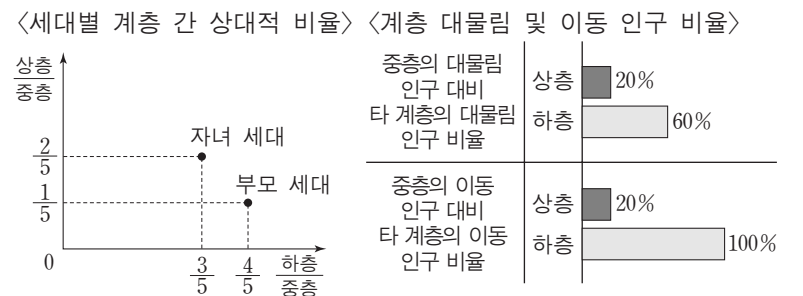
19. (가), (나)는 개인과 사회의 관계를 바라보는 서로 다른 관점이다. 이에 대한 설명으로 옳은 것은?

(가) 날로 심각해지는 도심의 교통 혼잡 문제로 인하여 사회적 자원이 낭비되고 있다. 이를 해결하기 위한 방안으로 운전자의 자발적 협조는 기대할 수 없으므로, 도심에 진입하는 차량에 대하여 고액의 통행료를 부과하고 홀·짝수로 구분하여 차량을 운행하도록 하는 제도를 실시해야 한다.
 (나) 최근 현대인의 무분별한 생활 습관으로 인한 각종 질환의 증가, 사소한 증상으로도 병원을 찾는 경향, 금전적 이익을 위한 위장 입원 등으로 인해 국민 건강 보험의 재정이 악화되고 있다. 이는 개인의 잘못된 행위에서 비롯된 것이므로 개인 스스로의 의식 개선 없이는 해결할 수 없다.

- ① (가)의 관점은 사회 정책으로 인간 행동을 바꿀 수 있다고 본다.
- ② (나)의 관점은 사회 문제의 발생 원인을 제도적 측면에서 찾는다.
- ③ (가)의 관점은 (나)의 관점과 달리 인간을 주체적이고 능동적인 존재로 본다.
- ④ (나)의 관점은 (가)의 관점과 달리 사회를 개인의 단순한 집합체 그 이상으로 본다.
- ⑤ (가), (나)의 관점은 모두 사회 구조가 개인에 대하여 불가항력적 존재라고 본다.

20. 다음 자료에 대한 옳은 분석을 <보기>에서 고른 것은? [3점]

다음은 성인 자녀 1명을 둔 가구주 100명을 대상으로 부모 세대와 자녀 세대의 계층 비율과 계층 이동 현황을 조사한 결과이다. 계층은 상층, 중층, 하층으로만 구분된다.



* '중층의 대물림 인구 대비 타 계층의 대물림 인구 비율'은 부모가 중층이면서 자녀도 중층인 인구 대비 타 계층에서 세대 간 계층이 일치하는 인구의 비율(%)임.
 ** '중층의 이동 인구 대비 타 계층의 이동 인구 비율'은 부모는 중층이지만 자녀는 다른 계층인 인구 대비 타 계층에서 세대 간 계층 이동이 일어난 인구의 비율(%)임.

— <보기> —

- ㉠. 부모 세대 계층 대비 계층 대물림 비율은 하층이 가장 높다.
- ㉡. 부모 세대와 자녀 세대는 모두 다이아몬드형 계층 구조이다.
- ㉢. 부모 세대와 자녀 세대 간 계층 이동한 사람은 계층이 대물림된 사람보다 많다.
- ㉣. 부모가 하층이었던 자녀 중에 상승 이동한 사람 수는 부모가 상층이었던 자녀 중에 하강 이동한 사람 수의 4배이다.

- ① ㉠, ㉡
- ② ㉠, ㉣
- ③ ㉡, ㉣
- ④ ㉡, ㉤
- ⑤ ㉢, ㉤

* 확인 사항
 ○ 답안지의 해당란에 필요한 내용을 정확히 기입(표기)했는지 확인하십시오.

제 4 교시

사회탐구 영역(사회·문화)

성명 수험 번호

1. 밑줄 친 ㉠~㉣과 같은 현상의 일반적인 특징에 대한 설명으로 옳은 것은?

엘니뇨 현상이 계속되면서 지구 온도와 ㉠농작물 생산에 영향을 미치고 있다. ㉡이상 기후 현상으로 동남아 지역은 예년에 비해 더위가 심했고, 남미에는 폭우가 내려 세계 식량 가격이 올랐다. 아프리카의 한 지역에서는 ㉢홍수로 인한 급격한 수위 상승으로 수천 채의 가옥이 파손된 반면, 또 다른 지역에서는 혹독한 가뭄으로 인해 수백만 명이 ㉣식량 원조를 애타게 기다리는 상황이다.

- ① ㉠과 같은 현상은 ㉡과 같은 현상과 달리 가치 함축적이다.
- ② ㉢과 같은 현상은 ㉣과 같은 현상과 달리 확률성의 원리가 적용된다.
- ③ ㉢과 같은 현상은 ㉣과 같은 현상과 달리 개연성의 원리가 적용된다.
- ④ ㉣과 같은 현상은 ㉠과 같은 현상과 달리 당위 법칙을 따른다.
- ⑤ ㉠, ㉣과 같은 현상은 ㉡과 같은 현상에 비해 보편성이 강하다.

2. 밑줄 친 ㉠~㉣에 대한 설명으로 옳은 것은? [3점]

최근 아나운서 출신 갑이 언론의 주목을 받고 있다. 갑은 어린 시절부터 꿈꾸어 왔던 아나운서가 되기 위해 ㉠○○방송사에 입사한 후 다양한 프로그램에서 중형무진으로 활동하였다. 이후 갑은 ㉡더 큰 무대로 진출할 것인지, 안정된 직장을 선택할 것인지 고민하다가 ○○방송사를 그만두며 프리랜서를 선언하고 ㉢연기자가 되었다. 이후 비교적 짧은 기간에 여러 편의 드라마에 출연하는 등 ㉣대중의 인기를 얻었으나, 해외에서 어려운 아이들을 돕는 프로그램에 참여한 것을 계기로 △△국의 빈민 지역으로 이주하여 현재 ㉤자원봉사자로 활동하고 있다.

- ① ㉠은 갑의 내집단이자 준거집단이다.
- ② ㉡은 갑이 겪었던 역할 갈등이다.
- ③ ㉢이 되기 위해 갑은 ㉠에서 재사회화를 경험하였다.
- ④ ㉣은 ㉢으로서의 갑의 역할에 대한 보상이다.
- ⑤ ㉤은 갑의 성취 지위이다.

3. 사회 조직의 유형 A~C에 대한 설명으로 옳은 것은?

- A, B는 각각 과업 달성을 위한 조직이며, 조직의 효율성을 제고하기 위한 운영 원리가 적용된다.
- A에서는 의사 결정의 권한이 분산되어 있으며, 외부 환경 변화에 대한 유연한 대처와 신속한 의사 결정이 가능하다. B에서는 조직 내 지위가 경력에 따라 서열화되어 있으며, 규약과 절차에 따른 구성원들의 업무 수행을 강조한다.
- A 또는 B의 구성원들이 조직 내에서 친밀한 인간관계에 바탕을 두고 자발적으로 결성한 것이 C이다.

- ① 기업의 노동조합은 C에 해당한다.
- ② A, B는 공식적 제재를 통해 구성원을 통제한다.
- ③ B는 A에 비해 상향식 의사 결정 방식을 강조한다.
- ④ A, C는 B와 달리 구성원들의 가입과 탈퇴가 자유롭다.
- ⑤ C에서는 A, B와 달리 구성원 간 수단적 만남과 간접적 접촉이 이루어진다.

4. (가)~(다)의 일반적인 특징에 대한 설명으로 옳은 것은? (단, (가)~(다)는 각각 면접법, 질문지법, 참여 관찰법 중 하나이다.)

자료 수집 방법	사례
(가)	청소년 일탈을 연구하기 위해 가족 간 대화 빈도와 일탈 행동을 측정할 수 있는 설문 문항을 개발하여 전국의 중·고등학생 2,000명을 대상으로 조사를 실시하였다.
(나)	초등학생의 음악 활동과 사회성 간의 관계를 연구하기 위해 초등학생 20명과 심층 인터뷰를 하여 오케스트라 활동이 친구 관계에 미치는 영향을 탐구하였다.
(다)	실외 놀이를 통해 나타나는 유아들의 특징을 살펴보고자 4개월간 ○○어린이집에 머물며 유아들의 행동과 대화 내용, 놀이 상황 등 전반적인 상황을 모두 기록하였다.

- ① (가)는 (나)보다 질적 자료 수집에 용이하다.
- ② (나)와 달리 (다)는 연구자의 주관적 가치가 개입될 우려가 있다.
- ③ (다)와 달리 (가)는 인위적으로 통제된 상황에서 변수의 효과를 관찰한다.
- ④ (가)에 비해 (나), (다)는 연구 대상에 대해 심층적으로 파악하기 용이하다.
- ⑤ (나)와 달리 (가), (다)는 자료 수집 과정에서 언어를 매개로 한 상호 작용이 필수적이다.

5. (가), (나)에 나타난 사회·문화 현상을 바라보는 관점에 대한 설명으로 옳지 않은 것은? [3점]

(가) 교칙은 학생들에게 지위에 맞는 역할이 무엇인지 강조하고, 보상이나 제재를 가하는 기준으로서의 기능을 수행한다. 교칙은 학교 구성원들이 지켜야 하는 규범으로, 구성원들에게 공통의 정체성을 갖도록 하여 학교라는 작은 사회의 통합을 증진하는 역할을 한다.
 (나) 교사는 생활 지도 과정에서 나타나는 학생의 반응을 통해 자신의 지도 방식에 대해 평가하고 교사로서 자기 정체성과 행동을 재구성한다. 따라서 생활 지도는 교사와 학생 간의 상호 작용과 그 상황에 대한 의미 부여를 통해 구성되는 개별적 경험으로 이해되어야 한다.

- ① (가)의 관점은 사회가 스스로 균형을 유지하려는 속성을 지닌다고 본다.
- ② (나)의 관점은 개인이 상황에 부여한 의미에 기초하여 사회적 상황에 반응한다고 본다.
- ③ (가)의 관점은 사회가 유기체와 유사한 특성을 지니고 있음을, (나)의 관점은 인간이 의미를 추구하는 존재임을 가정한다.
- ④ (가)의 관점과 달리 (나)의 관점은 사회가 구성 요소 간의 상호 의존적 관계 형성을 통해 질서와 안정을 이룬다고 본다.
- ⑤ (나)의 관점과 달리 (가)의 관점은 사회 구조에 대한 분석을 통해 사회 현상을 이해하고자 한다.

6. A, B 사회의 일반적인 특징에 대한 설명으로 옳은 것은? (단, A, B 사회는 각각 산업 사회와 정보 사회 중 하나이다.) [3점]

A 사회	B 사회
직장인 갑은 출근하지 않고 집에서 컴퓨터로 회사의 업무를 본다. 인터넷을 통해 직장 동료 및 협력 업체와 협의하며, 팀장 또는 CEO에게 직접 보고를 하는 등 다양한 업무를 처리한다.	직장인 을은 매일 아침 9시부터 오후 6시까지 자동차 제조 공장에서 일을 한다. 출근 후 업무 지시를 받아 하루 종일 컨베이어 벨트에 실려 오는 자동차에 타이어를 장착하는 일을 수행한다.

- ① A 사회는 B 사회에 비해 먼대면 접촉의 비중이 더 높다.
- ② A 사회는 B 사회에 비해 부가 가치의 원천으로 자본과 노동을 지식보다 중시한다.
- ③ B 사회는 A 사회에 비해 관료제 조직의 비중이 더 높다.
- ④ B 사회는 A 사회에 비해 다품종 소량 생산 방식이 확대된다.
- ⑤ A, B 사회 모두에서는 가상공간의 등장으로 인해 소비자 and 생산자 간의 공간적 제약이 극복된다.

7. (가), (나)에 나타난 개인과 사회의 관계를 바라보는 관점에 대한 설명으로 옳은 것은?

(가) 대학의 강의는 참여하는 구성원 개인의 특성에 따라 결정된다. 강의의 질은 교수의 능력에 따라 결정되며, 강의에 대한 평가도 학생들의 개인적 반응에 근거하여 이루어진다.

(나) 대학의 강의에는 교수와 학생 간에 권력 구조가 존재하며, 교수가 학생들의 학업 정도에 따라 성적을 부여하는 평가 시스템이 존재한다. 또한 강의실에는 수업 시간 준수와 같이 교수와 학생이 따라야 하는 행동 규칙이 작용한다.

- ① (가)는 사회가 개인으로 환원하여 설명할 수 없는 고유한 성격을 지닌다고 본다.
- ② (나)는 개인의 이익이 곧 사회 전체의 이익이라고 본다.
- ③ (가)는 (나)와 달리 개인에 대한 사회 구조의 영향력을 중시한다.
- ④ (가)는 (나)와 달리 개인은 집단 전체와의 관련 속에서만 존재 의미를 지닌다고 본다.
- ⑤ (나)는 (가)와 달리 개인의 자율성보다 사회 규범의 구속성을 중시한다.

8. 다음 두 사례에서 공통적으로 부각되는 문화의 속성에 대한 옳은 설명을 <보기>에서 고른 것은? [3점]

- ○○지역에서는 추운 기후로 인해 집안에 머무르는 시간이 길며, 목재가 풍부하여 연료 공급이 용이하다. 이로 인하여 이 지역 사람들은 오랫동안 천천히 익히는 불로 끓이는 스투와 같은 음식을 즐겨 먹는다.
- 내륙의 분지 지형에 위치한 △△지방에서는 여름에 기온이 매우 높아 음식 부패 방지를 위해 향신료가 많이 들어간 조리법이 사용되고 있으며, 향신료의 원료가 되는 작물의 재배 및 유통이 활성화되어 있다.

<보기>

- ㄱ. 문화는 상징을 통해 다음 세대로 전달·계승된다.
- ㄴ. 문화는 고정된 것이 아니라 지속적으로 변화한다.
- ㄷ. 문화는 부분들이 모여 전체로서 하나의 체계를 이룬다.
- ㄹ. 문화는 특정 상황에서 상대방의 행동 방식을 예측하게 한다.

- ① ㄱ, ㄴ ② ㄱ, ㄷ ③ ㄴ, ㄷ ④ ㄴ, ㄹ ⑤ ㄷ, ㄹ

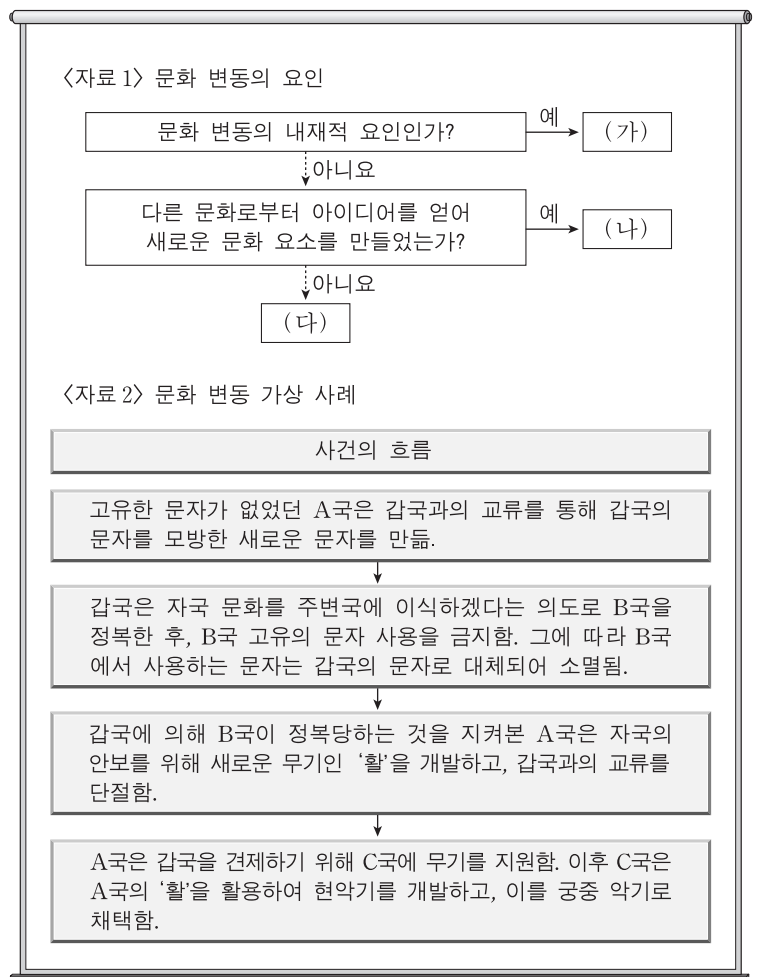
9. 밑줄 친 ㉠~㉣에 대한 설명으로 옳은 것은?

갑은 자동차가 스스로 운전하는 자율 주행차의 설계와 관련된 두 가지 주제를 연구하기 위해, 자발적으로 참여한 1,000명을 500명씩 ㉠A, B 두 집단으로 나누어 ㉡온라인 설문 조사를 실시하였다. 먼저 자율 주행차의 설계 기준에 대한 ㉢사람들의 인식이 상황에 따라서 어떻게 달라지는지 알아보고자 하였다. 이를 위해 A 집단을 대상으로 차량과 보행자의 충돌 상황에서 탑승자와 보행자가 1:1인 경우와 1:100인 경우로 나누어 ㉣1차 조사를 하였다. ㉤보행자보다 탑승자가 보호되어야 한다고 생각하는가에 대해, 전자의 경우 '예'라는 응답이 75%였지만, 후자의 경우에는 20%로 낮아졌다. 다음으로 그러한 설계에 대한 인식이 구매로 연결될지를 알아보기 위해 B 집단을 대상으로 ㉥2차 조사를 실시하였다. 피해를 입는 보행자의 수를 최소화하도록 설계해야 한다는 데에는 70%가 동의했지만, 이런 차를 구매하겠다는 응답은 30%에 불과했다. 이를 통해 갑은 ㉦사람들의 인식과 선택 간의 불일치가 있다는 것을 발견하였고, 이 결과가 ㉧자율 주행차의 보급 시기를 늦추는 데 영향을 미칠 수 있을 것이라고 해석하였다.

- ① ㉠에서 A 집단은 실험 집단, B 집단은 통제 집단이다.
- ② ㉡은 사전 조사, ㉢은 사후 조사이다.
- ③ ㉣은 ㉤을 조작적으로 정의한 것이다.
- ④ ㉦은 모집단에 대해 일반화할 수 있다.
- ⑤ ㉧은 ㉣에서 연역적으로 도출되었다.

10. 다음 자료에 대한 분석으로 옳은 것은? (단, <자료 1>의 (가)~(다)는 각각 발명, 직접 전파, 자극 전파 중 하나이다.)

[3점]



- ① A국에서는 (다)에 의한 문화 융합이 나타났다.
- ② B국에서는 (다)에 의한 문화 동화가 나타났다.
- ③ C국에서는 강제적 문화 접변의 결과로 (나)에 의한 문화 변동이 나타났다.
- ④ C국에서는 A국과 달리 (가)에 의한 문화 변동이 나타났다.
- ⑤ A, C국에서는 (나)로 인한 문화 공존이 나타났다.

11. 표는 일탈 이론 A~C를 질문에 따라 구분한 것이다. 이에 대한 옳은 설명만을 <보기>에서 있는 대로 고른 것은? (단, A~C는 각각 낙인 이론, 아노미 이론, 차별 교제 이론 중 하나이다.) [3점]

이론 \ 질문	(가)	(나)	(다)
A	예	아니요	아니요
B	아니요	아니요	예
C	아니요	예	아니요

— <보기> —

- ㄱ. A가 아노미 이론, B가 차별 교제 이론이라면, “타인들과의 상호 작용이 일탈 발생 과정에 미치는 영향을 중시하는가?”는 (다)에 적절하다.
- ㄴ. B가 낙인 이론, C가 아노미 이론이라면, “일탈자와의 접촉 차단을 일탈에 대한 대책으로 보는가?”는 (가)에 적절하다.
- ㄷ. (가)가 “사회 규범의 통제력 회복을 일탈에 대한 대책으로 보는가?”라면, “일탈의 원인으로 구조적인 요인을 강조하는가?”는 (나)에 적절하다.
- ㄹ. (가)가 “일탈 행동에 대한 부정적 반응을 일탈의 원인으로 보는가?”이고, (다)가 “문화적 목표에 도달할 기회 제공을 일탈에 대한 대책으로 보는가?”라면, C는 차별 교제 이론이다.

- ① ㄱ, ㄷ ② ㄴ, ㄷ ③ ㄴ, ㄹ
- ④ ㄱ, ㄴ, ㄹ ⑤ ㄱ, ㄷ, ㄹ

12. A~C 문화의 일반적인 특징에 대한 설명으로 옳은 것은?

한 사회 구성원들이 전반적으로 공유하는 문화를 A 문화라 한다. 반면 사회의 일부 구성원들만 공유하여 다른 구성원들과 구분되는 생활양식을 B 문화라고 한다. B 문화는 이를 공유하는 구성원들의 정체성을 알려 주는 문화로서 그들에게 중요한 삶의 양식이 된다. B 문화 중에는 그 사회의 지배 문화에 저항하거나 대립하는 문화가 있는데, 이를 C 문화라 한다.

- ① A 문화는 B 문화의 총합으로 설명할 수 없다.
- ② B 문화에는 A 문화의 문화 요소가 존재하지 않는다.
- ③ B 문화와 달리 C 문화는 집단 간 갈등을 초래하여 사회 통합을 저해할 수 있다.
- ④ 사회가 다원화될수록 C 문화는 A 문화로 수렴되는 경향을 보인다.
- ⑤ C 문화와 달리 B 문화는 사회 변화에 따라 A 문화가 되기도 한다.

13. 다음은 사회 제도에 관한 글이다. (가)에 들어갈 내용으로 가장 적절한 것은? [3점]

수렵 사회와 농경 사회의 다양한 문화 연구들을 보면 수렵 사회에서는 핵가족이 보편적이지만, 농경 사회에서는 핵가족보다 확대 가족이 많다는 점을 알 수 있다. 따라서 식량 공급 방식과 같은 경제 제도가 가족의 형태를 결정하며, 사회 조직의 분화 정도가 클수록 확대 가족이 보편화된다고 볼 수 있다. 그런데 산업 사회에서는 다시 핵가족이 늘어나고 있다. 이는 가족 단위 노동력의 수요가 점점 줄어들고 개인의 능력이 중요시되며, 사회 이동과 인구 이동률이 높아진 결과에서 기인한다. 그리고 가족은 개인이 노동 시장에 참여할 수 있도록 노동에 대한 가치와 태도에 대해 교육함으로써 산업화에 이바지한다. 따라서 사회 제도는 (가)

- ① 사회 구성원의 사고와 행동을 통제한다.
- ② 사회 구성원의 욕구 충족을 위한 수단으로 형성된다.
- ③ 사회 구성원 간의 행동에 대한 예측 가능성을 높인다.
- ④ 한 번 형성되면 쉽게 바뀌지 않고 안정적으로 유지된다.
- ⑤ 유기적으로 관련을 맺으면서 상호 의존적으로 기능을 수행한다.

14. 갑과 을이 가진 문화 이해의 관점에 대한 옳은 설명을 <보기>에서 고른 것은?

- 갑은 경제적 측면에 치우친 주택에 대한 연구 경향을 비판하며, 주택의 문화적 의미에 대해 연구하였다. 그 결과 갑은 주택이 경제적 의미뿐만 아니라 사회적 성향, 자연 조건, 자원의 영향과 밀접하게 관련되어 있다는 사실을 규명하였다.
- 을은 남태평양의 여러 섬에서 나타나는 선물 문화를 연구한 결과, 선물의 형태가 각 지역의 특성에 따라 다양하지만 선물을 주고받는 것은 어느 사회에서나 사회를 유지하는데 중요한 기능을 한다는 결론을 내렸다.

— <보기> —


- ㄱ. 갑의 관점은 문화가 부분이 아닌 전체로서의 의미를 갖는다고 본다.
- ㄴ. 을의 관점은 여러 문화를 비교하면서 공유되는 보편성을 파악한다.
- ㄷ. 갑의 관점은 을의 관점과 달리 자문화를 객관적으로 파악해야 한다고 본다.
- ㄹ. 을의 관점은 갑의 관점과 달리 모든 문화는 고유한 가치를 지닌다고 본다.

- ① ㄱ, ㄴ ② ㄱ, ㄷ ③ ㄴ, ㄷ ④ ㄴ, ㄹ ⑤ ㄷ, ㄹ

15. 근대화를 바라보는 갑, 을의 관점에 대한 설명으로 옳은 것은? [3점]

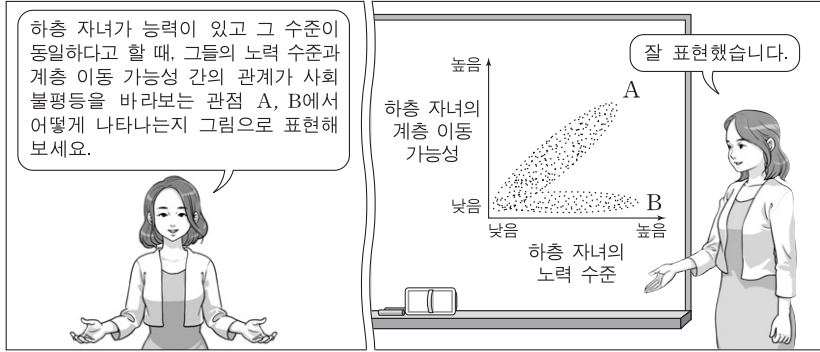
제3세계의 근대화는 선진화된 사회로부터 발전된 기술과 제도, 가치 등을 받아들여 그들과 같은 방식으로 변화하고자 노력해야 가능한 거야.

제3세계가 근대화되지 못하는 이유는 자신이 생산한 경제적 잉여를 서구 선진국에 착취당했기 때문이야. 이를 근본적으로 개선하지 않으면 저개발국의 발전은 쉽지 않아.



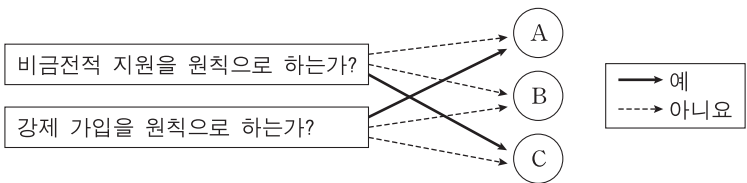
- ① 갑의 관점은 을의 관점과 달리 특정 국가의 지속적인 저발전 상태를 설명하기에 적합하다.
- ② 갑의 관점은 을의 관점과 달리 제3세계가 선진국에 경제적으로 종속될 때 경제 발전 정도가 낮다고 본다.
- ③ 을의 관점은 갑의 관점과 달리 사회 발전을宿命론적인 시각으로 바라본다.
- ④ 을의 관점은 갑의 관점과 달리 제3세계 발전의 원동력으로 국가 내부의 자생력을 중시한다.
- ⑤ 갑, 을의 관점은 모두 국제 사회를 국가 간 협업의 관계로 설명한다.

16. 사회 불평등을 바라보는 관점 A, B에 대한 설명으로 옳은 것은? [3점]



- ① A는 희소가치가 개인의 사회적 기여도와 무관하게 분배된다고 본다.
- ② A는 희소가치의 분배 수준이 균등해질수록 사회적 효율성이 낮아진다고 본다.
- ③ B는 개인의 성취동기와 희소가치의 차등 분배 수준 사이에 정(+)의 관계가 있다고 본다.
- ④ B는 희소가치의 차등 분배 수준과 사회 갈등 정도 사이에 부(-)의 관계가 있다고 본다.
- ⑤ A는 부모의 계층과 자녀의 사회적 성공 가능성 사이에 정(+)의 관계가 있다고 보고, B는 무관하다고 본다.

17. 그림의 A~C는 우리나라 사회 보장 제도이다. 이에 대한 분석으로 옳은 것은? (단, A~C는 각각 공공 부조, 사회 보험, 사회 서비스 중 하나이다.) [3점]



- ① '수혜 대상자에 대한 자립과 자활 보장을 목적으로 한다.'는 특징은 A에는 나타나고, B에는 나타나지 않는다.
- ② '수혜 정도와 상관없이 능력에 따라 비용을 부담한다.'는 특징은 A와 B에 공통으로 나타난다.
- ③ '국가와 지방 자치 단체가 비용을 전액 부담하는 것을 원칙으로 한다.'는 특징은 B에는 나타나고, A에는 나타나지 않는다.
- ④ '사전 예방적 성격이 강하다.'는 특징은 B와 C에 공통으로 나타난다.
- ⑤ '상호 부조의 성격이 강하다.'는 특징은 C에는 나타나고, A와 B에는 나타나지 않는다.

18. 대중 매체 A~C에 대한 옳은 설명만을 <보기>에서 있는 대로 고른 것은?

- ☞ A~C는 각각 누리 소통망(SNS), 서적, TV 중 하나이다.
- ☞ 정보 전달의 양방향성 측면에서 보면 C가 A, B보다 높은 편이다.
- ☞ 문맹자의 정보 접근성 측면에서 보면 B가 A보다 높은 편이다.

☞ <보기>

- ㄱ. A는 B보다 생동감 있는 정보 전달이 용이하다.
- ㄴ. B는 C보다 정보의 복제와 재가공의 용이성이 낮다.
- ㄷ. C는 B보다 정보의 생산자와 소비자 간의 경계가 모호하다.
- ㄹ. A, B와 달리 C는 수용자별 정보 획득의 동시성이 나타난다.

- ① ㄱ, ㄴ ② ㄱ, ㄹ ③ ㄴ, ㄷ
- ④ ㄱ, ㄷ, ㄹ ⑤ ㄴ, ㄷ, ㄹ

19. 다음 글을 통해 도출할 수 있는 옳은 내용만을 <보기>에서 있는 대로 고른 것은?

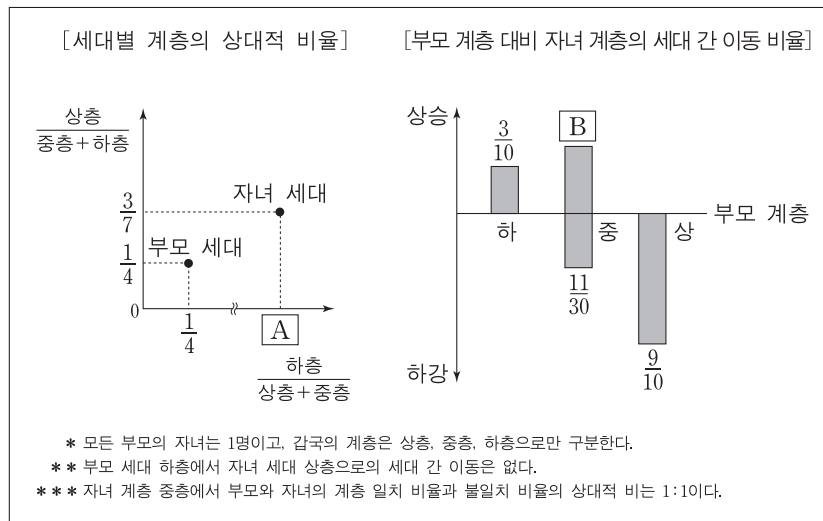
'유리 천장'은 여성이 조직에서 상위 직급으로 승진할 때 겪는 '눈에 보이지 않는 장벽'을 의미한다. 유리 천장의 유형으로 여성의 업무 능력에 대한 근거 없는 의심, 비공식 자리에서의 의도적 배제 등을 들 수 있다. 한편 같은 직급이더라도 승진에 유리한 핵심 업무가 있을 수 있는데, 여성이 핵심 업무로부터 수평적으로 분리되는 현상을 '유리벽'으로 표현한다.

☞ <보기>

- ㄱ. 직장 내 양성 평등 문화의 확산은 유리 천장 현상을 완화하는 데 기여한다.
- ㄴ. 여성에 대한 사회적 차별은 남성과 여성의 개인적 능력 차이에서 기인한다.
- ㄷ. 유리벽 현상은 조직 내에서 특정 성에 대한 차별이 구조적으로 나타나는 현상이다.
- ㄹ. 유리 천장과 유리벽 현상이 제거되면 사회적 자원의 배분 과정에서 기회의 공정성이 제고될 것이다.

- ① ㄱ, ㄷ ② ㄴ, ㄷ ③ ㄴ, ㄹ
- ④ ㄱ, ㄴ, ㄹ ⑤ ㄱ, ㄷ, ㄹ

20. 다음 자료는 갑국의 세대 간 계층 이동 현황을 나타낸 것이다. 이에 대한 분석으로 옳은 것은?



- ① 부모 세대보다 자녀 세대에서 사회 통합의 필요성이 낮아졌다.
- ② 자녀 세대 계층 대비 부모와 자녀의 계층 일치 비율은 하층이 가장 높다.
- ③ 부모 세대 계층 대비 자녀와 부모의 계층 불일치 비율은 상층보다 하층이 높다.
- ④ 부모 세대 상층과 하층의 합 대비 부모 세대 중층의 상대적 비율은 A보다 크다.
- ⑤ 부모 세대 상층 대비 부모 상층에서 자녀 하층으로의 세대 간 이동 비율은 B보다 작다.

* 확인 사항
○ 답안지의 해당란에 필요한 내용을 정확히 기입(표기)했는지 확인하십시오.

제 4 교시

사회탐구 영역(사회·문화)

성명 수험 번호

1. 밑줄 친 ㉠~㉣과 같은 현상의 일반적인 특징에 대한 질문에 모두 옳게 응답한 학생은?

㉠ 바닷물에서 소금을 얻기는 의외로 까다롭다. 3.5% 정도의 염분이 들어 있는 바닷물에서 소금을 얻으려면, ㉡ 염전을 조성해야 한다. 이를 위해서는 풍부한 일조량과 적당한 ㉢ 조수 간만의 차가 필요하다. 이러한 조건들을 모두 갖춘 우리나라 서해안은 ㉣ 천일염 생산의 최적지로 유명하다.

질문	갑	을	병	정	무
㉠과 같은 현상은 개연성의 원리가 적용되는가?	×	○	×	○	○
㉡과 같은 현상은 존재 법칙의 지배를 받는가?	×	○	×	×	×
㉢과 같은 현상은 물가치적인 현상인가?	○	×	○	○	○
㉣과 같은 현상은 보편성과 특수성이 공존하는가?	○	○	×	×	○

(○: 예, ×: 아니오)

- ① 갑 ② 을 ③ 병 ④ 정 ⑤ 무

2. (가), (나)는 사회 계층화 현상을 설명하는 서로 다른 이론이다. 이에 대한 옳은 설명을 <보기>에서 고른 것은?

(가) 사회 구조 차원에서 볼 때, 부·명예·권력의 분배가 똑같은 원칙에 의해 결정되는 것은 아니다. 가령 명예의 분배는 시장의 작동 원리뿐만 아니라 사회적 관습이나 가치관에 의해서도 결정된다. 어떤 경우, 명예를 중시하는 사람들은 돈이 많다고 자랑하는 사람들을 멸시하기도 한다.
 (나) 자본주의 사회의 불평등 구조 배후에는 자본, 기계, 원료 등 생산에 필요한 물질에 대한 소유 여부가 존재한다. 이를 소유한 집단은 그들의 이익을 정당화하는 관념을 마치 사회의 보편적 가치인 것처럼 모든 구성원에게 주입한다.

—<보기>—

ㄱ. (가)는 (나)에 비해 동일한 경제적 위치에 기반한 강한 귀속 의식을 강조한다.
 ㄴ. (가)는 (나)와 달리 이분화된 불평등 구조를 설명하기에 용이하다.
 ㄷ. (나)는 (가)와 달리 지위 불일치 현상을 설명하는 데 적합하지 않다.
 ㄹ. (가), (나)는 모두 사회 불평등 현상에 경제적 요인이 작용한다고 본다.

- ① ㄱ, ㄴ ② ㄱ, ㄷ ③ ㄴ, ㄷ ④ ㄴ, ㄹ ⑤ ㄷ, ㄹ

3. 사회 집단과 사회 조직의 유형 A~E에 대한 설명으로 옳은 것은? [3점]

○ A와 B는 구성원 간의 접촉 방식에 따라 분류한 것으로 A는 구성원들이 대면 접촉을 통해 전인격적인 관계를 맺는 집단이다.
 ○ C와 D는 구성원의 결합 의지에 따라 분류한 것으로 C는 구성원의 선택 의지에 의해 결합된 집단이다.
 ○ E는 다원화된 현대 사회에서 공통 관심과 목표를 가진 사람들이 자발적으로 결성한 집단이다.

- ① A에서는 B와 달리 특정 목적을 달성하기 위한 인간관계가 주로 나타난다.
 ② D에서는 E와 달리 구성원의 가입과 탈퇴가 자유롭다.
 ③ A, D에서는 모두 형식적 인간관계가 주로 나타난다.
 ④ B, C에서는 모두 법적 제재보다 관습적 제재가 주로 적용된다.
 ⑤ 시민 단체와 이익 집단은 모두 C이면서 E에 속한다.

4. 표는 자료 수집 방법을 구분한 것이다. A~D의 일반적인 특징에 대한 설명으로 옳은 것은? (단, A~D는 각각 면접법, 실험법, 질문지법, 참여 관찰법 중 하나이다.)

질문	자료 수집 방법			
	A	B	C	D
질적 자료를 수집하는 데 용이한가?	×	○	○	×
연구 대상자와의 언어적 상호 작용이 필수적인가?	×	×	○	○

(○: 예, ×: 아니오)

- ① A는 B보다 일상생활을 심층적으로 파악하기 어렵다.
 ② B는 C보다 예상치 못한 상황에 대한 통제가 용이하다.
 ③ C는 D보다 조사 대상자로부터 깊이 있는 답변을 유도하기 어렵다.
 ④ D는 A보다 대규모 집단을 대상으로 자료를 수집하기 어렵다.
 ⑤ A, D는 B, C보다 연구자의 편견이 개입될 가능성이 크다.

5. 밑줄 친 ㉠~㉣에 대한 설명으로 옳은 것은? [3점]

'청소년의 친구 관계와 비행 간의 인과 관계'를 연구 주제로 선택한 갑은 ㉠ '비행 친구와의 교제가 많을수록 비행 경험이 많아진다.'라는 가설과 ㉡ '비행 경험이 많을수록 비행 친구와의 교제가 많아진다.'라는 서로 다른 가설을 세웠다. 갑은 전국의 고등학생 중 ㉢ 도시 지역 남학생 500명과 ㉣ 농촌 지역 여학생 500명을 무작위로 추출하여 ㉤ 자신의 비행 횟수, ㉥ 비행 경험이 있는 친구의 수 등을 포함하는 ㉦ 설문 조사를 실시하였다. 분석 결과, 두 가설 중에 후자를 수용하는 ㉧ 결론을 내렸다.

- ① ㉢과 ㉣은 모두 실험 집단이다.
 ② ㉤을 알아보기 위해 수집한 자료는 2차 자료이다.
 ③ ㉥은 ㉠ 가설의 독립 변수와 ㉡ 가설의 종속 변수를 조작적으로 정의한 것이다.
 ④ ㉦에서는 연구 대상자의 주관적 인식을 묻지 않아야 한다.
 ⑤ ㉧은 모집단을 대상으로 일반화할 수 있다.

6. 다음에서 공통적으로 나타나는 사회·문화 현상의 탐구 태도에 대한 진술로 가장 적절한 것은? [3점]

- 사회학자의 임무는 어떤 사회·문화 현상에 대해 정확하게 보고하는 것이다. 사회학자의 보고에는 그의 취향이나 선호가 반영되지 않아야 한다.
- 사회학의 연구 대상은 경험한 것이나 경험할 수 있는 것에 한정되어야 한다. 또한 사회학자는 인간의 삶과 행위의 관찰 과정에서 제3자의 관점을 취해야 한다.

- ① 사회·문화 현상을 보는 관점이 다양할 수 있음을 인정해야 한다.
- ② 사회·문화 현상의 탐구 시 주관적 가치와 이해관계를 배제해야 한다.
- ③ 사회·문화 현상의 탐구 시 해당 사회의 문화적 맥락을 고려해야 한다.
- ④ 사회·문화 현상의 복잡성을 인정하고 이면의 원인 파악을 위해 노력해야 한다.
- ⑤ 사회·문화 현상에 대한 연구 결과가 사회에 미칠 수 있는 영향을 고려해야 한다.

7. 밑줄 친 ㉠~㉣에 대한 설명으로 옳은 것은? [3점]

기자: □□영화제에서 ㉠ 신인상을 받으셨습니다. 영화계에 입문한 계기는 무엇입니까?

기자: 올해 새로운 대중 영화에 출연하셨고 △△ 독립 영화제 ㉡ 집행 위원장까지 맡으셨는데요, 어려운 점은 없나요?

기자: 독립 영화제의 홍보에 힘쓰시, 제가 출연한 영화의 홍보에 힘쓰시 ㉢ 고민이 큼니다.

영화배우 갑: ○○대학 시절 인문학부의 ㉣ 공연 관람 동아리 활동을 통해 ㉤ 연극배우가 되겠다고 결심을 하였습니다. 졸업 후, ㉥ ◇◇대학 연극학과에 합격하였지만 영화 오디션을 통해 주연으로 발탁되어 입학은 포기하고 영화배우가 되었습니다.

영화배우 갑: 독립 영화제의 홍보에 힘쓰시, 제가 출연한 영화의 홍보에 힘쓰시 ㉢ 고민이 큼니다.

- ① ㉠은 갑의 역할에 대한 보상이다.
- ② ㉠과 ㉢은 모두 공식적 사회화 기관이다.
- ③ ㉡과 ㉣은 모두 갑의 성취 지위이다.
- ④ ㉢에서 갑은 재사회화를 경험하였다.
- ⑤ ㉢은 갑의 역할 갈등이다.

8. (가), (나)에 나타난 개인과 사회의 관계를 바라보는 관점에 대한 설명으로 옳은 것은?

- (가) 사회화는 사회가 바람직하다고 여기는 행위 양식을 개인에게 내면화 시키는 과정이다. 개인은 주어진 행위 양식 이외에 다른 선택이 있다는 사실조차 인식하지 못한다. 사회 속 개인의 어떠한 행위 양식도 개인이 스스로 만들어 내는 경우는 없다.
- (나) 사회화는 단순히 정보를 받아들이는 일방적인 과정이 아니라, 자신의 상황에 따라 외부의 대상을 재구성하고 그것에 의미를 부여하는 동적인 과정이다. 대상은 현실 세계에 객관적으로 존재하는 것처럼 보이지만, 정작 실재하는 것은 개별 행위자들이 대상에 부여하는 다양한 의미이다.

- ① (가)의 관점은 사회가 개인의 외부에서 독자적으로 작동한다고 본다.
- ② (나)의 관점은 개인이 사회에 의해 구조화된 행동을 한다고 본다.
- ③ (가)의 관점은 (나)의 관점과 달리 사회 현상은 개인의 자율적인 의지에 의해 만들어진다고 본다.
- ④ (나)의 관점은 (가)의 관점과 달리 개인은 사회 속에서만 존재 의미를 가질 수 있다고 본다.
- ⑤ (가), (나)의 관점은 모두 개인의 자율성이 사회 규범의 구속성보다 우선한다고 본다.

9. 밑줄 친 ㉠~㉣에 나타난 문화의 속성에 대한 옳은 설명을 <보기>에서 고른 것은?

갑국의 ○○는 면발을 물에 끓여 먹던 △△에서 유래한 것이다. ○○는 ㉠ 기름에 튀겨 면발을 가공하는 기술이 △△에 접목되어 새롭게 만들어진 것이다. ㉡ 쌀 위주의 식생활을 하는 갑국에서 밀가루 음식인 ○○가 처음에는 국민들의 관심을 끌지 못했다. 그러나 국민들은 ○○를 ㉢ 간편하게 먹을 수 있다는 것을 알게 되었고, 갑국 정부는 쌀 부족으로 인한 식량 문제를 해결하기 위해 분식을 장려하였다. 이제 ○○는 ㉣ 국민 대다수가 즐겨 먹는 음식이 되었다.

- <보기> —
- ㉠은 전승된 문화를 바탕으로 새로운 문화가 창출된다는 것을 보여 준다.
 - ㉡은 문화가 후천적으로 습득된다는 것을 보여 준다.
 - ㉢은 ㉠과 달리 문화 현상이 고정된 것이 아니라 지속적으로 변화함을 보여 준다.
 - ㉣, ㉤은 모두 문화가 구성원의 사고와 행동을 구속한다는 것을 보여 준다.

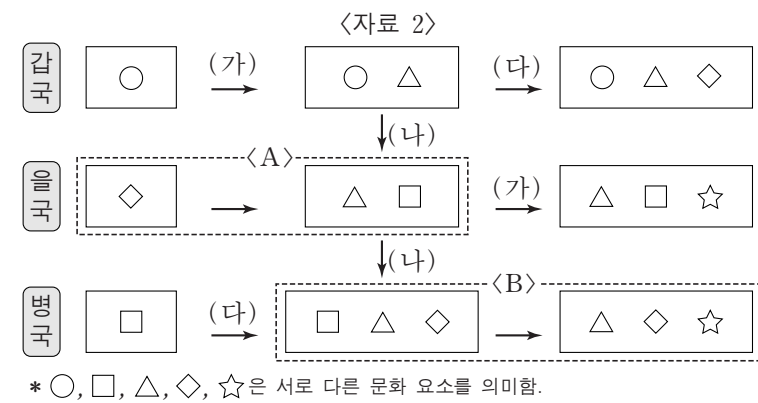
- ① 가, 나 ② 가, 다 ③ 나, 다 ④ 나, 라 ⑤ 다, 라

10. 다음 자료에 대한 옳은 분석만을 <보기>에서 있는 대로 고른 것은? [3점]

<자료 1>은 문화 변동의 요인을 (가)~(다)로 분류한 것이며, <자료 2>는 갑~병국의 문화 변동 과정을 도식화한 것이다. 단, (가)~(다)는 각각 발견, 발명, 직접 전파 중 하나이며, 제시된 것 이외의 다른 문화 변동은 없다.

— <자료 1> —

질문	문화 변동의 요인		
	(가)	(나)	(다)
문화 변동의 내재적 요인인가?	예	아니요	예
존재하지 않았던 새로운 문화 요소를 만들어 내었는가?	아니요	아니요	예



- <보기> —
- 가, B에는 모두 문화 요소의 추가 및 소멸 과정이 포함되어 있다.
 - 나, 갑국에서 발명으로 나타난 문화 요소는 병국에서도 나타났다.
 - 다, 갑국에서 (가)로 인해 나타난 문화 요소는 (나)로 인해 병국으로 전달되었다.
 - 라, 을국에는 병국에서와 달리 자국의 문화 요소와 갑국의 문화 요소가 공존하고 있다.

- ① 가, 나 ② 가, 라 ③ 다, 라
④ 가, 나, 다 ⑤ 나, 다, 라

11. (가), (나)의 사례에 대한 설명으로 옳은 것은?

(가) 인터넷 및 스마트폰의 보급으로 누구나 온라인 게임을 손쉽게 접할 수 있게 되었다. 이제 온라인 게임은 청소년뿐만 아니라 중장년층 및 노년층까지 전 세대가 즐기는 대중적 문화가 되었다.
 (나) 최근 청소년들은 그들끼리만 통하는 언어를 사용한다. 인터넷 용어를 축약하여 표현하거나, 자음만으로 의사를 표현하는 등의 방법으로 신조어와 은어를 만들어 사용한다. 기성세대가 청소년들의 언어문화를 이해하지 못하여, 세대 간 의사소통의 장애가 발생하고 있다.

- ① (가)에서는 물질문화 변동으로 인해 하위문화가 전체 문화로 변화되었다.
- ② (나)에서는 하위문화로 인해 세대 문화 간의 이질성이 약화되었다.
- ③ (가)는 (나)와 달리 문화 지체 현상을 포함하고 있다.
- ④ (나)는 (가)와 달리 반문화의 범위가 확장된 사례이다.
- ⑤ (가), (나)는 모두 특정 집단의 문화가 기존의 주류 문화를 대체한 사례이다.

12. 다음과 같이 A~C를 분류할 때, 이에 대한 옳은 설명을 <보기>에서 고른 것은? (단, A~C는 각각 농업 사회, 산업 사회, 정보 사회 중 하나이다.) [3점]

질문	사회	A	B	C
1차 산업 중심의 전통적인 사회인가?	(가)	(가)	(나)	(다)
(라)	아니요	예	아니요	


— <보기> —
 가. (가)가 '예' 라면, 가정과 일터의 분리 정도는 A<B로 나타난다.
 나. (다)가 '예' 라면, 구성원 간의 비대면 접촉 정도는 A<C로 나타난다.
 다. (가)가 '예', (라)가 '양방향 미디어가 보편적으로 사용되는 사회인가?' 라면, 전자 상거래 비중은 B>C로 나타난다.
 르. (다)가 '예', (라)가 '업무의 표준화 방식이 보편화되기 시작하였는가?' 라면, 기술 발전의 속도는 A<B로 나타난다.

- ① 가, 나 ② 가, 다 ③ 나, 다 ④ 나, 르 ⑤ 다, 르
13. 다음 대화에 나타난 갑, 을의 일탈 이론에 대한 설명으로 옳은 것은? [3점]


통계에 따르면, 범죄자의 다수는 하루 계층 출신인 것으로 나타났습니다. 이에 대한 의견을 말씀해 주십시오.

누구나 물질적 풍요를 원하지만 하루 계층 사람들은 상류 계층에 비해서 제도적 수단이 부족하여 불법적 수단을 더 많이 선택하기 때문입니다.


하류 계층 사람들의 행동에 대한 부정적 인식과 그에 따른 사회적 반응의 결과라고 생각합니다. 하루 계층의 행동을 더 위험하게 생각하여 범죄로 규정할 가능성이 크기 때문입니다.



사회자



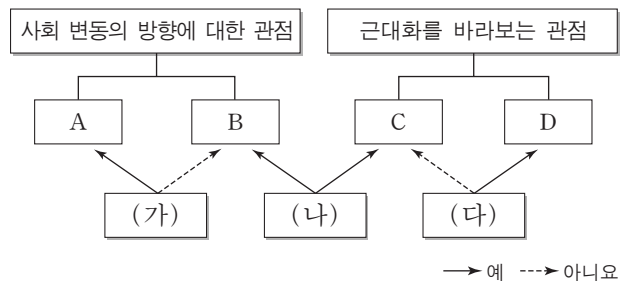
갑



을

- ① 갑의 이론은 일탈 행동이 타인과의 상호 작용에서 비롯된다고 본다.
- ② 을의 이론은 부정적 자아가 형성되어 일탈 행동이 반복된다고 본다.
- ③ 갑의 이론은 을의 이론과 달리 일탈 행동을 미시적 관점에서 바라보고 있다.
- ④ 을의 이론은 갑의 이론과 달리 일탈을 규정하는 객관적 기준이 존재한다고 본다.
- ⑤ 갑, 을의 이론 모두 일탈 행동에 대한 대책으로 강력한 사회 통제를 강조한다.

14. 그림은 사회 변동에 대한 관점 A~D를 구분한 것이다. 이에 대한 옳은 설명만을 <보기>에서 있는 대로 고른 것은? (단, A~D는 각각 근대화론, 순환론, 종속 이론, 진화론 중 하나이다.)



— <보기> —
 가. (가)가 '사회가 일정한 양상을 반복하면서 변동한다고 보는가?' 라면, B는 A와 달리 미래를 예측하는 데 적합하다.
 나. (나)가 '서구 중심적이라는 비판을 받는가?' 라면, (다)에는 '후진국 저발전의 원인을 외부에서 찾는가?' 가 적절하다.
 다. B가 진화론이라면, (가)에는 '사회 발전을 단순한 사회에서 복잡한 사회로의 변동으로 보는가?' 가 적절하다.
 르. C가 근대화론이라면, (다)에는 '선진국과 후진국 간의 불평등한 역학 관계에 주목하는가?' 가 적절하다.

- ① 가, 나 ② 가, 다 ③ 다, 르
- ④ 가, 나, 르 ⑤ 나, 다, 르

15. 다음 자료에 대한 옳은 분석만을 <보기>에서 있는 대로 고른 것은? [3점]

표는 갑국의 종교별 신도 현황 중 일부를 나타낸 것이다. 갑국의 전체 인구는 2,000만 명이다. 단, 갑국에는 종교가 A, B종교 이외에 없으며, 두 종교를 동시에 믿는 사람은 없다.

(단위: %)

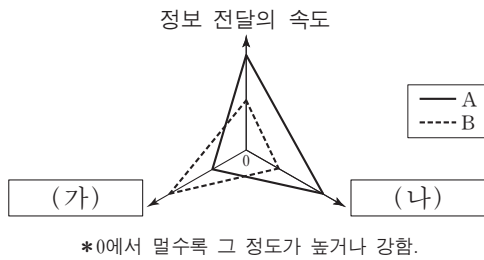
구분	남성 신도	여성 신도	전체 신도
A종교	25.0	25.0	25.0
B종교	12.5	25.0	20.0

*남성(여성) 신도 비율 = $\frac{\text{해당 종교를 믿는 남성(여성) 인구}}{\text{남성(여성) 인구}} \times 100$
 **전체 신도 비율 = $\frac{\text{해당 종교를 믿는 인구}}{\text{전체 인구}} \times 100$

— <보기> —
 가. 종교를 가진 인구보다 종교를 가지지 않은 인구가 많다.
 나. A종교를 믿는 전체 인구 중 남성 신도가 차지하는 비율은 25%이다.
 다. B종교를 믿는 여성 인구는 B종교를 믿는 남성 인구의 3배이다.
 르. A종교를 믿는 남성 인구와 B종교를 믿는 여성 인구는 같다.

- ① 가, 다 ② 가, 르 ③ 나, 르
- ④ 가, 나, 다 ⑤ 나, 다, 르

16. 그림은 대중 매체 A, B의 일반적인 특징을 비교한 것이다. 이에 대한 옳은 설명을 <보기>에서 고른 것은? (단, A, B는 각각 인쇄 매체, 뉴미디어 중 하나이다.) [3점]



- <보기> —
- ㄱ. A는 B보다 정보 확산의 시·공간적 제약이 크다.
 - ㄴ. B는 A보다 정보 생산자와 소비자 간의 경계가 뚜렷하다.
 - ㄷ. (가)에는 '정보 전달자와 수용자 간의 상호 작용성'이 적절하다.
 - ㄹ. (나)에는 '정보 재가공의 용이성'이 적절하다.

- ① ㄱ, ㄴ ② ㄱ, ㄷ ③ ㄴ, ㄷ ④ ㄴ, ㄹ ⑤ ㄷ, ㄹ

17. 우리나라 사회 보장 제도 A, B의 일반적 특징에 대한 설명으로 옳은 것은?

- 2008년 7월부터 시행된 이 제도는 A의 하나로서, 국민 건강 보험 가입자 또는 그 피부양자 가운데 고령이나 노인성 질병 등으로 일상생활을 혼자서 수행하기 어려운 사람들에게 신체 활동 또는 가사 활동 지원 등의 장기 요양 급여를 판정 등급에 따라 제공한다.
- 2014년 7월부터 시행된 이 제도는 B의 하나로서, 국민연금의 혜택을 충분히 누리지 못하고 빈곤을 겪고 있는 노인을 위해 마련되었다. 만 65세 이상이며, 가구의 소득 인정액이 기준액 이하인 사람들을 수혜 대상으로 한다.

- ① A는 B에 비해 빈곤층 자활 지원의 성격이 강하다.
- ② A는 B와 달리 국가와 지방자치단체가 비용을 전액 부담하는 것을 원칙으로 한다.
- ③ B는 A에 비해 소득 재분배 효과가 크다.
- ④ B는 A에 비해 사전 예방적 성격이 강하다.
- ⑤ A, B는 모두 수혜자 부담의 원칙이 적용된다.

18. 표에 대한 분석으로 옳지 않은 것은? [3점]

<갑국의 경력 단절 여성 규모와 사유>

(단위: %)

구분	2011년	2012년	2013년	2014년	2015년	
15~64세 기혼 여성 인구 변화율	0	2	-2	0	0	
경력 단절 여성 비율	20	20	20	20	20	
경력 단절 사유	결혼	47	46	45	40	37
	임신·출산	20	24	21	20	24
	육아	25	26	30	31	32
	기타	8	4	4	9	7
	합계	100	100	100	100	100

* 15~64세 기혼 여성 = $\frac{(\text{당해 연도 15~64세 기혼 여성 수}) - (\text{전년도 15~64세 기혼 여성 수})}{\text{전년도 15~64세 기혼 여성 수}} \times 100$
 ** 경력 단절 여성 비율 = $\frac{\text{경력 단절 여성 수}}{\text{15~64세 기혼 여성 수}} \times 100$

- ① 15~64세 기혼 여성의 수는 2012년이 2013년보다 많다.
- ② 경력 단절 여성의 수는 2011년이 2015년보다 많다.
- ③ 결혼으로 인한 경력 단절 여성의 비율은 줄어들고 있다.
- ④ 임신·출산으로 인한 경력 단절 여성의 수는 2011년이 2014년보다 적다.
- ⑤ 육아로 인한 경력 단절 여성의 수가 가장 많은 해는 2015년이다.

19. 사회·문화 현상을 바라보는 A~C의 관점에 대한 옳은 설명을 <보기>에서 고른 것은? (단, A~C는 각각 기능론, 갈등론, 상징적 상호 작용론 중 하나이다.)

학교와 학교 교육에 대한 서로 다른 관점이 존재한다. A의 관점은 C의 관점과 달리 학교 교육은 사회적 합의에 기초한 지배적 가치를 다양한 집단의 구성원들에게 전수하여 사회 질서 유지에 기여한다고 본다. B의 관점은 A, C의 관점과 달리 능동적 존재로서의 학생들이 학교와 학교 교육에 대해 부여하는 다양한 의미와 그 해석에 주목한다.

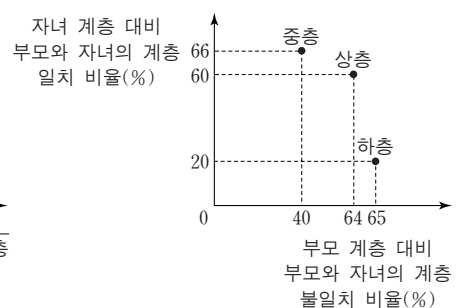
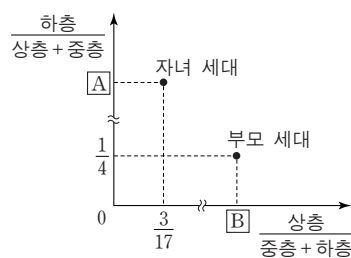
- <보기> —
- ㄱ. A의 관점은 학교 교육이 지배 집단의 가치를 전수시킨다고 본다.
 - ㄴ. B의 관점은 학교 교육에 대한 교사와 학생의 상황 정의에 주목한다.
 - ㄷ. C의 관점은 학교 교육이 사회에서 필요한 인력을 적재적소에 배치하는 데 기여한다고 본다.
 - ㄹ. A, C의 관점은 거시적, B의 관점은 미시적 관점으로 분류할 수 있다.

- ① ㄱ, ㄴ ② ㄱ, ㄷ ③ ㄴ, ㄷ ④ ㄴ, ㄹ ⑤ ㄷ, ㄹ

20. 다음 자료는 갑국의 세대 간 계층 이동 현황을 나타낸 것이다. 이에 대한 분석으로 옳은 것은?

<세대별 계층의 상대적 비율>

<세대 간 계층 이동 현황>



* 모든 부모의 자녀는 1명이고, 갑국의 계층은 상층, 중층, 하층으로만 구분한다.
 ** 부모 세대 상층에서 자녀 세대 중층으로 이동한 인구와 부모 세대 상층에서 자녀 세대 하층으로 이동한 인구는 같다.

- ① 세대 간 계층 유지 비율이 이동 비율보다 크다.
- ② 부모 세대 하층 대비 부모와 자녀가 모두 하층인 비율은 A보다 작다.
- ③ 부모 세대 중층 대비 부모 세대가 중층이고 자녀 세대가 하층인 비율은 B보다 작다.
- ④ 자녀 세대 계층 대비 부모와 자녀의 계층 불일치 비율은 상층이 가장 크다.
- ⑤ 부모 세대 상층에서 자녀 세대 하층으로 이동한 인구는 부모 세대 하층에서 자녀 세대 중층으로 이동한 인구보다 많다.

* 확인 사항
 ○ 답안지의 해당란에 필요한 내용을 정확히 기입(표기)했는지 확인하십시오.

제 4 교시

사회탐구 영역(사회·문화)

성명 수험 번호

1. 밑줄 친 ㉠~㉤과 같은 현상의 일반적인 특징을 고려하여 자신에게 주어진 질문에 모두 옳게 응답한 학생은?

최근 도심에 ㉠ 새끼 멧돼지가 먹이를 찾아 자주 출몰하고 있습니다. 이에 대한 원인과 대책을 설명해 주시기 바랍니다.

그 이유는 어미 멧돼지가 ㉡ 데리고 있던 새끼를 독립시키는 시기인데다, ㉢ 사람들의 주거지 개발로 서식지가 파괴되어 먹이가 부족해졌기 때문입니다. 이를 막으려면 ㉣ 야생 동물의 서식지를 보존하려는 노력이 필요합니다.



앵커



기자

학생	질문	응답			
		㉠	㉡	㉢	㉣
갑	물가치적 현상인가?	×	○	○	×
을	당위 법칙의 적용을 받는가?	○	×	○	○
병	확실성의 원리가 적용되는가?	○	○	×	×
정	보편성과 특수성이 공존하는가?	○	×	×	×
무	경험적 자료에 의해 연구할 수 있는가?	○	○	×	×

(○: 예, ×: 아니요)

- ① 갑 ② 을 ③ 병 ④ 정 ⑤ 무

2. 다음 사례를 연구 윤리 측면에서 적절하게 평가한 것만을 <보기>에서 있는 대로 고른 것은? [3점]

- 독신세 부과를 주장하던 갑은 독신세 도입에 대한 미혼자의 인식을 연구하였다. 결혼에 호의적인 미혼자를 대상으로 조사하여, 해당 자료를 엄격하게 분석한 후 75%가 독신세 부과에 찬성한다는 결과를 발표하고 독신세 도입을 촉구하였다. 이후 결혼 정보 회사를 운영하는 친구의 요청으로 연구 결과와 함께 연구 대상의 개인 정보를 제공하였다.
- 특정 기업의 주식을 소유한 을은 해당 기업의 주가 변동 예측 연구를 진행하였다. 해당 기업의 주식 관련 자료를 모두 수집한 후 주가 상승을 예측한 자료만 분석하여, 그중에 주가 상승 폭이 최대치로 예측된 분석 내용을 근거 자료로 제시하면서 해당 기업의 주가가 단기간에 대폭 상승할 것이라고 결과를 발표하였다.

- 〈보기〉
- ㄱ. 자료 수집 단계에서 갑은 을과 달리 의도적으로 왜곡된 자료 수집을 하였다.
 - ㄴ. 자료 분석 단계에서 을은 갑과 달리 고의로 자료를 선별하여 분석하였다.
 - ㄷ. 결과 발표 단계에서 갑, 을 모두 자신의 이익을 추구하기 위해 분석 결과의 일부를 은폐하여 발표하였다.
 - ㄹ. 을은 갑과 달리 수집한 자료를 연구 외의 목적으로 유출하였다.

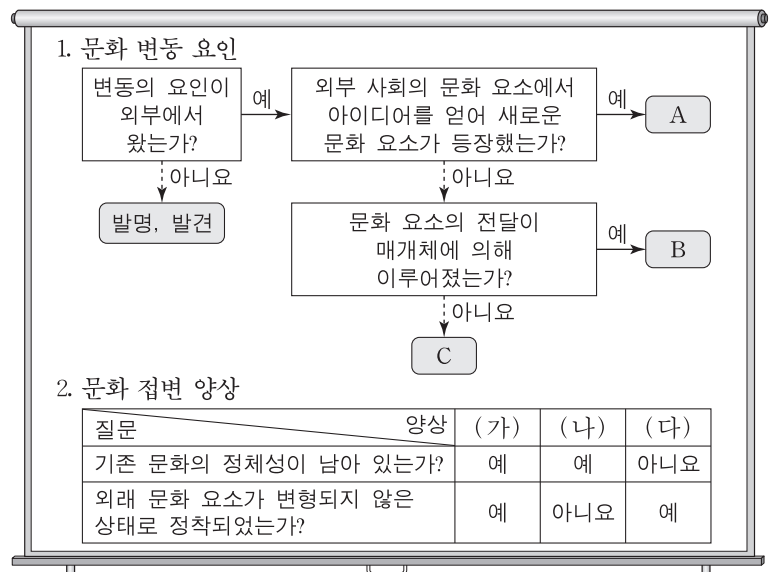
- ① ㄱ, ㄴ ② ㄱ, ㄹ ③ ㄷ, ㄹ
 ④ ㄱ, ㄴ, ㄷ ⑤ ㄴ, ㄷ, ㄹ

3. 가족 형태의 변화를 바라보는 관점 (가), (나)에 대한 설명으로 옳은 것은?

(가) 현대 사회에서 이혼과 재혼, 공동체 가족, 1인 가구의 증가 등 가족 형태의 변화는 자연스러운 현상이다. 이는 가족 내에서 경제적 우위를 갖는 남성 중심의 권위주의적 전통적 가족 관계에 저항하여 이루어진 결과이다.
 (나) 현대 사회에서 이혼과 재혼, 공동체 가족, 1인 가구의 증가 등 가족 형태의 변화는 자연스러운 현상이라 볼 수 없다. 이는 가족의 양육 및 부양 기능이 약화되고 가족 간 유대 관계를 중시하는 인식도 약화된 결과이다.

- ① (가)는 (나)와 달리 가족 구성원 간의 갈등을 당연한 것으로 본다.
- ② (가)는 (나)와 달리 가족 형태의 변화 원인을 구성원의 의식 변화에서 찾는다.
- ③ (나)는 (가)와 달리 가족 형태의 변화 원인을 사회 구조의 영향력에서 찾는다.
- ④ (나)는 (가)와 달리 가족 구성원 간의 갈등을 평등한 가족 관계의 확산으로 해결할 수 있다고 본다.
- ⑤ 현대 사회의 가족 형태 변화를 (가)는 가족 해체의 결과로, (나)는 가족 형태의 다양화로 본다.

4. 자료를 통해 문화 변동 사례를 분석한 것으로 옳은 것은? (단, A~C는 각각 간접 전파, 자극 전파, 직접 전파 중 하나이고, (가)~(다)는 각각 문화 공존, 문화 동화, 문화 융합 중 하나이다.) [3점]



- ① 다른 나라의 종교 교리와 체계를 응용하여 만든 신흥 종교가 기존 종교를 대체한 사례는 A에 의한 (가)에 해당한다.
- ② 새로운 정보 통신 기술을 개발하여 자국의 첨단 매체 발달에 기여한 사례는 B에 의한 (나)에 해당한다.
- ③ 케이팝(K-pop)의 인기로 외국인이 한국어를 배우러 한국에 와서 정착하는 사례는 B에 의한 (다)에 해당한다.
- ④ 자국을 식민 지배한 나라의 언어와 자국의 전통 언어를 공용어로 사용하는 사례는 C에 의한 (가)에 해당한다.
- ⑤ 이웃 나라의 특정 음료가 교역을 통해 들어와 자국민이 즐겨 마시는 음료 중 하나가 된 사례는 C에 의한 (나)에 해당한다.

5. 밑줄 친 ㉠~㉣에 대한 설명으로 옳은 것은? [3점]

연구자 갑은 ㉠행복감에 소득 수준과 물질주의 가치관이 미치는 영향을 연구하고자, 전국의 ㉡30세 이상 성인 중 1,000명을 대상으로 설문 조사를 하였다. 분석 결과 삶에 대한 만족도는 ㉢월평균 수입 정도와 정(+)의 관계이지만, ㉣삶에서 돈이 중요하다고 생각하는 정도와는 ㉤부(-)의 관계를 보였다. 연구자 을은 중학교에서 학생들의 생활에 대해 참여 관찰을 실시한 결과 ㉥행복감이 높은 학생이 학교 활동에 더 열심히 참여하는 것을 발견하였다. 두 연구 결과를 종합하여, 병은 ㉦학생의 가계 소득 수준이 높을수록 학교 활동도 열심히 한다고 결론지었다.

- 1. ㉠은 갑의 연구에서, ㉥은 을의 연구에서 종속 변수에 해당한다.
2. ㉡은 갑의 연구에서 표본이다.
3. ㉢, ㉣은 갑의 연구에서 독립 변수에 대한 조작적 정의이다.
4. ㉤으로 보아 갑은 가설 검증에 실패하였다.
5. ㉦은 병이 연역적 연구 과정을 통해 도출한 타당한 결론이다.

6. 일탈 이론 (가)~(다)에 대한 설명으로 옳은 것은?

(가) 어떤 사회에서는 특정 목표가 모두에게 강조되지만 이를 달성하기 위한 접근 기회는 차별적으로 주어진다. 일탈은 문화적으로 정의된 열망과 사회적으로 구조화된 수단 사이의 격차로 인해 발생한다.
(나) 사회 집단은 그들이 만든 규칙을 위반하는 것을 일탈이라고 보고, 이 규칙을 상대적으로 다르게 적용하여 일탈자를 만들어 낸다. 일탈은 행위의 속성에 있는 것이 아니라 규칙과 처벌을 위반자에게 적용한 결과이다.
(다) 사회 구조는 사람들이 상호 작용하는 조건을 형성해 주지만, 그 자체가 일탈 행동을 유발하는 것은 아니다. 일탈 행동은 다른 사람과의 친밀한 상호 작용을 통해 동기, 기술, 법에 대한 태도 등을 습득하면서 발생한다.

- 1. (가)는 일탈 행동의 해결 방법으로 일탈 규정에 대한 신중한 접근을 강조한다.
2. (나)는 일탈 행동의 해결 방법으로 일탈자에 대한 사회 통제와 규제 강화 방안의 마련을 강조한다.
3. (다)는 일탈 행동의 원인을 차별적인 제재에서 찾는다.
4. (가)는 (다)와 달리 일탈 행동의 원인을 개인적인 차원에서 찾는다.
5. (나), (다)는 (가)와 달리 타인들과의 상호 작용이 일탈 발생 과정에 미치는 영향을 중시한다.

7. 다음은 연예인 갑의 주간 일정표이다. 밑줄 친 ㉠~㉥에 대한 설명으로 옳은 것은? [3점]

월: ㉠소속된 기획사의 봉사 동아리 회원들과 봉사 활동 참가
화: ㉡OO방송국의 예능 프로그램 녹화
수: ㉢국세청의 모범 납세자 시상식 참석
목: 어머니 생신 축하를 위한 ㉣가족 모임 참석
금: ㉤△△대학교 총학생회 주관 축제 행사 공연
토: ㉥연예인 야구단 시합 참가

- 1. ㉠과 ㉡은 갑의 내집단이다.
2. ㉢과 ㉥은 자발적 결사체이다.
3. ㉣과 ㉤은 1차 집단이다.
4. ㉢, ㉤은 ㉠과 달리 공식 조직이다.
5. ㉣, ㉥은 ㉡과 달리 공동 사회이다.

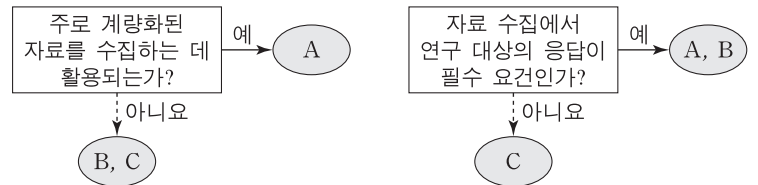
8. 다음 글에서 부각되는 개인과 사회의 관계를 보는 관점에 부합하는 진술을 <보기>에서 고른 것은?

민원인이 관료제 특징을 보이는 기관을 방문하여 일처리를 하다 보면 좌절감을 경험하는 경우가 많다. 이러한 좌절감은 민원인의 무능력 때문인가? 아니면 이곳저곳에서 문서를 여러 번 작성하게 하는 직원 개인의 잘못 때문인가? 이러한 좌절감은 조직의 규모 등과 같은 요인에 의해서 설명될 수 있다. 조직의 규모는 운영 방식에 영향을 주어 조직의 독특한 특성을 형성하고, 개인은 이 특성으로부터 자유로울 수 없다.

<보기>
ㄱ. 개인은 사회에 의해 구조화된 행동을 한다.
ㄴ. 개인은 사회 속에서만 존재 의미를 갖는다.
ㄷ. 사회는 개인의 자율적인 의지에 의해 형성된다.
ㄹ. 사회는 개인의 속성에 의해 그 속성이 결정된다.

- 1. ㄱ, ㄴ 2. ㄱ, ㄷ 3. ㄴ, ㄷ 4. ㄴ, ㄹ 5. ㄷ, ㄹ

9. 자료 수집 방법 A~C의 일반적인 특징에 대한 설명으로 옳은 것은? (단, A~C는 각각 면접법, 질문지법, 참여 관찰법 중 하나이다.)



- 1. A는 B와 달리 연구 대상의 주관적인 인식을 파악할 수 없다.
2. B는 A에 비해 다수를 대상으로 자료를 수집하기가 용이하다.
3. C는 A, B와 달리 연구자의 직관적 통찰로 해석해야 하는 자료를 수집할 수 있다.
4. B, C는 A에 비해 연구 대상과 연구자 간 신뢰감 형성의 중요성이 강조된다.
5. 자료 수집 상황에 대한 통제 수준은 A > C > B이다.

10. 다음 사례에 대한 옳은 분석만을 <보기>에서 있는 대로 고른 것은? [3점]

○ IT 회사의 앱 개발 팀장인 갑은 자신이 개발한 앱으로 인해 많은 부와 명예를 누리고 있다. 갑은 첫 출산을 앞두고 예비 부모 교실에 참석하면서 남편과 자녀 양육 분담을 계획하였다. 하지만 남편의 갑작스러운 해외 발령으로 자녀 양육에 대해 남편과 갈등을 겪었다.
○ 가난한 집안의 장남인 을은 원하던 회사에 합격해 입사 전 신입 사원 연수를 받았다. 입사 이후 회사 생활에 회의를 느낀 을은 회사를 계속 다닐지 창업할지 고민하다가, 동료와 함께 창업 후 경영인상을 수상하는 등 기업의 대표로서 승승장구하고 있다.

<보기>
ㄱ. 갑은 을과 달리 역할 수행에 따른 보상을 받았다.
ㄴ. 을은 갑과 달리 성취 지위와 귀속 지위에 따른 역할 갈등을 경험하였다.
ㄷ. 갑, 을 모두 예기 사회화를 경험하였다.
ㄹ. 갑, 을 모두 비공식적 사회화 기관에서 일하고 있다.

- 1. ㄱ, ㄴ 2. ㄱ, ㄷ 3. ㄷ, ㄹ
4. ㄱ, ㄴ, ㄹ 5. ㄴ, ㄷ, ㄹ

11. 사회·문화 현상을 바라보는 서로 다른 관점 (가)~(다)에 대한 설명으로 옳은 것은? [3점]

(가) 사회 규범은 대다수 구성원이 특정 행위에 규범이라는 의미를 부여함으로써 형성된다. 그들이 그 행위에 다른 의미를 부여하면 기존 규범은 역할을 상실하고 새로운 규범이 나타난다.

(나) 사회 규범은 기존 질서 유지를 위한 기득권층의 의지가 반영되어 형성된다. 그들이 사회 규범을 마치 사회 전체의 합의인 것처럼 구성원들에게 강요함으로써 사회가 유지된다.

(다) 사회 규범은 전체 구성원의 이익과 사회의 원활한 작동을 위해 형성된다. 이러한 사회 규범의 내용과 의미가 사회화를 통해 전승됨으로써 사회의 존속이 가능하다.

- ① (가)는 (다)와 달리 사회 갈등과 투쟁이 사회 발전의 원동력이라고 본다.
- ② (나)는 (가)와 달리 행위자의 주체적 능동성을 중시한다.
- ③ (나)는 (다)와 달리 사회 변동의 불가피성을 강조한다.
- ④ (다)는 (나)와 달리 주관적인 상황 정의를 중시한다.
- ⑤ (가), (다)는 (나)와 달리 사회 통합을 중시한다.

12. 갑~병의 문화 이해 태도에 대한 설명으로 가장 적절한 것은?

교사

A국의 ◇◇ 축제에서는 재앙을 막아 주고 행운을 가져다 달라는 의미로 물소, 새 등 수십만 마리의 동물을 죽여서 제물로 바칩니다. 이에 대해 자신의 의견을 이야기해 봅시다.

갑

축제 중에 동물을 죽인다 해도 그것은 A국의 사회적 맥락이 반영된 고유한 문화이기에 존중해야 합니다.

을

고유한 문화로 인정해야 하지만, 그 전에 동물을 죽이는 것이 보편적인 가치를 훼손하는 것은 아닌지 검토해야 합니다.

병

축제에서 수십만 마리의 동물을 죽이는 A국의 관습은 야만적인 것입니다. 선진국인 우리나라의 동물 애호 정신을 배워서 A국은 이런 악습을 바꿔야 합니다.

- ① 갑의 태도는 문화 간에 우열이 존재한다고 본다.
- ② 을의 태도는 극단적 문화 상대주의를 경계해야 한다고 본다.
- ③ 병의 태도는 자문화를 보다 객관적으로 파악하는 데 유용하다.
- ④ 갑의 태도는 병의 태도와 달리 문화 다양성 보존에 불리하다.
- ⑤ 을의 태도는 병의 태도와 달리 자문화의 정체성을 보존하는 데 유리하다.

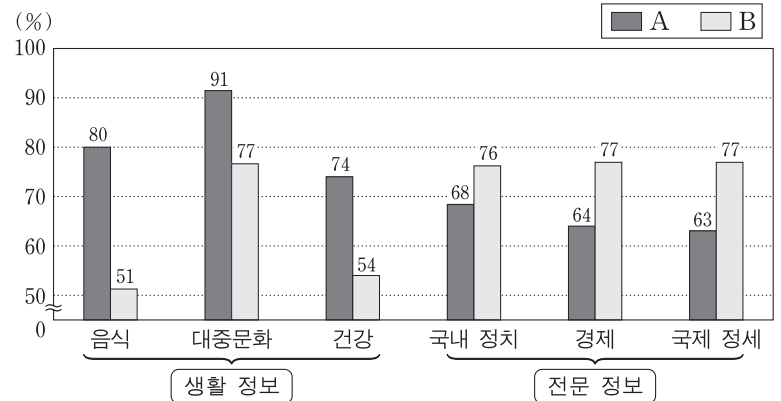
13. 사회 변동을 바라보는 (가)의 관점을 통해 (나)의 관점을 비판한 것으로 옳은 것은? [3점]

(가) 인류 사회는 일정한 방향으로 진보해 온 것이 아니라 시간의 흐름에 따라 생성, 성장, 쇠퇴, 소멸의 과정을 반복해 왔다. 사회 변동은 단선적 발전 과정이 아니라 주기적으로 반복되어 나타나는 것이다.

(나) 인류 사회는 사회 변동을 통해 특정한 방향으로 진보해 왔다. 방향을 갖는다는 것은 단순한 사회로부터 복잡하고 분화된 사회로, 진보한다는 것은 새롭고 보다 나은 문명의 사회로 나아감을 의미한다.

- ① 사회 변동을 운명론적 관점으로만 설명하고 있다.
- ② 사회 변동을 대립과 갈등이라는 속성으로만 파악한다.
- ③ 사회 변동을 질서와 안정을 추구하는 것으로만 파악한다.
- ④ 사회 변동의 방향을 예측하기 어려워 역동적 대응이 곤란하다.
- ⑤ 사회 변동 과정에서 나타나는 사회의 멸망을 설명하기 어렵다.

14. 자료는 어떤 세대의 매체 이용 실태를 조사한 결과이다. 이에 대한 분석으로 옳은 것은? (단, A, B는 각각 전통적 영상 매체와 뉴미디어 중 하나이다.) [3점]



*정보의 생산자와 소비자 간 경계의 명확성은 A<B임.
 **각각의 수치는 전체 응답자 중 해당 정보를 획득하기 위해 각 매체를 이용한 비율이며, 무응답은 없음.

- ① 생활 정보 획득에서 일방향 매체를 이용한 응답자보다 양방향 매체를 이용한 응답자가 많다.
- ② 전문 정보 획득에서 정보 재가공이 용이한 매체를 이용한 응답자보다 그렇지 않은 매체를 이용한 응답자가 적다.
- ③ A를 이용하여 생활 정보를 획득한 건수가 전문 정보를 획득한 건수보다 많다.
- ④ B를 이용하여 '경제' 정보를 획득한 사람은 모두 '국제 정세' 정보도 획득하였다.
- ⑤ A의 이용 비율과 B의 이용 비율 간의 차이는 생활 정보 획득에서보다 전문 정보 획득에서 더 크다.

15. 다음 과제를 적절하게 수행한 학생만을 <보기>에서 있는 대로 고른 것은?

● 표를 사용하여 진위 여부를 검증할 수 있는 진술을 만들어 보세요.

〈A국의 사회 지표 변동 추이〉

구분	연도	1970년	1990년	2010년
산업별 취업자 비율(%)	1차 산업	50	17	10
	2차 산업	15	27	18
	3차 산업	35	56	72
	계	100	100	100
대학 진학률(%)		27	33	82
노령화 지수		10	20	69

* 산업별 취업자 비율(%)=(해당 산업별 취업자 수/전체 취업자 수)×100
 ** 대학 진학률(%)=(대학 진학자 수/고등학교 졸업자 수)×100
 *** 노령화 지수=(노년 인구(65세 이상)/유소년 인구(0~14세))×100

— <보기> —

ㄱ. 갑: 1970년 대비 2010년에 3차 산업 취업자 수는 2배 이상 증가하였다.

ㄴ. 을: 1970년 대비 2010년에 고등학교 졸업자 증가율보다 대학 진학자 증가율이 더 높다.

ㄷ. 병: 1990년 대비 2010년에 1차 산업 취업자 비율과 2차 산업 취업자 비율은 감소하였다.

ㄹ. 정: 1990년에는 유소년 인구가 노년 인구보다 많지만, 2010년에는 유소년 인구가 노년 인구보다 적다.

- ① ㄱ, ㄷ
- ② ㄱ, ㄹ
- ③ ㄴ, ㄷ
- ④ ㄱ, ㄴ, ㄹ
- ⑤ ㄴ, ㄷ, ㄹ

16. (가), (나)는 교육 불평등 해소와 관련된 법 조항이다. 이에 대한 설명으로 옳은 것은?

(가)	제4조 ① 모든 국민은 성별, 종교, 신념, 인종, 사회적 신분, 경제적 지위 또는 신체적 조건 등을 이유로 교육에서 차별을 받지 아니한다.
(나)	제14조 ① 교육 책임자는 ... (중략) ... 다음 각 호의 수단을 적극적으로 강구하고 제공하여야 한다. 1. 장애인의 통학 및 교육기관 내에서의 이동 및 접근에 불이익이 없도록 하기 위한 각종 이동용 보장구의 대여 및 수리 2. 장애인 및 장애인 관련자가 필요로 하는 경우 교육보조 인력의 배치

- ① (가)는 평등한 교육 기회의 보장보다는 경쟁을 통한 교육 기회의 획득을 강조한다.
- ② (나)는 교육 불평등 해소를 위한 교육 접근 기회의 적극적인 지원을 강조한다.
- ③ (가)는 (나)와 달리 교육 기회 확대를 통한 삶의 질 향상을 추구한다.
- ④ (가)는 (나)와 달리 교육 결과의 평등을 구체적으로 실현하는 것을 추구한다.
- ⑤ (나)는 (가)와 달리 장애인을 위한 적극적 우대 조치 정책에 따른 교육 기회의 역차별 해소를 추구한다.

17. 다음은 사회 불평등 현상을 설명하는 이론이다. 이에 대한 옳은 설명을 <보기>에서 고른 것은?

생산 수단의 '소유'와 '소유의 결여'가 계급의 위치를 결정하는 기본적 요인임을 인정한다. 하지만 노동 시장에서 능력의 차이를 초래하는 소유의 종류나 기술, 신용, 자격 등도 계급 분화에 영향을 준다. 또한 개인이 다른 사람으로부터 받는 존경이나 개인이 누리는 명예, 위신에 의한 지위 집단 등도 사회 불평등 현상의 또 다른 차원으로 작동한다.

— <보기> —

- ㄱ. 중간 계급의 존재를 부정한다.
- ㄴ. 경제적 위치에 따른 집단 내 연대 의식을 강조한다.
- ㄷ. 사회 불평등에서 위계를 결정하는 기준이 다원적이다.
- ㄹ. 사회 불평등 현상을 연속선 상에 서열화된 것으로 본다.

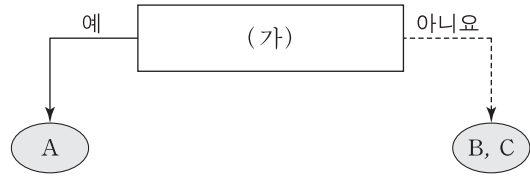
- ① ㄱ, ㄴ ② ㄱ, ㄷ ③ ㄴ, ㄷ ④ ㄴ, ㄹ ⑤ ㄷ, ㄹ

18. 하위문화의 유형인 A, B 문화의 일반적인 특징에 대한 설명으로 옳은 것은?

유형	사례
A 문화	1960년대 미국의 히피족은 정치적으로 베트남전 참전을 위한 징집을 거부하는 등 정부 정책에 도전하며 평화를 추구하고, 물질적 풍요와 편의성보다는 자연과 공존하는 생활 태도를 중시하였다.
B 문화	최근 2030세대는 이전의 젊은 세대에 비해 현재를 중시하는 삶의 방식을 보인다. 이들은 미래에 투자하기보다 현재의 행복과 즐거움을 위해 소비하는 경향을 보인다. 이는 "You only live once(당신의 삶은 한번 뿐이다)."의 줄임말인 '올로(YOLO)' 현상으로 설명되기도 한다.

- ① A 문화는 B 문화와 달리 전체 사회에 문화 다양성을 제공한다.
- ② B 문화는 A 문화와 달리 기존 문화에 저항하는 특징을 보인다.
- ③ A 문화나 B 문화에 속하는 것을 구분하는 기준은 상대적이다.
- ④ A 문화는 사회 통합에, B 문화는 사회 변동에 기여한다.
- ⑤ A 문화와 B 문화의 총합은 전체 문화이다.

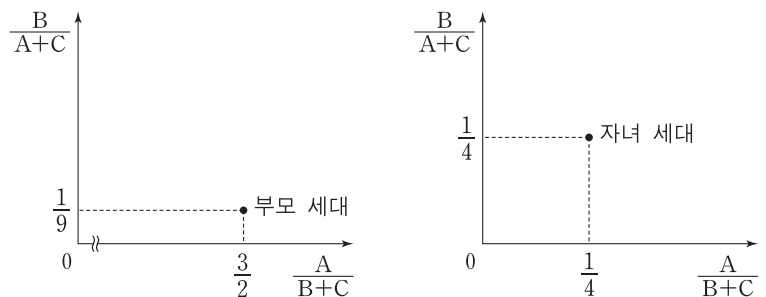
19. 그림은 우리나라 사회 보장 제도 A~C를 구분한 것이다. 이에 대한 분석으로 옳은 것은? (단, A~C는 각각 공공 부조, 사회 보험, 사회 서비스 중 하나이다.) [3점]



- ① A가 공공 부조이면, (가)에는 '금전적 지원을 원칙으로 하는가?'가 적절하다.
- ② A가 사회 보험이면, (가)에는 '강제 가입을 원칙으로 하는가?'가 적절하다.
- ③ A가 사회 서비스이면, (가)에는 '상호 부조의 성격이 강한가?'가 적절하다.
- ④ (가)가 '소득 재분배 효과가 가장 큰 제도인가?'이면, 기초 연금과 고용 보험은 각각 B, C 중 하나에 속한다.
- ⑤ (가)가 '상담, 재활, 사회 복지 시설 이용 등의 지원을 기본으로 하는가?'이면, B와 C의 대상자는 상호 배타적이다.

20. 다음 자료에 나타난 세대 간 계층 이동에 대한 옳은 분석을 <보기>에서 고른 것은? (단, A~C는 각각 상층, 중층, 하층 중 하나이다.) [3점]

<★★ 지역의 세대별 계층 간 상대적 비>



<자녀 세대에서 부모와 계층이 일치하는 사람 대비 불일치하는 사람의 비>

자녀 세대 계층		
A	B	C
0.25	4	1.5

- * 모든 부모의 자녀는 1명씩이고, 부모 세대의 계층 구조는 피라미드형임.
- ** 부모 세대 상층에서 자녀 세대 하층으로의 세대 간 이동은 없음.
- *** 다른 계층에서 중층으로 세대 간 이동한 경우는 모두 ★★ 지역의 산업 구조 변화로 인한 이동이며, 그 외의 이동은 모두 개인적 요인에 의한 것임.

— <보기> —

- ㄱ. 개인적 이동이 구조적 이동보다 많다.
- ㄴ. 부모 세대 계층 대비 계층 대물림 비율은 하층에서 가장 낮다.
- ㄷ. 중층으로의 세대 간 이동에서 상승 이동은 하강 이동의 5배이다.
- ㄹ. 부모 세대와 자녀 세대 간에 계층 이동을 한 사람은 계층이 대물림된 사람보다 적다.

- ① ㄱ, ㄴ ② ㄱ, ㄷ ③ ㄴ, ㄷ ④ ㄴ, ㄹ ⑤ ㄷ, ㄹ

* 확인 사항
○ 답안지의 해당란에 필요한 내용을 정확히 기입(표기)했는지 확인 하시오.

제 4 교시

사회탐구 영역(사회·문화)

성명

수험 번호

1. 밑줄 친 ㉠, ㉡과 같은 현상의 일반적 특징을 구분하기 위해 A, B에 들어갈 수 있는 질문으로 옳은 것은?

㉠ 감기에 걸렸을 때 감기약을 먹으면 7일 만에 낫고, 그렇지 않으면 일주일 만에 낫는다는 말이 있다. 이는 우리 몸에 ㉡ 병을 치유할 수 있는 자생력이 내재되어 있음을 의미하는 말이다. 사회에도 우리 몸과 같이 비정상적인 상태를 바로잡아 정상적인 상태로 회복시켜 주는 장치가 내재되어 있다.

질문 \ 답변	예	아니오
A	㉠	㉡
B	㉡	㉠

- ① A: 당위 법칙이 적용되는가?
- ② A: 존재 법칙이 적용되는가?
- ③ A: 동일 조건하에서 동일 현상이 발생하는가?
- ④ B: 가치 판단이 가능한가?
- ⑤ B: 확률의 원리가 적용되는가?

2. (가), (나)에 나타난 사회·문화 현상을 바라보는 관점에 대한 설명으로 옳은 것은?

(가) 사람들은 흔히 붉은색에 '열정' 혹은 '위험'의 의미를 부여한다. 영화제 레드카펫의 붉은색을 보면서 사람들은 화려한 축제의 열정적 분위기를 떠올리지 붉은색 카펫이 깔려 있다고 이것을 위험한 길이라 생각하지 않는다. 반면 신호등의 붉은색을 보면서 사람들은 이것을 위험에 대한 경고로 이해하지 열정의 색으로 생각하지 않는다.
(나) 신호등의 붉은색은 '위험하니 멈추라'는 의미의 사회적 약속이다. 이렇게 운전자와 보행자가 모두 신호등 각각의 색깔이 상징하는 규칙 체계를 준수함으로써 사고 없이 안전하게 거리를 다닐 수 있다. 물론 신호를 위반해 위험을 초래하는 사람도 있지만 이런 일은 일시적으로 벌어지는 비정상적 상황일 뿐이다.

- ① (가)의 관점은 사회 각 부분 간의 균형과 통합을 강조한다.
- ② (나)의 관점은 사회가 본질적으로 변동을 지향한다고 본다.
- ③ (가)의 관점은 (나)의 관점과 달리 사회 구성원의 상황 정의를 중시한다.
- ④ (나)의 관점은 (가)의 관점과 달리 사회 구성원의 능동성을 중시한다.
- ⑤ (가), (나)의 관점은 모두 사회의 각 부분이 상호 유기적 관계를 맺고 있다고 본다.

3. 밑줄 친 ㉠~㉣에 대한 설명으로 옳은 것은? [3점]

㉠ 아이돌 그룹의 멤버가 되기를 꿈꾸어 왔던 갑은 신인 아이돌 그룹 ㉡ ☆☆☆의 팬클럽을 결성하여 회장으로 활동하였다. 학교 친구들과 ㉢ 댄스 모임을 만들어 꾸준히 연습하던 갑은 방송사의 음악 경연 프로그램에 참가하였지만 ㉣ 예선 탈락의 아픔을 맛보았다. 이에 좌절하지 않고 더욱 분발한 갑은 마침내 ㉤ △△ 기획사에서 개최한 ㉥ 공개 오디션에 합격하였고, 솔로 가수로 데뷔하여 큰 인기를 얻었다. 최근 갑은 무의탁 노인을 대상으로 봉사하는 ㉦ ◇◇ 단체의 홍보 대사로 위촉되어 공연을 하는 등 재능 기부로 나눔을 실천하는 데 앞장서고 있다.

- ① ㉠은 갑의 준거 집단이자 내집단이다.
- ② ㉡은 자발적 결사체이자 이익 사회이다.
- ③ ㉣은 전인격적 인간관계를 바탕으로 한다.
- ④ ㉢과 ㉤은 모두 2차 집단이자 공식 조직이다.
- ⑤ ㉥과 ㉦은 각각 갑의 역할에 대한 제재와 보상이다.

4. 다음 연구에 대한 설명으로 옳은 것은? (단, (가)~(마)는 연구 과정을 순서 없이 나열한 것이다.) [3점]

• 연구 주제 설정: ㉠ 청소년이 스마트폰 게임 중독에 빠지는 원인으로 가족 환경에 주목하고 그 관련성을 파악하기로 하였다.
(가) 스마트폰 게임 중독은 게임 빈도와 시간으로, 부모와 자녀의 유대 정도는 부모-자녀 간 말다툼 빈도 및 부모와의 동일시 정도로 측정하기로 하였다. 연구 대상자는 300명으로, ㉡ ○○ 지역 5개 고등학교 1학년 남녀 학생 중에서 무작위로 선정되었다.
(나) 스마트폰 게임 빈도 및 시간은 부모-자녀 간 말다툼 빈도와는 정(+)의 관계, 부모와의 동일시 정도와는 부(-)의 관계에 있음을 확인하였다.
(다) ㉢ 부모와 자녀 간 유대가 약할수록 자녀의 스마트폰 게임 중독 정도가 높을 것으로 추정하였다.
(라) 2017년 8월, 연구 대상자와의 대면 접촉을 통해 구조화된 질문지로 자료를 수집하였다.
(마) ㉣ 게임 중독 치료 경험이 있는 청소년들을 심층 면접한 선행 연구 자료를 검토하였다. ㉤ 이 선행 연구 자료에서 가족의 특성, 가족 내 갈등 경험 및 가족 구성원 간 친밀성 정도와 스마트폰 게임 중독 사이에 높은 연관성이 있음을 확인하였다.
• 결론 도출: ㉥ 이 연구를 통해 부모와의 유대가 약한 청소년일수록 스마트폰 게임 중독에 빠질 가능성이 높아진다는 사실을 확인하였다.

- ① ㉠은 모집단, ㉡은 표본 집단이다.
- ② ㉢을 측정하기 위한 조작적 정의는 (마)에서 이루어졌다.
- ③ ㉣과 같은 자료 수집 방법은 연구 대상자와 연구자 간 친밀성이 중시된다.
- ④ ㉤과 같은 연구 방법은 ㉥과 같은 연구 방법에 비해 한정된 수의 변인에 집중하여 가설을 검증하기 용이하다.
- ⑤ 이 연구 과정은 (가)-(다)-(마)-(라)-(나) 순서로 진행되는 것이 적절하다.

5. 다음 글에서 공통적으로 부각되는 문화의 속성에 대한 옳은 진술을 <보기>에서 고른 것은?

○ 미국 남서부에 거주하는 주니 족은 절제의 미덕을 중시한다. 이들은 남에게 해를 끼치지 않기 위해 어릴 때부터 집단의 행동 규범을 따라야 하고 개인적인 권위나 카리스마를 내세울 수 없다. 아이들은 일상생활 속에서 원한, 억눌림, 야심, 야망 등이 없이 자라난다. 어른이 되어도 그들은 권력을 쥐고 무언가 해 보겠다는 식의 권력 의지가 없다.
○ 베네수엘라와 브라질의 국경 부근에 사는 야노마모 족에게 근본적이고 중요한 관심사는 "누가 진짜 인간인가?"라는 것이다. 그들은 스스로를 '진짜로 문명화된' 유일한 존재라고 생각하며, 외부인들을 '야만적' 존재로 간주한다. 선조들로부터 구전되어 오는 그들의 기원 신화에 따르면, 최초로 창조된 사람은 야노마모 족이며 그 외의 다른 사람들은 모두 열등한 존재이다.

—<보기>—
 가. 문화는 타고나는 것이 아니라 습득되는 것이다.
 나. 문화는 정적인 상태로 머물지 않고 발전하거나 퇴보한다.
 다. 문화는 사회 구성원 간 원활한 상호 작용의 토대가 된다.
 르. 문화는 새로운 문화 요소가 추가되어 점점 더 풍부해진다.

- ① 가, 나 ② 가, 다 ③ 나, 다 ④ 나, 르 ⑤ 다, 르

6. (가), (나)에 나타난 사회 변동의 방향을 바라보는 관점에 대한 설명으로 옳은 것은? [3점]

(가) 인류 문명은 감각적 문화, 관념적 문화, 이상주의적 문화의 세 가지 문화 체계가 번갈아 출현한다. 감각적 문화는 물질주의와 향락주의가 강조되는데, 로마 제국이나 오늘날의 서구 문명이 그 예이다. 관념적 문화는 정신적이고 비물질적인 존재를 지향하는 유형인데, 기독교가 지배하던 중세 유럽 문명이 그 사례이다. 이상주의적 문화는 이들 두 가지 문화가 한데 모여 균형을 유지하면서 공존하는 유형으로, 르네상스 시기의 유럽 문명이 이에 해당한다.

(나) 인류 문명은 신학적, 형이상학적, 실증적 단계를 거쳐 발전하며 각 단계마다 상이한 시대정신을 갖는다. 신학적 단계에서는 초자연적 힘이나 초월적 존재에 의존하여 지적 기준과 사회 구조가 형성된다. 형이상학적 단계에서는 이성에 기초한 추상적이고 논리적인 사고가 지배한다. 실증적 단계에서는 경험적 관찰과 합리성을 토대로 과학이 발전하고 산업화가 진행된다. 모든 문명은 완전성을 지향하는 시대정신을 향해 동일한 변동 과정을 밟는다.

- ① (가)의 관점은 사회의 안정과 조화를 유지하기 위해 사회 각 부분들이 조정되는 과정을 사회 변동으로 본다.
- ② (나)의 관점은 사회 변동이 항상 발전을 의미하지는 않는다고 본다.
- ③ (나)의 관점은(가)의 관점과 달리 서구 사회가 진보된 사회임을 전제한다.
- ④ (가)의 관점은 급격한 사회 변동을, (나)의 관점은 점진적 사회 변동을 설명하기에 용이하다.
- ⑤ (가), (나)의 관점은 모두 사회가 이전보다 복잡하고 분화되는 양상으로 변동한다고 본다.

7. 일탈 행동을 바라보는 (가)~(다)의 이론적 관점에 대한 설명으로 옳은 것은? [3점]

사회 계층과 범죄율 간에 부(-)의 관계가 나타난다는 주장에 대해 다음과 같은 견해들이 제시되고 있다.

(가) 부를 획득하기 위한 합법적 수단은 계층에 따라 차등 분포되어 있다. 하위 계층은 상위 계층에 비해 문화적 목표와 합법적 수단 간 불일치로 인한 긴장의 정도가 더 커서 일탈 행동을 할 가능성이 높다.

(나) 일탈자로 규정되는 과정에서 규범 위반 여부보다 더 중요한 변인은 개인의 사회적 위치에 따른 차별적 반응이다. 즉, 하위 계층에 보다 엄격한 규범이 적용되고, 이들이 일탈자로서의 정체성을 형성하면서 일탈 경력이 강화된다.

(다) 일탈 행동이 하위 계층의 부적응에서 기인하거나 사회의 차별적 반응의 결과라는 주장에는 문제가 있다. 일탈 행동은 반사회적 행동 성향을 지닌 타인들과 지속적으로 대면 접촉한 결과이다. 일탈에 동조하는 가치, 태도, 행위에 노출된 결과, 일탈을 위한 동기 부여와 기술 습득이 이루어진다.

- ① (가)의 관점은 불평등한 사회 구조와 계급 간 갈등을 일탈 행동의 근본 원인이라고 본다.
- ② (나)의 관점은 일탈 행동이 비행 집단과의 교류로 인한 잘못된 사회화에서 비롯된 것이라고 본다.
- ③ (다)의 관점은 사회의 지배적인 규범이 약화되거나 해체될 때 일탈 행동이 증가한다고 본다.
- ④ (나)의 관점은(가)의 관점과 달리 일탈 행동의 원인을 거시적 관점에서 바라본다.
- ⑤ (다)의 관점은(가)의 관점과 달리 일탈 행동을 타인과의 상호 작용의 산물로 본다.

8. 다음 글에 나타난 개인과 사회의 관계를 보는 관점과 부합하는 진술을 <보기>에서 고른 것은?

인간은 결코 혼자서는 행복하고 안녕한 삶을 누릴 수 없는 존재이기에 집단의 일원으로 살아간다. 그런데 개인은 집단에 소속된 순간부터 자신의 행복과 안녕보다 집단의 존속과 유지를 위해 살아야 한다는 압력을 받게 된다. 각 개인의 자유 의지는 집단 규범이 허용한 범위 안에서만 발현된다. 자유 의지 발현에 대한 집단 규범의 허용 범위가 바뀌는 경우는 집단이 불안정한 상태로 접어들거나 집단 내 구조적 모순이 발생할 때이다.

— <보기> —

ㄱ. 개인의 의식과 행위는 사회에 의해 규정된다.
 ㄴ. 사회의 특성은 개인적 행동이 반영된 결과이다.
 ㄷ. 사회의 구속력이 개인의 자유 의지보다 우위에 있다.
 ㄹ. 집단 행동은 개인이 갖고 있는 자유 의지의 총합으로 표출된다.


- ① ㄱ, ㄴ ② ㄱ, ㄷ ③ ㄴ, ㄷ ④ ㄴ, ㄹ ⑤ ㄷ, ㄹ


9. 밑줄 친 ㉠~㉣에 대한 설명으로 옳은 것은?


많은 사람들이 햄버거는 미국에서 시작되었다고 생각한다. 하지만 일설에 따르면, 햄버거는 아시아의 기마 민족인 ㉠타타르 족으로부터 유래되어 14세기경 오늘날의 독일 지역을 거쳐, 이후 ㉡미국으로 건너가 대중화된 것이라고 한다. 타타르 족은 ㉢말안장 밑에 고기 조각을 넣고 말을 달리면 말안장의 충격으로 고기가 부드럽게 다져진다는 사실을 알게 되었다. 그들은 그렇게 해서 연해진 고기에 각종 양념을 쳐서 먹곤 했다. 이후 미국에서 ㉣빵 사이에 다진 고기를 넣는 요리법이 더해지면서 ㉤타타르 족의 음식과는 다른 형태를 띤 지금의 햄버거가 탄생하여 여러 나라에 보급되었다. 우리나라에는 해방 후 들어온 ㉥미군에 의해 햄버거가 전래했다. 이후 햄버거를 즐겨 먹는 한국인이 늘어나면서 빵 대신 밥을 이용한 ㉦라이스 버거와 같은 새로운 메뉴가 개발되기도 하였다.

- ① ㉠은 직접 전파, ㉣은 간접 전파의 사례이다.
- ② ㉡은 강제적 문화 접변의 사례이다.
- ③ ㉢은 ㉣과 달리 자극 전파의 사례이다.
- ④ ㉤은 문화 동화의 사례이다.
- ⑤ ㉦은 문화 융합의 사례이다.

10. 갑~병의 문화 이해 태도에 대한 옳은 설명을 <보기>에서 고른 것은? [3점]

갑  외국에 여행을 갔을 때 그 나라 사람들이 음식을 손으로 집어 먹는 모습을 보고 깜짝 놀랐어. 우리처럼 도구를 사용하여 음식을 먹는 것이 더 문명화된 모습이 아닐까?

을  예전에 한국에 처음 방문했을 때 여러 사람이 둘러앉아 자기 입에 넣었던 숟가락으로 찌개를 함께 떠먹는 모습을 보고 무척 당혹스러웠어. 음식은 당연히 각자 개인 그릇에 덜어 먹어야 하는 것 아니야?

병  식사 자리에서 대화를 즐기는 나라가 있는 반면, 조용히 식사에만 집중하는 나라도 있잖아. 이렇듯 식사 문화는 나라마다 고유한 특성을 가지고 있어. 이방인이 자기 시선으로 다른 나라의 식사 문화에 대해 우열을 따지는 것은 옳지 않아.

— <보기> —

ㄱ. 갑의 태도는 자국의 문화 정체성을 약화시킬 우려가 있다.
 ㄴ. 을의 태도는 문화를 평가가 아닌 이해의 대상으로 본다.
 ㄷ. 병의 태도는 문화를 사회적 상황과 연결시켜 파악한다.
 ㄹ. 갑과 을의 태도는 병의 태도와 달리 문화의 다양성을 저해할 수 있다.

- ① ㄱ, ㄴ ② ㄱ, ㄷ ③ ㄴ, ㄷ ④ ㄴ, ㄹ ⑤ ㄷ, ㄹ

11. 우리나라 사회 보장 제도 A~C의 일반적 특징에 대한 설명으로 옳은 것은? (단, A~C는 각각 공공 부조, 사회 보험, 사회 서비스 중 하나이다.) [3점]

68세인 갑, 을, 병은 각각 자신에게 맞는 사회 보장 제도에 대한 정보를 관련 기관 홈페이지에서 찾아보았다.

- 갑이 찾은 제도는 A의 하나로서, 일상생활을 혼자서 수행하기 어려운 사람 등을 지원하여 건강 증진 및 생활 안정을 도모한다. 재원은 가입자가 납부하는 보험료, 국가와 지방 자치 단체 부담금으로 조달한다.
- 을이 찾은 제도는 B의 하나로서, 생활이 어려운 사람에게 안정적인 소득 기반을 제공하여 생활 안정을 지원한다. 소득 인정액이 보건복지부 장관이 매년 결정·고시하는 선정 기준액 이하인 65세 이상의 자에 한하여 차등 지급한다.
- 병이 찾은 제도는 C의 하나로서, 식사, 세면, 옷 갈아입기, 구강 관리, 화장실 이용, 외출, 목욕 등의 신변 활동을 지원한다. 또한 취사, 생활 필수품 구매, 청소, 세탁 등 일상생활을 지원한다.

- ① A는 대상자의 수혜 정도에 따른 비용 부담을 원칙으로 한다.
- ② B는 사후 처방적 성격이 강하다.
- ③ C는 강제 가입을 원칙으로 한다.
- ④ B는 A, C와 달리 소득 재분배 효과가 있다.
- ⑤ B, C는 A보다 수혜 대상자의 범위가 넓다.

12. <자료 1>의 밑줄 친 ㉠~㉣을 <자료 2>의 (가)~(다)로 옳게 분류한 것은? [3점]

<자료 1>
A국에서 ㉠대학을 다니던 갑은 난민 신청 절차를 거쳐 B국으로 입국하였다. B국에서 갑은 경제 및 의료 지원 프로그램을 운영하는 ㉡ '○○ 난민 지원 센터'로부터 정착을 위한 서비스를 제공받고 있다. ㉢ 신문에서 A국과 관련된 기사를 볼 때마다 갑은 고향에 두고 온 ㉣ 가족이 떠올라 잠을 이루지 못한다. 하지만 갑은 낯선 B국에 정착하기 위하여 노력하고 있다.

<자료 2>

질문	사회화 기관	(가)	(나)	(다)
사회화를 목적으로 설립되었는가?		예	아니요	아니요
기초적 수준의 사회화를 담당하는가?		아니요	아니요	예

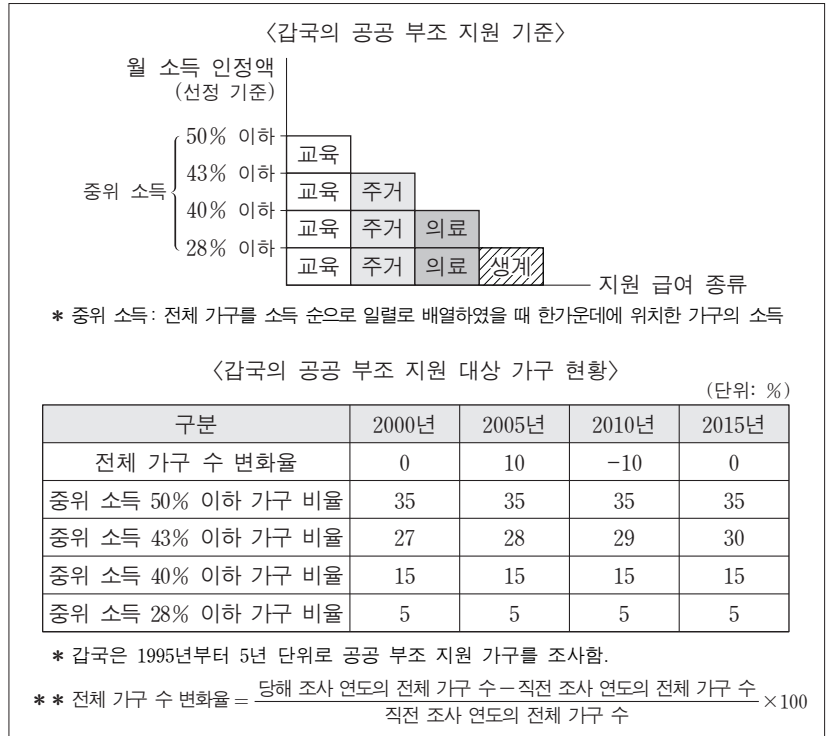
- | | | | |
|---|------|------|------|
| | (가) | (나) | (다) |
| ① | ㉠ | ㉡ | ㉢, ㉣ |
| ② | ㉠ | ㉡, ㉢ | ㉣ |
| ③ | ㉡ | ㉢ | ㉠, ㉣ |
| ④ | ㉢ | ㉡, ㉣ | ㉠ |
| ⑤ | ㉠, ㉡ | ㉢ | ㉣ |

13. 표는 대중 매체 A~C의 일반적인 특징을 구분한 것이다. 이에 대한 설명으로 옳은 것은? (단, A~C는 각각 음성 매체, 영상 매체, 뉴미디어 중 하나이다.)

구분	정보 생산자와 정보 소비자 간의 경계가 뚜렷한가?	시청각 정보를 제공하는가?	(가)
A	아니요	예	예
B	예	예	아니요
C	예	아니요	아니요

- ① A는 C보다 정보 확산의 시·공간적 제약이 크다.
- ② B는 C보다 청각 정보에 대한 의존도가 높다.
- ③ C는 A와 달리 양방향 정보 전달이 가능하다.
- ④ 대중 매체는 C, A, B 순으로 등장하였다.
- ⑤ (가)에는 '정보 수용자에 의한 정보 수정 및 재가공이 용이한가?'가 들어갈 수 있다.

14. 다음 자료에 대한 옳은 분석만을 <보기>에서 있는 대로 고른 것은? [3점]

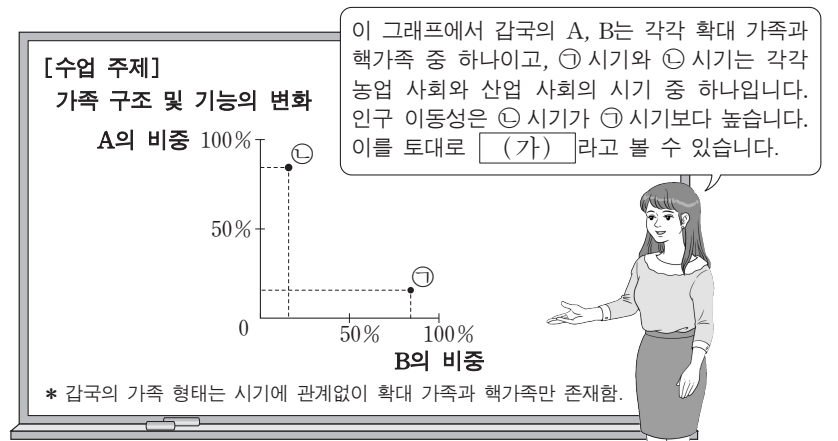


<보기>

- ㄱ. 전체 가구 중 교육 급여 한 가지만 지원받는 가구 비율은 2010년과 2015년이 같다.
- ㄴ. 교육, 주거 급여 두 가지만 지원받는 가구 수는 2000년이 2015년보다 적다.
- ㄷ. 전체 가구 중 교육, 주거, 의료, 생계 급여 모두를 지원받는 가구 비율은 2000년이 2010년보다 낮다.
- ㄹ. 2005년 교육, 주거, 의료 급여 세 가지만 지원받는 가구 수는 2015년 교육, 주거, 의료, 생계 급여 모두를 지원받는 가구 수의 2배 이상이다.

- ① ㄱ, ㄷ
- ② ㄴ, ㄷ
- ③ ㄴ, ㄹ
- ④ ㄱ, ㄴ, ㄹ
- ⑤ ㄱ, ㄷ, ㄹ

15. 다음 자료의 (가)에 들어갈 수 있는 옳은 진술을 <보기>에서 고른 것은?



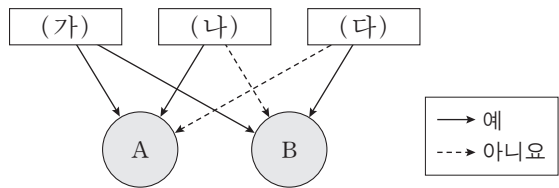
<보기>

- ㄱ. A는 B에 비해 구성원 간 수평적 의사 결정 구조가 일반적이다.
- ㄴ. ㉠ 시기보다 ㉡ 시기가 가족의 노인 부양 기능이 약하다.
- ㄷ. ㉠ 시기보다 ㉡ 시기가 가족의 종교적 의례 기능이 강하다.
- ㄹ. ㉡ 시기보다 ㉢ 시기가 가족 단위의 경제적 생산 기능이 약하다.

- ① ㄱ, ㄴ
- ② ㄱ, ㄷ
- ③ ㄴ, ㄷ
- ④ ㄴ, ㄹ
- ⑤ ㄷ, ㄹ

16. 그림은 질문 (가)~(다)에 따라 사회 불평등 현상을 설명하는 이론 A, B를 구분한 것이다. 이에 대한 옳은 설명을 <보기>에서 고른 것은? (단, A, B는 각각 계급 이론, 계층 이론 중 하나이다.)

[3점]



<보기>

- ㄱ. (가)에는 '사회 불평등 현상의 원인으로 경제적 요인을 고려하는가?'가 들어갈 수 있다.
- ㄴ. A가 계층 이론이라면, (나)에는 '사회 불평등 현상을 불연속적인 위계화로 파악하는가?'가 들어갈 수 있다.
- ㄷ. A가 계급 이론이라면, (다)에는 '사회 불평등 현상의 발생 원인을 다원론적 관점으로 보는가?'가 들어갈 수 있다.
- ㄹ. B가 계층 이론이라면, (나)에는 '지위 불일치 현상을 설명하기에 적합한가?'가 들어갈 수 있다.

- ① ㄱ, ㄴ ② ㄱ, ㄷ ③ ㄴ, ㄷ ④ ㄴ, ㄹ ⑤ ㄷ, ㄹ

17. A~C 문화에 대한 옳은 설명을 <보기>에서 고른 것은? (단, A~C 문화는 각각 전체 문화, 하위문화, 반문화 중 하나이다.)

[3점]

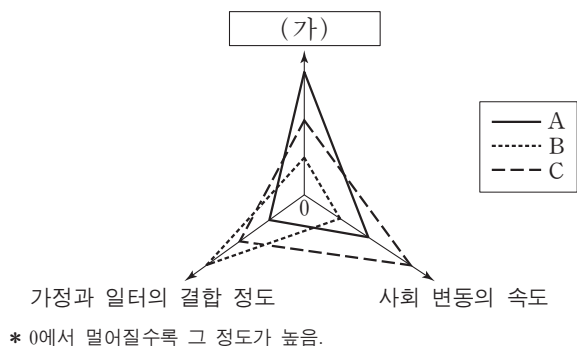
중세 말기 유럽에서는 새롭게 부를 축적한 부르주아지가 등장하였다. 이들의 문화는 당시 엄격한 신분제에 기초한 봉건제적 문화와는 차별화된 성격을 띠고 있어 처음에는 A 문화였다. 그러나 부르주아지가 근대 시민 혁명을 통해 구체제를 전복하려 나선 시기에, 이들의 문화는 B 문화로서의 성격을 보였다. 그리고 마침내 구체제가 무너지고 새로운 근대 사회가 도래한 이후 이들의 문화는 점차 봉건제적 문화를 대체하며 C 문화로 성장하였다.

<보기>

- ㄱ. A 문화는 C 문화와 대립하여 사회 안정을 저해한다.
- ㄴ. C 문화는 사회 변동에 따라 A 문화가 되기도 한다.
- ㄷ. 한 사회에서 B 문화는 C 문화와 공존이 불가능하다.
- ㄹ. 한 사회에서 C 문화는 A 문화의 총합으로 설명할 수 없다.

- ① ㄱ, ㄴ ② ㄱ, ㄷ ③ ㄴ, ㄷ ④ ㄴ, ㄹ ⑤ ㄷ, ㄹ

18. A~C의 일반적 특징에 대한 설명으로 옳은 것은? (단, A~C는 각각 농업 사회, 산업 사회, 정보 사회 중 하나이다.)



- ① A는 B보다 구성원 간 익명성 정도가 높다.
- ② A는 C보다 다품종 소량 생산의 비중이 크다.
- ③ B는 C보다 지식 산업을 통한 부가 가치 창출이 유리하다.
- ④ C는 B보다 직업의 동질성이 강하다.
- ⑤ (가)에는 '비대면 접촉의 정도'가 들어갈 수 있다.

19. 다음 연구에 대한 옳은 설명만을 <보기>에서 있는 대로 고른 것은?

연구자 갑은 주변에 방관자들이 있으면, 곤경에 처한 사람이 낮은 사람으로부터 도움을 받을 가능성이 줄어든다는 '방관자 효과'를 검증하기 위한 연구에 착수하였다. 우선 갑은 접이식 커튼을 쳐, 보이지는 않지만 소리를 들을 수 있는 공간을 만들었다. 그리고 그곳에서 연구 대상자들에게 의자에 오르다 떨어져 도움을 청하는 노인의 녹음된 비명을 듣게 하였다. 연구 대상자들은 두 집단으로 구분되었는데, 한 연구 조건에서는 ㉠ 연구 대상자만 있게 했고, 다른 연구 조건에서는 의도적으로 노인의 비명에 반응하지 않도록 연구자와 공모한 방관자들을 ㉡ 연구 대상자와 함께 있게 했다. ㉢ 방관자들의 존재 여부에 따른 반응을 비교한 결과, '나 홀로 조건'에서는 연구 대상자의 70%가 도움을 주려 한 반면, '방관자 조건'에서는 20%만이 도움을 주려 하였다.

<보기>

- ㄱ. ㉠은 실험 집단, ㉡은 통제 집단에 해당한다.
- ㄴ. ㉢은 독립 변인에 해당한다.
- ㄷ. 실제성이 높은 현장 자료를 얻기 용이한 자료 수집 방법을 사용하였다.
- ㄹ. 연구자가 설정한 상황을 바탕으로 연구 대상자를 관찰하는 자료 수집 방법을 사용하였다.

- ① ㄱ, ㄷ ② ㄴ, ㄷ ③ ㄴ, ㄹ
④ ㄱ, ㄴ, ㄹ ⑤ ㄱ, ㄷ, ㄹ

20. 다음 자료는 갑국의 세대 간 계층 이동 현황을 나타낸 것이다. 이에 대한 분석으로 옳은 것은?

<세대별 계층 간 상대적 비율>

구분	부모 세대	자녀 세대
상층+하층 전체 계층	$\frac{1}{2}$	$\frac{4}{5}$
상층 중층+하층	$\frac{1}{4}$	$\frac{1}{3}$

<자녀 세대 계층 대비 부모와 자녀 계층 일치율의 상대적 비율>

상층	중층	하층
$\frac{1}{5}$	$\frac{1}{2}$	$\frac{4}{11}$

* 모든 부모의 자녀는 1명이고, 갑국의 계층은 상층, 중층, 하층으로만 구분함.
** 상층 부모를 둔 하층 자녀 인구와 하층 부모를 둔 중층 자녀 인구의 비는 2:1임.

- ① 세대 간 계층 일치 비율이 세대 간 계층 이동 비율보다 크다.
- ② 부모 세대 계층 대비 부모와 자녀의 계층 일치 비율은 중층이 상층보다 크다.
- ③ 부모 세대 계층 대비 부모와 자녀의 계층 불일치 비율은 하층이 상층보다 크다.
- ④ 부모 세대 하층에서 자녀 세대 상층으로 이동한 인구와 자녀 세대 중층으로 이동한 인구는 같다.
- ⑤ 갑국에서 부모 세대의 계층 구조는 다이아몬드형이고, 자녀 세대의 계층 구조는 피라미드형이다.

* 확인 사항

○ 답안지의 해당란에 필요한 내용을 정확히 기입(표기)했는지 확인 하시오.

제 4 교시

사회탐구 영역(사회·문화)

성명 수험 번호

1. 밑줄 친 ㉠~㉣과 같은 현상의 일반적인 특징에 대한 질문에 모두 옳게 응답한 학생은?

철새는 계절에 따라 ㉠일정한 대형으로 무리 지어 이동한다. ㉡자신의 이익만을 좇아 이리저리 옮겨 다니는 사람을 지칭할 때 철새라는 말을 쓰지만, 철새의 이동 방식에는 과학적 원리와 지혜가 숨어 있다. 한 연구 팀이 철새에게 측정 장비를 달아 ㉢위치와 속도, 날갯짓 횟수 등을 분석한 결과, V자 대형으로 날 때 ㉣앞선 새가 만드는 상승 기류로 인해 에너지 소모를 줄이는 효과가 있었다. 또한 철새들은 가장 힘이 드는 맨 앞자리를 번갈아 가며 비행하여 협력하는 것으로 나타났다.

질문	학생	갑	을	병	정	무
㉠과 같은 현상은 존재 법칙을 따르는가?		×	×	○	○	○
㉡과 같은 현상은 경험적 자료를 바탕으로 연구할 수 있는가?		×	○	×	○	○
㉢과 같은 현상은 인간의 가치가 반영되어 나타나는가?		○	○	×	○	○
㉣과 같은 현상은 같은 조건 하에서는 항상 동일한 결과가 발생하는가?		×	○	○	×	○

(○: 예, ×: 아니오)

- ① 갑 ② 을 ③ 병 ④ 정 ⑤ 무

2. 갑, 을이 강조하는 연구 윤리에 대한 옳은 설명을 <보기>에서 고른 것은?

연구자는 연구 목적과 절차, 연구가 미칠 수 있는 영향 등을 연구 대상자에게 공지하고 자료 수집에 대하여 허락을 받아야 합니다.



갑

연구자는 정직한 방법으로 자료를 수집해야 하며, 의도한 결론을 이끌어 내기 위해 자료를 왜곡하여 분석해서는 안 됩니다.



을

<보기>

- ㄱ. 공동 연구 성과를 단독 연구 성과로 발표하는 것은 갑이 강조하는 연구 윤리에 어긋난다.
- ㄴ. 연구 대상자에게 연구 참여에 대한 동의를 받지 않는 것은 갑이 강조하는 연구 윤리에 어긋난다.
- ㄷ. 연구 의뢰자의 이익을 위해 자료를 조작하여 분석하는 것은 을이 강조하는 연구 윤리에 어긋난다.
- ㄹ. 갑은 자료 분석 단계에서, 을은 연구 결과 발표 단계에서 지켜야 할 연구 윤리를 강조하고 있다.

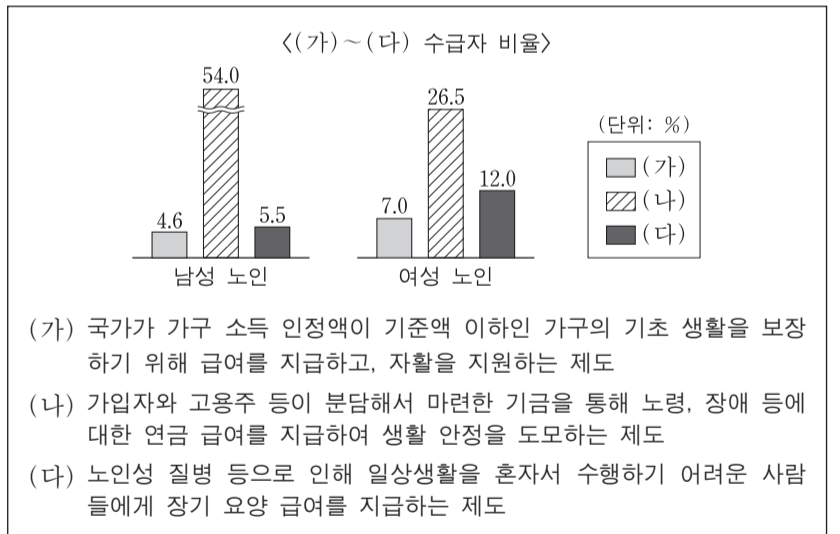
- ① ㄱ, ㄴ ② ㄱ, ㄷ ③ ㄴ, ㄷ ④ ㄴ, ㄹ ⑤ ㄷ, ㄹ

3. 일탈 이론 (가)~(다)에 대한 설명으로 옳은 것은? [3점]

- (가) 공식적으로 일탈자라고 규정되면 성공을 위한 합법적 수단으로부터 배제되고 일탈자라는 자아 개념을 가지게 되어, 미래의 일탈 가능성이 증가하게 된다. 결국 일탈자라고 규정짓는 것은 사회적 지위를 부여하는 것과 같다.
- (나) 경제적 성공을 강조하는 문화를 구성원 모두가 공유하는 사회에서, 제도화된 수단이 부족한 특정 계층은 성공에 어려움을 겪게 된다. 따라서 이들은 불법적인 방법을 통해서라도 성공하려고 시도함으로써 일탈 행동을 하게 된다.
- (다) 하층에 속한 사람들이 일탈 행동을 많이 한다는 주장이 있지만, 하층에서도 일부만 일탈 행동을 한다. 이들이 일탈 행동을 하는 것은 일탈자와의 상호 작용을 통해 일탈적 가치와 태도를 수용하기 때문이다.

- ① (가)는 (다)와 달리 사회의 지배적 가치와 규범을 사회화하지 못함으로써 일탈 행동이 발생한다고 본다.
- ② (나)는 (가)와 달리 일탈 행동의 발생에 있어 타인과의 상호 작용을 통한 학습 과정을 강조한다.
- ③ (다)는 (나)와 달리 일탈 행동을 초래하는 사회 구조의 영향력을 강조한다.
- ④ (가)는 (나), (다)와 달리 일탈이 행동의 속성에 의해서가 아니라 그에 대한 사회적 반응에 의해 규정된다고 본다.
- ⑤ (나)는 (가), (다)와 달리 지배 집단의 기득권 보호를 위한 사회 제도 때문에 일탈 행동이 발생한다고 본다.

4. 자료는 우리나라 성별 노인 인구 중에서 사회 보장 제도 (가)~(다) 각각의 수급자 비율을 나타낸 것이다. 이에 대한 설명으로 옳은 것은? [3점]



- ① (나)는 (다)와 달리 상호 부조 원리가 적용된다.
- ② (다)는 (가)와 달리 사후 처방적 성격을 지닌다.
- ③ (가)~(다) 중 강제 가입 원칙이 적용되는 제도의 경우, 전체 노인 수급자 중에서 성별 비율은 남성이 여성의 2배 이상이다.
- ④ (가)~(다) 중 소득 재분배 효과가 있는 제도의 경우, 남성 노인 인구 중에서 수급자 비율과 여성 노인 인구 중에서 수급자 비율은 모두 10% 미만이다.
- ⑤ (가)~(다) 중 수혜자 비용 부담 원칙이 적용되지 않는 제도의 경우, 여성 노인 인구 중에서 수급자 비율이 남성 노인 인구 중에서 수급자 비율보다 높다.

5. 다음은 자료 수집 방법 A~D를 분류한 것이다. 이에 대한 설명으로 옳은 것은? (단, A~D는 각각 면접법, 실험법, 질문지법, 참여 관찰법 중 하나이다.) [3점]

구분		주로 계량화된 자료를 수집하는 데 활용되는가?	
		예	아니요
(가)	예	A	B
	아니요	C	D

- ① (가)는 '인위적으로 통제된 상황에서 변수의 효과를 관찰하는 방법인가?'가 적절하다.
- ② (가)가 '언어적 상호 작용에 의한 자료 수집이 필수적인가?'라면 A는 질문지법, D는 참여 관찰법이다.
- ③ (가)가 '자료 수집 시 연구 대상자의 응답이 필수 요건인가?'라면 B는 면접법, C는 질문지법이다.
- ④ A가 질문지법이라면 (가)는 '다수를 대상으로 한 자료 수집에 주로 사용되는가?'가 적절하다.
- ⑤ B가 참여 관찰법이라면 (가)는 '연구자가 현상이 실제로 발생한 현지에 가서 연구해야 하는가?'가 적절하다.

6. 밑줄 친 'A 이론'에 대한 옳은 설명을 <보기>에서 고른 것은?

사회 불평등 현상을 설명하는 A이론은 생산 수단의 소유 여부와 더불어 소득이나 부의 크기도 계급을 결정하는 요인으로 본다. 그러나 소득이나 부의 크기는 계급 관계의 산물일 뿐, 계급을 구분하는 요인은 아니다. 또한 A이론에서 사회 불평등을 구성하는 요인으로 보는 지위나 파당도 기본적으로 계급 관계에 의해 규정될 뿐이며, 그 자체로는 독자적인 기원을 가지지 못한다.

— < 보 기 > —

- ㄱ. 지위 불일치 가능성을 인정한다.
- ㄴ. 다차원적 측면에서 사회 불평등 현상을 파악한다.
- ㄷ. 동일 집단 구성원 간의 강한 연대 의식을 강조한다.
- ㄹ. 사회 불평등 현상을 불연속적으로 구분되어 있는 상태로 본다.

- ① ㄱ, ㄴ ② ㄱ, ㄷ ③ ㄴ, ㄷ ④ ㄴ, ㄹ ⑤ ㄷ, ㄹ
7. 사회·문화 현상을 바라보는 갑~병의 관점에 대한 설명으로 옳은 것은? [3점]

사회자: 노인 소외의 원인에 대하여 말씀해 주십시오.
 갑: 급격한 사회 변동에 따라 가치관과 규범이 변화되고, 세대 간의 관계도 새롭게 정의되었습니다. 사회 변화에 노인들이 적응할 수 있도록 지원하는 정책이 미비하여 노인들이 소외되는 것입니다.
 을: 가족 구성원들이 노인을 의존적인 존재로 여기고, 노인도 이를 수용하면서 스스로 위축될 수밖에 없습니다. 그러다 보니 자녀들과 원활한 의사소통을 하지 못하여 노인들이 소외되는 것입니다.
 병: 현대 사회에서는 경제력을 가진 사람들이 주도권을 갖게 됩니다. 부와 권력의 분배를 중년층이 좌우하면서 노인들의 능력이나 노력과 상관없이 사회적 역할에서 노인들을 배제해 그들이 소외되는 것입니다.

- ① 갑의 관점은 상황에 대한 개인의 주관적 의미 부여를 강조한다.
- ② 을의 관점은 사회가 필연적으로 변화하며 집단 간 갈등이 변화의 동력이라고 본다.
- ③ 병의 관점은 기득권층의 이익을 대변하는 논리로 사용된다는 비판을 받는다.
- ④ 갑의 관점은 병의 관점과 달리 사회 구성 요소의 기능과 역할은 사회적으로 합의된 것이라고 본다.
- ⑤ 을, 병의 관점은 갑의 관점과 달리 사회 문제를 설명하는 데 사회 구조적 요인을 중시한다.

8. 다음 연구에 대한 설명으로 옳은 것은? (단, (가)~(라)는 연구 과정을 순서 없이 나열한 것이다.)

- 연구 주제 설정: 정보 격차 문제를 파악하기 위해 A 지역 고등학생의 인터넷 이용 형태에 부모의 경제 수준 및 부모의 인터넷 이용 형태가 미치는 영향을 탐구하기로 하였다.
- (가) ㉠ 부모의 경제 수준이 높을수록 자녀의 정보 지향적 인터넷 이용 정도가 높아지고, ㉡ 부모의 정보 지향적 인터넷 이용 정도가 높을수록 자녀의 정보 지향적 인터넷 이용 정도가 높아질 것이라고 가설을 설정하였다.
- (나) A 지역에서 선정된 6개 ㉢ 고등학교 학생 1,000명 중 ㉣ 부모도 응답 가능한 300명을 대상으로 구조화된 질문지를 통해 자료를 수집하였다.
- (다) 경제 수준은 ㉤ 월평균 소득으로, 정보 지향적 인터넷 이용 정도는 ㉥ 인터넷 이용 시간 중 정보 검색 시간 비중으로 측정하기로 하였다.
- (라) 부모의 월평균 소득에 따라 자녀의 정보 검색 시간 비중은 통계적으로 유의미한 차이가 나타나지 않았다. 반면 부모의 정보 검색 시간 비중이 높을수록 자녀의 정보 검색 시간 비중은 통계적으로 유의미하게 높아지는 것으로 나타났다.

- ① ㉠은 독립 변수, ㉡은 종속 변수이다.
- ② ㉢은 모집단, ㉣은 표본이다.
- ③ ㉤은 ㉠의, ㉥은 ㉡의 조작적 정의에 해당한다.
- ④ (라)로 보아 가설은 검증되었다.
- ⑤ (다) - (나) - (가) - (라) 순서로 연구가 진행되었다.

9. A~C의 일반적인 특징에 대한 설명으로 옳은 것은? (단, A~C는 각각 전체 문화, 반문화, 반문화의 성격이 없는 하위문화 중 하나이다.)

구분	A	B	C
한 사회 내에서 일부 구성원들만 공유하는 문화인가?	예	예	아니요
한 사회의 지배적인 문화를 거부하거나 저항하는 문화인가?	예	아니요	아니요

- ① A는 B와 달리 기존의 지배적인 문화를 대체하기도 한다.
- ② B는 A와 달리 주류 집단에 의해 일탈로 규정되기도 한다.
- ③ A를 공유하는 구성원은 C의 문화 요소 중 일부를 공유한다.
- ④ A, B는 C와 달리 해당 문화를 향유하는 구성원들 공통의 정체성 형성에 기여한다.
- ⑤ B, C는 A와 달리 사회에 따라 상대적으로 규정된다.

10. 다음 탐구 활동을 적절하게 수행한 모둠을 고른 것은? [3점]

<모둠별 탐구 활동>

가족 제도 및 가족 문제와 관련하여 모둠별로 주어진 가설을 검증하기에 적절한 자료를 제시하십시오.

모둠	가설	자료
A	수도권 지역은 비수도권 지역에 비해 핵가족의 비율이 높을 것이다.	수도권과 비수도권 각각의 1세대 가구 수와 2세대 가구 수 및 3세대 이상 가구 수
B	기혼자의 가사 노동 시간은 연령대가 낮을수록 성별 격차가 작을 것이다.	결혼 여부에 따른 성인의 연령별 주당 평균 가사 노동 시간
C	도시는 농촌에 비해 1인 가구의 비율이 높을 것이다.	도시와 농촌 각각의 가구 구성원 수별 가구 수
D	맞벌이 가정은 외벌이 가정에 비해 부부 간의 대화 시간이 적을 것이다.	기혼자와 그 배우자 각각의 직업 유무에 따른 부부 간 하루 평균 대화 시간

- ① A 모둠, B 모둠 ② A 모둠, C 모둠 ③ B 모둠, C 모둠
- ④ B 모둠, D 모둠 ⑤ C 모둠, D 모둠

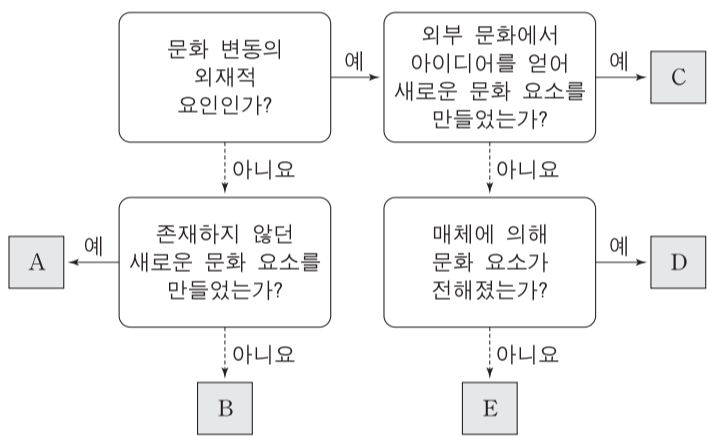
11. (가), (나)에 해당하는 내용으로 옳은 것은? (단, A~C는 각각 인쇄 매체, 영상 매체, 뉴 미디어 중 하나이다.) [3점]

‘정보의 생산자와 소비자 간 경계가 모호한가?’ 라는 질문을 통해 A와 B를 구분할 수 있다. 하지만 ‘시청각 정보 제공이 가능한가?’ 라는 질문으로는 B와 C를 구분할 수 없다. 표는 대중 매체 A~C를 대중 매체의 특징 (가), (나)를 기준으로 비교한 것이다.

대중 매체의 특징	비교 결과
(가)	A > B
(나)	B > C

- ① (가): 정보 전달의 신속성
- ② (가): 정보 획득 시 사용 가능한 감각의 다양성
- ③ (가): 정보 전달 시 문맹자의 정보 접근 가능성
- ④ (나): 정보의 복제와 재가공의 용이성
- ⑤ (나): 정보 전달자와 수용자 간 구분의 명확성

12. 그림은 문화 변동 요인 A~E를 구분한 것이다. 이에 대한 설명으로 옳은 것은? (단, A~E는 각각 발견, 발명, 간접 전파, 자국 전파, 직접 전파 중 하나이다.)



- ① 물질문화, 비물질문화 모두 A를 통해 만들어질 수 있다.
- ② 특정 종교의 창시는 B의 사례이다.
- ③ 상호 인적 교류가 없는 집단들 간에는 D를 통한 문화 변동이 이루어질 수 없다.
- ④ D와 달리 E는 C의 원인이 될 수 있다.
- ⑤ A, B와 달리 C, D, E는 문화 지체 현상을 초래할 수 있다.

13. 다음은 어느 가족의 주간 일정표이다. 이에 대한 옳은 설명만을 <보기>에서 있는 대로 고른 것은?

갑(교사)	을(회사원)	병(중학생)
화: 교육청 출장 수: 대학원 수업 참석 금: 지역 ㉠ 시민 단체 대표자 회의 참석 토: 가족 외식	월: 사내 야구 동호회 경기 참가 수: 노동조합 조합원 총회 참석 토: 가족 외식	수: 청소년 봉사 단체 정기 모임 참석 금: ㉡ 학급 소풍 참가 토: 가족 외식

<보기>
 가. ㉠, ㉡은 선택적 의지에 의해 형성되는 이익 사회이다.
 나. 갑, 을은 병과 달리 자발적 결사체에 소속되어 있다.
 다. 을, 병은 갑과 달리 비공식 조직에 소속되어 있다.
 르. 갑~병 모두 공동 사회와 공식 조직에 소속되어 있다.

- ① 가, 나
- ② 가, 르
- ③ 나, 다
- ④ 가, 다, 르
- ⑤ 나, 다, 르

14. 갑, 을의 문화 이해 태도에 대한 설명으로 가장 적절한 것은? [3점]

- ① 갑의 태도는 모든 문화가 동등한 가치를 지닌다고 본다.
- ② 을의 태도는 자문화 정체성을 상실할 우려가 있다는 비판을 받는다.
- ③ 갑의 태도는 을의 태도와 달리 특정 사회의 문화를 기준으로 타 문화를 평가할 수 있다고 본다.
- ④ 을의 태도는 갑의 태도와 달리 국수주의로 변질될 수 있다는 비판을 받는다.
- ⑤ 갑, 을의 태도는 모두 문화의 다양성 보존에 기여한다.

15. 다음 자료를 통해 참 또는 거짓으로 진위 여부를 판단할 수 있는 진술만을 <보기>에서 있는 대로 고른 것은?

〈갑국의 지역별, 계층별 학생 1인당 월평균 교육비〉
(단위: 만 원)

구분	연도	2010년	2013년	2016년
전체		24.0	23.9	25.6
지역	도시	26.6	27.1	29.0
	농촌	22.1	21.5	23.2
계층	상층	45.3	39.6	41.6
	중층	24.6	23.4	23.4
	하층	9.2	10.0	8.8

* 갑국의 모든 학생을 대상으로 조사하였으며 무응답은 없음.
 ** 지역은 도시와 농촌으로만, 계층은 상층, 중층, 하층으로만 구분함.

<보기>
 가. 2013년과 2016년에 월평균 가구 소득 중에서 학생 1인당 월평균 교육비가 차지하는 비율이 중층에서는 같다.
 나. 2010년부터 2016년까지 농촌 지역에서는 학생 1인당 월평균 교육비가 지속적으로 증가하였다.
 다. 2010년, 2016년 모두에서 계층 수준과 학생 1인당 월평균 교육비는 정(+)의 관계이다.
 르. 제시된 모든 연도에서 농촌 지역 학생이 도시 지역 학생보다 많다.

- ① 가, 나
- ② 가, 다
- ③ 다, 르
- ④ 가, 나, 르
- ⑤ 나, 다, 르

16. 밑줄 친 ㉠~㉣에 대한 설명으로 옳은 것은? [3점]

유명 연예인인 어머니의 반대에도 불구하고, 배우가 되고 싶었던 갑은 ㉠ 연예인 2세라는 것을 숨기고 ㉡ A 인터넷 쇼핑몰에서 모델로 일하며 ㉢ 연기 학원에서 연기와 노래를 배우고 있었다. 갑은 스스로 인지도를 높이기 위해 ㉣ 시청자 평가단의 투표 결과에 따라 ㉤ 가수 데뷔가 결정되는 ㉥ TV 프로그램에 지원하여 치열한 경쟁 과정을 통해 가수로 데뷔하였다. 인기가 높아지자 갑은 가수로 계속 활동해야 할지 가수를 그만두고 원래 계획했던 대로 배우로 전향해야 할지 ㉦ 고민이다.

- ① ㉠, ㉡ 모두 개인의 능력과 노력에 의해 획득한 지위이다.
- ② ㉢은 비공식적 사회화 기관, ㉣은 2차적 사회화 기관이다.
- ③ ㉤은 갑의 외집단이자 준거 집단이다.
- ④ ㉥은 재사회화에 해당한다.
- ⑤ ㉦은 갑의 역할 갈등에 해당한다.

17. 개인과 사회의 관계를 바라보는 관점 (가), (나)에 대한 옳은 설명을 <보기>에서 고른 것은?

(가)에 따르면 결혼, 가족, 종교의 본질은 해당 제도에 대응되는 개인적 욕구인 성적 욕구, 부모의 애정, 종교적 본능 등으로 구성된 것이다. 이 경우 개인의 정신 상태가 유일하게 관찰 가능한 대상이 된다. 그러나 제도란 그 자체로 다양하고 복합적인 역사적 맥락을 가지며 개인의 의식 외부에 실체로서 존재하는 것이다. 실체가 존재하지 않는다면 사회학은 그 자체의 연구 대상을 가질 수가 없기에, (나)을 바탕으로 할 때 사회학이 연구 대상을 가지게 된다.

— <보기> —

ㄱ. (가)는 사회가 개인들의 속성으로 환원될 수 없다고 본다.
 ㄴ. (가)는 사회가 개인의 자율적인 의지에 의해 형성된다고 본다.
 ㄷ. (나)는 개인이 사회 속에서만 존재 의미를 갖는다고 본다.
 ㄹ. (나)는 개인들이 옳다고 믿기 때문에 사회 규범이 존재한다고 본다.

- ① ㄱ, ㄴ ② ㄱ, ㄷ ③ ㄴ, ㄷ ④ ㄴ, ㄹ ⑤ ㄷ, ㄹ

18. 표는 (가), (나)를 적용하여 A~C의 일반적인 특징을 비교한 것이다. 이에 대한 설명으로 옳은 것은? (단, A~C는 각각 농업 사회, 산업 사회, 정보 사회 중 하나이다.) [3점]

비교 기준 \ 사회	A	B	C
(가)	+++	+	++
(나)	++	+++	+

* +의 개수가 많을수록 높음, 빠름, 강함을 의미함.

- ① (가)가 '가정과 일터의 분리 정도' 이면 A는 C보다 관료제 조직의 비중이 높다.
- ② (가)가 '구성원의 비대면 접촉 정도' 이면 C는 B보다 확대 가족의 비중이 높다.
- ③ (나)가 '구성원 간의 익명성 정도' 이면 A는 B보다 전자 상거래의 비중이 높다.
- ④ (가)가 '사회 변동의 속도' 이면, (나)는 '사회의 다원화 정도' 가 적절하다.
- ⑤ (나)가 '직업의 동질성 정도' 이면, (가)는 '의사 결정의 분권화 정도' 가 적절하다.

19. 사회 변동의 방향을 보는 관점 (가), (나)에 대한 설명으로 옳은 것은?

(가) 단순한 생물체가 점차 그 조직의 구조가 분화되고 통합되어 복합적인 생물체로 변화되듯이, 사회 또한 사회를 구성하는 집단이 증가할 뿐만 아니라 집단 간 결합이 양적, 질적으로 강화되는 방향으로 변화될 것이다.
 (나) 한 사회가 일련의 도전에 어떻게 반응하는가에 따라 변동 방향이 좌우된다. 그 반응의 성공 여부에 의해 개별 사회가 성장하고 쇠퇴하는데, 결국 인류 문명에서 이러한 성장과 쇠퇴는 지속적으로 되풀이될 것이다.

- ① (가)는 사회가 주기적으로 동일한 과정을 통해 변동하는 것으로 본다.
- ② (나)는 서구의 제국주의 역사를 정당화하는 수단으로 악용될 수 있다는 비판을 받는다.
- ③ (가)는 (나)와 달리 모든 사회가 일정한 방향으로 발전한다고 본다.
- ④ (나)는 (가)와 달리 선진국과 후진국 간의 불평등한 힘의 관계에 주목한다.
- ⑤ (가), (나) 모두 서구 사회가 밟아 왔던 변동의 과정이 최선의 것은 아니라고 본다.

20. 다음 자료에 나타난 갑국의 세대 간 계층 이동에 대한 옳은 분석을 <보기>에서 고른 것은? (단, 계층은 상층, 중층, 하층으로만 구분하며, A~C는 각각 상층, 중층, 하층 중 하나이다.) [3점]

<세대 간 계층별 구성 비율의 상대적 비>

구분	A	B	C
부모 세대 해당 계층 대비 자녀 세대 해당 계층의 상대적 비	0.5	1	2

<세대 간 계층 이동 현황>

(단위: %)

구분	A	B	C
부모 세대 해당 계층 대비 부모와 자녀의 계층 불일치 비율	75	0	50

* 모든 부모의 자녀는 1명이고, 부모 세대의 계층 구조는 다이아몬드형임.
 ** A는 C보다 높은 계층이며, 부모 세대의 계층 구성비에서 A는 B와 C를 합한 것의 1.5배임.

— <보기> —

ㄱ. 세대 간 상승 이동한 자녀가 세대 간 하강 이동한 자녀의 3배이다.
 ㄴ. 자녀 세대 계층 대비 계층 대물림 비율은 상층이 가장 높고 하층이 가장 낮다.
 ㄷ. 중층으로 세대 간 상승 이동한 자녀와 중층으로 세대 간 하강 이동한 자녀의 수는 같다.
 ㄹ. 세대 간 계층 이동을 한 사람의 수는 중층 부모를 둔 자녀가 하층 부모를 둔 자녀의 3배이다.

- ① ㄱ, ㄴ ② ㄱ, ㄷ ③ ㄴ, ㄷ ④ ㄴ, ㄹ ⑤ ㄷ, ㄹ

* 확인 사항

○ 답안지의 해당란에 필요한 내용을 정확히 기입(표기)했는지 확인하십시오.

제 4 교시

사회탐구 영역(사회·문화)

성명 수험 번호

1. 밑줄 친 ㉠~㉣과 같은 현상의 일반적인 특징에 대한 질문에 모두 옳게 응답한 학생은?

전염성이 강한 AI 바이러스는 닭과 오리 등의 ㉠ 체내에 침투한 뒤 세포에 붙어 폐사에 이르게 해 농가에 막대한 피해를 주고 있다. 이에 국내 연구팀은 SL이 ㉡ 조류의 체내에 침투한 AI 바이러스가 세포에 달라붙는 것을 막아 감염을 차단하는지를 확인하기 위해 동물 실험을 했다. 이 실험에서 닭에게 SL을 먹이면 AI 바이러스가 체내에 있는 ㉢ SL의 올리고당과 결합해 체외로 배출되는 결과를 확인했다. 이를 토대로 ㉣ 닭의 사료에 SL을 섞어 사육하면 AI 바이러스 감염과 확산을 예방할 수 있다고 발표했다.

* AI : 조류 인플루엔자의 약자
** SL : 인체의 면역 성분인 시알리락토스의 약자

질문	학생				
	갑	을	병	정	무
㉠과 같은 현상은 가치 함축적인가?	×	○	×	×	○
㉡과 같은 현상은 동일한 조건하에서는 항상 동일한 결과가 발생하는가?	○	×	×	○	×
㉢과 같은 현상은 보편성과 특수성이 공존하는가?	×	○	○	×	×
㉣과 같은 현상은 당위 법칙을 따르는가?	×	×	○	○	○

(○ : 예, × : 아니오)

- ① 갑 ② 을 ③ 병 ④ 정 ⑤ 무

2. 사회·문화 현상을 바라보는 갑~병의 서로 다른 관점에 대한 설명으로 옳은 것은? [3점]

사회자: 세대 갈등의 원인에 대한 의견을 말씀해 주십시오.
 갑: 기성세대는 자신의 지식과 경험을 전수하고, 젊은 세대는 이것을 배우면서 새로운 아이디어를 제공하는 역할을 맡고 있습니다. 그런데 급격한 사회 변동으로 인해 이러한 역할 수행 체계가 무너지고 구성원 간 상호 의존성이 약화되면 세대 갈등이 나타납니다.
 을: 여러 사회 집단 내에서 나타나는 다양한 상황에 대해 개별 행위자들은 주관적으로 해석하고 각기 다른 의미를 부여합니다. 이러한 의미 부여의 차이는 세대 간에 더욱 두드러지게 나타납니다. 이는 세대 간 인식, 태도, 행동의 차이로 이어지고 그 결과 세대 갈등이 발생합니다.
 병: 사회 각 분야에서 주도적으로 의사 결정권을 행사하는 기성세대는 사회의 지배적 규범을 자신들에게 유리하게 만들어, 젊은 세대가 주류 사회로 진입하고 성장하는 것을 가로막고 있습니다. 이로 인해 세대 갈등이 나타납니다.

- ① 갑의 관점은 상징을 통한 개인 간 상호 작용에 초점을 맞춘다.
 ② 을의 관점은 사회 각 부분이 상호 보완적 역할을 수행한다고 본다.
 ③ 병의 관점은 갈등을 사회 변동의 원동력으로 본다.
 ④ 갑의 관점은 을의 관점과 달리 사회 구조가 개인에게 미치는 영향을 간과한다.
 ⑤ 병의 관점은 갑의 관점과 달리 능력에 따른 차등 보상의 필요성을 강조한다.

3. 갑~병이 가진 문화 이해 태도에 대한 설명으로 옳은 것은?

갑

△△지역 ○○부족은 가족이 죽으면 장례 비용을 마련할 때까지 몇 년 동안 시신을 집안에 두었다가 나중에 매장하는 풍습이 있어. 이러한 풍습은 시신이 잘 썩지 않는 △△지역의 자연적 조건과 장례를 성대하게 치를수록 내세에 더 좋은 곳으로 간다는 ○○부족의 믿음에서 비롯된 것으로 이해할 수 있어.

우리나라처럼 조상을 양지바른 곳에 모시고 묘를 잘 관리하는 전통에 비추어 볼 때, 조상의 시신을 방치하는 것은 조상에 대한 모독일 뿐만 아니라 비위생적이라고 생각해. ○○부족의 장례 문화는 바뀌어야지.

내가 알고 있는 A국에서는 이미 화장(火葬)이 보편적인 장례 풍습으로 정착되었어. 화장은 토지 낭비를 막고 시신을 위생적으로 관리할 수 있는 선진적인 장례 문화야. ○○부족이나 우리에게 남아있는 매장 풍습은 하루 빨리 화장으로 완전히 대체되어야 해.

을

병

- ① 갑의 태도는 을의 태도와 달리 문화 간에 우열이 존재한다고 본다.
 ② 을의 태도는 갑의 태도에 비해 타 문화 수용에 적극적이다.
 ③ 을의 태도는 병의 태도에 비해 문화의 다양성 확보에 유리하다.
 ④ 병의 태도는 을의 태도와 달리 집단 구성원의 결속력을 높이는 데 기여한다.
 ⑤ 을, 병의 태도는 모두 특정 사회의 문화를 기준으로 타 문화를 평가할 수 있다고 본다.

4. 밑줄 친 ㉠~㉣에 대한 설명으로 옳은 것은?

갑은 교사가 되길 원하던 어머니의 희망대로 ㉠ 사회교육과에 진학하였다. 그러나 어릴 적부터 간절히 진학을 꿈꿔 온 ㉡ 미술 대학이 아니었기 때문에 갑은 점점 ㉢ 학업에 흥미를 잃고 강의에도 자주 결석하였다. 사범 대학을 계속 다닐지 말지 거듭 ㉣ 고민하던 갑은 두 학과의 교육과정을 모두 이수할 수 있는 복수 전공제가 있다는 것을 알고 미술교육과의 강의를 듣기 시작하였다. 또한, 미술교육과 친구들이 추천한 ㉤ 교육 봉사 동아리에 가입하여 열심히 활동하였다. 이 과정에서 가르침의 보람을 느끼게 된 갑은 졸업식장에서 ㉥ 성적 최우수상을 받을 것을 기대하며 학과 공부에 매진하고 있다.

- ① ㉠은 2차적 사회화 기관, ㉣은 공식적 사회화 기관이다.
 ② ㉡은 갑의 내집단이자 비공식적 사회화 기관이다.
 ③ ㉢의 원인은 소속 집단과 준거 집단 간의 불일치에 있다.
 ④ ㉣은 갑이 겪은 역할 갈등이며, 제도적 뒷받침에 의해 해결되었다.
 ⑤ ㉤은 갑의 역할에 대한 보상에 해당한다.

5. 밑줄 친 ㉠~㉣에 대한 설명으로 옳은 것은? [3점]

노예 해방 이후에도 미국 흑인들의 삶은 고달팠다. 이들은 삶의 애환을 음악에 담아 표현하였는데 이것이 ㉠ 블루스이다. 한편 미국 서부 지역에서는 백인들을 중심으로 ㉡ 웨스턴 뮤직이 출현하였다. 백인들은 ㉢ 블루스를 '인종 음악'이라고 부르면서 천대하였고, 자신들의 음악과 철저히 구분하였다. 그러나 1950년대 무렵 흑인과 백인의 음악은 각각의 색채가 모두 담긴 ㉣ 새로운 음악 장르인 로큰롤로 발전되었다. 당시 로큰롤은 ㉤ 통속적이고 즉흥적이라는 이유로 비난받는 경우도 있었으나, 이후 ㉥ TV와 라디오를 통해 전 세계로 급속히 진출하면서 대중문화의 한 줄기를 이루었다.

- ① ㉠, ㉡은 모두 미국 사회의 하위문화였다.
 ② ㉢은 문화 지체 사례에 해당한다.
 ③ ㉣은 문화 공존 사례에 해당한다.
 ④ ㉤은 물질문화의 확산에 대한 반발이다.
 ⑤ ㉥은 강제적 문화 접변 사례에 해당한다.

6. 표는 자료 수집 방법 A~C의 일반적인 특징을 나타낸 것이다. 이에 대한 옳은 설명을 <보기>에서 고른 것은? (단, A~C는 각각 실험법, 질문지법, 면접법 중 하나이다.) [3점]

자료 수집 방법	A	B	C
일반적인 특징	(가)	(라)	(나)

<보 기>

ㄱ. A가 질문지법이고, (가)가 '독립 변수와 종속 변수의 관계를 검증하는 연구에 적합하다.'라면, (나)는 '자료 수집 과정에서 연구자가 유연성이나 융통성을 발휘하기 어렵다.'가 적절하다.

ㄴ. C가 면접법이고, (다)가 '인위적으로 상황을 통제함으로써 변수의 효과를 관찰하기에 용이하다.'라면, (라)는 '대규모 집단을 대상으로 한 자료 수집에 용이하다.'가 적절하다.

ㄷ. (가)가 '연구 대상자와 언어를 매개로 한 상호 작용이 필수적이다.'라면, (나)는 '실제성이 높은 생생한 자료를 수집하기에 용이하다.'가 적절하다.

ㄹ. (나)가 '소수의 응답자로부터 깊이 있는 정보를 수집하기에 용이하다.'라면, (가)는 '수집된 자료를 통계적으로 처리하기에 용이하다.'가 적절하다.

- ① ㄱ, ㄴ ② ㄱ, ㄷ ③ ㄴ, ㄷ ④ ㄴ, ㄹ ⑤ ㄷ, ㄹ

7. 다음 자료에 대한 설명으로 옳은 것은? (단, A, B는 각각 상대적 빈곤과 절대적 빈곤 중 하나이다.)

A는 인간이 최소한의 생활을 유지하기 어려운 상태로서, 주로 자원이나 소득이 부족한 상태를 의미한다. 우리나라에서는 A를 측정하기 위한 기준선으로 (가)을/를 활용한다. B는 개인이 다른 사람에 비해 자원이나 소득이 결핍되어 사회 구성원 다수가 누리는 생활을 영위하지 못하는 상태를 의미한다. 우리나라에서는 B를 측정하기 위한 기준선으로 (나)을/를 활용한다.

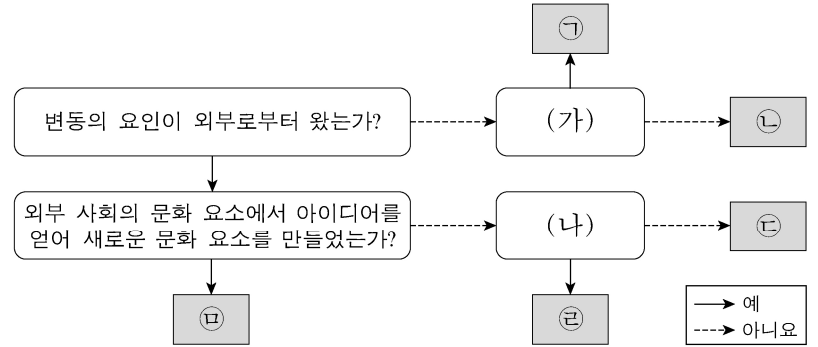
- ① B는 개인이 빈곤 상태에 있다고 주관적으로 인식하는 개념이다.
 ② B의 기준을 적용하면 기본적인 의식주가 충족된 가구라도 빈곤 가구에 포함될 수 있다.
 ③ A는 B와 달리 소득의 불평등 정도를 측정하는 데 활용된다.
 ④ A에 따른 빈곤율과 B에 따른 빈곤율의 합이 그 나라 전체의 빈곤율이다.
 ⑤ (가)는 중위 소득의 50%, (나)는 최저 생계비이다.

8. 밑줄 친 ㉠~㉣과 같은 사회 집단과 사회 조직의 일반적 특징에 대한 설명으로 옳은 것은? [3점]

갑은 ㉠법학 전문 대학원 학생이다. 평소 환경 문제에 관심이 많아서 ㉡○○ 시민 연대에서 활동하고 있다. 또한 주말마다 ○○ 시민 연대의 ㉢야구 동호회를 통해 친목을 다지고 있다. 한편 갑의 남편 을은 자동차 회사에 재직 하면서 ㉣노동조합 활동도 열심히 하고 있다. 주말에는 ㉤음악 학원에서 드럼을 배우며 스트레스를 해소하고 있다. 두 사람은 너무 바쁘지만 ㉥가족과 좀 더 많은 시간을 보낼 방법에 대해 고민 중이다.

- ① ㉠은 공동의 목표나 관심사를 가진 사람들의 자발적 참여로 결성된 집단이다.
 ② ㉡은 선택 의지에 의해 형성된 집단이다.
 ③ ㉢은 ㉣과 달리 특정 목적 달성을 위한 지위와 역할이 명확한 조직이다.
 ④ ㉤은 ㉥, ㉦과 달리 구성원 간 직접적 접촉을 통한 전인격적 관계에 기초한 집단이다.
 ⑤ ㉦은 ㉠, ㉡과 달리 공식 조직 내에서 구성원 간의 친밀한 인간관계에 바탕을 두고 형성된 조직이다.

9. 그림은 문화 변동 요인 ㉠~㉣을 구분한 것이다. 이에 대한 설명으로 옳은 것은? (단, ㉠~㉣은 각각 발견, 발명, 직접 전파, 자극 전파, 간접 전파 중 하나이다.)



- ① (가)가 '존재하지 않던 문화 요소를 새롭게 만들어냈는가?'라면, 인쇄술은 ㉢의 사례에 해당한다.
 ② (나)가 '문화 요소가 매체에 의해 전달되었는가?'라면, 통신 기술이 발달할수록 ㉣을 통한 문화 변동이 더 용이하게 나타날 수 있다.
 ③ ㉠의 사례로 활을 들 수 있다면, (가)는 '존재하고 있었으나 알려지지 않았던 문화 요소를 찾아냈는가?'가 적절하다.
 ④ ㉣의 사례로 전쟁을 통해 유럽에 전파된 설탕을 들 수 있다면, (나)는 '문화 요소의 전달이 직접 이루어졌는가?'가 적절하다.
 ⑤ ㉡의 사례로 외국인 선교사에 의해 외래 종교가 전래된 것을 들 수 있다.

10. 다음 연구에 대한 옳은 설명만을 <보기>에서 있는 대로 고른 것은? [3점]

갑은 청소년 비행에 부모와의 친밀도 및 ㉠비행 친구와의 교제가 미치는 영향에 대하여 연구하고자 선행 연구 자료를 분석하였다. 그리고 ㉡'부모와의 친밀도가 높을수록 비행을 덜 저지를 것이다.', ㉢'비행 친구와 교제할수록 비행을 더 저지를 것이다.'라는 잠정적 결론을 도출하였다. 이어 청소년 1,000명을 대상으로 부모와의 1주일 평균 대화 시간, ㉣주당 1시간 이상 접촉하는 친구 중에 비행을 저지른 친구가 있는지의 여부, 그리고 지난 1년간 비행 경험 유무에 대하여 설문 조사를 실시하였다. 수집된 자료 분석 결과는 아래와 같으며, 이 결과는 통계적 검증 과정을 거쳤다.

(단위: 명)

㉠ 부모와의 대화 시간	㉡ 비행 친구 유무	비행 경험 유무		계
		없음	있음	
적음	있음	140	60	200
	없음	180	120	300
많음	있음	240	60	300
	없음	140	60	200

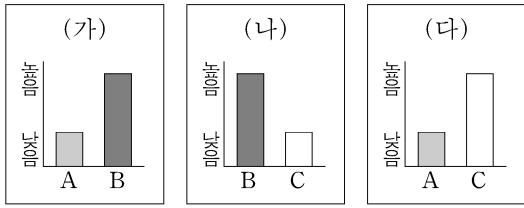
<보 기>

ㄱ. 1차 자료와 2차 자료가 모두 활용되었다.
 ㄴ. ㉢은 ㉠과 ㉡의 관계를 통해 검증된다.
 ㄷ. ㉣은 ㉠의 조작적 정의에 해당한다.
 ㄹ. 분석 결과는 ㉢과 ㉣을 지지하는 근거로 활용될 수 있다.

- ① ㄱ, ㄴ ② ㄱ, ㄷ ③ ㄴ, ㄹ
 ④ ㄱ, ㄷ, ㄹ ⑤ ㄴ, ㄷ, ㄹ

11. 그림의 (가)~(다)에 들어갈 내용으로 옳은 것은? (단, A~C는 각각 인쇄 매체, 영상 매체, 뉴 미디어 중 하나이다.) [3점]

A, B는 C에 비해 정보 재가공의 용이성이 낮아요. A, C는 B와 달리 복합 감각 정보의 전달이 가능해요. (가)~(다)를 기준으로 A~C의 일반적인 특징을 비교해 봅시다.



- ① (가) - 정보 유통의 신속성
- ② (나) - 정보 전달의 양방향성
- ③ (나) - 정보 확산 경로의 다양성
- ④ (다) - 정보 생산자의 익명성
- ⑤ (다) - 정보 생산자와 소비자 간 경계의 명확성

12. 교육을 바라보는 갑, 을의 관점에 대한 설명으로 옳은 것은?

○○ 고민 게시판

원하는 대학에도 가고 좋은 직장도 가지고 싶은데 어떻게 해야 할까요?

↳ Re: (갑) 열심히 공부하면 누구나 원하는 대학에 갈 수 있어요. 대학에서 높은 학점을 받고 실력을 쌓으면 자기 전공에 맞게 취업도 할 수 있어요. 이처럼 우리 교육이 인재를 양성해서 사회가 필요한 곳에 배치하는 역할을 잘 수행하고 있으니 열심히 노력해 보세요.

↳ Re: (을) 그렇지 않아요. 솔직히 부유층 자녀들만 원하는 대학에 가고 좋은 직장 갖는 거 아닌가요? 그렇지 않은 아이들은 좋은 대학에도 못 가지만, 실력 가더라도 좋은 직장에는 취업하기 어려워요. 결국 교육은 가진 자들의 기득권을 유지하는 수단일 뿐이에요.

- ① 갑의 관점은 교육을 사회가 요구하는 규범 체계의 내면화 과정으로 본다.
- ② 갑의 관점은 교육 활동이 이루어지는 상황적 맥락에 대한 이해에 초점을 맞춘다.
- ③ 을의 관점은 교육이 계층의 재생산을 억제한다고 본다.
- ④ 을의 관점은 현재의 사회 질서를 유지하기 위해 교육 접근 기회의 평등을 강조한다.
- ⑤ 갑, 을의 관점은 모두 학교 교육의 내용에 계층 간 유불리가 존재함을 강조한다.

13. (가)~(다)에 나타난 일탈 이론에 대한 설명으로 옳은 것은? [3점]

(가) 가정에서 주로 생활하던 아이가 성장하여 학교에 가면 다양한 부류의 친구를 접하게 된다. 그 과정에서 소위 말하는 '문제아'를 친구로 사귀게 되면 일탈을 행하게 된다.

(나) 처음부터 '문제아'가 따로 있는 것이 아니다. 교사나 주변 학생들이 '문제아'라고 손가락질하면 평범한 학생도 '문제아'로 인식되어 정상적인 학교생활에서 소외되고 배제되어 일탈을 행하게 된다.

(다) 우리 사회는 학업 성적과 대학 입시만을 지나치게 강조하는 반면, 학업 부진 학생들에게 적절한 방안을 제시하지 못하고 있다. 이 때문에 그 학생들이 학업을 포기하고 일탈을 행하게 된다.

- ① (가)는 차별적인 제재를 일탈 행동의 원인으로 본다.
- ② (나)는 문화적 목표와 제도적 수단 간의 괴리를 일탈 행동의 원인으로 본다.
- ③ (다)는 일탈 행동의 원인을 거시적 측면에서 찾는다.
- ④ (가)는 (나)와 달리 최초 일탈보다 일탈 행동의 반복에 초점을 맞춘다.
- ⑤ (다)는 (나)와 달리 일탈 행동에 대한 사회적 반응을 중시한다.

14. 밑줄 친 ㉠~㉣에 부각되어 있는 문화의 속성에 대한 설명으로 가장 적절한 것은?

뉴기니의 ○○ 부족 사회에서 남자는 아름답고 예술적인 것을 추구하는 존재로서, 여자는 공적인 일을 경영하고 추진하는 존재로서 각각 역할을 수행한다. 만약 ㉠그와 반대로 성 역할을 구분하는 사회의 구성원이 ○○ 부족을 만나 함께 생활한다면 어색함을 느낄 것이다. 이것은 성 역할이 하나의 문화로서 사회마다 다르다는 것을 의미한다. 사실 ㉡타고난 특성에서 기인한다고 생각하는 성 역할도 사회 속에서 후천적으로 획득된다. 최근 우리 사회에서는 성 역할에 대한 인식의 변화와 함께 성 평등 관련 제도의 도입, 여성의 경제적 지위 향상 등 다양한 요인에 의해 전통적인 성 역할 문화에 큰 변화가 일어나고 있다. ㉢이는 결혼 문화와 가족 형태에도 영향을 미치고 있다.

- ① ㉠은 문화가 계승되고 발전하는 현상임을 보여준다.
- ② ㉠은 한 문화 요소의 변화가 다른 문화 요소에 연쇄적 변화를 가져옴을 보여준다.
- ③ ㉡은 시간의 흐름에 따라 기존 문화 요소가 사라지거나 변화함을 보여준다.
- ④ ㉢은 특정 상황에서 상대방의 행동 방식을 예측할 수 있음을 보여준다.
- ⑤ ㉢은 문화 요소가 다른 문화 요소와 관련을 맺으며 하나의 전체를 형성하고 있음을 보여준다.

15. 다음 자료에 대한 옳은 분석만을 <보기>에서 있는 대로 고른 것은? (단, (가)~(다)는 각각 사회 보험, 공공 부조, 사회 서비스 중 하나이다.) [3점]

<자료 1> 우리나라 사회 보장 제도의 사례

제도	사례
(가)	소득, 건강, 주거, 사회적 접촉 등의 수준을 평가하여 선정된 65세 이상의 독거 노인에게 정기적인 안전 확인 및 정서적 지원, 보건 서비스 연계·조정, 생활 교육 지원 등을 하는 제도
(나)	사용자, 근로자 또는 자영업자 등이 공동으로 마련한 재원으로 노령에 따른 근로 소득 상실을 보전하기 위한 급여를 지급하는 제도
(다)	국가와 지방 자치 단체의 재정으로 65세 이상 노인 중 소득이 일정 수준 이하인 사람에게 생활 안정에 필요한 연금을 지급하는 제도

<자료 2> A 지역의 65세 이상 인구 중 (가)~(다)의 수혜자 현황 (단위: %)

구분	2014년			2015년							
	(가)	(나)	(다)	(가)	(나)	(다)					
수혜자 비율	12	40	60	12	40	60					
수혜자 중 남녀 비율	남	여	남	여	남	여					
	30	70	58	42	36	64	40	60	55	45	30

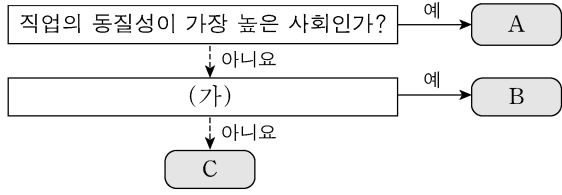
* 2014년 A 지역의 65세 이상 인구는 10,000명임.
 ** 2015년 A 지역의 65세 이상 인구 증가율은 -5%임.
 *** 65세 이상 인구 증가율(%) = $\frac{\text{당해 연도 65세 이상 인구} - \text{전년도 65세 이상 인구}}{\text{전년도 65세 이상 인구}} \times 100$

<보 기>

ㄱ. 2014년에 소득 재분배 효과가 가장 큰 제도의 수혜자 수는 비금전적 지원이 원칙인 제도의 수혜자 수의 1.5배이다.
 ㄴ. 2015년에 수혜 정도와 무관하게 능력에 따른 비용 부담이 원칙인 제도의 남자 수혜자 수는 여자 수혜자 수보다 많다.
 ㄷ. 2015년에 상호 부조의 원리에 기반을 둔 제도의 여자 수혜자 수와 최저 생활 보장을 목적으로 하는 제도의 남자 수혜자 수는 동일하다.
 ㄹ. 강제 가입이 원칙인 제도의 여자 수혜자 수는 2014년보다 2015년이 많다.

- ① ㄱ, ㄴ
- ② ㄱ, ㄹ
- ③ ㄴ, ㄷ
- ④ ㄱ, ㄷ, ㄹ
- ⑤ ㄴ, ㄷ, ㄹ

16. 그림은 A~C를 일반적인 특징에 따라 분류한 것이다. 이에 대한 옳은 설명을 <보기>에서 고른 것은? (단, A~C는 각각 농업 사회, 산업 사회, 정보 사회 중 하나이다.) [3점]



<보 기>

ㄱ. (가)가 '전자 상거래 비중이 더 높은 사회인가?'라면, 기술의 발전 속도는 B>A>C로 나타난다.
 ㄴ. (가)가 '면대면 접촉의 비중이 더 높은 사회인가?'라면, 일터와 가정의 분리 정도는 B>C>A로 나타난다.
 ㄷ. (가)가 '소품종 대량 생산 방식이 더 보편적인 사회인가?'라면, 구성원 간 익명성의 정도는 B>A>C로 나타난다.
 ㄹ. (가)가 '조직 내 의사 결정 권한의 분산 정도가 더 높은 사회인가?'라면, 사회적 관계 형성의 공간적 제약 정도는 A>C>B로 나타난다.

- ① ㄱ, ㄴ ② ㄱ, ㄷ ③ ㄴ, ㄷ ④ ㄴ, ㄹ ⑤ ㄷ, ㄹ

17. 사회 불평등 현상을 설명하는 이론 A, B의 입장을 고려하여 자신에게 주어진 질문에 대한 응답을 모두 옳게 한 학생은?

A는 자본주의 체제에서 돈, 기계, 원료 등과 같은 생산 수단의 소유 여부를 기준으로 사회 불평등 현상을 설명한다. 한편 B는 사회 불평등의 층위가 사회적·정치적 차원에서 발생한다고 주장하며, 현대 사회에서 나타나는 다양한 차원의 불평등을 근거로 제시한다.

학생	질문	A의 입장	B의 입장
갑	사회 계층이 연속적으로 서열화되어 있다고 보는가?	×	○
을	계층 간 수직 이동이 극히 제한적이라고 보는가?	×	○
병	경제적 요인에 의해 계층화가 발생한다고 보는가?	○	×
정	동일한 계층에 속하는 구성원 간의 연대 의식이 강하다고 보는가?	×	○
무	한 사람의 지위가 계층화의 여러 차원에 따라 달라질 수 있다고 보는가?	○	×

(○: 예, ×: 아니오)

- ① 갑 ② 을 ③ 병 ④ 정 ⑤ 무

18. 다음 글에 나타난 개인과 사회의 관계를 바라보는 '나'의 관점에 부합하는 진술을 <보기>에서 고른 것은? [3점]

한 사회학자의 분석에 따르면, 규범적 통합이 강한 집단에서는 자살률이 낮고 반면 규범적 통합이 약한 집단에서는 자살률이 높다고 한다. 이것은 사회 통합의 정도에 따라 개인의 행위가 달라질 수 있다는 것으로 해석된다. 그러나 '나'는 자살률의 높고 낮음이 집단의 특성이 아니라 개인의 특성에서 비롯된다고 생각한다. 사회 현상에 대한 이해는 개별 인간의 행위에 대한 이해를 통해서만 가능하다. 그러므로 개인의 행위에 초점을 두고 사회를 연구해야 한다.

<보 기>

ㄱ. 사회는 개인의 외부에 존재한다.
 ㄴ. 사회는 개인의 속성을 모두 합한 것에 불과하다.
 ㄷ. 개인은 전체 사회와의 관련 속에서만 존재의 의미를 갖는다.
 ㄹ. 사회적 조건보다 개인의 자유 의지가 인간 행동에 더 큰 영향을 미친다.

- ① ㄱ, ㄴ ② ㄱ, ㄷ ③ ㄴ, ㄷ ④ ㄴ, ㄹ ⑤ ㄷ, ㄹ

19. 사회 변동을 바라보는 관점 (가), (나)에 대한 옳은 설명을 <보기>에서 고른 것은? (단, (가), (나)는 각각 순환론, 진화론 중 하나이다.)

(가) 인류 문명의 발전 속도는 지역에 따라 다르게 나타난다. 그렇지만 문명이 단순한 것에서 분화된 것으로, 미신적인 것에서 합리적인 것으로, 낮은 것에서 새로운 것으로 발전하는 경향은 일반적으로 나타난다.
 (나) 인류 문명은 일정한 시간 동안에는 정해진 방향을 향해 나아가는 것 같지만 곧 한계에 부딪히게 되고, 문명에 내재한 힘을 따라 다시 반대 방향을 향해 움직이게 된다. 그러나 반대 방향의 움직임 역시 오래가지 못하고 문명은 다시 본래의 방향을 향하게 된다.

<보 기>

ㄱ. (가)는 (나)와 달리 사회 변동을 동일한 과정의 주기적 반복으로 설명한다.
 ㄴ. (나)는 (가)와 달리 사회가 항상 진보하는 것은 아니라고 본다.
 ㄷ. (가)는 (나)에 비해 개발도상국의 서구식 근대화 과정을 설명하기에 적합하다.
 ㄹ. (나)는 (가)에 비해 변동 방향을 예측하여 대응하기에 적합하다.

- ① ㄱ, ㄴ ② ㄱ, ㄷ ③ ㄴ, ㄷ ④ ㄴ, ㄹ ⑤ ㄷ, ㄹ

20. 다음 자료에 대한 분석으로 옳은 것은?

<자료 1> 갑국의 자녀 세대 계층 구성 현황

자녀 세대의 A 비율은 B 비율보다는 20%p 크고, C 비율보다는 30%p 크다. 자녀 세대의 계층 구조는 다이아몬드형이며, C는 B보다 높은 계층이다.

* 갑국의 모든 부모의 자녀는 1명이고, 계층은 상층, 중층, 하층으로만 구분하며, A~C는 각각 상층, 중층, 하층 중 하나임.
 ** %p: 백분율 간의 차이를 나타내는 단위임. 예를 들어, 20%는 10%보다 10%p 크다고 표현함.

<자료 2> 갑국의 세대 간 계층 이동 현황 (단위: %)

구분	계층	A	B	C
자녀 세대 계층 대비 부모 세대와 자녀 세대의 계층 불일치 비율	상층	90	50	40
	중층	25	30	40

* 상층 부모를 둔 중층 자녀 인구는 하층 부모를 둔 상층 자녀 인구의 3배임.

- ① 하층 대비 상층의 비율은 부모 세대가 자녀 세대보다 높다.
 ② 세대 간 상승 이동한 비율이 세대 간 하강 이동한 비율보다 낮다.
 ③ 중층 부모를 둔 하층 자녀의 인구는 중층 부모를 둔 상층 자녀 인구의 4배이다.
 ④ 부모 세대의 계층 구조는 자녀 세대의 계층 구조에 비해 사회 통합에 유리하다.
 ⑤ 자녀 세대 계층 대비 세대 간 이동을 경험하지 않은 비율이 가장 높은 계층은 하층이다.

* 확인 사항
 ○ 답안지의 해당란에 필요한 내용을 정확히 기입(표기)했는지 확인 하시오.