

E.T's Eight Technics.

Ver. 2019

First Technic.

함수 다루기

함수를 정복할 수 있다면

수학의 반은 정복했다고 할 수 있다.

- E . T -

함수 레시피

1. 함수, 역함수, 합성함수 핵심개념

2. 유리, 무리함수

3. 함수 심화

1. 함수, 역함수, 합성함수 핵심개념

Question. 01

이차함수 $f(x)$ 가 다음 조건을 만족시킨다.

(가) $f(0) = f(2) = 0$

(나) 이차방정식 $f(x) - 6(x-2) = 0$ 의 실근의 개수는 1이다.

방정식 $(f \circ f)(x) = -3$ 의 서로 다른 실근을 모두 곱한 값은? [4점] [2016년 3월 교육청]

① $-\frac{1}{3}$

② $-\frac{2}{3}$

③ -1

④ $-\frac{4}{3}$

⑤ $-\frac{5}{3}$

Question. 02

두 함수

$$f(x) = \begin{cases} x^2 + 2ax + 6 & (x < 0) \\ x + 6 & (x \geq 0) \end{cases}, \quad g(x) = x + 10$$

에 대하여 합성함수 $(g \circ f)(x)$ 의 치역이 $\{y \mid y \geq 0\}$ 일 때, 상수 a 의 값을 구하시오.

[4점] [2016년 3월 교육청]

Question. 03

집합 $X = \{0, 1, 2, 3, 4\}$ 의 모든 원소 x 에 대하여 X 에서 X 로의 함수 $f(x)$ 는

‘ $2x$ 를 5로 나눈 나머지’로 정의하고, X 에서 X 로의 함수 $g(x)$ 는 $(f \circ g)(x) = (g \circ f)(x)$

를 만족시킨다. $g(1) = 3$ 일 때, $g(0) + g(3)$ 의 값은?

[4점] [2016년 4월 교육청]

① 1

② 2

③ 3

④ 4

⑤ 5

Question. 04

함수

$$f(x) = \begin{cases} \sqrt{2x} & (x \geq 0) \\ 4x & (x < 0) \end{cases}$$

의 역함수 $g(x)$ 에 대하여 부등식 $g(x) \leq -\frac{1}{4}x^2 + 3$ 의 해가 $a \leq x \leq b$ 일 때, $a+b$ 의 값은?

[4점] [2017년 3월 교육청]

① -2

② -1

③ 0

④ 1

⑤ 2

Question. 05

실수 전체의 집합 R 에서 R 로의 함수

$$f(x) = \begin{cases} \sqrt{4-x} + 3 & (x < 4) \\ -(x-a)^2 + 4 & (x \geq 4) \end{cases}$$

가 일대일 대응이 되도록 하는 상수 a 의 값을 구하시오. [4점] [2017년 4월 교육청]

Question. 06

집합 $X = \{1, 2, 3, 4, 5, 6, 7, 8, 9\}$ 에 대하여 두 함수 $f: X \rightarrow X$, $g: X \rightarrow X$ 가 다음 조건을 만족시킨다.

- (가) $f(1) = 8$, $f(3) \neq 6$
- (나) 함수 $(g \circ f)(x)$ 는 항등함수이다.
- (다) 집합 X 의 모든 원소 x 에 대하여 $f(x) + g(x)$ 의 값은 일정하다.

$(f \circ f \circ f)(7)$ 의 값은?

[4점][2018년 3월 교육청]

① 3

② 4

③ 5

④ 6

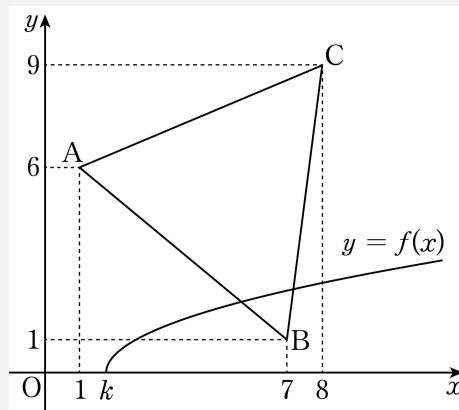
⑤ 7

2. 유리함수 , 무리함수

Question. 07

무리함수 $f(x) = \sqrt{x-k}$ 에 대하여 좌표평면에 곡선 $y=f(x)$ 와 세 점 $A(1, 6)$, $B(7, 1)$, $C(8, 9)$ 를 꼭짓점으로 하는 삼각형 ABC 가 있다. 곡선 $y=f(x)$ 와 함수 $f(x)$ 의 역함수의 그래프가 삼각형 ABC 와 만나도록 하는 실수 k 의 최댓값은?

[4점] [2016년 3월 교육청]



① 6

② 5

③ 4

④ 3

⑤ 2

Question. 08

무리함수 $f(x) = \sqrt{ax+b}+1$ 의 역함수를 $g(x)$ 라 하자. 곡선 $y=f(x)$ 와 곡선 $y=g(x)$ 가 점 $(1, 3)$ 에서 만날 때, $g(5)$ 의 값은? (단, a, b 는 상수이다.)

[4점] [2018년 3월 교육청]

- ① -5 ② -4 ③ -3 ④ -2 ⑤ -1

Question. 09

유리함수 $y = \frac{4}{x}$ ($x > 0$)의 그래프 위의 점 $P(a, b)$ 와 직선 $y = -x$ 사이의 거리가 5일 때,
 $a^2 + b^2$ 의 값을 구하시오.

[4점] [2016년 10월 교육청]

Question. 10

두 함수 $f(x)$, $g(x)$ 가

$$f(x) = \frac{6x+12}{2x-1},$$

$$g(x) = \begin{cases} 1 & (x \text{가 정수인 경우}) \\ 0 & (x \text{가 정수가 아닌 경우}) \end{cases}$$

일 때, 방정식 $(g \circ f)(x) = 1$ 을 만족시키는 모든 자연수 x 의 개수는?

[4점] [2017년 3월 교육청]

① 4

② 5

③ 6

④ 7

⑤ 8

Question. 11

좌표평면에서 함수 $y = \frac{4x+1}{2x+a}$ 의 그래프의 두 점근선의 교점이 직선 $y = x+1$ 위에 있을 때, 상수 a 의 값은?

[4점] [2017년 4월 교육청]

① -5

② -4

③ -3

④ -2

⑤ -1

Question. 12

함수 $f(x) = \frac{bx}{ax+1}$ 의 정의역과 치역이 같다.

곡선 $y=f(x)$ 의 두 점근선의 교점이 직선 $y=2x+3$ 위에 있을 때, $a+b$ 의 값은?

(단, a 와 b 는 0 이 아닌 상수이다.)

[4점] [2017년 10월 교육청]

① $-\frac{2}{3}$

② $-\frac{1}{3}$

③ 0

④ $\frac{1}{3}$

⑤ $\frac{2}{3}$

3. 함수 심화

Question. 13

좌표평면 위에 함수

$$f(x) = \begin{cases} \frac{3}{x} & (x > 0) \\ \frac{12}{x} & (x < 0) \end{cases} \text{의 그래프와 직선 } y = -x \text{가 있다.}$$

함수 $y = f(x)$ 의 그래프 위의 점 P를 지나고 x 축에 수직인 직선이 직선 $y = -x$ 와 만나는 점을 Q, 점 Q를 지나고 y 축에 수직인 직선이 $y = f(x)$ 와 만나는 점을 R라 할 때, 선분 PQ와 선분 QR의 길이의 곱 $\overline{PQ} \times \overline{QR}$ 의 최솟값을 구하시오.

[4점] [2016년 4월 교육청]

Question. 14

자연수 n 과 두 함수 $f(x) = \frac{1}{x-n} + n$, $g(x) = \sqrt{x+n}$ 에 대하여 다음 조건을 만족시키는 모든 점 $P(a, b)$ 의 개수를 A_n 이라 하자.

- (가) 두 수 a, b 는 자연수이다.
 (나) $n < a \leq 3n$, $g(a) < b < f(a)$

$n \leq A_n \leq 3n$ 을 만족시키는 모든 A_n 의 값의 합은?

[4점] [2017년 10월 교육청]

① 22

② 25

③ 28

④ 31

⑤ 34

Question. Set형 문제 [E.T 자작 문항]

집합 $X = \{x \mid 0 \leq x \leq 40\}$ 에서 정의된 함수

$$f(x) = \begin{cases} x^2 & (0 \leq x \leq 2) \\ (x-4)^2 & (2 < x \leq 4) \end{cases}$$

에 대하여 $f(x) = f(x+4)$ 을 만족할 때, 다음 물음에 답하여라.

15. $(f \circ f)(x) = 1$ 을 만족하는 근의 총합은?

16. 새로운 함수 $g(x) = mx - 8m + 2$ 에 대해서 $f(x), g(x)$ 두 함수가 모두 집합 Y 를 정의역으로 가질 때, ' $f = g$ '를 만족한다고 한다. 이때 m 값에 따른 가능한 정의역 Y 의 개수를 $h(m)$ 이라 하자. $h(1) + h\left(\frac{1}{2}\right) + h\left(\frac{1}{4}\right)$ 의 값을 구하여라.

(단 Y 는 공집합이 아니며, Y 는 X 의 부분집합이다.)

[First Technic. 함수 정답 및 해설]

1) [출제의도] 함수의 그래프와 방정식의 관계를 이해하여 실근의 곱을 구하는 문제를 해결한다.

조건 (가)에 의해

이차함수 $f(x) = ax(x-2)$ (a 는 상수) 꼴이다.

조건 (나)에 의해 $ax(x-2) - 6(x-2) = 0$ 이므로 $(ax-6)(x-2) = 0$ 이다.

이차방정식의 실근의 개수가 1 이므로 $ax-6=0$ 의 근도 $x=2$ 이다. 즉, $a=3$ 이다.

$f(x) = 3x(x-2) = 3(x-1)^2 - 3$ 이므로

이차함수 $f(x)$ 의 꼭짓점은 $(1, -3)$ 이다.

$f(f(x)) = -3$ 을 만족하기 위해서는 $f(x) = 1$ 이 되어야 함을 그래프에서 알 수 있다.

그러므로 $3x^2 - 6x = 1$ 에서 $3x^2 - 6x - 1 = 0$ 이다. 따라서 서로 다른 두 실근의 곱은 근과 계수의 관계에서 $-\frac{1}{3}$ 이다.

2) [출제의도] 합성함수의 성질을 이해하여 주어진 식의 미정계수의 값을 구하는 문제를 해결한다.

합성함수 $(g \circ f)(x) = \begin{cases} x^2 + 2ax + 16 & (x < 0) \\ x + 16 & (x \geq 0) \end{cases}$ 이

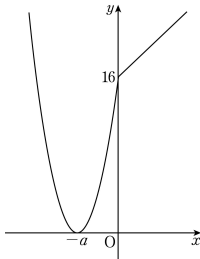
다.

$a \leq 0$ 이면

합성함수 $(g \circ f)(x)$ 의 치역이 $\{y \mid y \geq 16\}$ 이므로 문제의 치역과 달라 $a > 0$ 이어야 한다.

$y = x^2 + 2ax + 16$ 의 꼭짓점의 x 좌표가 음수이므로

합성함수 $(g \circ f)(x)$ 의 치역이 $\{y \mid y \geq 0\}$ 이기 위해서는 꼭짓점의 y 좌표가 0 이다.



$y = x^2 + 2ax + 16 = (x+a)^2 + 16 - a^2$ 에서

$16 - a^2 = 0, a = \pm 4$

$a > 0$ 이므로 $a = 4$

3) [출제의도] 함수 이해하기

$f(x)$ 는 '2x를 5로 나눈 나머지'이므로

$f(0)=0, f(1)=2, f(2)=4, f(3)=1, f(4)=3$ 이다.

함수 $g: X \rightarrow X$ 는 집합 X 의 모든 원소 x 에 대하여

$(f \circ g)(x) = (g \circ f)(x)$ 를 만족시키므로

$(f \circ g)(1) = (g \circ f)(1)$ 에서 $f(3) = g(2) = 1$

$(f \circ g)(2) = (g \circ f)(2)$ 에서 $f(1) = g(4) = 2$

$(f \circ g)(4) = (g \circ f)(4)$ 에서 $f(2) = g(3) = 4$

$(f \circ g)(0) = (g \circ f)(0)$ 에서 $f(g(0)) = g(0)$

$f(0) = 0$ 이므로 $g(0) = 0$ 이어야 한다.

$\therefore g(0) + g(3) = 0 + 4 = 4$

4) [출제의도] 역함수와 무리함수의 성질을 활용하여 부등식의 해를 구하는 문제를 해결한다.

$f(x) = \begin{cases} \sqrt{2x} & (x \geq 0) \\ 4x & (x < 0) \end{cases}$

이므로 함수 $f(x)$ 의 역함수를 $g(x)$ 라 하면

$g(x) = \begin{cases} \frac{1}{2}x^2 & (x \geq 0) \\ \frac{1}{4}x & (x < 0) \end{cases}$

i) $x \geq 0$ 인 경우

$g(x) \leq -\frac{1}{4}x^2 + 3$

$\frac{1}{2}x^2 \leq -\frac{1}{4}x^2 + 3$

$\frac{3}{4}x^2 \leq 3$

$x^2 \leq 4$

$-2 \leq x \leq 2$

$x \geq 0$ 이므로 $0 \leq x \leq 2$

ii) $x < 0$ 인 경우

$g(x) \leq -\frac{1}{4}x^2 + 3$

$\frac{1}{4}x \leq -\frac{1}{4}x^2 + 3$

$\frac{1}{4}x^2 + \frac{1}{4}x - 3 \leq 0$

$x^2 + x - 12 \leq 0$

$(x+4)(x-3) \leq 0$

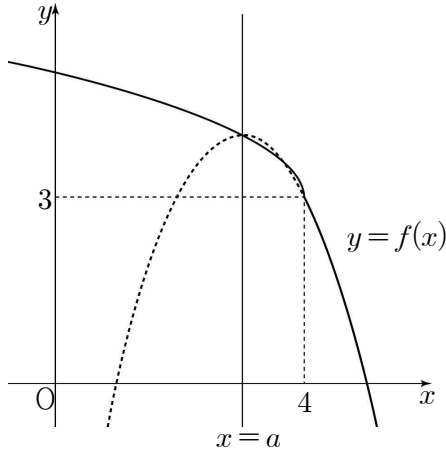
$-4 \leq x \leq 3$

$x < 0$ 이므로 $-4 \leq x < 0$

i), ii)에서 부등식의 해는 $-4 \leq x \leq 2$

따라서 $a+b = -2$

- 5) [출제의도] 일대일 대응을 활용하여 문제해결하기
 함수 $f(x)$ 가 일대일 대응이 되기 위해서는
 곡선 $y = -(x-a)^2 + 4 (x \geq 4)$ 가 점 $(4, 3)$ 을
 지나야 하고, 곡선 $y = -(x-a)^2 + 4$ 의
 축이 $x = a$ 이므로 $a \leq 4$ 이다.



$$3 = -(4-a)^2 + 4$$

$$a^2 - 8a + 15 = 0$$

$$(a-3)(a-5) = 0$$

$\therefore a = 3$ 또는 $a = 5$
 $a \leq 4$ 이므로 $a = 3$

- 6) [출제의도] 항등함수와 상수함수의 뜻을 이해하여 함수를
 추론한다.
 함수 $f: X \rightarrow X$ 가 일대일 대응이 아니라고 가정
 하면
 합성함수 $g \circ f: X \rightarrow X$ 는
 일대일 대응이 아니게 되므로 항등함수도 아니다.
 이런 경우 조건 (나)를 만족시키지 않게 되므로
 함수 f 는 일대일 대응이어야 한다.
 마찬가지로 이유로 함수 g 도 일대일 대응이다.
 두 일대일 대응 f, g 에 대하여

$$\sum_{n=1}^9 f(n) = 1 + 2 + \dots + 9 = 45,$$

$$\sum_{n=1}^9 g(n) = 1 + 2 + \dots + 9 = 45 \text{ 이므로}$$

$$\sum_{n=1}^9 \{f(n) + g(n)\} = \sum_{n=1}^9 f(n) + \sum_{n=1}^9 g(n)$$

$$= 45 + 45$$

$$= 90$$

조건 (다)에서 $f(x) + g(x)$ 의 값은 일정하므로
 $f(x) + g(x) = k$ (k 는 상수)라 하자.

$$\sum_{n=1}^9 \{f(n) + g(n)\} = \sum_{n=1}^9 k = 9k \text{ 이므로}$$

$9k = 90$ 에서 $k = 10$
 모든 $x \in X$ 에 대하여
 $f(x) + g(x) = 10 \dots \textcircled{1}$
 조건 (가)에서

$f(1) = 8$ 이므로 조건 (나)에 의하여
 $g(8) = 1$

$g(8) = 1$ 이므로 $\textcircled{1}$ 에 의하여

$f(8) = 9$

$f(8) = 9$ 이므로 조건 (나)에 의하여

$g(9) = 8$

$g(9) = 8$ 이므로 $\textcircled{1}$ 에 의하여

$f(9) = 2$

$f(9) = 2$ 이므로 조건 (나)에 의하여

$g(2) = 9$

$g(2) = 9$ 이므로 $\textcircled{1}$ 에 의하여

$f(2) = 1$

$f(2) = 1$ 이므로 조건 (나)에 의하여

$g(1) = 2$

$f(5) = a$ 라 하면

조건 (나)에 의하여

$g(a) = 5$

$g(a) = 5$ 이면 $\textcircled{1}$ 에 의하여

$f(a) = 5$

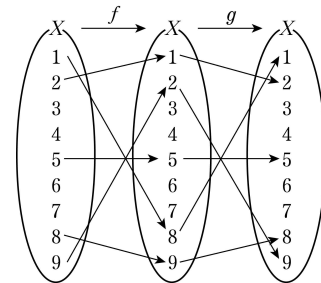
$f(a) = 5$ 이면 조건 (나)에 의하여

$g(5) = a$

이때 $10 = f(5) + g(5) = a + a = 2a$ 이므로
 $a = 5$

즉 $f(5) = 5$ 이고 $\textcircled{1}$ 에 의하여 $g(5) = 5$

이상의 대응을 그림으로 표현하면 다음과 같다.



조건 (가)에 의하여 $f(3) \neq 6$ 이므로

(i) $f(3) = 3$ 이면

조건 (나)에 의하여

$g(3) = 3$

$\textcircled{1}$ 에 의하여 $g(3) = 7$ 이므로

이 경우는 불가능하다.

(ii) $f(3) = 7$ 이면

조건 (나)에 의하여

$$g(7) = 3$$

$g(7) = 3$ 이면 ㉠에 의하여

$$f(7) = 7$$

함수 f 가 일대일 대응이 아니게 되므로 이 경우는 불가능하다.

(iii) $f(3) = 4$ 이면

조건 (나)에 의하여

$$g(4) = 3$$

$g(4) = 3$ 이면 ㉠에 의하여

$$f(4) = 7$$

$f(4) = 7$ 이면 조건 (나)에 의하여

$$g(7) = 4$$

$g(7) = 4$ 이면 ㉠에 의하여

$$f(7) = 6$$

$f(7) = 6$ 이면 조건 (나)에 의하여

$$g(6) = 7$$

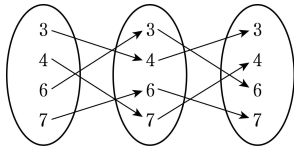
$g(6) = 7$ 이면 ㉠에 의하여

$$f(6) = 3$$

$f(6) = 3$ 이면 조건 (나)에 의하여

$$g(3) = 6$$

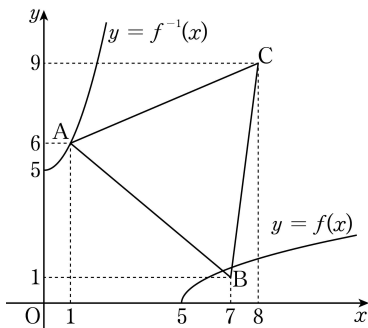
(iii)의 대응을 그림으로 표현하면 다음과 같다.



따라서

$$\begin{aligned} (f \circ f \circ f)(7) &= f(f(6)) \\ &= f(3) \\ &= 4 \end{aligned}$$

7) [출제의도] 평행이동한 무리함수의 역함수의 그래프를 추측하여 문제를 해결한다.



그림과 같이 k 의 값이 증가하면 곡선

$y = \sqrt{x-k}$ 는 점 B를 지난 이후에 삼각형과 만나지 않고 곡선 $y=f(x)$ 가 점 B를 지날 때 $1 = \sqrt{7-k}$ 이므로 k 는 6이다.

즉, $k > 6$ 이면 곡선 $y=f(x)$ 와 삼각형은 만나지 않는다.

또, $y = \sqrt{x-k}$ 의 역함수를 구하면 $y = x^2+k$ ($x \geq 0$)이다.

k 의 값이 증가하면 곡선 $y = x^2+k$ 가 점 A를 지난 이후 삼각형과 만나지 않고 곡선 $y = x^2+k$ 가 점 A를 지날 때 $6 = 1^2+k$ 이므로 k 는 5이다.

즉, $k > 5$ 이면 곡선 $y = x^2+k$ 와 삼각형은 만나지 않는다.

따라서 함수 $y=f(x)$ 의 그래프와 역함수의 그래프가 삼각형과 동시에 만나도록 하는 실수 k 의 최댓값은 5이다.

8) [출제의도] 역함수의 성질을 이용하여 역함수의 함숫값을 구하는 문제를 해결한다.

곡선 $y=f(x)$ 와 곡선 $y=g(x)$ 가 점 $(1, 3)$ 에서 만나므로 $f(1) = 3$ 이고 $g(1) = 3$ 이다.

이때 함수 $g(x)$ 는 함수 $f(x)$ 의 역함수이므로 $g(1) = 3$ 에서 $f(3) = 1$

$$f(1) = \sqrt{a+b} + 1 = 3 \text{에서}$$

$$a+b = 4 \dots\dots \text{㉠}$$

$$f(3) = \sqrt{3a+b} + 1 = 1 \text{에서}$$

$$3a+b = 0 \dots\dots \text{㉡}$$

㉠, ㉡에 의해

$$a = -2, b = 6$$

$$\text{그러므로 } f(x) = \sqrt{-2x+6} + 1$$

$$g(5) = k \text{라 하면 } f(k) = 5 \text{이므로}$$

$$f(k) = \sqrt{-2k+6} + 1 = 5 \text{에서 } \sqrt{-2k+6} = 4$$

$$-2k+6 = 16$$

$$k = -5$$

$$\text{따라서 } g(5) = -5$$

9) [출제의도] 유리함수의 성질을 이용하여 주어진 조건을 만족하는 문제를 해결한다.

점 $P(a, b)$ 는 유리함수 $y = \frac{4}{x}$ ($x > 0$)의 그래프

위의 점이므로 $b = \frac{4}{a}$ 에서 $ab = 4$ ($a > 0, b > 0$)

점 $P(a, b)$ 와 직선 $x+y=0$ 사이의 거리가 5이

따라서 $\frac{|a+b|}{\sqrt{1^2+1^2}}=5$ 에서 $a+b=5\sqrt{2}$

따라서 $a^2+b^2=(a+b)^2-2ab$
 $= (5\sqrt{2})^2 - 2 \times 4 = 42$

10) [출제의도] 유리함수와 합성함수의 성질을 이해하여 방정식의 해의 개수를 구한다.

방정식 $(g \circ f)(x) = g(f(x)) = 1$ 이므로 $g(x)$ 의 정의에 의해 $f(x)$ 는 정수이다.

$f(x) = \frac{6x+12}{2x-1}$
 $= \frac{15}{2x-1} + 3$ 이 정수가 되려면

$2x-1$ 은 15의 약수이어야 한다.
 x 가 자연수이므로 $2x-1$ 은 자연수이고,
 $2x-1$ 은 15의 양의 약수이다.

$2x-1=1, 3, 5, 15$
 $x=1, 2, 3, 8$

따라서 서로 다른 자연수 x 의 개수는 4이다.

11) [출제의도] 유리함수의 그래프 이해하기

유리함수 $y = \frac{4x+1}{2x+a}$ 은 $y = \frac{1-2a}{2x+a} + 2$ 이므로

두 점근선의 방정식은 $x = -\frac{a}{2}, y = 2$

두 점근선의 교점은 $(-\frac{a}{2}, 2)$

점 $(-\frac{a}{2}, 2)$ 가 직선 $y = x+1$ 위에 있으므로

$2 = -\frac{a}{2} + 1$

$\therefore a = -2$

12) [출제의도] 유리함수의 그래프와 일차함수의 성질을 이해하여 주어진 문제를 해결한다.

정의역 $\{x | x \neq -\frac{1}{a} \text{인 실수}\}$ 와 치역

$\{y | y \neq \frac{b}{a} \text{인 실수}\}$

가 같으므로 $-\frac{1}{a} = \frac{b}{a}, b = -1$ 이다. 두 점근선의

교점 $(-\frac{1}{a}, -\frac{1}{a})$ 이 직선 $y = 2x+3$ 위에 있으므로

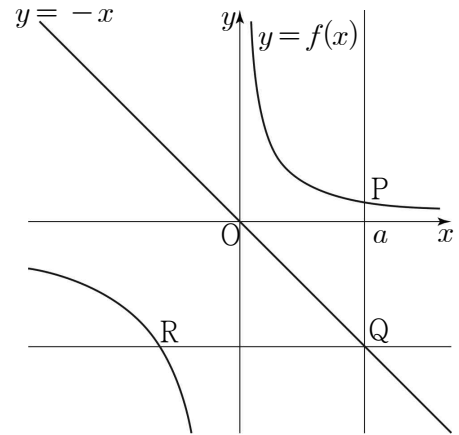
로

$-\frac{1}{a} = -\frac{2}{a} + 3, a = \frac{1}{3}$

따라서 $a+b = \frac{1}{3} + (-1) = -\frac{2}{3}$

13) [출제의도] 유리함수의 그래프를 활용하여 문제해결하기
 점 P의 x의 좌표를 a라 하자.

(i) $a > 0$ 일 때,



$P(a, \frac{3}{a}), Q(a, -a), R(-\frac{12}{a}, -a)$ 이므로

$\overline{PQ} = a + \frac{3}{a}, \overline{QR} = a + \frac{12}{a}$

$\therefore \overline{PQ} \times \overline{QR} = (a + \frac{3}{a})(a + \frac{12}{a}) = a^2 + \frac{36}{a^2} + 15$

$\geq 2\sqrt{a^2 \times \frac{36}{a^2}} + 15 = 27$

등호가 성립하는 경우는 $a^2 = \frac{36}{a^2}$, 즉 $a = \sqrt{6}$ 일 때이다.

그러므로 $a = \sqrt{6}$ 일 때, $\overline{PQ} \times \overline{QR}$ 는 최솟값 27을 갖는다.

(ii) $a < 0$ 일 때,

$P(a, \frac{12}{a}), Q(a, -a), R(-\frac{3}{a}, -a)$ 이므로

(i)에서와 같이

$a = -\sqrt{6}$ 일 때, $\overline{PQ} \times \overline{QR}$ 는 최솟값 27을 갖는다. 따라서 (i), (ii)에 의하여 $\overline{PQ} \times \overline{QR}$ 의 최솟값은 27

14) [출제의도] 유리함수와 무리함수의 그래프의 성질을 이용하여 점의 개수를 추론한다.

(i) $n=1$ 또는 $n=2$ 인 경우

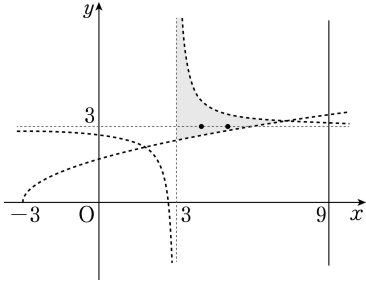
주어진 조건을 만족시키는 점 $P(a, b)$ 가 존재하지 않으므로 $A_1 = 0, A_2 = 0$

(ii) $n=3$ 인 경우

$$f(x) = \frac{1}{x-3} + 3, \quad g(x) = \sqrt{x+3} \text{ 이고}$$

조건을 만족시키는 점 $P(a, b)$ 는 $(4, 3), (5, 3)$ 이므로

$$A_3 = 2$$

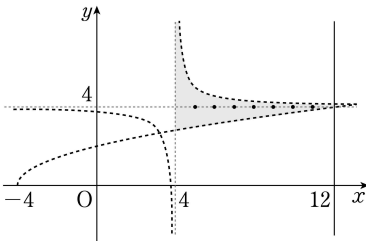


(iii) $n=4$ 인 경우

$$f(x) = \frac{1}{x-4} + 4, \quad g(x) = \sqrt{x+4} \text{ 이고}$$

조건을 만족시키는 점 $P(a, b)$ 는 $(5, 4), (6, 4), (7, 4), (8, 4), (9, 4), (10, 4), (11, 4)$ 이므로

$$A_4 = 7$$

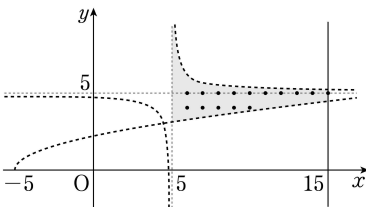


(iv) $n=5$ 인 경우

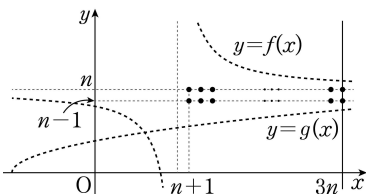
$$f(x) = \frac{1}{x-5} + 5, \quad g(x) = \sqrt{x+5} \text{ 이고}$$

조건을 만족시키는 점 $P(a, b)$ 는 $(6, 4), (7, 4), (8, 4), (9, 4), (10, 4), (6, 5), (7, 5), \dots, (15, 5)$ 이므로

$$A_5 = 15$$



(v) $n \geq 6$ 인 경우



y 좌표가 n 인 $2n$ 개의

점 $(n+1, n), (n+2, n), \dots, (3n, n)$ 과 y 좌표가 $n-1$ 인 $2n$ 개의

점 $(n+1, n-1), (n+2, n-1), \dots, (3n, n-1)$ 이

모두 조건을 만족시킨다.

$$\text{즉, } A_n \geq 4n$$

(i)~(v)에 의하여 $n \leq A_n \leq 3n$ 을 만족시키는 모든 A_n 의 값의 합은 $A_4 + A_5 = 7 + 15 = 22$

15) 정답 800

$f(x) = \alpha$ 일 때, 근의 개수 20개

$f(x) = \beta$ 일 때, 근의 개수 20개

'대칭성을 띤 두 근의 합 = 대칭축 \times 근의 갯수'

이 m r 로

$$(2+6+10+\dots+38) \times 4 = \frac{40 \times 10}{2} \times 4 = 800$$

16)

$$h\left(\frac{1}{4}\right) + h\left(\frac{1}{2}\right) + h(1) = (2^9 - 1) + (2^5 - 1) + (2^2 - 1) = 545$$

기울기 $\frac{1}{4}$ 일 때 근의 개수 9개

기울기 $\frac{1}{2}$ 일 때 근의 개수 5개

기울기 1 일 때 근의 개수 2개

$f = g$ 가 되 기 위해서는 두함수의 정의역이 $f(x) = g(x)$ 의 근의 해집합에 대한 부분집합을 가져야 하므로

$$h\left(\frac{1}{4}\right) + h\left(\frac{1}{2}\right) + h(1) = (2^9 - 1) + (2^5 - 1) + (2^2 - 1) = 545$$